

哈三中 2021—2022 学年度上学期 高三学年期末考试文科综合试卷

(考试时间: 150 分钟 试卷满分: 300 分)

注意事项:

本试卷分第 I 卷(选择题)和第 II 卷(非选择题), 共 47 题, 共 14 页。考试结束后, 将本试卷和答题卡一并交回。

1. 答题前, 考生先将自己的姓名、准考证号码填写清楚。
 2. 选择题必须使用 2B 铅笔填涂; 非选择题必须使用 0.5 毫米黑色字迹的签字笔书写, 字体工整, 字迹清楚。
 3. 请按照题号顺序在各题目的答题区域内作答, 超出答题区域书写的答案无效; 在草稿纸、试题卷上答题无效。
 4. 保持卡面清洁, 不得折叠, 不要弄破、弄皱, 不准使用涂改液、刮纸刀。
- 一、选择题: 本题共 35 小题, 每小题 4 分, 共 140 分。在每个小题给出的四个选项中, 只有一项是符合题目要求的。

电子竞技运动(电竞)有两个基本特征: 电子、竞技。“电子”是其方式和手段, 借助信息技术为核心的各种软硬件以及由其营造的环境来进行, “竞技”指的是对抗。2021 年 11 月 6 日, 中国 Edward Gaming (EDG) 战队战胜韩国 Damwon KIA Gaming (DK) 战队获得英雄联盟 S11 年度总冠军。据此完成 1~3 题。

1. EDG 训练基地选择上海市, 其优势条件主要是
 - A. 训练设施完善
 - B. 电竞信息通达
 - C. 参与团队众多
 - D. 市场需求广阔
2. 韩国电子竞技运动在全球处于领先地位, 主要是因为
 - A. 参与人数众多
 - B. 政府大力支持
 - C. 产业体系完善
 - D. 电竞氛围浓厚
3. 国内电子竞技运动的发展, 会导致
 - A. 青少年沉溺网络世界
 - B. 高校电竞氛围浓厚
 - C. 户外运动项目的衰退
 - D. 高新技术产业发展

北京市通州区地势低洼, 多河汇聚, 历史上洪涝灾害频繁。为保通州区防洪防涝安全, 建设了“通州堰”综合水利工程。“通州堰”是通过“蓄(蓄洪)、疏(分流)、排(排洪)”的分洪体系, 可最大限度地从城区外围分流、滞蓄洪水, 减少洪水直接穿城。图 1 为北京市局部地区地形图, 图 2 为该工程体系分布图。据此完成 4~6 题。

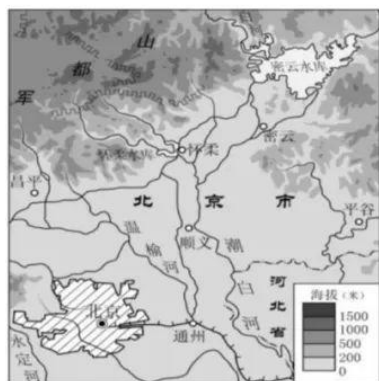


图1



图2

4. 图2中“甲、乙、丙”不同河段安排“蓄、疏、排”分洪工程，对应正确的一组是
- A. 甲——蓄、乙——疏、丙——排 B. 甲——疏、乙——蓄、丙——排
- C. 甲——排、乙——疏、丙——蓄 D. 甲——蓄、乙——排、丙——疏
5. 通州区内外分布有大面积绿地，绿地对太气受热过程的影响是
- A. 增强太阳辐射 B. 增强大气反射 C. 减弱地面辐射 D. 增强大气逆辐射
6. 目前，北京通州区正努力创建国家森林城市，创建森林城市的意义有
- ①改变水循环的类型 ②缓解城市热岛效应
- ③减少降水，缓解内涝 ④净化空气，减少噪音
- A. ①② B. ①③ C. ②④ D. ③④

太极顶山地位于云南大理白族自治州东南部，主山脊呈西北-东南走向。最高峰太极顶海拔3061.4m，图3分别示意该山脉不同坡向的夏季、冬季平均气温和年降水量随海拔高度的变化示意图，据此完成7~8题。

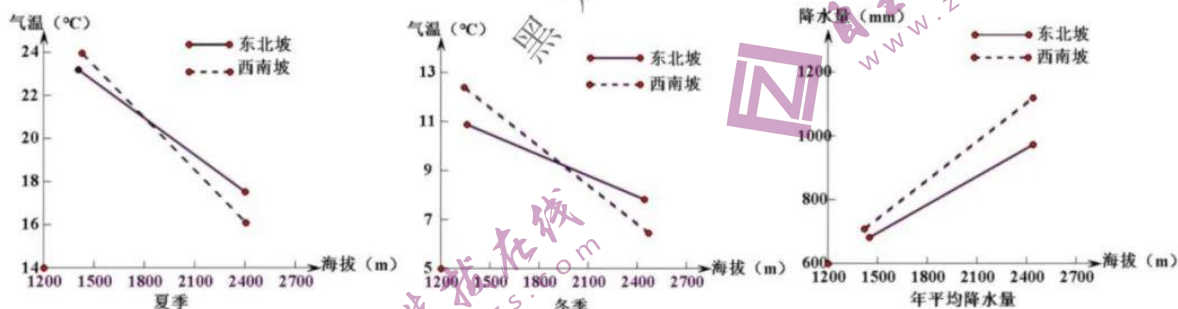


图3

7. 判断下列说法正确的是
- ①西南坡相对高度大于东北坡 ②东北坡为背风坡
- ③西南坡山麓生物多样性更丰富 ④山脉西南坡基带为落叶阔叶林带
- A. ①② B. ②③ C. ①④ D. ③④
8. 太极顶山地的西南坡气温垂直变化幅度的季节差异及影响因素是
- A. 冬季大于夏季，地形地势 B. 夏季大于冬季，季风环流
- C. 冬季大于夏季，人类活动 D. 夏季大于冬季，太阳辐射

勒拿河发源于东南西伯利亚沿贝加尔湖西岸的大山之中，下游沼泽广布，注入北冰洋，流域在 $53^{\circ} \text{N} \sim 73^{\circ} \text{N}$, $105^{\circ} \text{E} \sim 130^{\circ} \text{E}$ 之间。受全球气候变化影响，勒拿河流域气温、降水量和径流量呈现出明显变化趋势。图 4 为勒拿河河口附近某水文站多年观测数据的统计图，据此完成 9~11 题。

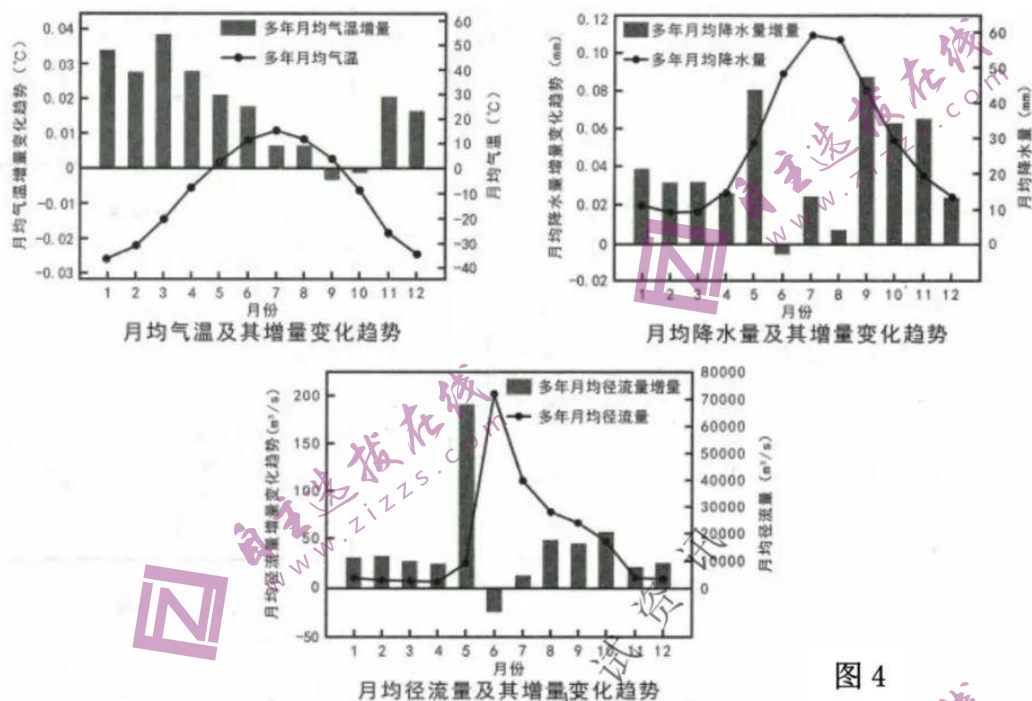
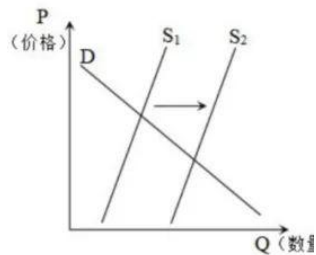


图 4

9. 勒拿河流域气温、降水量季节变化的共同特点是
- A. 夏季高，冬季少
B. 夏季少，冬季高
C. 季节变化小
D. 年际变化大
10. 勒拿河两种最主要的补给类型是
- A. 大气降水和湖泊水
B. 季节性积雪融水和沼泽水
C. 大气降水和季节性积雪融水
D. 湖泊水和沼泽水
11. 与勒拿河 6 月多年平均径流增量呈负值无关的原因是
- A. 大气降水减少
B. 融雪量减少
C. 蒸发量增大
D. 河流水下渗增多
12. 粮食安全是国家安全的重要基础，在新冠肺炎疫情防控常态化背景下，有效保障粮食和重要农副产品稳定供给，责任重大、影响深远。下图反映的是某国粮食供给变化情况，如果不考虑其他因素，下列措施能够引起图中 S_1 到 S_2 变化的是
- ①提高粮食最低收购价格
②适度扩大粮食燃料乙醇的生产和推广使用车用乙醇汽油
③落实春季田管、春耕备耕技术指导和化肥等农资保供稳价工作
④财政部门下达稻谷、小麦、玉米等三大粮食作物保费补贴资金
- A. ①②
B. ②③
C. ①④
D. ③④



13. 《中华人民共和国市场主体登记管理条例》首次建立市场主体歇业制度，明确因自然灾害、事故灾难、公共卫生事件、社会安全事件等原因造成经营困难但仍有比较强的经营意愿和能力的企业，可以自主决定在一定时期内歇业，期间保留其市场主体资格。实施市场主体歇业制度

- ①有利于实现企业转型升级 ②有利于维持企业的存续和降低企业再次生产经营成本
③有利于营造宽松良好的营商环境 ④有利于企业避免市场经营风险

A. ①② B. ①③ C. ②③ D. ③④

14. 财政存量资金，是指收入已经发生、尚未安排预算，或者预算已经安排、尚未形成实际支出的财政资金。某地政府加大盘活财政存量资金力度，多渠道分类清理盘活结转结余资金，统筹用于就业、养老、医疗等重点民生领域，这样做

- A. 是增加财政收入新的实现形式
B. 有助于提高财政资金使用效益
C. 有助于扩大社会总供给，发挥积极财政政策的实施效果
D. 是政府在初次分配方面强化民生保障支出，促进公共服务均等化

15. 习近平总书记指出：“强化反垄断、深入推进公平竞争政策实施，是完善社会主义市场经济体制的内在要求。”2018年以来，市场监管部门聚焦平台经济、医药保健、公用事业、建筑材料等民生发展重点领域，依法查处头部平台企业“二选一”垄断行为，严厉查处社区团购领域低价倾销、价格欺诈等违法行为，社会反映良好。下列对强化反垄断、反不正当竞争的认识，分析不恰当的是

- ①体现国家维护市场交易规则 ②是使市场在资源配置中起决定性作用的基础
③有助于充分激发市场主体活力，促进市场规范健康发展 ④体现国家宏观调控职能

A. ①② B. ①③ C. ②③ D. ③④

16. 国家网信办公布的《网络数据安全条例(征求意见稿)》提出，国家建立数据分类分级保护制度，对个人信息和重要数据进行重点保护，对核心数据实行严格保护；数据处理者利用进行个人身份认证的，不得将人脸、步态、指纹、虹膜、声纹等作为唯一的个人身份认证方式以强制个人同意收集其个人生物特征信息。以下认识正确的是

- ①强化个人信息保护是保障公民隐私权的体现
②大数据时代，公民的名誉权容易受到侵犯
③坚持以人民为中心的理念，维护自然人人格权益
④强化个人信息司法保护，促进数字经济健康发展

A. ①② B. ①③ C. ②④ D. ③④

17. 基层强则国家强，基层安则天下安。近年来，我国基层社会治理方式和手段不断创新，《中共中央国务院关于加强基层治理体系和治理能力现代化建设的意见》提出，加强基层智慧治理能力建设，提高基层治理数字化智能化水平，这

- ①是扩大基层民主，推进社会主义民主的基础性工程
- ②是深化行政体制改革，政府依法行政的要求
- ③有利于提升社会治安与公共服务水平，增加人民幸福感
- ④利用智能互联技术为基层治理赋能，有助于夯实基层社会治理的根基

A. ①② B. ①③ C. ②④ D. ③④

18. 2021年9月25日，由美国指使加拿大无理扣押的中国公民孟晚舟乘坐中国政府包机返回祖国。在深圳宝安国际机场发表感言：“回首三年，我更加明白个人命运、企业命运和国家的命运是十指相连。祖国是我们最坚强的后盾，只有祖国的繁荣昌盛，企业才能稳健发展，人民才能幸福安康……”孟晚舟的观点佐证了

- ①我国国家利益与人民的根本利益是相一致的
- ②日益增强的综合国力是维护公民权益的保障
- ③中美利益的对立是引起两国之间冲突的根源
- ④主权国家拥有保卫自己的生存和独立的权利

A. ①② B. ①③ C. ②④ D. ③④

19. 2021年11月19日，首届中国网络文明大会在京开幕，习近平致信祝贺首届中国网络文明大会召开。习近平在贺信中强调，要坚持发展和治理相统一、网上和网下相融合，广泛汇聚向上向善力量，共同推进文明办网、文明用网、文明上网，以时代新风塑造和净化网络空间，共建网上美好精神家园。强调广泛汇聚向上向善力量，共建网上美好精神家园表明

- ①文化对人的思想和行为具有深远持久的影响
- ②人创造了文化，文化也在塑造着人
- ③优秀文化能丰富人的精神世界，培育健全人格
- ④文化是一种精神力量，要树立文化自觉和文化自信

A. ①② B. ①③ C. ②④ D. ③④

20. 习近平总书记指出，“要在全社会广泛开展党史、新中国史、改革开放史，社会主义发展史宣传教育，普及党史知识推动党史学习教育深入群众、深入基层，深入人心。“四史教育”中无不体现着“文化自信”，强调要从弘扬优秀传统文化中寻找精气神。关于“四史教育”和“文化自信”关系表述正确的是

- ①“四史”源于中国社会的实践，是“文化自信”的动力和源泉
- ②“四史教育”是增强文化自信的重要途径，能为治国理政提供有益启示
- ③学好“四史”，增强文化自信，为中国特色社会主义现代化建设提供物质力量
- ④“四史教育”能够让人们坚定信念，彰显文化自信

A. ①② B. ①④ C. ②④ D. ③④

21. 2021年10月，新冠肺炎疫情向兰州不宣而战，金城兰州笼罩在没有硝烟的战“疫”中。一首关于兰州抗击疫情的歌曲《兰州需要静一静》刷屏兰州市民朋友圈。《兰州需要静一静》火了，金城静了！体现的唯物论道理有

- ①运动是物质的唯一特性和存在方式
- ②物质世界是绝对运动和相对静止的统一
- ③静止是一种不显著的运动，是运动的特殊状态
- ④物质决定意识，我们要做到具体问题具体分析

A. ①② B. ②③ C. ②④ D. ③④

22. “天下乌鸦一般黑”，我们平时所说的“乌鸦”其实是鸦科属下的数种鸟类。在我国境内，常见的就包括小嘴乌鸦、大嘴乌鸦、秃鼻乌鸦、渡鸦等多种，虽然“黑”是我们辨认乌鸦的一个关键特征，但实际上没有一种乌鸦是真正意义上“黑色”的，如果仔细观察的话，在特定角度的阳光下，那些看似黑色的羽毛会呈现出带金属光泽的蓝紫色或蓝绿色，这些美丽的颜色对于我们人类的眼睛来说非常难识别。材料表明

- ①对乌鸦“黑”的认识不是主体的凭空想象，来自于客体本身
- ②对乌鸦“黑”的认识受认识对象属性和本质暴露程度的制约
- ③真理是发展的，原有的真理性认识常常在新的实践活动中被推翻
- ④对乌鸦“黑”的真理认识中包含着错误，它不是真正意义上的“黑色”

A. ①④ B. ①② C. ②③ D. ③④

23. 新中国成立至今，社会建设取得了令人瞩目的成就，正在向民族复兴迈进。但我国在社会建设过程中仍面临艰巨的任务和严峻的挑战，我们必须正视这些问题，应对挑战，以满足人民对美好生活的向往。从唯物辩证法根本观点的角度，要求我们

- ①抓主流，但又不忽视支流 ②抓主要矛盾，但也要重视解决次要矛盾
- ③坚持前进性和曲折性的统一 ④承认矛盾，寻找正确的方法解决矛盾

A. ①④ B. ①③ C. ②③ D. ②④

24. 周代的宗庙祭祀制度被历朝统治者所继承，并有发展之势，“左宗右社”格局一直延续到明清。比如今天故宫前左侧的劳动人民文化宫便是明清的太庙，右侧的中山公园则是明清的社稷坛。中国古代这一制度

- A. 树立了天子绝对权威 B. 使宗法制度长期存续
- C. 体现了家国一体观念 D. 源于对小农经济重视

25. 西汉前期的墓葬一般比较节俭，汉武帝后帝王权贵的厚葬现象开始十分突出，“厚葬多藏，器用如生人”，丧葬耗费十分惊人，农民和其他劳动者也纷纷仿效，厚葬成为一时风气。这一变化表明

- A. 礼乐制度走向瓦解 B. 经济水平影响丧葬习俗
- C. 理学日益深入人心 D. 君主专制遭到严重打击

26. 宋朝对土地买卖、典当基本不加干预,仅办理法律手续,缴纳交易税即可。“贫富无定势,田宅无定主”成为普遍的现象;城市布局打破坊市界限,逐渐形成了繁荣的商业街,商业活动不再受到官吏的直接监管。这表明宋代

- A. 政府放弃了重农抑商政策
- B. 土地兼并日益严重
- C. 政府放松了对社会的控制
- D. 重视保护私有财产

27. 明清时期,在《东周列国志》《二十四史通俗演义》等历史通俗演义小说中,孔子不再是大成至圣文宣王的君王形象,而被塑造为一个既食人间烟火又顾及眼前利益,同时讲究灵活变通的人物形象。这一形象的变化说明

- A. 市民阶层的兴起推动主流思想的嬗变
- B. 商品经济的发展推动文学世俗化倾向
- C. 理学的传播推动孔子形象发生了改变
- D. 市民文化的发展促进了儒学广泛传播

28. 在中国历史上,人们习惯以“夷”称呼西方国家。然而,徐继畲《瀛环志略》(1848年)对西方各国的称谓是“外国”“英吉利”“葡萄牙”等,很少称“夷”。同治初年,清廷下旨不再以“夷”称呼西方国家。这反映了

- A. 列强在华势力的迅速发展
- B. 洋务运动取得一定成效
- C. 清廷抛弃天朝上国的幻想
- D. 近代外交观念影响中国

29. 1903年,上海一些新式学堂学生剪发辫,江浙许多城市青年加以效仿,他们在发辫四周围留短发,覆于额头,与道教人物刘海蟾的发式相似,故得名“前刘海”。“前刘海”并没有剪掉发辫,官府仍视为大害,严令禁止。这表明当时

- A. 政府主导了社会习俗的演变
- B. 追求时尚已成社会潮流
- C. 民主革命思潮影响社会生活
- D. 中西文化间的剧烈碰撞

30. 毛泽东在《论联合政府》中说:“从1937年7月7日卢沟桥事变到1938年10月武汉失守这一时期内,国民党政府对日作战是比较努力的……一时出现了生气蓬勃的新气象。”此处“新气象”主要是指

- A. 正面战场取得了军事胜利
- B. 推动全国抗战局面形成
- C. 迫使日军调整了侵华策略
- D. 战略反攻阶段已经到来

31. 1963—1965年,中国农业总产值平均年增长约11%;轻工业产值从404亿元增加到703亿元;燃料、原材料工业建设的步伐加快。上述变化反映了

- A. 开始改变我国工业落后的面貌
- B. 城乡经济发展差别日益缩小
- C. 实现了农轻重各部门协调发展
- D. 国民经济调整取得明显成效

32. 马克思、恩格斯谈及罗马法时指出:“在罗马人那里,私有制和私法的发展没有在工业和商业方面引起进一步的结果,因为他们的整个生产方式没有改变。……当工业和商业——起初在意大利,随后在其他国家——进一步发展了私有制的时候,详细拟定的罗马私法便又立即得到恢复并取得威信。后来,资产阶级力量壮大起来,君主们开始照顾它的利益,以便借助资产阶级来摧毁封建贵族,这时候法便在所有国家中……开始真正地发展起来了。”其所阐述的是

- A. 罗马法没能推动商品经济的发展
- B. 罗马法涉及个人财产关系的私法规则不完善
- C. 罗马法与近代西方法律本质一致
- D. 生产方式的变化使罗马法私法精神得到激发

33. “英国起先是把印度的棉织品挤出了欧洲市场，然后是向印度斯坦输入棉纱，最后就使英国棉织品泛滥于这个棉织品的故乡……不列颠的蒸汽机和科学在印度斯坦全境彻底摧毁了农业和制造业的结合”。这段话反映了

- A. 印度最终沦为英国的原料产地 B. 印度已成为半殖民半封建社会
C. 工业革命摧毁了印度传统的社会结构 D. 工业革命客观上推动印度工业化进程

34. 十月革命后，列宁认为，社会主义共和国不同世界发生联系是不能生存下去的。租让政策公布后，英国、美国、德国、瑞典等十七个国家同苏俄签订了租让合同和技术援助协定。当时，苏俄几乎同所有的欧洲国家以及亚洲的许多国家建立了贸易关系。苏俄此举

- A. 形成了影响深远的社会发展模式 B. 利用西方经济危机的有利时机
C. 实现了社会主义工业化的大跨越 D. 顺应了世界整体化的发展趋势

35. 1953年1月20日，艾森豪威尔宣誓就任美国总统。此时，美苏冷战日趋激烈，艾森豪威尔上台后不久就制定了新面貌战略，强调美国的安全“仅凭借军事力量是不能衡量的”，应提升诸多非军事手段的作用，例如经济援助、技术支持、心理战、同盟等。这反映了二战后初期

- A. 美国改变了霸权主义政策 B. 美国冷战政策具有隐蔽性
C. 美国的军事力量正在下降 D. 马歇尔计划实施的合理性

二、非选择题：共 160 分。第 36~42 题为必考题，每个试题考生都必须作答。第 43~47 题为选考题，考生根据要求作答。

(一) 必考题：共 135 分。

36. (22 分) 阅读图文材料，完成下列要求。

利比里亚位于非洲西部，首都蒙罗维亚历史悠久，蒙罗维亚港是西非地区最大的现代化港口之一。利比里亚蕴藏着丰富的铁矿砂、钻石、黄金等矿产资源。森林覆盖率高达 59%，盛产紫檀木、红木等多种名贵木材，也是天然橡胶生产大国（橡胶树喜高温、高湿的气候，排水良好的土壤，浅根性，枝条较脆弱，不耐寒）。利比里亚经济落后，铁矿砂、天然橡胶等农矿产品出口为其国民经济主要支柱。工业不发达，仅有少数企业生产日用消费品。近年来，利比里亚政府出台一系列措施吸引外商投资。图 5 示意利比里亚地理位置和蒙罗维亚气候资料。

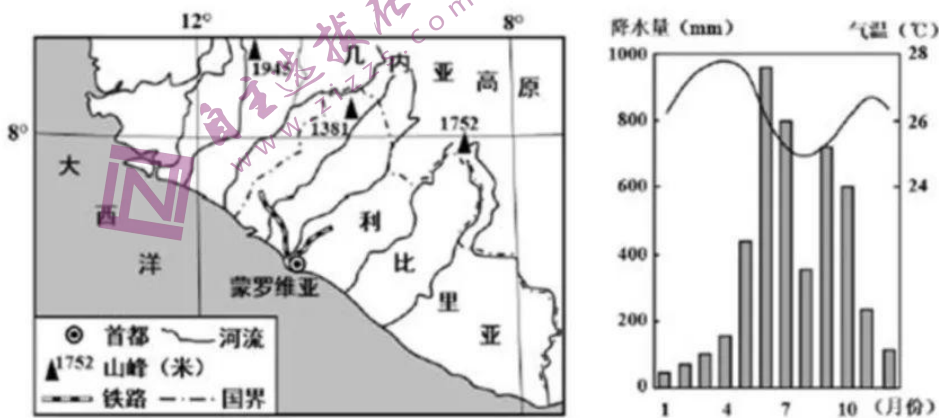


图 5

(1) 简述蒙罗维亚港成为西非地区最大的现代化港口的条件。(6分)

(2) 推测天然橡胶在利比里亚的主要分布地区, 并说明理由。(4分)

(3) 蒙罗维亚3月份气温相对偏高, 分析其原因。(6分)

(4) 指出外商投资对利比里亚产生的有利影响。(6分)

37. (24分) 阅读图文材料, 完成下列要求。

别德马湖是阿根廷南部巴塔哥尼亚高原上的一个湖底以基岩为主的湖泊, 长80千米, 宽15千米, 面积1088km²。别德马冰川在别德马湖西端, 别德马湖自形成后湖水水位年变化一直较小。别德马湖的湖水经一条湖间河流注入阿根廷湖, 然后经圣克鲁斯河(流程385公里)注入大西洋, 圣克鲁斯河河水清澈, 河中生物很少。下图为阿根廷别德马湖位置及其周边等高线地形图。

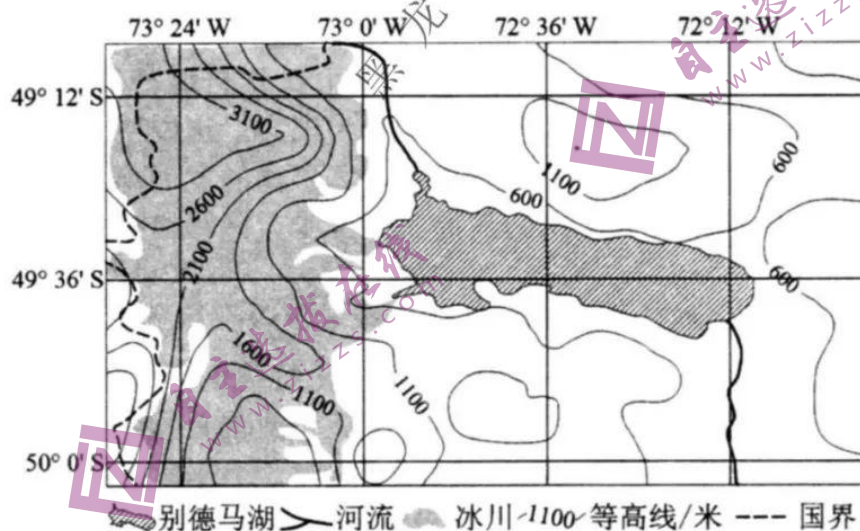


图6

(1) 简述别德马湖的形成过程。(4分)

(2) 从水循环角度分析别德马湖水位年变化较小的主要原因。(8分)

(3) 分析圣克鲁斯河中生物很少的原因。(6分)

(4) 别德马湖东岸多大风天气, 针对这一现象请给出合理解释。(6分)

38. (14分) 阅读材料, 完成下列要求。

化学工业是国民经济的基础性和支柱性行业, 是现代经济体系的重要部门。世界化学工业具有产业集中度高、规模效应突出、大企业主导等特点。近年来, 国际化工巨头纷纷推动重组整合, 世界发达经济体均拥有大型综合性化工企业, 在化学基础研发、新产品创制、产业链价值创造等方面发挥重要龙头作用。中国是世界化工大国, 但市场主体较分散, 行业聚集效应较弱。

中国化工集团有限公司是中国最大的化工企业, 拥有化工新材料、基础化学品、石油加工、农用化学品、轮胎橡胶和化工装备六大业务板块, 在世界 500 强列 164 位。中国中化集团有限公司是国内领先的石油和化工产业综合运营商、农业投入品和现代农业服务一体化运营企业, 在世界 500 强列 119 位, 并在城市开发运营和非银行金融领域具有较强的影响力。2021 年 3 月, 经国务院批准, 中国中化集团有限公司与中国化工集团有限公司实施联合重组, 公司实际控制人为国务院国资委。

“两化”通过重组构建新的集团, 是推进化工全行业战略重构的标志性重大事件, 是深入贯彻创新驱动发展模式, 提高经济发展质量和效益的重大布局。“两化”通过重组实现强强联合, 将加速化学工业供给侧结构性改革和行业转型升级, 优化企业资源配置, 形成产业链的有机协同互补, 增强科技研发和创新能力, 释放企业活力; 在粮食安全重要性凸显的背景下, 打造世界一流的综合性化工企业, 将切实增强中国企业在种源、化工等领域的全球竞争力。

结合材料并运用《经济生活》知识, 说明中国化工集团有限公司和中国中化集团有限公司联合重组是如何增强国有经济控制力的。



39. (12分) 阅读材料, 完成下列要求。

习近平总书记在庆祝中国共产党成立100周年大会上强调:“发展全过程人民民主。”发展全过程人民民主, 是人大及其常委会的重要职责。十三届全国人大四次会议表决通过, 对施行30多年的全国人大组织法和全国人大议事规则作出修改, 将全国人大及其常委会坚持“全过程民主”写入法律。按照要求, 所有的重大立法决策都是依照程序, 经过民主酝酿, 通过科学决策, 民主决策产生。

立法的过程需要最大限度地吸纳民意。2014年, 党的十八届四中全会决定提出, 建立基层立法联系点制度, 推进立法精细化。2015年7月, 全国人大常委会法工委经过充分调研, 确定四个基层立法联系点。党的十八大以来, 已有187件次法律草案向社会征求意见, 有约110万人次提出300多万条意见建议, 许多意见建议得到采纳; 20多万个各级人大代表联络站、代表之家等联系人民群众工作平台在全国遍地开花; 全国人大常委会法工委在全国范围内设立10个立法联系点, 直接听取基层一线的单位 and 干部群众对法律草案的意见。截至2021年6月, 各立法联系点对109部法律草案、立法工作计划等提出近6500条意见建议。正如习近平指出的: 民主不是装饰品, 不是用来做摆设的, 而是要用来解决人民要解决的问题的。在中国共产党领导下, 全过程民主的贯彻落实, 正是中国的成功密码所在。

结合材料并运用《政治生活》的知识, 说明人大工作是如何贯彻发展全过程人民民主要求的。(12分)

40. (26分) 阅读材料, 完成下列要求。

材料一 武汉疫情形势严重时, 我们喊着“武汉加油!”“热干面加油!”; 郑州暴雨之后, 我国各地积极响应, 一起支援, 我们听到了“胡辣汤挺住”“热干面来了”“刀削面来了”“油泼面来了”。2021年10月下旬, 甘肃疫情形势严峻, 我们听到了“牛肉面加油!”“呱呱然然加油!”“大盘鸡加油!”每当疫情爆发, 我们都能做到全国上下一盘棋, 一方有难, 八方支援。在疫情面前, 凝聚起了伟大的抗疫力量, 形成了伟大的抗疫精神。正是有这种力量的推动和精神的鼓舞, 我们一次又一次的取得了抗击疫情的伟大胜利。

材料二 以习近平同志为核心的党中央统揽全局、果断决策, 以非常之举应对非常之事。中国确定“外防输入、内防反弹”总策略、“动态清零”总方针, 在统筹推进疫情防控和经济社会发展的“大考”中书写出新篇章。

边城瑞丽, 跨境交往频繁, 一年当中遭遇疫情多番袭击。这座城市严格落实党中央

防疫政策，设置疫情防控缓冲区，实行分区差异化管理政策。一口岸一专班、一口岸一对策，严格做好入境人员“点对点、一站式”转运工作，实行非接触式货物交接模式……针对中国口岸点多、线长、面广等防控难点，有关部门进一步精准化完善口岸城市疫情防控机制，确保了边民生命健康，同时成功阻断了疫情向外扩散。

(1) 结合材料一，运用意识的能动作用的知识，说明抗疫精神对我们一次次取得抗击疫情伟大胜利的作用（12分）

(2) 结合材料二，说明边城瑞丽在疫情防控过程中是如何坚持具体问题具体分析。（10分）

(3) 请为处在抗疫一线的人们写两条鼓励加油的标语，为抗击疫情贡献自己的力量。（4分）

41. （25分）阅读材料，完成下列要求。

材料一

中国古代以世代守土为主的工作方式决定了古代基本上没有社会性的就业问题，学校教育主要以培养政府官员为目的，近代职业技术教育是大工业生产的产物。从19世纪60年代起，民族危机严重，最先发展起来的是军事工业，为这类企业培养相应的技术人员的职业教育也随之出现。19世纪末20世纪初教育救国思潮兴起，1917年“中华职业教育社”在上海诞生，凝聚了当时教育界、实业界等社会各界知名人士，由政府主持建立近代新职业教育体制，仿效日本、美国的教育在中国建立了新的学制，并且把职业教育的某些做法渗透到普通中小学教育之中。

——摘编自俞启定《中国近代职业教育形成的探讨》

材料二

1980年《关于中等教育结构改革的报告》中规定，将部分普通高中改为职业技术学校、职业中学、农业中学。报告下达以后，各省市自治区先后成立了中等教育结构改革小组，着重发展职业中学和农业中学。1996年颁布的《职业教育法》提出：建立、健全职业学校与职业培训并举，并与其他教育相互沟通、协调发展的职业教育体系的职业教育体系。这一时期我国还与美国、日本、英国等国家，与联合国教科文组织与港澳台地区开展了广泛的职业教育交流与合作，通过信息交换、人员往来、合资合作等多种形式，推动了职业教育的发展。

——摘自许丽丽《建国后我国中等职业教育发展研究》

文科综合 第12页（共16页）

(1) 根据材料一并结合所学知识,分析中国近代职业教育发展的历史背景并做出简要评价。(13分)

(2) 根据材料二并结合所学知识,指出新时期我国中等职业教育发展的新变化,并分析发展变化的原因。(12分)

42. (12分) 阅读材料,完成下列要求。

世界博览会被誉为“经济、科技与文化界的奥林匹克盛会”,最早的现代博览会始于1851年英国万国工业博览会。历次博览会,无不烙下时代印记。

世界博览会展品简介(部分)

时间和主办国	代表性展品
1851年 英国伦敦	主办国英国展出的大功率蒸汽机、高速汽轮船、机床等产品轰动世界。中国的展品包括瓷器、屏风、象牙雕刻、珐琅彩铜器、大理石群像等,“荣记湖丝”获得“制造业和手工业”奖牌。
1904年 美国圣路易斯	主办国美国展示了汽车、飞机等新交通工具,电动机、电报、电话、电影放映机等电气设备,塑料、化肥、炸药等化工产品。清政府以丝绸、茶叶,雕花瓷器、景泰器等为代表性展品。
2010年 中国上海	主办国中国展示了载人航天技术、可食用环保包装材料、多媒体信息技术等新技术。美国则以将日光转化为电力、屋顶花园、再生竹制成的地板等为代表展品。

——据马敏等编《博览会与近代中国》等


从上表中提炼信息,自拟论题,结合中外近现代史进行阐述。(要求:论题明确,史论结合,表达清晰。)

(二) 选考题：共 25 分。请考生从 2 道地理题、3 道历史题中每科任选一题作答。如果多做，则每科按所做的第一题计分。

43. (10 分) 【地理——选修 3：旅游地理】

张掖丹霞地貌景观区是国家地质公园，奇观形成于 600 万年前，主要由丹霞地貌和彩色丘陵共同组成。以气势磅礴，造型奇特，色彩斑斓居奇，在阳光的照射下，像披上了一层红色轻纱，熠熠泛光，色彩异常艳丽，吸引了众多游客前来观光。

简述旅客在景区观光需要注意的问题。



44. (10 分) 【地理——选修 6：环境保护】

酒泉市是新中国石油工业和核工业的发祥地，也是全国重要新能源基地，电力、石化、冶金、建材和食品是工业支柱产业。近年来，随着工业化、城市化进程加快，全市大气环境质量日益受到社会各界的关注。下表示意酒泉市各项污染物月度浓度均值（单位：CO： $\text{mg}\cdot\text{m}^{-3}$ ，其他： $\mu\text{g}\cdot\text{m}^{-3}$ ）

月份	污染物					
	二氧化硫	二氧化氮	可吸入颗粒物	一氧化碳	臭氧	细颗粒物
1	12.03	23.10	69.23	0.78	77.81	35.48
2	10.24	14.17	133.79	0.58	89.55	38.00
3	8.52	16.18	100.71	0.48	97.61	28.26
4	6.33	16.20	147.13	0.44	110.73	38.23
5	5.13	13.48	127.81	0.34	112.35	31.39
6	6.47	19.97	64.76	0.36	122.73	35.30
7	5.97	19.84	111.97	0.39	121.48	31.16
8	6.16	18.13	53.26	0.40	113.48	16.45
9	6.20	23.63	72.97	0.43	103.03	20.73
10	7.71	26.84	75.23	0.53	92.32	22.55
11	10.24	30.97	84.13	0.69	79.53	32.30
12	9.59	33.45	56.05	0.83	62.41	36.09

(1) 任举一种表中的大气污染物，分析其浓度与气候要素季节变化的相关性。（6 分）

(2) 说明大气环境监测对城市发展的意义。（4 分）



45. (15分) [历史一选修 1: 历史上重大改革回眸]

材料

前秦苻坚当政时, 极力拉拢汉族地主, 实行了一系列政策。苻坚从选拔人才入手, 整顿吏治, 提拔了一大批汉族地主分子, 在十六国中, 前秦最为人才济济。在苻坚支持下, 王猛在十数天内杀掉不法贵戚强豪二十余人, 结果“百僚震肃, 豪右屏气”。针对关中少雨易旱, 苻坚下令推广先进的区种技术, 还在当地大兴水利, 使北方社会经济得到很大程度的恢复。苻坚还废止胡汉分治, 强调“黎元应抚, 夷狄应和”。他还下令恢复了太学及地方学校, 使公卿子弟入学受业, 成绩优秀者, 予以旌表授官, 对不通经的官吏则予以罢遣。史载当时“关陇清晏, 百姓丰乐, 自长安至于诸州……旅行者取给于途, 工商贸贩于道”。社会经济情况比过去有很大改善。

——摘编自詹子庆、田泽滨主编《中国古代史》等

(1) 根据材料, 概括苻坚改革的主要内容。(8分)

(2) 根据材料并结合所学知识, 简析苻坚改革的意义。(7分)

46. (15分) 【历史一选修 3: 20 世纪的战争与和平】

材料

二战后, 东北亚格局呈现出新的态势: 美日韩三方渐行渐近、苏中朝三国结盟。随着美日媾和决策的形成与中苏同盟条约的签订, 东北亚局势日渐紧张。朝鲜战争首先在半岛南北之间展开, 随着美、中等国参战, 战争也由国内民族解放战争转变为具有国际意义的战争。中美双方派往朝鲜战场的兵力高达 300 多万, 苏联为中朝军队提供了所需的绝大部分军事装备, 日本为美军充当前进基地和后方补给场所。从 1950 至 1953 年, 美国共向韩国提供 5.15 亿美元的经济援助。1951 年, 《美日安全条约》正式签订, 美日同盟形成。战争期间, 中苏同盟关系进一步巩固。1953 年 7 月朝鲜战争结束后, 东北亚格局表现出更加强烈而愈益泾渭分明的发展态势。

——摘编自夏季亭、齐廉允《朝鲜战争与东北亚格局》

(1) 根据材料并结合所学知识, 概括朝鲜战争爆发的国际背景。(8分)

(2) 根据材料并结合所学知识，简析朝鲜战争对东北亚格局的影响。(7分)

47. (15分) 【历史一选修4：中外历史人物评说】

材料

吕思勉(1884~1957)，中国近代历史学家、国学大师。通史撰写成就突出。在某种意义上说，“通史”具有“通古今之变，成一家之言”，资政、育人的价值。进入近代，西方学术传入中国，传统的“通史”写作遇到西学的挑战。20世纪初，梁启超相继发表《中国史叙论》、《新史学》，对中国传统史学给予激烈批评，鼓吹“史学革命”，主张参照东西洋新史学，重建中国史学体系、史学方法。吕思勉的第一部通史作品《白话本国史》由上海商务印书馆1923年出版。严耕望后来讨论这本书时说：“在1920年代，一般写通史都用文言文，而先生第一部史学著作就用白话文，可谓是中国第一部用语体文写的通史。全书四册，内容丰富，而且着眼于社会的变迁，也有很多推翻传统的意见，这在当时是非常新颖的。”1940年，吕思勉在上海“孤岛”为适应当时大学教学需要编写《中国通史》，翌年出版下册。最后一章《革命途中的中国》，他认为只有社会主义才能彻底完成有利于人民的社会改革。这部书的写作、出版时间与钱穆的《国史大纲》相距不远，只是《国史大纲》结尾处将孙中山的三民主义视为中国的希望。

——摘编自马勇《从学术史视角看吕思勉的通史写作》等

(1) 根据材料，概括吕思勉对中国历史学科发展的作用。(8分)

(2) 根据材料并结合所学知识，简析吕思勉取得成就的原因。(7分)

关于我们

自主选拔在线是致力于提供新高考生涯规划、强基计划、综合评价、三位一体、学科竞赛等政策资讯的升学服务平台。总部坐落于北京，旗下拥有网站（[网址: www.zizzs.com](http://www.zizzs.com)）和微信公众平台等媒体矩阵，用户群体涵盖全国90%以上的重点中学师生及家长，在全国新高考、自主选拔领域首屈一指。

如需第一时间获取相关资讯及备考指南，请关注**自主选拔在线**官方微信号：[zizzsw](https://www.zizzs.com)。



微信搜一搜

