

2023 年浙江选考模拟考 历史试卷

命题：杭州二中

本试题卷分选择题和非选择题两部分，共 11 页，满分 100 分，考试时间
90 分钟。

考生注意：

1. 答题前，请务必将自己的姓名、准考证号用黑色字迹的签字笔或钢笔分别填写在试题卷和答题纸规定的位置上。
2. 答题时，请按照答题纸上“注意事项”的要求，在答题纸相应的位置上规范作答，在本试题卷上的作答一律无效。

选择题部分

一、选择题（本大题共 25 小题，每小题 2 分，共 50 分。每小题列出的四个备选项中只有一个是符合题目要求的，不选、多选、错选均不得分）

1. 社是土地之神，稷是五谷之神。古时君主为了祈求国事太平，五谷丰登，每年都要祭祀土地神和五谷神，社稷也就成了国家的象征。社稷祭祀直接体现了
A. 中华思想文化发展的源头
B. 中国青铜时代的文化认同
C. 中华传统文化的民本特征
D. 中华传统文化的农本特点
2. 秦汉时期，地方长官要每年定期派计吏向中央汇报本地情况，相关文书称为“计簿”，内容包括户口、垦田、赋役、治安和自然灾害等。关于秦汉时期的上计制度，下列说法正确的是
A. 郡县长官汇总制成计簿
B. 刺史参与审核计簿
C. 其结果是官员赏罚的依据
D. 保证了中央财税的增长
3. 汉武帝时颁布“算缗（官府向商人征收的一种财产税）令”和“告缗（鼓励群众揭发隐瞒财产的商贾）令”，从此之后，富人们不敢再投资工商业，而是转为购买土地，这导致土地价格上涨，普通农户只能在一小块土地上刨土求食。汉武帝的此项举措
A. 阻碍了农业生产水平提高
B. 致使城市工商业出现了停滞状态
C. 表明汉朝重农抑商政策的启动
D. 推动了精耕细作小农经济的发展

4. 李泽厚曾对魏晋风度评价道：“外表尽管装饰得如何轻视世事，洒脱不凡，内心却更强烈地执着人生，非常痛苦。这构成了魏晋风度内在的深刻的一面。”下列艺术作品符合魏晋风度的有

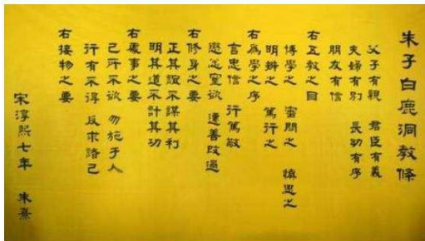
①《兰亭序》 ②《归园田居》 ③《怀素自叙帖》 ④《上林赋》

A. ①② B. ①③ C. ①②③ D. ②③④

5. “先计州县每岁所应费用及上供之数而赋于人，量出以制入。户无主客，以现居为簿，人无丁中，以贫富为差。为行商者，在所州县税三十之一，使与居者均，无侥利。”这一中国古代赋役制度的规定

A. 放松了政府对农民的人身控制 B. 保证农民有充分的生产时间
C. 扩充了政府征税的对象和名目 D. 延续了北魏以来的租庸调制

关于《白鹿洞书院揭示》，下列说法正确的是



①该书院开启了中国私学的历史
②该书院成为程朱理学传播的中心
③这是中国书院发展史上的一个纲领性学规
④内容充分发挥儒学在强化社会伦理道德秩序的作用

A. ②④ B. ③④ C. ①②③ D. ②③④

7. 中原地区盛产粮食、麻、丝及手工制品，而农业的发展则需要大量的畜力（牛、马等）；北方草原地区盛产牛、马、羊及皮、毛、肉、乳等畜产品，而缺少粮食、纺织品、手工制品等。草原丝绸之路有“皮毛路”“茶马路”的称谓。这可以用来说明

A. 草原丝绸之路形成的基础条件
B. “皮毛路”和“茶马路”相互辉映
C. 草原地区最早形成茶马互市
D. 农耕文化冲击了游牧文化

8. 图1、图2 分别是宋代和清代东南地区农作物种植结构示意图。这一变化




图1 宋代太湖平原产粮外运

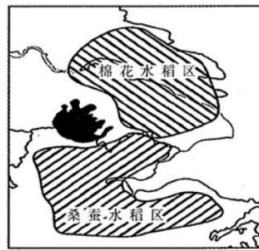


图2 清代江浙棉桑分布

- A. 导致工商业市镇开始出现
B. 促进了跨区域贸易的繁荣
C. 改变了南北漕运经济格局
D. 加速了小农经济结构变动
9. 据文献记载：“二十二年更定保甲之法：一、顺天府五城所属村庄暨直省各州县乡村，每户给门牌。十户为牌，立牌长；十牌为甲，立甲长；三年更代。十甲为保，立保长，一年更代。”关于材料所述的基层组织认识不正确的是
- A. 旨在维护社会治安
B. 兼具区划和户籍管理性质
C. 是最基层的行政机构
D. 体现民众的自我管理与相互监督
10. 晚清名流孙宝瑄在日记中写道：“风气至今，可谓大转移。立宪也，议院也，公然不讳，昌言无忌；且屡见诸诏旨，几等口头禅，视为绝不奇异之一名词。”该日记作为史料，可以用来研究
- A. 《资政新篇》的颁行
B. 戊戌维新运动的开展
C. 清末“新政”的实施
D. 晚清政府的第一次自救
11. 中共二大通过宣言，指出在中国社会各阶级中，“幼稚的资产阶级，已能结合全国的力量，反对外国帝国主义和北京卖国政府”；“大量的贫苦农民能和工人握手革命”；工人阶级将会成为“革命领袖军”。这表明，此时的中国共产党
- A. 致力于巩固革命统一战线
B. 确立了社会主义革命目标
C. 对中国国情形成理性认识
D. 领导全国反帝反封建斗争
12. 下图所示是20 世纪40 年代中国的两幅漫画。它们反映的历史事件



历史试卷·第3页(共11页)

- A. 推动了解放战争的胜利
- B. 保证中国共产党队伍的纯洁性
- C. 限制了农村的封建剥削
- D. 体现了中国共产党的统战路线

13. 下图是中共发布的与某战役相关的电文内容。该战役

令正太破击必须再坚持半个月

赓、联、谢并告范、赖、希汉：

（一）■■■■意义极大，坚持愈久胜利愈大，特别正太路的彻底破毁，将使华北战略上发生有利突化。

.....

（三）现正太西段据点大部已经夺取，今后任务在彻底摧毁铁路、桥梁、隧道、车站及一切木工物，拼命搬资材，使敌无法修复，并继续扩张战果。

刘、邓 24 日戌

- A. 以切断敌人交通线为主要目标
- B. 是抗战以来持续时间最长的战役
- C. 是抗战以来正面战场的首次大捷
- D. 是国共团结一致共同抗日的典范

下图为上海国棉一厂发出开展增产节约和劳动竞赛号召的照片，由该图可推知

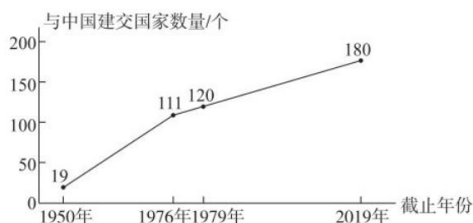
- A. 其号召是基于中共八大提出的建立先进的工业国
- B. 其结果是完成了有史以来最为深刻的社会变革
- C. 其背景是“百花齐放，百家争鸣”方针的提出
- D. 其目的在于逐渐实现国家的社会主义工业化



15. 诗人余光中在 1972 年写下《乡愁》：小时候，乡愁是一枚小小的邮票，我在这头，母亲在那头；长大后，乡愁是一张窄窄的船票，我在这头，新娘在那头；后来啊，乡愁是一方矮矮的坟墓，我在外头，母亲在里头；而现在，乡愁是一湾浅浅的海峡，我在这头，大陆在那头。面对雅尔塔体系崩溃的局面，海峡两岸作出的重要应对举措是

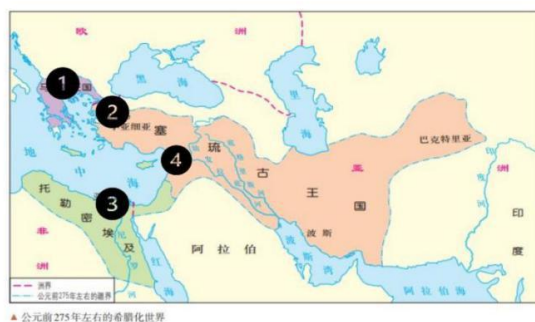
- A. 十届人大三次会议通过《反分裂国家法》
- B. 全国人大常委会委员长叶剑英阐明关于台湾问题的九条方针政策
- C. 海协会与海基会会晤，达成“海峡两岸均坚持一个中国原则”的共识
- D. 习近平、马英九新加坡会面，就进一步推进两岸关系和平发展交换意见

16. 下图为与中国建交国家数量增长情况，对图中数据解读正确的是



- A. 20世纪50年代，与法国、荷兰等国建立代办级外交关系
- B. 20世纪70年代，中国先后实现与美国、日本的关系正常化
- C. 改革开放之际中国同印度、蒙古、朝鲜等国关系取得新进展
- D. 世纪之交中国把巩固与发展周边关系作为外交工作的首要任务

17. 从亚历山大远征到罗马最终征服托勒密埃及之间大约 300 年被称为“希腊化时代”，在这一时代形成了新的希腊文化中心，以下属于新的希腊文化中心的是



- A. ①②③
- B. ①②④
- C. ①③④
- D. ②③④

18. 11 世纪末，意大利出现了第一所世俗大学——博洛尼亚大学。12 世纪，法国的巴黎大学、英国的牛津大学相继出现。13 世纪后，捷克的布拉格大学、奥地利的维也纳大学、英国的剑桥大学、德国的海德堡大学、法国的奥尔良大学等相继成立。这些大学的成立得益于

- A. 国家统一的实现
- B. 资本主义的发展
- C. 城市自治的发展
- D. 人文主义的复兴

19. 15 世纪中期以前，英国王室长期怀着强烈的“大陆情结”，不仅在欧洲大陆争夺领地，甚至争夺法国王位；英法百年战争后，英国王室在欧洲大陆的领地丧失殆尽，转而用心经营英伦三岛。由此可见，百年战争

- A. 沉重打击了英国的海上霸权
- B. 推动了英国资本主义发展
- C. 有助于英国民族意识的增强
- D. 强化了英国的世俗权力

20. 启蒙思想家们对未来社会提出来一些基本的政治思想，但也存在差异，下列法国思想家与主张对应正确的是

- A. 亚当·斯密——劳动是财富的源泉和衡量价值的标准，主张自由竞争
- B. 卢梭——主张废除君主制，强调行政、立法、司法三权分立
- C. 伏尔泰——赞成君主立宪，但寄希望于开明君主进行改革
- D. 康德——主张自由、民主、平等

21. 《剑桥欧洲经济史》记述了欧洲某一时期涌现的新经济现象：“更多的工业企业不再满足于接受基础创新并利用它们，而是通过精心的有计划的试验来追寻这种技术创新……以至于企业都开始资助基础研究和应用研究。”和这一现象相伴的历史结果是

- A. 蒸汽机取代传统动力
- B. 新型垄断组织出现
- C. 工厂制度出现并发展
- D. 自由主义政策式微

22. 如表是第一次世界大战后亚非拉民族民主运动的主要事件。这些事件对应地区正确的是

地区	事件
亚洲	中国国共合作发起国民革命；提拉克为首的国大党领导民族独立运动；印度甘地的非暴力不合作运动
非洲	埃及华夫脱运动；摩洛哥哥里夫人民起义；埃塞俄比亚抗击意大利法西斯侵略
拉丁美洲	墨西哥爆发资产阶级革命；尼加拉瓜桑蒂诺的抗美斗争

- A. 亚洲
- B. 非洲
- C. 亚洲、非洲
- D. 亚洲、拉丁美洲

23. 下图所示是马克思在《德意志意识形态》中的一段论述。在这段论述中，马克思

对历史向世界历史的转变，不是“自我意识”，宇宙精神或者某个形而上学怪影的某种纯粹的抽象运动，而是完全物质的，可以通过经验证明的行动，每一个过着实际生活的，需要吃喝穿的个人都可以证明这种行动。

- A. 提出了科学社会主义理论

- B. 运用唯物史观分析历史问题
- C. 揭示了资本家剥削工人的秘密
- D. 论证了资本主义必然灭亡的规律

24.“缔约各国政府:认为在处理它们的贸易和经济事业的关系方面,应以提高生活水平,保证充分就业、保证实际收入和有效需求的巨大持续增长、扩大世界资源的充分利用以及发展商品的生产与交换为目的。……”这个文件出自于

- A. 《布雷顿森林体系》
- B. 《国际货币基金组织》
- C. 《关税与贸易总协定》
- D. 《世界贸易组织》

25. 从工业革命到 2010 年发达国家的排放占世界总排放量的 70%, 发展中国家占了 30%。为应对全球气候问题, 1992 年《联合国气候变化框架公约》确立了发达国家和发展中国家“共同但有区别的责任”, 1997 年达成《京都议定书》, 2015 年联合国气候大会通过《巴黎协定》, 关于以上达成成果, 下列说法正确的是

- ①温室气体减排成为发达国家的法律义务
 - ②建立了国家自主决定贡献力度的全球行动模式
 - ③联合国在解决全球性问题方面发挥的作用不大
 - ④气候等问题是全球造成的, 必须由各国共同承担
- A. ①② B. ②④ C. ①③④ D. ①②④

非选择题部分

二、非选择题（本大题共 4 小题，共 50 分）

26. 阅读材料，完成下列要求。（10 分）

材料一 东汉时期，士大夫以经术起家，凭借特有的文化权力日益“士族化”，依靠“累世经学”以达到“累世公卿”的目的。士人在政治上得势后，便转而扩张家族的土地与财富，使得家族与政治结合，逐步构成了门阀的基础。曹魏时期的世家大族式家族组织具有血缘家族的一般性质和功能，又有明显的政治、军事色彩，随着九品中正制的出现，其政治色彩日渐突出。以士大夫官僚为核心，形成家族式政治集团，随之发展成门阀士族。在两晋的门阀专政下，士庶之分如天地之隔，连士族中的卑门和高门在权力上也有着天差地别，朝廷的要职多由高门门阀出身

的人担任，并由以王、桓、谢等大姓为代表的北方士族垄断政权，封锢山泽，依官品占田。

—摘编自徐国富《浅述魏晋南北朝的门阀制度》

材料二 唐晚期及以后的家族组织逐渐褪却政治色彩，恢复了本来面貌。除供子弟读书科考外，不再追求整个家族的政治利益，基本上是一个自给自足的自然经济单位。通过严密的家族组织系统和家族法规，履行着对外保护、赈济互助、开办书院等职能；通过宗谱义庄等凝聚宗族，化解社会矛盾；通过族学强化家族能力，促进家族长久繁荣。宋以后同居共财的大家庭其成员必是同一个祖宗的子孙，为笼络族人不离散，聚族而居，并通过祭祀共同的祖先，增强血缘向心力。在聚居下的兄弟分家现象尤为普遍，别立户籍，平均每户5口左右，由父母与未婚子女组成核心小家庭。

—摘编自邢铁《唐宋时期家族组织的变化》

- (1) 根据材料一，概括魏晋时期门阀士族在政治、经济上的特点，并结合所学，从政治角度简要说明南北朝到宋朝是如何打破这个局面的。（6分）
- (2) 根据材料二，指出唐宋时期作者认为家族组织的变化最主要的趋势，并说明其对当时社会层面的影响。（4分）

27. 阅读材料，完成下列要求。（10分）

材料一 古代先民为抵御疫情，留下了丰富的经验。《黄帝内经》中指出“圣人不治已病治未病，不治已乱治未乱”，主张培固自身“正气”，以抵抗“邪气”侵入。秦律中明确规定了严格的传染病疑似患者的报告制度，如果一旦发现了疑似疫病患者，就要及时报告并采取隔离措施。唐宋时期，政府采取了医疗统筹、民生安置、行政管控等措施，并积极调动社会民众力量加以辅助。在与疫病的抗争中，历代医家们还形成新的医疗理论和方法。张仲景写成《伤寒杂病论》，奠定了“辨证施治”的基础，葛洪用柏芝散预防疫病，孙思邈研制出雄黄丸以避疫疾，这些都为疫病防治作出重要贡献。

——摘编自王星光《中国古代的疫病探求与防治应对》

材料二 近代以来，随着全球经济联系日益紧密，疾病在更大空间范围内的传播成为可能。为了防控疫情，相关国家采取了隔离措施，但标准不一的隔离政策又

影响了国家间的贸易往来。一战结束后，试图成为战后国际新秩序和未来国际事务领导者的国际联盟，努力在国际抗疫合作与卫生治理方面有所作为。1920年9月，国际联盟大会通过决议，成立常设辅助机构——国联卫生组织，专门负责和处理国际疫情与卫生问题。尽管由于种种原因，国联卫生组织未能统一合并国际公共卫生办公室和泛美卫生组织，建立起全球统一的国际抗疫合作与公共卫生治理组织，在一定程度上影响了国际抗疫资源的集中和合作措施的执行效果，但它与后二者进行了尽可能的协商与合作，对两次世界大战期间的国际疫情防控做了许多富有开创性且颇具实效的工作，是现代全球公共卫生治理发展历史的重要组成部分。

——摘编自闵凡祥《国际联盟卫生组织与两次世界大战期间的抗疫合作》

(1) 根据材料一并结合所学知识，总结中国古代疫病防治的重要经验。(4分)

(2) 根据材料二并结合所学知识，概括国际联盟卫生组织成立的背景，简要评价国际联盟卫生组织的影响。(6分)

28. 社区自治缓和了社会矛盾，维护了社会秩序的政治稳定。阅读材料，完成下列要求。(15分)

材料一 1990年，《中华人民共和国城市居民委员会组织法》颁布，扩大了居委会职能，居委会可根据需要自行设立各种工作委员会。随着越来越多的农村人口涌入城市，以及大量的“单位人”转变为“社会人”，“社区式管理”成为城市管理新的模式。

2000年，《民政部关于在全国推进城市社区建设的意见》颁布，标志着社区建设成为城市基层社会管理的新方向。除街道办事处和居民委员会之外，社区还出现以业主委员会、物业管理公司以及社会非营利性公益组织为代表的新兴组织。通过居民会议议事协商和民主听证等形式，社区各类主体都可以平等参与社区公共事务和民主决策。

——摘编自朱汉国主编《当代中国社会史》等

材料二 美国是最早开展社区组织工作的西方国家之一。美国政府制定了各种关于社区的法律制度，从国家层面出发，有《住宅和社区发展法》、《社区再投资法》、

《国家和社区服务合作条例》等。社区组织行使社区管理职能，是由社区居民代表选举产生的，通常包含董事会、执行总裁、正式员工和志愿者。多层次的非营利组织遍布美国的各个社区，他们为社区提供各种各样的专业性和差异性服务，在满足社区居民服务需求的同时，还增加了就业岗位增强了社区居民参与意识。每年约有9000多万人次的志愿者从事社区服务工作，社区志愿服务的内容包罗万象。庞大的志愿者队伍为美国的社会管理和公共服务提供了强有力的人力和智力保障。

——摘编自杨浩勃《美国社区管理模式对深圳的启示》

- (1) 结合所学，分析“农村人口涌入城市、“单位人”转变为“社会人”的历史动因。根据材料并结合所学知识回答社区式管理模式出现的因素。（5分）
- (2) 根据材料一、二并结合所学知识，比较中美城市社区管理的异同。（7分）
- (3) 根据上述材料并结合所学知识，简述中美城市基层管理带来的共同启示。（3分）

29. 马匹一直伴随着人类社会的发展。阅读材料，回答问题。（15分）

材料一

马匹最早可能的驯化迹象是在住宅区域内似乎存在一组带有大量动物粪便的后霉菌，学者们将其解释为代表一个马圈。早在公元前3600年，在哈萨克斯坦的克拉斯尼亚尔就发现了该证据。马可能是为了食物和牛奶而饲养的，而不是骑马或承重。

公认的骑马考古证据包括马牙上的磨损——在公元前3500-3000年左右，在现代哈萨克斯坦的博泰和乌拉尔山脉以东的草原上发现了这种磨损。在考古组合中，只在少数牙齿上发现了磨损，这可能表明有几匹马被骑着狩猎和收集野马作为食物和马奶消费。最后，使用马作为驮畜的最早直接证据——以马拉战车图画的形式——来自公元前2000年左右的美索不达米亚。

在2009年发表在《科学》杂志上的一篇文章中，艾伦·K·奥特拉姆(Alan K. Outram)及其同事研究了支持博泰文化遗址驯化马的三方面证据：胫骨、马

奶消耗和马齿磨损。这些数据支持马在公元前 3500-3000 年之间在今天的哈萨克斯境内驯化。

2012 年的一项研究 (Warmuth 及其同事) 结合了考古学、线粒体 DNA 和 Y 染色体 DNA, 支持马的驯化发生在欧亚草原西部。

——根据网络资料综合整理

材料二

在“一战”开始的时候, 欧洲军队对骑兵有着很高的期望。然而, 随着参战双方的火力大大提高, 军事家们发现, 新式堑壕战所造成的致命地形几乎使骑兵在西线毫无作为。但是, 在汽车、拖拉机和卡车相对少见的时代, 补给、新型重武器的拖送、军队的运输仍然需要依赖大规模马力。因此, 英军和法军从殖民地和盟友中大量进口马匹。成千上万的动物跨过大洋, 加入战争, 据统计大约有 800 万匹马在“一战”这 4 年中被杀。

——摘自美国《大西洋月刊》2014 年 5 月 18 日《一战中的动物们》

(1) 材料一关于马匹驯化的研究使用了哪些方法? 结合所学回答美索不达米亚地区比较早 (公元前 2 千纪) 使用马拉战车的古文明有哪些? 高度概括马背上的迁徙、战争和商贸对古代世界造成哪些影响? (7 分)

(2) 材料二提到的一战中西线最重要的地面战役有哪些? 根据所学回答一战对亚非殖民地造成了什么影响。(8 分)

关于我们

自主选拔在线是致力于提供新高考生涯规划、强基计划、综合评价、三位一体、学科竞赛等政策资讯的升学服务平台。总部坐落于北京，旗下拥有网站（[网址：www.zizzs.com](http://www.zizzs.com)）和微信公众平台等媒体矩阵，用户群体涵盖全国90%以上的重点中学师生及家长，在全国新高考、自主选拔领域首屈一指。

如需第一时间获取相关资讯及备考指南，请关注**自主选拔在线**官方微信号：**zizzsw**。



 微信搜一搜

 自主选拔在线

