




# 2020—2021 学年高三总复习阶段性检测考试 文科综合卷

### 注意事项:

1. 考试范围:政治——必修1、必修2、必修3  
历史——必修1、必修2、必修3  
地理——区域地理、必修1、必修2
2. 答卷前,考生务必将自己的姓名、准考证号等填写在答题卡和试卷指定位置上。
3. 回答选择题时,选出每小题答案后,用铅笔把答题卡上对应题目的答案标号涂黑。如需改动,用橡皮擦干净后,再选涂其他答案标号。回答非选择题时,将答案写在答题卡上。写在本试卷上无效。
4. 考试结束后,将本试卷和答题卡一并交回。

一、选择题:本题共35小题,每小题4分,共140分。在每小题给出的四个选项中,只有一项是符合题目要求的。

下图为某村落“倒金字塔”式古木屋断面模型图,该村落分布在我国南岭一带,是一个具有400多年历史、极具代表性的少数民族村落,也是“倒金字塔”式的传统民居仅存地。据此完成1~3题。



1. 该村落房屋采用木质结构有利于  
A. 保护生态      B. 就地取材      C. 节约土地      D. 防寒保暖
2. 从日常起居和粮食存放安全考虑,屋内粮食储藏主要集中在  
A. 地下室      B. 房屋一层      C. 房屋二层      D. 房屋二层以上
3. 图示木屋上宽下窄可以更好地抵御  
A. 雨水      B. 台风      C. 地震      D. 洪涝

甩挂运输,是牵引车将满载或空载的挂车甩到货场后,再拖带其他事先装满货物的挂车出发的运输方式,是一种比较先进的现代运输方式,下图是某甩挂运输货场景观图。据此完成4~6题。



4. 与传统运输相比,甩挂运输的优点有  
A. 降低货物装卸成本      B. 减少货场占地面积  
C. 提高货物运输效率      D. 提高车辆运行速度
5. 甩挂运输主要适用于  
A. 运距长,装卸难      B. 运距短,装卸难  
C. 运距长,装卸易      D. 运距短,装卸易

【文综(第1页)】

座位号

考场号

题

答

要

不

准考证号

内

线

封

姓名

密

班级

学校



15. 国家出台《新能源汽车产业发展规划(2021—2035年)》,强调打好关键核心技术攻坚战,提高产业链供应链现代化水平,推进产业结构优化升级,为加快构建新发展格局、实现高质量发展提供有力支撑。出台上述规划

- ①强调了国家财政在促进经济平稳运行中的作用
- ②体现了国家加强宏观调控,增强发展的整体性
- ③有利于增强我国新能源汽车产业的国际竞争力
- ④有利于解决发展的不平衡性,满足人民的需要

A. ①③ B. ①④ C. ②③ D. ②④

16. 2020年11月4日,第三届中国国际进口博览会在上海举行,习近平主席宣布,压缩《中国禁止进口限制进口技术目录》,为技术要素跨境自由流动创造良好环境。我国这一表态

- ①表明我国坚持开放发展理念,奉行互利共赢开放战略
- ②遵循了共商共建原则,有利于培育贸易新业态新形式
- ③顺应了经济全球化新形势,推动建设开放型世界经济
- ④坚持了贸易自由化便利化政策,培育服务贸易新业态

A. ①② B. ②④ C. ①③ D. ③④

17. 江苏省苏州工业园区借鉴新加坡先进公共管理经验,打造了以社区工作委员会、邻里中心+民众联络所、社区居委会构成的三级社区管理与服务网络。民众联络所是为百姓量身打造的社区政务服务、公共服务载体和邻里交往空间,除标准化配备社区工作站、乐龄馆、童乐馆、律动馆、图书馆、民众俱乐部、社区卫生站等七大传统功能外,还新增党群公共服务、社会组织培育、综合治理联动等多项功能。苏州工业园区的努力

- ①印证了群众是基层民主建设的主体
- ②是对我国基层民主建设的可贵探索
- ③满足了社区居民各方面愿望和要求
- ④有利于打通社会治理“最后一公里”

A. ①③ B. ②③ C. ①④ D. ②④

18. 通过漫画,下列认识正确的是



- ①政府拓宽渠道倾听群众的呼声
- ②我国畅通了民主互动的渠道
- ③政府有效履行文化建设的职能
- ④我国健全权力运行的协调机制

A. ①② B. ②③ C. ③④ D. ①④

19. 考虑到未来一个时期外部环境中不稳定不确定因素较多,存在不少可能冲击国内经济发展的风险隐患,新冠肺炎疫情全球大流行影响深远,世界经济可能持续低迷,在“十四五”规划和2035年远景目标的建议中,党中央没有提出“十四五”经济增长速度目标和到2035年经济总量或人均收入翻一番的目标。可见

- ①中国共产党是中国最高政治领导力量
- ②党在我国发展中发挥总揽全局的作用
- ③我国维护党中央权威和集中统一领导
- ④党坚持科学执政,按照客观规律办事

A. ①③ B. ②④ C. ①④ D. ②③

20. 2020年11月3日,中国常驻联合国代表张军在安理会“建设和平与持续和平:当代冲突和不安全的驱动因素”高级别公开会上强调,当今世界,安全问题的联动性、跨国性、多样性更加突出。面对错综复杂的国际安全挑战,独善其身不行,迷信武力更不行,坚持集体安全、共同安全、普遍安全才是正确选择。下列说法能佐证张军代表观点正确性的是

- ①世界各国的前途命运紧密联系在一起
- ②中国是联合国安理会中负责任的成员
- ③维护本国利益要兼顾他国的合理关切
- ④合作有利于实现世界各国的共同利益

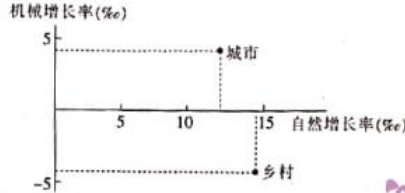
A. ①② B. ①④ C. ②③ D. ③④

【文综(第3页)】



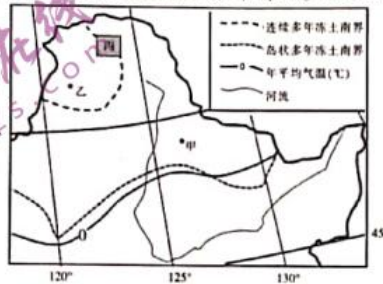
6. 澳大利亚西部南回归线附近某地区,大量采用甩挂运输,其在货场甩挂挂车和拖带挂车的装载情况分别是  
 A. 空载,矿石 B. 空载,小麦 C. 羊毛,矿石 D. 羊毛,小麦

下图示意2019年某国家城乡人口增长情况,该国近年来无战乱、饥荒、洪涝、地震等灾害发生,人口数量增长较快,国际人口迁移极少。据此完成7~8题。

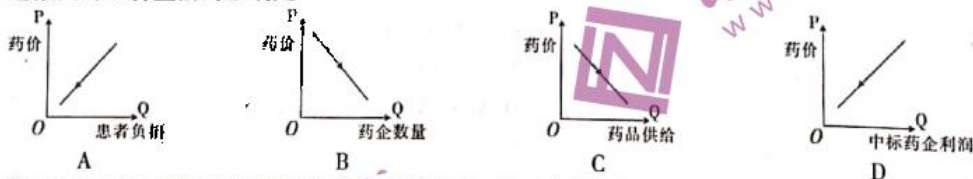


7. 造成2019年该国乡村人口自然增长率高於城市人口自然增长率的主要因素最可能是  
 A. 生育观念 B. 养老制度 C. 医疗水平 D. 生活水平
8. 2019年该国家城市人口比重约为  
 A. 40% B. 50% C. 60% D. 70%

多年冻土,是指持续多年冻结的土石层,可分为上下两层:上层每年夏季融化,冬季冻结,称活动层,属于季节性冻土;下层常年处在冻结状态,称永冻层。空间上不间断分布的多年冻土称为连续多年冻土,反之称为岛状多年冻土。下图示意我国东北地区冻土分布情况。据此完成9~11题。



9. 关于甲地冻土层的分布,能够确定的是  
 A. 有永冻层 B. 有活动层 C. 没有永冻层 D. 没有活动层
10. 乙地森林以落叶松为主,其对当地冻土层的影响主要表现为  
 A. 加快夏季融化 B. 加快冬季冻结 C. 减缓夏季融化 D. 减缓冬季冻结
11. 海拔是影响丙区域永冻层厚度的重要因素,丙区域由南向北海拔和永冻层厚度的变化趋势分别是  
 A. 增高,变厚 B. 增高,变薄 C. 降低,变厚 D. 降低,变薄
12. 2020年11月第三批药品国家集中采购开始执行,通过“以量换价”、降低成本实现降价目标。至此,国家连续三年通过集中采购降低不同药品价格,每次降幅都在50%以上。不考虑其他因素,国家上述做法对经济生活的影响是



13. 《中共中央关于制定国民经济和社会发展第十四个五年规划和二〇三五年远景目标的建议》强调,强化企业创新主体地位,促进各类创新要素向企业集聚。这一要求  
 ①体现了我国坚持多种所有制经济共同发展 ②是基于企业是市场经济活动的主要参加者  
 ③表明企业要承担提高自主创新能力的责任 ④符合市场在资源配置中起决定作用的原理  
 A. ①③ B. ②④ C. ①④ D. ②③
14. 《中共中央关于制定国民经济和社会发展第十四个五年规划和二〇三五年远景目标的建议》,第一次突出强调“扎实推动共同富裕”,要求提高劳动报酬在初次分配中的比重,完善工资制度,健全工资合理增长机制。上述具体要求对推动共同富裕所起的作用,说法正确的是  
 ①有利于调节过高收入,从而缩小收入差距 ②通过提高劳动报酬的比重,能缩小收入差距  
 ③理顺分配关系,实现发展成果由人民共享 ④保护劳动者的合法权益,维护劳动者的尊严  
 A. ①② B. ②③ C. ①④ D. ③④

【文综(第2页)】



21. 随着手机、电脑、电视屏幕分辨率越来越高,5G时代传输速度实现质的飞跃,能提供身临其境般收视体验的超高清视频正成为人们生活中越来越广泛的应用。上述变化对人们文化生活产生的影响是  
 ①为人们提供更先进的物质载体,丰富文化生活 ②提供更丰富健康的文化,提高人们的文化素养  
 ③更充分满足人们文化传递、沟通、共享的需要 ④使人们获得一定专业知识,得到技能上的提高  
 A. ①③ B. ①④ C. ②③ D. ②④
22. 礼、乐、射、御、书、数为春秋战国时期读书人必须学习的六种技艺,如今传统的“六艺”以新的形式在我国教育制度中得到体现。这说明  
 ①中华优秀传统文化博大精深,具有民族性  
 ②传统文化是维系民族生存的精神纽带  
 ③中华文化一脉相承,具有相对稳定性  
 ④继承是前提,文化是在继承中发展的  
 A. ①② B. ①③ C. ②④ D. ③④
23. 习近平总书记在纪念中国人民志愿军抗美援朝出国作战70周年大会的讲话中指出,伟大抗美援朝精神跨越时空、历久弥新,必须永续传承、世代发扬。永续传承伟大的抗美援朝精神  
 ①有利于凝聚起全国人民团结奋斗实现共同理想的力量  
 ②表明中国共产党为中华民族精神增添新的时代内容  
 ③表明激昂的革命文化是中华优秀传统文化的凝聚升华  
 ④能在新时代条件下促进人们践行社会主义核心价值观  
 A. ①③ B. ②④ C. ①④ D. ②③
24. 周天子本身就是姬姓家族的大宗,又通过“同姓不婚”“娶于异姓”的联姻原则,成为有甥舅关系的异姓宗族的共主。这表明西周  
 A. 血缘宗法的政治结构形成 B. 通过政治联姻来巩固分封制  
 C. 确立了君权神授的新理论 D. 形成了中央集权的政治体制
25. 西汉昭帝召开了著名的“盐铁会议”,会议之后政府废止了对酒业的垄断,改以适当的税收形式,而不是经营一般性商业的形式,部分取消了盐铁专卖制度。这些举措  
 A. 改变了传统的重农抑商政策 B. 有助于民间工商业的发展  
 C. 助长了社会上奢侈享乐之风 D. 削弱了政府对经济的控制
26. 王维被认为是文人画的鼻祖,而苏轼提倡的“墨戏”“墨趣”“书趣”“士人画”,则被认为是文人画的滥觞。到了北宋末期,米芾、米友仁父子的横点山水画被视作文人画山水最早的典型。由此可以推知  
 A. 文人画流派应起源于宋代 B. 唐宋士人以绘画为趣味追求  
 C. 米芾是真正的文人画始祖 D. 山水、书法与文人画相关联
27. 宋代诗人董嗣杲在《蔷薇水》(蔷薇水,一种香水)中写道:“海外有瓶还贮水,亭前无洞可藏花。”宋代诗人杨万里也有诗曰:“海外蔷薇水,中州未得方。”这两首宋诗  
 A. 反映了市场制度的废除 B. 体现了对外贸易的发展  
 C. 反映了城市夜市的繁荣 D. 表现了市民阶层的壮大
28. 近代某不平等条约规定:“将粤东九龙司地方一区,……将该地界付与大英大君主并历后嗣,并归英属香港界内,以期该港埠面管辖所及庶保无事。”条约表明  
 A. 中国社会半殖民化程度加深 B. 英国资本输出范围得以扩大  
 C. 中国领土主权开始遭到破坏 D. 近代列强瓜分中国狂潮加剧
29. 据《慈利县志》记载,民国初期,湖南省慈利县这个小城“文武礼服,冠用毡也,履用革也,短服用呢也,完全欧式”。这一记载反映了  
 A. 辛亥革命的影响不断深化 B. 社会习俗变革的全面性  
 C. 内地社会生活受西方影响 D. 机器工业产品的普及性
30. 1940年7月国民党五届七中全会期间,中央委员王漱芳、曾扩情等21人联名提交“严防官僚资本主义之发展,以免影响民生主义”的提案。这表明  
 A. 国民政府严格限制官僚资本主义发展 B. 官僚资本主义垄断经济影响了社会稳定  
 C. 四大家族的统治遭到国民党一致抵制 D. 抗战时期民族矛盾影响了国民政府决策

【文综(第4页)】

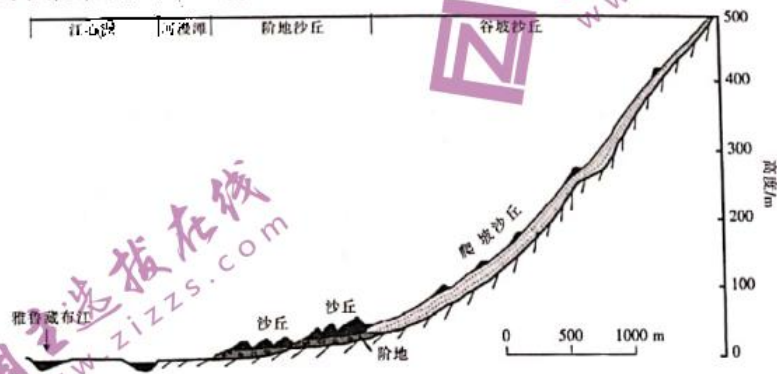


31. 长沙的国家粮食市场于1958年2月关闭,1962年8月逐步恢复,1963年7月暂停开放,1964年1月再度开放,“文化大革命”后又相继关闭。成都的国家粮食市场在1957年关闭后,也曾于1962年、1963年和1965年一度开放,“文化大革命”期间彻底关闭。据此可知
- A. 农业经济在这一时期占主导地位  
B. 政府在计划与市场关系方面的曲折探索  
C. 国家在固定的时间开放粮食市场  
D. 市场在计划经济时代促进了农业的进步
32. 在伯利克里改革时期,规定给担负雅典城邦公职的人发放公职津贴,给前往剧场观看戏剧的公民发放观剧津贴。这些措施得到民众支持,但被历史学家诟病。其主要原因是
- A. 加重了政府财政负担  
B. 损害了公民参政权  
C. 剥夺了公民经济自由  
D. 违背了自由的精神
33. 18世纪中期之前,英国的土地制度为中世纪形成的敞田制,当时土地的肥沃、远近、干渴程度都不尽相同,为了公平分配,人们的土地也是东一块、西一块、大一块、小一块。后来人们相互协商或买卖,使自己的土地集中到一起。英国土地制度的变革
- A. 影响了圈地运动的扩大  
B. 为开展工业革命创造了条件  
C. 有利于土地贵族的壮大  
D. 促进了农业垄断局面的形成
34. 《意大利遗事》是一部法国短篇小说集。故事内容或是社会地位悬殊的青年男女的爱情悲剧,或是宫廷贵族之间因男女私情而引发的阴谋与仇杀。小说中的人物都具有强烈的感情冲动,压倒一切的情欲与由此产生的暴烈行动,用来对照十九世纪法国社会中利益关系窒息了人身上的自然感情。这一文学流派
- A. 想象丰富,感情真挚  
B. 庄严肃穆,崇尚理性  
C. 描绘现实,注重细节  
D. 虚实结合,内容荒诞
35. 1957年1月28日,赫鲁晓夫向苏共中央主席团提交了《关于完善工业和建筑业的管理体制的几点意见》,建议将工业和建筑业的部门管理改组为地方国民经济委员管理,即把部门管理改为地区管理。赫鲁晓夫的这一提案
- A. 一定程度上扩大了企业的自主权  
B. 试图去改变苏联经济管理体制  
C. 有利于苏联实现社会主义工业化  
D. 加剧了美苏两国军事政治对峙

二、非选择题:共160分。

36. 阅读图文材料,完成下列要求。(20分)

雅鲁藏布江地处青藏高原南部,河床平均海拔接近4000m。雅鲁藏布江河谷宽窄相间,宽谷段沙丘广布,而在宽谷之间较短的局部峡谷地段,由于狭管效应风速较大。雅鲁藏布江流域属干旱半干旱气候向半湿润气候的过渡区,年均降水量为252~580mm,主要集中在5~9月,年潜在蒸发量为2293~2734mm。年平均风速1.6~3.3m/s,大风主要集中于冬春两季(12月至次年5月)。下图为雅鲁藏布江河谷某断面单侧地貌图。



- (1) 请从流速和流量变化角度,描述雅鲁藏布江的水文特征。(4分)
- (2) 分别指出雅鲁藏布江谷地河漫滩与沙丘形成的外力作用。(4分)
- (3) 说明雅鲁藏布江谷地沙丘多集中在宽谷地段的原因。(6分)
- (4) 冬季是一年中沙丘增长最快的季节,分析其原因。(6分)

【文综(第5页)】



37. 阅读图文材料,完成下列要求。(16分)


锂被称为“工业味精”,在电池、玻璃、陶瓷、润滑剂、冶金、航空航天、聚合物、核工业等领域应用广泛。南美“锂三角”(玻利维亚、智利、阿根廷三国交界处的普纳高原地区)盐湖中的锂资源开发在资源品质、生产成本、吸引外资能力等方面在世界上具有明显的竞争优势,已形成了较为完整的锂产业链,但同时存在矿业政策不利于外资投资、投产周期长和伴生硼、钾资源综合利用水平低等问题。“锂三角”是中国进口碳酸锂的最大供应基地,2018年从该地区进口的碳酸锂占中国碳酸锂全球进口总量的97%。未来,南美“锂三角”有望成为全球最大的碳酸锂供应基地。下图示意南美锂盐湖地理分布。



- (1)说出一轮船从智利沿海港口运输锂产品到日本东部沿海某港口,为节省燃料所经过的主要洋流名称。(3分)
- (2)评价智利大量出口锂产品的交通运输条件。(6分)
- (3)指出我国企业与南美“锂三角”锂资源加工企业最有可能的合作领域,并简述理由。(7分)

38. 阅读图文材料,完成下列要求。(20分)

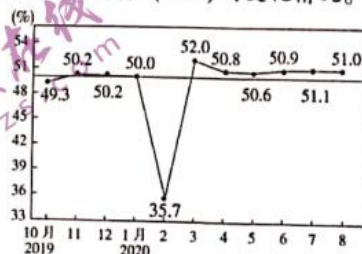
蒙自市位于云南省东南部,属于亚热带季风气候区,干湿季节明显,降雨集中在7~10月,石灰岩广布,石沟石缝多,成土过程慢,土壤渗透性较差。甲地位于蒙自市境内的断陷盆地,沉积厚度大。下图为甲地垂直剖面上土壤体积含水量(SWC)在一整年不同深度(Z)的变化图(时间从元月1日起算)。



- (1)据图判断甲地冬、夏季土壤表层含水量的差异,并说明原因。(4分)
- (2)甲地夏季土壤深层含水量较大,分析其原因。(6分)
- (3)推测蒙自市地表干旱缺水的主要原因。(4分)
- (4)评价蒙自市发展种植业的自然条件。(6分)

39. 阅读材料,完成下列要求。(14分)

2020年以来,我国金融支持经济发展的作用得到更充分的发挥。材料一 下图反映了中国制造业采购经理指数(PMI)的变化情况。



注:采购经理指数(PMI)是国际上通用的监测宏观经济走势的先行性指数之一,以50%作为经济强弱的分界点,高于50%意味着经济向好。

【文综(第6页)】



材料二 据统计,2020年前8个月,我国银行业各项贷款增加15.2万亿元,同比多增3万亿元,信贷资金重点投向制造业、基础设施、科技创新等领域。其中,制造业贷款增加1.8万亿元,增量较过去4年总和还多1092亿元。

截至2020年8月末,我国小微企业贷款余额30.8万亿元,是2017年末的1.26倍;支持小微经营主体3062万户,是2018年末的1.43倍。

(1)解读材料一包含的经济信息。(4分)

(2)结合材料并运用经济知识,说明信贷变化对我国经济发展产生的积极影响。(10分)

40. 阅读材料,完成下列要求。(12分)

2020年8月初,江西南昌青山湖高新技术产业园区京川村旧城改造顺利推进,拆迁总面积达14万平方米,236户被征迁户签约率达100%。这一改造项目顺利推进,得益于青山湖区派驻村纪检监察联络员,既充当“宣传员”又充当“监督员”,打造家门口的“监督哨”,实现城市发展和群众利益“双赢”。

据了解,在征迁安置过程中,青山湖区派驻村纪检监察联络员,监督村委会通过听证会、群众座谈会、入户调查等形式,广泛听取被征迁户意见,解除群众疑虑;坚持阳光征迁,在签约现场设置公示栏,将公告、许可证、征迁范围、征迁期限等集中公示,接受群众监督;强化征迁补偿安置资金监管,明确建设资金申报、拨付、使用、监管流程,并由财政等部门实施全程检查。

结合材料和政治生活知识,分析青山湖区旧城改造为什么能顺利推进。(12分)

41. 阅读材料,完成下列要求。(26分)

大运河是中国古代创造的一项伟大工程,是流动的、活着的世界级人类文化遗产,生动记录着国脉与文脉的世代赓续,承载着中华民族的悠久历史与文明。

大运河绵延3200余公里,纵贯2500多年,融汇了京津、燕赵、齐鲁、中原、淮扬、吴越等地域文化,孕育了漕运文化、水利文化、商事文化、民俗文化等文化形态,是我国文化和旅游资源高度聚集的地区。

为了强化大运河文化和旅游融合发展的顶层设计,加快将大运河打造为“继古开今的璀璨文化带”和“享誉中外的缤纷旅游带”,文化和旅游部、国家发改委联合发布了《大运河文化和旅游融合发展规划》(简称《规划》)。《规划》的出台为大运河文旅融合发展提质增效带来了新契机,也为沿线各省市进一步推动文旅融合纵深发展指明了新方向。

(1)《规划》的出台有利于推动文旅融合发展,运用经济知识加以说明。(10分)

(2)结合材料并运用文化生活知识,说明《规划》的出台所具有的文化意义。(12分)

(3)就大运河沿线各省市如何保护好本地的大运河文化提出两条建议。(4分)

42. 阅读材料,完成下列要求。(25分)

材料一 18世纪,伴随着自然科学的突破性进展,启蒙哲学家转而从具体的经验和个别的事实入手,用分析的方法,重构人类的知识图景。理性不再是上帝的赐予,而是植根于人自身的一种禀赋和能力,人类不必依靠上帝的指引,完全通过自己的理性,就可以认识和把握这个世界,进而改变世界,建立新的世界秩序。这可以说是启蒙运动最核心的诉求。

——摘编自[英]约翰·罗伯逊《启蒙运动的再思考》《世界史》

材料二 “启蒙”一词古已有之,通常指幼童发蒙,晚清以降,又衍生出开启民智的近代内涵。晚清知识分子借助白话报纸等媒介,向民众灌输新知,形成一股面向下层的启蒙运动……现在通行的“启蒙”概念应当是清末从日本输入的。五四时期,《建设》《改造》《少年中国》等杂志上有零星的对欧洲启蒙运动的介绍,但“启蒙”一词远未通行,更不可能成为当时人对新文化运动的界定。北伐之后,现代意义上的“启蒙”概念才开始较为广泛地使用。

——摘编自陈建守《近代中国“启蒙运动”的翻译、书写及挪用》

(1)根据材料一并结合所学知识,概括启蒙运动的主要诉求,并简析这些诉求产生的背景。(12分)

(2)根据材料二,归纳中国“启蒙”概念演变的进程。(6分)

(3)根据以上材料并结合所学知识,谈谈与欧洲启蒙运动相比,中国近代启蒙运动的主要不同。(7分)

【文综(第7页)】



43. 阅读材料,完成下列要求。(12分)

材料

评价者	主要观点	材料来源
清朝人	检索《四库全书》康、雍、乾三朝的几种官书所使用的“盛世”一语,如《万寿盛典初集》(康熙五十六年)出现73次、《世宗宪皇帝殊批谕旨》(乾隆三年)出现52次、《钦定千叟宴诗》(乾隆五十年)出现39次、《八旬万寿盛典》(乾隆五十七年)出现62次。而其语意也十分雷同,无非“恭逢盛世”“盛世丰年”“太平盛世”等熟烂套语。三朝君臣对于“盛世”一语之偏爱,由此可见一斑。可以说,从康熙晚年开始,以“盛世”颂颂本朝已经成为风气。	李华川:《“康乾盛世”说渊源考》
戴逸	康雍乾盛世是中国历史上发展程度最高、最兴旺繁荣的盛世。康雍乾盛世成就卓著,但是其中也潜伏着对中国发展不利的因素,盛世的阴影很多:闭关锁国,重农抑商,禁锢思想,轻视科学。	刘向荣:《清史专家戴逸评价康乾盛世》
易中天	所谓“康雍乾盛世”,不过是帝国制度彻底毁灭前的回光返照,论气度,论胸襟,论精神,均不能与“汉唐气象”相提并论。	易中天:《帝国的终结》

结合所学知识,就康乾盛世的评价,拟定一个论题,并予以阐述。(要求:论题明确,持论有据,论证充分,表达清晰)

44. 阅读材料,完成下列要求。(15分)

材料一 深圳被称为“中国硅谷”。1980年5月,中共中央和国务院正式将深圳定位为经济特区。同年8月,全国人大常委会批准设立深圳经济特区。二十世纪八十年代初,深圳蛇口首先喊出了“时间就是金钱,效率就是生命”的口号。1987年,《深圳市人民政府关于鼓励科技人员兴办民间科技企业的暂行规定》正式颁布,催生了华为等一批高科技民营企业的诞生。1990年,深圳率先在全国提出了“开拓、创新、团结、奉献”的城市精神。2001年12月中国正式加入世界贸易组织。2002年,深圳开展关于“城市精神如何与时俱进”的全城大讨论,深圳的城市精神再次概括为“开拓创新、诚信守法、务实高效、团结奉献”。

——摘编自张一兵《深圳通史》

材料二 1976—2010年的美国硅谷。

时间	重要事件
1976年	乔布斯创办苹果电脑公司
1977年	甲骨文成立
1983年	第一台便携式电脑问世
1984年	思科公司成立,这是硅谷发展的一个黄金时期
1991年	万维网在互联网上首次出现,硅谷进入互联网时代
1993年	万维网第一款浏览器Mosaic推出
1998年	eBay在硅谷成立,谷歌成立
2001年	维基百科成立
2003—2006年	特斯拉,Facebook, Twitter等先后成立
2007年	苹果公司的第一款iPhone问世,硅谷进入移动互联时代
2010年	iPad问世,同年,智能手机年增长55%,全球销售2.6亿部

——根据[德]克里斯托弗·克斯《创新生态密码:硅谷进化史》编制

- (1) 根据材料一并结合所学知识,分析中国决定建立深圳经济特区的现实条件。(8分)
- (2) 根据材料一、二并结合所学知识,概括深圳与美国硅谷迅速发展的共同特点。(7分)





## 2020—2021 学年高三总复习阶段性检测考试 地理答案及评分细则

### 1.【答案】B

【解析】木质结构以木材为原料,需要采伐林木,不利于生态保护,A项错误;与占地面积无关,C项错误;南岭地区气温较高,防寒功能不重要,且木屋防寒功能不强,D项错误;南岭森林资源丰富,有利于就地取材。

### 2.【答案】D

【解析】由材料可知,该地位于我国南岭一带,降水较多,将粮食主要集中储藏在房屋二层以上,不易腐蚀,更加安全。下层作为生活空间,便于起居。

### 3.【答案】A

【解析】“倒金字塔”式上宽下窄,通过房屋梁架的不断挑出,对下层的房屋起到有效挡雨作用,A项正确;而上宽下窄稳定性相对较差,不利于防震、防风、防洪。

### 4.【答案】C

【解析】甩挂运输也需要对挂车进行装卸,并不能降低货物的装卸成本,A项错误;甩挂运输货场要停放在较多挂车,占地面积大,B项错误;甩挂运输可以促进不同牵引车与挂车之间的协调合作,从而提升运输效率,故C项正确;甩挂运输,只是减少装卸等待,对车辆运行速度没有影响,D项错误。

### 5.【答案】B

【解析】若运距大到一定程度,由于装卸等待时间所占比重很小,使得甩挂运输的优势不明显,而且还会增加组织工作的复杂性,排除A、C两项;装卸难度小,采用甩挂运输带来的效益小,排除D项,B项正确。

### 6.【答案】A

【解析】澳大利亚西部南回归线附近热带沙漠气候广布,降水少,矿产资源丰富,故澳大利亚西部南回归线附近的甩挂运输多用于运输矿石。澳大利亚的小麦、牧羊集中在其南部,且矿石从矿产地运出,无需将大量小麦、羊毛运往矿产地。

### 7.【答案】A

【解析】乡村的医疗水平、养老制度和生活水平均低于城市,故排除B、C、D项;受“养儿防老,多子多福”与“传宗接代”等传统生育观念影响,乡村地区人口自然增长率较高。

### 8.【答案】B

【解析】由于该国国际人口迁移极少,故该国人口迁移主要表现为城市与乡村之间的国内人口迁移。根据图示可知该国乡村迁往城市人口数量远远大于从城市迁往乡村人口数量,乡村和城市的机械增长率的绝对值均接近5%,且乡村迁出人口即为城市迁入人口,故该国乡村人口数量与城市人口数量大致相当,城市人口所占比重约为50%。

地理[第1页]



## 2020—2021 学年高三总复习阶段性检测考试 历史答案及评分细则

24. 【答案】A

【解析】材料反映了西周政治统治中,以血缘宗法为核心形成统治结构,其目的是使周天子成为天下“共主”,巩固西周政治统治,故 A 项正确;材料未涉及分封制的内容,排除 B 项;虽然西周时期就已出现神权与王权相结合,但未形成君权神授的理论,至西汉董仲舒时期,这一理论才得以确立,排除 C 项;“中央集权的政治体制”初步形成于战国时期,确立于秦朝,D 项错误。

25. 【答案】B

【解析】西汉政府长期推行重农抑商政策,“贱商”政策、盐铁官营,有利于社会稳定和反击匈奴的战争,A 项不正确;官府不经营一般性的商业活动,客观上推动了民间手工业、商业的发展,故 B 项符合题意;政府废止了对酒业的垄断,并不意味着助长社会奢靡之风,而是为了发展社会经济,排除 C 项;虽然政府部分取消了盐铁专卖,但采用适当的税率收税的形式,并没有削弱政府对经济的控制力,排除 D 项。

26. 【答案】D

【解析】材料提供了文人画产生的两个时期——唐宋。虽然苏轼被认为是文人画的滥觞,但有王维是文人画鼻祖的观点,A 项不足为证,排除;唐宋士人不仅重视“士人画”,还重视“墨戏”,B 项的表述不全面,排除;从材料看,米芾是文人画山水的最早典型,排除 C 项;材料体现了文人画的主要特征,即“墨”“书”“画”等一体,故 D 项符合题意。

27. 【答案】B

【解析】题中材料的两首诗,反映了海外“蔷薇水”在市场上出现,反映了宋代对外贸易的发展,故 B 项正确;材料没有体现“市坊制度”的内容,也没有夜市繁荣的信息,不能体现市民阶层的状况,A、C、D 三项不符合题意。

28. 【答案】A

【解析】条约反映了英国割占“九龙司地方一区”的史实,可知是第二次鸦片战争后中英《北京条约》的内容,故 A 项正确;资本输出扩大是甲午战争之后签订《马关条约》的后果,排除 B 项;C 项错在“开始”的表述上,这是《南京条约》的影响;列强瓜分中国的狂潮出现在甲午中日战争之后,排除 D 项。

29. 【答案】C

【解析】材料反映出民国初期内地省份湖南的偏僻小县城的官服欧式化发展,反映了内地的社会生活受到西方文明的冲击,故 C 项符合题意;题中材料反映的是民国初年慈利县“文武”官员服饰的变化,排除 B、D 两项;辛亥革命缺乏广泛的群众基础,A 项“影响不断深化”的表述并不正确,排除。

30. 【答案】B

【解析】国民党部分中央委员提出限制官僚资本主义发展的提案,说明在抗战时期,官僚资本主义发展影响了民生和社会经济的稳定与发展,故答案为 B 项;国民政府是否限制官僚资本主义发展,材料没有体现,A 项错误;21 个国民党委员不能代表整个国民党,排除 C 项;材料没有国民政府决策的信息,D 项错误。

31. 【答案】B

【解析】材料核心信息是改革开放前计划经济主导时代中国粮食市场的开放、关闭的变化,这是国家在计划经济指导下对市场与计划关系的艰辛探索,故答案为 B 项;材料本身无法体现农业在经济结构中的比例,A 项错误;材料中两个城市国家粮食市场开放时间并不一致,排除 C 项;材料本身无法体现农业的进步与发展,D 项错误。

32. 【答案】D

【解析】伯利克里改革的举措,虽然在经济上保证公民对城邦政治的直接参与,但在一定程度上剥夺了公民处理个人私事的自由权利,违背了自由精神,故 D 项正确;A 项的表述与设问角度

历史[第 1 页]



9.【答案】B

【解析】据材料可知,甲地属于岛状多年冻土分布区,永冻层可能有,也可能没有,排除 A、C 两项;由于甲地年平均气温低于  $0^{\circ}\text{C}$ ,冬季寒冷,确定会形成活动层,排除 D 项,B 项正确。

10.【答案】C

【解析】森林削弱地表光照,使地温下降,对冻土层而言,能加快冬季冻结,减缓夏季融化,排除 A、D 两项;落叶松冬季落叶,对地层影响小,排除 B 项,C 项正确。

11.【答案】D

【解析】图中丙区域南部处于连续多年冻土范围内,其北部处于岛状多年冻土范围内,故其南部永冻层厚度较大,北部永冻层厚度较小。纬度较低的南部地势较北部高,才导致其南部的永冻层厚度较大。

36.【答案】(1)流速快;(2分)流量季节变化大。(2分)

(2)河漫滩:流水堆积;(2分)沙丘:风力堆积。(2分)

(3)峡谷风力大,风沙不易堆积;(2分)进入宽谷,风力下降;(2分)搬运能力下降,发生风力堆积。(2分)

(4)处于枯水期,沙源(河漫滩、江心洲)出露面积大;(2分)处于旱季(植被条件差),容易起沙;(2分)大风天气多。(2分)

37.【答案】(1)秘鲁寒流、南赤道暖流(或北赤道暖流)、日本暖流。(每点1分,3点3分)

(2)有利条件:海岸线漫长,多优良港口,利于发展海运,便于锂产品出口;智利的 Atacama 盐湖距离海港近,便于盐湖中的锂资源加工后外运。(每点2分,2点4分)

不利条件:盐湖中的锂资源处于山区,地形复杂,增加了运输成本。(2分)

(3)合作领域:锂资源勘探开发;锂资源精炼;锂产品加工;伴生硼、钾资源综合利用。(每点1分,任答其中三点即可,共3分)

理由:我国在锂资源勘探开发、锂资源精炼等方面技术水平较高;我国对“锂三角”的碳酸锂进口依赖性大,与之加强合作可缓解锂资源短缺;我国企业可为其提供技术和资金上的支持,提高伴生硼、钾资源综合利用水平。(每点2分,任答其中两点即可,共4分)

38.【答案】(1)差异:夏季大于冬季。(2分)原因:夏季降水多。(2分)

(2)夏季降水丰富,(2分)植被茂盛,(2分)有利于水体下渗。(2分)

(3)气温高,蒸发旺盛;土壤渗透性较差,土壤中水分含量较少;石沟石缝多,地表水容易渗漏。(每点2分,任答其中两点即可,共4分)

(4)有利条件:地势较高,昼夜温差大;季风气候,雨热同期。(每点2分,2点4分)

不利条件:成土过程慢,土壤肥力差;降水集中,水土流失严重;石灰岩地貌,地表水容易渗漏。(每点2分,任答其中一点即可,共2分)



无关,排除;城邦鼓励公民参与公共活动,B项错误;材料不涉及经济自由,排除C项。

33.【答案】B

【解析】英国小土地所有制的存在,不利于资本主义大农场的发展,人们通过协商或买卖实现土地规模化经营,有助于农业新技术,新设备的使用,提高农业商品化,为工业革命提供原料,也提供机械制造的市场,解放农业生产力,故B项正确;土地制度变化与圈地运动的规模关系不大,A项错误;人们把自己的土地集中到一起,与土地贵族的壮大无关,排除C项;农业垄断形成于第二次工业革命之后,排除D项。

34.【答案】C

【解析】从题中材料反映的内容看,《意大利遗事》是典型的批判现实主义文学。A项是浪漫主义文学特点,B项是古典主义文学特点,C项是批判现实主义文学特点,D项是现代主义文学特点。故选C项。

35.【答案】B

【解析】从材料看,《意见》扩大了苏联地区的管理权,而不是企业的自主权,排除A项;这一做法触及了斯大林模式,故B项正确;苏联工业化在斯大林时期就已经实现,排除C项;D项与题中材料的信息无关,排除。

42.【答案】(1)诉求:崇尚理性;反对宗教神学;反封建专制制度;改造世界,提出未来社会的蓝图。(任答3点即可,6分)

背景:自然科学的突破;启蒙哲学家的研究;文艺复兴和宗教改革运动的发展;资本主义工场手工业的发展;资产阶级力量壮大;西欧中央集权民族国家的发展。(每点2分,任答3点即可,6分)

(2)进程:古代指“幼童发蒙”(儿童学习启蒙);晚清以来为“开启民智”,传播新知;北伐后,现代“启蒙”概念广泛使用。(6分)

(3)不同:产生于半殖民地半封建社会(或答:殖民侵略,民族危机严重,晚清才出现);(3分)受西学传播影响,由日本输入;(2分)真正意义的启蒙,开始时间晚。(2分)

【评分说明:第(1)、(2)题答案,必须源于材料。第(3)题,学生在答题时,只要言之有理,论之有据,即同等评分。】

43.【答案】示例一:清朝人的自信与自负。(3分)

阐述:清朝人自评为自己生活的那个时代为“康乾盛世”,有一定自信;这种自信源于以区区几百万人的满族占据中原后经过康雍乾三朝,不仅接过明朝正统政权的接力棒,牢牢稳固了在中原地区的统治,而且还通过一系列措施,建立了与前朝相比有过之而无不及的人口众多地域辽阔的大清帝国。(4分)自负体现在坚持天朝上国的观念,坚持闭关锁国政策;同时对清朝的谀颂,体现了专制制度下知识分子避祸自保的心态。(4分)

所以清朝人的自我评价反映了清代社会的多角度现状。(1分)

示例二:康乾盛世是落日前的辉煌。(3分)

阐述:康乾盛世文治武功奠定了统一多民族国家的版图基础,传统经济继续发展,人口数量大增,传统文化的总结影响深远。(3分)

康乾盛世不能与历史上汉唐时期蒸蒸日上的盛世相比,康乾盛世走向了没落;君主专制达到顶峰,吏治走向腐败;传统经济和经济政策阻碍资本主义萌芽发展;闭关锁国政策导致中国与开始走向近代化的世界脱轨;传统文化和科技整体上走向了保守。(5分)

所以康乾盛世是回光返照,落日前的辉煌。(1分)

44.【答案】(1)条件:改革开放的推动;第三次科技革命的机遇;地近港澳台,是著名侨乡,便于招商引资;经济全球化,与世界接轨。(8分)

(2)特点:抓住机遇,与时俱进,注重创新和效率;以发展高科技为核心;民营企业带动;引领经济发展潮流;政府大力支持。(答出3点即可,7分)

【评分说明:学生在答题时,只要言之有理,论之有据,即同等评分。但学生各小题得分,不得超过各小题赋分值。】



## 2020—2021 学年高三总复习阶段性检测考试 政治答案及评分细则

### 12. 【答案】A

【解析】降低药价,患者负担会下降,A项正确。药价连续下降,会促使企业优胜劣汰,B项排除。降低药品价格,不利于药品供给增加,C项排除。题干强调国家通过“以量换价”、降低成本来降低药价,不必然减少中标药企的利润,D项不符合题意。

### 13. 【答案】B

【解析】题干只强调企业在创新中的地位,不反映多种所有制经济关系问题,①不符合题意。企业是市场经济活动的主要参加者,因此要强化企业创新主体地位,②正确。题干是从国家促进创新角度强调企业的主体地位,提高自主创新能力不是企业对国家承担的责任,而是企业内在要求,③不符合题意。企业是最主要的市场主体,能及时适应市场变化,强调创新要素向企业集聚,是市场决定资源配置原理的体现,④正确。

### 14. 【答案】B

【解析】初次分配政策的完善,不体现调节过高收入,①不符合题意。提高劳动报酬比重,健全工资合理增长机制,能够缩小收入差距,从而推动共同富裕,②正确。上述具体政策能让人民共享发展成果,理顺了分配关系,从而推动共同富裕,③正确。题干是强调劳动报酬合理增长与共同富裕的关系,不反映维护劳动者尊严,④排除。

### 15. 【答案】C

【解析】题干不反映财政的作用,①不符合题意。国家出台规划,从多方面促进新能源汽车产业发展,体现了国家坚持协调发展理念,加强宏观调控,能增强发展的整体性,②正确。上述规划强调核心技术和产业链现代化、优化产业结构,有利于增强我国新能源汽车产业的国际竞争力,③正确。题干不反映发展的平衡性问题,也不涉及满足人民的需要,④不符合题意。

### 16. 【答案】C

【解析】我国为技术要素跨境自由流动创造良好环境,是坚持开放的体现,体现了我国坚持开放发展理念,①正确。题干只反映我国促进技术要素自由流动,不反映贸易新业态新形式,②不符合题意。促进要素自由流动,符合经济全球化发展的要求,说明我国顺应了经济全球化新形势,推动建设开放型世界经济,③正确。题干强调要素自由流动,不反映服务业新业态,④不符合题意。

### 17. 【答案】D

【解析】题干反映社区为民服务,不反映群众在基层民主建设中的主体作用,①不符合题意。苏州工业园区借鉴新加坡公共管理经验,推进社区建设取得成绩,是对我国基层民主建设的可贵探索,②正确。满足各方面愿望和要求的说法不成立,③排除。社区治理是社会治理的“最后一公里”,苏州工业园区的努力有利于打通社会治理的“最后一公里”,④正确。

### 18. 【答案】A

【解析】漫画反映了政府部门通过互联网听取群众诉求、建议,表明政府拓宽渠道倾听群众呼声,畅通了民主互动的渠道,①②正确。漫画反映的不是文化建设,而是听取群众的意见,③不符合题意。漫画反映政府听取群众意见,不反映权力运行的协调,④不符合题意。

### 19. 【答案】B

【解析】题干反映党就未来发展作决策,不反映党的领导地位,也不反映维护党中央权威和集中统一领导,①③不符合题意。综合国内外各方面因素为我国未来发展作出规划,体现了党总揽全局,②正确。综合考虑多方面因素而决策,体现了党坚持科学执政,按照客观规律办事,④正确。

### 20. 【答案】B

【解析】当今世界各国之间交往日益频繁,相互依存日益紧密,世界各国的前途命运紧密联系在一起,因此面对错综复杂的国际安全挑战,独善其身不行,迷信武力更不行,①正确。不能从一



个国家的身上来判断观点是否正确,②排除。题干强调各国共同应对安全挑战,不反映一个国家如何处理本国利益与外国合理关切的关系,③不符合题意。合作才能实现各国共同利益,而张军代表所说的集体安全,就是强调合作,④正确。

21.【答案】A

【解析】材料中各种科技成果,能为人们的文化生活提供先进物质载体,丰富人们的文化生活,①正确。题干反映的是文化传播工具的技术进步,不直接涉及传播的文化内容的性质,②④排除。依托现代信息技术,大众传媒日益显示出文化传递、沟通、共享的强大功能,题干反映了大众传媒的发展,能更充分满足人们文化传递、沟通、共享的需要,③正确。

22.【答案】D

【解析】题干是强调文化的继承性,反映文化在继承中发展,并不反映我国传统文化本身的情况,①不符合题意,③④正确。题干反映文化的继承,不反映传统文化的精神纽带作用,②不符合题意。

23.【答案】C

【解析】抗美援朝精神是民族精神的组成部分,民族精神具有凝聚人心的作用,①正确。题干强调要继续抗美援朝精神,不反映中国共产党为中华民族精神增添新内容,②不符合题意。题干是强调要传承抗美援朝精神,不反映革命文化与中华优秀传统文化之间的关系,③不符合题意。通过传承抗美援朝精神,可以使人们进一步践行社会主义核心价值观,④正确。

39.【答案】(1)(2019年10月以来)我国经济(基本面)总体上保持向好趋势;受疫情影响,2020年初经济受到较大影响,但3月以后迅速恢复并保持稳中向好的趋势。(4分)

(2)①保证企业特别是小微企业资金需要,促进企业发展,化解疫情的不利影响。(2分)②发挥创新引领作用,优化经济结构,巩固经济发展的基础,推进高质量发展。(3分)③促进多种所有制经济共同发展,充分发挥非公有制经济对我国经济发展的促进作用。(2分)④发展制造业等实体经济,增强我国经济的立身之本,支撑我国经济稳定发展。(3分)(各要点中,画线部分内容为主要采分点,给3分的要点,画线部分给2分,其他给1分。从提高我国经济竞争力、保持宏观经济稳定、促进复工复产、稳定和扩大就业、“六稳”“六保”、促进消费和投资、扩大内需、增加社会总需求,拉动经济增长等角度回答,言之成理,也可给分,但注意不能与前述要点重复给分,总分不能超过10分)

40.【答案】①坚持制度创新,实行驻村纪检监察联络员制度,用制度保证旧城改造项目的顺利推进。(3分)②坚持对人民负责的原则,求真务实,坚持从群众中来到群众中去的工作方法,得到群众的支持。(3分)③驻村纪检监察联络员监督村委会工作,保证村委会发挥积极作用,推进旧城改造。(3分)④保证群众监督权,强化征迁补偿安置资金管理,保证了群众的正当权益。(3分)(各要点中,画线部分内容为主要采分点,给2分,其他给1分。从共享发展角度或从其他角度回答,言之成理,也可给分)

41.【答案】(1)①发挥科学宏观调控的作用,集中力量办大事,推动文旅融合发展。(3分)②有利于建立统一开放、竞争有序的文旅文化市场体系,规范市场秩序,推动文旅融合健康、高效发展。(4分)③促进协调发展,建设现代化经济体系,增强文旅融合发展的整体性。(3分)(各要点中,画线部分内容为主要采分点,给2分,其他给1或2分。从共享发展角度或从其他角度回答,言之成理,也可给分)

(2)①保护人类共同的文化遗产,促进世界文化的繁荣。(3分)②传承中华优秀传统文化,促进中华文化的繁荣发展。(3分)③促进不同区域文化融合发展,增强各族人民对中华文化的认同感和归属感,提高中华民族的凝聚力。(3分)④满足人们文旅文化生活需要,提高人民的文化生活水平。(3分)(各要点中,画线部分内容为主要采分点,给2分,其他给1分。如下回答,也可给分:坚持中国特色社会主义文化发展道路,建设社会主义文化强国;发展文化产业,促进经济发展;增强文化软实力,扩大中华文化国际影响力。其他回答,言之成理,也可给分)

(3)整理不同文化形态,推动大运河文化的传承;加强文化创新,通过不同形式促进大运河文化的保护;坚定执行国家的规划,落实具体要求;把文化保护寓于水利、商事、民俗活动中,通过经济发展保护大运河文化。(回答任意两点得4分。其他建议,有利于大运河文化保护的,都可给分)

## 关于我们

自主选拔在线是致力于提供新高考生涯规划、强基计划、综合评价、三位一体、学科竞赛等政策资讯的升学服务平台。总部坐落于北京，旗下拥有网站（<http://www.zizzs.com/>）和微信公众平台等媒体矩阵，用户群体涵盖全国90%以上的重点中学师生及家长，在全国新高考、自主选拔领域首屈一指。

如需第一时间获取相关资讯及备考指南，请关注**自主选拔在线**官方微信号：**zizzsw**。



关注后获取更多资料：

回复“答题模板”，即可获取《高中九科试卷的解题技巧和答题模版》

回复“必背知识点”，即可获取《高考考前必背知识点》