

中学生标准学术能力诊断性测试 2021 年 10 月测试

文科综合试卷

本试卷共 300 分，考试时间 150 分钟。

一、选择题：本题共 35 小题，每小题 4 分，共 140 分。在每小题给出的四个选项中，只有一项是符合题目要求的。

2021 年 3 月 16 日，中国服装科创研究院在杭州市余杭区临平新城“艺尚小镇”（浙江省首批特色小镇，主攻以服装为主的时尚产业）举行揭牌仪式。同时，该院与东华大学、浙江理工大学、北京服装学院等十所高校和科研机构签订合作协议，力争在 2025 年前建成少人或无人智能制造产线车间试点，并以优秀服装企业为载体，抱团取暖，智慧分享，全面实现服装产业的数字化转型。据此完成 1~3 题。

1. 中国服装科创研究院落户“艺尚小镇”的主要因素是
A. 研发技术
B. 政策支持
C. 产业基础
D. 市场广阔
2. 中国大力推进服装智造的主要目的是
A. 推进产业升级
B. 开拓国际市场
C. 提升技术协作
D. 促进产业集聚
3. 服装智造的普及对未来服装产业的影响是
A. 提高生产成本
B. 满足个性化需求
C. 扩大生产规模
D. 提高产品质量

荚状云，自然界中一种罕见的云层，中间厚、边缘薄，经常在湿润空气经过山脉上空时出现。气流翻越山脉后，若前方还是一马平川的开阔地，大气的波动形状还可以长久保留，荚状云便能继续飘向远处。图 1 为某摄影爱好者拍到的荚状云照片，据此完成 4~5 题。



图 1

4. 荚状云形成过程中气流运动的特点是
A. 上升气流显著
B. 下沉气流显著
C. 下部上升，上部下降
D. 上部稳定，下部上升
5. 最有可能见到荚状云的城市是
A. 北京
B. 海口
C. 上海
D. 南京

某日上午，我国某地校园传来朗朗的读书声：“日初出沧沧凉凉，及其日中如探汤。”此时，正在上课的王老师看到明媚的阳光洒在靠窗一列的学生侧脸上。图2为该校的校园平面简图。据此回答6~8题。



图2

6. 王老师所在班级和讲台的方位是
 - A. ① 东
 - B. ② 西
 - C. ③ 东
 - D. ④ 西
7. 细心的小明发现，旗杆的影子总是在下午1时左右为一天中最短，该校可能位于
 - A. 松嫩平原
 - B. 四川盆地
 - C. 吐鲁番盆地
 - D. 长江中下游平原
8. 形成“日初出沧沧凉凉，及其日中如探汤”这一现象的原因是
 - A. 太阳直射点的季节性移动
 - B. 太阳距离地球的远近
 - C. 太阳辐射的季节性差异
 - D. 太阳高度角的日变化

娘子关泉是中国北方最大的岩溶泉。娘子关岩溶地下水以水量集中稳定、水质良好成为山西省阳泉市生活用水及与煤炭相关的能源化工企业生产供水的主要来源。近30年来，在气候变化、人类活动强度加大的背景下，娘子关泉水呈现出一系列岩溶水环境问题。图3为不同时期泉水月均流量与降雨量动态图，据此回答9~11题。

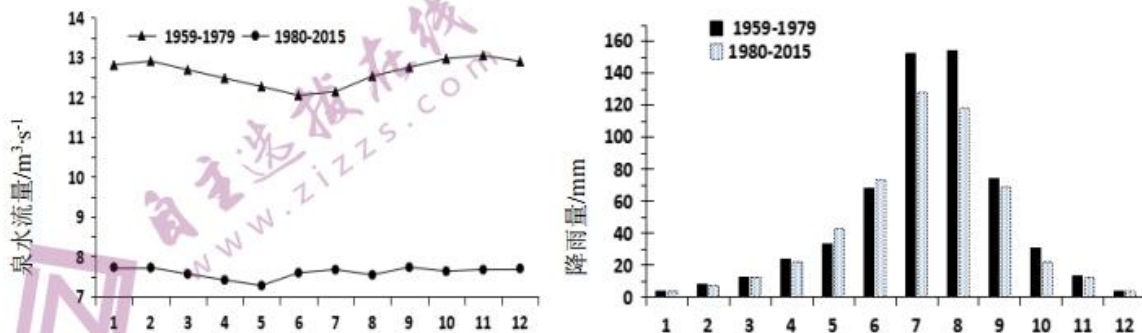


图3

9. 娘子关岩溶地下水最主要的补给来源是
- A. 降水
B. 河流
C. 高山冰雪融水
D. 水库
10. 据图分析, 娘子关泉水流量
- A. 1959—1979 年, 年内动态变化与降水量的变化大致趋同
B. 1959—1979 年, 泉水流量大致呈现出两个波峰
C. 1980—2015 年, 呈明显的衰减趋势
D. 1980—2015 年, 年内动态变化较大
11. 影响阳泉市岩溶地下水水位变动程度最小的是
- A. 城市化发展
B. 煤矿开采强度大
C. 人工开采量增加
D. 耕地面积扩大
12. 2021 年 7 月 23 日, 人民币对美元汇率中间价报 6.4767, 而 6 月 23 日中间价为 6.7321。假定近期人民币对美元仍保持这种变化趋势, 不考虑其他因素, 下列推导过程正确的是
- A. 人民币持续升值→降低中国进口美商品成本→丰富国内市场产品供给
B. 人民币持续贬值→增加中国商品对美吸引力→利于美国进口中国商品
C. 美元持续升值→增加中国企业偿还美债成本→加大中国企业债务风险
D. 美元持续贬值→降低中国公民赴美留学成本→利于出口优质教育服务
13. 网络直播带货, 作为一种新兴商业模式和互联网业态, 在促进就业、扩大内需、提振经济、脱贫攻坚等方面发挥了积极作用。许多政府官员、影视明星、企业家等纷纷走进直播间, 以“直播带货”为突破口带动更多消费。与传统电商相比, “直播带货”的优势在于
- ①借助网络平台, 降低营销成本
②利用名人效应, 扩大消费群体
③通过演示互动, 激发购买欲望
④减少交易环节, 弥补线下不足
- A. ①②
B. ①④
C. ②③
D. ③④
14. 图 4 为某企业 2019 年至 2020 年 9 月各月累计利润率与每百元营业收入中的成本指标变化情况。下列措施中可以助力企业延续图示中 2020 年以来变化总体趋势的是

17. 在全面建设社会主义现代化国家新征程上, 必须毫不动摇地坚持党对全面依法治国的集中统一领导, 确保全面依法治国的正确方向, 更好发挥法治固根本、稳预期、利长远的保障作用, 实现法治中国的宏伟蓝图。为了更好发挥党对全面依法治国的领导作用, 中国共产党应
- ①领导立法, 不断扩大党的立法权限 ②保证执法, 对行政权力进行制约监督
③支持司法, 积极领导参与司法活动 ④带头守法, 在宪法和法律范围内活动
- A. ①③ B. ①④
C. ②③ D. ②④
18. 作品被抄袭打官司维权值不值? 几秒钟的短视频受著作权保护吗? ……创作者们的这些顾虑, 2021年6月1日起实施的新著作权法作出了明确回应。修改后的著作权法完善了网络空间著作权保护的有关规定, 大幅提高侵权违法成本, 为创作者们维护自身合法权益提供了最新法律依据。材料表明
- ①广泛集中民智有助于提高立法的科学性和针对性
②我国法律以保障人民合法权益为出发点和落脚点
③全国人大常委会无权修改宪法以及其他基本法律
④良法内容应符合时代要求, 遵循社会发展的规律
- A. ①② B. ①③
C. ②④ D. ③④
19. 中华古诗词博大精深, 许多诗句蕴含着丰富的文化生活道理。对下列古诗词寓意解读正确的是
- ①少小离家老大回, 乡音无改鬓毛衰——文化对人具有深远持久的影响
②独在异乡为异客, 每逢佳节倍思亲——中华文化独树一帜、独领风骚
③寄意寒星荃不察, 我以我血荐轩辕——中华民族伟大的爱国主义精神
④文章合为时而著, 歌诗合为事而作——人民群众才是文化创造的主体
- A. ①② B. ①③
C. ②④ D. ③④
20. 2021年6月13日是我国第四个文化和自然遗产日。自加入《世界遗产公约》以来, 我国已成功申报世界遗产55项, 其中, 文化遗产37项、自然遗产14项、自然与文化双遗产4项。世界遗产总数、自然遗产和双遗产数量均居世界第一, 是近年全球世界遗产数量增长最快的国家之一。我国积极申报文化遗产
- ①体现我国日益提高的非物质文化遗产保护水平, 增强了文化自信
②有助于传承弘扬中华优秀传统文化, 彰显中华民族创新创造活力
③是民族文化的集中展示, 能够促进各国民心相通和文明交流互鉴

制度反映了

- A. 旧有统治秩序受到了挑战
- B. 诸侯争端有效解决
- C. 周王室与诸侯国地位平等
- D. 礼乐制度不复存在

25. 图 6 为唐太宗贞观十三年（639 年）和唐宪宗元和二年（807 年）的人口分布变化图（每点代表 5000 人），这一变化可以说明

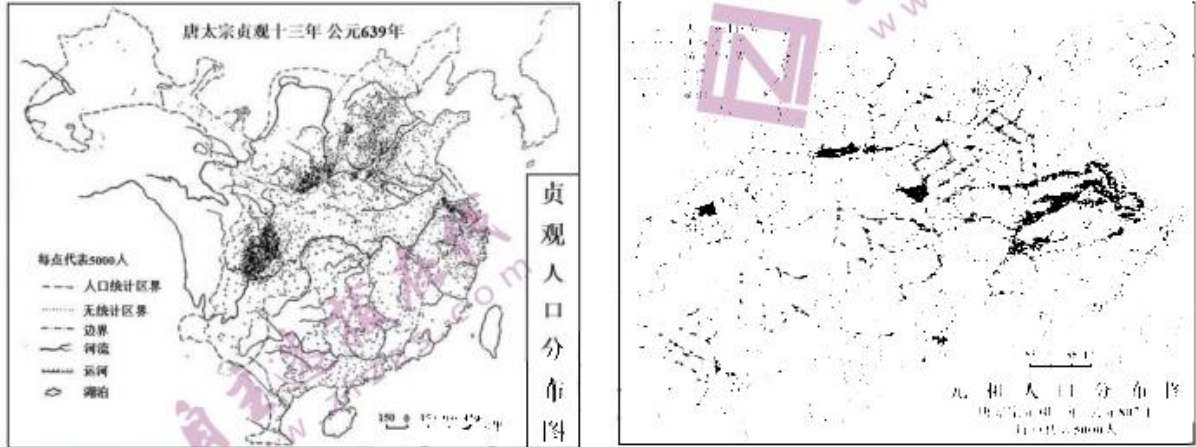


图 6

- A. 人地矛盾比较突出
- B. 自耕农经济较为盛行
- C. 南方经济影响上升
- D. 安史之乱后北方衰败

26. 17 世纪初，比利时传教士金尼阁等人募集大量装帧精美的书籍运往中国，史称“七千部西书入华”。这些书大部分被收藏在澳门，少部分运往中国内陆，其中部分书目被翻译成中文，这反映明清之际

作品	作者	主要内容
《建筑十书》	（古罗马）维特鲁威	建筑学的基本内涵和原理
《数学札记》	（荷兰）西蒙·施特芬	近代数学和工程学
《矿冶全书》	（德国）乔治·鲍尔	近代采矿、冶金技术及管理方法
《天体运行论》	（波兰）哥白尼	近代天文学

- A. 中学突破传统窠臼
- B. 西方科技得到了认可
- C. 实学思潮逐步兴起
- D. 东西方文化交流频繁

27. 传统观点认为，明清严格执行“闭关自守”或“闭关锁国”的政策；后有学者指出，从“海禁”、“一口通商”和其他限制性政策及政策效果来看，即使官方政策也不是长期的“闭关锁国”。据此可知，关于明清“闭关锁国”的认识

- A. 只能有一种观点正确合理
- B. 研究视角拓展而趋于理性
- C. 缺乏相关史料数据的支撑
- D. 受到阶级立场差异的影响

28. 据历年海关报告统计, 中国棉花出口由 1871 年至 1873 年的 8486 公担, 发展到 1891 年至 1893 年的 290417 公担。同时中国棉纺织业中以洋棉纱代替手工棉纱的现象日益普遍。由此可见
- A. 中国对外贸易逆差加大
B. 近代棉纺织业发展缓慢
C. 传统经济结构遭到破坏
D. 列强加快对华资本输出
29. 《农民协会章程》中指出: “目的在谋农民之自卫, 并实行改良农村组织, 增进农人生活。建立中央、省县到区、乡农民协会, 以宣传三民主义之农民政策, 从事于三民主义建设的工作”。这份文件最有可能发布于
- A. 1912 年的南京临时政府
B. 1915 年的北京军阀政府
C. 1924 年的广东革命政府
D. 1931 年的中华苏维埃共和国
30. 图 7 《一辈子第一回》是杨之光 1954 年创作的中国画。该作品反映了
- A. “双百方针”的创作精神
B. 人民群众的参政热情
C. 一五计划的顺利展开
D. 多党合作的政权特色
- 
- 图 7
31. 1959 年毛泽东在谈到当年经济任务时说: “工业任务、水利任务、粮食任务都要适当收缩。我们这一次唱个低调, 把脑筋压缩一下。”这一指示
- A. 调动了广大群众的生产热情
B. 意在开启经济体制改革序幕
C. 有效清除“左”倾错误影响
D. 意识到经济建设存在问题
32. 古希腊人信奉一句名言: 健全的精神寓于健康的身体。古希腊将具有健、力、美的躯体视为神的馈赠, 创造了很多裸体雕塑, 并将其作为追求和崇拜的目标。古希腊大量裸体雕塑
- A. 标志人类自我意识觉醒
B. 闪耀着人文思想的光辉
C. 深受宗教神学思想影响
D. 代表人类艺术创作巅峰
33. 19 世纪末, 美国各产业均出现了垄断组织, 托拉斯组织生产了美国工业制造品 2/3 以上的产品。时任美国总统西奥多·罗斯福 (1901-1908 在任) 认为政府应该更多地监督、控制和管理垄断组织。他力促国会通过《商务和劳工部法》、《埃尔金斯法》, 使政府有权过问企业内部事务。西奥多·罗斯福的反托拉斯政策
- A. 体现了国家干预经济的职能
B. 彻底摆脱了经济大萧条困境
C. 破坏了美国三权分立的体制
D. 放弃了自由放任的经济政策

34. 恩格斯指出“解决社会问题的办法还隐藏在不发达的社会生产中，因此新的社会制度，它愈是制定得详尽周密，就愈要陷入纯粹的幻想。”据此可知，社会主义由“空想”转为“科学”的根本条件是
- A. 无产阶级不断觉醒
B. 科学理论科学指导
C. 社会生产力的发展
D. 社会矛盾日益加剧
35. 所谓“社会达尔文主义”是将达尔文的“生物进化观”应用到“人类社会”，将“生存竞争”和“优胜劣汰”视为社会现象和历史进程的最高解释原则。十九世纪“社会达尔文主义”在欧洲盛行，其主要目的是用来解释
- A. 欧洲对外扩张的合法性
B. 自由平等思想的普世性
C. 世界联系加强的必然性
D. 生物进化发展的规律性

二、非选择题：共 160 分。第 36—42 为必考题，每个试题考生都必须作答。第 43—47 为选考题，考生根据要求作答。

(一) 必考题：共 135 分。

36. 阅读材料，完成下列要求。(24 分)

材料一：我国新疆地区以其独特的气候、土壤等自然条件和先进的植棉技术及产业优势，在我国棉花生产中占有重要地位。特别是南疆的长绒棉，纤维柔长，洁白光泽，弹性良好，是棉花中的精品。

材料二：棉花生长期通常为 5—6 个月，每年 9 到 10 月，新疆棉花必须采摘完成，如若推迟，棉桃便会落地。随着新疆棉花产量日益增长，每到棉花成熟的时节，当地采棉人力会严重短缺，机械化采棉应运而生。

材料三：图 8 示意我国新疆棉花的主要分布及机械化采棉景观图。

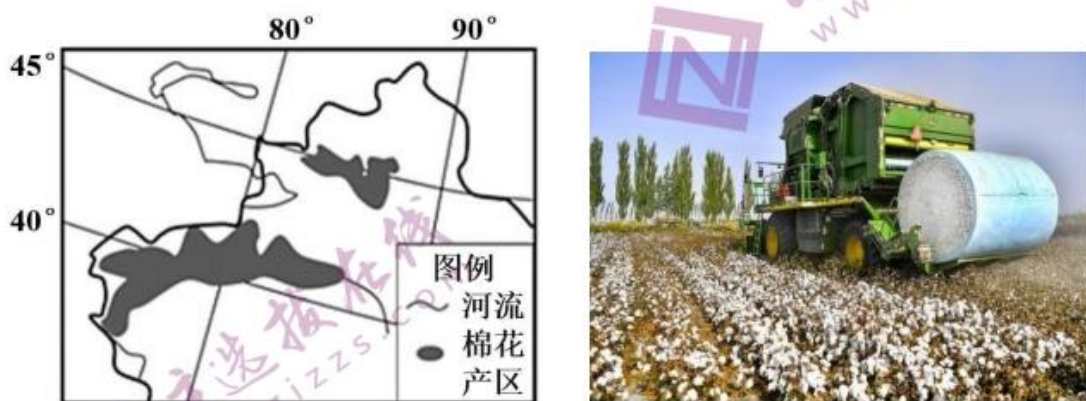


图 8

- (1) 简析南疆地区适宜长绒棉生长的气候条件。(6 分)
- (2) 分析新疆棉花集中在每年 9 到 10 月适时采摘完成的必要性。(6 分)

(3) 说明新疆发展机械化采棉的原因。(8分)

(4) 有人认为,机械化采棉推广后,新疆可以进一步扩大棉花的种植规模,你是否赞同?并说明理由。(4分)

37. 阅读材料,完成下列要求。(22分)

材料一:苏伊士运河是世界使用最频繁的航线之一。2021年3月23日,一艘巨型集装箱船“长赐号”在苏伊士运河搁浅,造成苏伊士运河的“世纪大堵船”。此次事件在一定程度上折射出了传统航运及航线背后的危机,为全球贸易通道安全等问题敲响了警钟,苏伊士运河的替代性航线也成为各国热议的话题。

材料二:图9示意“长赐号”搁浅位置及亚欧贸易的三大通道。



图9

(1) 从地理角度阐述“长赐号”在苏伊士运河搁浅并造成航道拥堵的原因。(8分)

(2) 说明巨型集装箱船出现的成本优势。(8分)

(3) 任选一条图中替代性航线,分析其“短板”。(6分)

38. 阅读材料,完成下列要求。(14分)

2021年5月28日,习近平总书记在中国科学院第二十次院士大会、中国工程院第十五次院士大会和中国科协第十次全国代表大会上发表重要讲话,对实现高水平科技自立自强作出重大部署,为我们建成世界科技强国指明了路径。

总书记强调,实现高水平科技自立自强要坚持问题导向,在核心技术关键领域、“卡脖子”的地方发力突破,方能把创新主动权、发展主动权牢牢掌握在自己手中。要坚持系统思维、凝聚创新合力,强化国家战略科技力量,建设一支体现国家意志、服务国家需求、代表国家水平的“国家队”,国家实验室、国家科研机构、高水平研究型大学、科技领军企业等肩负重任、大有可为。弘扬改革精神、深化科技体制改革,健全新型举国体制,让创新潜力得到充分释放。强化人才优先意识,激发各类人才创新活力,是实现高水平科技自立自强的根基所在。

结合材料，运用我国经济制度优势的相关知识，说明我国定能实现高水平科技自立自强的理由。

39. 阅读材料，完成下列要求。（12分）

2021年是中国恢复联合国合法席位50周年，也是中国加入世界贸易组织20周年。随着中国日益走近世界舞台中央，中国参与全球治理的机会越来越多，国际社会对中国的期待也越来越大。新冠肺炎疫情的大流行，使全球治理遭受严重冲击，全球性挑战层出不穷，更加凸显了现有治理体系的短板，国际社会必须共同努力，携手改善全球治理，“共建持久和平、普遍安全、共同繁荣、开放包容、清洁美丽的世界”。

中国以实际行动助力全球治理体系不断完善，以共建“一带一路”为抓手，参与全球发展治理；以巩固脱贫攻坚成果为抓手，参与全球减贫事业；以抗疫国际合作为抓手，参与全球卫生治理；以文明交流互鉴为抓手，参与全球文化治理；以构筑综合安全为抓手，参与全球安全治理；以推动绿色发展为抓手，参与全球气候治理……以实际行动彰显了中国推动构建人类命运共同体的大国担当。

结合材料，运用当代国际社会相关知识，分析中国积极参与全球治理的合理性。

40. 阅读材料，完成下列要求。（26分）

历史，总是在一些特殊年份给人们以汲取智慧继续前行的力量。2021年，中国共产党喜迎百年华诞。

材料一：回顾党的历史，我们党始终坚持真理、修正错误，敢于正视问题、克服缺点。在筚路蓝缕的石库门，在星火燎原的井冈山，在确定宗旨的延安城，在“进京赶考”前的西柏坡，在青藏高原的“天路”，在大漠深处的航天城，在印下血书的小岗村，在冲破禁区的蛇口，在连通世界的“桥头堡”，在制度创新的“示范区”，在脱贫攻坚的主战场……回到历史现场，探究历史脉络，便可找到一个百年大党风华正茂、依然年轻的密码。

材料二：中国共产党强大生命力的密码，就在于坚持真理，把马克思主义基本原理同中国实际相结合，走自己的路；就在于对实现民族复兴伟大梦想充满必胜信念，不畏艰难，勇往直前；就在于持之以恒发扬党的光荣传统和优良作风，坚定信念、凝聚力量；就在于以实际行动解决人民群众实际难题，始终牢记党的初心使命。

(1) 结合材料一，运用寻觅社会的真谛知识，解读百年大党风华正茂、依然年轻的密码。（12分）

(2) 结合材料二，运用文化生活知识，说明新时代共产党人应如何赓续党的精神血脉？（10分）

(3) 学史明理、学史增信、学史崇德、学史力行。就当代青年如何学好党史提两条合理化建议。

(4分)

41. 阅读材料，完成下列要求。（25分）

材料一：所谓“中国者，天下之中也”。即九州的中心为华夏族的居住区，其四周被视作虚幻的方外，为四夷居住区，拱卫中国。中国古代“天下观”是有限性疆域的观念，而“大一统”和“夷夏观”则在“天下观”的基础上，由历代儒家学者根据不同形势而构建的两个重要方面。这种一体两面的认知随儒学成为官方哲学而被意识形态化，进而形成了祭天制度、礼法制度以及对边疆统治制度等有利于“天下归一”的有力实践。

——改编自吕文利《中国古代天下观的意识形态建构及其制度实践》

材料二：国家是人类历史发展到一定阶段的产物，社会分工及私有制是国家产生的原因。国家应该包含以下几点：其一，国家作为实行阶级统治的社会公共权力机构，是阶级统治的政治形式。其二，国家是特殊的暴力机器。“是阶级矛盾不可调和的产物和表现”。其三，国家必须履行社会管理等公共职能。尽管一切剥削阶级国家本质上都是阶级统治的工具。其四，随社会不断发展，国家最终将被“自由人联合体”取代。

——改编自袁明、黄明娣《马克思主义国家观研究综述》

材料三：习近平主席指出：“人类命运共同体，顾名思义，就是每个民族、每个国家的前途命运都紧紧联系在一起，应该风雨同舟，荣辱与共，努力把我们生于斯、长于斯的这个星球建成一个和睦的大家庭，把世界各国人民对美好生活的向往变成现实。”构建人类命运共同体，是习近平主席着眼人类发展和世界前途提出的中国智慧、中国方案，表达了中国对于国际秩序的美好愿望和追求，成为中国引领时代潮流和人类文明进步方向的鲜明旗帜。

——改编自陈积敏《构建人类命运共同体思想的时代背景》

(1) 根据材料一并结合所学知识，指出中国古代天下观的基本特征。(10分)

(2) 根据材料二并结合所学知识，指出与中国传统的天下观相比马克思主义国家观的不同之处。(8分)

(3) 根据上述材料并结合所学知识，分析人类命运共同体思想的理论来源。(7分)

42. 阅读材料，完成下列要求。(12分)

第二单元 工业文明的崛起和对中国的冲击	第三单元 各国经济体制的创新与调整
第7课 新航路的开辟	第14课 社会主义经济体制的建立
第8课 欧洲的殖民扩张与掠夺	第15课 大萧条与罗斯福新政
第9课 改变世界的工业革命	第16课 战后资本主义经济的调整
第10课 近代中国社会经济结构的变动	第17课 苏联的经济改革
第11课 民国时期民族工业的曲折发展	
第12课 新潮冲击下的社会生活	
第13课 交通与通讯的变化	

——摘编自岳麓书社《历史必修二——经济文明历程》

上表为岳麓书社高中历史教材《历史必修二——经济文明历程》第二单元与第三单元目录，从中选取相互关联的两课，重新拟定论题，并结合所学知识展开论述。（要求：明确列出选取的两课标题，写明论题，联系符合逻辑，论述充分，表达清晰）

（二）选考题：共 25 分。请考生从 2 道地理题、3 道历史题中每科任选一题作答。如果多做，则每科按所做的第一题计分。

43. 【地理—选修 3：旅游地理】（10 分）

红色旅游是具有中国特色的旅游形式，发展势头强劲，新线路、新玩法不断涌现。2021 年“五一”假期，四川省推出 11 条红色旅游精品线路，串联起巧渡金沙江、飞夺泸定桥、过雪山草地、三线建设峥嵘岁月等经典故事和场景，成为游客深入体验“重温红色历史、传承奋斗精神”主题活动的载体。

列举红色景区增强游客体验的方式及发展红色旅游的意义。

44. 【地理—选修 6：环境保护】（10 分）

甘肃省天祝县实施高深山区农牧民群众生态移民搬迁工程和建档立卡贫困户易地扶贫搬迁项目，将海拔 2800 米左右，基础设施落后、生产结构单一、自然条件差、农业基础条件薄弱地区的农牧民群众进行了生态移民。图 10 为航拍天祝县松山镇南阳山片易地扶贫搬迁移民点。



图 10

简述天祝县生态移民工程对当地可持续发展的意义。

45. 【历史—选修 1：历史上重大改革回眸】（15 分）

材料：全面抗战爆发后一年，中共党员由 4 万增加到了 50 万，党的队伍壮大也带来了许多新问题。例如部分党员存在严重的个人主义、个人英雄主义和无组织状态；小资产阶级知识分子的自由散漫；农民阶级的小农思想浓厚等等。战略相持阶段日军在敌后根据地执行“三光”政策，并持续开展大规模扫荡运动，加之国民党内部的反共倾向日益增长，抗日根据地处境渐趋困难。1941—1942 年毛泽东先后发表《改造我们的学习》、《整顿党的作风》、《反对党八股》等文章，以反对主观主义以整顿学风、反对宗派主义以整顿党风、反对党八股以整顿文风为主要内容的整风运动在全党全军轰轰烈烈展开了。延安整风运动是一场全党范围内开展马列主义学习的思想教育运动，教育培养了一批坚定的共产主义队伍，确立了实事求是的思想路线，是加强党的建设的一座伟大丰碑。

——改编自张慧《简论延安整风运动》

（1）根据材料并结合所学知识，指出延安整风运动的背景。（8 分）

（2）根据材料并结合所学知识，概括延安整风运动的历史意义。（7 分）

46. 【历史—选修3：20世纪的战争与和平】（15分）

材料：1955年华约组织正式成立，总部设在莫斯科。华约活动的最大特点是随苏联的国家利益的调整而调整。20世纪五、六十年代刚成立的华约活动在于健全组织机构，增强凝聚力。七十年代苏联自觉力量已强，极力统一缔约国的军事建设，加强军事控制，举行大规模联合军事演习，保持对北约的军事优势。八十年代后，苏联主动宣布华约缔约国单方面裁减军备，华约外长发表声明：无条件尊重缔约国现有的边界不可侵犯。华约组织成立初期在反对帝国主义侵略、维护世界和平方面发挥了一定作用，但是苏联利用华约组织控制东欧与美国争夺世界霸权，遭到了美国为首的北约组织的威胁。加之苏联任意践踏缔约国的主权，东欧国家也日益要求摆脱苏联的控制。1991年华约缔约国签署《华约停止生效议定书》，华沙条约组织正式解散。

——改编自乔志忠《华沙条约组织——早逝的同盟》

(1) 根据材料并结合所学知识，分别概括华约组织五、六十年代、七十年代、八十年代后的主要活动，并分析原因。（10分）

(2) 根据材料并结合所学知识，分析华约解散的原因。（5分）

47. 【历史—选修4：中外历史人物评说】（15分）

材料：袁隆平，1930年9月出生，江西德安人，他选择农业报国，源自袁隆平想让大家“吃饱饭”的强烈愿望。袁隆平不怕辛苦、淡泊名利，一生致力于杂交水稻研究，走出一条具有中国特色的农业自主创新之路。袁隆平为国家培养了大批农业科学人才，发明“三系法”籼型杂交水稻，成功研究出“二系法”杂交水稻，创建了超级杂交稻技术体系，使我国杂交水稻研究始终居世界领先水平。截至2017年，杂交水稻在我国已累计推广超90亿亩，共增产稻谷6000多亿公斤。多次赴印度、越南等国，传授杂交水稻技术以助克服粮食短缺和饥饿问题。为确保我国粮食安全和世界粮食供给作出了卓越贡献。

——改编自周勉、袁汝婷《一颗稻谷里的爱国情怀——记“杂交水稻之父”袁隆平》

(1) 根据材料并结合所学知识，概括袁隆平在杂交水稻研究领域的主要成就。（7分）

(2) 根据材料并结合所学知识，概括袁隆平体现的科学精神。（8分）

中学生标准学术能力诊断性测试 2021 年 10 月测试

文综—政治参考答案

一、选择题：每小题 4 分。

12	13	14	15	16	17	18	19	20	21	22	23
A	C	D	C	D	D	C	B	A	B	B	A

二、非选择题。

38. (14 分)

- ①坚持中国共产党的领导，是中国特色社会主义制度的最大优势。党对科技创新作出重大战略部署，为实现高水平科技自立自强指明方向和道路。(2 分)
- ②坚持公有制为主体、多种所有制经济共同发展，能够充分发挥国有经济在国家科技创新中的主导作用，调动各类科技创新主体的积极性，形成科技创新合力。(4 分)
- ③我国社会主义市场经济体制能够发挥集中力量办大事的优势，集中力量攻克核心技术难关，实现有效市场和有为政府的有机结合，释放科技创新潜力。(4 分)
- ④坚持按劳分配为主体、多种分配方式并存，能够调动各类科技人才的积极性和创造性，激发科技创新活力。(4 分)

39. (12 分)

- ①经济全球化背景下，国家之间相互依存日益紧密，各国必须携起手来合作应对全球性挑战，参与全球治理体系完善，才能推动构建人类命运共同体。(3 分)
- ②中国作为联合国的创始国和安理会常任理事国之一，一贯遵循《联合国宪章》的宗旨和原则，我国积极参与全球治理有利于维护国际和平与安全，促进国际合作与发展。(3 分)
- ③和平与发展是当今时代主题，中国顺应多极化发展趋势，通过实际行动推动构建国际政治经济新秩序，展现大国担当，在全球治理中赢得国际社会普遍信赖。(3 分)
- ④我国奉行独立自主的和平外交政策，坚持走和平发展道路，为各国分享发展机遇，为完善全球治理体系贡献中国智慧和力量。(3 分)

40. (26 分)

- (1) ①把握了社会存在与社会意识的辩证关系，中国共产党把马克思主义基本原理与中国具体实际相结合，不断推进马克思主义中国化指导中国革命和建设。(3 分)
- ②遵循了社会发展规律，调整生产关系以适应生产力发展，调整上层建筑以巩固经济基础，推动

中国社会发展。(3分)

③顺应了社会发展趋势，在中国不同历史时期分别通过革命和改革的方式解决社会基本矛盾，促进中国社会进步。(3分)

④坚持了群众观点和群众路线，相信群众依靠群众，实现和维护人民群众的根本利益，始终践行党的初心和使命。(3分)

(2)①坚定马克思主义在意识形态的指导地位，不断推进马克思主义中国化、时代化、大众化。(2分)

②树立正确历史观、民族观、国家观，筑牢理想信念之基，坚定共产主义远大理想和中国特色社会主义共同理想。(2分)

③弘扬革命文化，传承红色基因，培育中华民族精神，自觉践行社会主义核心价值观，坚定文化自信。(3分)

④提高自身综合素质，发挥好模范带头作用，积极投身于为人民服务的伟大实践，脚踏实地，从身边的小事做起。(3分)

(3)①坚持从书本中学，坚定理想信念，用科学理论武装头脑；

②从群众中学，学习人民群众的实践经验和智慧，增长才干；

③向优秀共产党员学习，找到差距短板，以人为师，见贤思齐；

④从社会实践中学，在实践中练就过硬本领，锤炼品德修为。(每点2分，任意2点4分。)

中学生标准学术能力诊断性测试 2021 年 10 月测试

文综—历史参考答案

一、选择题：每小题 4 分。

24	25	26	27	28	29	30	31	32	33	34	35
A	C	C	B	C	C	B	D	B	A	C	A

二、非选择题。

41. (25 分)

- (1) 以华夏族为主体，有明显的夷夏观念；受儒家思想影响深远；强调等级秩序；强调大一统；渗透在国家治理体系之中。
(每点 2 分，5 点共 10 分)
- (2) 以唯物史观为理论依据；国家是生产发展和阶级斗争的必然产物；强调国家社会管理的公共职能；国家随社会发展而消失。
(每点 2 分，4 点共 8 分)
- (3) 优秀的中国传统文化；鲜明的马克思主义思想底蕴；发展新中国优秀外交思想。
(每点 2 分，答全 3 点 7 分)

42. (12 分)

标题：11 课民国时期民族工业的曲折发展、12 课新潮冲击下的社会生活

论题：民族资本主义经济的发展促进近代社会生活的变革

论述：

19 世纪七十年代，在外商和洋务运动刺激下，民族资本主义经济产生。19 世纪末民族资本主义经济初步发展。第一次世界大战时期，列强忙于战争无暇东顾，民族工业迎来短暂春天。经济的发展推动了人们衣食住行的变化。西装与旗袍并行不悖、“断发”与“不缠足”运动兴起、电报电影等新事物传入并为国人所熟悉。综上民族工业的发展为社会生活的变革奠定物质基础。

【评分标准】

明确点出标题 1 分、观点明确 2 分、论述 7 分、总结 2 分。

一等 (12~10 分)	①观点明确：观点必须涵盖两则表格，观点与标题逻辑关系紧密 ②合理引用史实，进行多角度评论； ③论证充分，逻辑严密，表述清楚。
二等 (9~5 分)	①观点较明确，观点与标题逻辑关系紧密 ②引用史实，评论角度单一； ③论证较完整，表述清楚。
三等 (4~0 分)	①观点不明确，观点与标题逻辑关系不紧密 ②未引用史实； ③论证欠缺说服力，表述不清楚。

45. (15分)

(1) 中共队伍壮大；国民党掀起反共高潮；日军大规模扫荡；党内错误思想蔓延。

(每点2分，4点共8分)

(2) 将全党思想统一到马列主义上来；培养了优秀的党员干部队伍；确立了实事求是的思想路线；找到了党的建设的有效途径。

(每点2分，答全4点7分)

46. (15分)

(1) 50、60年代：

活动：健全组织机构、增强凝聚力。原因：苏联国力较弱，美攻苏守。

70年代：

活动：加强内部控制，保持对北约的军事压制。原因：苏联国力增强，苏攻美守。

80年代后：

活动：苏联控制力下降，华约组织最终解散。

原因：苏联国力下降，改革受阻，战略退却；东欧国家的反对。

(每点3分，答全3点10分)

(2) 以美国为首的北约组织的破坏；苏联解体；东欧剧变；东欧国家与苏联关系破裂。

(每点2分，答3点5分)

47. (15分)

(1) 创建了领先世界的杂交水稻技术体系；培养了大批农业科学人才；推广杂交水稻技术；为我国粮食安全和世界粮食供给做出卓越贡献。(每点2分，答3点7分)

(2) 追求真理的创新精神；心系祖国的爱国精神；崇尚实践的务实精神；精诚合作的团队精神；埋头苦干的奋斗精神；淡泊名利的奉献精神。(每点2分，答4点8分)

中学生标准学术能力诊断性测试 2021 年 10 月测试

文综—地理参考答案

一、选择题：每小题 4 分。

1	2	3	4	5	6	7	8	9	10	11
C	A	B	C	A	A	B	D	A	C	D

二、非选择题。

36. (24 分)

- (1) 新疆地处暖温带，积温较高，热量充足；地处内陆干旱地区，晴天多，日照时间长，光照充足；夏季高温期长，生长成熟的时间长，利于棉花纤维生长；昼夜温差大，利于有机物质积累。（任答 3 点得 6 分）
- (2) 9-10 月为新疆棉花的集中成熟时间，便于集中采摘；采摘过早，棉花纤维尚不能完全成熟，影响棉花产量与品质；采摘过晚，棉桃暴露时间长，风吹日晒下易脱落；长时间经受阴雨天气，会影响棉花色泽，甚至造成棉花霉烂。（任答 3 点得 6 分）
- (3) 盆地平坦开阔，适合机械化采棉；新疆地广人稀，劳动力严重短缺；新疆地处西北边陲，采棉劳动强度大，劳动力招募困难；适宜棉花采收的季节短（9—10 月）；棉花采收不及时，影响棉花质量、产量和植棉积极性；国家大力推广农业机械化生产，机械化采棉技术先进；机械化采棉效率高、成本低。（任答 4 点得 8 分）
- (4) 赞同：机械化采棉推广后，可缓解劳动力短缺，保证棉花适时采摘。可以通过继续扩大种植规模，提高产量，满足市场对优质棉花的需求，提高植棉者的收入和生产积极性。
不赞同：棉花是一种对水资源消耗较大的作物，大面积种植会加剧新疆水资源的短缺，使气候更干，荒漠化加剧。（任答 2 点得 4 分，只表明观点，不说明理由不得分。）

37. (22 分)

- (1) 大风和强沙尘天气使船偏离航向；泥沙淤积严重，水位较浅；苏伊士运河航道狭窄；“长赐号”体积大、吨位大，吃水深；通航船只多，密度大。（任答 4 点得 8 分）
- (2) 节省包装货物的材料及费用；减少装卸货物的环节，提高装卸效率，降低劳动成本；减少货物在装卸过程中的损耗；缩短货物的运输时间，降低运输成本。（答 4 点得 8 分）
- (3) 冰上丝绸之路：纬度高，结冰期长，通航时间短；风力大、浮冰多，自然环境恶劣；沿线港口少、对经济的带动作用有限；沿线补给少；基建难度大，开发成本高。（任答 3 点得 6 分）
陆上丝绸之路：沿途戈壁沙漠广布，风沙活动频繁，自然条件恶劣；经过国家和民族众多，国际关系复杂；运量小，运输成本高。（答 3 点得 6 分）

43. (10 分)

体验方式：营造和强化红色景区历史现场感；通过情景剧形式演绎红色历史；通过“合唱快闪、史诗朗诵、文艺演出”等主题活动增强游客的体验感；以“密室逃脱”形式体验“沉浸式党课”，以虚

拟现实（VR）的形式进行沉浸式体验。（答 2 点得 4 分）

意义：丰富旅游形式的多样性；优化红色旅游品牌体系；增加革命老区群众收入，促使革命老区乡村振兴；把红色资源与党史教育相结合，传承红色基因；保护和利用革命历史文化遗产。（任答 3 点得 6 分）

44.（10 分）

对经济：改善移民区农牧民的农业生产条件，提高农牧民生产积极性；转变农业经营方式，向现代化农牧业转变，提高农牧民收入。

对社会：促进移民区居民生活水平和生活质量的提高，有效解决贫困问题；加快移民区城镇化水平的提高；提高移民的教育水平，更新观念，提高劳动力素质。

对生态环境：减轻人口对生态脆弱区的环境压力，提高环境承载力。

（从经济、社会、生态三方面至少各答一点，答出 5 点得 10 分）

关于我们

自主选拔在线（原自主招生在线）创办于 2014 年，历史可追溯至 2008 年，隶属北京太星网络科技有限公司，是专注于中国拔尖人才培养的升学咨询在线服务平台。主营业务涵盖：新高考、学科竞赛、强基计划、综合评价、三位一体、高中生涯规划、志愿填报等。

自主选拔在线旗下拥有网站门户（官方网址：www.zizzs.com）、微信公众平台等全媒体矩阵生态平台。平台活跃用户达百万量级，网站年度流量超 1 亿量级。用户群体涵盖全国 31 省市，全国超 95% 以上的重点中学老师、家长及考生，更有许多重点高校招办老师关注，行业影响力首屈一指。

自主选拔在线平台一直秉承“专业、专注、有态度”的创办公念，不断探索“K12 教育+互联网+大数据”的运营模式，尝试基于大数据理论为广大中学和家长提供中学拔尖人才培养咨询服务，为广大高校、中学和教科研单位提供“衔接和桥梁纽带”作用。

平台自创办以来，为众多重点大学发现和推荐优秀生源，和全国数百所重点中学达成深度战略合作，累计举办线上线下升学公益讲座千余场，直接或间接帮助数百万考生顺利通过强基计划（自主招生）、综合评价和高考，

进入理想大学，在家长、考生、中学和社会各界具有广泛的口碑影响力，2019 年荣获央广网 “年度口碑影响力在线教育品牌”。

未来，自主选拔在线将立足于全国新高考改革，全面整合高校、中学及教育机构等资源，依托在线教育模式，致力于打造更加全面、专业的新高考拔尖人才培养服务平台。



 微信搜一搜

 自主选拔在线

