



广安市高 2020 级第一次诊断性考试 文科综合能力测试

本试卷分选择题和非选择题两部分，满分 300 分。考试用时 150 分钟。考试结束后，将本试卷和答题卡一并交回。

注意事项：

1. 答卷前，考生务必将自己的姓名、准考证号填写在答题卡上。
2. 回答选择题时，每小题选出答案后，用铅笔把答题卡上对应题目的答案标号涂黑。如需改动，用橡皮擦干净后，再选涂其他答案标号。回答非选择题时，将答案写在答题卡上。写在本试卷上无效。
3. 考试结束后，将本试卷和答题卡一并交回。

一、选择题：本大题共 35 个小题，每小题 4 分，共 140 分。在每小题给出的四个选项中，只有一项是符合题目要求的。

人是城镇化发展的核心，其空间迁移会对城镇化发展产生明显的影响。与全国其他省区相比，甘肃省经济发展较为落后。图 1 示意甘肃省人口流动趋势演变特征。据此完成 1~3 题。

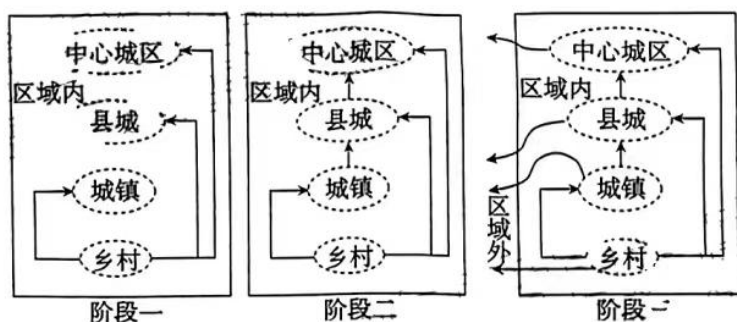


图 1

1. 甘肃省人口流动反映的典型现象是
A. 城市化 B. 郊区城市化 C. 逆城市化 D. 再城市化
2. 第三阶段，甘肃省突出的城镇化问题是
A. 人口老龄化 B. 乡村空心化
C. 城市交通拥挤 D. 城市住房紧张
3. 目前，应对甘肃省人口流动问题采取的合理措施是
A. 引进高素质人才 B. 优惠落户政策
C. 优化产业结构 D. 扩大城市规模

文科综合试题 第 1 页(共 16 页)

爱知县是日本具有代表性的工业区域,其汽车制造业历史悠久。1990年,爱知县地方特点,参与了国家“生态城镇计划”,通过对大量工业废弃物的回收利用,实现了可持续发展目标。图2(a)示意爱知县汽车企业分布,图2(b)示意生产者责任延伸制下F汽车在废弃汽车处理中的角色。据此完成4~6题。



图2(a)

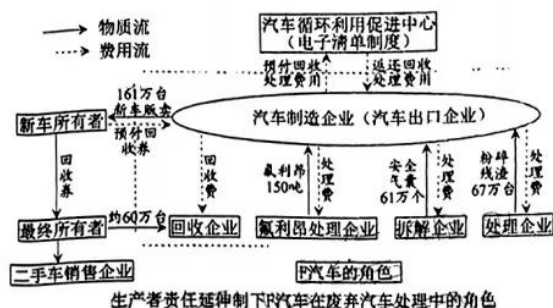


图2(b)

- 爱知县参与国家“生态城镇计划”的基础条件是
 - 汽车产业集聚度高
 - 政策支持
 - 汽车产业知名度高
 - 技术先进
- 在生产者责任延伸制下,F汽车公司需加强联系的企业是
 - 零部件加工企业
 - 互联网企业
 - 资源回收企业
 - 物流企业
- “生态城镇计划”的实施对当地发展的意义是
 - 实现废弃物零排放
 - 促进清洁能源的开发
 - 提高工业产品的附加值
 - 促进循环经济的发展

青藏高原作为亚洲水塔,其独特的冰川地貌对全球变暖极其敏感,夫气 0°C 层高度是决定藏高原冰川地貌消融状态的重要指标。图3示意1979—2019年青藏高原夏季大气 0°C 层高平均值的空间分布。据此完成7~9题。

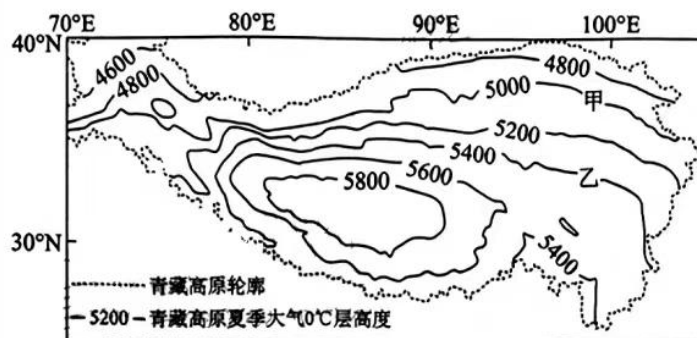


图3

- 决定青藏高原夏季大气 0°C 层高度的直接原因是
 - 太阳辐射
 - 地面辐射
 - 地面反射
 - 大气逆辐射

8. 导致甲、乙两地夏季气温差异的主要因素是

- A. 纬度位置 B. 海陆位置 C. 季风环流 D. 海拔高低

9. 推测近年来该地区夏季大气 0℃ 层高度的变化及对该地的影响

- A. 变低 夏季湖泊面积增加 B. 变高 夏季湖泊面积减小
C. 变低 夏季冰川面积增加 D. 变高 夏季冰川面积减小

义长灌域(图 4)位于内蒙古河套灌区东北部,灌域内引黄自流灌溉,现有灌溉面积 276.52 万亩。67 眼监测井均匀分布在灌域中,其中南部监测井地下水埋深年际变化比较小。据此完成 10~11 题

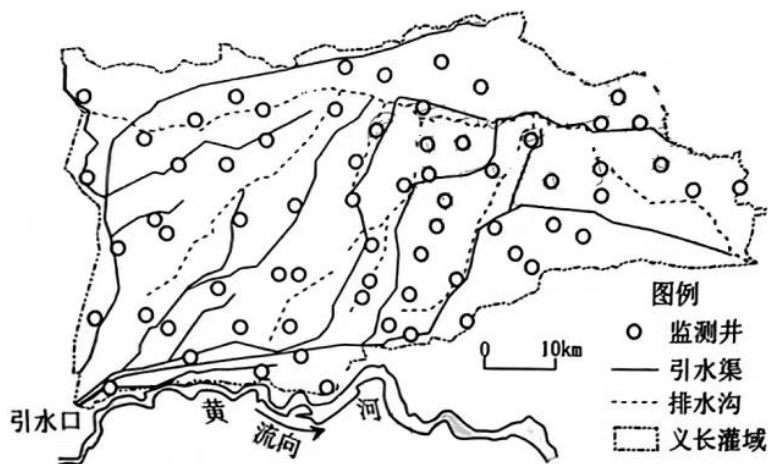


图 4

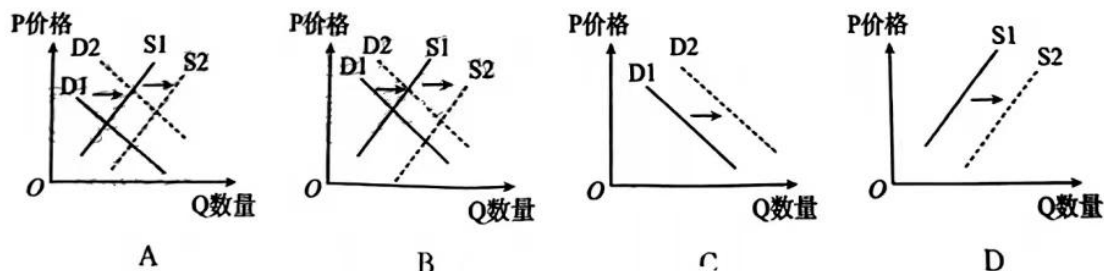
10. 义长灌域修建排水沟的主要目的是

- A. 加快水流速度 B. 减轻土壤盐碱化
C. 减少水土流失 D. 防治土地荒漠化

11. 南部监测井地下水埋深年际变化比较小,是因为

- A. 靠近排水沟 B. 靠近引水渠 C. 靠近黄河 D. 地势低洼

我国财政部等三部门决定:自 2022 年至 2024 年,通过财政补贴开展大豆完全成本保险和种植收入保险试点。保险标的为大豆,保险保障对象为投保豆农。完全成本保险的保险责任涵盖大豆主要的自然灾害、重大病虫鼠害等风险。种植收入保险的保险责任涵盖大豆价格、产量波动导致的收入损失。若不考虑其他因素,这一政策意图可图示为



2022年1—10月,我国汽车累计产销分别完成2224.2万辆和2197.0万辆,同比分别增长7.9%和4.6%。其中,新能源汽车产销分别完成548.5万辆和528万辆,同比均增长1.1倍,市场占有率比上一年同期提高十个百分点。对此认识正确的是

- ①我国新能源汽车产业可持续发展能力增强、市场前景向好
- ②新能源汽车性价比凸显,已成为我国汽车消费的主打产品
- ③汽油价格不断上涨,推动了其替代品新能源汽车需求增长
- ④国家政策扶持和配套设施的完善,刺激了新能源汽车消费

A. ①③ B. ①④ C. ②③ D. ②④

4. 存款准备金是指金融机构为保证客户提取存款和资金清算需要而准备的在中央银行的存款,中央银行要求的存款准备金占其存款总额的比例就是存款准备金率。图5为某国大型金融机构近两年存款准备金率变化情况。对此解读正确的是

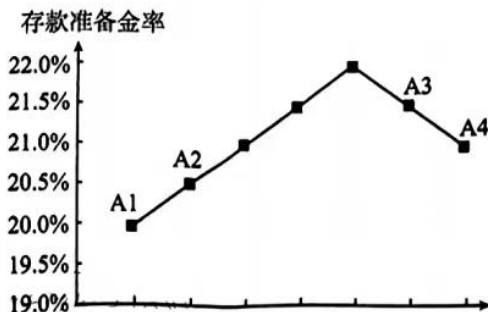


图5

- ①从A1到A2:优化银行信贷结构,更好服务实体经济
- ②从A1到A2:降低银行的流动性,防范化解金融风险
- ③从A3到A4:提高银行贷款利率,增加银行经营收入
- ④从A3到A4:扩大银行放贷规模,缓解企业融资困难

A. ①③ B. ①④ C. ②③ D. ②④

2012年以来,我国基本养老保险参保人数从7.88亿人增加到10.3亿人;我国企业退休人员月人均养老金从1686元增长到2987元,城乡居民月人均养老金从82元增长到179元。基本医疗保险方面,2022年我国职工医保、居民医保政策范围内住院费用支付比例分别为80%和70%左右。对此认识正确的是

- ①经济健康发展,为社会保障水平提高奠定了物质基础
- ②再分配政策的完善,有利于维护社会公平与和谐稳定
- ③社会保障体系不断健全,缩小了城乡居民的收入差距
- ④全面发展社会事业,提升了人民群众幸福感和满意度

A. ①② B. ①③ C. ②④ D. ③④

文科综合试题 第4页(共16页)

美元,比上届增长 3.9%,前来参展的世界 500 强企业及行业龙头企业超过 280 家,“回头率”达 20%,更有不少企业提前签约第六届进博会,为深化合作做好铺垫。这得益于

- ①中国经济的韧性与活力不断增强
 - ②中国企业国际竞争力不断提高
 - ③中国对外贸易结构不断优化升级
 - ④中国的对外营商环境不断改善
- A. ①② B. ①④ C. ②③ D. ③④

17. 某市发布的《基层群众自治组织协助政府工作事项》,共明确了 27 项协助事项,要求下辖各级政府及相关部门要遵循“费随事转、权随责走”的原则,为基层群众性自治组织依法协助政府开展工作创造条件;未纳入协助清单的工作事项,可向基层群众性自治组织或其他社会力量购买服务。此举意在

- ①依法厘清政府和基层群众性自治组织的权责边界
 - ②推动政府治理和社会调节、基层自治的良性互动
 - ③督促基层群众性自治组织依法管理基层公共事务
 - ④调动人民群众进行自我管理和自我服务的积极性
- A. ①② B. ①④ C. ②③ D. ③④







18. 某市行政审批服务局公开承诺:“不为‘不办’找理由,只为‘办好’想办法。”该局实行“一枚印章管审批”,集中划转 14 个部门、249 项行政许可事项,推动 40 个部门、1246 项服务事项进驻政务大厅,实现多部门联合、一站式服务。这体现了该政府部门

- ①主动缩减职权,减轻企业负担激发市场的活力
 - ②深化简政放权,提高服务经济和社会发展水平
 - ③推动政务公开,进一步增强自身权威和公信力
 - ④积极转变职能,优化营商环境更好地便民利企
- A. ①② B. ①③ C. ②④ D. ③④

19. 近年来,犯罪分子利用新型电信网络技术手段实施精准诈骗,已成为群众反响强烈的突出犯罪。2022 年 9 月 2 日,全国人大常委会审议通过反电信网络诈骗法,对电信网络诈骗的各环节进行针对性制度设计,压实企业社会责任,加强宣传教育和防范预警,依法打击电信网络诈骗及其关联违法犯罪人员等。这体现了全国人大常委会

- ①坚持问题导向,为打击电信网络诈骗提供法治保障
 - ②提高人民群众反诈意识,斩断电信网络诈骗的源头
 - ③完善互联网行业规范,促进我国平台经济健康发展
 - ④建立完善各方面责任制度,形成协同打击治理合力
- A. ①② B. ①④ C. ②③ D. ③④

下列甲骨文可以说明当时

甲骨文						
对应汉字	王	臣	礼	义	孝	仁

- A. 私有观念开始产生 B. 君主集权逐步形成
C. 分封制度渐趋成熟 D. 礼制观念得到发展
25. 据睡虎地秦简《法律答问》记载：“‘害盗(捕盗官)别(背着)徼(巡察)而盗,驾(加)罪之。’可(何)谓‘驾罪’? 五人盗,臧(赃)一钱以上,斩左止(趾),有(又)黥为城旦(筑城的劳役)……”这一条文表明,秦朝
- A. 阶级矛盾尖锐 B. 团伙盗窃严重
C. 残酷压榨民众 D. 严惩执法犯法
26. 据《新唐书》记载,安史之乱能够得到平定的一个重要因素是一座城市的长期固守保证了财税的供给。这座城市应是图 6 中的

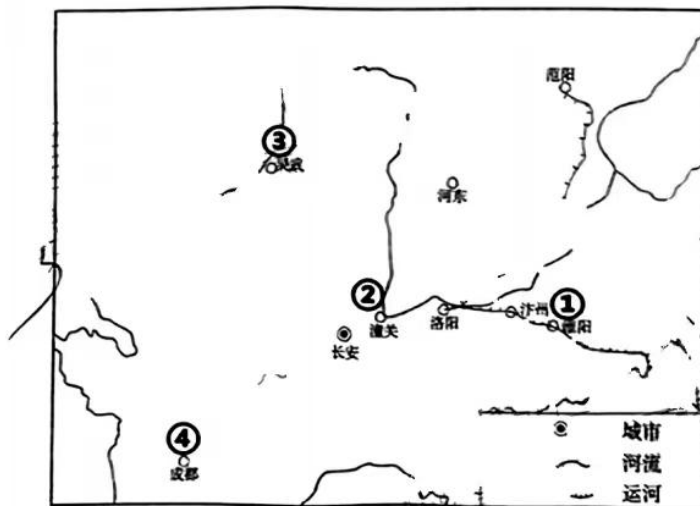


图 6 安史之乱形势图

- A. ① B. ② C. ③ D. ④
27. 明朝时,传教士在语言、服饰等方面迎合士大夫,同时又利用西方先进的科技吸引民众以进行传教活动。利玛窦的传教方式被归纳为“用好的书籍和有理性的辩论证实我们教义的真实性,让他们知道我们的宗教是没有坏处的”。这反映出当时
- A. 传教破坏了中国主权 B. 科技发展推动宗教传播
C. 文化传播的策略考量 D. 传统夷夏观念发生质变

文科综合试题 第 7 页(共 16 页)

28. 1888年,《申报》一则时评指出,“我国之所产远不及泰西”造成了洋货盛行,进而有“何不亟行仿而效之,何乃甘以钱财输之于外域也?”这可以说明当时
- A. 民间投资环境的改善
B. 洋务运动实效的显现
C. 实业救国思潮的盛行
D. 经济民族主义的萌发
29. 1918年底,陈独秀称美国总统威尔逊为“世界上第一个好人”。到1923年底,北大进行民意测量,投票选举世界第一伟人时,497票中列宁独得227票居第一,威尔逊则得51票居第二。这种变化可以说明当时
- A. 新文化运动的式微
B. 政治思想的转向
C. 革命领导权的转移
D. 革命性质的改变
30. 据统计,1947~1948年晋冀鲁豫边区涉及夫妻关系不和的案件占全部民事案件的70%到97%,且大多是女方提出的。1948年,山西省平顺县140件要求解除婚姻的民事纠纷中,女方提出的多达112件。这一现象反映出当时解放区
- A. 民主意识的增强
B. 社会心态的变化
C. 男女平等的实现
D. 家庭结构的转型
31. 图7是创作于1956年的宣传画《越走越快》。这一作品
- A. 渲染了土地改革的舆论氛围
B. 反映了当时生产力的根本变革
C. 描绘了农业发展的长远理想
D. 凸显了集体化道路的制度优势
32. 有学者指出,在古代雅典的法庭上,“一个案件就像是一部有三个角色的戏剧,这三个角色都是业余的,他们是:提出诉讼的公民、准备案件和主持法庭的法官,以及听取案情并作出裁决的陪审员”。这可以用于说明,古代雅典
- A. 戏剧艺术在公民中影响巨大
B. 陪审法庭的审判缺乏严格程序
C. 建立了完善健全的法律体系
D. 直接民主削弱了审判的专业性
33. 16世纪,新兴的击剑、马术、摔跤、象棋等运动项目在欧洲快速崛起。同时,体育运动指导者教学类书籍大量涌现,如威曼的《游泳术》、奥斯瓦特的《摔跤术》、斯图门的《持球体育戏》等。欧洲16世纪体育的勃兴
- A. 打破了教会神权统治的束缚
B. 宣扬了启蒙运动的理性精神
C. 反映了对人自身价值的重视
D. 推动了近代自然科学的兴起



图7

34. 1776年北美宣布独立后,第二届大陆会议以班尼顿着手起草《邦联条例》,筹建统一政府。次年,大陆会议便通过了《邦联条例》。但是直到1781年,该条例才最后为十三州全体批准并生效。该条例从起草到十三州全体通过用了五年时间,主要原因是

- A. 北美独立战争导致政局动荡
B. 自治传统与建立统一政府的矛盾
C. 各州政治制度存在巨大差异
D. 该条例赋予中央政府的权力过大

35. 表1 德国与英国海外投资占总净资本的百分比(单位:%)

德国		英国	
1861—1871年	12.9	1865—1874年	40.1
1871—1881年	14.1	1875—1884年	28.9
1881—1891年	19.9	1885—1894年	51.2
1891—1901年	9.7	1895—1904年	20.7
1901—1911年	5.7	1905—1914年	52.9

据表1可推知,当时

- A. 德国技术革新动力强于英国
B. 两国均高度重视海外投资
C. 英国工业发展速度快于德国
D. 两国工业资本均急剧膨胀

二、非选择题:共160分。第36~42题为必考题,每个试题考生都必须作答。第43~47题为选考题,考生根据要求作答。

(一)必考题:共135分。

36. (24分)阅读图文材料,回答下列问题。

小粒咖啡理想产地是热带地区的高山,夏季多云雾利于其生长。云南省保山市新寨村位于高黎贡山东麓,怒江大峡谷西岸,目前已实现了小粒咖啡的规模化种植。1000m以上的高海拔山区是未来精品咖啡的主产地,目前作为种植主体的1000m以下地区未来应该逐步退出咖啡种植。近年来在政府的引导下,逐步形成了“公司+基地+专业合作社+农户”的经营模式,不断培育良种,提高咖啡豆精品率,将咖啡豆和曾被废弃的果肉开发成挂耳咖啡、胶囊咖啡和果皮茶等多元化精深加工的产品。图8(a)示意新寨村海拔、咖啡种植园位置,图8(b)示意760m和1440m气象站气温与降水资料。

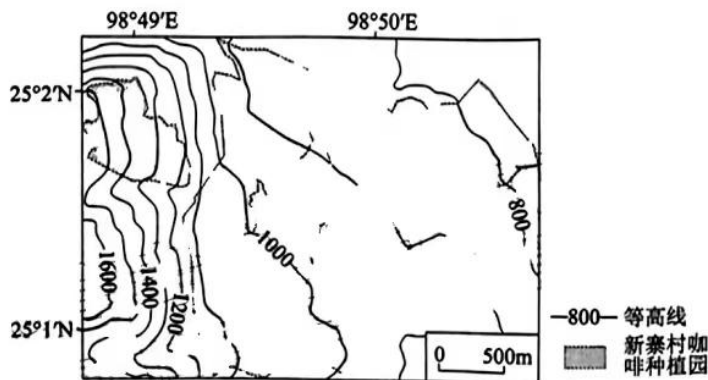


图8(a)

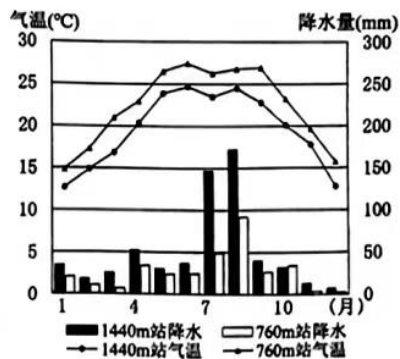


图8(b)

文科综合试题 第9页(共16页)



(2)当地计划将 1000m 以下地区退出精品咖啡种植,请从气候角度做出合理的解释。(4分)

(3)指出当地采用“公司+基地+专业合作社+农户”经营模式对农户的益处。(8分)

(4)说明“高精品率、精深加工”对当地咖啡产业的意义。(6分)

37. (22分)阅读图文材料,回答下列问题。

某风沙区地处黄土高原北部,年平均降水量 420mm,降水主要集中在 6—9 月,且多暴雨,多年平均蒸发量 1761mm,年均风速 3m/s 以上,极易发生风蚀、水蚀。20 世纪 70 年代开始人工造林,土壤含水量增加,但经过多年植被恢复后,人工林中的油松林地土壤含水量下降。有学者认为需要对油松林进行科学养护。图 9 示意不同树龄油松林地土壤水分含量随深度的变化。

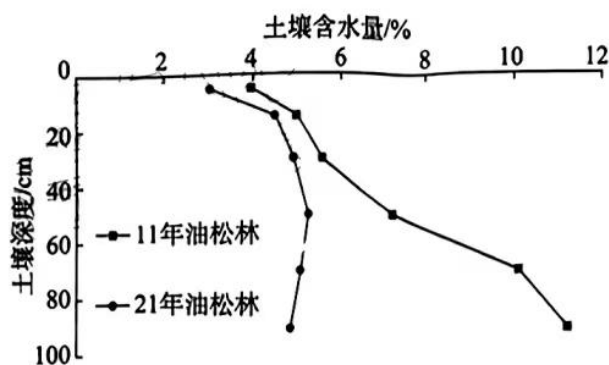


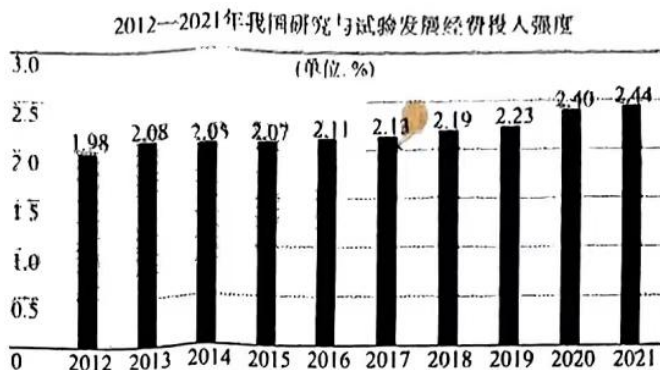
图 9

(1)从气候和土壤角度,阐述该地极易发生风蚀、水蚀的原因。(6分)

(2)从水循环角度,说明恢复植被可以增加土壤含水量的原因。(6分)

(3)与树龄 21 年油松林相比,简述树龄 11 年油松林土壤含水量较高的原因。(6分)

(4)请为该地油松林科学养护提供有效建议。(4分)



注:①2021年,我国研究与试验发展经费投入达27956亿元,按现价计算比2012年增1.7倍,年均增长11.7%。②2021年,我国创新指数居全球第12位,比2012年上升22位,位居中等收入经济体首位。国际竞争力排名第28位,领先多数中等收入国家。可持续发展指数在全球居57位,比2017年上升14位。

材料二

“上天有神舟,下海有蛟龙,入地有盾构”。盾构机,是建造地铁、铁路、公路、隧道等的利器。因为系统复杂、集成度高,也有人把它称为机械制造皇冠上的明珠。很长一段时间,我国的盾构机一直依赖国外进口,严重影响着中国基建的效率和发展的。2002年,我国将土压平衡盾构关键技术研制列入“863”计划;党的十八大以后,盾构机相关技术研发又入选了国家重点基础研究发展“973”计划中。在国家科研项目的推进下,在国家专项资金支持下,高校着力基础技术的研究,企业将最新研究成果应用到实际工程中并积极反馈效果,持续协同研发和创新。2008年,中国首台具有自主知识产权的复合式盾构机“中铁一号”诞生;2014年,矩形盾构机成为首个国产异形掘进机走向海外的案例;2021年,中国盾构机在国内占有率高达90%,占全球市场70%以上的份额。

(1)概括材料一反映的经济信息。(4分)

(2)我国盾构机的逆袭之路,为健全社会主义市场经济条件下关键核心技术攻关新型举国体制提供了有益经验。结合材料二和经济生活知识加以说明。(10分)

12分)阅读材料,完成下列要求。

新型显示普遍应用于电脑、手机、电视、相机、车载显示等产品的屏幕。随着智能化水平提高,新型显示产品的应用范围也在持续扩张。在巨大的市场空间推动下,H市致力于构建国内一流的新型显示产业生态圈。围绕京东方、天马、中光电等新型显示龙头企业,初步形成了由上游原材料和零部件、中游显示面板和模组、下游显示应用组成的产业生态圈,形成“龙头企业—重大项目—产业链—产业集聚”的集群发展模式,构建了从玻璃基板、偏光片

到面板制造,再到电视、手机、车载应用的产业格局。2021年,该中州企业小工业面板产能居全国第四,智能终端产业规模名列全国第七,无屏显示产品全球市场占有率位居前列。

结合材料和经济生活知识,分析上述举措对该市经济高质量发展有何意义。(12分)

40. (26分) 阅读材料,完成下列要求。

材料一 1949年,毛泽东同志在党的七届二中全会上告诫全党:“务必使同志们继续地保持谦虚、谨慎、不骄、不躁的作风,务必使同志们继续地保持艰苦奋斗的作风”。73年后,习近平总书记在党的二十大报告中又提出“三个务必”重大论断:“全党同志务必不忘初心、牢记使命,务必谦虚谨慎、艰苦奋斗,务必敢于斗争、善于斗争,坚定历史自信,增强历史主动,谱写新时代中国特色社会主义更加绚丽的华章。”

“两个务必”提出于中国革命即将取得全国胜利之际,面临的根本任务是如何建设新中国,对党在全国“如何执政”提出要求;“三个务必”提出于中国特色社会主义新时代,针对新的历史条件下党“如何长期执政”,聚焦如何全面建设社会主义现代化国家、实现第二个百年奋斗目标。“三个务必”与“两个务必”既一脉相承,又与时俱进,丰富拓展了“两个务必”的思想内涵和时代意蕴。

材料二 在党的二十大代表中,不乏许多基层一线的党代表身影。张黎明是天津某配电抢修班班长,自18岁成为一名普通的电力巡线工,35年来,他扎根电力抢修一线,从普通电力工人到全国劳模,再到“时代楷模”。他说:“只要是保证一线工人人身安全方向的研究就是我们职工创新研发的方向,只要是为人民服务的方向就是我们职工创新的方向。”云南省丽江市华坪女子高级中学校长张桂梅,扎根贫困山区四十余年,推动创建了全国第一所全免费女子高中,帮助2000多名山区女孩儿圆梦大学。“我只要还有一口气,就会竭尽全力为党育人、为国育才,让大山里的孩子们走出大山,做一个合格的社会主义接班人”,张桂梅说。山东省高唐县的杜立芝是土生土长的农技专家,参加工作38年来,她始终坚守在农技服务一线,扎根田间地头,以科技助农、惠农、兴农。近几年,她致力于推广轮作倒茬、间作套种等高效种植模式,每年为农民每亩地增收1000多元。

(1)“三个务必”是党走好新时代赶考路的制胜法宝。结合材料一和政治生活知识加以说明。

(12分)

(2)结合材料二和文化生活知识,说明上述故事对青年学生成为担当民族复兴大任的时代新人有何启示?(10分)

(3)目前,全国各地正掀起一股学习党的二十大精神的热潮。请你为自己的学校策划两个活动方案。(4分)

41. (20分) 阅读材料, 完成下列要求。

材料一 中国货币在海外流传的历史源远流长, 在朝鲜北部曾出土数量丰富的战国明刀和布币。秦汉以后的古钱币在日本更是大量出土, 包括半两钱、五铢钱, 开元通宝等, 总计超过15种。越南、柬埔寨等邻国, 自古以来一直使用中国钱币, 越南最早铸造的“太平兴宝”铜钱, 就是仿造唐宋钱币而铸成。东南亚各国, 在唐宋时期也采用中国钱币作通货, 公元9世纪中叶, 波斯湾的锡拉夫就通行中国方孔圆钱。中国钱币在非洲索马里、肯尼亚、坦桑尼亚等国也大量出现。

——据张忠山主编《中国丝绸之路货币》

材料二

表2 中国近代货币统一进程大事简表

时间	事件
1887年	广东率先设局自铸新式银元, 此后各省纷纷仿行。
1910年	清政府颁布《币制则例》, 定银元为国币, 铸币权收归中央政府。
北洋时期	中央政府颁布《国币条例》十三条, 决定实行银本位制度, 铸一圆银币, 但各省所铸小银币依然在流通, 外国银行钞票也始终占主要地位。
南京国民政府统治前期	1928年, 国民政府提出废两改元, 为统一货币打下基础。1935年, 国民政府推行“法币改革”, 统一发行法币, 禁止白银流通, 后又将发行权集中于中央银行。
解放战争时期	法币因恶性通货膨胀而走向崩溃, 直到1949年中国货币还没有真正意义上的统一。

——据冯郁《近代中国货币统一的进程》

材料三 2009年7月1日, 中国人民银行等六部委联合发布《跨境贸易人民币结算试点管理办法》, 跨境贸易人民币结算正式启动。2016年10月1日, 人民币正式纳入特别提款权篮子, 人民银行已与35个国家和地区的中央银行或货币当局签署双边货币互换协议, 在全球23个国家或地区指定了人民币业务清算行。

——据中国人民银行《2021年人民币国际化报告》

- (1) 根据材料一并结合所学知识, 概括古代中国货币海外流通的特点。(8分)
- (2) 根据材料二并结合所学知识, 概括近代中国政府统一货币的举措, 并分析阻碍货币统一的因素。(10分)
- (3) 根据材料三并结合所学知识, 说明人民币国际化的意义。(7分)

12. (12分) 阅读材料, 回答下列要求。

材料

表3 中国古代都城形态的变迁

朝代	都城布局
周朝	西周营建东都“成周”, 王城坐西朝东, 在王城以东建设“郭”以安置“国人”、迁居殷贵族和驻屯军队, 形成了小城连大郭、“坐西朝东”的格局。春秋战国时期, 各诸侯国的都城大多采用类似的格局。
秦汉	秦咸阳和西汉长安仍是坐西朝东的格局。东汉时, 为便利皇帝在南郊举行祭天之礼, 形成了坐北朝南格局, 中央官署分布于南北二宫周围。
北魏	孝文帝迁都洛阳, 保留坐北朝南的北宫, 中央官署集中于宫南天街两侧, 形成中轴线。
隋唐	都城由内城和郭城组成, 内城又分为宫城和中央官署集中的皇城, 形成东西对称、南北向的中轴线布局。
宋朝	北宋东京形成宫城、里城和外城三重城圈的结构, 出现以宫城为中心的全城四通八达的交通, 开放式的都城制度代替了汉唐时期封闭式的都城制度。南宋临安形成了“坐南朝北”的特殊结构。
辽朝	辽上京分南北二城, 北城为皇城, 仿唐长安建设, 但在宫城内保留契丹所居毡庐旧俗; 南城为汉城。
元朝	大都“坐南朝北”, 形成中轴线。
明清	“坐北朝南”, 形成中轴线, 宫城皇城外城三重城圈。

——据杨宽《中国古代都城制度史研究》

从表3中提取两条及以上相互关联的历史信息, 自拟题目, 并结合中国古代史所学知识予以阐述。(12分)(要求: 论题明确、史论结合、逻辑清晰。)

(二) 选考题: 共25分。请考生从2道地理题、3道历史题中每科任选一题作答。如果多则每科按所做的第一题计分。

43. (10分) 【地理——选修3: 旅游地理】

“反向旅游”是指年轻游客为了避开人潮, 选择非著名的旅游小城或景区, 在没有过度商业化的原生生态环境中安静、清闲地度假。各大互联网平台能为小众景点提供推送、直播订等服务, 使得“反向旅游”成为当下的新潮流。

简述“反向旅游”兴起的原因, 并为小众景区开发提供合理建议。(10分)

文科综合试题 第14页(共16页)



44. (10分)【地理——选修6:环境保护】



亚洲象是亚洲现存最大和最具代表性的陆生脊椎动物,也是维持森林生态系统的“工程师”,主要栖息于亚洲南部热带雨林、季雨林及林间的沟谷、山坡、稀树草原、竹林及开阔地带。

简述亚洲象是维持森林生态系统的“工程师”的原因。(10分)

45. (15分)【历史——选修1:历史上重大改革回眸】

材料 汉代以后,金、木、水、火、土“五德终始”的政治学说逐渐定型,五德历运成为塑造王朝正统身份的重要依据。东晋南朝和北方的十六国都先后确立了承接西晋正统,且一脉相承的五德历运。北魏立国之初,道武帝认为“西晋为金德,石赵承晋,为水德,慕容燕承赵,为木德,苻秦承燕,为火德”,北魏继前秦而起,故为土德。太和十四年,孝文帝接受大臣崔光等人的主张,以水德直接承西晋的金德,并将北魏作为正统王朝的历史上溯至其前身——十六国时期的代国。此后,东西魏、北齐北周、直到隋唐王朝都沿袭了这一德运次序。

——据罗新《十六国北朝的五德历运问题》等

(1)根据材料并结合所学知识,概括孝文帝改革前后北魏五德历运的变化。(8分)

(2)根据材料并结合所学知识,指出孝文帝改革北魏五德历运的影响。(7分)

46. (15分)【历史——选修3:20世纪的战争与和平】

材料 “七七事变”发生后,英国外交大臣艾登于7月20日正告日本政府说:“中国政府渴望和平,但蒋介石也有一个他不能放弃的底线。”英国首相张伯伦主张召开国际会议谋求中日停火的途径,但反对国际社会对日本进行经济制裁和军事制裁。

日本占领北平和天津后,又制造了“八一三事变”,进一步扩大侵略。英国社会各界力量和团体以及个人,多数主张英国改变对日态度。1938年5月7日,英国驻华大使许阁森向英国外交部建议,应该援助中国。英国政府也开始采取一些具体措施。如,重开了滇缅路,让抗日物资运送到中国,还给了中国800万英镑的出口贷款。1938年10月16日,丘吉尔在对美国人民的广播中歌颂了中国人民的抗日战争,他相信中国人民绝对不会被征服。

——据李世安、陈淑荣《卢沟桥事变后英国对日政策的转变》

(1)根据材料并结合所学知识,概括卢沟桥事变后英国对日态度的转变,并分析其原因。(8分)

(2)根据材料并结合所学知识,简要评价卢沟桥事变后英国的对日政策。(7分)

4. (10分) 历史——选修4:中外历史人物评说】

材料 1922年,毛泽民创办了安源路矿工人消费合作社,用融资的办法帮助贫苦工人,同时也为党筹措了大量经费,这是中共第一次探索自己的金融事业。1931年,苏区由于国民党的封锁,财经形势严峻,毛泽民深感自己财会经验不足,便四处搜集专业书籍,甚至还对缴获的国民党税务机关的四联单进行改造,很快制订出了《中华苏维埃共和国国家银行暂行章程》等法规,又统一货币,健全了苏区的财政金融体制。1932年,毛泽民创办钨矿公司、洗砂厂,用矿石与广东地方势力做生意。毛泽民作为中央财政人民委员会委员和国家银行行长,廉洁奉公,他要求部下,“我们是为工农管钱、为红军理财的,一个铜板也不能乱花!”

——摘编自朱天红《毛泽民传》

(1)根据材料概括毛泽民经济管理工作的特点。(8分)

(2)根据材料并结合所学知识,简析毛泽民经济管理工作的意义。(7分)

关于我们

自主选拔在线是致力于提供新高考生涯规划、强基计划、综合评价、三位一体、学科竞赛等政策资讯的升学服务平台。总部坐落于北京，旗下拥有网站（[网址：www.zizzs.com](http://www.zizzs.com)）和微信公众平台等媒体矩阵，用户群体涵盖全国90%以上的重点中学师生及家长，在全国新高考、自主选拔领域首屈一指。

如需第一时间获取相关资讯及备考指南，请关注**自主选拔在线**官方微信号：**zizzsw**。



 微信搜一搜

 自主选拔在线

