

机密★启用前

## 2023年全省普通高中学业水平等级考试

# 历史

### 注意事项

1. 答卷前、考生务必将自己的姓名、考生号等填写在答题卡和试卷指定位置。
2. 回答选择题时，选出每小题答案后，用铅笔把答题卡上对应题目的答案标号涂黑。如需改动，用橡皮擦干净后，再选涂其他答案标号。回答非选择题时，将答案写在答题卡上。写在本试卷上无效。
3. 考试结束后，将本试卷和答题卡一并交回。

一、选择题：本题共15小题，每小题3分，共45分。每小题只有一个选项符合题目要求。

1. 私有财产是生产力发展到一定程度的产物。下列与陶器相关的考古发现中，可以用来作为私有财产已出现证据的是
  - A. 遗址出土有陶器和较多陶器碎片
  - B. 多人合葬墓随葬品有陶钵、陶罐、骨器等
  - C. 单人墓随葬品有陶器、石磬、玉钺等百余件
  - D. 陶器上绘有丰富多彩的几何图案和动植物纹样
2. 先秦贵族尚马车，贱牛车，此风秦汉犹存。及至东汉晚期，天子至士因牛车慢、稳、宽敞、严密，可障帷设几、任意坐卧而竞相乘坐，出行乘牛车遂成为一种风尚。这种“风尚”反映了
  - A. 政治衰颓的时代景象
  - B. 戒奢尚俭的社会风气
  - C. 重农崇耕的思想观念
  - D. 豪强势重的政治现实
3. 图1为西汉与隋京畿区示意图。与西汉相比，隋京畿区的变动是为了



图1

- A. 减少制度变革阻力
- B. 拓宽财政收入来源
- C. 促进中原地区民族交融
- D. 缓解关中地区经济压力

历史试题 第1页（共8页）

4. 北宋理学家张载认为：“封建者，天下之事，分得简则治之精，不简则不精，故圣人必以天下分之于人，则事无不治者。……为天下者，奚为纷纷必亲天下之事？”这表明张载主张
- A. 扩大地方权力  
B. 恢复郡国并行制度  
C. 健全中央机构  
D. 简化官员选任程
5. 表1为1871~1921年中国进口的棉布、棉纱、钢铁、米等四类货物在进口总值中的占比(%)情况。其中甲是

表

| 年份        | 甲    | 乙    | 丙   | T   |
|-----------|------|------|-----|-----|
| 1871~1873 | 2.8  | 30.2 | 0.9 | 0.9 |
| 1881~1883 | 5.8  | 22.8 | 0.3 | 1.1 |
| 1891~1893 | 14.6 | 20.5 | 5.9 | 1.8 |
| 1901~1903 | 18.6 | 19.7 | 4.2 | 1.7 |
| 1909~1911 | 12.8 | 16.7 | 4.8 | 3.0 |
| 1919~1921 | 9.6  | 18.4 | 2.4 | 5.0 |

- A. 钢铁  
B. 棉纱  
C. 米  
D. 棉布
6. 图2为1919年12月《少年社会》的创刊宣言。这表明该刊编者认识到

少年社会有两个意思：(一)少年的社会。(二)社会的少年。  
少年的社会，是有少年精神气象的社会——进步的社会。  
社会的少年，是有社会生活情感的少年——协助的少年。……  
怎样使现在少年变成社会的少年，现在社会变成少年的社会，这就是我们的宗旨。……

图 2

- A. 互助协作是挽救危亡的主要手段  
B. 人的解放和社会改造是时代使命  
C. 青年学生是宣传社会主义的主力军  
D. 理性觉醒和教育革新是革命的前提
7. 1938年7月，陕甘宁边区民众剧团正式成立。剧团演出时，会在戏台两边挂起“中国气派，民族形式，工农大众，喜闻乐见；明白世理，尽情尽理，有说有笑、红火热闹”的对联。民众剧团常年在边区巡回演出，深受欢迎。该剧团的主要任务是
- A. 创新民族文化传播方式  
B. 团结工农建设边区政权  
C. 动员民众投身民族民主革命  
D. 落实中国共产党的群众路线
8. 1956年，毛泽东在谈到国家与工厂的关系时指出：“统一性和独立性是对立的统一，要有统一性，也要有独立性。……各个生产单位都要有一个与统一性相联系的独立性，才会发展得更加活泼。”毛泽东强调的是
- A. 适当提高工厂的生产经营自主权  
B. 适度发挥市场的调节作用  
C. 平衡工商企业改造中的公私关系  
D. 鼓励个体私营经济的发展

历史试题 第 2 页 (共 8 页)

9. 新中国成立以来，中国十分重视与周边国家的交往：20世纪50年代，提出和平共处五项原则；2003年，提出“睦邻、安邻、富邻”的周边外交政策；中共十八大以来，坚持“与邻为善、以邻为伴”的外交方针，突出体现“亲、诚、惠、容”的外交理念。这主要是为了
- A. 消除分歧增进互信  
B. 构建均衡发展格局  
C. 深化合作共谋发展  
D. 改善全球治理体系
10. 自罗马共和国晚期起，拱门形制逐渐成为古罗马建筑的一个显著特色。据图3可知，人类文明交往

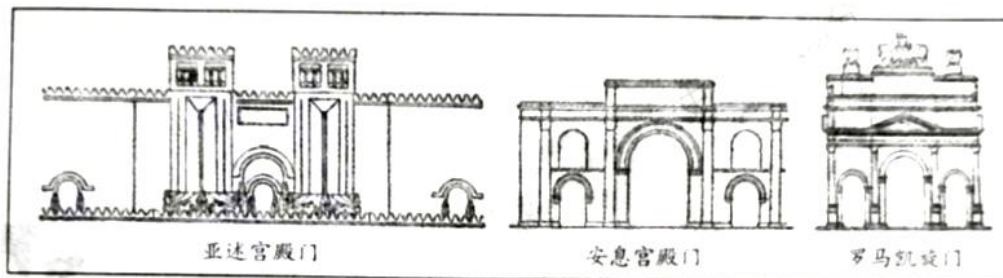


图 3

- A. 促进了文化艺术的融合  
B. 推动了区域文化的统一  
C. 改变了文化中心的分布  
D. 重塑了民族文化的内核
11. 1648年形成的威斯特伐利亚体系，承认了瑞士和荷兰独立，划定了欧洲大陆各国国界；1815年形成的维也纳体系，恢复了拿破仑战争前的欧洲均势，创立和重建了一些国家。这反映了欧洲
- A. 国际协调机制更趋合理  
B. 国家主权意识不断增强  
C. 各国完成了向民族国家转变  
D. 大国主导的政治格局被打破
12. 图4为某一时期欧洲主要殖民国家在美洲和非洲的殖民地分布示意图。这一时期

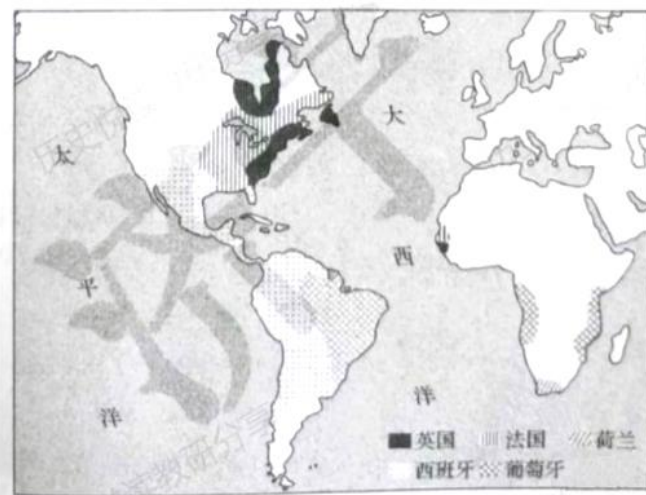


图 4

历史试题第3页（共8页）

- A. 拉丁美洲民族独立运动兴起                      B. 大西洋三角贸易已走向衰落  
C. 西、葡殖民优势逐渐被打破                      D. 倾销工业品是主要掠夺手段
13. 19世纪后期，用变异和自然选择揭示生物界演化规律的《物种起源》与用经济力量和经济学原理揭露资本主义制度秘密的《资本论》，在哲学、神学和社会政治学说中引起巨大震荡。这是因为二者都
- A. 总结了工业社会的发展规律  
B. 推动了科学革命的深入发展  
C. 冲破了神学对人们思想的束缚  
D. 发现了斗争是人类进步的原因
14. 1961年，加纳领导人克瓦米·恩克鲁玛在其著作中指出，非洲许多地区在文化、语言和思想上确实存在着很大差异，但“我们都是非洲人，这是基本的事实……语言、文化和政治体制不同所带来的困难并不是不能战胜的”。他力图
- A. 实现非洲各国的独立  
B. 建立非洲国家的联合  
C. 保持非洲地区文化的多元性  
D. 解决非洲内部发展的不平衡
15. 图5为1949~1985财政年度美国联邦政府研发投资中用于国防研究的占比(%)情况影响其变化的主要因素是




图5

- A. 国内经济的发展状况                                      B. 对外战争的频度烈度  
C. 国际科技竞争的压力                                      D. 政府外交战略的调整

二、非选择题：本题共4小题，共55分。

16. (14分)阅读材料，回答问题。

#### 程元通控告棚民案

乾隆朝后期及嘉庆朝，大批异籍农民涌入安徽等地，就山搭棚，垦荒为生，被称为棚民。乾隆五十九年，安徽徽州休宁程氏的一些族人私下将山场租给棚民种苞谷。随着开种山场规模扩大，部分族人与棚民发生纠纷并持续多年，遂于嘉庆十二年以族长程元通名义派程怡仁到都察院控告棚民。

#### 程氏状词

“我们住居地方，环抱皆山，祸遭流匪方会中等向无业地棍程金谷等盗租山场，搭棚纠集多人，私行开垦，种植苞谷，以致山倾石泄，涨塞河道，山上坟莹尽行挖掘，山下田庐皆受其害。该棚匪千百成群，实为地方之患”

#### 嘉庆上谕

“或设立禁约，责令逐渐迁移，或勘定界址，就地妥为安插，不致无籍之徒愈聚愈多，日久为害地方，亦不至驱逐过骤，激成事端。……以期永杜争端，辑宁民业为要。”

#### 地方处理意见

酌断山主退还部分租价银，“方会中等遵即拆棚领银，孥属回籍”。其他棚民，或“酌定章程，分年饬令退山”，或“呈明入籍，照旧编甲”。

程怡仁“照虚捏情节混供……杖九十，徒二年半。据供母老丁单，斥县查明照例办理”。其他人等，按律处理。

嗣后，禁“山场混召异籍之人搭棚开垦”，“严定专条，有犯从重科罪”，令各族长、祠长“勒石公祠中，俾共知警惕”。

— 摘编自中国第一历史档案馆《嘉庆朝安徽浙江棚民史料》

(1) 该案主要是由哪些矛盾引发的?(6分)

(2) 案件的处理体现了当时社会治理的哪些特点?(8分)

历史试题第5页(共8页)

17. (12分) 阅读材料, 回答问题。

书中的时代·时代中的书

表2、表3是晚清某位思想家(1809~1874)代表作的目录摘编和版本情况。

表2

|     |                           |
|-----|---------------------------|
| (一) | 汰冗员议 广取士议 厚养廉议<br>减兵额议 …… |
| (二) | 均赋税议 兴水利议 筹国用议<br>罢关征议 …… |
| (三) | 重儒官议 改科举议 改会试议<br>停武试议 …… |
| (四) | 收贫民议 稽户口议 严盗课议<br>复宗法议 …… |
| (五) | 制洋器议 善驭夷议 采西学议<br>重专对议 …… |

|           |
|-----------|
| 稿本        |
| 抄本        |
| 津河广仁堂刻本   |
| 江西豫章刻本    |
| 弢园老民活字印本  |
| 潘氏敏德堂刻本   |
| 丰城余氏刻本    |
| 弢园老民铅印本   |
| 文瑞楼石印本    |
| 聚丰坊校刻本    |
| 冯世激刻本     |
| 上海书局石印本   |
| 仿泰西法石印本   |
| 北洋官书局石印本  |
| 江右两仪堂刻本   |
| 关中味经官书局刻本 |

表3

|                 |
|-----------------|
| 成书于咸丰十一年(1861)  |
| 1861年后在士大夫中广泛流传 |
| 光绪九年 (1883)     |
| 光绪十年 (1884)     |
| 光绪十一年 (1885)    |
| 光绪十八年 (1892)    |
| 光绪二十三年(1897)    |
| 光绪二十三年(1897)    |
| 光绪二十三年(1897)    |
| 光绪二十三年(1897)    |
| 光绪二十四年(1898)    |
| 光绪二十四年(1898)    |
| 光绪二十四年(1898)    |
| 光绪二十四年(1898)    |
| 光绪二十四年(1898)    |
| 光绪二十四年(1898)    |

\_\_\_\_\_据《江苏艺文志》等

- (1) 书中的时代是一个怎样的时代?(4分)
- (2) 表3对我们了解这部书在时代中的作用有什么帮助?谈谈你的看法。(8分)

18. (12分) 阅读材料，回答问题。

### 一份人才招聘启事

1981年9月17日，深圳市蛇口工业区在《广州日报》登载了一份人才招聘启事。

为适应我区建设发展需要，经上级批准，拟在广州招收一批有志于企业管理的技术人才，进行企业管理、外贸业务和商业英语等知识的培训，为期一年。结业后，由我区统一分配到区内各企业工作。

凡符合下述条件的职工均可报考：

1. 坚持四项基本原则，道德品质好，谈吐及待人接物坚持“五讲四美”；
2. 大专院校理工和财经专业毕业，有一定的实际工作经验；
3. 具有初等英语基础；
4. 有一定的社会知识和中文水平；
5. 年龄在45岁以下，身体健康。

——居南兆旭《深圳记忆：1949—2009》

结合材料，以“深圳·窗口”为题写一则历史短文。(12分)

(要求：表述成文，叙述完整；立论正确，史论结合；逻辑严密，条理清晰。)

19. (17分) 阅读材料，回答问题。

历史的折页：1924年温布利博览会

20世纪初，英国提出了与自治领和殖民地举办一次博览会的计划。因为第一次世界大战爆发，这一计划搁浅。一战后，计划重启。1924年，博览会在伦敦温布利举办。图6为本次博览会规划示意图和相关展览内容

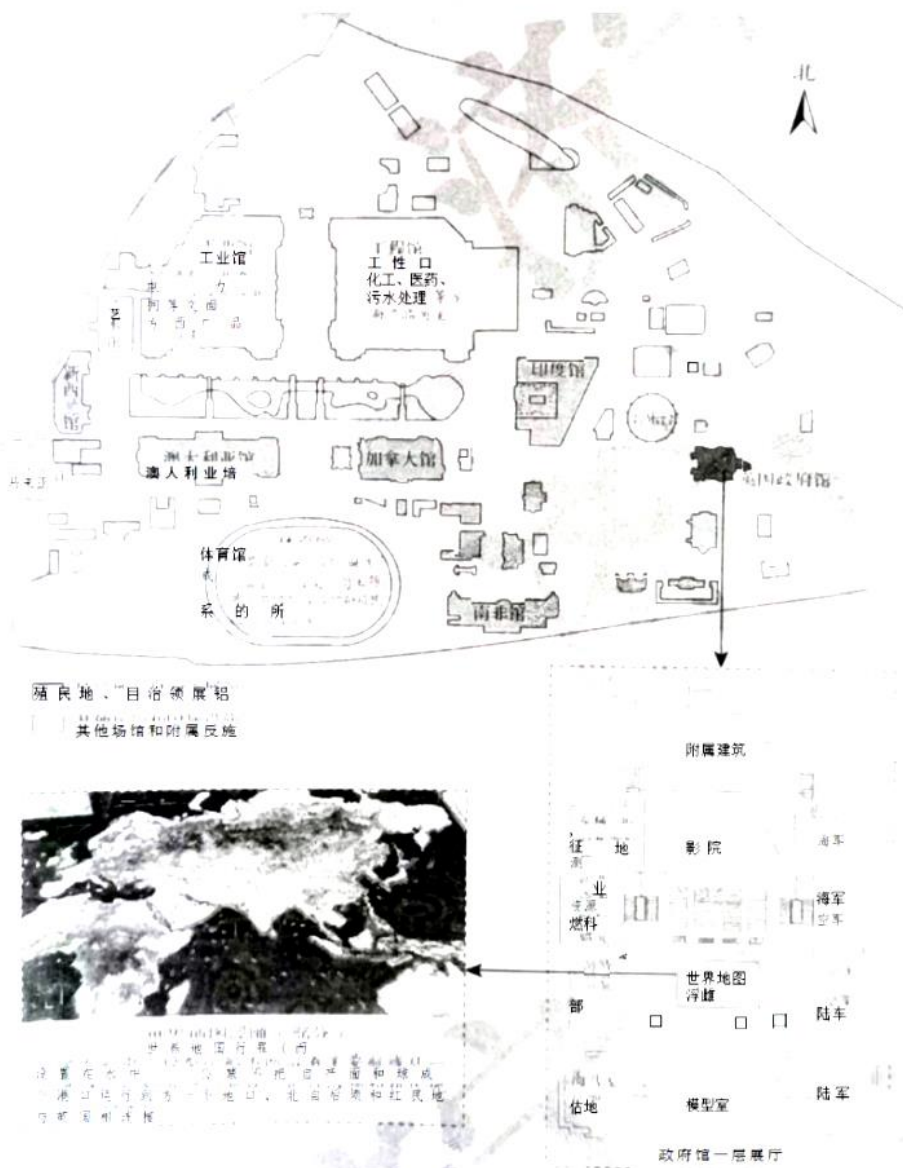


图 6

据《谢菲尔德每日电讯》等

材料中哪些信息可以作为解释英国为什么举办这次博览会的证据？概括说明理由。(17分)

历史试题第 8 页 (共 8 页)



## 关于我们

自主选拔在线是致力于提供新高考生涯规划、强基计划、综合评价、三位一体、学科竞赛等政策资讯的升学服务平台。总部坐落于北京，旗下拥有网站（网址：[www.zizzs.com](http://www.zizzs.com)）和微信公众平台等媒体矩阵，用户群体涵盖全国 90% 以上的重点中学师生及家长，在全国新高考、自主选拔领域首屈一指。

如需第一时间获取相关资讯及备考指南，请关注**自主选拔在线**官方微信号：**zizzsw**。



 微信搜一搜

 自主选拔在线