

南平市2023届高中毕业班第三次质量检测

历史试题

本试卷共6页。考试时间75分钟。满分100分。

注意事项:

1. 答卷前,考生务必将自己的姓名、准考证号填写在答题卡上。
2. 回答选择题时,选出每小题答案后,用2B铅笔把答题卡上对应题目的答案标号涂黑。如需改动,用橡皮擦干净后,再选涂其它答案标号。回答非选择题时,将答案写在答题卡上。写在本试卷上无效。
3. 考试结束后,将本试卷和答题卡一并交回。

一、选择题:本题共16小题,每小题3分,共48分。在每小题给出的四个选项中,只有一项是最符合题目要求的。

1. 西周中晚期的五祀卫鼎、散氏盘、师永孟等青铜器,均有土地交换转让的铭文,其中一些还涉及了土地赔偿案件的审理程序。这反映当时
 - A. 土地私有制已确立
 - B. 司法判决依据明晰
 - C. 井田制度出现松动
 - D. 宗法分封体系崩溃
 2. 汉文帝采纳晁错的建议,实行“入粟拜爵”之策,“募天下入粟县官,得以拜爵,得以除罪。”这一政策
 - A. 有助于缓解汉初农业生产的困境
 - B. 导致了汉朝社会政治风气的败坏
 - C. 有利于西汉外儒内法理念的实施
 - D. 弱化了重农抑商政策的社会影响
 3. 唐高宗时组织人员编修《唐本草》,“普颁天下,营求药物”,并令绘出实物图谱。据考证,药典里药图来源至少有13道133州。由此可知,《唐本草》的编修
 - A. 强调中医的辨证论治
 - B. 传承了前人的编写经验
 - C. 重视药物的实地取证
 - D. 确立了医典的修撰原则
 4. 明代是城隍信仰发展的转折点。朱元璋于洪武元年发诏书,所有县级以上的城市都要建造城隍庙,后向下扩展到一些经济比较发达的镇,构建起了和行政等级完全一致的城隍信仰建制。城隍信仰建制旨在
 - A. 强化君权神授的主流意识
 - B. 利用民间信仰为统治服务
 - C. 促成城隍文化的全面繁荣
 - D. 顺应城市经济的发展需要
- 《福建通志》载,建宁府浦城县,民“焚山而樵,掘根株,种苞谷(玉米),泉竭苗枯,土松溪积,旱潦(涝)可虞(预料)”。这说明了
 - A. 玉米种植加剧生态环境恶化
 - B. 土地开发利用需要统筹兼顾
 - C. 小农经济推动产业结构调整
 - D. 人为灾害频繁导致民生艰辛

6. 鸦片战争后，魏源将西方的强大归于兵工，主张师夷兵工以筹海，可谓睁眼看世界之“近谋”；徐继畲则更深入探究西方兵工赖以产生的制度基础，提出师法泰西文明以自强，可谓睁眼看世界之“远略”。这说明
- A. 根深蒂固的华夷观念得以转变
B. 外来侵略促进民主意识增强
C. 中体西用的价值理念付诸实践
D. 民族危机引发士人思想嬗变
7. 1934年4月，毛泽东在《乡苏维埃怎样工作》中指出：乡苏代表会议每星期应开会一次，带回并讨论群众的要求和意见，其形成的决议应向群众报告，并动员群众来执行。毛泽东详尽阐述乡苏维埃工作流程意在
- A. 推动红色政权管理的民主化
B. 强调乡苏代表会议的重要性
C. 动员社会各界抗日的积极性
D. 构建革命根据地的治理模式
8. 表1 中共在陕甘宁边区实施的部分举措

时间	内容
1939年1月	召开陕甘宁边区第一届参议会
1941年11月	公布《陕甘宁边区施政纲领》
1942年5月	召开文艺工作者座谈会，阐明革命文艺为人民服务
1942年12月	开展“发展经济，保障供给”的大生产运动

表1 举措的实施

- A. 巩固了国民大革命的社会基础
B. 促成了抗日民族统一战线建立
C. 适应了民族战争新形势的需要
D. 完善了陕甘宁边区的组织建设
9. 1949年1月，中共中央的一次会议指出：“全党大多数干部，在过去几年，特别是一九四八年，有系统地学会了在农村工作中，在城市工作中和在军事工作中的各项具体的政策和策略……这是一个最伟大和最根本的胜利。”这
- A. 提供了社会主义改造的理论依据
B. 推动了党的工作重心向城市转移
C. 丰富了科学社会主义的理论体系
D. 指明了新生政权建设的根本方向
10. 据图1可以推断，中国城市轨道交通
- A. 兼具轻轨与快轨的综合特性
B. 助力公交与地铁的有效互补
C. 利用地上与地下的闲置空间
D. 减缓运力与运量的交通矛盾

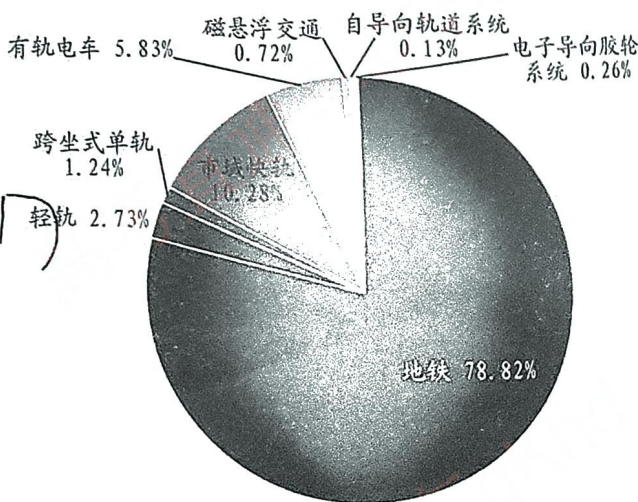


图1 截止2020年末中国城市轨道交通运营里程

“近
强，

次，
译

11. 《荷马史诗》中的神话故事，广泛地体现了古希腊的社会风貌与人民的生活和斗争，如赫拉克勒斯、阿喀琉斯等，他们在历史发展的紧要关头往往能够决定历史的变化方向。这反映了《荷马史诗》
- A. 重视神话对希腊历史研究的作用 B. 追求成就自我实现的人文思想
C. 完全肯定了人的尊严价值和力量 D. 大力宣扬理性主义的英雄史观
12. 据估计，1620~1642年，英国约有58万人越过大西洋，去往北美和加勒比地区。50年代至60年代，海外迁移达到高峰。迁移人群中不仅有清教徒，而且有天主教徒、罪犯等。据此推断，17世纪英国人口的迁移
- A. 减轻了农村就业和生计的压力 B. 实现了殖民文化向多层次转型
C. 推动了殖民扩张和贸易的发展 D. 缓和了欧洲地区新旧教派矛盾
13. 1847年7月9日，大资产阶级代表巴罗在巴黎举行了第一次宴会运动，要求政府进行选举改革。此后在短短的几个月内，宴会运动成为声势浩大的社会运动，尤其是广大工人举行的宴会，公开号召起来革命，推翻七月王朝的统治。法国宴会运动
- A. 显示出民众政治参与的强烈愿望
B. 标志着工人阶级登上历史的舞台
C. 改变了金融贵族独霸政权的局面
D. 深刻影响西欧各国的政治现代化
14. 1861年，马克思在《致费迪南·拉萨尔》上说：“达尔文的著作非常有意义，这本书我可以用来当作历史上的阶级斗争的自然科学根据。”他也认为“人的存在具有特殊性，不能将自然法则直接搬到人类社会。”这说明了
- A. 进化论为马克思主义诞生奠定理想基础
B. 自然选择法则能准确解释人类社会的发展
C. 适者生存和优胜劣汰是社会发展的规则
D. 社会科学的研究可以借鉴自然科学理论
15. 1929~1932年，苏联政府多次通过扩大出口生产和提高质量的决议，并加强了对出口任务监督，完成出口计划成为苏维埃的关注中心。1931年，劳动与国防委员会作出决议：把国家出口外汇收入的一半划归企业支配，以弥补它们进口需要。苏联的这些举措
- A. 应对了经济大危机的冲击 B. 打破了西方世界的贸易垄断
C. 筹集了工业化所需的资金 D. 改善了与资本主义国家关系
16. 据统计，2012年全球大约1260万人由于环境原因死亡，占总死亡人数的23%；2014年全球海洋中的塑料垃圾在480~1270万吨之间；2016年全球只有70个国家发布了具有法律约束力的限制铅涂料条例。这些问题表明
- A. 全球治理的艰难踟蹰 B. 可持续发展日益成为人们共识
C. 经济全球化迅猛发展 D. 环境污染与经济发展难以协调

二、非选择题：本题共4小题，共52分。

17. 阅读材料，完成下列要求。（8分）

材料 表2 福建省入选世界文化遗产名录（部分）

世界文化遗产地	入选时间	入选理由
南平武夷山	1999年	这是一处被保存了两千多年和拥有一系列考古遗址、遗迹的文化圣地。它的船棺、古崖居遗构和西汉闽越王城遗址真实地再现了业已消逝的古代文明。它拥有被称为“世界桥梁建筑活化石”的徐庆桥。它的茶文化与儒释道完美融合。朱子理学文化在这里通过文献资料、摩崖石刻、书院遗址等，得到了完整地阐释，影响深入到中国社会的各个方面并远及东亚、东南亚乃至欧美。
福建土楼	2008年	这是世界上独一无二的大型生土夯筑的建筑艺术成就，具有悠久的历史 and “普遍而杰出的价值”。它全面展现了东方血缘伦理关系和聚族而居传统文化相结合的特征。它或依山就势、或沿循溪流，风格古朴，形式优美，尺度适当，功能齐全实用，真实地再现了人与自然和谐统一的生活。
厦门鼓浪屿	2017年	这是具有突出文化多样性和现代生活品质的国际社区。它完整地反映了19世纪中叶至20世纪中叶百年间，闽南传统风格、殖民地外廊式、西方古典复兴式、现代主义等建筑风格的交流、互鉴、融合。它真实地突出了延续至今的住区功能和性质、保存完好的城市空间格局与道路体系等。

9:20
10:15

——根据福建省文物局《福建文化遗产简介》整理

从表2中任选一处，归纳其作为世界文化遗产所体现的普遍价值，并说明其入选的意义。

18. 阅读材料，完成下列要求。（24分）

材料一 “华盛顿共识”即1989年出现的一整套针对拉美国家和东欧转轨国家的、新自由主义的政治经济理论。其主张发展经济必须通过自由市场机制的充分发挥，采取自由经济发展模式，同时严格限制政府干预。在市场运作方面，私有产权是基础安排，鼓励私人自由参与市场竞争，降低边际税率，激励盈利欲望，开放国内市场。实施自由贸易，参与全球化合作竞争促进经济发展，促进资本自由流动，利率市场化和汇率竞争浮动。在政府管理方面，放松管制，国企私有化，控制财政支出，削减财政赤字，降低通货膨胀率，保证宏观经济平稳。

9:20 10:15

——摘编自易娅莉《中国经济模式发展分析——基于“华盛顿共识”“北京共识”和“孟买共识”的比较》

9:40

材料二 1992年，中共十四大提出要建立社会主义市场经济体制的目标，在操作层面，改变了原有的计划性资源配置模式，实现了以市场为主导的配置方式，促进了各种资源的有

效流通，提高了发展效率和质量，充分调动了广大人民的积极性。改革开放以来，理顺了政

企关系，探索出一条国企产权与经营权分离的路子，推进了国企的改革与发展。同时，在社

会保障、文化教育、医疗卫生、能源基础设施等方面也加快了改革进程，使人民共享改革成

果。改革开放使中国打开了大门，将自身尽快融入到世界发展之中，遵循世界经济规则，参

与世界各类经济组织，利用好国际国内两个市场，实现互惠共赢。中国还不断开放国内市场，

允许并鼓励外资进入，不断降低关税壁垒，发展自由贸易。中国的改革充满着自己的智慧，

也是中国自己的方案。


——摘编自韩利《全球化时代背景下中国改革开放路径、战略与精神标识》

9:00
0:15

- (1) 根据材料一，概括“华盛顿共识”的特征，并结合所学知识，分析“华盛顿共识”提出的背景。(14分)
- (2) 根据材料并结合所学知识，说明与“华盛顿共识”相比中国改革的不同之处，并归纳中国为世界提供的智慧方案。(10分)

19. 阅读材料，完成下列要求。(12分)

材料 解说词是结合事物的图像、实物等进行解释说明的文辞，它通过对事物准确描述，使观众和听众了解事物的来龙去脉、特征和意义等。图2是1956年法国巴黎国际博览会中国馆建筑及展品。



重工业、轻工业、农业和工艺美术、手工艺等品类，其中后两者展出有各种书籍文具、象牙雕刻、玉器、景泰蓝、漆器、陶器、瓷器、竹篾器、家具，以及绫罗绸缎、毛织物、名贵织锦、巨幅刺绣屏风、各色各样的妇女旗袍、儿童服装和地毯等。

图2

——摘编自郑立君《新中国“十七年”参加国际博览会及展览设计略论》

根据材料并结合所学知识，从图2中提炼一个主题，并撰写解说词。(要求：主题恰当，介绍准确，史论结合，逻辑清晰)

面，
的有
政
社
成
参

20. 阅读材料，完成下列要求。（8分）
材料




图3 隋-敦煌莫高窟407窟 三兔联跑莲花飞天藻井

“三兔共耳”的装饰图案广泛分布于古丝绸之路沿线的亚欧大陆各地，成为当地宗教、文化与民众日常生活中的图饰，沿用至今。目前已知该图案年代最早的实例存于敦煌莫高窟壁画中。壁画中“三兔共耳”发端于隋初，图案的主体构成呈圆形，三只兔子以等边三角形均匀分布其中，两两共用一耳，相互追逐，首尾相接，动感十足，造型优美。古人眼中“兔”的内涵很丰富，西晋张华《博物志》中说：“兔舐毫望月而孕，口中吐子。”“三兔共耳”的“共生”创作手法也体现着中国传统宇宙观，有自秦汉以来“三圆三方”宇宙模型的影子，体现着天圆地方、天人合一的哲学观念。一些西方学者认为“这幅图具有神秘的力量”，能够为人们带来无限遐想和吉祥的寓意。

——摘编自赵燕林《千年壁画“三兔共耳”缘何闻名中西？》

- (1) 根据材料，概括“三兔共耳”装饰图案所蕴含的历史信息。（4分）
- (2) 根据材料并结合所学知识，选择一种类型的史料佐证“三兔共耳”所体现的哲学观念，并简要说明。（4分）

关于我们

自主选拔在线是致力于提供新高考生涯规划、强基计划、综合评价、三位一体、学科竞赛等政策资讯的升学服务平台。总部坐落于北京，旗下拥有网站（[网址: www.zizzs.com](http://www.zizzs.com)）和微信公众平台等媒体矩阵，用户群体涵盖全国90%以上的重点中学师生及家长，在全国新高考、自主选拔领域首屈一指。

如需第一时间获取相关资讯及备考指南，请关注**自主选拔在线**官方微信号：**zizzsw**。



 微信搜一搜

 自主选拔在线

