

2022 学年第二学期杭州市高三年级教学质量检测

历史试题卷

考生须知：

1. 答题前，请务必将自己的姓名、准考证号用黑色字迹的签字笔或钢笔分别填写在试题卷和答题纸规定的位置上。

2. 答题时，请按照答题纸上“注意事项”的要求，在答题纸相应的位置上规范作答，在本试题卷上的作答一律无效。

选择题部分

一、选择题 1 (本大题共 17 小题，每小题 2 分，共 34 分。每小题列出的四个备选项中只有一个是符合题目要求的，不选、多选、错选均不得分)

1. 中国是远古人类的重要起源地之一。图 1 是山西襄汾陶寺城址示意图。该古代文明

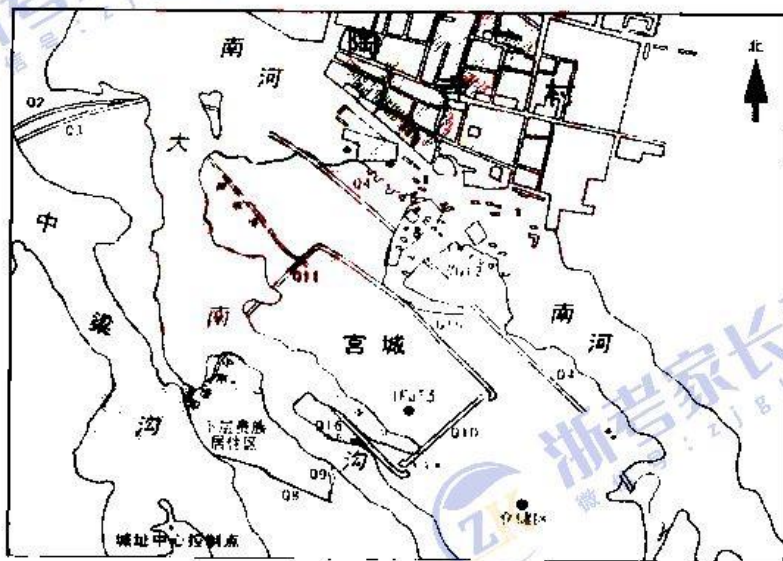


图 1

①是龙山文化的典型代表 ②最早饲养猪和狗等家畜

③具备了国家的初始形态 ④处于母系氏族社会阶段

A. ①④

B. ②③

C. ①③

D. ②④

2. 吴起治楚，规定“封君之子孙三世而收爵禄，废公族疏远者”；商鞅治秦，规定“宗室非有军功论，不得为属籍。明尊卑爵秩等级，各以差次……”。上述举措有利于

A. 打击贵族世袭特权

B. 形成天下一家的文化认同

C. 促进庄园经济发展

D. 奠定秦朝统一霸业的基础

3. 《汉书·食货志》载：“天下既定……上于是约法省禁，轻田租，什五而税一，量吏禄，度官用，以赋于民”。这表明汉初
- A. 采取“与民休息”政策
B. 征收的赋役种类繁多
C. 推行“重农抑商”政策
D. 注重民众的自我管理
4. “事为之防，曲为之制”被认为是宋朝祖宗家法的实质精神。这种精神首先贯彻到制度的设计之中。以下官职或机构的设置与上述精神相符的是
- ①知州与通判 ②枢密院与“三衙” ③三司使与提点刑狱司 ④同平章事与参知政事
- A. ①②③ B. ①②④ C. ①③④ D. ②③④
5. 金石学以古代青铜器和石刻为研究对象。北宋时期，金石学成为专门的学问，金石学家希望通过研究古器物“补经传之阙亡”。清代金石考据之风更盛，在鉴别、分类及文字考证等方面多有成就。据此可知
- A. 中国历代帝王十分重视收藏各种古玩器物
B. 古代中国具有保护和研究文物的历史传统
C. 古代中国比西方更早的具有文物保护意识
D. 清代考据之风更盛得益于西学东渐的影响
6. 1899年，梁启超在《清议报》发文指出，日本维新以来的译书集中于政治学、理财学、经济学、哲学、社会学等，而晚清中国的译书偏重于军事学、工艺学，在政治学、财政经济学方面“几无一书焉”。由此可见，梁启超
- A. 倡导政治革命救亡图存
B. 认为中国军事改革迫在眉睫
C. 仿效日本改革封建制度
D. 反思救国道路上的理论缺陷
7. “这是人类历史上第一次依靠科学手段，在人口密集的大城市成功控制传染病的行动。这一年(1911年)，无论美内外的《盛京时报》《申报》《大公报》，乃至众多日俄媒体……几百份报刊连篇累牍地报道着满洲鼠疫，以至于郑孝胥也感慨：竟成世界新闻。”中国这次防疫工作
- ①得到舆论广泛关注和国际社会的认可
②伍连德等大量医护人员做出突出贡献
③民国政府鼓励采用西方科学手段进行防治
④客观上推动中国近代公共防疫事业的发展
- A. ①②③ B. ①②④ C. ①③④ D. ②③④
8. “根据外国来访者对边区的观察，他们对这里实行的选举程式、民众之参与政治进程，以及公民权的扩大等事物的印象极为深刻，他们认定红色中国称得上是一种民主制度。”该制度
- A. 巩固抗日民族统一战线
B. 是创建人民革命政权的最初尝试
C. 确立了农民土地所有权
D. 为新中国政权建设奠定理论基础

9. 图2、图3是新中国两个不同历史时期的主要新建工业分布示意图。新建工业分布出现明显的变化,其主要原因是

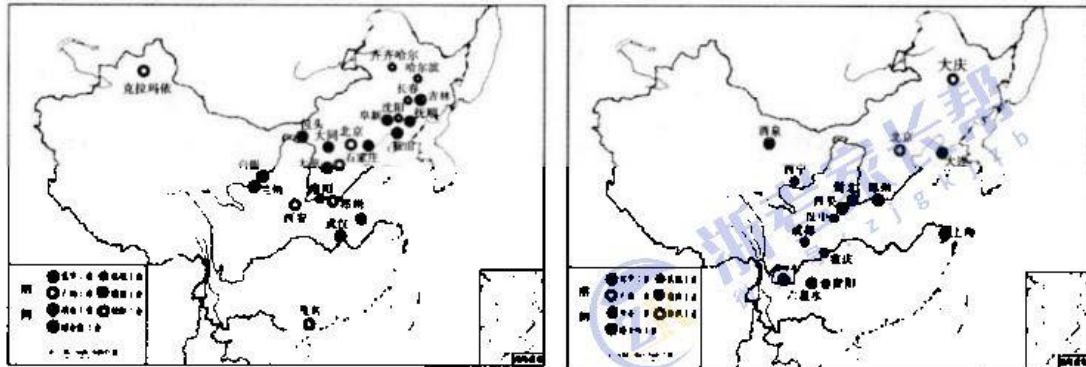


图2 20世纪50年代的新建工业分布示意图 图3 20世纪60、70年代的新建工业分布示意图

- A. 全面恢复国民经济的需要 B. 中央对经济工作执行“八字”方针
C. 片面追求经济建设高速度 D. 国际形势严峻和战争威胁的加剧
10. 图4为“新中国不同时期新增建交国家数量示意图”对其前四个阶段解读正确的是

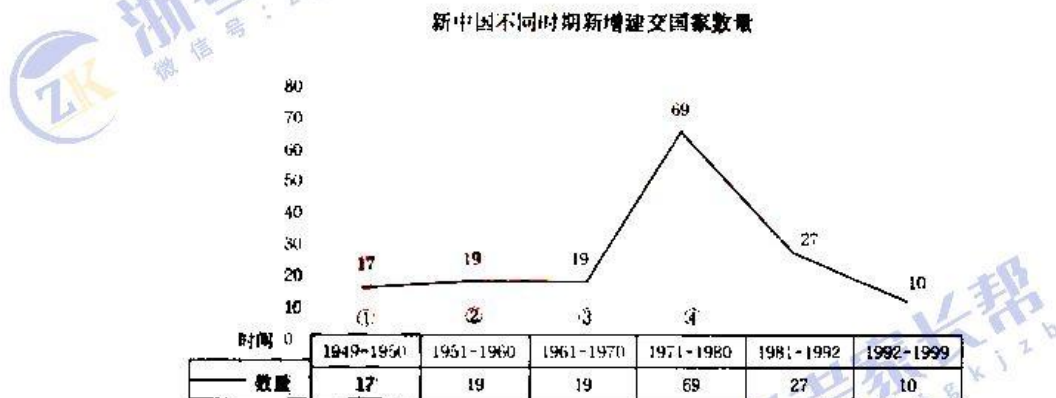


图4 新中国不同时期新增建交国家数量示意图

- A. 阶段①外交成就得益于和平共处五项原则的提出
B. 阶段②时期我国与英国升格为大使级的外交关系
C. 阶段③时期我国实现同西方大国外交关系的突破
D. 阶段④时期打开外交新局面源于中苏关系正常化
11. 伯里克利在悼念雅典英雄的演说中宣称:“我们的制度之所以被称为民主政治,因为政权是在全体公民手中,而不是掌握在少数人手里。当法律对所有人都一视同仁、公正地调解人们的私人争端时,民主政体的优越性也就得到确认。”以下能为其观点提供佐证的是
- ①公民的政治权利 ②官员的产生方式 ③陪审法庭的职权 ④公民的构成条件
- A. ①②③ B. ①②④ C. ①③④ D. ②③④

12. 《剑桥古代史》主编伯里认为：“西方文明的根源不能到西欧和北欧的凯尔特人和森林中去寻找，而要到古代埃及和两河流域那里寻根。”该主张
- A. 否定了希腊文明作为欧洲文化源头的历史观点
 - B. 强调西方文明是古埃及和两河流域文明的产物
 - C. 可以在冶铁技术和雕刻艺术方面找到史实依据
 - D. 是对二十世纪以来西方中心论思想的根本突破
13. 物种交流改变了人们的饮食习惯，丰富了人们的食物种类，深刻影响着人类的日常生活。以下关于番茄传播的史实正确的是
- A. 十六世纪末作为食用作物在欧洲推广
 - B. 最早由葡萄牙人从南美洲带回到欧洲
 - C. 十八世纪末欧洲培育的番茄新品种传回美洲
 - D. 明朝万历年间作为食用蔬菜在中国广泛种植
14. “只要政府开明，他倒不在乎政府的权力有多大。他所说的开明政府，是指向懒惰和愚蠢开战，使教士处于从属地位，允许思想自由和宗教自由，促进物质和技术进步事业的政府”文中的“他”是指
- A. 伏尔泰
 - B. 马丁·路德
 - C. 卢梭
 - D. 孟德斯鸠
15. 19世纪后期，英国史学家阿诺德·汤因比详细诠释了“工业革命”，使这一概念广为人知。工业革命极大地提高了生产力，改变了人们的生活方式和社会面貌，深刻影响了世界历史的发展进程。有关其影响表述正确的有
- ①马克思主义的诞生
 - ②现代企业管理制度逐步发展
 - ③社区组织开始形成
 - ④资本主义世界市场开始形成
- A. ①②
 - B. ②③
 - C. ①③
 - D. ②④
16. 苏联的一五计划期间，斯大林格勒拖拉机厂、第聂伯水电站以及三个主要钢铁厂等大型项目都引进了美国、德国的设备和技术，并高薪聘请外国专家和技工。对此的合理解释是
- A. 资本主义世界经济危机为其提供了机会
 - B. 苏联主动融入资本主义世界经济体系
 - C. 美苏因法西斯势力的威胁逐渐走向同盟
 - D. 高度集中计划经济体制是其根本保障
17. 20世纪60—80年代，新加坡、韩国作为东亚的新兴工业国，在经济发展的过程中，既注意发扬宽容、和谐、勤俭的精神，又大力提倡重科技、重管理、重效率的作风。这可以从一个侧面说明，二战后的新兴民族国家在建设现代化的过程中
- A. 率先建立起集约型劳作方式
 - B. 否定了本国传统文化在现代化建设中的作用
 - C. 消除了殖民主义的历史影响
 - D. 形成了本土文化与西方文化相结合的新文化

二、选择题 II (本大题共 5 小题, 每小题 3 分, 共 15 分。每小题列出的四个备选项中只有一个是符合题目要求的, 不选、多选、错选均不得分)

18. 有史家认为: 唐宋变革, 是指社会结构、政治体制、经济形态、文化性质、权力关系、政府组织的全面改变。这样的改变, 在我国历史上, 至少发生过四次: 一是殷周之际; 二是春秋战国; 三是唐宋之际; 四是晚清民国。以下关于这四个时期的改变, 对应正确的有

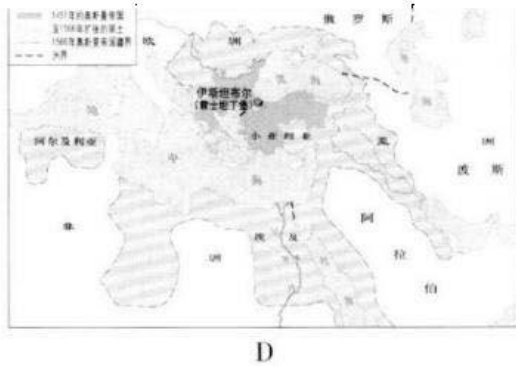
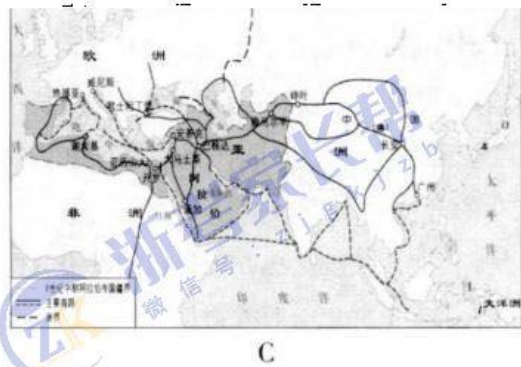
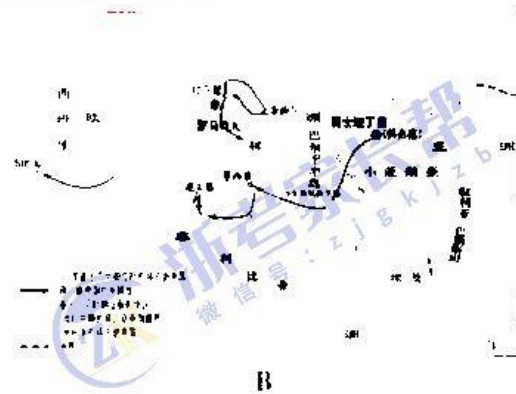
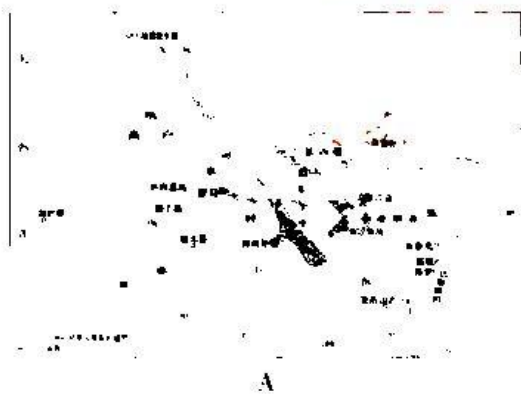
- ① 殷周之际——封建制邦国统一为郡县制帝国
- ② 春秋战国——农业家庭式劳作取代农夫集体耕作
- ③ 唐宋之际——士庶阶层之别明显到社会成员身份趋于平等
- ④ 晚清民国——君主专制集权体制逐渐向民主宪政体制过渡

- A. ①②③ B. ①③④ C. ①②④ D. ②③④

19. 晚清报纸曾经报道: “如公司一端, 人见轮船招商局与开平矿务获利无算, 于是风气大开, 群情若鹭, 期年之内, 效法者十数起。每一新公司出, 千百人争购之, 以得票为幸, 不暇计其事之兴衰隆替也。”这反映出

- A. 近代中国半殖民地化程度不断加深
- B. 轮船招商局和开平煤矿最早发行股票
- C. 新的商业经营方式在中国有所发展
- D. 群众性的反帝爱国运动此时方兴未艾

20. “他们曾大规模向外扩张, 先后征服叙利亚、两河流域、伊朗和北非的广大地区; 他们在东到东亚, 西到西欧, 南至非洲的广大地区从事着陆上和海上贸易; 他们在文学、科学等领域取得了突出的成就; 他们成为东西方文化交流的桥梁。”“他们”建立的帝国是下图中的



21. “战争的代价还没有被充分估算,世界的注意力就已经转向了巴黎。起初,战争双方都对战后和解寄予了厚望,但结果,这次会议却留下了痛苦的遗产。”这里的“遗产”包括
- ①中国收回山东主权 ②确定“大国一致”原则
③确立委任统治制度 ④德国遭到掠夺性惩罚
- A. ③④ B. ②③④ C. ①②③ D. ①④
22. 梁启超说:“鉴别间接史料,其第一步自当仍以年代为标准。……不特此也,又当察其人史德何如,又当察其人史识何如,又当察其所处地位如何。要而论之,吾侪读史作史,既不能不乞灵于间接的史料,则对于某时代某部门之史料,自应先择定一两种价值较高之著述以作研究基本选择之法,合上列数种标准以衡之,庶无大过。至于书中所叙史实,则任何名著总不免有一部分不实不尽之处。质言之,则无论何项史料,皆须打几折头。”其意在说明
- A. 史才、史学、史识应该是史家的必备品格 B. 历史研究必须以直接史料为依据
C. 文字记录的历史因年代远近而价值不同 D. 以怀疑精神审慎辨别史料的真伪

非选择题部分

三、非选择题(本大题共3小题,其中第23题18分,第24题17分,第25题16分,共51分)

23. 治天下必自自治一国始,治一国必自自治一乡始。阅读材料,完成下列要求。(18分)

材料一 “商鞅变法”令民为什伍,而相视司(监督举发)连坐……民有二男以上不分异者,倍其赋”这种社会结构因素的**统一**和汉承秦制而长期延续。国家积极推动改造乡里社会秩序,重视依法治民、以德化民。察举制推行使得乡里民众注重自我人格完善,自觉保持与国家主流意识形态一致,在一定程度上实现了国家与乡里社会在政治层面和思想道德文化层面的成功对接。而当时土地买卖的相对自由,使财产集中加速,其中的部分“齐民”成为具有强大经济实力的乡里豪民。东汉末年,编户民不断向豪民屈从,甚至沦为依附民,不少豪民以村屯坞堡的形式控制基层社会人口,乃至与国家相抗衡。

——摘编自卜宪群《秦汉乡里社会演变与国家治理的历史考察》

材料二 随着宋代社会经济基础的变化,许多外姓人因租佃田地、迁居等各类原因而进入了同姓同宗的聚落,乡村社会关系演变为更为复杂的村落社会关系。因此,如何协调人与人之间更为复杂的关系?在理学影响下,宋代儒学发展出“士君子之生斯世,达则仁天下之民,未达则仁其乡里”的新境界,促使一部分士绅尝试构建基层社会,乡约应运而生。《吕氏乡约》通过“德业相劝,过失相规,礼俗相交,患难相恤”,确保达成邻里和睦、守望相助的效果,一定程度上弥补了法律与习俗之间的空白,它携着大宋文化的厚重蕴藏,浸润了中华大地。

——摘编自陈少华《宋风流韵》

材料三 从1953年到1978年,我国城镇化率从13.3%提高到17.9%,工业化率则由

19.8%提高到44.3%；在工农业总产值中，工业占比从46.9%增至72.2%，农业占比从53.1%降至27.8%；同期，在工业总产值中，轻工业占比从62.7%降至43.1%，重工业占比则从37.3%增至56.9%。

——郭旭红《新中国城乡关系的理论与实践》

- (1)根据材料一，指出秦汉乡里社会人口管理的概况，并提炼秦汉时期乡里社会治理的成功经验。(6分)【浙睿talk】
- (2)根据材料二，简析“乡约应运而生”的时代背景，并结合所学，阐释《吕氏乡约》“浸润了中华大地”的含义。(6分)
- (3)根据材料三，概括改革开放前中国社会经济发展状况，并结合所学，概述1978年以来中国提升乡村发展的重大举措。(6分)

24. 自我革命精神是党永葆青春活力的强大支撑。阅读材料，完成下列要求。(17分)

材料一 1902年，为了应对艰苦的斗争，列宁提出共产党需要由一批“职业革命家”来担当。申请入党的只能是工人阶级与劳苦农民阶级，真正革命工人阶级的政党绝不能仅仅追求党员数量的增加，而应该更加注意党员质量的提高和清洗混进党里来的人。“党员数量上的这种减少意味着党的力量和作用的大大增加”，这背后都是由于列宁将党的纯洁性看得比规模更重。根据列宁的建议，1919年俄共(布)八大上，“党的纪律”第一次作为单独一部分被写入党章，将严格的纪律要求作为“全体党员和一切党组织的首要义务”。

——摘编自李佳金《毛泽东对列宁从严治党思想的继承与创新》

材料二 中共一大将自我革命的要求写入了党纲。中共二大文件写道：“在现在内乱激烈的时候，共产党依靠极集中的组织，铁的纪律和全体战士一致给中央机关以广大的权力，过余的信任，使得执行一种不可抗辩的政权，才能成就他的职务。……凡在共产主义可以合法斗争的国内，共产党必须定期的洗刷自己的组织，淘汰一些模棱的和小资产阶级分子。”这些不仅标志着建党伟业的完成，而且成为党的自身建设和自我革命的伟大开端。

——摘编自谢迪斌《中国共产党百年自我革命的发展动力》

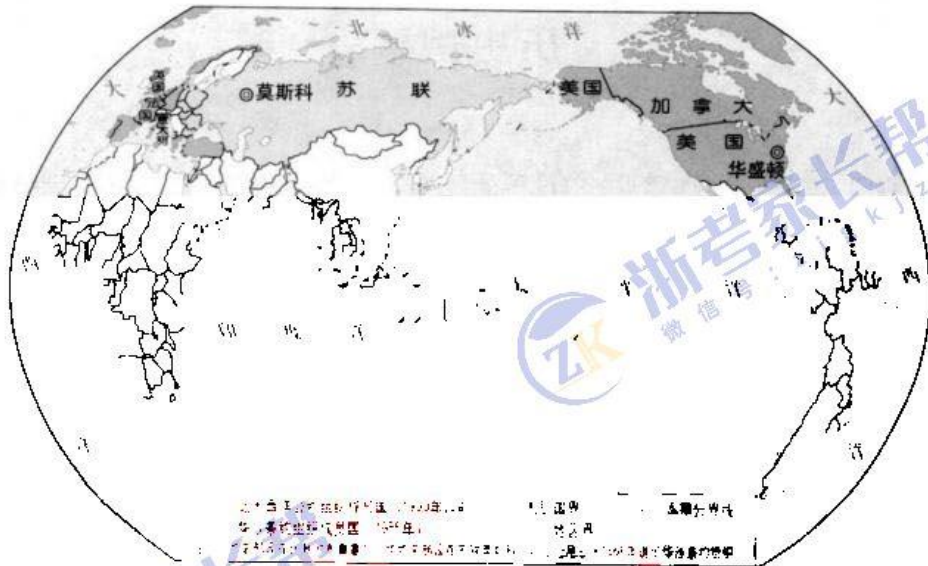
材料三 我们党历史这么长、规模这么大、执政这么久，如何跳出治乱兴衰的历史周期率？毛泽东同志在延安的窑洞里给出了第一个答案，这就是“只有让人民来监督政府，政府才不敢松懈”。经过百年奋斗特别是党的十八大以来新的实践，我们党又给出了第二个答案，这就是自我革命。

——习近平在党的十九届六中全会第二次全体会议上的讲话(2021年)

- (1)根据材料一，概括列宁关于党的建设的主要观点。结合所学，指出20世纪初，列宁这一批“职业革命家”面临的俄国社会背景。(6分)
- (2)根据材料二并结合所学，概述“现在内乱激烈”的状况。结合1927-1949的相关史实，举两例说明中共是如何进行“自我革命”的。(7分)
- (3)根据材料一、二、三，概括指出中共“跳出治乱兴衰的历史周期率”的主要经验。(4分)

25. 阅读材料,完成下列要求(16分)

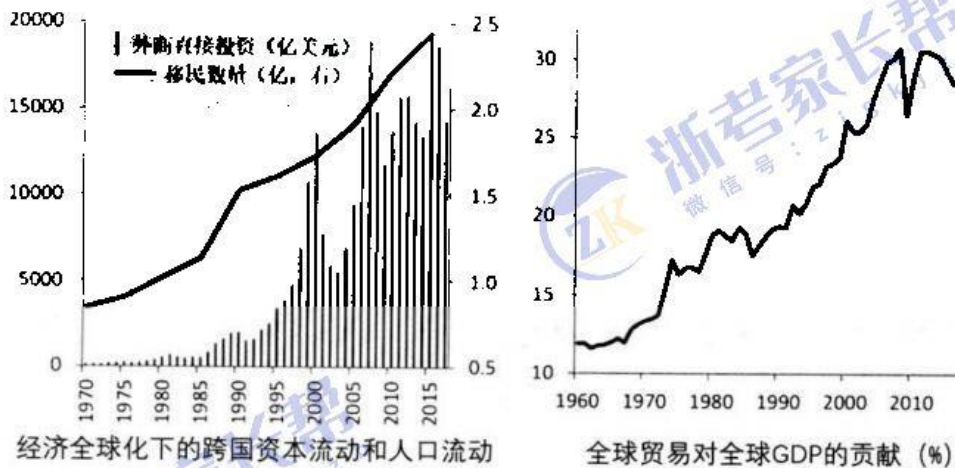
材料一



材料二 美国主导下的全球化以世界银行(WB)、国际货币基金组织(IMF)和关贸总协定作为协调和管控成员国货币政策、发展资金和贸易分歧的重要平台。冷战终结后,东西方两个相对独立的经济板块逐渐融合统一,以跨国公司为经济全球化的重要载体,推动了全球产业链和供应链的高度互嵌、深度融合。以中国为代表的新兴经济体群体性崛起也为全球化注入了新的发展理念和增长动力。当然,经济全球化运转的基础制度架构仍旧以美国在二战结束后主导缔造的基本盘为依托,以WTO为核心的全球经贸治理体制正处于改革争论之中。

——摘编自苏冠英《经济全球化的进程调整与应对》

材料三



——数据来源:联合国经济与社会事务部,世界银行

- (1) 根据材料一,结合所学,给此地图命名,并概述形成这一格局的主要原因。(6分)
- (2) 参考材料二、三,结合第二次世界大战后的相关史实,围绕经济全球化写一则历史短文,题目自拟。(要求:观点明确,史实准确,条理清晰,表述成文)(10分)