

唐山市 2017-2018 学年度高三年级

历史试卷

第 1 页  
田四十亩

# 历史

## 注意事项:

1. 答卷前, 考生务必将自己的姓名、考生号、考场号、座位号填写在答题卡上。
2. 回答选择题时, 选出每小题答案后, 用 2B 铅笔把答题卡上对应题目的答案标号涂黑。如需改动, 用橡皮擦干净后, 再选涂其他答案标号。回答非选择题时用 0.5 黑色签字笔, 将答案写在答题卡上。写在本试卷上无效。
3. 考试结束后, 将答题卡交回。

一、选择题: 本题共 16 小题, 每小题 3 分, 共 48 分。在每小题给出的四个选项中, 只有一项是符合题目要求的。

1. 中国史前文化具有土著性特点, 如新石器时代, 仰韶文化以粟为主要栽培作物, 而河姆渡文化以稻为主要栽培作物, 养蚕缫丝技术较为先进。这主要是由于

- A. 生活饮食习惯的迥异
- B. 生产技术水平的不同
- C. 自然地理环境的差异
- D. 历史发展程度的区别

2. 西汉自元帝以后最高统治权力经常被控制于宦官和外戚手中。而伴随土地兼并导致土地集中, 其结果是大地主必然要求政治上分割皇权。而外戚和宦官正是这部分要求分割皇权势力的政治代表。据此可知, 西汉皇权衰落的主要原因是

- A. 皇帝软弱无能
- B. 多种势力争夺所致
- C. 宦官外戚专权
- D. 豪强地主势力膨胀

3. 科举制从隋朝创立, 直至 1905 年废除, 这期间统治者都将儒家经典作为考试的重要内容。这反映

- A. 学优则仕的儒家文化利于巩固统治
- B. 儒学开始成为社会的主流意识形态
- C. 科举制的不断发展助推社会公平化
- D. 科举制的推行使统治基础不断扩大

4. 元朝时期, 蒙古人取名时, 采用了汉人的字、号, 道德观念上接受了汉人的习俗; 汉人也接受蒙古文化影响, 学习掌握蒙古语言文字, 使用蒙古名字。这反映出

- A. 蒙古族封建化进程加快
- B. 政府接受汉族文化
- C. 汉人完全接受元朝统治
- D. 民族交融程度加深

高三历史试卷 第 1 页 (共 8 页)

A. 地  
C. 农

6. 慈禧  
术, 导致

A. E  
C. 3

7. 表 1

化论

据表 1

A.  
C.

8. 黄

“我  
现出

A

C

9.

周恩

场。

5. 王安石在鄞县的调查，有百亩之田的农户日子仍然艰辛；清初尚未做官的唐甄自述有田四十亩，租佃经营，生活仍然拮据。对这些现象解释合理的是 **B**

- A. 地主剥削严酷
- B. 国家赋税沉重
- C. 农耕技术落后
- D. 土地产量较低

6. 慈禧曾支持洋务运动，但在预备立宪阶段面对政治变革时，却左右摇摆，采取拖延战术，导致新政以失败而告终。慈禧的态度主要是基于 **A**

- A. 时局不断变化
- B. 西方国家态度
- C. 维护封建统治
- D. 个人利益喜好

7. 表1是小唐同学在研究严复翻译的《天演论》时，搜集的相关材料

表1

被康有为誉为中国“西学第一人”的严复，翻译了赫胥黎的《天演论》，引进进化论学说，在当时社会引起轰动，此后成为中学生的读物。

胡适有两名同学，一名叫孙竞存，一名叫杨天择。

据表1可知 **B**

- A. 甲午战争宣告洋务运动破产
- B. 近代中国民族意识逐渐觉醒
- C. 严复观点利于民族工业发展
- D. 列强侵略导致民族危机加深

8. 黄埔学生军参加了棉湖之战并取得胜利，廖仲恺在召集学生军全体官兵大会上讲到：

“我们的革命军不过接受了四个月的训练而能取得此成绩，可与黄花岗烈士媲美”。这体现出黄埔军校 **A**

- A. 为国民革命胜利奠基
- B. 促进国共合作的实现
- C. 使国民革命潜伏危机
- D. 推动国民革命的发展

9. 日本发动侵华战争后，坚持抗战的中国共产党派干部到东北地区组织抗日游击队；派周恩来来到西安参与西安事变和平解决；在洛川会议上制定全面抗战路线，此后开辟敌后战场。这些事件表明 **B**

- A. 中日民族矛盾已成为主要矛盾
- B. 中国共产党发挥了中流砥柱作用
- C. 中国共产党革命重心发生转移
- D. 国共两党合作抗战取得明显成效

高三历史试卷 第2页 (共8页)

10.



图1 中苏结盟




图2 尼克松访华

图1、图2所体现的事件说明

- 1.)
- A. 美苏争霸决定中国外交政策
  - B. 中国与美苏正式建立外交关系
  - C. 国际环境变化影响中国外交
  - D. 中国独立自主外交政策的改变

平均增长率%

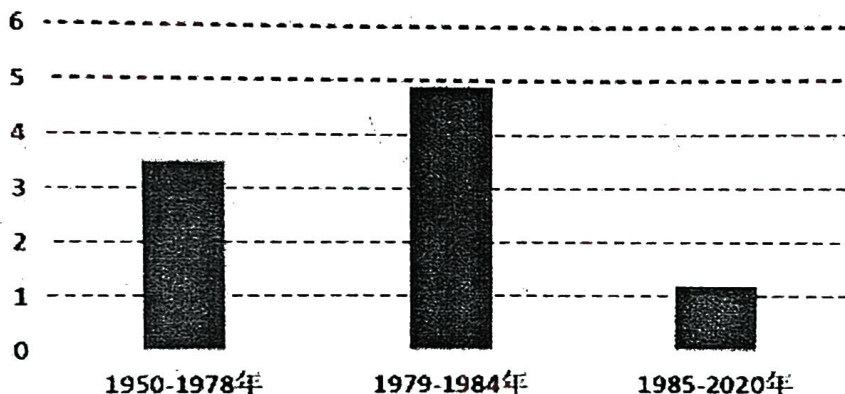


图3 新中国成立以来粮食生产发展的三个阶段

图3所述信息中，导致1985--2020年粮食平均增长率下降的主要因素是

- A. 生产资料土地所有制的变化
- B. 城市建设导致了农村劳动力缺乏
- C. 土地所有权与经营权的分离
- D. 生产经营方式未能适应社会发展

12. 《论古希腊的自耕农》一文中讲到：在商品经济的比重和广度方面，希腊某些城邦的自耕农经济可能具有更多的商品经济成分。于是在自耕农的“乡巴佬作风”中流露出重农和爱财的双重意识。由此可知

- A. 古希腊农业和商品经济同等重要
- B. 经济发展程度影响民众意识
- C. 商品经济发展推动民主意识提高
- D. 古希腊农业商品化程度提高

13. 加尔文派的《比利时信条》宣称，自然界是“在我们眼前的一本佳作，在其中的一切受造之物，不论大小，都引导我们观摩上帝不可见的事”。这种观念被英国皇家学院追捧和采纳。这说明
- A. 宗教改革有利于近代科学进步
  - B. 宗教改革揭开了科学革命序幕
  - C. 英国重视近代科技革命的发展
  - D. 宗教改革打击了天主教会权威
14. 英国历史学家艾瑞克·霍布斯鲍姆曾说：当年“非共产主义的政治家和知识分子曾排着队去苏联探寻‘计划’的秘密”。二战后，西方国家普遍过渡到有宏观调控的市场经济。这反映出
- A. 经济危机促使西方国家放弃自由贸易政策
  - B. 对苏联模式借鉴有利于西方经济政策调整
  - C. 苏联计划模式与西方市场经济的有机结合
  - D. 西方国家开始实行国家垄断资本主义政策
15. 古巴导弹危机是冷战期间美苏之间的一次核危机事件，最终苏联接受肯尼迪要求，撤走了导弹。这一结局
- A. 使苏联放弃了与美国争霸政策
  - B. 导致当时国际关系日趋紧张
  - C. 利于国际关系缓和与世界和平
  - D. 促使古巴脱离社会主义阵营
16. 不结盟运动高度重视对世界经济形势的评估工作，不结盟国家和政府首脑们一再表达自己的国际经济新秩序方案。这主要是由于
- A. 不合理的国际经济旧秩序
  - B. 民族解放运动的高涨
  - C. 经济多极化趋势不断加强
  - D. 冷战政策制约了其发展

改

世

二、非选择题（共4小题，共52分。第17、18、19、20题均为必考题，每个试题考生都必须作答）

17. 阅读材料，完成下列要求。（12分）

材料

狭义上的黄土高原大致北起长城，南至秦岭，西抵乌鞘岭，东到太行山，包括山西大部、陕西中北部、甘肃中东部、宁夏南部和青海东部，面积约30万平方千米。在西周时期黄土高原东南部的平原、山地、丘陵、塬地上的森林和草原生长繁茂，森林植被覆盖率高达53%。春秋战国时期，铁器被广泛使用，黄土高原南部的关中平原、汾河中下游平原植被大量开垦成耕地，河谷平原地区的森林、草原植被逐步为耕地替代。从秦汉开始，黄土高原农业不断向北部和西部推进，原有的林地和草地相继变为农田。到南北朝时期，黄土高原的森林覆盖率约为40%左右。至唐宋时期，森林覆盖率下降至33%左右。至明清时期人口数量进一步增加，林草植被进一步被开垦为农田，森林覆盖率下降至约15%。

——摘编自陈怡平《黄土高原生态环境沧桑巨变七十年》

(1) 根据材料，概括古代黄土高原森林覆盖率下降的原因。（6分）

2) 根据材料并结合所学知识，补充一条古代造成黄土高原森林覆盖率下降的因素，并述理由。（6分）

18. 阅读材料，完成下列要求。(12分)

材料

1881年，张之洞授山西巡抚，整顿吏治、严禁鸦片，使山西民风大有好转。他大力从事洋务活动，成为后期洋务派的主要代表人物。1884年春，中法战争前夕，张之洞奉命署理旋又补授两广总督。他起用前广西提督老将冯子材等，大败法军，为战事的进展作出了积极贡献。1891-1895年署督两江时，仿德国营制，筹练江南自强军，后来又以此为基础在湖北编练新军。张之洞大力进行教育改革，先后在鄂、苏两地设武备、农工商、方言、铁路、师范、普通教育等类新式学堂，并多次派遣学生赴日、英、法、德等国留学。

在湖广、两江总督任上，张之洞起先以支持维新活动的面目出现，但当维新运动日益发展、新旧斗争渐趋激化后，即登报声明自除上海强学会会长之名，并对《时务报》的进步言论大加干涉，严斥积极支持变法维新的官员。1900年义和团运动爆发后，张之洞主张“安内乃可攘外”，多次上书清廷，要求对义和团严加镇压。1905年后，资产阶级革命运动兴起，张之洞因破坏革命组织，镇压革命派领导的武装起义，受到社会各方面舆论的强烈谴责。

——摘编自胡晓曼 马道宗《中国名人大传：张之洞传》

根据材料并结合所学知识，选取一个或多个角度评价张之洞。(要求：论题明确，持论有据，表述清晰，逻辑严密。)



19. 阅读材料，完成下列要求。(16分)

材料一

在佛兰德，13世纪时乡村工业就已成为城市行会手工业的重要竞争对象。15世纪时，英国东南部、德国南部、法国北部、阿拉贡等地都不同程度地出现乡村工业的兴起。15世纪中后期，一些地方的乡村工业已较为普遍，并形成一些中心。从15世纪起，从东欧流入西欧的大宗商品（谷物、木材，后来还有羊毛）不断增多……而从西欧流入东欧的纺织品（包括奢侈品和中档织物）、盐、酒、丝绸等也日益增多。14、15世纪里，西欧经济发展重心开始西倾，商业网也出现西移迹象，里斯本、塞维里亚、伦敦、巴黎、布鲁日、安特卫普迅速发展。以前，我们习惯上把中世纪看成黑暗的中世纪。实际上，由于经济、政治生活都具有竞争性，西欧中世纪的技术的应用与传播速度相比较而言是很快的。特别是中世纪后期，这方面的进展相当明显。

——摘编自王加丰《扩张体制与世界市场的开辟：地理大发现新论》

材料二

世界经济区域集团化是一种组织创造和制度创新过程，虽然这个过程是在经济领域进行，但它对其他领域的作用不容忽视。尤其是在和平与发展成为当今世界主题的情况下，更是如此。在区域经济组织内部，大家遵循共同制定的制度，就经济领域的问题进行讨论协商，甚至可以超出经济范围，就相互之间的一些政治外交领域的敏感问题展开讨论，这在以前是不可想象的。

——摘编自刘家骥《世界经济区域化浪潮》

- (1) 根据材料一并结合所学知识，概括西欧中古晚期经济发展的趋势。(8分)
- (2) 根据材料二并结合所学知识，分析世界经济区域集团化的积极影响。(8分)



20. 阅读材料，完成下列要求。（12分）

揭示历史事件、历史现象之间的内在联系，是历史学习的重要方法。



图4



图5



图6




图7

运用所学知识，阐述图片中所反映的历史事件或历史现象之间的内在联系。

线  
世  
球



## 关于我们

自主选拔在线是致力于提供新高考生涯规划、强基计划、综合评价、三位一体、学科竞赛等政策资讯的升学服务平台。总部坐落于北京，旗下拥有网站（[网址: www.zizzs.com](http://www.zizzs.com)）和微信公众平台等媒体矩阵，用户群体涵盖全国90%以上的重点中学师生及家长，在全国新高考、自主选拔领域首屈一指。

如需第一时间获取相关资讯及备考指南，请关注**自主选拔在线**官方微信号：**zizzsw**。



 微信搜一搜

 自主选拔在线