

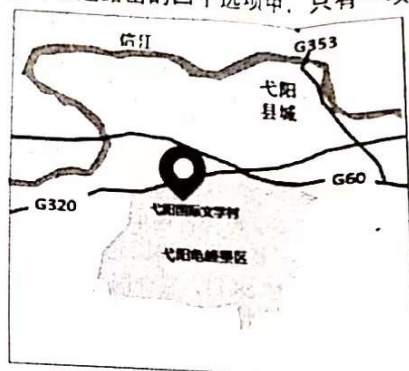
江西省 东乡一中 都昌一中 丰城中学 赣州中学
景德镇二中 上饶中学 上栗中学 新建二中 新八校
2023 届高三第一次联考文科综合试题

政治 命题人：赣州中学 曾利梅 审题人：李方
历史 命题人：赣州中学 温先发 审题人：张亦军
地理 命题人：上饶中学 郭异军 审题人：戴长平
考试时间：150 分钟 满分：300 分

第 I 卷 (选择题 共 140 分)

一、选择题：本大题共 35 小题，每小题 4 分，共 140 分。在每小题给出的四个选项中，只有一项是符合题目要求的。

党的十九大明确提出要实现我国文化创意产业与乡村振兴战略的结合。江西弋阳县某村制定“创意+”的发展战略，成立“文学村”。文化创意产业涵盖了文学写作、艺术写生、文化旅游等方面的内容，但规模不大，也缺少高质量产品，竞争力较弱。读图回答 1-3 题。



文学村位置示意图

- 与大多乡村一样，该地创意产业的创业者多为 ()
A. 村干部 B. 留守村妇
C. 大学生 D. 海外华侨
- 该县在此处成立“文学村”最主要的原因 ()
A. 政府政策的扶持 B. 交通便利
C. 产业融合度高 D. 离县城近
- 为提升“创意+”模式的竞争力，带动经济发展，该县应 ()
①加大政府扶持力度，吸引更多有创新能力者返乡创业
②积极推动创意产业与当地特色手工业或农业的融合
③大规模改造文学村基础设施，扩大创意产业规模
④构建创意文化服务平台
A. ①②③ B. ①②④ C. ①③④ D. ②③④

季节性积雪是地球冰冻圈的重要组成部分，对气候变化反应敏感、反馈强烈。其时空变化与气温、降水、日照、风速等密切相关。青藏高原积雪分布广泛，时空异质性极为突出。气候变暖加速积雪消融，导致地面反射率变化，从而进一步加速积雪消融。读下表回答 4-6 题。

表 1 不同性质的地面对太阳辐射的平均反射率

地面性质	积雪	草地	沙漠	水面
反射率 (%)	>50	10-18	25-30	6-8

- 为有效获取积雪覆盖范围，我们选择的地理信息技术类型及其优势是 ()
A. RS，获取资料的速度快，受地面条件限制少 B. GPS，探测范围大
C. GIS，有效建立数据模型 D. 地理测绘技术，相对更加精准
- 分析形成青藏高原山地季节性积雪南坡少、北坡多的主导因素是 ()
A. 气温 B. 降水 C. 坡度 D. 植被
- 研究表明，近几十年来青藏高原与北极地区的升温速率是全球平均速率的两倍，对此作出解释合理的是 ()
①北极地区夏季有极昼现象，日照时间长，太阳辐射强


青藏高原冰川融化后,山地荒漠带面积扩大,反照率上升明显
青藏高原海拔高且纬度较低,太阳辐射强,加速冰川消融
A.11.8% B.11.1% C.11.5% D.11.9%

随着,我国人口向特大城市和中心城市群高度集聚,特大城市的主导地位逐步强化。下图为2000-2015年我国县级人口特征描述正确的是

根据判断,2000年来有关我国县级流动人口的特征描述正确的是

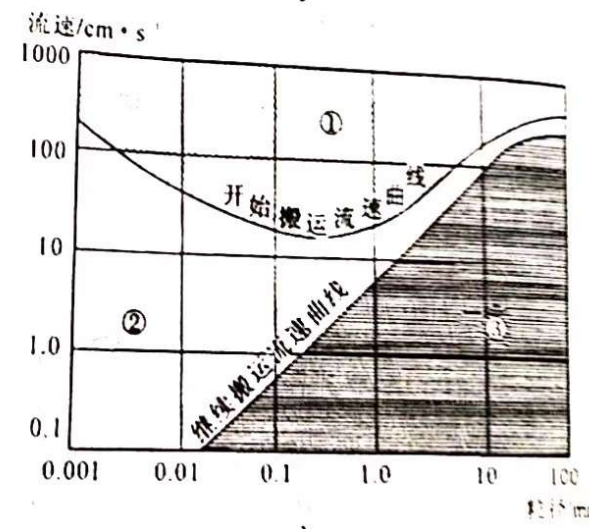
A.人口流动规模逐年增大
B.平均年龄稳步上升
C.县际抚养比越来越高
D.劳动年龄人口呈高龄化趋势

当前影响县内乡到城流动的因素中,影响程度上升不明显的是



A. 务工经商 B. 家庭 C. 教育 D. 改善住房

碎屑颗粒在水中的侵蚀、搬运、沉积状态受颗粒大小和水流速度的影响。下图显示了1米宽的水流中碎屑颗粒粒径与流速的关系。据此回答9-11题。



注:开始搬运流速指流水把处于静止状态的颗粒开始搬运走所需的速度,继续搬运流速指维持颗粒搬运所需的最小流速。

9.①-③三个速度区间的正确对应关系是

A.①为侵蚀区间;②为沉积区间;③为搬运区间
B.①为搬运区间;②为沉积区间;③为侵蚀区间
C.①为侵蚀区间;②为搬运区间;③为沉积区间
D.①为搬运区间;②为侵蚀区间;③为沉积区间

- 10.处于下列粒径区间的颗粒物在流水中既易搬运又易沉积的是 ()
A.0.001—0.01 mm B.0.01—0.1 mm C.0.1—1.0 mm D.10—100mm
- 11.粒径大于2mm的颗粒(砾石),其开始搬运流速与继续搬运流速都很大,但差值小,说明砾石 ()
A.能被远距离搬运 B.常分布在近源区 C.常分散分布 D.不易起动不易沉积
- 12.近期,随着疫情防控措施持续优化调整,叠加冬季呼吸道疾病高发等因素,退热药品供不应求,因此,各地制药厂紧急扩产,多地推出按需拆零销售模式如“按粒购买”,亲朋邻里间的相互赠药也成为一种风气。以下说法正确的是 ()
①制药厂紧急扩产是价值规律发生作用的体现
②“按粒购买”提高了药品单位商品价值量

互相换药是更快实现药品价值的商品流通现象
 1. 各别邻里赠药不是使用价值与价值的统一
 2. 2022年11月25日, 人力资源和社会保障部会同民政部、国家税务总局等36个先行城市或地区启动实施, 标志着十五五老老金业务正式落地
 3. 下列的推导正确的是



个人养老金制度是属政府政策支持、个人自愿参加、市场化运营的补充养老保险制度。个人养老金实行个人账户制, 缴费完全由参加个人承担, 实行完全积累, 不得提前支取; 个人养老金资金账户资金用于购买符合规定的银行理财、储蓄存款、商业养老保险、公募基金等金融产品, 参加人可自主选择。

居民购买个人养老金基金——为资本市场提供长期稳定资金来源——促进实体经济发展
 有效发挥社会互助功能——增加转移性收入——满足多层次多样化养老保险需要
 商业养老保险投保人缴纳保险金——保险人到期支付保费——让老年生活更有保障和质量
 实现政府引导和市场运作相结合——构建养老保障体系第三支柱——提升人民群众的幸福感和安全感

4. 2022年3月, 国务院设立了3岁以下婴幼儿照护个人所得税专项附加扣除, 纳税人未满3周岁子女在照护期间产生的相关支出, 按照每个子女每月1000元的标准定额扣除, 一年一共12000元。该政策()

- ①提高了个人所得税的起征点, 有利于促进收入分配公平
 - ②调整优化了个人所得税税率, 有利于减轻负税人育儿负担
 - ③增加专项附加扣除项目, 能减少相关个税纳税人的应纳税所得额
 - ④对特定群体精准减税, 有利于释放生育潜能和消费潜力
- A. ①② B. ①④ C. ②③ D. ③④

5. 2022年卡塔尔世界杯, 从球场到建筑, 从公共交流到纪念品……“中国元素”几乎遍布每一个角落。在卡塔尔世界杯的官方专卖店中, 60%的商品都是“中国制造”, 从世界杯32强的旗帜到喇叭、哨子, 从足球到球衣、围巾、大力神杯的摆件和抱枕, 绝大多数都来自义乌。这表明我国()

- ①对外供给侧结构性改革不断优化, 出口产品结构优化
 - ②实施高水平的投资自由化政策, 营造良好的营商环境
 - ③发挥“中国制造”的比较优势深度融入经济全球化
 - ④积极拓展对外贸易, 培育开放型经济发展新优势
- A. ①② B. ①④ C. ②③ D. ③④

6. “集各方之智、聚各界之力”让社会治理的活力竞相迸发。浙江省衢州市新荷社区通过建立“红色物业联盟”, 把业委会、物业公司、小区业主等多元主体统领起来, 利用“联席会议”等载体, 合力解决了小区管理的难点问题。此举()

- ①创新了民主管理方式, 有利于提升社区治理效能
 - ②健全了基层自治组织, 有利于激发社区居民自治热情
 - ③推动共建共治共享, 让群众成为社会治理的参与者、受益者
 - ④有利于实现“自己的难题自己解”, 巩固居民自治的基础
- A. ①③ B. ①④ C. ②③ D. ②④

17. 药品网络销售活动目的混乱, 擅自违规销售处方药, 无资质主体违规销售药, 假冒仿劣药品等乱象, 国家药监局出台药品网络销售禁止清单, 联合开展药品安全专项整治行动, 维护网络售药市场秩序()

- ①转变政府职能, 加快推进经济建设
- ②强化政府监管, 规范网络售药市场秩序
- ③坚持对人民负责, 保障人民生命健康
- ④健全行政执法体系, 规范行政执法行为

A. ①③ B. ①④ C. ②④ D. ②③

18. 修订的《妇女权益保障法》将于 2023 年 1 月 1 日起施行。三年来, 全国人大代表多次就修订《妇女权益保障法》提出议案, 修订草案两次网上公开征求意见, 分别收到 40 余万、30 余万条意见, 是近年来收到意见数最多的法律草案之一。《妇女权益保障法》的修订()

- ①坚持了科学立法、民主立法、依法立法
- ②为妇女优先发展的权益提供了法治保障
- ③由全国人大常委会行使表决权和立法权
- ④体现了全过程人民民主, 以良法促发展

A. ①② B. ①④ C. ②③ D. ③④

19. 某公司开发了一款人工智能绘画小程序, 用户只要输入关键词或是上传一张图片, 不到一分钟时间, 便可以生成一张绘画图片, 很多没有绘画基础的人凭此瞬间成为了绘画“高手”。该小程序平台自 2022 年 9 月 30 日上线到 2022 年 11 月 12 日, 用户由 0 增长到了 117 万人。对此认识正确的是()

- ①人工智能的运用提供了文化创造的途径
- ②人工智能的运用更新了文化生产的手段
- ③人工智能的运用满足了人们的精神需求
- ④人工智能的运用提高了人们的艺术修养

A. ①② B. ①③ C. ②③ D. ③④

20. 课外读物作为育人的重要载体之一, 事关青少年学生世界观、人生观、价值观的养成。但目前个别存在思想性、科学性、适宜性等问题的课外读物流入校园, 扰乱了正常的教学秩序。为此, 教育部印发了《中小学课外读物进校园管理办法》, 列出了不得推荐或选用为中小学课外读物的 12 条负面清单进校园, 为防止问题读物进入校园设置“防火墙”。以上做法是基于()

- ①课外读物发挥着提升青少年综合素质的重要作用
- ②课外读物是文化传承的重要载体和育人的重要工具
- ③课外读物作为精神食量是实现民族振兴和社会进步的基石
- ④课外读物事关公民思想道德素质和科学文化素质的提高

A. ①② B. ①④ C. ②④ D. ③④

21. 漫画《不懂放弃怎攀高峰》启示我们()

- ①要把尊重客观规律和发挥主观能动性相结合
- ②事物发展的过程是前进性与曲折性的统一
- ③量变是质变的必要前提, 质变是量变的必然结果
- ④坚持用矛盾的观点看问题, 在对立中把握同一

A. ①② B. ①④ C. ②③ D. ③④

22. 2022 年 8 月 31 日, 中共赣州市委宣传部、赣州市教育局发布关于开展“行走的思政课: 经色地标我打卡”主题实践活动通知, 要求调整创新思想政治课课程体系、加快加强学校的思想政治课教师队伍建设, 为加强思政课建设, 为落实思政课立德树人根本任务提供了基本遵循。这表明()

- ①社会意识对社会存在具有能动的反作用
- ②主观与客观的统一是具体的历史的统一
- ③改造客观世界需要正确价值观的指引
- ④社会实践是认识的唯一来源和发展动力

A. ①② B. ①③ C. ②④ D. ③④

23. 2022 年 7 月 1 日, 习近平出席 7 月 1 日举行的庆祝香港回归祖国 25 周年大会暨香港特别行政



区第六届政府就职典礼时指出：“一国两制”具有强大生命力，是确保香港长期繁荣稳定、维护香港同胞福祉的好制度。因为我们坚定不移地坚持了“一国两制”，使香港经济快速增长、民生持续改善、社会稳定和谐，向世界展示了具有香港特色的“一国两制”成功实践。“一国两制”是全行得通、办得到、得人心的。其中可以领略到的智慧有（ ）

①实践基础上的理论创新是社会变革的先导
②矛盾的特殊性原理要求我们具体问题具体分析
③上层建筑与经济基础相适应，就能推动生产力的发展
④坚持以人民为中心，把人民利益摆在至高无上的地位

A. ①③ B. ①④ C. ②③ D. ②④

24. 《史记·货殖列传》中商史纪述汤出，见网于野者，张其四面而祝之曰：“自天下四方，皆入吾网。”汤出，望其左也，左欲右，右欲左，左欲高，高欲下，下不用命者，乃入吾网。”汉南诸侯闻之，王士，汤德至矣，及禽兽。一时归商者，三十六国。材料反映出商汤（ ）

A. 深受儒家思想影响 B. 宽仁之举赢得拥护 C. 王权具有神秘色彩 D. 朝代更替的合理性

25. 汉文帝时期，曾下令“开关梁，弛山泽之禁”，“富商大贾周游天下，交易之物莫不通，得其所欲”的局面。同时未取消“市井之子孙亦不得仕宦为吏”的规定。这说明汉文帝时期（ ）

A. “抑商、惠商”政策并存 B. “以末致财，用本守之”
C. “用贫求富”的无为思想 D. 放弃了重本抑末的传统

26. 在中国古代士大夫市民文学一般认为是“粗俗”的事物、“不登大雅之堂”，而唐宋以后的文化中，既有“野俗而生动的市民文化”，又有“精致细腻的士大夫文化”，尤其是宋代市民文化代表的词能与士大夫互动起来，其原因是宋代（ ）

A. 理学和文化专制的强化 B. 商品经济的高度繁荣
C. 科举考试社会流动加快 D. 各阶层价值取向趋近

27. 下表为清朝人口数量统计表，此表反映清朝（ ）

年份	《清实录》人口数	年份	《清实录》人口数
康熙 39 年 (1700 年)	2010 万	嘉庆 25 年 (1820 年)	3.5 亿
乾隆 6 年 (1741 年)	1.4 亿	道光 20 年 (1840 年)	4.1 亿
乾隆 55 年 (1790 年)	3 亿	咸丰元年 (1851 年)	4.3 亿

A. 土地开发促进高产作物种植 B. 农业耕作技术较为先进
C. 迈入近代社会具有人口优势 D. 人口膨胀出现资源危机

28. 在咸丰三年(1853)以后，清政府财政收入出现大幅增长，从原来的 4000 万两白银，增加为 7000 万两左右，增长了 70% 多。收入如此巨幅增加的原因是（ ）

A. 政府放宽民间设厂限制 B. 清政府税制改革成效显著
C. 民用工业发挥积极效应 D. “厘金”和“洋税”使然

29. “两个黄蝴蝶，双双飞上天。不知为什么，一个忽飞还。剩下那一个，孤单怪可怜；也无心上天，天上太孤单。”胡适的这首诗发表在 1917 年的《新青年》上，与之后赵元任的《教我如何不想她》、鲁迅的《我的失恋》等掀起了诗歌创作的新风潮。胡适等人的诗歌创作，反映出新文化运动（ ）

A. 提倡民主与科学，反对专制和愚昧 B. 提倡新文学，文学创作需通俗易懂
C. 提倡白话文，反对文言文 D. 提倡新道德，反对旧道德

30. 20 世纪 30 年代，中国近现代生物学奠基人、著名动物学家秉志在《科学与国力》一文中写到，“外患肆燄，祸逼眉睫，锦绣河山，日削月蹙”，只有努力发展科学，才能使国家转危为安。虽然困难重重，但“未有不可由科学解决之者”。材料反映了作者（ ）

A. 强烈的爱国之心和科学救国、科学强国的坚定信念

- B. 致力丁从散漫的自由研究到国家统筹的科学发展理念
C. 适应抗战需求，通过科学成果发挥自身能力和价值
D. 实用科学和基础研究齐头并进，提升国民科学素养
31. 根据 2012 年的外商企业联合年报，提升国民科学素养占到全国工业产值的 25%，创造的中国企业数量 3% 左右的外资企业，创造的工业产值和税收，由此反映了 ()
A. 经济体制的深入改革进一步完善社会主义市场经济
B. 提升科技含量和实现产业结构升级方可增加竞争力
C. 非公有制经济也是社会主义市场经济的重要组成部分
D. 经济形式的多样化利于改善经济结构和推动技术进步
32. 从罗马帝国后期开始的三四百年间，富于个性和理想化的古希腊文明、崇尚理性和功利的古罗马文明，强调血缘传统的日耳曼文明和超越家庭国家的基督教精神等四种文化得到了一次大整合，促使欧洲内部结构发生变化。这种变化 ()
A. 促进了文艺复兴运动的兴起
B. 推动了欧洲新航路的开辟
C. 为欧洲新的发展奠定了基础
D. 为欧洲社会转型创造条件
33. 16 世纪 80 年代以后，英国农业“连续遭遇危机”，再加上圈地运动和宗教改革的双重影响，失业人口不断增多，从而引发了持续的社会动荡。这些状况 ()
A. 推动了英国社会普遍推崇重商主义
B. 引发了英国资产阶级革命
C. 加速了英国对外资本原始积累进程
D. 阻碍了英国宗教改革进程
34. 2021 年 5 月 28 日，联合国人权理事会成立国际调查委员会，对以色列占领的巴勒斯坦领土上侵犯和践踏人权的问题进行调查。如表是投票国家及态度。以下投票国家及态度表明 ()

赞成	反对	弃权	无权
阿根廷、中国、古巴、印度尼西亚、利比亚、墨西哥、巴基斯坦、菲律宾、俄罗斯、委内瑞拉等 24 个国家	奥地利、保加利亚、捷克、德国、英国、乌拉圭等 9 个国家	印度、巴西、丹麦、法国、意大利、日本、尼泊尔、荷兰、波兰、韩国等 14 个国家	美国(之前退出人权理事会，所以无权投票)

- A. 霸权主义政治得到缓和
B. 多极化的格局形成影响力突出
C. 资本主义阵营出现分化
D. 多边主义推进国际关系民主化
35. 《马拉之死》是反映法国大革命激进政治家马拉遇害的名画。图中马拉被塑造成耶稣受难形象，人间正义的化身。19 世纪中期，法国另一幅名作《刺死马拉后的科黛》，却将女刺客科黛描绘成正气凛然的英雄，而马拉被退到背景一旁，几乎不为人注意。这视角转换 ()



大卫：《马拉之死》(1793 年)

- A. 展现了绘画技法的创新
C. 还原了历史事物的真相



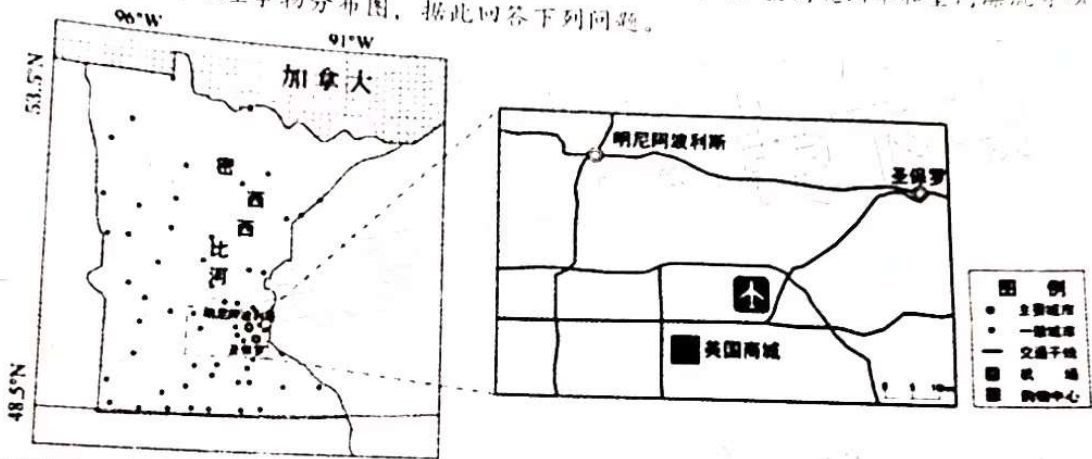
波德里：《刺死马拉后的科黛》(1861 年)

- B. 折射对理性狂热的反思
D. 昭示了法国政治的倒退

第II卷（非选择题 共160分）
本卷包括必考题和选考题两部分。第36题-42题为必考题，每个试题考生都必须作答。第43-47题为选考题，考生根据需求作答。

(一) 必考题
36. 阅读下列材料，回答有关问题。(22分)

明尼苏达州位于美国中北部地区，该州人口总数约500万，其中有60%以上的人口分布在以明尼阿波利斯与圣保罗为核心的都市区。明尼阿波利斯与圣保罗两座城市隔河相望，城区相连，共同组成了世界城市史上最为著名的“双子城”。上世纪80年代，“双子城”的零售业发展水平仍然比较落后，在政府的积极推动下，全美最大的购物中心“美国商城”落户在“双子城”附近。“美国商城”还拥有着世界顶尖的室内全尺寸娱乐设施，如室内主题公园、室内过山车和室内漂流等项目。下图为明尼苏达州地理事物分布图，据此回答下列问题。



- 1、据图描述明尼苏达州城市分布特征。(6分)
- 2、指出明尼阿波利斯与圣保罗组成“双子城”，对城市本身有何积极影响。(6分)
- 3、说明在明尼苏达州境内将全美最大的购物中心建设在“双子城”附近的合理性。(6分)
- 4、分析“美国商城”内设大量大型室内娱乐设施的自然原因。(4分)

37. 阅读图文材料，完成下列要求。(24分)

若尔盖盆地位于青藏高原东部，东昆仑山大断裂带东段。研究发现，末次冰期晚期若尔盖古湖湖水贯通了古黄河源头，将高山内流区转变为外流区，古湖底逐渐裸露，盆地内丘陵附近多见风积地貌发育。20世纪后期以来，若尔盖盆地生态环境遭到破坏，人工开挖沟渠加快了若尔盖湿地沙化的速度。近年来，当地采取填堵排水沟、修建小型拦水坝等措施，保护与恢复湿地64平方千米。图1示意若尔盖盆地核心区域及其水系分布。

- (1) 末次冰期晚期，若尔盖古湖湖水贯通了古黄河源头，试推测可能引发贯通的条件。(6分)
- (2) 若尔盖古湖湖水贯通了古黄河源头后，试分析古黄河河源地区河流特征发生哪些变化。(8分)
- (3) 试分析若尔盖古湖萎缩后，该地区多见风积地貌发育的原因。(6分)
- (4) 分析填堵排水沟工程对减缓若尔盖湿地沙化的作用。(4分)



材料一 完成下列要求。(14分)

产业	增加值(亿元)	现价增速(%)	构成(%)
“三新”经济	197270	16.6	100.0
第一产业	7912	6.6	4.0
第二产业	87499	19.1	44.4
第三产业	101859	15.3	51.6

注：①如分项数据之和与总计数据不等，是由于数值修约误差所致。②“三新”经济是指新产业、新业态、新商业模式为核心内容的经济活动的集合。③2021年“三新”经济增加值相当于GDP的比重为17.25%，比上年提高0.17个百分点。

材料二
智能工厂、直播电商、“无接触”配送、共享出行……“三新”经济已经渗透到人们日常生活的各个方面。

新产业指应用新科技成果、新兴技术而形成一定规模的新型经济活动。新业态指顺应多元化、多样化、个性化的产品或服务需求，依托技术创新和应用，从现有产业和领域中衍生叠加出的新环节、新链条、新活动形态。新商业模式指为实现用户价值和持续盈利目标，对企业经营的各种内外要素进行整合和重组，形成高效并具有独特竞争力的商业运行模式。

近年来，互联网、大数据、云计算、人工智能、区块链等技术加速创新，数字经济蓬勃发展，我国新兴产业快速成长，新业态新模式层出不穷，“三新”经济增速快于同期GDP，占比不断提高。新经济孕育新动能，新动能推动新发展，“三新”经济的壮大，正在为我国经济高质量发展提供澎湃动力。

(1) 运用经济生活知识，解读材料一蕴含的经济信息。(4分)

(2) 结合材料二，运用经济生活有关知识，说明“三新”经济的壮大是如何为我国经济高质量发展提供澎湃动力的？(10分)

39. 阅读材料，完成下列要求。(12分)

首届中国—阿拉伯国家峰会于2022年12月9日在沙特首都利雅得举行，习近平主席出席峰会并发表主旨讲话，强调要构建更加紧密的中阿命运共同体，并提出中阿务实合作“八大共同行动”，涵盖支持发展、粮食安全、卫生健康、安全稳定等8个领域。

中国和阿拉伯国家友好交往源远流长，历久弥坚。从提出弘扬丝路精神的中国倡议，到贡献破解“中东之问”的中国方案；从支持阿方运用阿拉伯智慧推动政治解决热点难点问题，到扩大人员往来，开展治国理政经验交流，都推动着中阿关系提质升级。当前，百年变局加速演进。一方面，世界经济复苏乏力，局部冲突和动荡频发；一方面，个别西方大国推行单边主义、霸权主义，给他国和平与发展造成干扰。中国和阿拉伯国家都面临实现民族振兴发展的历史任务，此次峰会汇聚了中阿在双方关系发展以及重大地区和国际问题上的战略共识，双方发表《首届中阿峰会利雅得宣言》，一致同意全力构建面向新时代的中阿命运共同体。

结合材料，运用当代国际社会的知识，分析如何构建面向新时代的中阿命运共同体。(12分)

习近平新时代中国特色社会主义思想 (26分)

习近平新时代中国特色社会主义思想是马克思主义中国化时代化的最新成果。习近平新时代中国特色社会主义思想把马克思主义基本原理同中国具体实际相结合，同中华优秀传统文化相结合，坚持运用辩证唯物主义和历史唯物主义，正确回答时代和实践提出的重大问题，才能开辟认识新境界，才能引领事业新发展。

习近平新时代中国特色社会主义思想把马克思主义基本原理同中国具体实际相结合，深刻回答了新时代中国之问、世界之问、人民之问、时代之问，提出了一系列原创性的治国理政新理念新思想新战略。比如，提出把握新发展阶段，贯彻新发展理念，构建新发展格局，丰富和发展了马克思主义发展观；提出构建人类命运共同体，丰富和发展了马克思主义的世界历史理论和共同体理论；提出绿水青山就是金山银山，丰富和发展了马克思主义的自然观；提出全面从严治党，以党的自我革命引领社会革命，丰富和发展了马克思主义建党学说……

习近平新时代中国特色社会主义思想把马克思主义基本原理同中华优秀传统文化相结合，提出人与自然和谐共生，蕴含着中华优秀传统文化中天人合一的宇宙观；提出构建人类命运共同体，体现着中华优秀传统文化中协和万邦的天下观；提出全过程人民民主的重大理念，发展了中华优秀传统文化中和而不同的社会观；提出明大德、守公德、严私德，体现着中华优秀传统文化中人和善的道德观……

习近平新时代中国特色社会主义思想科学运用“两个结合”，实现了马克思主义中国化时代化新的飞跃，开辟了马克思主义中国化时代化新境界。

- (1) 结合材料并运用“坚持中国特色社会主义文化发展道路”的有关知识分析推动马克思主义实现“两个结合”的积极意义。(12分)
- (2) 结合材料并运用意识的能动作用的有关知识说明开辟马克思主义中国化时代化新境界的原因。(10分)
- (3) 习近平新时代中国特色社会主义思想是马克思主义中国化时代化的最新成果，请你为学校开展相关理论学习提出两条可行性建议。(4分)

41. 阅读材料，回答问题。(25分)

材料一 秦朝到元朝的地方行政区划(表)

年代	省数	道、路数	州数	郡(府、国)数	县数
秦始皇二十六年(前221年)	-	-	-	36	不详
西汉平帝(1-5年)	-	-	13(刺史)	103	1578
东汉顺帝(126-144年)	-	-	13(刺史)	105	1180
隋大业五年(609年)	-	-	-	190	1255
唐开元二十八年(740年)	-	15道	-	328	1573
宋宣和四年(1122年)	-	26路	288(知州)	-	1234
元朝	12省	183路	-	97	1425

材料二 秦朝到清朝国家治理体系(表)

朝代	户籍制度	基层组织	社会治理	社会救济	优抚政策
秦	分类登记制度	乡里制度	什伍组织	常平仓制度	赐杖(古代的“老年证”)
汉	编户齐民				
隋	大索貌阅				

朝	户籍/里甲制	保甲制	宗族内部的救助活动兴起	福田院
宋	主户与客户			
元	诸色户口	甲甲制	王家牌法	众济院
明	户帖、黄册	甲甲制	保甲制	在济院
清	永停编审	编制严密的保甲制		在济院

- (1) 根据材料一结合所学知识，从秦朝到元朝的地方行政区划趋势及“变动”的具体表现。(10分)
- (2) 根据材料一、二结合所学知识，概括从秦朝到清朝国家治理体系的演变的趋势？对当今有何启示？(15分)

42. 中国拼音字母的诞生经历了迂曲反复的艰苦历程。(12分)

1625年法国传教士金尼格自称沿了利玛窦拼音体制，写成一部《西儒耳目资》。

这是一本用拉丁字母给汉字注音的字汇，也是一部最早用音素字母给汉字注音的字汇。该方案用5个元音字母、20个辅音字母和5个表声调的符号，可以拼出当时中国“官话”的全部音节。

自民国起，汉字改革遂成为社会主流思想，在提出必须废除书写复杂的汉字的学者中，刘半农、鲁迅等尤甚。1918年，中华民国教育部公布第一套法定的37个民族字母形式的注音字母方案。

1929年2月在苏联的中国共产党党员瞿秋白、吴玉章等人本着“必须创造一种通俗而接近大众的、适应现代科学要求的、国际化的拼音文字”的宗旨，在苏联汉学家协助下拟订了第一个中文拉丁化方案。

1930年赵元任发表了一篇《石室施士食狮史》(原名)，现名《施氏食狮史》，全文计94字，后扩充为103字，连同题目7字，共110字，假如全文实现了拼音化，那么就是这样的：“Shishishishi Shishi, shishi, shishishish. Shshishishishishishishi.....”。他发表的另一篇文章《季廷去鸡记》，在提请关注汉字拼音化要面临的问题时，与《石室诗士食狮史》异曲同工。

1952年起，新中国开始第一次大规模扫盲运动，与此同时，中华人民共和国公布法定的拉丁化《汉语拼音方案》，在1958年大规模实施。20世纪80年代汉语信息化工程进入日程，1986年国家教育委员会、国家语言文字工作委员会关于《全国语言文字工作会议纪要》指出：“在今后相当长的时期，汉字仍然是国家的法定文字”。今天，面对经济全球化和社会信息化，中国局面可称为“万码奔腾”。

依据材料和所学知识解读汉字改革演变的进程。要求：提取信息充分；总结和归纳准确、完整；解释和分析逻辑清晰。(12分)

地理选做题(10分，任选一题，多选则默认第一题)

43.[地理--选修3:旅游地理](10分)

展开上饶旅游版图，全域旅游盛世景象尽收眼底：驻足弋阳方志敏故居，聆听红色故事；攀登三清山，一睹自然之奇；畅游鄱阳湖，尽享秀水之乐；观景婺源赋春，饱览古城之美……，“红色”“绿色”“古色”多色齐放，生态与传统和谐共存，自然与人文交相辉映，吸引八方游客纷至沓来近年来，上饶紧紧围绕建设世界文化旅游目的地、国家级旅游休闲城市定位，加速发展“大旅游”



16. 阅读材料
【选修1：历史上重大改革回眸】
材料：
盖自太祖以来，海内用兵，宁岁无几。重以海陵（金朝第四位皇帝，完颜阿骨打的孙子）无道，赋役繁兴，盗贼满野，兵甲并起，“兵兴岁欠、仓廩久匮”，万姓盼盼，国内骚然，老无留养之丁，幼无顾复之爱，颠危愁困，待尽朝夕。世宗久典外郡，明祸乱之故，知吏治之得失。即位五载，而南北讲好，与民休息。于是躬节俭，崇孝悌，信赏罚，重农桑，慎守令之选，严廉察之责，却任得敬分因之请，拒赵位宠郡县之献，孳孳为治，夜以继日，可谓得为君之道矣！当此之时，群臣守职，上下相安，家给人足，仓廩有余，刑部岁断死罪，或十七人，或二十人，号称“小尧舜”，此其效验也。然举贤之急，求言之切，不绝于训辞，而群臣偷安苟禄，不能将顺其美，以底大顺，惜哉！对被征步兵“并放还家”的同时，提出“凡有徭役，均科强户，不得抑配贫民。”世宗（1161-1189）之立，虽由功进，然天命人心之所归，虽古圣贤之君，亦不能辞也。“以致大定三十年之太平”，史称“大定之治”。
——《金史》

请指出上饶发展旅游业的有利条件，并说明大力发展旅游业对上饶经济发展的有利影响。

44.[地理--选修 6:环境保护] (10 分)

随着城市现代化发展进程的不断加快，人们对城市的生活环境也日渐关注。园林树木是开展城市绿化工作的主体，调查发现，大多城市绿化树种配置不够合理，以选择生长速度快，生命周期短的观赏性花木为主，而生长周期相对漫长的高大乔木类植物较为少见。

说明城市在绿化建设中以速生观赏性花木为主的原因及不良影响。并针对两种绿化植物各列举一处适用的区域。

历史选做题 (15 分，任选一题，多选则默认第一题)

45.阅读材料，完成下列要求。(15 分)

【选修 1：历史上重大改革回眸】 (15 分)

盖自太祖以来，海内用兵，宁岁无几。重以海陵（金朝第四位皇帝，完颜阿骨打的孙子）无道，赋役繁兴，盗贼满野，兵甲并起，“兵兴岁欠、仓廩久匮”，万姓盼盼，国内骚然，老无留养之丁，幼无顾复之爱，颠危愁困，待尽朝夕。世宗久典外郡，明祸乱之故，知吏治之得失。即位五载，而南北讲好，与民休息。于是躬节俭，崇孝悌，信赏罚，重农桑，慎守令之选，严廉察之责，却任得敬分因之请，拒赵位宠郡县之献，孳孳为治，夜以继日，可谓得为君之道矣！当此之时，群臣守职，上下相安，家给人足，仓廩有余，刑部岁断死罪，或十七人，或二十人，号称“小尧舜”，此其效验也。然举贤之急，求言之切，不绝于训辞，而群臣偷安苟禄，不能将顺其美，以底大顺，惜哉！对被征步兵“并放还家”的同时，提出“凡有徭役，均科强户，不得抑配贫民。”世宗（1161-1189）之立，虽由功进，然天命人心之所归，虽古圣贤之君，亦不能辞也。“以致大定三十年之太平”，史称“大定之治”。
——《金史》

注：金世宗，即完颜雍（1123-1189），金朝第五位皇帝，本名乌禄，是金太祖完颜阿骨打的孙子。

(1)根据材料结合所学知识，概括金世宗改革的背景。(7 分)

(2)根据材料结合所学知识，概括金世宗改革的措施。(8 分)

46. 阅读材料，完成下列要求。（15分）

【选修3：20世纪的战争与和平】

材料 1943年11月至12月，侵华日军与中国军队在湖南省常德地区进行会战。常德会战被誉为东方“斯大林格勒保卫战”。

国民政府在总结会战时指出：“自会战开始至末期，空军除受天气影响外，逐日均能照预定目标轰炸或扫射，确实保有大部制空权。迫敌不得不于黎明前及日没后行动；且据各方报告，敌受我空军之伤害颇大。”日军“战意低落、攻击精神与企图心均不如前之旺盛”“无飞机乃优势之炮兵，每不敢放胆攻击”“战术上颇多轻敌”“后方过于空虚，不能确保已占要点与联络线”“兵员不足，编制缺额甚多”。

常德会战是开罗会议后，中国获得的第一次胜利，国际舆论为之一变。“此战役至少可使有关于中国军队力量薄弱及日军可任意攻入中国内地之谎言宣告平息。”“部分地破坏了日军南下的作战企图，在战略上配合了敌后战场反“荡”反“清乡”斗争。

——摘编自王道平《中国抗日战争史》以及《第六战区常德公战经验教训汇编》等

- (1)根据材料并结合所学知识，概括常德会战的主要特点。（6分）
- (2)根据材料并结合所学知识，简评常德会战的历史意义。（9分）

47. 阅读材料，完成下列要求。（15分）

【选修4：中外历史人物评说】

康德不但是伟大的哲学家，而且是卓越的教育家。他认为，教育问题说到底是一个哲学问题。他出身贫寒，大学毕业后当过9年的家庭教师，先后在3个家庭教12岁以下的男孩，后来进入哥尼斯堡大学当教师，从讲师到教授再到校长，有40多年的大学教育生涯。康德认为，道德教育的可能性在人性中是有其基础的，他从牛顿和伽利略的按照理论做实验的方法中分析出了一个预先深思熟虑的准则，就是让一切步骤在一个经过周密思考的方法的轨道上运行。他关注下层百姓的道德状况，正如他早年说的，是卢梭纠正了他的优越感。

——摘编自邓晓芒《康德论道德教育》

- (1)根据材料并结合所学知识，概括康德道德教育思想的特点。（8分）
- (2)根据材料并结合所学知识，分析康德道德教育思想产生的历史背景。（7分）

关于我们

自主选拔在线是致力于提供新高考生涯规划、强基计划、综合评价、三位一体、学科竞赛等政策资讯的升学服务平台。总部坐落于北京，旗下拥有网站（[网址: www.zizzs.com](http://www.zizzs.com)）和微信公众平台等媒体矩阵，用户群体涵盖全国90%以上的重点中学师生及家长，在全国新高考、自主选拔领域首屈一指。

如需第一时间获取相关资讯及备考指南，请关注**自主选拔在线**官方微信号：**zizzsw**。



 微信搜一搜

 自主选拔在线