

2023 届高三模拟考试

历史试题

2023.03

注意事项:

1. 答卷前,考生务必将自己的姓名、考生号等填写在答题卡和试卷指定位置。
2. 回答选择题时,选出每小题答案后,用铅笔把答题卡上对应题目的答案标号涂黑。如需改动,用橡皮擦干净后,再选涂其他答案标号。回答非选择题时,将答案写在答题卡上。写在本试卷上无效。
3. 考试结束后,将本试卷和答题卡一并交回。

一、选择题:本题共 15 小题,每小题 3 分,共 45 分。每小题只有一个选项符合题目要求。

1. 春秋战国时期,孟子指出天下当“定于一”,墨子主张“天下之百姓皆上同于天子”,管仲提出“衡石一称,斗斛一量”、“书同名、车同轨”的主张。这一局面
A. 表明宗法礼乐制度已瓦解
B. 反映贵族丧失了世袭特权
C. 体现了中央集权制的确立
D. 折射出传统秩序遭到破坏
2. 汉代画像石保存了大量关于体育题材的资料,如蹴鞠、骑马、射箭、角抵等。名将霍去病很喜欢蹴鞠,《汉书·霍去病传》记载“其在塞外,卒乏粮,或不能自振,而去病尚穿域踢鞠(开辟场地踢球)”。这反映出
A. 霍去病无视军情满足个人需求
B. 汉代体育包含一定的军事需求
C. 汉代盛行刚健的尚武轻文之风
D. 竞技体育成为娱乐的主要方式
3. 唐初承袭隋制实行州县两级制。从太宗起,分天下为十道,玄宗时再细分为十五道,每道置采访使以检察州县。后来采访使演变为观察使,形成介于中央与州郡之间的一级行政机构。以观察使为中心的地方行政系统的形成
A. 强化了中央对地方的管理
B. 规范了中央的决策机制
C. 完善了国家监察管理制度
D. 形成了历史传承的风尚

4. 图 1 是唐宋时期南北方人口密度图, 据此可知, 该图

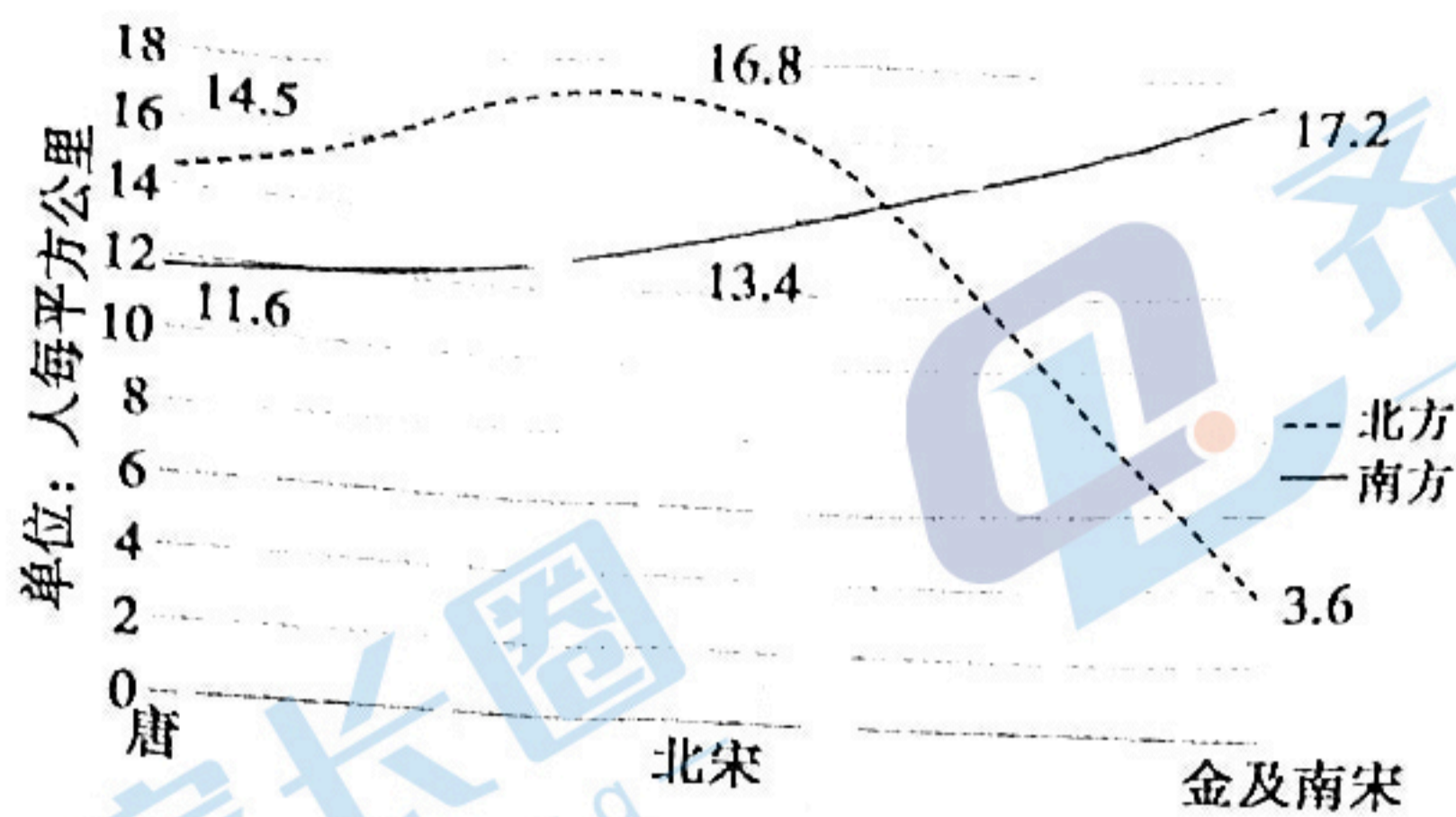


图 1

- A. 科学揭示了社会阶层的流动
 B. 准确体现了经济基础的变动
 C. 客观上反映南方市场的扩大
 D. 合理解读了北民南迁的原因
5. 1859 年, 英法进京交换《天津条约》批准文书, 见大沽口海河堵塞, 指责中国失信并派随带的海军进攻, 僧格林沁下令狙击。对此, 清朝解释海河既为中国领河, 中国自有设防权。这反映出当时的中国
- A. 半殖民地程度加深
 B. 近代海防兴起
 C. 闭关自守不断强化
 D. 主权观念萌发
6. 下表为 19 世纪末至 20 世纪初的西学译著统计表。表格中数据变化的主要背景是

年份	书目	自然科学(含应用科学)		社会科学(政治、法学为主)	
		总数	占比	总数	占比
1896 年	《西学书目表》	259 种	73.6%	93 种	26.4%
1900—1904 年	《译书经眼录》	164 种	33.4%	327 种	66.6%

- A. 民主共和观念深入人心
 B. 实业救国思潮的兴起
 C. 维新变法思潮逐渐兴起
 D. 救亡图存探索的深入
7. 1932 年, 国民政府颁布《商品检验暂行条例》, 同时于上海、汉口、青岛等重要通商口岸设立商品检验局。1934 年公布的新税则中将糖、烟、小麦粉等 44 种货品免征出口关税, 而进口税率从 7.5% 至 50% 不等。据此可知, 国民政府采取的这些举措
- A. 使中国国民经济结构渐趋合理
 B. 扭转了中国外贸逆差的局面
 C. 为民族工业的发展提供了机遇
 D. 强化了国家对经济的全面统制

8. 第一个五年计划期间,新中国进行以 156 项工程为核心的工业化建设。图 2 可反映出这一时期

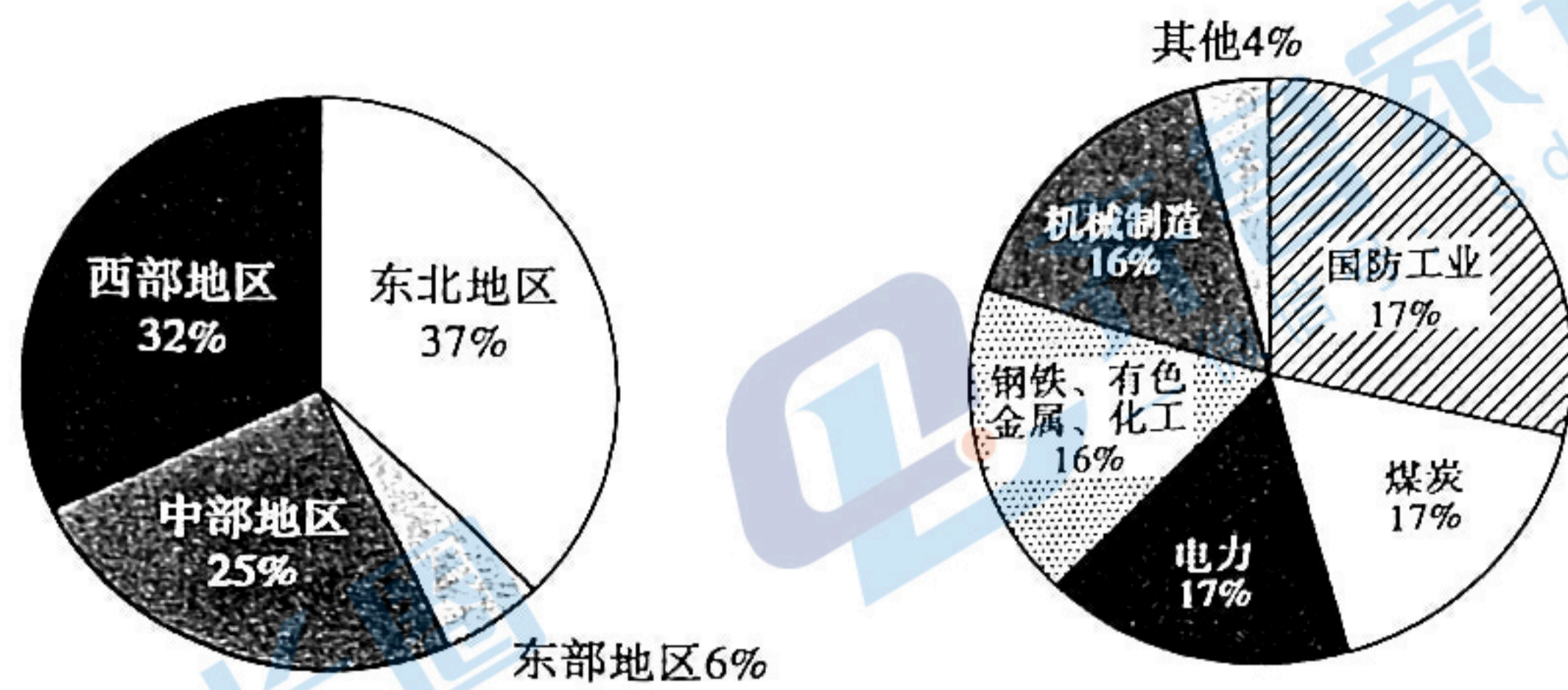


图 2 156 项工程分布情况

- A. 忽略农业和轻工业同步发展
 B. 工业建设考虑地域平衡
 C. 基本实现了社会主义工业化
 D. 不利于工业的良性循环
9. 1962 年至 1969 年,为了对冶金、石化、机械、电子等部门进行技术改造和填补生产技术空白,我国先后从日本、英国、法国、联邦德国、意大利、荷兰、比利时等国引进技术和设备 84 项,累计用汇金额 14.5 亿美元。这反映出我国
- A. 国际地位不断提升
 B. 外交政策的不断调整
 C. 探索新的经济体制
 D. 经济与世界全面接轨
10. 在中世纪西欧的社会活动中,当王权与教权产生矛盾和冲突时,双方主要从保护自己利益的角度而非取代或推翻对方的角度出发,采取谈判、法庭斗争、货币赎买,甚至是战争威胁等手段,使彼此达成一种妥协,建立一种新的权利义务关系。这些做法
- A. 助推封君封臣制的形成
 B. 奠定了民族国家的基础
 C. 为城市自治提供了借鉴
 D. 限制了贵族权力的滥用
11. 图 3 是近代某一时期世界主要贸易路线图。由该图可知

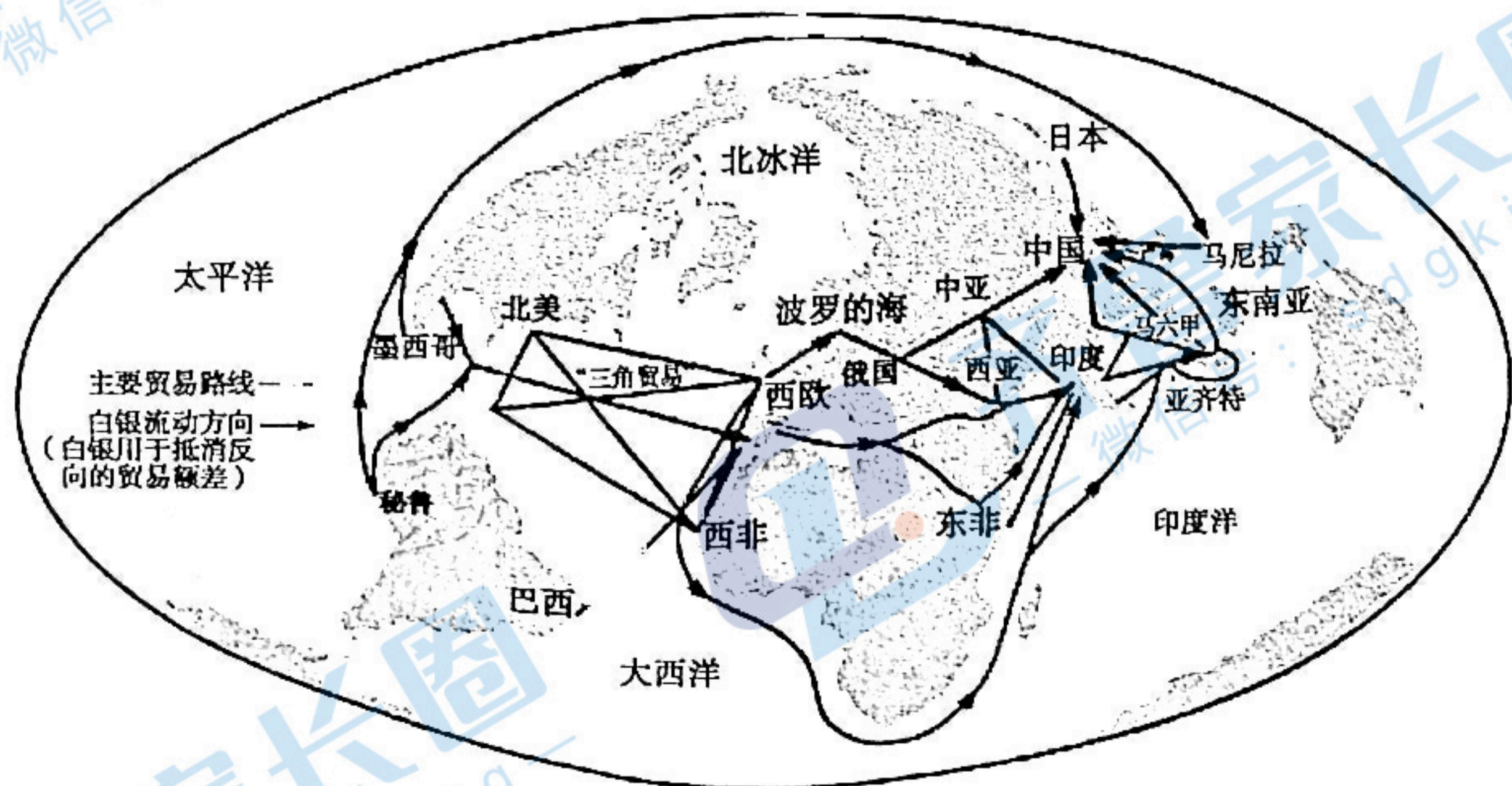


图 3

A. 全球联系初步建立

B. 中国主导世界白银流向

C. 世界市场最终形成

D. 西欧加大对华资本输出

12. 英国农民感受到时间的新单位是来自于进入村庄中的流动农业机械, 谷物脱粒承包人要求按小时收费, 拥有机械的农业劳动者帮助邻居耕地也要求按小时计费, 年青人都关心的是脱粒机和收割机的效益, 他们拿着小本子认真地记下这些机械的工作小时数和消耗的燃料量。这说明

A. 工业文明影响农民的劳动观念

B. 工业革命加速农业生产衰落

C. 农民受到工厂制度的严格限制

D. 农民生产劳动的自主性增强

13. 提拉克多次到孟买工人中进行宣传, 深受欢迎。他说: “必须首先给人房子, 然后你才能要求他们把屋子布置得井井有条”。在他的努力下, 1906 年国大党把自治、自产、抵制英货和民族教育四大要点作为党的纲领。由此可知, 他主张

A. 建立无产阶级专政以实现民族解放

B. 解决民生问题是民族自决的前提

C. 用非暴力不合作方式争取民族自治

D. 唯有民族独立才能实现民族振兴

14. 20 世纪 20 年代中期, 苏联领导人认为此时的国际社会“产生着最深刻、最尖锐的世界资本主义危机, 这种危机孕育着新战争”。20 世纪 20 年代后期, 资本主义国家与苏联的矛盾时有出现, 甚至有联合对苏联进行经济封锁的行动。由此推断, 苏联将

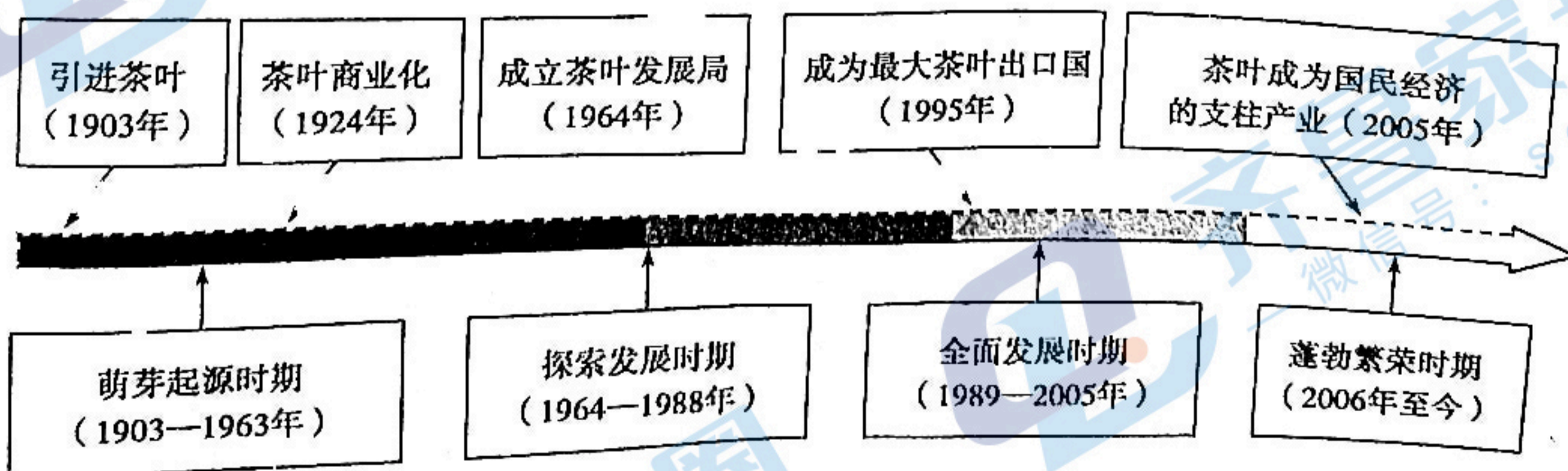
A. 把维护国家安全逐渐提上议事日程

B. 调整战略快速实现社会主义工业化

C. 支持欧洲工人运动来缓和国际矛盾

D. 利用市场机制发展生产来应对危机

15. 东非肯尼亚从百年前开始种植茶叶, 1963 年独立后逐渐发展成为全球茶叶生产和出口大国。肯尼亚茶叶种植与生产的历程可划分为以下 4 个阶段



这表明

A. 茶叶的引进带有殖民化的色彩

B. 民族独立后其茶叶生产发展受阻

C. 多极化促进茶叶生产质的飞跃

D. 茶叶生产大大提升了其国际地位

二、非选择题：本大题共 4 小题，第 16 题 12 分，第 17 题 13 分，第 18 题 15 分，第 19 题 15 分，共 55 分。

16. (12 分) 阅读材料，回答问题。

明代的通货与赋税制度变革

材料一 洪武年间，朝廷规定赋税征收及民间交易只能使用宝钞，但是学者研究统计明代前期徽州祁门 146 张土地买卖契约中使用通货的情况如下：

时间	契约张数	使用通货类别和数量
洪武年间	8	宝钞 7, 银 1
建文年间	1	宝钞
永乐年间	16	宝钞 15, 布 1
宣德年间	17	宝钞 4, 布 11, 稻谷 2
正统年间	48	布 29, 稻谷 2, 银 17
景泰年间	12	布 2, 银 10
天顺年间	7	银 6, 稻谷 1
成化年间	32	银 22
弘治年间	14	银 14

——摘自傅衣凌《明代前期徽州土地买卖契约中的通货》

材料二 穆宗隆庆四年(1570 年)户部奏准：“江南布政司所属府州县各项差役，逐一较量轻重，系力差者，则计其代当工食之费，量为增减；系银差者，则计其扛解交纳之费，加以增耗。通计一岁共用银若干，照依丁粮编派。如有丁无粮者，编为下户，仍纳丁银；有丁有粮者，编为中户；及粮多丁少，与丁粮俱多者，编为上户，俱照丁粮并纳，着为定例(此惟限于江南布政司所述之地)”。

——明朝王圻《续文献通考·职役考》

作为历史观察者，结合材料信息及所学知识，以“明代的通货与赋税制度变革”为题写一份简要的观察报告。(要求：史论结合，逻辑清晰，层次分明。)

17. (13分)校徽的功能主要是为了彰显学校的办学理念和精神底蕴。阅读材料,回答问题。

材料

校徽:标识与理念



图4 鲁迅设计的北大校徽

1917年,时任北京大学校长的蔡元培请鲁迅设计北大校徽。同年8月7日,鲁迅完成图案设计工作。鲁迅设计的北大校徽造型是中国传统的瓦当形象,简洁的轮廓给人现代的感觉。“北大”两个篆字上下排列上部的“北”字是背对背侧立的两个人像,下部的“大”字是一个正面站立的人像,有如一人背负二人构成了“三人成众”的意象,给人以“北大人肩负着开启民智的重任”的想象。同时“北大”二字还有“脊梁”的象征意义。鲁迅用“北大”两个字做成了一具形象的脊梁骨,借此希望北京大学毕业生成为国家民主与进步的脊梁。

——据肖伊绯《大学校徽百年史话》等

结合时代背景,对鲁迅设计的北大校徽进行阐释。

18. (15分) 阅读材料, 回答问题。

材料

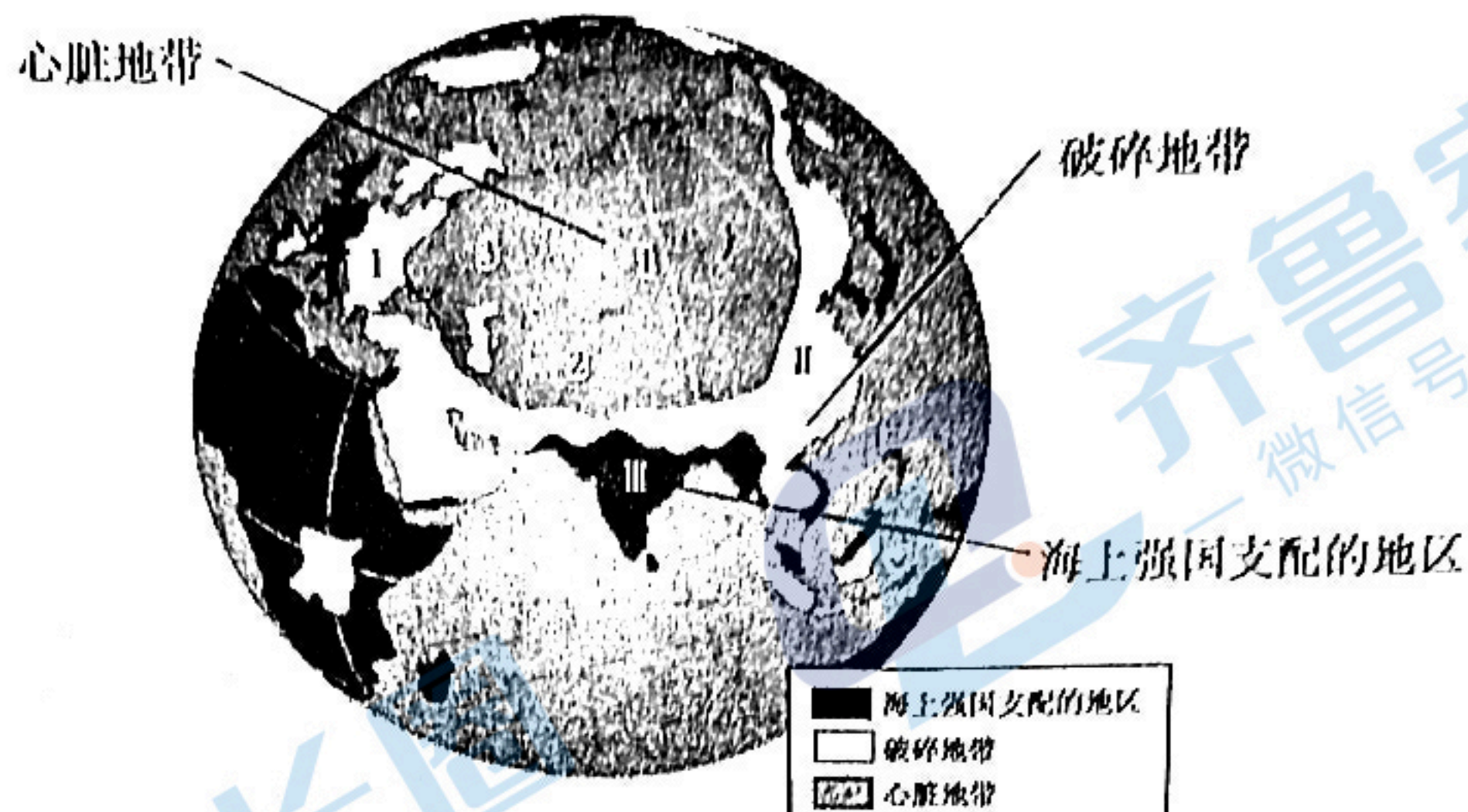
1984年中国改革开放大事记

时间	大事记
1—2月	邓小平第一次南巡, 视察深圳、珠海、厦门三个经济特区和上海, 充分肯定试办经济特区和对外开放的决策
3月	中共中央、国务院将社队企业改称乡镇企业, 提出发展乡镇企业的若干政策; 福建55位厂长的呼吁书《请给我们松绑》刊发, 要求增加企业经营自主权
4月	中国开始颁发第一代身份证, “职业”等没有成为身份证内容
5月	中共中央、国务院决定开放大连等14个沿海港口城市和海南岛
10月	国务院发出《关于农民进入集镇落户问题的通知》, 支持农民进入集镇经营工商业, 放宽落户政策, 统计为非农业人口; 中共十二届三中全会通过《中共中央关于经济体制改革的决定》, 提出社会主义经济是以公有制为基础的有计划的商品经济, 实现了党在经济理论上的新突破, 规定了以城市为重点的经济体制改革的任务、性质和各项方针政策
11月	上海飞乐音响发行股票
12月	年终盘点: “我们都下海吧”成为民间热词, 中国现代企业诞生和企业家创业最为集中的一年, 被称为“中国公司元年”

依据中华人民共和国中央人民政府网站《中华人民共和国大事记(1984年)》编制提取材料信息, 结合所学知识以“释放的活力”为题, 对这一年的改革开放大事记写一个历史述评。(要求: 表述成文, 史论结合, 条理清晰。)

19. (15分) 阅读材料, 回答问题。

材料



旧大陆体系

曾经控制心脏地带的三个中枢: 1. 阿尔泰山地区; 2. 图兰; 3. 俄罗斯。

有可能控制心脏地带的三个中枢: I. 德意志; II. 中国; III. 印度。

图 5

——[英]詹姆斯·费尔格里夫《地理与世界霸权》

注: 1915 年詹姆斯·费尔格里夫的《地理与世界霸权》出版, 他从陆权与海权的角度探讨英国所面临的现实和潜在威胁, 他在书中指出, 欧亚大陆的中部和北部是“心脏地带”, “海上强国”指的是英国、法国、意大利、葡萄牙、日本等; “破碎地带”指的是在“心脏地带”和海上强国间的小国或古老文明的残片。其中德意志已经崛起为海上强国之一, 中国、印度由于历史和地理的因素在未来可能发展为控制“心脏地带”的中枢地区。

(1) 提取图 5 所反映的信息, 并指出该图绘制的依据。(7 分)

(2) 20 世纪 70 年代, 有学者对图 5 的内容进行了修改, 你认为他会从哪些方面进行修改? 请说明你的理由。(8 分)(要求: 任选两个方面进行修改, 说明理由, 观点正确, 条理清晰。)