

绝密★启用前

5月高考适应性大练兵联考 文科综合卷

注意事项:

- 答卷前,考生务必将自己的姓名、准考证号等填写在答题卡上和试卷指定位置上。
- 回答选择题时,选出每小题答案后,用铅笔把答题卡上对应题目的答案标号涂黑。如需改动,用橡皮擦干净后,再选涂其他答案标号。回答非选择题时,将答案写在答题卡上。写在试卷上无效。
- 考试结束后,将本试卷和答题卡一并交回。

一、选择题:本题共35小题,每小题4分,共140分。在每小题给出的四个选项中,只有一项是符合题目要求的。

湖南浏阳地处湘赣边界,境内多山,盛产土硝、硫磺、红白泥土等制作花炮的原料。浏阳自古有“花炮之乡”,花炮畅销海内外。过去,当地花炮以手工制作为主,作坊数量众多;目前,花炮制作的机械化水平大幅提高,但企业数量大量减少,产能也大幅降低。2021年,浏阳花炮入选“中欧地理标志协定”,琳琅满目的花炮产品让更多欧洲居民体验了浓郁的“中国味”。据此完成1~3题。

- 古代制作浏阳花炮的作坊主要
 - A. 聚集在土硝产地
 - B. 散布在山顶上
 - C. 集中在河港附近
 - D. 分散在沟壑中
2. 目前浏阳花炮的产能大幅降低,主要原因是
 - A. 企业数量减少
 - B. 原料逐渐枯竭
 - C. 市场需求变化
 - D. 生产成本过高
3. 2021年后,浏阳花炮走进了更多的欧洲家庭,主要得益于其
 - A. 质量大幅提升
 - B. 运输成本降低
 - C. 知名度提高
 - D. 中国文化浓郁

蓉欧快铁指中国成都至西欧罗兹的国际快速铁路,该快速铁路是中国与欧洲间的物流大动脉之一。通过蓉欧快铁,成都的M公司利用蓉欧快铁将产品运往欧洲,并在冬季利用恒温冷柜从欧洲运进玻璃瓶装的橄榄油、红酒等商品。下图为蓉欧快速铁路线路图。据此完成4~5题。



- 与传统海铁联运相比,M公司通过蓉欧快铁运输商品,主要为了
 - A. 增加公司产品库存
 - B. 快速响应欧洲市场
 - C. 节省运输费用
 - D. 增加就业机会
5. M公司冬季采用恒温冷柜从欧洲运进商品,主要目的是
 - A. 冷藏
 - B. 保温
 - C. 防腐
 - D. 防风沙

中国东北地区的西辽河流域地处季风气候敏感带,古聚落的数量和分布范围变化频繁。研究发现,西辽河流域是我国旱作农业起源的重要区域,史前人类主要聚集在河流阶地,采集、渔猎和农牧业是其主要经济生活方式。下图示意距今6000—2000年来西辽河流域遗址数量变化。据此完成6~8题。

（注：第一页共9页）

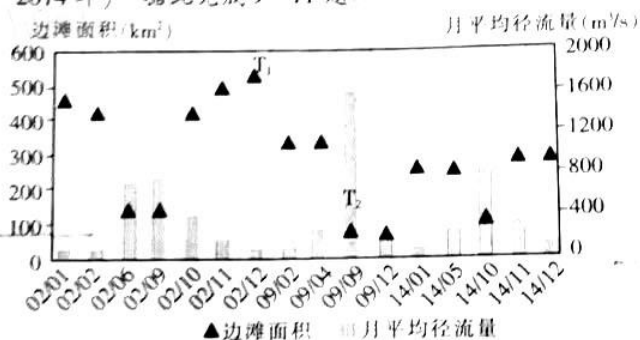


6. 限制该流域古聚落选址的主导因素是
A. 水源 B. 地形 C. 气候 D. 植被

7. 与红山文化时期相比,小河沿文化时期该流域的气候趋向
A. 夏季风增强,气候趋向冷湿 B. 夏季风增强,气候趋向暖干
C. 夏季风变弱,气候趋向暖湿 D. 夏季风变弱,气候趋向冷干

8. 图示时段中,该流域内先民分布范围最广的是
A. 红山文化时期 B. 小河沿文化时期
C. 夏家店下层文化时期 D. 夏家店上层文化时期

长江源某河段河谷宽阔顺直,岔道众多,边滩分布广且滩、洲分合频繁。下图示意该河段不同流量下 M 边滩面积变化(2002—2014 年) 据此完成 9~11 题

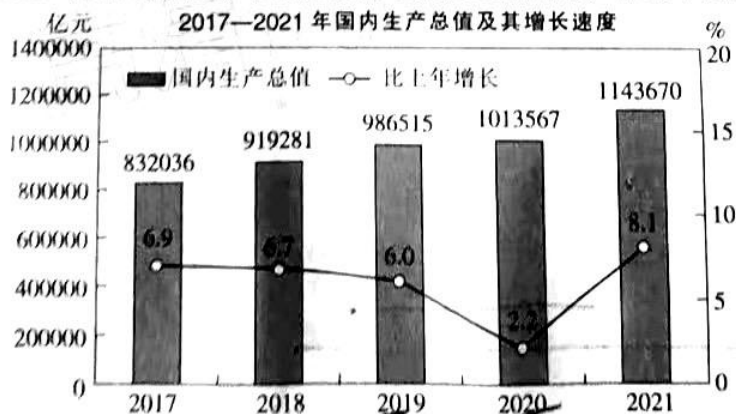


9. 该河段岔道众多,洲滩广布,主要是因为该段河流
A. 降水量和含沙量季节变化小 B. 沙洲稀少,含沙量季节变化大
C. 含沙量大,流速季节变化小 D. 含沙量大,径流量季节变化大

10. 影响 M 边滩面积变化的主要因素是
A. 径流流量 B. 含沙量 C. 河道落差 D. 河床宽度

11. 与 T₂ 时段相比, T₁ 时段 M 边滩面积成倍增加,主要原因是
A. 径流量大增 B. 沙洲与边滩合并 C. 含沙量骤减 D. 边滩出现新岔道

12. 下图反映了 2017—2021 年我国国内生产总值及其增长速度变化情况。下列对该图的解读正确的是



①有效防控疫情助力 2021 年经济有力恢复
②我国经济长期向好的基本面并没有改变
③科学宏观调控使我国经济实现高速增长
④2020 年的负增长未改变我国经济的走势

A. ①② B. ①③ C. ②④ D. ③④

13. 2022年4月,华为投资控股有限公司发布公告称,经公司内部有权机构决议,拟向股东分派现金股息人民币614.04亿元。华为2021年年报显示,公司员工持股计划参与人数为131507人,员工持股计划分红46.69万元。员工持股参与公司分红
- ①保证了劳动者获得企业福利的权利
②有利于发挥分配对生产的促进作用
③表明劳动者共享了企业的发展成果
④体现了劳动者按技术要素参与分配
- A. ①②
B. ①④
C. ②③
D. ③④
14. 2022年3月26日,某市人民政府印发通知,决定全面取消商品房限购,并取消限售政策。不考虑其他因素,该市的新政策发挥作用的路径是
- ①激活房地产市场→带动下游产业复苏→提振地方经济
②银行扩大贷款→缓解企业融资难→助力实体经济发展
③发挥消费作用→稳定房地产市场→化解经济下行风险
④增加居民收入→住房消费升级→引导房地产行业健康发展
- A. ①③
B. ①④
C. ②③
D. ②④
15. 2022年3月23日,美国贸易代表办公室表示,将恢复部分中国进口商品关税豁免,涉及352项产品。被豁免的商品包括特定种类的自行车部件、电机、机械、化学品、海鲜和行李袋等。美国恢复部分中国进口商品的关税豁免
- ①为中美经贸关系良性互动释放了积极信号
②说明发达国家是经济全球化的真正受益者
③宣告美国实施的贸易保护主义政策的终结
④有助于稳定对全球供应链和产业值的预期
- A. ①③
B. ①④
C. ②③
D. ②④
16. 2022年3月30日,国务院新闻办公室举行新闻发布会,教育部体育卫生与艺术教育司负责人表示,要严格政策标准和教育督导,强化体育课程开设刚性要求,严禁削减、挤占体育课时间,保障学生健康。教育部强化对学校体育课的要求
- A. 体现了政府为人们生活提供公共服务
B. 是政府贯彻依法治国原则的具体体现
C. 表明政府的权威在于其权力的强制性
D. 表明政府坚持对人民负责的基本原则
17. 自党的十八届四中全会提出建立基层立法联系点制度以来,截至2022年1月,全国人大常委会通过基层立法联系点先后就132部法律草案、年度立法计划等征求基层群众意见,获得建议11360余条。这些意见建议都得到国家立法机关的尊重和认真研究,其中2300余条意见建议被不同程度采纳吸收。实行基层立法联系点制度
- ①便于各级人大代表接受群众监督
②是发展全过程人民民主的具体实践
③能够找到社情民意“最大公约数”
④体现了对基层民主自治制度的创新
- A. ①③
B. ①④
C. ②③
D. ②④
18. 随着国家间的联系越来越密切,我国不断加强与其他国家的友好合作,但这种合作是有底线的,这一底线就是联合国宪章所确立的宗旨和原则,这是公认的国际法和国际关系基本准则,是我国同其他任何国家处理双边关系时所遵循的行动指南。我国不断加强与其他国家的友好合作
- ①是维护国际政治经济新秩序的客观需要
②根本原因是各个国家之间存在共同利益
③有利于共同抵御非友好国家的军事威胁
④是维护世界和平、促进共同发展的选择
- A. ①③
B. ①④
C. ②③
D. ②④
19. 2022年3月,长篇报告文学《奔跑追梦人》出版。该书聚焦新时代奋斗者,成功书写了深圳优秀人才创新创业的故事,奏响“劳动创造幸福、奋斗成就梦想”的新时代乐章,激励更多的中国人尤其是青年人努力创造属于自己的未来。该作品的成功告诉我们
- A. 文化是一种社会精神力量,推动着社会的发展和进步
B. 产生于实践的优秀文艺作品能够成为人们前进的动力
C. 在文化建设中,人才所提供的智力支持是不可或缺的
D. 立足社会实践就有成功的文化创新,奏响时代最强音
20. 2021年12月2日,中央组织部、中央宣传部公布“最美公务员”评选结果,张春山等32名同志被评选为“最美公务员”。此次评选的“最美公务员”是坚决贯彻落实习近平总书记重要指示批示精神和党中央决策部署,同群众想在一起、干在一起的先进典型。开展“最美公务员”评选活动
- ①有助于推动中华优秀传统文化创造性转化、创新性发展
②目的在于激励动员广大公务员奋进新征程,建功新时代
③能够促进以改革创新为核心的时代精神进一步发扬光大
④有助于高扬主旋律,培育担当民族复兴大任的时代新人
- A. ①③
B. ①④
C. ②③
D. ②④

21. 借助哈勃太空望远镜,科学家直接观察到太阳系外某颗类木行星的形成过程。这一发现支持长期以来颇有争议的有木星形成的理论——“星盘不稳定性”理论,即行星能由大团团缩气体通过引力不稳定性这一过程形成。这可能会颠覆行星成因的主流理论。上述事例说明

- A. 能否正确认识事物取决于认识工具的进步
- B. 不经历正确与错误的反复就无法获得真理
- C. 人们对事物的认识要得到实践结果的检验
- D. 指导人们开展实践活动是认识的根本任务

22. 中共中央办公厅印发《关于推动党史学习教育常态化长效化的意见》,要求各地区各部门结合实际认真贯彻落实。各地区各部门结合实际推动党史学习教育常态化长效化,体现的哲理是

- ①保持稳定要求把量变控制在一定程度
- ②实现发展必须通过量变创造充分条件
- ③通过辩证否定才能在继承中取得发展
- ④具体问题具体分析是解决问题的关键

- A. ①③
- B. ②④
- C. ①④
- D. ②③

23. 漫画给我们的人生观启示是

讨论是交流知识,争吵是交流无知。



- ①坚持正确价值观指导,对事物作出正确的认识
- ②要在正确处理个人与社会关系中追求个人成长
- ③要在获得社会承认的基础上实现对自我的满足
- ④自觉坚持人民立场,把握正确的价值判断标准

- A. ①②
- B. ③④
- C. ①④
- D. ②③

24. 《韩非子》中有《解老》《喻老》两篇,专门诠释老子思想。老子曾讲:“鱼不可脱于渊,国之利器,不可以示人。”韩非将其释为“势重者,人君之渊也”,赏罚之权为“邦之利器”,臣子掌握就会“在臣胜君”,“用其势”而“乘其威”。据此可知,韩非

- A. 维护了无上皇权
- B. 批判了道家的无为思想
- C. 丰富了人本思想
- D. 强调了专制集权的必要

25. 张苍随刘邦反秦,后历任御史大夫、丞相等职。吕后驾崩、吕氏为乱时,张苍等人迎立文帝。公元前166年,文帝欲“改正朔服色制度”,张苍“请罢之”。转年,文帝以张苍“任人为中候,大为奸利”为由对其进行斥责,张苍无奈“病免”。这反映了,汉文帝时期

- A. 治国理念发生变化
- B. 皇帝权威得以加强
- C. 中枢决策权力转移
- D. 张苍任用奸利之人

26. 南宋时,御街从皇宫北面的和宁门往北通向临安城市中心……御街中段的街市最为热闹,如清河坊、官巷口、众安桥等,正如《都城纪胜》所说:“买卖关扑,酒楼歌馆,直至四鼓方静,而五鼓朝马将动,其有趁卖早市者,复起开张。”由此可见,当时临安

- A. 城市商业获得政策支持
- B. 工商活动摆脱官府监管
- C. 城市功能呈现出多样性
- D. 城市治理制度发生变化

27. 明朝人朱健曾评论时政:“内设六部九卿以统治天下,而外又设十三布政(使司)以分治郡邑。内设都察院以整肃朝廷,而外又设十三按察(使司)以分寄考劾。兵部、帅府以相维于内,而布、按、都(指挥使)司以相制于外。”这说明,这一制度设计意在

- A. 维护统一安定的政治局面
- B. 提高各级政府的行政效率
- C. 削弱中枢机构的政治权力
- D. 构建权力制衡的官僚体系

28. 近代商人“惟经营大获,纳资得官,乃得厕身缙绅之列”。在沪的浙江宁波籍买办集团自上海开埠后,逐渐取代粤籍买办地位,如杨坊、陈竹坪等皆因买办而致巨富。他们一面将其资财投向新式企业,一面以其资财捐纳职衔翎顶。这表明,晚清

- A. 传统四民观念趋于瓦解
- B. 近代实业发展环境明显改善
- C. 社会性质制约经济转型
- D. 民族工业实现区域均衡发展

29. 1916年,陈独秀认为,以前的洋务、变法和革命没有“多数国民”的伦理觉悟,仍不过是“希冀圣君贤相施行仁政”“共和立宪而不出于多数国民之自觉与自动,皆伪共和、伪立宪也,政治之装饰品也”。基于这一认识,他

- A. 率先对封建纲常进行批判
- B. 领导推动了国民革命运动
- C. 积极传播马克思主义学说
- D. 大力宣传民主和科学思想

30. 下面是新中国成立初期的一幅宣传画,这一宣传画反映了



搞好卫生运动 保障身体健康 提高工
建设伟大的祖国 粉碎美帝国主义的毒计

- A. 农村成为了卫生防疫的重点地区
 B. 妇女成为卫生运动的主力军
 C. 利用意识形态宣传动员卫生运动
 D. 我国卫生防疫制度开始建立
31. 1984年3月,中共中央、国务院发出通知,同意将社队企业改为乡镇企业。到1987年,全国乡镇企业从业人数达8805万人,产值达到4765亿元,占农村社会总产值50.8%。这反映出此时
- A. 农村经济改革进一步深化
 B. 经营责任制在农村全面推广
 C. 城乡经济实现一体化发展
 D. 市场体制促进农村经济调整
32. 克里斯提尼执政时期,组建十个行政选区。此后,每一选区以一个传说中的“英雄”命名,对这些英雄进行宗教崇拜;按照选区组织重装步兵团;在剧场中公民的座位和参与竞赛的歌队按选区划分。据此可知,当时雅典
- A. 宗教主导社会政治活动
 B. 贵族社会政治影响削弱
 C. 城邦实力不断发展壮大
 D. 民主政治社会基础扩大
33. 下面一组绘画为拉斐尔的作品,这些作品反映了拉斐尔



《西斯廷圣母》



《椅中圣母》



《先知何西亚和约拿》

- A. 大力宣扬基督教的神秘色彩
 B. 意在彰显人类的力量与智慧
 C. 借助宗教展现人文主义思想
 D. 否定了封建制度的思想基础
34. 1927年,苏联发行“工业化公债”。1927—1932年城市居民认购的公债额从7.26亿卢布增加到39.22亿卢布,1927—1938年公债额增加了18倍。同时,苏联社会“在各方面厉行节约,节约饮食,节约教育经费,节约布匹”。这表明,当时苏联
- A. 新经济政策深得人心
 B. 经济建设得到民众支持
 C. 工业化资金难以满足
 D. 经济危机加剧生活困难
35. 下表是第二次世界大战后美国、联邦德国、日本就业人口分布的变化(%)简表。三国就业人口的变化反映了

经济部门	年份	美国	联邦德国	日本
农业	1950	12.2	23.2	50.7
	1990	2.8	5.1	7.2
工业	1950	34.7	42.2	22.2
	1990	25.8	40.5	33.6
服务业	1950	48.9	32.4	26.6
	1990	71.4	54.4	59.2

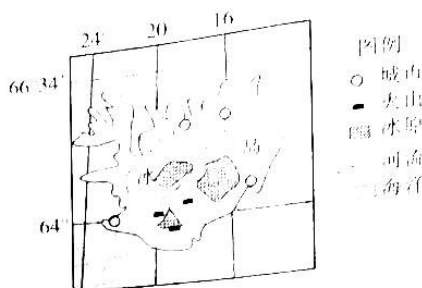
- A. 日本经济总量跃居世界第二
 B. 西方国家的制造业走向衰败
 C. 第三次科技革命带来的影响
 D. 西方国家劳动力成本的提高

二、非选择题：本卷包括必考题和选考题两部分。第36—42题为必考题，每个试题考生都必须作答。第43—47题为选考题，考生根据要求作答。

(一)必考题：共135分。

36. 阅读图文材料，完成下列要求。(24分)

冰岛上冰川和温泉广布，南部沿海冬季多雾，中间多为400~800 m的高原台地；海洋渔业和旅游业是其支柱产业，能源以水电和地热为主。喜温凉的草莓可露天种植，因其甜度高、绿色环保而畅销欧洲。当地部分地区采用大棚种植香蕉，产品大量供应欧洲市场，这些大棚多长期处于封闭或半封闭状态。如图示意冰岛地图。



- (1)分析冰岛南部冬季多雾的主要原因。(6分)
- (2)说明冰岛草莓畅销欧洲的自然原因。(8分)
- (3)说明冰岛种植香蕉的自然优势。(4分)
- (4)推测随着时间推移，大棚内容易出现土壤盐渍化的主要原因。(6分)

37. 阅读图文材料，完成下列要求。(22分)

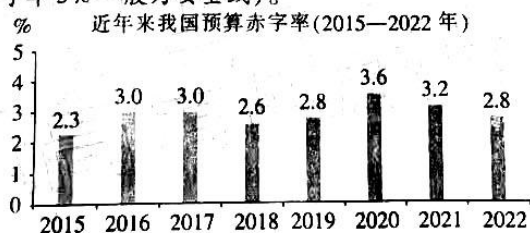
“氢能”按照能量来源分为“灰氢”、“蓝氢”、“绿氢”三种。能量来自化石燃料的氢气被称为“灰氢”、“蓝氢”，能量来自可再生能源制的氢气被称为“绿氢”。河北张家口位于内蒙古高原南缘，年降水量300 mm左右，年平均7级以上大风日数约30天。该市建有我国可再生直流水网示范工程(简称“张北电网”)，并建有“绿氢”燃料电池生产基地和氢燃料电池客车生产线，所产客车曾助力2022年北京·张家口冬奥会。近年来，张家口吸引了高耗能的大数据等产业纷纷落户。下图为张家口位置示意图。



- (1)简述张家口建设“绿氢”燃料电池生产基地的有利条件。(6分)
- (2)说明张北电网与当地氢能产业的相互作用。(4分)
- (3)分析国家电网推广可再生能源+“氢能”电池的主要目的。(6分)
- (4)简述张家口市大力发展“氢能”燃料电池的社会经济意义。(6分)

38. 阅读材料，完成下列要求。(14分)

一国预算赤字率的变化，反映着宏观经济政策的变化。下图是近年来我国预算赤字率的变化情况(按照国际通行标准，赤字率3%一般为安全线)。



2022年我国经济发展面临更多压力，保持经济平稳运行需要进一步加大财政支持力度，财政收支矛盾仍然突出。这要求科学合理编制好预算。

从财政收入看，减税降费政策效应持续释放，市场主体活力和动力有所增强，经济稳定恢复态势不断巩固，为财政收入增长奠定了坚实基础；同时，新的经济下行压力对财政收入增长形成制约，缓解企业生产经营困难需要实施新的减税降费政策，疫情形势变化也会加大财政收入不确定性。从财政支出看，各领域对财政资金需求较大，基本民生、科技攻关、巩固拓展脱贫攻坚成果同乡村振兴有效衔接、生态环保、国防等支出要加强保障，做好碳达峰、碳中和工作以及促进区域协调发展等也要新增支出。

- (1)解读图表中的信息。(6分)
- (2)结合材料和经济知识，说明合理编制好预算对化解财政收支矛盾的意义。(8分)

39. 阅读材料,完成下列要求。(12分)

根据党中央有关规定,中央政治局委员、书记处书记,全国人大常委会、国务院、全国政协党组成员,最高人民法院、最高人民检察院党组书记,每年向党中央和习近平总书记书面述职。紧扣2021年度中心工作和主要任务,有关同志向党中央和习近平总书记作了2021年度书面述职,总结经验,分析不足,提出努力方向。

习近平总书记认真审阅了述职报告并提出重要要求,强调要全面贯彻党的十九大和十九届历次全会精神,以强烈的政治责任感和历史使命感履行职责,坚定不移贯彻落实党中央方针政策和决策部署,推动分管领域、分管部门完整、准确、全面贯彻新发展理念,做好保护和改善民生各项工作,履行全面从严治党主体责任,发扬自我革命精神,永葆清正廉洁的政治本色。

实行述职制度体现了中国特色社会主义制度的优势。结合材料和政治生活知识对此加以说明。(12分)

40. 阅读材料,完成下列要求。(26分)

为迎接党的二十大胜利召开,中共中央宣传部印发通知,在全国城乡广泛组织开展以“强国复兴有我”为主题的群众性主题宣传教育活动。

通知强调,要以“强国复兴有我”为主题组织开展群众性主题宣传教育活动,充分宣传展示党和国家事业取得的历史性成就、发生的历史性变革,进一步振奋精神、凝聚力量、激励和动员全党全军全国各族人民更加紧密地团结在以习近平同志为核心的党中央周围,不忘初心、牢记使命,锐意进取、勇毅前行,满怀信心迎接党的二十大胜利召开。

通知要求,各地各部门要坚持正确政治方向,用习近平新时代中国特色社会主义思想教育人,用中华民族伟大复兴历史使命激励人,唱响主旋律、壮大正能量。要坚持深入基层,采用群众熟悉的话和乐于接受的方式,吸引广大干部群众踊跃参与,在实践中弘扬主流价值,提高精神境界。

(1)结合材料和中华民族精神知识,说明开展上述主题宣传教育活动的依据。(10分)

(2)结合材料和意识能动性的知识,分析怎样开展好上述主题宣传教育活动。(12分)

(3)活动主题宣传了爱国主义。请写出两条我国古代体现爱国主义的名言。(4分)

41. 阅读材料,完成下列要求。(25分)

材料一 1978年12月16日,《中美建交联合公报》公布。在公报中,美国“承认中华人民共和国政府是中国唯一合法政府”。它重申上海公报的原则,并再次强调:“任何一方都不应该在亚洲—太平洋地区以及世界上任何地区谋求霸权,每一方都反对任何其他国家或国家集团建立这种霸权的努力”。中美双方认为:“中美关系正常化不仅符合中国人民和美国人民的利益,而且有助于美洲和世界的和平事业。”1979年1月29日至2月5日,邓小平应邀访美,中美双方签署了科技合作协定和文化协定,重申反对霸权主义,重申在有共同利益的问题上和对国际形势的看法上取得共同立场。

——摘编自程中原等编《中华人民共和国史》

材料二 80年代中期里根政府执行“新现实主义”的对华政策,“美国需要谋求同中华人民共和国建立更密切的关系,并要把同中国的关系集中在经济方面”。中美经济关系步入稳定发展的快车道。1983年—1989年上半年中美关系平稳地朝多元化方向发展,双方努力扩大共同利益和合作领域。1988年,中美贸易总额首次突破100亿大关。这样中美贸易在两国建交后的10年中翻了两番,即从1979年的23.1亿美元增长到1988年的100.11亿美元,平均每年递增15%,美国已成为中国第二大贸易伙伴,中国在美国的贸易地位也从1980年的第24位,上升到1989年的第10位。

——摘编自于朝晖《试析70年代以来美国对华关系中的经济因素》

(1)根据材料一并结合所学知识,概括《中美建交联合公报》体现的基本原则,并简析其重要意义。(14分)

(2)根据材料二并结合所学知识,指出80年代中后期美国对华政策的调整及其原因。(11分)

42. 阅读材料,完成下列要求。(12分)

材料 《新唐书·地理志》载,主持苏、湖、润、杭、常、扬等地水利建设的22名地方官员中,确切可知有16人是北方人或南迁的北方士人。大历时(766年—779年),河东汾阴(今山西万荣)人薛兼训曾统领越州,“募军中未有室者,厚给货币,密令北地娶织妇以归,岁得数百人。由是越俗大化,竞添花样,绫纱妙称江左矣”。同时期,河南洛阳人独孤及任常州刺史,以为“使民悦以从教,莫先乎讲习……于是俾儒者陈生,以鲁论二十篇,于郡学之中,率先讲授”,至有“儒术大行,与洙泗(属今山东)同风”之誉。天历时,京兆长安人周昉,能书善画。他任越州长史,收苏州人程修己为徒。后来程修己被召入官。在宫廷中随侍君王近四十年,历经五朝。


——摘编自姜修宪《唐代士人的流迁与北方文化南传之途径》

从材料中任选史料(一个或多个),根据材料并结合所学知识,围绕“唐代南迁士人”提出一个论题,并加以阐述。(要求:明确列出案例,观点正确,史实准确,论证充分,表述清晰)

(二) 选考题: 共 25 分。请考生从 2 道地理题、3 道历史题中每科任选一题作答。如果多做, 则每科按所做的第一题计分。

43. 【地理——选修 3: 旅游地理】阅读图文材料, 完成下列要求。(10 分)

贵州从江地处云贵高原向广西丘陵山地过渡地带, 气候高寒, 居民以务农为主。每年 10~11 月, 金灿灿的禾穗被农民挂在禾架上晾晒(如图)。这些“禾晾”一个挨一个, 一排接一排, 把溪塘边和寨子旁围了起来, 构成一个“连心架”。“从江禾晾”每年吸引国内外大量游客。酷爱旅游的某学校地理兴趣小组被“从江禾晾”的独特景观吸引, 决定利用国庆长假去一探究竟。



分析“从江禾晾”旅游景观的形成与自然环境的联系, 并围绕“从江禾晾旅游资源开发的意义”设计 2 个研学活动主题。

44. 【地理——选修 6: 环境保护】阅读材料, 完成下列要求。(10 分)

海洋碳汇是指一定时间周期内海洋储碳的能力。为探究海洋碳汇与全球气候变暖间的关系, 某校地理学习小组对相关成果进行了搜索, 并将搜索结果整理成下表

搜索关键词	搜索结果
海洋碳汇	海水溶解 CO ₂ ; 海洋中碳酸盐和碳酸氢盐; 海洋生物固碳等
全球气候变化对海水性质的影响	全球气候变暖导致表层海水温度升高, 盐度降低
全球气候变化对季风强度的影响	全球气候变暖导致季风区的季风增强

根据材料自拟一个结论, 并用表中的搜索结果予以论证。(要求: 探究结论突出探究主题; 论证充分, 论据依据表格信息、表述清晰。)

45. 【历史——选修 1: 历史上重大改革回眸】阅读材料, 完成下列要求。(15 分)

材料 德川幕府统治时期, 享有世袭耕作权的农民, 世世代代在封建领主的土地上从事耕作, 向领主缴纳沉重的实物地租——“年贡”。许多富农和商人从封建领主那里承包开垦新田, 把新田出租给农民, 成为新地主。1872 年 3 月, 明治政府明令解除幕府所颁布的永世禁止土地买卖的禁令, 宣布“允许四民买卖和私有”。同年 8 月, 进一步通告在全国丈量土地, 发给土地的实际所有者以土地执照。1873 年 7 月, “地税改革法令”规定: 凡持有土地执照者, 均要向政府缴纳地税, 地税的税率应为土地价格(政府规定的土地价格很高)的 3%, 一律用现金缴纳。此外, 政府还按地税的 1/3 向土地所有者征收附加税——村费。在改革中, 明治政府还使新地主出租土地, 进行地租剥削合法化, 并保证他们可以获取高额的地租。

——摘编自吴于廑、齐世荣主编《世界史·近代史编》

(1) 根据材料, 概括明治政府土地制度改革的主要措施。(6 分)

(2) 根据材料并结合所学知识, 简析明治政府土地改革的影响。(9 分)

46. 【历史——选修 3: 20 世纪的战争与和平】阅读材料, 完成下列要求。(15 分)

材料 巴黎和会召开前夕, 克里孟梭主张对俄国进行公开武装干涉。劳合·乔治认为对俄武装干涉已毫无用处, 反会引起本国工人的抗议和斗争。威尔逊表示已不能在美国合法征兵。但是, 当苏俄多次建议双方举行和平谈判时, 各国均拒绝同苏俄进行任何正式接触。1 月 23 日, 威尔逊建议召开有俄国各派代表和协约国代表参加的会议, 因为法国暗地反对和俄国部分白匪拒绝而落空。2 月底, 美国代表团秘密赴俄。当他返回巴黎时, 几位领导人认为缓兵之计已达到, 拒不承认同列宁签订的停战协议草案, 并基本达成共识: 利用和支持俄国白匪干涉苏维埃政权, 各国不亲自出兵; 利用巴黎和会签订的和约建立一条“由反苏政府的东欧国家组成封锁线, 以便把西欧同布尔什维克病毒隔离开来”。

——摘编自唐贤兴主编《近现代国际关系史》

(1) 根据材料并结合所学知识, 概括西方大国对俄国政策的异同。(6 分)

(2) 根据材料并结合所学知识, 说明西方大国对俄国政策分歧产生的原因。(9 分)

47. 【历史——选修 4: 中外历史人物评说】阅读材料, 完成下列要求。(15 分)

材料 方观承(1698—1768 年), 安徽桐城人。乾隆十三年(1748 年), 时任直隶清河道的方观承上书皇帝, 请求在永定河靠近北大堤的地方改移下口, 以便把河水引到附近农田, 确保下游畅通无阻。乾隆二十一年(1756 年), 方观承再次上书请求在永定河淤滩地上留出十丈宽作为栽种柳树取土之地, 其余拨给守堤贫苦农民耕种。乾隆二十七年(1762 年), 他主持开挖易州城北的安国河渠, 引水灌溉农田, 并开挖支渠, 修建相应的大小闸门, 根据需要随时启闭。渠道挖成后, 皇帝赐名“安河”。方观承还请赵一清、戴震编辑《直隶河渠书》, 共计 130 余卷。乾隆三十年, 他还曾绘制《棉花图》16 幅呈进乾隆皇帝, 系统说明棉花从种植到制成棉布的过程, 总结了每个生产程序的生产经验, 并在当地推行。

——摘编自吕晓青《直隶总督方观承治理永定河研究》

(1) 根据材料, 概括方观承在直隶的历史贡献。(7 分)

(2) 根据材料并结合所学知识, 简析方观承取得治理功绩的原因。(8 分)

关于我们

自主选拔在线是致力于提供新高考生涯规划、强基计划、综合评价、三位一体、学科竞赛等政策资讯的升学服务平台。总部坐落于北京，旗下拥有网站（[网址: www.zizzs.com](http://www.zizzs.com)）和微信公众平台等媒体矩阵，用户群体涵盖全国90%以上的重点中学师生及家长，在全国新高考、自主选拔领域首屈一指。

如需第一时间获取相关资讯及备考指南，请关注**自主选拔在线**官方微信号：**zizzsw**。



微信搜一搜

自主选拔在线

