

姓名 考号 班级 座位 封 线 内 装 订 卷 属

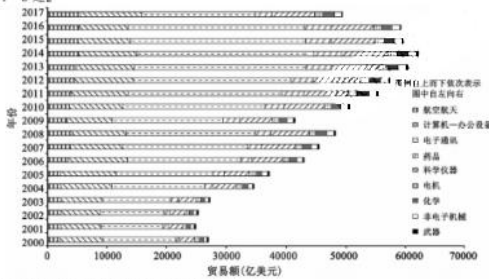
绝密★启用前

2021 届高三卫冕联考  
文综试卷

本试卷共 16 页,47 题(含选考题)。全卷满分 300 分。考试用时 150 分钟。  
注意事项:  
1. 答题前,先将自己的姓名、准考证号填写在试题卷和答题卡上,并将准考证号条形码粘贴在答题卡上的指定位置。  
2. 选择题的作答:每小题选出答案后,用 2B 铅笔把答题卡上对应题目的答案标号涂黑,写在试题卷、草稿纸和答题卡上的非答题区域均无效。  
3. 非选择题的作答:用签字笔直接答在答题卡上对应的答题区域内。写在试题卷、草稿纸和答题卡上的非答题区域均无效。  
4. 选考题的作答:先把所选题目的题号在答题卡上指定的位置用 2B 铅笔涂黑。答案写在答题卡上对应的答题区域内,写在试题卷、草稿纸和答题卡上的非答题区域均无效。  
5. 考试结束后,请将本试题卷和答题卡一并上交。

一、选择题:本题共 35 小题,每小题 4 分,共 140 分。在每小题给出的四个选项中,只有一项是符合题目要求的。

2000 年以来,全球高科技产品贸易迅猛发展,贸易额由 2000 年的 26997.5 亿美元增长至 2017 年的 49573.7 亿美元。下图示意 2000—2017 年全球 9 类高科技产品贸易结构变化。据此完成 1—2 题。



- 2000—2017 年全球 9 类高科技产品贸易
  - 贸易总额年均增速达 83.6%
  - 电子通讯产品始终占主导
  - 药品贸易额逐年上升
  - 非电子机械产品占比稳定
- 2016—2017 年全球电子通讯产品贸易额及其占比变化的主要原因是
  - 贸易保护主义
  - 产品更新换代
  - 全球疫情蔓延
  - 全球化大融合

高三大联考·文综第 1 页(共 16 页)

近年来,东北三省人口明显减少。表 1 和表 2 分别为 6 年间东北三省常住人口变化(万人)和东北三省小学在校生人数变化(万人)。据此完成 3—4 题。

表 1

省份	2019 年	2013 年	6 年变化
黑龙江	3751.30	3835.00	-83.70
吉林	2690.73	2751.28	-60.55
辽宁	4351.70	4390.00	-38.30

表 2

省份	2019 年	2013 年	6 年变化
黑龙江	127.90	154.00	-26.10
吉林	118.57	136.20	-17.63
辽宁	195.10	204.40	-9.30

3. 推测 2013—2019 年 6 年间东北三省小学在校生人数变化的原因最可能是
  - 出生率下降
  - 教育质量下降
  - 人口迁出率高
  - 全面二孩政策
4. 为应对人口长期减少,东北三省最应
  - 立即放开生育政策
  - 大力振兴区域经济
  - 加大家庭教育补贴
  - 鼓励乡村人口进城

沙洲是江河中泥沙淤积形成的小岛,一般是洲头冲刷,洲尾沉积,使其位置在下游迁移。下图中甲、乙沙洲为长江下游某河段两个位置相邻的子母洲。观测发现,近年来两沙洲面积减小。据此完成 5—7 题。

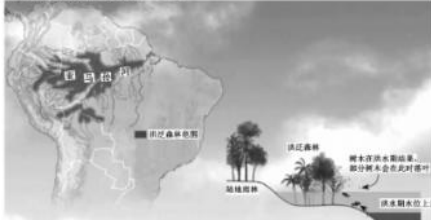


5. 图示河段有利于沙洲形成的自然条件有
  - 下游河道窄
  - 水位变化大
  - 河道起伏小
  - 泥沙含量大
6. 除洲头外,甲沙洲受流水侵蚀较强的主要部位及成因分别是
  - 东南侧——河道较窄,流速较快
  - 洲尾处——水流汇集,水量较大
  - 西南侧——迎水位置,流速较快
  - 西北侧——水量较大,地转偏向力
7. 推测近年来两沙洲面积减小的主要原因最可能是
  - 流域降水量减少
  - 上游水库拦水拦沙
  - 流域水土流失治理
  - 下游修建大型水库

高三大联考·文综第 2 页(共 1)



洪泛森林是雨林的一种,它经常在洪水季节长时间淹没。季节性的河面上涨,使得河水与森林之间形成了紧密的相互作用,带动了整个生态系统的营养物质循环;待洪水消退,树木种子结水休眠,开始生根发芽,促进雨林的植被更新。下图为亚马孙河流域洪泛森林分布及洪泛森林生态系统示意图。据此完成8-9题。



8. 导致亚马孙河流域洪泛森林广布的自然原因有  
 ①水系发达,河网密布  
 ②降水充沛,空气较大  
 ③平原为主,平坦开阔  
 ④气候炎热,干湿分明  
 A. ①②③ B. ②③④ C. ①③④ D. ①②④
9. 洪泛森林中树木的种子传播主要借助  
 A. 飞鸟 B. 潮汐 C. 盛行风 D. 鱼类  
 印度洋偶极子(简称IOD)是发生在热带印度洋区域的一种气候现象,其可影响印度及周边区域乃至全球范围的大气和气候状况。当正IOD事件发生时,而印度洋海温偏高,大印度洋海温偏低。据此完成10-11题。
10. 正IOD事件引发的暴雨最可能出现在  
 A. 东非地区 B. 澳大利亚西南部 C. 印度尼西亚 D. 中美洲
11. 下列现象中,有利于冬半年正IOD事件发生的是  
 A. 索马里寒流增强 B. 北赤道暖流减弱  
 C. 南赤道暖流增强 D. 莫桑比克暖流减弱
12. 在某国,新冠肺炎疫情持续,民众抑郁、焦虑等情绪增多,越来越多的民众靠宠物陪伴缓解压力,宠物食品、宠物用品、宠物医疗、宠物生活服务需求旺盛,该国企业捕捉商机,加大推出与宠物有关的产品和服务力度。以下能够正确描述这一经济现象的是(P表示价格,Q表示数量,S<sub>1</sub>、S<sub>2</sub>表示变化前后的供给,D<sub>1</sub>、D<sub>2</sub>表示变化前后的需求,E<sub>1</sub>、E<sub>2</sub>表示变化前后的均衡价格)
- 
13. 受消费者健康意识驱动,黏零无糖、低糖标签的饮料,向饮料界传统种类产品发起了挑战。数据显示,全球48%的消费者选择低糖或0糖的饮品,巨大的市场潜力吸引了可口可乐、肯德基、伊利、健力宝、雀巢、农夫山泉等一批饮料行业巨头。大型企业转产低糖饮品  
 ①有利于提高企业的资源利用率  
 ②有利于促使产品更快地实现其价值  
 ③表明调整产品结构是提高利率的必要条件  
 ④是价格影响生产要素投入的具体体现  
 A. ①② B. ①③ C. ②④ D. ③④

高三大联考·文综 第3页(共16页)

14. 受环保住房房价齐跌和河北疫情等因素影响,某大型房地产上市公司资金枯竭,经营步履维艰。经过谈判,债权人和债务人达成其共识,实现共赢。以下可以实现这一共识的是  
 ①债转股改革—化解公司财务风险,优化治理结构—增强公司持续经营能力  
 ②政府财政承担债务—公司转化为国有企业—增强对国民经济的支配地位  
 ③债权人依法提起诉讼—公司破产清算—债权人获得部分资金,企业承担有限责任  
 ④债权人债务延期—公司盘活有效资产,降本增效—公司恢复经营,有序偿还融资  
 A. ①② B. ①④ C. ②③ D. ③④
15. 2021年2月,中共中央办公厅、国务院办公厅印发的《建设高标准市场体系行动方案》指出,要坚持平等准入、公正监管、开放有序、诚信守法,打通流通大动脉,推进市场提质增效,基本建成统一开放、竞争有序、产权完善、治理完善的高标准市场体系。这有利于  
 ①加快构建以国内大循环为主体、国内国际双循环相互促进的新发展格局  
 ②构建高水平社会主义市场经济体制,推动经济高质量发展  
 ③进一步完善社会主义市场经济决定价格机制,扩大政府规定价格的范围  
 ④放宽市场准入,促进市场对资源配置起决定性作用机制的基本形成  
 A. ①② B. ①④ C. ②③ D. ③④
16. 疫情防控的初衷,是要查清确诊者的活动轨迹,定位密切接触者,理清潜在的病毒传播链。上海市卫健委公布的流调报告“只提地点不提人”,让病毒保持了温度,引发网友点赞。对该流调报告,下列认识中正确的是  
 ①“只提地点不提人”是坚持以人为本、保障人权的体现  
 ②“不提人”保障了确诊公民基本的民主权利  
 ③保护隐私是城市行政管理水平提高的具体体现  
 ④剔除冗余信息,提高了疫情信息的展示效率  
 A. ①② B. ①③ C. ②④ D. ③④
17. 某市《道路车辆通行管理规定》指出,摩托车应当在二轮车道行驶,否则处以罚款。某人大代表认为该条规定与道路交通安全法等上位法相抵触,他通过“人大网”审查建议在线提交”平台向全国人大常委会提交了审查建议,全国人大常委会要求对这一规定进行修改。这体现了  
 A. 民主决策有利于立法的科学化  
 B. 人大代表代表人民行使法律监督权  
 C. 全国人大常委会具有监督权  
 D. 民主决策是社会主义民主政治的核心内容
18. 在新时代,党领导的统一战线的工作范围包括民主党派成员,无党派人士,党外知识分子,少数民族人士,宗教界人士,非公有制经济人士,新的社会阶层人士,出国和归国留学人员,香港同胞、澳门同胞、台湾同胞及其在大陆的亲属,华侨、归侨及眷属等。由此可见  
 ①统一战线是党扩大群众基础,巩固执政地位的重要法宝  
 ②统一战线是中国共产党的多党合作的协商机构  
 ③统一战线的基本职能是政治协商和参政议政  
 ④统一战线工作既要统筹协调,又要发挥各方面优势  
 A. ①② B. ①④ C. ②③ D. ③④
19. 新冠肺炎疫情期间,陕西省文物局首次通过官网、官微和陕西红色记忆公众号等多个传播平台,每周同步推出两个陕西革命旧址云上展,对陕西革命文物进行全景式、立体式和延伸式展示,网民足不出户即可“云”游陕西革命旧址。这是基于  
 ①非遗文化有明显的地域特征  
 ②革命文化具有重要的现实价值  
 ③科技是文化传播的主要手段  
 ④文化担当有助于推动文化创新  
 A. ①② B. ①③ C. ②④ D. ③④

高三大联考·文综 第4页(共16页)

张 张  
O 封 封  
O 内 内  
案 案  
不 不  
要 要  
订 订  
客 客  
O 圈 圈  
O 圈 圈



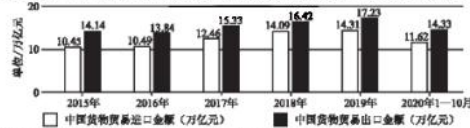
线  
要  
不  
内  
封  
封  
线  
线

20. 穿越是时间和空间的转移。美国人一谈穿越就会穿越到未来,中国有关穿越的文艺作品多是回到历史。产生这一现象的原因是
- ①文化影响人们的认识活动、思维方式  
②地理环境决定文化的内容与形式  
③传统文化具有相对稳定性  
④价值观念影响思维的导向
- A. ①② B. ①④ C. ②③ D. ③④
21. 近年来,《中国共产党农村基层组织工作条例》等既有规范得到修订,《中国共产党农村工作条例》等一批制度性文件相继印发。中国共产党直面问题、因时而动、自我加压、不断进化,这正是党能够百尺竿头步步为进,以伟大自我革命引领伟大社会革命的内在逻辑。由此可见,党不断取得成绩的奥秘在于
- ①不断把物质的东西和意识的东西融为一体  
②以实践中总结的符合时代的经验作为工作的出发点  
③始终做到坚持一切从实际出发,实事求是  
④充分发挥主观能动性,在变化发展的实际中把握规律
- A. ①② B. ①④ C. ②③ D. ③④
22. 无论在哪儿,不管是谁,疫情防控都要抓得紧之又紧、慎之又慎,但是绝不等于一禁了之、一封了之。层层加码和“一刀切”既是一种懒政,也是对宝贵防疫资源的浪费。因此,正确的防疫方法,必须
- ①在复杂的事物中,集中力量解决主要矛盾  
②处理好政策与基层的关系,坚持普遍性与特殊性的统一  
③既把握矛盾主要方面,又把矛盾次要方面  
④坚持具体问题具体分析,关注地方的矛盾特点
- A. ①② B. ①③ C. ②④ D. ③④
23. “你最好是跟你优秀的人混在一起,和优秀的人合伙,你也将不知不觉地走向那个方向。你的圈子就是你的机会;如果在一个圈子里,你是最大的咖,那真的相当有底气,毕竟,木头当久了,很容易变成鸡肋。”对于当鸡肋还是做凤尾,材料表达的观点蕴含的哲学思想是
- ①价值选择建立在价值判断之上  
②价值判断本质上没有客观标准  
③人为事物的联系建立在自在事物的联系之上  
④联系是事物存在发展的重要条件
- A. ①② B. ①④ C. ②③ D. ③④
24. 先秦儒家经典《尚书》记载:尧帝恭敬节俭,道德纯备,由是家族亲睦和睦,万邦诸侯和睦相处,因此尧帝备受天下百姓爱戴。《论语》《孟子》也有类似记载。这些记载
- A. 说明尧帝时期民风淳朴 B. 反映出儒家爱民如子的价值追求  
C. 意在劝诫君主实行德治 D. 增强了春秋诸侯国的历史认同感
25. 《汉书》记载,西汉后期,全国共有人口 59594978 人,县的总数(包括侯国、邑等同级单位)是 1587 个,可耕地总面积为 827033600 亩,每县平均可耕地面积为 521142 亩。数据专家估算,贵族官僚地主拥有的土地和佃农耕种的土地数量,每县平均介于 2 万亩至 10 万亩之间。据此可知,此时期
- A. 统治者被割裂土地兼并 B. 自耕农经济大量存在  
C. 租佃关系得到了迅速发展 D. 土地资源被充分利用
26. 《文姬归汉图》系南宋陈居中以东汉才女蔡文姬深陷匈奴的一段坎坷经历,作为创作轴心的历史故事。画中文姬,匈奴左贤王,汉使皆以织毡为坐席。左贤王去鼻盘腿朝前,居于画面上首的位置,汉使则跪坐面北,居于下位(如下图)。此作品



高三大联考·文综第5页(共16页)

- A. 反映出浪漫主义唯美画风 B. 体现了程朱理学核心理念  
C. 旨在厘清权力关系的演变 D. 蕴含托古喻今的讽谏之意
27. 清雍正年间,朝廷颁布旨意严旨严禁梅运的奏请。梅运既指至暹罗的福州民间商人立即向闽海关衙门呈明其利益诉求,表示不愿封海。朝廷认为“暹罗等国入贡有年……骤见禁止,势必心生疑惧,如果停止海运,‘无业穷民,转致无从约束’,裁定‘仿照旧例,准其装运出洋’。对此合理的认知是
- A. 民间商人阶层的利益诉求得到了完全满足  
B. 清代闽粤地方政府间的矛盾冲突不断激化  
C. 清制有条件开放海外贸易以维系封建统治  
D. 朝廷力图将对外贸易限制在朝贡体系之内
28. 1847年,英国发现从中国进口的“谎言茶”达10万磅。《申报》在1872年报道华茶“牌不对货,货不对价”。张之洞斥之为:“侥幸侥幸,制造粗率,但煎水腥,气味不佳,兼以劣茶掺杂。”这些记载折射出鸦片战争后
- A. 世界市场对华产品曾有巨大需求 B. 民族资产阶级反侵略斗争加剧  
C. 清制在中英贸易中处于进益的地位 D. 洋务官员与外国列强有所勾结
29. 革命军一省或数省的民族、财政、田土、户籍、钱粮。太平天国运动以来,军事强武对于偏僻未说只有了压倒一切的优先地位。为了方便战时调配各项资源,厚听命于中央户部的藩司,开始受制于地方督抚。这
- A. 较明显地受到西方自治思想的影响 B. 为晚清地方势力的膨胀奠定了基础  
C. 说明清朝减轻了对各族人民的剥削 D. 反映出清代财政制度的近代化趋势
30. 1948年初,人民解放军基本解放了东北、华北、江淮地区的广大农村,全国100%的煤炭资源,80%以上的小麦产区,80%以上棉花产区均被人民掌控。中国共产党领导的人民政权规定:古董、文物可以流向国统区,粮食、棉布不许从解放区输出,药品等可以从国统区输往解放区。据此可知
- A. 国民党主力部队基本被消灭殆尽 B. 中国共产党注重开展经济斗争  
C. 发展生产已经成为党的中心工作 D. 解放区土地改革运动成效显著
31. 下图反映的是2015年到2020年前10个月中国货物贸易进出口金额统计情况。这反映出



- A. 经济全球化趋势顺利发展 B. 我国制造业生产能力提升  
C. 中国改革开放的成效显著 D. 大国间经济合作日益密切
32. 罗马法根据人们在家庭中的地位不同,把人分为自权人和他权人,他权人是处于其他市民的权力(在罗马法中被分为家长权、夫权 and 买主权三种)支配之下的市民。自权人与他权人相反,不受以上三种权力支配的人就称为自权人。罗马法中监护和保护均为自权人而设。罗马法的这种划分
- A. 适应了罗马社会的实际情况 B. 旨在维护贵族的财产权益  
C. 使他权人逐渐丧失了监护权 D. 凸显了自然法核心理念
33. 卢梭认为,作为主权承担者的共同体即“集体的生命”,只能由它自己来代表自己,否则就出卖了自由,从使自己受专制权力的任意支配;而出卖自由就等于出卖自己的生命,无论以何种代价抛弃生命和自由,都是既违反自然又违反理性的。此论
- A. 较准确地描述了英国政体模式 B. 旨在说明人民理应承担国家权力  
C. 反映出卢梭高度重视个人自由 D. 成为“天赋人权”学说的逻辑起点

高三大联考·文综第6页(共16页)





34. 下表是 19 世纪末 20 世纪初德国历史上的部分重大历史事件。据此可知德国

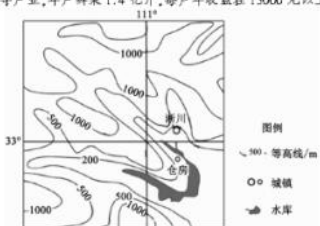
时间	事件
1875 年	德国社会主义工人党成立,后改为社会民主党
1878 年	德国颁布《反对社会主义企图危害治安的法令》
1889 年	德国鲁尔区 10 万工人大罢工
1890 年	德国罢工达到 200 次
1891 年	德国社会保险制度正式建立
1899 年	德国颁布残废保险法
1911 年	德国颁布社会保险法典

- A. 君主立宪的代议制渐趋完善  
B. 社会民主党坚持马克思主义  
C. 通过立法逐步扩大社会救济  
D. 资产阶级被迫进行社会改革
35. 苏联的原油产量从 1973 年的每天 800 万桶增加到 1980 年的每天 1100 万桶,从而成为世界石油市场的领导者。20 世纪 70 年代,苏联从出售石油和天然气中得到的硬通货收入增长达 2250%。对此合理的解释是
- A. 苏联抓住国际机遇努力发展壮大自己  
B. 苏联通过资源出口换取工业化所需的资金  
C. 西方经济迅速发展急需石油和天然气  
D. 勃列日涅夫改革使苏联开始融入国际体系
- 二、非选择题:共 160 分。第 36-42 题为必考题,每个试题考生都必须作答。第 43-47 题为选考题,考生根据要求作答。

[一] 必考题:共 135 分。

36. 阅读图文材料,完成下列要求。(24 分)

柑橘是热带、亚热带水果,河南浙川(如图 36 所示)地处中原腹地,是我国柑橘北种的最后一站。浙川县房镇优质柑橘种植面积约 3.5 万亩,近年来,当地政府为扩大柑橘销售,通过举办柑橘节、游园采摘、产销对接等系列活,吸引了大批客商前,如今,柑橘种植已成为该镇主导产业,年产量 1.4 亿斤,每户年收益在 15000 元以上。



(1) 描述图示区域的地形特征。(6 分)

(2) 分析浙川成为我国柑橘北种最后一站的位置条件。(12 分)

(3) 简述县房镇政府所用措施对扩大柑橘销售的作用。(6 分)

37. 阅读图文材料,完成下列要求。(22 分)

草原是半湿润和半干旱气候条件下的地带性植被,草甸属于非地带性植被,可出现在不同植被带内。在科尔沁或内蒙古干旱地区,该地区发育有高山草甸、草甸草原、高寒草甸和灌丛荒漠等植被,灌木植物能够阻挡风沙,并将之固定在周边形成灌丛沙堆(右图所示)。



(1) 指出左图中甲、乙、丙所代表的植被类型。(3 分)

(2) 描述图示区域灌丛荒漠的分布特征。(5 分)

(3) 若干旱加剧或者地下水下降,灌丛荒漠沙堆的最终演化,并说明判断理由。(8 分)

(4) 简述在灌丛荒漠区域内应采取的生态保护措施。(6 分)

张  
封  
线  
内  
禁  
不  
要  
订  
答  
卷  
线

钱  
○  
答  
○  
订  
○  
要  
○  
不  
○  
装  
○  
内  
○  
封  
○  
线  
○  
封  
○  
密  
○  
密

38. 阅读材料,完成下列要求。(14分)

某市的郊区村庄发展参差不齐,一些村庄土地稀少,经济单一,发展缓慢。  
针对该市郊区经济发展,专家建议农户搞多种经营,不仅要搞好农作物种植,而且要根据变化的市场的需要,搞好农产品加工,推动农产品销售和观光农业发展,促进一二三产业融合发展,利用农业科技力量,提升农产品附加值,创造“品牌农业”,综合开发,利用村自留地、多余的土地等闲置土地,成立销售、服务型专业合作社,提升为农服务能力,提高农民收入,实现“生产美、产业强;生态美、环境优;生活美、家园好”。专家的建议在当地引起极大反响。

(1) 结合材料,运用经济生活的知识,分析专家建议对促进该市郊区经济发展的积极意义。(8分)

(2) “生产美、产业强;生态美、环境优;生活美、家园好。”结合材料,运用经济生活的知识,从生产、生活方式角度说明如何推进绿色发展。(6分)

39. 阅读材料,完成下列要求。(12分)

2020年,中国与世界各国人民共同抗击疫情新冠肺炎疫情。在中国抗疫的艰难时刻,77个国家政府、12个国际组织向我们伸出援手,谱写了“山川异域、风月同天”的感人乐章。当疫情席卷世界时,中国同世界卫生组织和国际社会密切合作,开展了史上最大规模的紧急人道主义行动,向150多个国家、13个国际组织提供援助,共同汇聚起全球抗疫的磅礴伟力。

2020年,习近平主席以元首“云外交”等全新方式,同外国领导人及国际组织负责人会晤、通话88次,出席23场重要外交活动,不仅拉近了与各国的距离,也为中国同各国关系注入新的内涵。

结合材料,运用政治生活的知识,分析2020年我国进行上述外交活动的积极意义,并简要说明我国提出构建人类命运共同体的依据。

40. 阅读材料,完成下列要求。(26分)

材料一 2020年,某省继续围绕“放管服”改革治理水平进一步提高。“最多跑一次”改革走向纵深,56件个人和企业生命周期事项实现“一件事”全流程办理;深化“证照分离”改革,企业开办时间压缩至1个工作日,实现一般企业投资项目审批“最多80天”,国际贸易进出口业务全部实行“单一窗口”办理;以信用为基础的新型监管机制加快建设,实现“信用无差检查、信用好不打扰”;法治政府加快建设,综合行政执法改革率先突破,行政执法改革模式在全国推广。营商环境的不断优化,为发展聚力、为企业赋能、为小康增色、为治理提效,推动经济社会发展取得新成绩。全省生产总值达到64613亿元,比上年增长3.6%。

材料二 有学者指出:当前,“最多跑一次”改革已进入深化攻坚阶段,在内容、形式、技术、制度、立法等方面还有改进提升空间,需要我们不断加强实践基础上的理论创新,以科学的理论和方法指导推进关键领域、关键环节改革。实践推进到哪里,理论研究就要跟进到哪里,要在深入研究的基础上再总结、再提炼、再深化,从而指导新的实践。要组织开展百名理论工作者撰写理论文章,拿出一批有分量、高质量的研究成果。

(1) “政府要提升治理现代化水平,高质量的工作才能促进经济社会的高质量发展。”结合材料一,运用辩证总论唯物论知识,论证该观点的合理性。(12分)

(2) 结合材料二,运用社会实践与文化创新的知识,分析该学者思想的合理性。(10分)

(3) 一项改革,需要向全国推广,请你说出两个关键环节。(4分)



41. 阅读材料, 完成下列要求。(25分)

材料一 中华民族自古以来就是崇尚英雄的民族, 这些英雄人物为民族、为国家建功立业的帝王将相, 还有许多英勇忠义的一代名将, 如三国蜀将关羽, 是历史上有名的忠义英勇的典型, 他的故事在明代就被搬上了民间的舞台, 至康熙时关羽被封为“忠惠公”, 清顺治时又封其为“忠义神武关圣大帝”, 民间对关公的崇拜, 信仰更是绵延不绝。实际上, 三国名将如云, 吕布武艺超群, 但在后世的形象完全是一个奸诈小人。就事功而言来看, 曹操当之无愧, 但却被后世写为千古奸雄。忠君爱国的关羽虽有走麦城、临危一死的遗憾, 但后世却将其作为千古英雄崇拜。当然, 也有很多推动历史进步的人物个人修养颇有瑕疵, 但其缺点也都被后世隐去仍被当成道德楷模崇拜。

——摘编自宋存明《千面英雄——中国古代的崇拜文化》等  
材料二 古希腊时代, 其神学体系中 50 位神如宙斯、赫拉、阿波罗等被作为英雄人物崇拜, 中世纪, 基督教神学中的圣徒德肋撒的人物理所当然被欧洲民众视为英雄顶礼膜拜。西方所崇拜的英雄, 往往映射了西方的个人意志和自由精神, 一般以建立个人功绩和成就个人的地位为准。古罗马的凯撒大帝, 为了个人权威的实现, 可以不择手段, 滥杀无辜, 大肆扩张, 甚至还经常制造丑闻, 生活更是毫不检点。然而就是这样一个“恩多于怨”的凯撒, 却赢得了西方的崇拜。实际上, 基本上大多数西方英雄就如普通人一样, 有血有肉, 有七情六欲和人性的缺点。西方除崇拜政治英雄外, 还崇拜文化英雄、宗教英雄等, 诸如苏格拉底、耶稣等。

——摘编自于永军《西方国家为何看重英雄崇拜》等  
材料三 一个有希望的民族不能没有英雄, 一个有前途的国家不能没有先锋。人民创造历史, 历史造就英雄。崇尚英雄才会产生英雄, 争做英雄才能英雄辈出。我们要敬仰英雄, 学习英雄, 用实际行动为实现“两个一百年”奋斗目标、实现中华民族伟大复兴的中国梦贡献力量。

——摘编自光明日报评论员《崇尚英雄争做英雄 坚定理想信念不懈奋斗》  
(1) 根据材料一并结合所学知识, 概括中国古代英雄崇拜的特点及其原因。(12分)

(2) 根据材料并结合所学知识, 指出西方的英雄崇拜不同于中国古代之处, 并分析其对近现代西方社会的影响。(8分)

(3) 根据材料三并结合所学知识, 简要说明新时代我们崇尚英雄的意义。(5分)

42. 阅读材料, 完成下列要求。(11分)

材料 有学者认为国际权力结构、国际制度与规则、国家战略观念这三个因素对国际秩序的发展演变起到关键影响, 如下图所示:



——摘编自《(美)基歌汉《权力与相互依赖》  
根据材料并结合所学中外历史知识, 自拟论题, 并结合所学知识加以阐述。(要求: 论题明确, 阐述须结合相关史实)

张  
O  
封  
O  
内  
O  
要  
O  
订  
O  
答  
O  
题

线  
○  
答  
题  
订  
要  
○  
不  
○  
装  
○  
内  
○  
封  
○  
线  
○  
封  
○  
密

(二)选考题:共25分。请考生从2道地理题、3道历史题中每科任选一题作答。如果多做,则每科按所做的第一题计分。

43. [地理——选修3:旅游地理](10分)

在北京冬奥会申办成功的推动下,冰雪运动在我国快速发展,融合冰雪、旅游、文化、健康多元为一体的冰雪主题小镇也应运而生。太子城冰雪小镇位于河北省张家口市崇礼区,毗邻太子城奥运村和京张高铁太子城站(到北京65分钟),连接张家口赛区云顶和古杨树两个竞赛场馆群,建成后承担赛事时核心区配套保障功能,提供冬奥颁奖、贵宾接待、交通接驳、休闲娱乐等服务,赛后将成为一座国际化四季旅游度假小镇。



说明太子城冰雪小镇赛后定位为国际四季旅游度假小镇的有利条件。

44. [地理——选修6:环境保护](10分)

牙罕(如右图)是世界上最大的单属动物,也是速度最快的猎鹰之一,它非常适应寒冷环境,是北极地区唯一不需要南下过冬的猛禽,常在高山悬崖筑巢繁殖。研究发现,北极变暖的速度超过地球上其他地方两倍,随着气温上升,很多物种的活动范围向温度更低的地方转移。生物学家认为,牙罕是北极地区最脆弱的物种之一,虽然它们目前还没有被列为濒危物种。左图为牙罕在北美洲的活动和繁殖范围图。



据图分析全球变暖对北美洲地区牙罕生存的危害。

高三大联考·文综第13页(共16页)

45. [历史——选修1:历史上重大改革回眸](15分)

材料 由于西北边疆民族的复杂性,明代河西走廊的范围与前代有较大不同,除了传统区域外,今兰州、哈密也属于河西走廊的范围。明朝对河西走廊的治理,一方面继承和恢复汉唐做法,另一方面又创新了治理模式。在河西走廊以东,即从现今兰州安宁堡以东,实行与内地完全相同的郡县体制。而在兰州,明朝则设置管粮郎中,保障军粮供给。兰州安宁堡以西至肃州,是河西走廊核心区域,明朝在此设立卫所制度,实行军事化管理。在肃州以西至哈密,设立赤斤蒙古卫、哈密卫等军事机构,以羁縻方式拱卫核心区域。在哈密以西,通过朝贡方式与东察合台汗国等政权保持贡赐关系,以减轻哈密卫的压力。由此,明朝构筑了哈密卫——嘉峪关——甘州卫——凉州卫——兰州卫五道防线,确保通过河西走廊保持西域与明朝的持续交往,书写了“大一统”王朝对河西走廊的控制力度与时间长度的空前纪录。明代对河西走廊的治理模式在很长一段时期内为清朝所继承。

——摘编自田卫《河西走廊:明朝成功管控西北边疆的锁钥》

(1)根据材料并结合所学知识,概括明代改革河西走廊治理模式的显著特征。(8分)

(2)根据材料并结合所学知识,指出明代改革河西走廊治理模式的积极影响。(7分)

高三大联考·文综第14页(共16页)



46. [历史——选修3:20世纪的战争与和平](15分)

材料 英国陆军一直处于充足轻重的地位。1934年英国国防需要委员会向议会提交第一份《弥补国防缺陷报告》，指出需要陆军建立一支远征军，用以保护低地国家，履行“大陆义务”，但直到第二次世界大战爆发前的几个月，“大陆义务”才被英国政府正式接受。首相张伯伦对于英国承担“大陆义务”是极其勉强的，他表示，“我相信如果只要外交部多加重视，重整军备与同德意搞好关系的双重政策能够使我们安全度过危险时期”。当时英国社会普遍认为，陆军的领导者应该为一战期间西线发生的恐怖杀戮负责。在这样的背景下英国陆军始终难以发展壮大。有人指责政府和公众害怕遭受空袭而偏宠空军，实际上是当时英国政府的财政状况不允许三个军种都得到同样的待遇。英国政府一直存在这样的想法：法国主要承担陆地上的义务，英国主要承担海上和空中的义务。然而，英国政府绝不会想到法国会像后来现实中那样迅速的溃败。

——摘编自耿志《“大陆义务”与两次世界大战之间英国的陆军战略》

(1) 根据材料并结合所学知识，概括20世纪30年代，英国陆军难以发展壮大的原因。(8分)

(2) 根据材料并结合所学知识，简要评英国陆军政策的影响。(7分)

47. [历史——选修4:中外历史人物评说](15分)

材料 朱瑞(1903—1948年)，生于江苏宿迁，1930年10月，由于当时李立三“会师武汉，饮马长江”的军事计划过早暴露，武汉形势更加严峻。朱瑞挺身而出，主动向组织申请前往武汉。临行前，他给家人写信说：“我到远方，生死难卜，以后不再向家中通信了。”在敌人的嚣张气焰前，朱瑞镇定自若地进行艰苦斗争，一直到1931年2月才按照中央指示撤离。从1940年6月至1941年5月，朱瑞在山东建立了多个抗日民主根据地和民主政权，实现了全省民主抗日政权和群众组织的统一领导。1945年夏，朱瑞主动向中央提出从事建设炮兵的工作，先后被任命为延安炮兵学校代理校长、东北军政大学副校长兼东北炮校校长，对炮兵的组织、训练、装备、作战等方面作出了一系列明确的规定，推动人民解放军炮兵由分散状态进入了统一的、有组织、有计划的发展阶段。东北军区炮校在辽沈战役前，共培养了两千多名炮兵干部。1948年10月，朱瑞在辽沈战役中牺牲，时年43岁。

——摘编自朱一华《朱瑞的顽强斗争生涯》

(1) 根据材料并结合所学知识，分析20世纪30年代朱瑞在武汉艰苦斗争的原因。(9分)

(2) 根据材料并结合所学知识，概括20世纪40年代朱瑞为党和人民做出的突出贡献。(6分)

张  
O  
封  
封  
O  
内  
不  
O  
要  
O  
订  
答  
O  
线

## 关于我们

自主选拔在线是致力于提供新高考生涯规划、强基计划、综合评价、三位一体、学科竞赛等政策资讯的升学服务平台。总部坐落于北京，旗下拥有网站（[网址: www.zizzs.com](http://www.zizzs.com)）和微信公众平台等媒体矩阵，用户群体涵盖全国90%以上的重点中学师生及家长，在全国新高考、自主选拔领域首屈一指。

如需第一时间获取相关资讯及备考指南，请关注**自主选拔在线**官方微信号：**zizzsw**。





关注后获取更多资料:

回复“答题模板”，即可获取《高中九科试卷的解题技巧和答题模版》

回复“必背知识点”，即可获取《高考考前必背知识点》

