

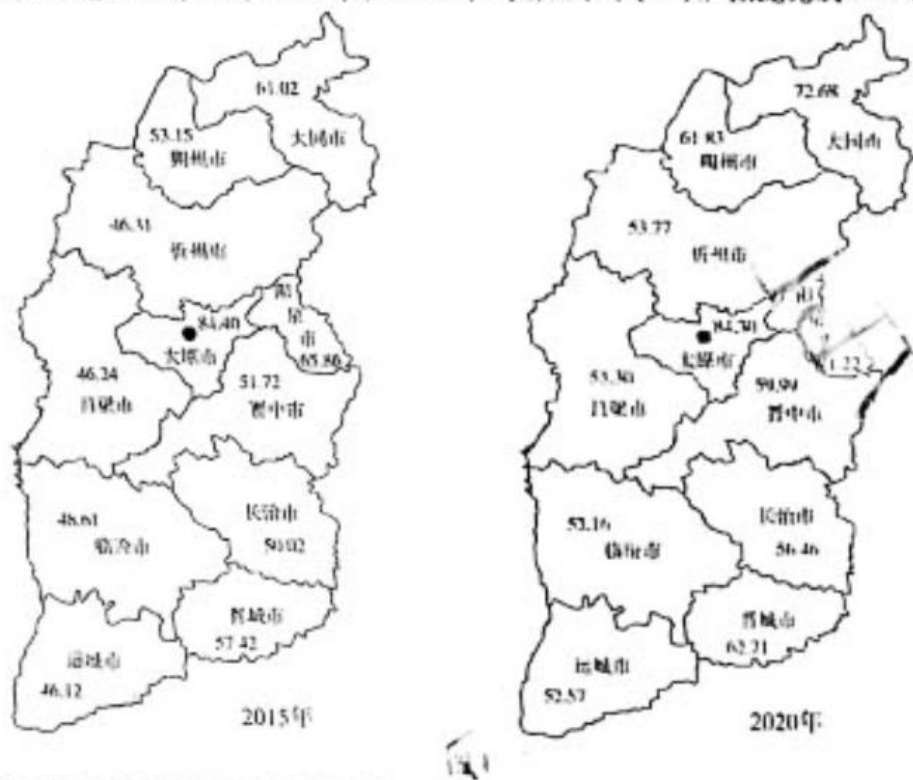
022 - 2023 学年高三年级 TOP 二十名校调研模拟卷二 高三文科综合能力测试卷

注意事项:

1. 本试卷共 12 页, 考试时间 150 分钟, 卷面总分 300 分。
2. 答题前, 考生务必将自己的姓名、准考证号填写在答题卡相应的位置上。
3. 全部答案写在答题卡上, 答在本试卷上无效。
4. 考试结束后, 将本试卷和答题卡一并交回。

、选择题: 本题共 35 小题, 每小题 4 分, 共 140 分。在每小题给出的四个选项中, 只有一项是符合题目要求的。

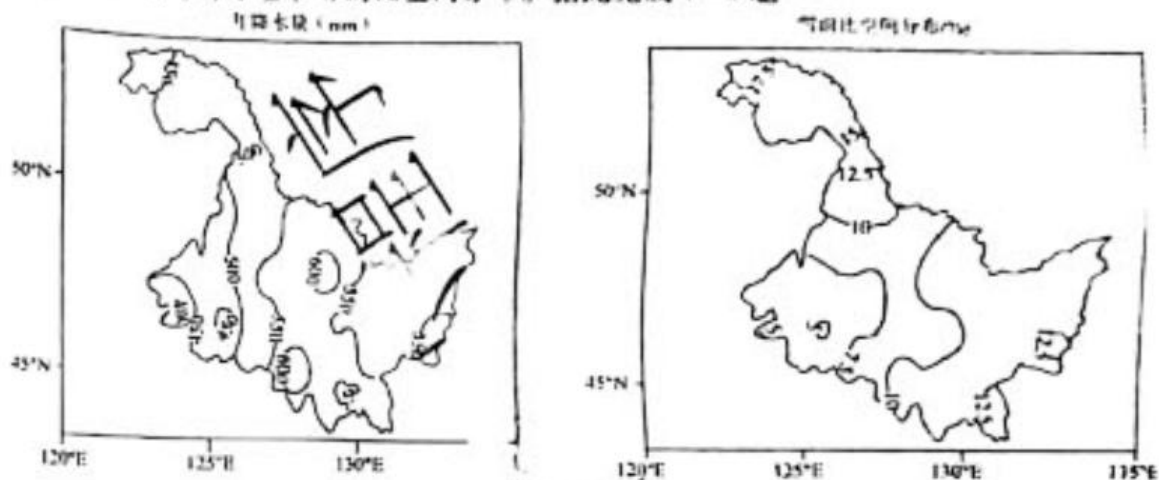
山西省位于黄河中游东岸, 华北平原西面的黄土高原上, 西、南依吕梁山、黄河, 北依古长城, 河北、河南、陕西、内蒙古等省区为邻, 总面积为 15.67 万 km^2 。2015 年全省常住人口为 641 196 人, 全省城镇化水平为 55.03%, 2020 年全省常住人口为 34 904 977 人, 全省城镇化水平 62.53%。图 1 示意山西省 11 市 2015 年和 2020 年城镇化水平(%)。据此完成 1~3 题。



1. 下列城市中, 城镇化水平增长最快的是
A. 太原市 B. 临汾市 C. 晋中市 D. 大同市
2. 导致山西省太原市与其他市城镇化水平差异的主要原因是
A. 地形地势条件 B. 人口自然增长率
C. 经济发展水平 D. 地理位置差异
3. 下列措施中, 有利于缩小山西省各市城镇化水平差距的是
①调整产业结构, 促进经济发展 ②实施计划生育政策, 提高人口自然增长率
③完善基础设施, 促进城乡一体化 ④发展劳动密集型产业, 吸引人口大量迁入
A. ①② B. ①③ C. ②③ D. ②④


【高三文科综合能力测试试卷 (第 1 页 共 12 页)】

雪雨比是指某一时段内降雪总量与降雨总量的比值,反映了降水中降雪与降雨的比例。图2示意黑龙江省年降水量和雪雨比空间分布。据此完成4-6题。



4. 影响黑龙江省雪雨比差异的最主要因素是
- ①海陆位置 ②降水量 ③地形气温 ④土地类型
- A. ①② B. ①③ C. D. ②④
5. 黑龙江省年降水量中占比最大的是
- A. 年降雪量 B. 年降雨量 C. 年雨夹雪 D. 年冰雹量
6. 全球气候变暖背景下,黑龙江省雪雨比可能出现的变化是
- A. 波动下降 B. 波动上升 C. 保持不变 D. 变化未知

十期间,天气晴朗,小明乘坐G121次高铁从北京到上海旅游,列车10:05自北京南站发车,15:42到达上海虹桥站。图3示意高铁行驶线路。据此完成7-8题。



7. 在小明旅游期间
- A. 地球的公转速度不断减慢 B. 沧州的正午太阳高度减小
- C. 南京的白昼渐长黑夜渐短 D. 太阳直射点先南移再北移
8. 当高铁行驶到达南京时,太阳位于列车的
- A. 左前方 B. 左后方 C. 右前方 D. 右后方

【高三文科综合能力测试试卷 (第2页 共12页)】

海陆风是近海地区风向昼夜间发生反向转变的风。图4示意浙江省宁波市2020—2021年有海陆风和无海陆风的气温和气压平均日变化。据此完成9—11题。

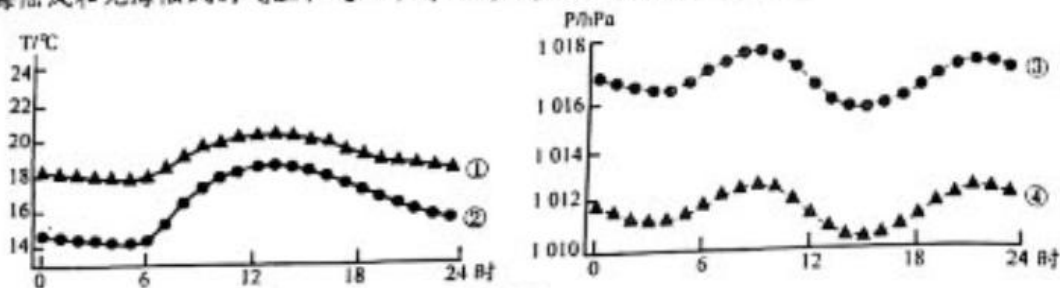


图4

9. 图中代表宁波市无海陆风时气温平均日变化及气压平均日变化的曲线分别是
A. ①④ B. ②③ C. ①③ D. ②④
10. 宁波市海风(平均日变化)风速最大的时刻是
A. 3时左右 B. 10时左右 C. 15时左右 D. 22时左右
11. 宁波市陆风的风向大致为
A. 东南风 B. 西南风 C. 东北风 D. 西北风
12. 据国家统计局发布的数据显示,2022年1—10月份全国居民消费价格(CPI)同比上涨2.0%,与此同时全国工业生产者出厂价格(PPI)、工业生产者购进价格同比分别上涨5.2%、7.5%。国际上通常把CPI涨幅3%作为通货膨胀警戒线。这表明
①受国际能源价格上涨影响,预计PPI短期内仍然高位运行
②国家应适当减少货币供应量,做好大宗商品的保供稳价工作
③受疫情反弹影响居民收入减少,消费动力不足,经济增长滞缓
④商品价格涨幅较大,城乡居民食品支出增加,恩格尔系数下降
A. ①② B. ①③ C. ②④ D. ③④
13. 2022年全国专精特新中小企业发展大会在江苏省南京市开幕,习近平总书记在贺信中指出,中小企业联系千家万户,是推动创新、促进就业、改善民生的重要力量。专业化、精细化、特色化、新颖化,是“专精特新”企业的特点。推动专精特新企业的发展有利于
①培育更多市场主体,激发市场主体活力 ②促进企业创新发展,提高自主创新能力
③提高企业经济效益,促进新业态蓬勃发展 ④倒逼企业转型升级,淘汰资源消耗型企业
A. ①② B. ①③ C. ②③ D. ②④
14. 经初步核算,2021年中国碳排放强度比2020年降低3.8%,比2005年累计下降50.8%。生态系统碳汇巩固提升,截至2021年底,全国森林覆盖率达到24.02%,森林蓄积量达到194.93亿立方米,成为全球森林资源增长最快最多的国家。这得益于
①贯彻新发展理念,用绿色产业发展代替传统产业
②发挥宏观调控的决定作用,控制化石能源消费
③运用市场机制进行碳排放交易,控制和减少温室气体排放
④开展植树造林等工程,增强森林、湿地等储碳能力
A. ①③ B. ②③ C. ②④ D. ③④
15. 2022年11月4日,国家主席习近平在第五届中国国际进口博览会开幕式上发表演讲时指出,中国坚定奉行互利共赢的开放战略,不断以中国新发展为世界提供新机遇,推动建设开放型世界经济。作为中共二十大之后中国举办的首场重大国际展会,第五届进博会又一次让世界看到,新时代中国开放的大门只会越开越大。由此可见
①中国积极主导经济全球化朝着正确的方向发展
②进博会推动了高水平的贸易和投资自由化便利化
③中国坚定不移同世界共享市场机遇,展现大国担当

【高三文科综合能力测试试卷 (第3页 共12页)】

- ④分享中国红利有利于推进国际经贸合作,促进世界经济发展
A. ①③ B. ①④ C. ②③ D. ③④
16. 湖北省武汉市洪山区洪山街道武昌府社区召集十余名党员群众代表,召开以“美好生活共同缔造居民议事共献妙招”为主题的社区议事会,共同梳理居民群众的身边事、需要社区协助的棘手事、依靠多方合力解决的麻烦事,努力实现社区的事情由居民“说了算”。该活动
- ①通过民主协商增进共识,提升居民幸福感
②有利于推进基层治理体系与能力的现代化
③有利于发展基层民主,调动居民参与民主监督的积极性
④丰富了居民自治组织形式,彰显了人民民主的真谛
A. ①② B. ①③ C. ②③ D. ③④
17. 近日,江苏省自然资源厅等联合印发了《关于在全省推行“带押过户”提升不动产登记与金融便民利企服务水平的通知》(以下简称《通知》)。《通知》明确,“卖方”无须先还贷解押再办理过户转移,买卖双方与贷款银行签订协议,经不动产登记机构审核通过后,即可办结不动产转移。这是我国首个省级层面出台的不动产“带押过户”规范性文件。该《通知》的实施旨在
- ①创新政府的管理模式,从而树立政府的权威
②通过履行加强社会建设职能,提高政府的服务效率
③深入贯彻服务型政府的理念,打造便民利民的服务政府
④行使国家立法权,为我国社会的发展提供法律保障
A. ①② B. ①④ C. ②③ D. ③④
- 2022年11月10日,习近平总书记主持召开中共中央政治局常务委员会会议,听取新冠肺炎疫情防控工作汇报,研究部署进一步优化防控工作二十条措施。国务院联防联控机制综合组11日公布《关于进一步优化新冠肺炎疫情防控措施科学精准做好防控工作的通知》,要求科学精准做好防控工作,保障好人民群众的生产生活。上述材料表明
- ①作为中国特色社会主义事业的领导核心,党依法履行国家职能
②党中央统一部署疫情防控,发挥统揽全局、协调各方的作用
③国务院是国家权力机关的执行机关,贯彻执行党的主张和政策
④党和政府坚持以人民为中心,始终把人民群众的生命安全放在首位
A. ①② B. ①③ C. ②④ D. ③④
19. 2022年10月28日,习近平总书记在河南省安阳市考察时指出,要用红旗渠精神教育人民特别是广大青少年,社会主义是拼出来、干出来、拿命换来的,不仅过去如此,新时代也是如此。总书记强调,红旗渠精神同延安精神是一脉相承的,勉励年轻一代要像我们的父辈一样把青春热血镌刻在历史的丰碑上。红旗渠精神是
- ①人们文化素养的践心和标志 ②中华民族精神的体现
③实现中国梦的精神动力 ④衡量优秀传统文化的价值尺度
A. ①② B. ②③ C. ②④ D. ③④
20. 我国第一本《教师教育蓝皮书:中国教师教育发展报告(2022)》指出,我国教师队伍规模世界第一,建成了世界最大规模的教育体系,总体教育水平进入世界中上行列;不断发展并完善教师教育一体化,纵向打通了教师职前、入职和职后教育培训的全环节和全过程,横向实现了普通高校、师范院校、教学科研机构、中小学、社会教学机构和地方政府的有效联结。国家重视教育是因为
- ①教育是发展科技和培养人才的基础
②教育是促进文化交流和传播的重要手段
③教育具有选择、传递和创造文化的特定功能
④教育是发展中国特色社会主义文化的中心环节
A. ①② B. ①③ C. ②④ D. ③④

【高三文科综合能力测试试卷 (第4页 共12页)】



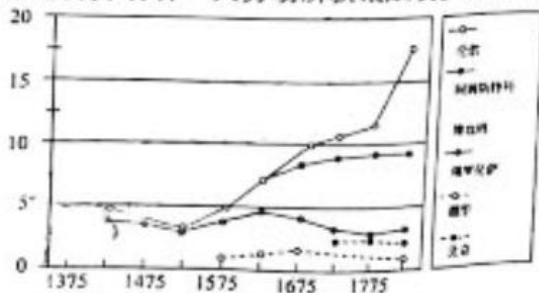
21. 近日,美国肯恩大学的科学家利用社交与运动相结合数学模型分析表明,如果长期没有和朋友一起社交互动,即使身体本身活跃,也会变得越来越慵懒,久坐行为开始占主导地位。然而,如果久坐不动的人与适度活跃的人经常保持互动,就会变得越来越活跃。科学家称,虽然这些模拟目前还没有经过真实世界的数验证,但依然能为科学家提供新的见解,增加社区中久坐不动和适度运动人群之间的互动。材料表明
- ①认识规律要以发挥人的主观能动性为基础 ②对事物的正确认识需要多次反复才能完成
③认识是主观与客观的具体的历史的统一 ④实践是认识的来源和认识发展的动力
- A. ①② B. ①③ C. ②④ D. ③④
22. 2022年11月20日,我国正式启动特定养老储蓄试点,在广州、青岛、合肥、西安、成都等5市发行首批产品。此次推出的特定养老储蓄产品,包括整存整取、零存整取、整存零取三种类型,涵盖5年、10年、15年、20年四个期限。启动试点是因为
- ①矛盾的普遍性寓于特殊性之中,试点地区的经验是普遍适用的
②矛盾的普遍性和特殊性相互联结,没有普遍性就没有特殊性
③试点可以暴露出更多的矛盾,对总结推广经验有重要参考价值
④试点地区的实施与将来全国各地的普及是辩证统一的
- A. ①② B. ①③ C. ②④ D. ③④
23. 2022年10月11日,据调查,人口老龄化将是今后我国很长一段时期的基本国情。我国人口老龄化呈现出数量多、速度快、差异大、任务重的形势和特点。健康老龄化是应对人口老龄化成本最低、效益最好的手段和途径。健康老龄化主要是指,维护老年人的内在能力,改善老年人的外部环境,延长老年人的健康预期寿命。推动健康老龄化是因为
- ①人民群众的根本利益与我国社会发展的客观规律是一致的
②人民群众是社会历史的主体,要不断满足人民群众的各种需求
③物质资料的生产方式是社会存在和发展的前提和基础
④维护人民群众的根本利益是最高价值标准和价值追求
- A. ①③ B. ①④ C. ②④ D. ③④
24. 据记载,启继承酋长以后,还是有氏族评议会的存在,所谓一享群后于钧台,再享群后于夏都,正是举行氏族评议会的说明。又当启伐有扈时,他召六卿而申之曰:“用命赏于祖,弗用命戮于社。”这是当时仍有共同墓地与共同祭祀之说明。这表明夏朝社会
- A. 出现了王位世袭 B. 族群的矛盾相当尖锐
C. 仍然是聚族而居 D. 具有了国家初始形态
25. 黄老学者反对“立君而尊贤,是贤与君争,其乱甚于无君”,认为理想的政治应“任法而任贤,任数而不任说”,确立法度并保持它的稳定性,通过制度使得君主能够“无为而无不为”,从而建构“使其民不引而来,不推而往,不使而成,不禁而止”的理想社会形态。据此可知,黄老之学
- A. 具有道法结合特色 B. 崇尚小国寡民社会
C. 严重脱离社会现实 D. 注重制度体系建设
26. 据《齐民要术》记载,水稻直播“三月种者为上时,四月上旬为中时,中旬为下时”,而收获期则在霜降,即农历九月下旬;而宋人陆游在《五月一日作》中对稻麦轮作注释道:“处处稻分秧,家家麦上场。”水稻五月插秧,八月就可以收获了,宋人称“八月登粳稻(高纬度稻种)”。这说明宋代
- A. 经济结构不断优化 B. 精耕细作模式成熟
C. 农业专业区域初显 D. 土地利用率的提高
27. 明初,内阁阁员的正式职衔仅为诸殿阁大学士,其本职品级仅为五品,随着时间推移,阁臣地位之所以高于六部百司,皆因其三孤和太子三师等加衔所致,内阁强势时更易遭外廷诸臣攻击。这表明明代
- A. 中书制衡机制形成 B. 君主集权逐渐加强
C. 内阁取得宰相权力 D. 官僚制度走向成熟

【高三文科综合能力测试试卷 (第5页 共12页)】

28. 下表是鸦片战争后,译者在中外条约翻译的部分词汇的对照表。折射出当时社会

英语原文	汉语原文	现代译文
consul	领事官	领事
vice-consul	副领事官	副领事
acting-vice consul	署副领事官	代理副领事
interpreter	翻译官	翻译/译员
local authorities	地方官	地方政府
the Chinese Government	中国官/中国地方官	中国政府
the English Courts of justice on the spot	香港英官	香港英国高等法院
Superintendent of Customs	监督官	海关监督

- A. 官本位的思想浓厚
B. 封闭保守观念盛行
C. 传统农本色彩突出
D. 国家主权意识淡薄
29. 一战前后,中国创办的 Ching Pu Hosiery Factory(进步织造厂)中“Ching Pu”是“进步”的威妥玛拼音,与之类似的还有 Ming Sen Chemical Works, Ltd(民生药厂)、Ming Sung Industrial Co., Ltd(民生实业公司)和大明眼镜钟表公司的“San Ming(三民)”眼镜。当时,这一现象
- A. 反映了实业救国的思潮
B. 提高了商品国际竞争力
C. 促进了政治民主化进程
D. 迎合了人们的社会需求
30. 华北事变前后,章太炎一贯秉持的“中外矛盾大于国内政争”的观念在政界日益占据上风。徐永昌认为“国家不亡”为重中之重,主张晋系应助张学良安定北方。原本积极反蒋的胡汉民也不肯为了对抗蒋介石而联合日本。由此可见
- A. 紧张的局势增强了民族凝聚力
B. 国民党内派系矛盾得到化解
C. 部分国民党人赞同中共的决张
D. 民族矛盾已上升为主要矛盾
31. 1952年,在编制“一五”计划时,除有些造船厂必须设在海边外,山海关内的大型建设项目基本安排在京广线以西。1953—1955年,地质勘探投资的56.9%集中在西北、西南和华中地区,以便为建立新的工业基地做准备。这主要是为了
- A. 应对严峻的国际形势
B. 改变工业布局不平衡局面
C. 学习苏联模式的选择
D. 促进国民经济恢复的需要
32. 公元前5世纪末,雅典人在市政广场树立了第一组刺杀僭主者的雕像;亚里士多德的《雅典政制》记载了雅典人对刺杀僭主者的崇拜仪式,这种仪式都是每年周期性举行的,且仪式地点是烈士公墓和市政广场,都是雅典政治空间的核心区域。这说明
- A. 雅典民主政治初步确立
B. 民主政治成为大势所趋
C. 雅典公民意识不断强化
D. 民众参与政治空间拓展
33. 下表为14世纪末到19世纪初劳动者一天劳动所获报酬表。该表能用来解释



- A. 劳动生产率低下是亚洲落后根源
B. 欧洲经济总量逐渐超越亚洲
C. 劳动力价值与工业革命的关系
D. 新航路开辟引发了价格革命
34. 某理论认为,在一封闭箱中的观察者,不管用什么方法也无法确定他究竟是静止于一个引力场中,还是处在没有引力场却在作加速运动的空间中,这是解释等效原理最常用的说法,而惯性质量与引力质量相等是等效原理一个自然的推论。这一理论有助于
- A. 推动近代自然科学的形成
B. 动摇上帝在人们心中的地位
C. 改变人们对时空属性看法
D. 拓展人们对微观世界的认知

【高三文科综合能力测试(理科综合)第 5 页 共 12 页】

35. 下表为不结盟运动的几次宣言的内容, 据此, 不结盟运动倡导

1973年	各国都有权采纳最适合于其发展的经济和社会制度, 每一个国家都享有对它的自然资源和所有国内经济活动充分行使国家主权的不可剥夺的权利
1974年	反对侵略、外国占领、新老殖民主义和帝国主义的斗争以及争取建立在平等基础上的政治和经济关系的斗争
1976年	重申各国对他们的天然资源和人力资源, 以及他们的经济活动行使完全的永久的主权的不可剥夺的权利

- A. 消除意识形态的分歧
B. 构建区域经济一体化
C. 实现人类可持续发展
D. 建立平等国际分工

二、非选择题: 本题包括必考题和选考题两部分。第36-42题为必考题, 每道试题考生都必须作答。第43-47题为选考题, 考生根据要求作答。

(一) 必考题: 共135分。

36. 阅读图文材料, 完成下列要求。(22分)

2022年11月15日G20峰会在印度尼西亚召开, 印度尼西亚向外界展示了连接雅加达和万隆的雅万高铁建设成果。这是东南亚地区的第一条高铁, 由中铁四局负责承建, 项目全部采用中国标准、中国产品, 是中国高铁第一次全产业链走出国门, 被称为“中国高铁第一单”。雅万高铁建成后, 雅加达至万隆的通行时间将由3个多小时缩短至40分钟。与高铁配套的, 还有一系列先进的“中国智造”。比如, 为雅万高铁所属的公寓、车站楼、动车所等提供中央空调、数智电梯等系统。图5示意雅万高铁所在区域。

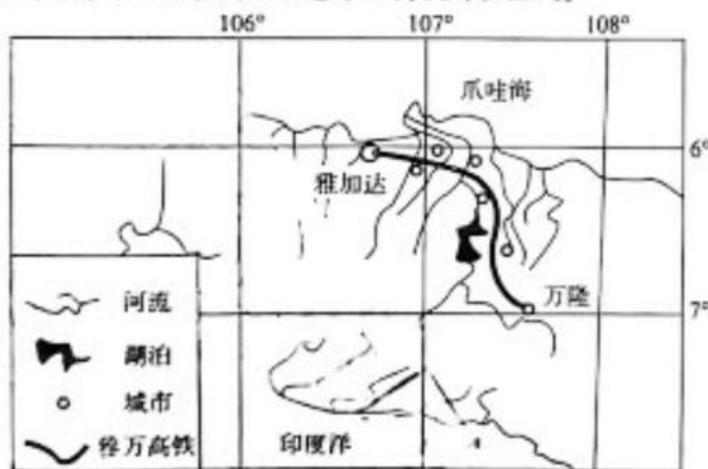


图5

- (1) 分析中国企业以全产业链形式修建高铁的原因。(6分)
- (2) 推测雅万高铁修建中需要应对的自然挑战。(4分)
- (3) 阐述雅万高铁的建设将对印度尼西亚的发展产生的积极推动。(6分)
- (4) 简述“中国智造”带给雅万高铁系统的优势。(6分)

37. 阅读图文材料,完成下列要求。(24分)

土壤水分是生态系统承袭的重要组成部分,在生态和水文过程中具有重要的作用,关系到区域生态系统的稳定和可持续发展。黄土高原是我国的生态屏障,也是黄河泥沙最主要的来源。近年来,为控制水土流失,开展了以退耕还林还草等为代表的一系列水利水保措施,经过多年退耕还林还草,黄土高原区产生了多种土地利用方式。不同利用方式下的土壤对降水的响应有所不同。图6示意黄土高原某典型沟整区不同土地利用方式0—50 cm各土层土壤含水量时间变化过程。

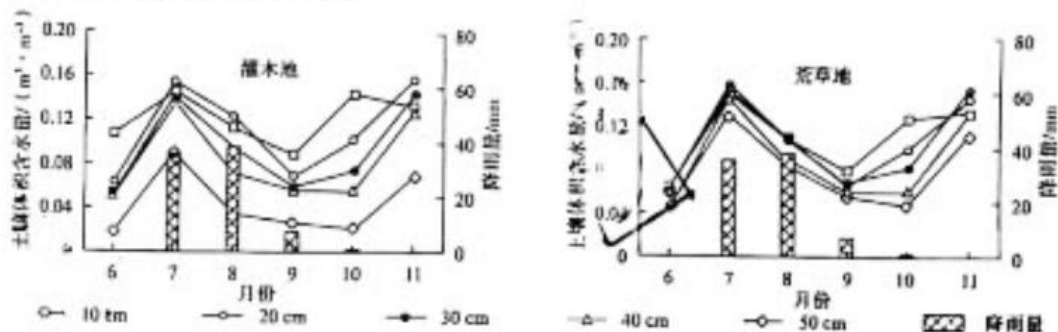


图6

- (1) 描述图中灌木地土壤含水量随月份的变化特征。(6分)
- (2) 比较荒草地与灌木地土壤含水量变化的异同。(8分)
- (3) 分析灌木地比荒草地的50 cm深土层中土壤含水量少的原因。(4分)
- (4) 说明8月份降水量最多但土壤含水量较少的原因。(6分)

38. 阅读材料,完成下列要求。(14分)

2022年12月19日,《中共中央 国务院关于构建数据基础制度更好发挥数据要素作用的意见》(以下简称《意见》)正式对外发布,引起社会高度关注。

《意见》明确提出要健全数据要素由市场评价贡献、按贡献决定报酬机制。坚持“两个毫不动摇”,按照“谁投入、谁贡献、谁受益”原则,着重保护数据要素各参与方的投入产出收益,依法依规维护数据资源资产权益,探索个人、企业、公共数据分享价值收益的方式,建立健全更加合理的市场评价机制,促进劳动者贡献和劳动报酬相匹配。

同时,要更好发挥政府在数据要素收益分配中的引导调节作用。加大政府引导调节力度,探索建立公共数据资源开放收益合理分享机制,允许并鼓励各类企业依法依规依托公共数据提供公益服务,更加关注公共利益和相对弱势群体。推动大型数据企业积极承担社会责任,强化对弱势群体的保障帮扶,着力消除不同区域间、人群间数字鸿沟,增进社会公平,保障民生福祉,促进共同富裕。

结合材料,从处理好政府和市场关系的角度,分析如何进一步解决数据要素收益分配问题。

39. 阅读材料,完成下列要求。(12分)

民生是人民幸福之基、社会和谐之本。做好经济社会发展工作,民生是“指南针”。2022年12月15日至16日在北京召开的中央经济工作会议是党的二十大后党中央召开的第一个全国性会议,会议强调,社会政策要兜牢民生底线。

细数中央经济工作会议中的民生账,2023年的民生工作路线图已然绘就。第一,就业

【高三文科综合能力测试试卷 (第8页 共12页)】

优先。会议要求,要落实落细就业优先政策,把促进青年特别是高校毕业生就业工作摆在更加突出的位置。加强新就业形态劳动者权益保障。第二,平抑物价。会议强调,要及时有效缓解结构性物价上涨给部分困难群众带来的影响。第三,积极应对老龄化。会议要求,稳妥推进养老保险全国统筹。推动优质医疗资源扩容下沉和区域均衡布局。完善生育支持政策体系,适时实施渐进式延迟法定退休年龄政策,积极应对人口老龄化少子化。第四,坚持“房住不炒”。会议指出,要因城施策,支持刚性和改善性住房需求,解决好新市民、青年人等住房问题,探索长租房市场建设。要坚持房子是用来住的、不是用来炒的定位,推动房地产业向新发展模式平稳过渡。

结合材料,运用《政治生活》知识,分析中央经济工作会议为什么强调社会政策要兜牢民生底线。

40. 阅读材料,完成下列要求。(26分)

材料一 2022年12月29日,国务院联防联控机制综合组印发了《关于在城乡基层充分应用中药汤剂开展新冠病毒感染治疗工作的通知》(以下简称《通知》)。《通知》称,新冠疫情发生以来,中医药在医疗救治中发挥了重要作用。地方卫生健康行政部门、中医药主管部门要组织专家,基于当地新冠病毒感染中医证候特点、中药在新冠诊治中的临床研究结果和实践经验,结合气候、季节和人群特点,研究确定一批适合新冠病毒感染患者治疗的中药协定处方,针对新冠病毒感染常见症状,分类提出中药治疗方案,如退热 退热+止咳化痰、退热+利咽止痛等,涵盖老年人、儿童等特殊群体,方剂的组成要简练、有效,适用于大部分人群。各地可以根据本地实际和用药习惯,因地(县、乡、村)制宜,辨证施治。国家中医药局组织制定了治疗新冠病毒感染中药协定方范例,供各地参考。《通知》强调,各地要坚持中西医结合,结合本地实际和药品供应情况,合理选用西药、中成药、中药汤剂。

材料二 中医药传统历史悠久,弘扬千年中医药文化也是中华民族伟大复兴文化自信的重要组成部分。国家出台多项政策鼓励中医药兴起,疫情后的中医药崛起将迎来新的挑战与契机。大数据引入中医药是数字化大健康产业的创新,将中医的防、诊、医、药四个层面形成科学的数字化精益管理。陕西省西京中医药研究院副院长李朝峰认为:用科技支撑中医药工作形成“预防有据、诊断有证、医治有效、用药有源”的健康服务体系,将带动中医药现代化进程。中医药学是中国古代科学的瑰宝,也是打开中华文明宝库的钥匙。“人民英雄”国家荣誉称号获得者、中国工程院院士、国医大师张伯礼勉励广大医药工作者乃至青年学生,要增强文化自觉和文化自信,勇攀医学高峰,把中医药继承好、发展好、利用好,推动中医药走向世界。

- (1)结合材料一,并运用物质与意识辩证关系原理,分析中药在新冠病毒感染治疗中发挥积极作用的原因。(12分)
- (2)结合材料二,运用文化的继承性与文化发展的知识谈谈怎样推动中医药文化走向世界。(10分)
- (3)《关于在城乡基层充分应用中药汤剂开展新冠病毒感染治疗工作的通知》强调,各地要坚持中西医结合,请就如何加强中西医结合提两条文化建议。(4分)

41. 阅读材料,完成下列要求。(25分)

材料一 宋代餐饮业中已有南食、北食、川饭三类菜系。宋代的餐饮业经营规模较大,基本为全年经营。清明当天,街头巷尾有卖稠汤;中元节则卖糯米饭。冬季天寒,宋代夜市常卖熟肉片。到夏季,又多卖砂糖绿豆。两宋一些有名的食肆,甚至可以承接皇宫大内的供餐。过完元宵节,居民便“争先出城探春”,其间吃食,多来自就地购买。宋代的食肆店铺,多在

【高三文科综合能力测试试卷 (第9页 共12页)】

店中摆设花木,甚至在店里张挂书画作品。《夷坚志》记都昌妇人吴氏,“为乡邻炊爨、扫除之役,日获数十百钱”。两宋时,细民所食,每日城内外不下一二千余石……杭城常愿米船纷纷而来,早夜不绝可也”。葛金芳指出,宋代人身依附关系的松弛以及城市化的加速,造成了市民阶层的初兴。宋代官府还疏浚道路两侧的沟渠,推进城市绿化。南宋临安城有勾栏13座,百姓在观看表演之余,自可购买食品。

——摘编自刘啸虎、王星《宋代餐饮业的兴盛及其原因分析》

材料二 清末至民国天津租界的饮食业在快速发展。天津开埠后,清王朝的对外社交中心转移至天津。因有租界的设立,城市建设也逐步像西方现代城市发展。1912年袁世凯攫取了民国大总统职位,为抵制南下就职,唆使亲信部队在北京、天津制造兵变。3月2日,天津镇守使张怀芝放纵士兵闯入北马路、东马路、估衣街一带,沿途抢掠,洗劫了店铺300余户,原来的繁华商业区变成一片断壁残垣的凄惨景象。这场浩劫以后,许多商家开始向租界区转移。民国初年,天津出现了一个很特殊的社会阶层,这就是“寓公”。这一时期的天津寓公中,更多的是各系军阀和官僚政客,建造了许多形态各异的小洋楼。此外,寓公们高档次的消闲和消费需求,又促进了天津通俗文化和餐饮服务业的发达。伴随着《北京条约》的签订,1861年,天津海关正式亮相。

——摘编自姜新《晚清民国时期天津租界餐饮文化的历史记录——天津租界饮食业档案研究》

(1) 根据材料一并结合所学知识,概括宋代餐饮业繁荣的表现,并分析其形成的历史背景。(13分)

(2) 根据材料一、二并结合所学知识,指出近代租界餐饮业的新变化,并分析其兴盛的原因。(12分)

42. 阅读材料,完成下列要求。(12分)

材料 下图是人类技术的演化表。

阶段	时间	代表技术与成就
新石器时代	约距今1万年至5000年之间	研磨石器; 用兽骨、玉石、蚌壳等材料制成更精巧的器具; 石镰、石铲、石锄,以及砭镰骨耜等成为新式农具; 陶器出现; 冶金术萌芽
机械时代	距今7000年至5000年不等,截至18世纪中叶	不同时代不同地区的工匠的制造出各种机械,通过简单机械的组合,人们制造出各种各样的机器; 望远镜与显微镜引发了以天文学—力学为中心的第一次科学革命,机械论宇宙观的代表—牛顿力学体系诞生
能源驱动时代	18世纪初以来	蒸汽机、汽轮机、燃气轮机、内燃机相继登场; 无线电技术广泛应用; 石油开始取代煤炭成为获取热能的主要原料; 以相对论和量子力学为代表的第二次科学革命; 电子计算机的普及与自动化的推广; 核能为人类提供了强大的清洁能源
智能制造时代	20世纪末,21世纪初以来	以互联网为代表,人类进入信息主导的社会; “工业4.0”概念

——据刘钝《大历史视野下的技术演化》整理

根据人类技术的演化表,就“人类技术的演化与社会生活”,提出一个论题,并进行阐述。(要求:主题明确,史论结合,逻辑清晰)(12分)

【高三文科综合能力测试试卷 (第10页 共12页)】

(二) 选考题:共 25 分。请考生从 2 道地理题、3 道历史题中每科任选一题作答。如果多做,则每科按所做的第一题计分。

43.【地理——选修 3:旅游地理】(10 分)

毗邻京津的保定,是新中国的工业重镇。“一五”时期,保定电影胶片厂(乐凯集团前身)等 8 个国家重点建设项目在保定布局,成为著名的保定“八大厂”,为新中国制造业发展做出了历史性贡献。随着时间的推移,“八大厂”命运各不相同,有的抓住机会,转型发展;有的完成使命,逐渐消匿……

为盘活“八大厂”工业遗产,2022 年以来,保定市竞秀区提出“工业遗址+元宇宙”概念并项目化推进,致力于改造利用“八大厂”工业遗址,打造元宇宙产业园区,推动“工业锈带”变为“生活秀带”。图 7 示意改造后乐凯工业遗址元宇宙数字科技产业园一角。



图 7

简述保定“八大厂”工业遗址从“工业锈带”向“生活秀带”转变的意义。

44.【地理——选修 6:环境保护】(10 分)

2021 年底,环保部等七部委印发规划:“十四五”时期农业农村生态环境保护任务依然艰巨,仍有约三分之二的行政村未达到环境整治要求,已整治地区成效还不稳定。“十四五”时期要多措并举宣传推进农村生活垃圾分类,构建“政府主导、企业主体、全民参与”垃圾分类体系,引导村民分类投放,实现源头减量。

与城市相比,说明农村生活垃圾处理难度大的原因。

45.【历史——选修 1:历史上重大改革回眸】(15 分)

材料 蔡京茶法改革是北宋最后一次,也是宋代影响最大的一次茶法改革。崇宁元年的茶法是官府置场收购茶叶,独占茶叶的收购和批发环节,然后卖给商人销售,茶引由各地茶场发卖;政和二年茶法废罢官场,允许商人与农户直接交易,官府通过茶引的印卖勘验,对商人贩茶的全过程实行严密控制达到专卖目的获取专卖收入。叶适说:“宋财赋之入比唐增倍,熙宁以后又增数倍,而蔡京变钞法,以后比熙宁又再倍矣。”蔡京从崇宁元年到政和二年,十年之间三变其法,且“其科条纤悉纷更,不可胜记”,使“商旅犹豫,茶货不通”。

——摘编自黄纯艳《论蔡京茶法改革——兼论宋代茶法演变的基本规律》

- (1) 根据材料并结合所学知识,概括蔡京茶法改革的特点。(8 分)
- (2) 根据材料并结合所学知识,分析蔡京茶法改革的原因。(7 分)

46.【历史——选修3:20世纪的战争与和平】(15分)

材料 1941年德国的入侵,迫使苏维埃政权对国民经济实行最严格的集中化管理,食物购买证政策既是其中的一个组成部分。1942年5月15日,苏联人民委员会颁布决议,宣布在苏联商业人民委员部的中央机关,成立统计和监督定量供应人口局,1943年7月,该局被改组为定量供应管理局,还设有分局及秘书处。这样,在1942年5月,管理全国粮食供应的中央机关诞生。1943年1月22日,苏联票证总局颁布《关于加强同盗窃和倒卖食品和工业品作斗争》的决议,在加强监督工作中起了重要作用。苏联商业人民委员部研究了同非法发放食品、直接偷窃食品做斗争的措施,以及保障向居民足量、及时发放食品的措施。1942年11月13日,苏联商业人民委员部发布第380号命令《关于规范面包、某些食品和工业品的票证体系》,宣布从1943年1月1日起统一票证样式。在出示标准介绍信的情况下,才能发放票证。介绍信并非无偿获得,需要支付5戈比。1944年,票证局共发现76287起违反法律和票证规则的案件。总之,国家通过设立各类监管机构和社会组织、颁布惩治措施、规范票证体系、开展督查行动,坚决制止“蛀虫”对粮食资源的再分配,捍卫人民的食品消费权利。国家的严管严查严惩,虽没有彻底杜绝影子分配现象,但在很大程度上堵塞和遏制了违法行径,推进了定量供应政策的顺畅实施。

——摘编自张丹《苏联卫国战争中的食物购买证政策》

- (1)根据材料并结合所学知识,概括二战时期苏联食物购买政策的完善措施。(8分)
- (2)根据材料并结合所学知识,简析二战时期苏联的食物购买政策。(7分)

【历史——选修4:中外历史人物评说】(15分)

材料 李百药(公元565—648年),唐定州安平(今属河北)人。生于世宦之家。他受诏修撰《北齐书》。李百药在奉诏修史前一年,在向唐太宗所上的《封建论》中,就对历史盛衰问题提出了总认识:“是知祚之长短,必在天时,政或盛衰,有关人事”,认为皇朝盛衰是由天命和人事共同作用的结果。《北齐书》,在内容上,李百药一改南谓北为“索虏”,北谓南为“岛夷”,各政权之间相互谩骂、诋毁的修史方法,在《北齐书》有关少数民族统治者的记载中,不因是少数民族人而任加贬斥。在《高昂列传》里记载:“于时,鲜卑共轻中华朝士,唯惮服于昂。高祖每中令三军,常鲜卑语,昂若在列,则为华筭。”认为鲜卑化的汉人高洋建立北齐政权乃为上天之意,天命垂青,而其他与邪邪同时的政权显然就成为“上天”所无法眷顾的附庸、僭伪了。

——摘编自董文武、张艳华《从〈北齐书〉看作者李百药的历史观》

- (1)根据材料并结合所学知识,概括李百药的史学思想观点。(8分)
- (2)根据材料并结合所学知识,评价李百药的史学思想。(7分)



关于我们

自主选拔在线是致力于提供新高考生涯规划、强基计划、综合评价、三位一体、学科竞赛等政策资讯的升学服务平台。总部坐落于北京，旗下拥有网站（[网址: www.zizzs.com](http://www.zizzs.com)）和微信公众平台等媒体矩阵，用户群体涵盖全国90%以上的重点中学师生及家长，在全国新高考、自主选拔领域首屈一指。

如需第一时间获取相关资讯及备考指南，请关注**自主选拔在线**官方微信号：**zizzsw**。



 微信搜一搜

 自主选拔在线