

## 2020 届普通高中教育教学质量监测考试 全国 I 卷 文科综合

**注意事项:**

1. 本试卷分第 I 卷(选择题)和第 II 卷(非选择题)两部分。
2. 答题前,考生务必将自己的姓名、准考证号填写在本试卷相应的位置。
3. 全部答案写在答题卡上,写在本试卷上无效。
4. 本试卷满分 300 分,测试时间 150 分钟。
5. 考试范围:高考全部内容。

### 第 I 卷

本卷共 35 个小题,每小题 4 分,共 140 分。在每小题给出的四个选项中,只有一项是符合题目要求的。

伊犁河是亚洲中部的一条国际河流,全长 1236 千米,流域面积 15.1 万平方千米,是巴尔喀什湖的主要补给水源。雅马渡以上为上游,雅马渡至哈萨克斯坦的卡普恰盖为中游,卡普恰盖至巴尔喀什湖为下游。伊犁河上游冬季气温比新疆其他地区高,干流封冻只有 60 天左右。图 1 示意伊犁河水系。据此完成 1~3 题。

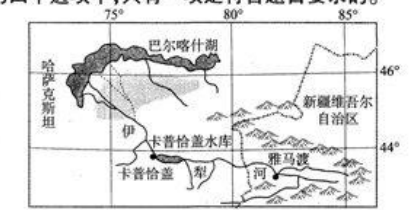


图 1

1. 伊犁河是巴尔喀什湖主要补给水源的主要原因是该河
  - A. 流域面积大
  - B. 径流量偏大
  - C. 流程长
  - D. 支流多
2. 卡普恰盖水库建成后,伊犁河下游
  - A. 含沙量减小,水量减小
  - B. 含沙量增大,水量增大
  - C. 含沙量减小,水量增大
  - D. 含沙量增大,水量减小
3. 与天山东部地区相比,伊犁河上游冬季气温较高的主要影响因素是
  - A. 大气环流
  - B. 海陆位置
  - C. 纬度位置

苏拉威西岛(图 2)是印度尼西亚中部的一大岛屿,由四个分别向东北方、东方、东南方和南方伸出半岛组成。岛屿海岸陡峭、海湾深邃。该岛年降水量 2500 mm 以上,但波尼湾北岸年降水量仅 550 mm,是印尼最干燥的地方。据此完成 4~6 题。

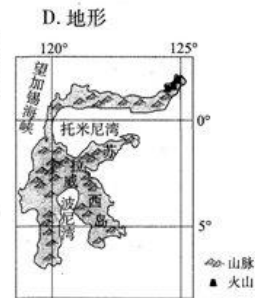


图 2

4. 苏拉威西岛海岸陡峭、海湾深邃的主要原因最可能是
  - A. 火山喷发
  - B. 冰川侵蚀
  - C. 风化作用
  - D. 断层发育
5. 波尼湾北岸年降水量较小的主要原因是
  - A. 赤道低气压带影响时间短
  - B. 地处西北季风和东南信风背风坡
  - C. 海拔高,气流上升幅度小
  - D. 山谷风环流显著,山风强于谷风
6. 苏拉威西岛的半岛之间陆上来往较少,主要是由于该岛屿
  - A. 热带雨林茂盛,沼泽湿地遍布
  - B. 人烟稀少,路途安全系数较低
  - C. 中部地形崎岖不平,阻隔交通
  - D. 周围海域风平浪静,便于航运

太原位于汾河谷地,是山西省政治、经济、文化、交通和国际交流中心。

图 3 示意太原市中心区空间形态。据此完成 7~9 题。



图 3

7. 汾河为太原城市形成与发展提供的最有利条件是
  - A. 便利的水运
  - B. 优美的滨河景观
  - C. 肥沃的土壤
  - D. 丰富的淡水资源
8. 太原空间形态的形成主要受制于
  - A. 气候
  - B. 地形
  - C. 河流
  - D. 植被
9. 为合理规划功能区,太原市工业区宜选址在图中的
  - A. ①处
  - B. ②处
  - C. ③处
  - D. ④处

阿萨尔盐湖位于吉布提中部,富含氯化钠等化工资源。2017年以来,中吉两国企业共同开发阿萨尔盐湖氯化钠项目。该项目生产的氯化钠成为吉布提出口海外的工业产品,填补了吉布提化工企业的空白。参与开发该项目的山东海王化工有限公司是中国化工企业500强之一,也是全球唯一一家可以利用地下卤水、海水、盐湖卤水、盐矿尾液等多种资源生产溴素的企业。中吉两国企业还同步规划和建设现代化盐溴化工产业园。图4示意吉布提和阿萨尔盐湖地理位置。据此完成10~11题。

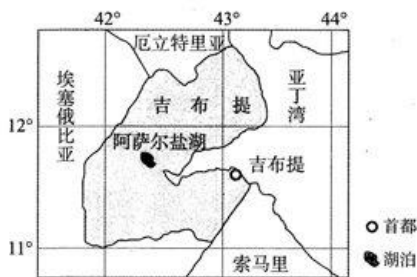
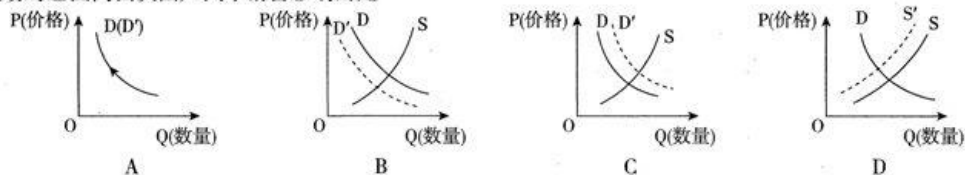


图4

10. 山东海王企业与吉布提合作开发氯化钠项目的优势主要是  
A. 生产技术先进      B. 生产效率高  
C. 生产成本低廉      D. 生产规模大
11. 现代化盐溴化工产业园对吉布提的有利影响是  
①减轻交通压力    ②加快工业化和城市化进程    ③增加就业岗位    ④促进港口贸易进一步发展  
A. ①②③      B. ①②④      C. ①③④      D. ②③④
12. 在经济学上,非竞争性是指一个使用者对该物品的消费并不减少它对其他使用者的供应,即增加消费者的边际成本为零,比如:优酷推出的会员电影不会因会员的增加而增加其供应成本。排他性是指排斥他人消费的可能性,即使用者在使用一件产品时他人就无法使用。比如:优酷会员电影对非会员具有排他性。非排他性与排他性是相对应的。下列图表中的三个序号分别代表具有不同属性的三种物品。这三种物品可能是

	竞争性	非竞争性
排他性	①	优酷会员电影
非排他性	②	③

- A. ①私人订制的服装      ②拥挤的不收费道路      ③灯塔  
B. ①灯塔      ②拥挤的不收费道路      ③私人订制的服装  
C. ①拥挤的不收费道路      ②私人订制的服装      ③灯塔  
D. ①私人订制的服装      ②灯塔      ③拥挤的不收费道路
13. 2019年12月5日,1元甲国货币兑换乙国货币8.66元,而2019年10月8日,1元甲国货币兑换乙国货币8.95元。假定其他条件不变,汇率的变化会影响乙国对甲国的汽车进口,进而影响到乙国同档次国产汽车的销售。下列曲线(S、S'表示变化前后的供给曲线,D、D'表示变动前后的需求曲线)能正确反映此期间汇率变动对乙国同档次国产汽车销售影响的是



14. 网约车是指基于移动互联网,以手机APP为主要服务平台、为具有出行需求的顾客和具有出行服务资格与能力的驾驶员提供信息沟通和服务连接的新型商业运行模式。网约车具有多种优势,可以多人拼车,但在运营过程中出现过一些安全性问题。对此认识正确的是  
①网约车有序运营有利于提高社会运力资源的配置效率  
②网约车新行业出现表明消费对经济增长起基础性作用  
③网约车运营存在的问题表明市场调节具有滞后性缺陷  
④网约车规范发展对缓解拥堵、减轻污染、节约能源有利  
A. ①②      B. ②③      C. ①④      D. ③④
15. 2019年10月,生态环境部公布了《2019年发电行业重点排放单位(含自备电厂、热电联产)二氧化碳排放配额分配实施方案(试算版)》。按照规定,国家对发电行业重点排放单位分配相应的碳排放配额。企业富余的配额可以在碳排放交易市场上出售,不足部分可以通过市场购买。碳排放交易政策  
①会倒逼高排放类企业转型升级,走绿色发展之路  
②属于国家促进经济平稳运行的宏观调控经济手段  
③是利用市场机制控制温室气体排放的有力举措  
④通过提高全社会减排总成本来促进生态文明建设  
A. ①③      B. ①②      C. ②④      D. ③④
16. 据报道,我国多地陆续将无人机应用到城市交通管理当中,对开车玩手机、违停等行为进行抓拍。从执法实践看,其管理优势显而易见。比如,对无摄像头监管路段的超速或违停应急车道等违章行为,可通过无人机抓拍,然后通知前方交警拦截处置。使用无人机执法  
①是保障公民在交通法规面前一律平等的必然选择  
②有利于完善我国行政监督体系,提高行政执法效率



- ③有利于保障违章处罚证据清晰确凿,促进依法行政  
④要保护公民的隐私权,对采集信息不能滥用与外泄  
A. ①② B. ①③ C. ②④ D. ③④
17. 1999年12月20日,饱经沧桑的澳门回到祖国怀抱,澳门特别行政区宣告成立,开启了澳门历史新纪元。20年来,在中央政府和祖国内地大力支持下,在行政长官带领下,特别行政区政府和社会各界人士同心协力,开创了澳门历史上最好的发展局面,谱写了具有澳门特色的“一国两制”成功实践的华彩篇章。这一成就的取得得益于  
①中央全面管治权与澳门高度自治权的有机结合  
②和平与发展的时代背景下国际新秩序的积极构建  
③澳门特别行政区政府稳健施政,关心民众福祉的责任担当  
④澳门各界群众拥护祖国统一、拥护社会主义制度的高度自觉  
A. ①③ B. ①④ C. ②③ D. ②④
18. 2019年9月27日发布的《新时代的中国与世界》白皮书指出,中国是世界的中国,中国的发展与世界紧密相连。中国发展进入了新时代,世界对中国的关注,从未像今天这样广泛深切;中国对世界的影响,从未像今天这样全面深刻。中国的发展给世界带来的机遇表现在  
①中国道路符合中国国情、适应时代要求 ②多极化趋势为中国发展提供了稳定的国际环境  
③中国发展为其他发展中国家提供经验和借鉴 ④中国“一带一路”战略带动沿线国家在共建中共享  
A. ①② B. ①③ C. ②④ D. ③④
19. 1937年4月26日,德国法西斯的飞机对西班牙小镇格尔尼卡进行狂轰滥炸。毕加索义愤填膺,用画笔揭露了侵略战争的罪恶和法西斯的暴行。他以立体主义表现的方式,刻画了在战争环境下人们愤怒和抗争的心理状态,给受众带来了心灵上的巨大震撼。直到现在,壁画《格尔尼卡》(图5)在世界上反对战争,呼唤和平的行动中仍然起着积极作用。这表明该画作  
①能够丰富观赏者的精神世界,增强其精神力量  
②来源于社会实践,集中反映了当时经济政治成果  
③对社会发展具有积极作用,产生了深远持久的影响  
④在创作手法上兼收并蓄,反映了作者奇特的想象力  
A. ①② B. ①③ C. ②④ D. ③④
20. 2019年12月,中共中央、国务院印发《长城、大运河、长征国家文化公园建设方案》。国家文化公园建设,就是要整合具有突出意义、重要影响、重大主题的文物和文化资源,实施公园化管理运营,实现保护传承利用、文化教育、公共服务、旅游观光、休闲娱乐、科学研究功能。这一举措  
①坚持开发与保护并重的策略,有利于开发我国重要文化遗产项目  
②将深入挖掘文物和文化资源精神内涵,丰富中华民族精神的基本内涵  
③有利于彰显优秀传统文化影响力、革命文化感召力、先进文化生命力  
④将构建具有特定开放空间的公共文化载体,有利于提高文化软实力  
A. ①② B. ①③ C. ③④ D. ②④
21. 新中国成立后,国家特别重视对敦煌莫高窟的保护。20世纪60年代初,国家拨款100万元专门用于莫高窟崖体加固。按照建筑学家梁思成提出的“有若无,实若虚,大智若愚”的设计方针,加固工程效果很好,至今石窟崖体仍安然无恙。这一设计方针  
①体现了人为事物的联系要尊重自在事物的联系 ②表明实践是认识的基础,是认识的来源和动力  
③表明只有改变规律发挥作用的形式才能利用规律 ④作为正确的意识对莫高窟的保护具有促进作用  
A. ①③ B. ①④ C. ②③ D. ②④
22. 日前,长江三角洲一体化发展提上日程,该区域一体化发展要坚持协调共进,着眼于棋盘整体谋划,进一步发挥上海龙头带动作用,苏浙皖各扬所长,推动城乡区域融合发展和跨界区域合作,提升区域整体竞争力,形成分工合理、优势互补、各具特色的协调发展格局。这表明长江三角洲区域一体化建设过程需要  
①着重把握主要矛盾,抓住重点和关键 ②统筹矛盾主次方面,看到主流和支流  
③掌握系统优化方法,注重系统内部结构优化趋向 ④重视部分的关键作用,用局部发展推动整体发展  
A. ①② B. ①③ C. ②④ D. ③④
23. 严羽的《沧浪诗话·诗评》中有一句话道出了李杜诗歌的不同:“子美不能为太白之飘逸,太白不能为子美之沉郁。”飘逸和沉郁是相对的,这也是李杜诗风的不同。从哲学角度看,李杜诗风的不同,原因在于  
①从认识主体来看,与二人诗歌反映对象的复杂性有关  
②从价值选择来看,与二人间存在的阶级对立密切相关  
③从社会存在来看,与二人所处的唐朝盛衰转变有关系  
④从价值观念来看,与二人文学创作的理念差异有关系  
A. ①② B. ①③ C. ②④ D. ③④
24. 齐宣王谓田过曰:“吾闻儒者亲丧三年,君与父孰重?”过对曰:“父重。”王忿然曰:“曷为士去亲而事君?”对曰:“非君之禄,无以养吾亲;非君之爵,无以尊显吾亲。凡事君,以为亲也。”宣王愀然,无以应之。据此可知,当时  
A. 人伦关系与政治关系具有统一性 B. 移孝作忠成为主流思想  
C. 忠孝观念有利于专制制度的加强 D. 纲常思想日益深入人心



图5

25. 两汉时期,司隶校尉集京师及其周边地区监察权于一身,在朝会之时曾与尚书令、御史中丞并称“三独坐”。但是,这一时期有明确记载的45位司隶校尉中,遭贬、遭杀者有28位,这些遭贬、遭杀者的罪状主要由御史中丞或丞相司直检举,间或有皇帝亲自巡视发现。这表明,汉代
- A. 司隶校尉位卑权重  
B. 注重对监察权的管控  
C. 重用酷吏治理朝政  
D. 御史大夫丧失监察权
26. 唐中后期,统治集团内部曾出现牛李党争。对于如何选拔官员,李党主张“经术孤立者进用”,牛党则主张“地胄词彩者居先”。门阀士族多以经术传家,故重经术即重门第;诗赋词彩是进士科考试的主要内容,故重词彩亦即重科举。牛李此争论可以说明当时
- A. 世家大族垄断官场的局面已被打破  
B. 进士科成为了科举考试的主要科目  
C. 士族地主与庶族地主在斗争中合流  
D. 党派斗争使唐朝治国渐趋理性务实
27. 明中叶,在西北和塞北长城沿线一带,戍守官兵达七八十万之众。这一地带,每年军队及其家属对于棉织品的消费在五六百万匹以上。这些布匹,除少量征收之外,百分之八九十由朝廷委派官员去江南购买。这
- A. 说明官方贸易阻碍了商品经济发展  
B. 有利于江南市镇经济的发展  
C. 催生了跨区域长途贩运贸易的兴起  
D. 推动经济重心出现转移趋向
28. 有学者提出:“中国受外国凌侮,平民受教民欺压,人人衔恨,无以制之。一旦传闻义和拳烧洋楼毁电杆之奇技,明知非正,未始不胜称快。”这反映出当时
- A. 反侵略已经成为了一种社会心理  
B. 国民民族意识普遍觉醒  
C. 义和团运动的举措顺应历史潮流  
D. 清廷统治基础丧失殆尽
29. 1923年,中国共产党在《向导》周报中提出:希望中国国民党断然抛弃依赖外力及专用军事两个旧观念,十分注意对于民众的政治宣传,勿失去一两个宣传的机会。这表明
- A. 国共两党关于革命领导权的问题分歧明显  
B. 国民大革命的社会基础巩固  
C. 中国共产党利用舆论对革命施加政治影响  
D. 建立革命根据地的时机成熟
30. 抗战胜利之初,国民政府着手接收沦陷区的日伪产业与物资。接收机关包括:军统局、中央军、地方政府、敌伪产业处理局,各部门互不统属,各行其是。行政院长宋子文致电蒋介石:上海方面,军政部接收之布匹四倍于经济部,其中不合军用品者达三百余万匹。这反映出国民政府
- A. 为发动内战做了充分的准备  
B. 对失当的经济政策进行反思  
C. 对抗战胜利的到来准备不足  
D. 不同利益集团之间矛盾重重
31. 下表为中国1978年与1986年部分经济数据的对比,这一变化得益于

	农村人均收入	城市人均收入	城市待业率	全民所有制工业在工业总产值中的比重
1978年	134元	316元	5.3%	80%
1986年	424元	828元	2%	68.7%

- A. 农轻重的协调发展  
B. 改革的逐步深化  
C. 城乡差距逐步缩小  
D. 市场经济的调节
32. 苏格拉底教授学生正义与非正义的区别。他首先问“欺骗”归于哪一类?学生答,归于非正义。苏格拉底问,将军在作战时欺骗了敌人呢?学生认为这是正义的,而只有对朋友欺骗才是非正义的。苏格拉底又提出,哄骗自己的孩子吃药,使孩子恢复健康呢?学生们陷入深思。苏格拉底的教学
- A. 更倾向于相对主义和主观主义  
B. 发展了“人生而平等”的价值观念  
C. 强调个人感受易造成真理缺失  
D. 有利于培养独立思考和判断能力
33. 美国内战结束之后,两党进入轮流执政时期。共和党控制国会时或者共和党总统执政时,关税一般相对较高,而且呈上升的趋势;而民主党控制国会时或者民主党总统执政时期,关税不断下降。这揭示了
- A. 对外贸易的自由化逐步成为时代潮流  
B. 共和党与民主党的分歧不可调和  
C. 利益集团对公共政策制定具有导向性  
D. 美国政府的经济政策具有随意性
34. 1923年,列宁指出:“我们的敌人曾不止一次地对我们说,我们在一个文化不够发达的国家里推行社会主义是冒失行为。但是他们错了,我们没有从理论(一切书呆子的理论)所规定的那一端开始,我们的政治和社会变革成了我们目前正面临的文化变革、文化革命的先导。”这反映出当时苏联
- A. 伴随政治经济变革文化建设提上日程  
B. “一五”计划改善了人们生活  
C. 列宁社会主义文化建设思想开始萌发  
D. 社会主义文化建设具有先导性
35. 他的作品是把艺术的视觉审美放在首位,把饱含激情、热情奔放、饱满富丽的性情抒发和色彩表现融入画面单纯化的色彩表达形式当中,最后带给观者的是对大自然的热爱和对色彩丰富的惊叹。与“他”的作品风格一致的是



A



B



C



D



## 第Ⅱ卷

本卷包括必考题和选考题两部分。第36题~第42题为必考题,每个试题考生都必须作答。第43题~第47题为选考题,考生根据要求作答。

36. 阅读图文材料,完成下列要求。(24分)

新疆拜城县在有砾石覆盖,表层有沙质土壤的戈壁荒滩上建立了克赛葡萄基地。科学种植与管理是基地建设的关键环节,经过多年的发展,曾经的戈壁荒滩已成为农田成方、林带成网、道路畅通、渠系相连的万亩生态绿洲。图6示意拜城县地理位置。

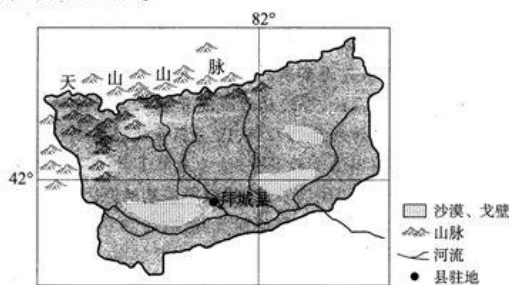


图6

- (1) 分析拜城县在戈壁荒滩上建立葡萄基地的有利自然条件。(6分)
- (2) 葡萄最怕雹灾,说明拜城县种植葡萄还需要防御的自然灾害。(4分)
- (3) 任选一种上题中自己列出的自然灾害,说出相应的防灾减灾措施。(6分)
- (4) 请为拜城县葡萄产业的进一步发展提出合理化建议。(8分)

37. 阅读图文材料,完成下列要求。(22分)

南亚地区的气候状况受冬夏季季风环流影响,一年分为凉季(10~次年2月)、热季(3~5月,气温高达45℃)和雨季(6~9月,降水量占全年的60%以上)三季。图7示意南亚地区夏季风进退时间。

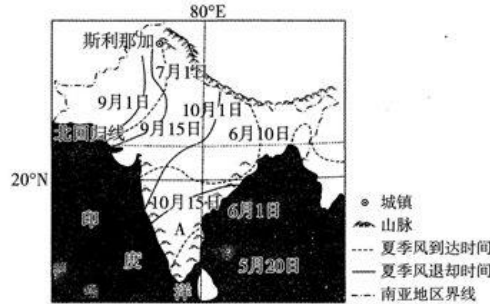


图7

- (1) 指出图中南亚地区受夏季风影响时间最长的区域,并说出判断理由。(4分)
- (2) 分析A地形成热带草原植被的原因。(8分)
- (3) 说明3~5月南亚地区形成热季的原因。(6分)
- (4) 从大气环流和地形的角度分析斯里那加冬春季降水较多的原因。(4分)

38. 阅读材料,完成下列要求。(14分)

2019年以来,出口退税在“稳外贸”中贡献了重要力量。财政部数据显示,2019年前10个月,我国出口退税13694亿元,同比增长10.4%,进一步缓解企业资金压力。2019年7月以来,国务院常务会议多次部署“稳外贸”工作。2019年11月28日,中央《关于推进贸易高质量发展的指导意见》进一步完善出口退税政策,尤其加快高科技产品的退税进度。

与此同时,我国多次降低进口商品关税,分别对药品、汽车、日用消费品、部分工业品进行了四次较大幅度或范围的降关税,关税总水平由此前的9.8%降至7.5%。2019年1月1日起,对706项商品实施进口暂定税率,其中包括部分重要能源原材料、多种先进技术、设备和关键零部件进口。支持医药和康复、养老护理等设备进口,促进研发设计、节能环保、环境服务等生产性服务进口。

结合材料,运用所学经济生活知识,分析我国是如何通过关税政策的调整推动外贸和国内经济发展的。(14分)

39. 阅读材料,完成下列要求。(12分)

中央政治局集体学习,是中国共产党的一种重要学习形式。党中央带头弘扬马克思主义优良学风,大力推进政治局学习的制度化,为全党全社会做出表率。

2002年12月26日,中央政治局举行首次集体学习。此后,中央政治局坚持开展集体学习并逐渐形成制度。2019年11月29日,中共中央政治局就我国应急管理体系和能力建设进行第十九次集体学习。此前学习过的主题有:区块链技术发展现状和趋势、新中国国家制度和法律制度的形成和发展、牢记初心使命,推进自我革命等。

中央政治局集体学习的内容不仅十分丰富,而且非常注重时效,注重将学习与党和国家的重要工作相结合。中央政治局集体学习的形式多样、不拘一格。一般而言,先由相关领域专家做讲解,并提出意见和建议,然后与会同志进行讨论。最后,由总书记进行总结并对相关工作提出明确要求。通过学习,政治局成员拓宽了视野,提高了不断开创中国特色社会主义事业新局面的本领。

结合材料,运用所学政治生活知识,分析坚持中央政治局集体学习的必要性。(12分)

40. 阅读材料,完成下列要求。(26分)

《光明日报》创刊于1949年6月16日,2019年是其创刊70周年。习近平主席发来贺信指出,70年来,《光明日报》自觉坚持党的领导,坚持与真理同行、与时代同步,团结、联系、引导、服务知识界,在政治建设、理论创新、道德引领、教育启迪、文化传播、科学普及等诸多领域发挥了重要作用。

该报创刊当年的7月1日,《光明日报》为党的生日发表社论:“没有共产党就没有人民中国的胜利”;1978年5月11日,《光明日报》以特约评论员名义,公开发表了《实践是检验真理的唯一标准》一文,引起强烈反响,引发关于真理标准问题的讨论。讨论冲破了“两个凡是”的严重束缚,从此,解放思想成为中国人民思想乐章的主旋律,改革开放大潮在中国大地上不断涌起。该报在我国历史上最早报道了青蒿抗药研究内情……党的十九大以来,该报推出《学习贯彻习近平新时代中国特色社会主义思想》特刊,让历史联通现实,让初心照亮当下,有力推动了在全社会学习贯彻习近平新时代中国特色社会主义思想。

近年来,《光明日报》整合媒体资源,开通客户端、官方微博、光明网等平台,构建全媒体传播格局,切实增强传播力、公信力、影响力和舆论引导能力,在举旗帜、聚民心、育新人、兴文化、展形象上不断作出新的贡献。

- (1) 结合材料,运用所学文化生活的知识,分析《光明日报》是如何做到“与共和国同行,在新时代闪耀”的。(10分)
- (2) 有人认为:真理再向前走一小步,就会变成谬误。运用所学的哲学知识对这一观点加以评析。(10分)
- (3) 请你为《光明日报》如何吸引青少年读者提出三条建议。(6分)



41. 阅读材料,完成下列要求。(25分)

材料一 19世纪中期,晚清政府财政每年“亏短一千数百万两”,由此,防灾减灾及社会救助经费被大幅缩减。在光绪朝,虽然黄河泛滥的频率与范围更甚于前,但政府治河用款不及道光时的十分之一。因而,在晚清时期,大灾小救、小灾不救的现象极为普遍。在这种情况下,民间救助活动日趋活跃。当时出现的比较著名的义赈组织包括:沪上协赈公所、澳门协赈公所、绍兴协赈公所等。在19世纪末,义赈已成为当时社会不可或缺的重要救灾形式和手段……当时中国主要的救灾活动表现为施粥、义诊、发放衣物以及提供部分的简易搭建,这些做法一定程度上缓解着灾荒对于民众生命的威胁,但是民众心理的恐慌以及未来的发展却没有得到普遍的重视。

——摘编自陈桦《中国社会救助活动的近代转型》

材料二 联邦德国于1961年制定了《联邦社会救助法》,明确社会救助的首要任务是“确保受救助者享有符合人类尊严的生活”,并对社会救助作了一般原则性规定,具体的救助额度等细节问题则由各州立法决定。德国由于社会救助对象有限以及经济形势一片大好,社会救助的待遇水平有了显著提升,对申请者资格的限制以及对有劳动能力者的工作审查都有所放松,侧重强调受助者的权利。社会救济不仅包括必要食品、住房、衣物、身体护理、家庭用品、取暖、日常生活的个人用品,还包括书籍、简易运动器材等物品……按照法律规定,在救助实施前或者救助四星期之后,受助者与救助机构应当签署一份有法律效力的协议书,写明受助者的现状以及积极融入社会与再就业的可能性,并对受助者进行必要的指导乃至培训。

——摘编自喻文光等《德国社会救助法律制度及其启示》

- (1) 根据材料一并结合所学知识,概括晚清时期社会救助活动的主要特点。(8分)
- (2) 根据材料一、二并结合所学知识,与晚清时期中国相比,指出德国社会救助的不同之处,并分析形成双方差异的原因。(17分)

42. 阅读材料,完成下列要求。(12分)

材料 (历史)真正绵延至今而且时时影响着今天的生活的,在我看来至少有两种东西:一是几千年来不断增长的知识和技术,前人的智慧和辛劳积攒了许多生活的知识和技术,使后人得以现成享用,也使后来的人们可以把前人的终点当起点,正是在这里,历史不断向前延续;二是几千年来反复思索的问题以及由此形成的观念,多少代人苦苦追寻的宇宙和人生的意义,多少代人费尽心思寻找的有关宇宙、人生问题的观念和方法,影响着今天的思路,使今天的人依然常常沿着这些思路思索这些难解的问题,正是在这里,历史不断地重复着历史。如果说前者属于技术史,那么后者就只能属于思想史。

——摘编自葛兆光《中国思想史》

请结合中国古代史知识,评析材料中的观点(任意一点或整体),得出结论。(要求:观点明确,持论有据,论证充分,表述清晰。)

请考生在第 43、44 两道地理题中任选一题作答,并用 2B 铅笔将答题卡上所选题目对应的题号右侧方框涂黑,按所涂题号进行评分;多涂、多答,按所涂的首题进行评分;不涂,按本选考题的首题进行评分。

43.【旅游地理】(10 分)

目前,我国乡村旅游日益受到城市游客青睐的同时,在乡村文化资源开发挖掘方面也暴露出诸多不尽人意的问題。有关专家认为,唯有乡村旅游功能的综合化,在原有富民扶贫的基础上,提出与当地特色文化相结合的创意型乡村旅游开发方式,打造出有文化内涵的乡村旅游产业,满足游客心理需求,才能保证乡村旅游的可持续发展。

结合材料,概括乡村旅游在开发文化资源方面的不足并提出改进建议。

44.【环境保护】(10 分)

近年来,随着人们生活水平的提高,各种各样的海鲜,已经成为了饭桌上的常客,可是这些海鲜,正在毁掉无数中国人的身体!是在吃海鲜吗?其实是在吃塑料!研究人员研究发现,平均六个牡蛎含有大约 500 个塑料微粒,而一份大虾里则含有惊人的 9000 个塑料微粒。

结合所学知识和生活常识,分析海鲜食物中塑料微粒的来源。

请考生在第 45、46、47 三道历史题中任选一题作答,并用 2B 铅笔将答题卡上所选题目对应的题号右侧方框涂黑,按所涂题号进行评分;多涂、多答,按所涂的首题进行评分;不涂,按本选考题的首题进行评分。

45.【历史上重大改革回眸】(15分)

**材料** 唐朝初期,实施均田制的条件依然完备。随着经济的恢复与发展,唐政府逐渐放宽了土地买卖制度,致使国家所掌握的公田荒地不断减少,均田制也就无从实施。自唐朝开元盛世之后,国家户籍迟迟没有更新,耕地与户籍人口状况发生了很大的变化,财政税收制度也进入了混乱态势。安史之乱导致全国人口四处流散,可缴纳税收的农民持续减少,致使国家到了无税可征的地步。这就导致以户籍和人丁为基础的租庸调法难以继续推行。加之地方节度使则是各霸一城,朝廷根本无法对其进行有效调度,而地方赋税则是轻易被各藩镇任意截留。朝廷赋税收入骤减,使得国库异常空虚。为缓解不利局势,唐德宗任命杨炎为丞相,并且命其对赋税制度进行大胆改革。

杨炎推行了两税法改革。两税法就是把之前所推行的租庸调法以及地税和户税全部合并起来的一种多元化税收制度。一年之内,分夏秋两季征收,即便农户所承担的税赋没有得到有效减缓,但省去了原本“旬输月送”的麻烦与消耗。因为户籍破坏严重,人口计算混乱,两税法规定,依据贫富差距来缴纳赋税,照顾到民众的实际缴纳能力。

——摘编自吴桂梅《唐代两税法改革对当时农民经济的影响分析》

- (1)根据材料并结合所学知识,概括两税法的特点。(6分)
- (2)根据材料并结合所学知识,分析两税法推行的原因。(9分)



46.【20 世纪的战争与和平】(15 分)

**材料** 1957 年,苏联发射了人造地球卫星和洲际弹道导弹。这对美国是一个很大的刺激,1961 年 5 月,经总统肯尼迪批准,制订了阿波罗计划,其目标是:在六十年代把人送上月球并安全返回,以显示美国在空间技术和新式武器上的优势。这一庞大的研究工程是由国家航空与航天局负责制订和组织实施的。为了统一研制计划管理工作,设立了系统办公室。总部设立有航天科学、应用、高级研究与技术、载人航天飞行四个计划处。大量的工作是由所属的三个研究中心进行的,而具体工作则交给承包商负责完成。这项计划组织的科学家、工程师等技术人员达 42 万人,加上管理人员和工人约 60 万人。投资 300 亿美元,使用电子计算机 600 多台,牵涉到 12000 多个科研和生产机构。登月计划包括飞航系统、土星 C—S 空间运载火箭与推进系统、燃料系统、发射系统、飞行制导系统、轨道控制系统、通讯跟踪系统、测试系统、航空航天医学系统等。在实际中,每天都出现一些意想不到的新情况、新问题,都有可能致原计划的改变,因此计划有一定的灵活性。对于如此庞大的现代管理系统,普遍的方式是集体研究和集体攻克难题,但同时也强调科技人员个人独创性的发明和创新。阿波罗计划至 1972 年 12 月第 6 次登月成功结束。

——摘编自宋河洲《曼哈顿计划与阿波罗计划的组织实施》

- (1) 根据材料并结合所学知识,分析美国“阿波罗计划”取得成功的原因。(7 分)
- (2) 根据材料并结合所学知识,指出美国“阿波罗计划”的影响。(8 分)

47.【中外历史人物评说】(15 分)

**材料** 西奥多·罗斯福(1858—1919 年)年少时代就非常注重锻炼,日复一日的磨练使他成为气宇轩昂的男子汉。1880 年,罗斯福毕业于哈佛大学。大学期间,他曾经跟校长有过这样的开场白:“艾略特先生,我是罗斯福总统。”1895—1897 年,任纽约市警察局局长期间,他不仅为了社会治安亲自在纽约大街上巡逻,并“随时会被披上衣服出去寻找执勤时开小差的警察”;对警员进行年度体能检测;关闭导致腐败的警方运营的商业设施。他的这些做法确实给他招来了同行的怨恨,但也赢得了民众的尊重。

当时的美国资本主义经济已经发展到垄断阶段,政府与财团之间的“权钱交易”较为普遍;而在日益尖锐的贫富差距面前,政客们又大多选择“视而不见”。1901 年,西奥多·罗斯福担任美国总统初期,会同司法部长,经司法程序,迫使高度垄断性的北方证券公司解散,扩大了司法部与总统的行政权力,使美国政府获得了对托拉斯的监管权力。

——摘编自张国庆《西奥多·罗斯福的阳刚政治》

- (1) 根据材料,概括西奥多·罗斯福的性格特点。(6 分)
- (2) 根据材料并结合所学知识,分析西奥多·罗斯福使中央政府获得对托拉斯监管权力的背景。(9 分)

自主招生在线创始于 2014 年，致力于提供强基计划、综合评价、三位一体、学科竞赛、新高考生涯规划等政策资讯的服务平台。总部坐落于北京，旗下拥有网站（www.zizzs.com）和微信公众平台等媒体矩阵，用户群体涵盖全国 90% 以上的重点中学师生及家长，在全国强基计划、综合评价领域首屈一指。

如需第一时间获取相关资讯及备考指南，请关注**自主选拔在线**官方微信号：**zizzsw**。



识别二维码，快速关注

**温馨提示：**

全国中学大联考 2020 届高三下学期模考试题及答案汇总（更新下载中），点击链接获得

<http://www.zizzs.com/c/202002/42364.html>