

2023 届高三二轮复习联考(三) 山东卷 政治试题


注意事项:

1. 答卷前,考生务必将自己的姓名、考场号、座位号、准考证号填写在答题卡上。
2. 回答选择题时,选出每小题答案后,用铅笔把答题卡上对应题目的答案标号涂黑。如需改动,用橡皮擦干净后,再选涂其他答案标号。回答非选择题时,将答案写在答题卡上。写在本试卷上无效。
3. 考试结束后,将本试卷和答题卡一并交回。

考试时间为 90 分钟,满分 100 分

一、选择题:本题共 15 小题,每小题 3 分,共 45 分。在每小题给出的四个选项中,只有一个是符合题目要求的。

1. 2023 年,中国的改革开放迈入到第 45 个年头。45 年来,我国在公共文化服务、乡村文化振兴、文化产业、传统文化等方面的发展令人瞩目(如漫画)。这些成绩的取得是因为



新时代

新华社发 曹一作

- ①中国特色社会主义制度具有明显优势
 - ②我国基本实现了现代化的目标
 - ③始终坚持以中国特色社会主义理论为指导
 - ④改革开放从根本上改变了中国社会发展方向
- A. ①② B. ①③ C. ②④ D. ③④
2. 习近平总书记指出,高质量发展对民营经济发展提出了更高要求,有能力、有条件的民营企业要加强自主创新,在推进科技自立自强和科技成果转化中发挥更大作用。同时中国式现代化是全体人民共同富裕的现代化,无论是国有企业还是民营企业,都是促进共同富裕的重要力量,都必须担负促进共同富裕的社会责任。这要求民营企业家要
 - ①增强家国情怀,自觉践行以人民为中心的发展思想
 - ②坚持自主创新、回报社会,树立企业的良好社会形象

- ③积极发展壮大农村集体经济,切实保障农民的财产权益
④鼓励、支持、引导非公有制经济发展,培育更多市场主体
A. ①② B. ①③ C. ②④ D. ③④
3. 2023年1月9日,财政部、税务总局发布了2023年的第1号公告,明确增值税小规模纳税人减免增值税等政策。自2023年1月1日至2023年12月31日,对月销售额10万元以下(含本数)的增值税小规模纳税人,免征增值税;增值税小规模纳税人适用3%征收率的应税销售收入,减按1%征收率征收增值税。若不考虑其他因素,此项政策传导正确的是
①落实积极财政政策——减轻企业成本负担——增加企业所得——扩大生产规模
②降低增值税起征点——减轻企业税负——激发企业活力——推动经济复苏发展
③增加财政支出——缓解企业资金短缺——扶持小微企业发展——扩大税收来源
④加强国家宏观调控——调整社会财富分配——激励创业创新——刺激经济增长
A. ①③ B. ①④ C. ②③ D. ②④
4. 按照党中央、国务院部署,自2022年起,企业职工基本养老保险全国统筹正式实施。截至2022年末,我国基本养老保险参保人数达10.5亿人,同比增加2430万人,失业、工伤保险参保人数分别为2.4亿人、2.9亿人。由此可知
①我国完善养老保险制度,保障人们较高的生活需求
②我国积极推动养老保险制度更加公平、更加可持续
③社会保险作为我国社会保障体系的核心,由国家来经办
④我国坚持应保尽保的原则,优先维护好弱势群体的利益
A. ①② B. ①④ C. ②③ D. ③④
5. 2023年1月,第十四届全国政协委员名单公布。全国政协34个界别中,“环境资源界”首次亮相。从人员构成看,环境资源界85名委员的背景涵盖生态环境、自然资源、海洋、林业、地质等多个领域,三成以上是专家学者。在今年的政协会议上,该界别委员建言献策高度聚焦“环境资源”主业,不断提出真问题,找到好办法。由此可以看出
①民主党派作为参政党,参与国家社会事务的管理
②政协委员通过行使提案权,为国家发展建言献策
③政协委员聚焦社会热点重点问题,积极参政议政
④政协完善协商议政的内容,切实履行职能
A. ①② B. ①③ C. ②④ D. ③④
6. 2022年12月4日是我国第九个国家宪法日,也是我国现行宪法公布施行四十周年。2022年全国“宪法宣传周”宣传活动的主题为“学习宣传贯彻党的二十大精神,推动全面贯彻实施宪法”。全面贯彻实施宪法应
①提高宪法的国家根本法地位,坚持维护宪法权威和尊严
②与时俱进,加快完善以宪法为核心的中国特色社会主义法律体系
③有自信、有志气宣传中国宪法制度、宪法理论的显著优势和强大生命力
④把宪法实施贯穿到治国理政各方面全过程,提高政府依宪治国、依宪执政的能力
A. ①③ B. ①④ C. ②③ D. ②④
7. 2022年12月,中央经济工作会议对2023年的经济工作作出全面部署。会议提出,当前我国经济恢复的基础尚不牢固,需求收缩、供给冲击、预期转弱压力仍然较大,给我国经济带来的影响加深。但要看到,我国经济韧性强、潜力大、活力足,2023年经济运行有望总体回升,要坚定做好经济工作的信心。会议的部署
①把高度的革命热情同严谨踏实的科学态度结合起来
②是符合客观规律的正确意识,具有直接现实性特点

- ③说明思维和存在具有同一性,思维是对存在的正确反映
④坚持了世界物质统一性原理,从客观事物的实际出发
- A. ①② B. ①④ C. ②③ D. ③④
8. 2018年11月5日,习近平总书记宣布在上海证券交易所设立科创板并试点注册制,标志着注册制改革进入启动实施阶段。经过4年试点,市场各方对注册制的基本架构、制度规则总体认同,向全市场推广的条件已经具备、水到渠成。2023年2月1日,全面实行股票发行注册制改革正式启动,统筹完善多层次资本市场体系,统筹推进发行、上市、交易、退市等基础制度改革,统筹抓好证监会自身建设。这体现出股票发行注册制改革
- ①遵循了联系的普遍性,任何事物之间都存在着联系
②坚持了系统优化的方法,用综合的思维方法认识事物
③坚持了从矛盾的特殊性到普遍性,再从普遍性到特殊性的方法
④属于人为事物的联系,具有“人化”的特点,以人的意志为转移
- A. ①③ B. ①④ C. ②③ D. ②④
9. 2022年9月,由俄罗斯经波罗的海向欧洲输送天然气的“北溪”管道发生爆炸,多个国家分别开始独立调查。2023年3月8日,美国等国媒体报道一个亲乌克兰团体可能是“北溪”天然气管道爆炸事件元凶。对此,德国方面称曾搜查一艘被怀疑运输相关爆炸装置的船只,乌克兰方面否认卷入事件,俄罗斯方面则批评相关报道是为“转移视线”,呼吁彻查。对此认识正确的是
- ①由于受到各种主观和客观条件的限制,认识具有反复性
②真理是客观的,同一条件下对同一对象的真理性认识只有一个
③理性认识是认识的高级阶段,对实践的发展具有积极的促进作用
④实践是认识发展的动力,人的认识能力在实践中不断得到锻炼和提高
- A. ①② B. ①③ C. ②④ D. ③④
10. 2023年3月15日,国家主席习近平在中国共产党与世界政党高层对话会上首次提出全球文明倡议,他说:“我们愿同国际社会一道,努力开创世界各国人文交流、文化交融、民心相通新局面,让世界文明百花园姹紫嫣红、生机盎然。”这有利于
- ①更好认同其他民族文化,推动世界文化繁荣发展
②世界各国不同文化更好实现交流互鉴、包容共存
③推动中华优秀传统文化创造性转化和创新性发展
④促进不同文明的美美与共,构建人类命运共同体
- A. ①② B. ①③ C. ②④ D. ③④
11. 2023年1月7日,共和党领袖凯文·麦卡锡当选美国众议院议长。在众议院的434个席位中,共和党掌控222个议席,民主党控制212个议席。尽管共和党占据议席优势,但由于麦卡锡遭到共和党内极端保守派强烈反对,经过众议院议员5天15轮表决,麦卡锡才“艰难”当选众议院议长。由此可以看出
- ①美国实行的政权组织形式是总统共和制
②美国两党制存在着效率低下的弊端
③美国众议院议长由众议院议员选举产生
④两党制已经不适合美国当前的政治发展
- A. ①② B. ①④ C. ②③ D. ③④

二、非选择题:本题共4小题,共55分。

16. 阅读材料,完成下列要求。(8分)

履职五年来,十三届全国人大及其常委会紧紧围绕党和国家工作大局,认真履行宪法法律赋予的职责,人大工作取得新的重大进展。

从民法典编纂,到助力打好污染防治攻坚战,再到维护特别行政区宪制秩序和法治秩序等,十三届全国人大及其常委会坚决贯彻落实党中央决策部署,在大事要事上担当尽责。加快立法步伐,通过宪法修正案,制定法律47件,修改法律111件次,作出法律解释1件。抓住提高立法质量这个关键,遵循和把握立法规律,使每一项立法都符合宪法精神、反映人民意志、得到人民拥护。听取、审议109个有关监督工作的报告,检查30件法律和决定实施情况,开展33项专题调研、11次专题询问,对近万件规范性文件进行备案审查。五年间,近3000名十三届全国人大代表深入基层、深入群众,了解民情、反映民意、集中民智,共提出2282件议案和43750件建议,均已办结,为党和国家事业发展提供了重要决策参考。

结合材料,运用政治与法治的知识,谈谈十三届全国人大及其常委会这五年的工作是如何发挥社会主义民主政治优越性的。

17. 阅读材料,完成下列要求。(10分)

位于“五海三洲之地”的中东地区历来是中国外交重点关注的区域之一。

材料一 在当前全球能源紧张,价格一路飙升的大背景下,2022年11月21日,卡塔尔国家能源公司宣布与中国达成为期27年的液化天然气长期购销协议,该公司将从其北方气田扩能项目每年向中国石化供应400万吨液化天然气。中国石化董事长马永生表示,中国与卡塔尔两国关系友好、密切,在能源领域有天然互补性,为双方不断深化合作创造了良好环境。

材料二 沙特和伊朗两国关系长期紧张,两国在信仰和政治上存在严重分歧。2023年3月10日,在中国的积极调解下,沙特和伊朗在北京会晤,两国恢复外交关系。沙伊双方表示愿恪守《联合国宪章》宗旨和原则,通过对话和外交方式解决双方分歧,尊重各国主权,不干涉别国内政。沙伊赞赏并感谢中方承办和支持此次对话并推动其取得成功。

(1)结合材料,运用经济与社会的知识,分析中卡两国签署液化天然气长期购销协议对我国经济产生的积极作用。(6分)

(2)中共中央政治局委员、中央外办主任王毅表示,沙特伊朗北京对话是和平的胜利。结合材料,运用当代国际政治与经济的知识进行阐释。(4分)

18. 阅读材料,完成下列要求。(15分)

老旧小区加装电梯,本是为方便居民出行,但在实际改造中,常常遭到低楼层业主的反对。

某县某小区单元共有六层,其中三至六楼住户申请加装电梯。在获得专有部分占建筑物总面积三分之二以上业主同意,并经过公示、社区乡镇调解、安全性鉴定、审批等多项程序后,电梯公司准备入场施工,但却遭到了一楼业主的反对和阻挠,理由是:一楼房屋本身处于低洼地段,加装电梯影响采光,雨季可能造成雨水倒灌等。于是楼上三至六楼的住户起诉了一楼的住户。

2023年3月6日,该县人民法院对这起小区电梯加装纠纷案进行了公开宣判,判决一楼两名住户立即停止对电梯安装施工的阻碍。

(1)小明认为,只要影响了他人的权益,就应该受到反对和阻挠。安装电梯影响了低楼层业主的权益,因此必然受到低楼层业主的反对和阻挠。结合材料,运用逻辑与思维知识,判断小明的推理结构和结论是否正确,并说明理由。(5分)

(2)结合材料,运用法律与生活的知识,分析法院判决的理由。(7分)

(3)加装电梯对低楼层业主的通行、采光等方面产生了一定影响。请运用法律与生活的知识说明如何保障其合法权益。(3分)

19. 阅读材料,完成下列要求。(22分)

1963年3月,毛泽东同志题词“向雷锋同志学习”发表。从此,这个响亮的名字印刻人心,他的故事传遍神州大地。

60年的岁月洗礼,雷锋精神历久弥新。雷锋精神与中华民族“天下兴亡,匹夫有责”“位卑未敢忘忧国”“苟利国家生死以,岂因祸福避趋之”的爱国传统相一致,与中华民族倡导的扶危济困、守望相助、民胞物与、仁者爱人的思想相一致,与中华民族遵循的敬业乐群、恪尽职守的情操相一致,与中华民族提倡的自强不息、革故鼎新的理念相一致,与中华民族坚守的“成由节俭败由奢”“艰难困苦,玉汝于成”“民生在勤,勤则不匮”的古训相一致。

习近平强调,新征程上,要深刻把握雷锋精神的时代内涵,让雷锋精神在新时代绽放更加璀璨的光芒,为全面建设社会主义现代化国家、全面推进中华民族伟大复兴凝聚强大力量。

(1)结合材料,运用价值判断与价值选择的知识,分析如何让雷锋精神在新时代绽放更加璀璨的光芒。(8分)

(2)结合材料,运用文化传承与文化创新的知识,谈谈弘扬雷锋精神的意义。(6分)

(3)某学校高三(1)班举行学习雷锋精神主题班会,请你结合材料,运用中国特色社会主义的知识,以“雷锋精神与民族复兴”为主题撰写一篇发言稿。(8分)

要求:①围绕主题,观点明确;②论证充分,逻辑清晰;③学科术语使用规范;④总字数在250字左右。

2023 届高三二轮复习联考(三)

历史试题

注意事项:

- 1.答卷前,考生务必将自己的姓名、考场号、座位号、准考证号填写在答题卡上。
- 2.回答选择题时,选出每小题答案后,用铅笔把答题卡上对应题目的答案标号涂黑。如需改动,用橡皮擦干净后,再选涂其他答案标号。回答非选择题时,将答案写在答题卡上。写在本试卷上无效。
- 3.考试结束后,将本试卷和答题卡一并交回。

考试时间为 90 分钟,满分 100 分

一、选择题:本题共 15 小题,每小题 3 分,共 45 分。每小题给出的四个选项中,只有一项是符合题目要求的。

1.他认为音乐的本质是表现“民之常性”,故他的音乐美学观点表现为“法天贵真”。法天贵真的音乐就是合乎人的自然情性、自由抒发人的情性的音乐。这一思想曾极大地影响了嵇康、李贽。材料中的“他”是

A.孟子 B.墨子 C.庄子 D.韩非子

2.西汉高祖时“诸侯皆赋”,“(王国)置丞相,黄金印”。景帝时,“(王国)去丞相曰‘相’,银印,诸侯独得食租税”。这一转变旨在

A.削弱丞相权力 B.加强中央集权
C.完善官僚政治 D.实施“推恩令”

3.据《蜀堰记》记载,顺帝至正元年(1341年)重修都江堰,效果很好,修堰之前,“常岁获水之用仅数月,堰辄坏。今虽缘渠所置雄磴纺绩(借助水力推动的捣米器具和纺车)之处以千万数,四时流转而无穷”。这表明,都江堰的重修

A.有利于古代水力机械的推广 B.巩固了官营手工业的技术优势
C.促成手工业领域的技术革新 D.推动了中国南北经济均衡发展

4.清代规定:“满洲、蒙古尚书以下,司官、小京官以上,亲伯叔兄弟同衙门者,令官小者回避。……祖孙父子,均令子孙回避。……汉官在京部院祖孙父子亲叔伯兄弟回避之例,与满洲蒙古同。”清政府此举主要是为了

A.维护等级制度 B.学习汉族文化
C.加强官员管理 D.消除民族隔阂

5.19 世纪 60 年代,为解决生源问题,清政府规定同文馆的学生可以拿薪水。开始年薪为 36 两银子,后又提高到 120 两,最高时达到 140 两。当时七品官年薪才 45 两,五品官也不过 80 两上下。这从侧面深刻反映了

A.科举制度渐趋衰落 B.官办学校待遇较高
C.洋务运动成效显著 D.传统思想根深蒂固

6.清末,东北地区的大豆及大豆制品在未建铁路时出口量不多,1890 年输出总值为白银 37 万两,自有了铁路后,大豆及大豆制品输出总值逐年增加,1900 年达白银 547 万两,1910 年达白银 3669 万两。这说明,铁路在当时

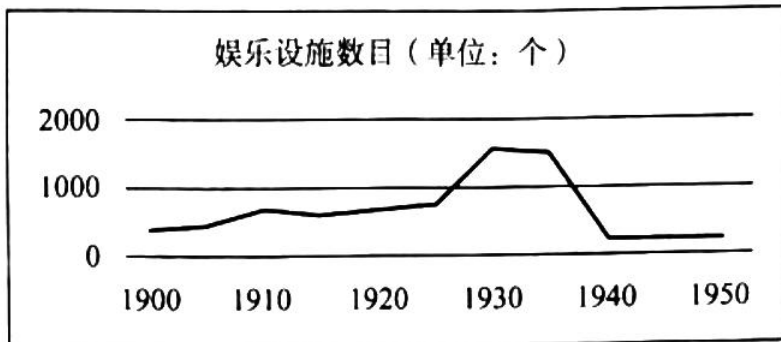
A.促进了农产品的商品化 B.改变了农业的产业布局
C.导致了传统农业的衰落 D.丰富了出口货物的种类

7.民国时期,上海某百货公司曾在报纸上刊文称:“鄙公司虽系统办全球货品,然宗旨首重国货,欧美货次之,日货则仅供市上之所需求耳。”不过,由于抵制日货的声浪如排山倒海而来,该公司只好再度声明:概将日本货品“完全收束不卖,宁愿牺牲血本,以示与众共弃

之决心。”该公司态度变化源于

- A.实业救国思潮的兴起 B.爱国救亡运动的影响
C.南京临时政府的压力 D.国民革命运动的推动

8.下图为 20 世纪上半期上海近代文化娱乐设施数量曲线图。影响这一时期上海娱乐设施数目变化的主要因素是



- A.人口数量的增减 B.民族工业的发展
C.政治局势的变化 D.租界面积的大小

9.1955 年,毛泽东说:“我们……所钻研的,是钻社会主义工业化……并且开始要钻原子能……”;1963 年,他又指出“科学技术这一仗,一定要打,而且必须打好。……不搞科学技术,生产力无法提高”。这表明毛泽东

- A.对科学技术重要性的认识不断深化 B.看到了参与国际科技竞争的重要性
C.主张科技成果由军用逐步转为民用 D.认为“一五”计划要为科技现代化服务

10.下图为公元前 13 世纪的埃及壁画。这反映了当时埃及



- A.农耕生活的基本场景 B.社会分工的进一步细化
C.男耕女织的小农家庭 D.畜牧业经营方式的变革

11.这一时期,他们对宗教秉持着一种以理性改之的态度,开始摆脱宫廷、教会进行创作,对于某些基督教神学的荒谬、教会因迷恋权力而导致的堕落以及因人民的盲从与轻信而仍然影响人民生活的有害权力予以讽刺和抨击。材料中的“他们”可能包括

- A.但丁 B.马丁·路德
C.哥白尼 D.休谟

12.1849—1870 年,英国第三级铁路客运(为下层人民提供运输服务)人数增长了 6 倍,而其他两级客运人数只增长了 4 倍。1846—1870 年,第三级客运人数的比重由不足一半提高到 65%,而客运收入的比重则由不足 20%提高到 44%。这表明铁路客运

- A.促进了城乡经济的一体化 B.实现了交通运输的商业化

C.推动了社会观念的平等化 D.加速了交通服务的大众化


13.20 世纪 20 年代，苏共领导人哈布林指出：为了使社会再生产和社会主义不断增长尽可能有利地进行，从而达到对无产阶级尽可能有利的国内阶级力量对比，必然力求把国民经济各种基本成分尽可能正确地结合起来。这一思想

- A.受到了计划经济体制的影响
- B.其重心是调整国家与农民的关系
- C.旨在弥补新经济政策的不足
- D.进一步完善了社会主义市场经济

14.1977 年，有西方学者曾指出：图书馆将逐渐消亡，它的历史使命已经完成。这一观点

- A.看到了技术革命对社会生活的影响
- B.体现了对西方传统文化衰落的担忧
- C.指出工业化造成了精神世界的空虚
- D.反映了现代科技与传统社会的矛盾

15.下图为 2018 年加拿大讽刺特朗普的漫画，以反对美国对加拿大等盟友的进口钢铁和铝分别征收 25%及 10%的高关税。据此可知

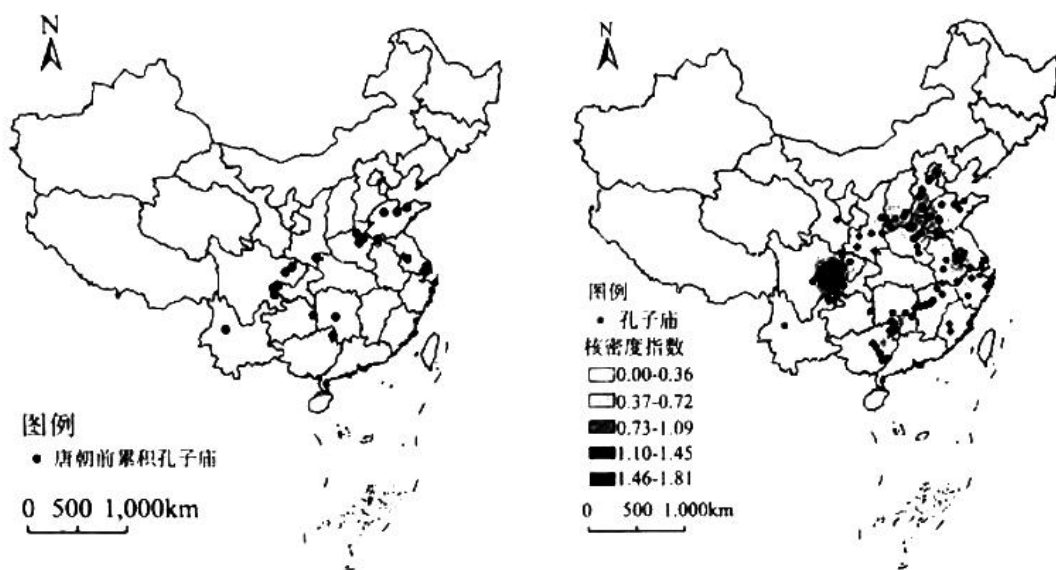


- A.霸权主义导致资本主义阵营的动荡
- B.经济危机使多极化趋势放缓
- C.单边主义易加重“逆全球化”现象
- D.经济全球化使单极世界解体

二、非选择题：本题共 4 小题，共 55 分。

16.(14 分)阅读材料，回答问题。

材料



唐朝以前中国孔子庙空间分布格局

唐朝中国孔子庙空间分布格局

——摘编自李梦羽《中国孔子庙空间分布特征研究》

(1) 根据材料并结合所学，分别说明推动和阻碍汉至南北朝时期孔子庙修建的因素。(4分)

(2) 根据材料指出唐朝孔子庙分布的变化，并分析其原因。(10分)

17.(14分)阅读材料，回答问题。

材料

晚清时期，画报画刊作为“图文并茂”的新式媒介开始出现，以下为其发展历程简表。

时期	阶段	概况
1872—1883	发轫期	教会画报画刊独步天下，如《画图新报》就以宣传基督教义为主，兼及科学知识介绍
1884—1899	兴起期	创办主体逐渐向国人自办转变，一系列丧权辱国的事件使国内各阶层不断掀起反帝反封建的浪潮，画报画刊更以独特的图像叙事方式深受人们欢迎



(续表)

时期	阶段	概况
1900—1904	发展期	“刊载国内外时事、揭露帝国主义侵略、介绍西方科学技术知识”成为画报画刊宣传的主流。部分画报画刊为吸引读者、扩大发行量,颇为重视编辑业务的改革,如1904年商务印书馆出版的《东方杂志》经常选登官办或民办报刊上的新闻讯息,留下了回看历史场景的珍贵影像资料
1905—1911	鼎盛期	共创刊93种,占晚清画报画刊出版总数的73.8%;除政治中心北京外,主要集中在上海、广州等南方沿海沿江城市,其中上海最为抢眼有72种,占晚清画报画刊出版总数的57.1%。各政治派别不断创办画报画刊作为宣传其主张、形象的代言平台,如1905年留日学生创办的《醒狮》、汉口黄陂街昌明公司发行的《不缠足画报》等。此外,还有些跳出“政治圈”的画报画刊,如劝募赈灾的《图画灾民录》、专注知识介绍的《科学画报》、文化遗产保护的《中国名画》等

——摘编自任谢元《晚清时期画报画刊出版的历程、特点及影响》

根据材料及所学,谈谈你对晚清时期画报画刊出版这一历史现象的认识。

18.(12分) 阅读材料,回答问题。

材料

1968年12月,我从北京理工大学毕业,被分配到重庆市国营晋林机械厂工作,开始了长达29年的三线生涯。重庆三线建设的重点是建设以重庆为中心的常规兵器工业基地,共有26个项目并扩展到周围的14个区县共46个企业和8个科研、学校等单位,累计投资15.23亿元。我所在的工厂即是第一阶段率先启动的“三炮一光”计划中的一个火炮厂,由山西太原老厂包建。……三线建设修通了川黔、襄渝两条铁路干线,使重庆成为成渝、川黔襄渝三条铁路的枢纽;重点建设了西南铝加工厂、四川汽车制造厂等34个大中型项目。

1983年12月3日,国务院下达了关于成立三线建设调整改造规划办公室的通知。1984年1月22日至26日,我参加了国务院三线办公室第一次成员会议。会议指出,三线企业的调整改造,必须从国民经济发展的全局出发,合理配置生产力,促进专业化协作。

——摘编自陈宏逵《我所知道的三线建设和三线调整》

结合材料及所学,对作者的“三线生涯”进行历史阐释。(要求:观点明确,持论有据,论述充分,逻辑清晰。)

19.(15分) 阅读材料,回答问题。

材料一

英国在加纳是通过“分而治之”和“间接统治”的方法进行殖民统治的。这使一些酋长和知识分子认为通过合法的途径就能够使他们争取到民族的自决权。二战后加纳的独立就是在恩克鲁玛为首的民族主义政党领导下实现的。曾指出“印度和加纳的独立斗争有许多共同的特点”的恩克鲁玛在独立运动之初指出“现在有两种方法可以实现自治,一个是用武装革命的方法,另一个是采用合乎宪法和法律的暴力方法。……我赞成采用后一种方法。”

——摘编自张象《论加纳独立的道路》

材料二

1957—1966年,美国艾森豪威尔、肯尼迪、约翰逊三届政府对撒哈拉以南非洲第一个独立的国家加纳采取了一系列政策。

政府	政策
艾森豪威尔政府 (1952—1960)	1957年加纳举行独立庆典时,副总统尼克松亲自参加,说“艾森豪威尔主义”并不局限于“传统意义上的”中东地区,他把其政策称为“民主生活方式”的扩展。在经济上,向加纳提供援助,促进美国资本流入加纳
肯尼迪政府 (1960—1963)	由于苏联同加纳积极发展关系,美国加大了金元外交的力度。在政治上,肯尼迪政府也提高了对加纳领导人恩克鲁玛的重视程度,如亲临机场迎接等。针对苏联同加纳签订的文化协定,美国通过医疗“援助”等方式加强了对加纳的吸引力和控制力
约翰逊政府 (1963—1969)	美加关系恶化。看到加纳并不屈服于美国的压力,中央情报局于1966年2月24日策划并发动了政变,推翻了恩克鲁玛政府。经过这场斗争,美国在同苏联争夺加纳的较量中,再次占据了上风

——摘编自王江《冷战时期美国对加纳的政策(1957—1966年)》

- (1) 根据材料一并结合所学知识,分析恩克鲁玛“赞成采用后一种方法”的原因。(6分)
- (2) 根据材料二并结合所学知识,以“1957—1966年美国的对加政策”为主题写一则历史小短文。(9分)(要求:观点明确,史论结合,叙述成文。)



关于我们

自主选拔在线是致力于提供新高考生涯规划、强基计划、综合评价、三位一体、学科竞赛等政策资讯的升学服务平台。总部坐落于北京，旗下拥有网站（网址：www.zizzs.com）和微信公众平台等媒体矩阵，用户群体涵盖全国 90% 以上的重点中学师生及家长，在全国新高考、自主选拔领域首屈一指。

如需第一时间获取相关资讯及备考指南，请关注**自主选拔在线**官方微信号：**zizzsw**。

