

秘密★启用前

超级全能生 2023 高考全国卷地区 高三年级 3 月联考

文科综合

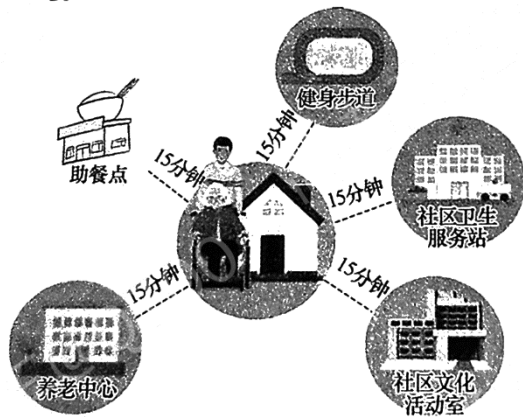
考生注意：

1. 本试卷共 4 页。满分 300 分，考试时间 150 分钟。
2. 答题前，考生务必将自己的姓名、准考证号等填写在答题卡的相应位置。
3. 全部答案在答题卡上完成，答在本试题卷上无效。
4. 回答选择题时，选出每小题答案后，用 2B 铅笔把答题卡上对应题目的答案标号涂黑。如需改动，用橡皮擦干净后，再选涂其他答案标号。
5. 考试结束后，将本试题卷和答题卡一并交回。

第 I 卷(选择题 共 140 分)

一、选择题：本题共 35 小题，每小题 4 分，共 140 分。在每小题给出的四个选项中，只有一项是符合题目要求的。

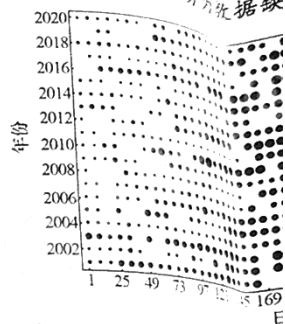
截至 2022 年底，我国 60 岁及以上老年人口达 2.80 亿，占全国人口的 19.8%。预计“十四五”时期，我国将从轻度老龄化进入中度老龄化阶段。人口老龄化进程的加速，对养老服务保障提出了更高要求。国家卫健委表示，“十四五”期间要大力加强居家和社区的养老服务的供给，建设 15 分钟养老服务圈(如下图)，健全居家、社区、机构相协调的照护服务体系。据此完成 1~3 题。



1. “十四五”时期，我国老年人口比重持续增加的主要原因是
 - A. 养老产业发展
 - B. 人口发展惯性
 - C. 人居环境改善
 - D. 人口总量减少
2. 与传统养老院相比，15 分钟养老服务圈的优势是
 - A. 满足个性需求
 - B. 便于集中管理
 - C. 适合高龄老人
 - D. 提供齐全服务
3. 建设 15 分钟养老服务圈的影响是
 - A. 延缓老龄化的进程
 - B. 增加社会的就业压力
 - C. 减轻家庭养老支出
 - D. 延长老年人平均寿命

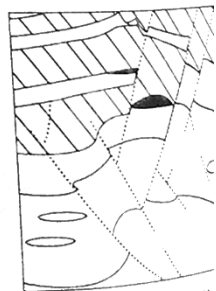


4. 与侧式站台相比，岛式站台
 - ①利用率较低
 - ②更智能化
 - A. ①②
5. 嘉兴市新型有轨电车投入使用的意义
 - A. 方便市民远距离出行
 - B. 满足游客的观光需求
 - C. 水文节律是指湖泊水位的周期性、时间序列的变化情况示意图中横轴示水域面积大小，空缺部分为数据缺
 - D. 域内旱涝灾害的加剧和咸潮



6. 图示鄱阳湖面积变化特征是
 - A. 2020 年出现“汛期反枯”
 - C. 2018 年枯水期持续时间最长
7. 2008 年鄱阳湖开始进入丰水期
 - A. 5 月 17 日
 - B. 6 月 17 日
8. 推测 2010 年鄱阳湖地区可能
 - ①夏季风势力弱
 - ③副热带高压势力弱
 - A. ①③
 - B. ①④

阿尔伯特盆地位于东非大裂谷主，具有盆地形成油气资源所需(出油气的岩石)。盆地上层形成较大)和湖泊相泥页岩(细粒)互特盆地岩层垂直剖面图。据此



9. 阿尔伯特盆地下层岩层形
 - A. 炎热干燥
 - B. 温暖湿润
10. 阿尔伯特盆地油气资源
 - A. 地壳抬升幅度大
 - C. 形成了背斜构造

【文科综合】

座位号
密封线内不要答题

试

高考全国卷地区
月联考

合

时间 150 分钟。
准考证号等填写在答题卡的相应
位置，否则答题卡上对应题目的
答案无效。
2B 铅笔把答题卡上对应题目的
答案标号涂黑，再选涂其他答案标号。
交回。

140 分)
40 分。在每小题给出的四个

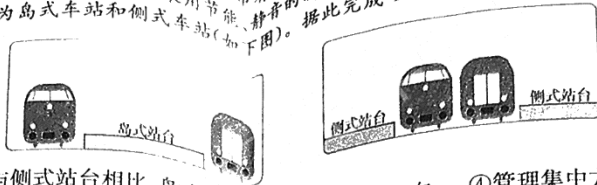
口达 2.80 亿，占全国人口的
老龄化进入中度老龄化阶段。
了更高要求。国家卫健委
养老服务的供给，建设 15
构相协调的照护服务体系。



主要原因是


业压力
均寿命

2022 年 6 月 25 日，嘉兴市有轨电车 T1 线全线开通运营，这是浙江省首条有轨电车，车辆采用节能、静音的新型超级电容电车。有轨电车车站分为岛式车站和侧式车站（如下图）。据此完成 4~5 题。



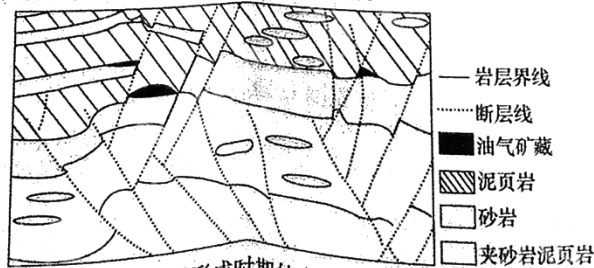
4. 与侧式站台相比，岛式站台
①利用率较低 ②更具智能化 ③易乘错方向 ④管理集中方便
A. ①② B. ②③ C. ③④ D. ①④

5. 嘉兴市新型有轨电车投入使用的意义是
A. 方便市民远距离出行 B. 完善城市功能分区
C. 满足游客的观光需求 D. 改善城市环境质量
水文节律是指湖泊水清周期性、有节律的变化，其变化直接影响着流域内旱涝灾害的加剧和减缓。下图为 2001~2020 年鄱阳湖水域面积在时间序列的变化情况示意图（图中横坐标为年内时间日序列，圆圈大小表示水域面积大小，空缺部分为数据缺失）。据此完成 6~8 题。



6. 图示鄱阳湖面积变化特征是
A. 2020 年出现“汛期反枯” B. 丰水期持续日数常年稳定
C. 2018 年枯水期持续时间长 D. 多数年份枯水期日数较短
7. 2008 年鄱阳湖开始进入丰水期的时间大约是
A. 5 月 17 日 B. 6 月 17 日 C. 7 月 7 日 D. 8 月 7 日
8. 推测 2010 年鄱阳湖地区可能
①夏季风势力弱 ②夏季风势力强
③副热带高压势力弱 ④副热带高压势力强
A. ①③ B. ①④ C. ②③ D. ②④

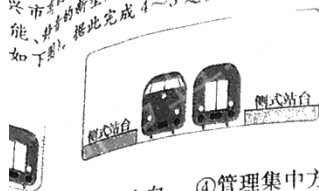
阿尔伯特盆地位于东非大裂谷，盆地下层以湖泊相夹砂岩泥页岩为主，具有盆地形成油气资源所需的最重要的烃源岩（指大量生成油气与排出油气的岩石）。盆地上层形成期间湖面升降频繁，三角洲相砂岩（颗粒较大）和湖泊相泥页岩（细粒）互层，形成良好的储盖匹配。下图为阿尔伯特盆地岩层垂直剖面图。据此完成 9~11 题。



9. 阿尔伯特盆地下层岩层形成时期的自然环境特征是
A. 炎热干燥 B. 温暖湿润 C. 水源缺乏 D. 植被稀疏
10. 阿尔伯特盆地油气资源形成的重要条件是
A. 地壳抬升幅度大 B. 裂谷内断裂发育
C. 形成了背斜构造 D. 盆地沉积层较厚

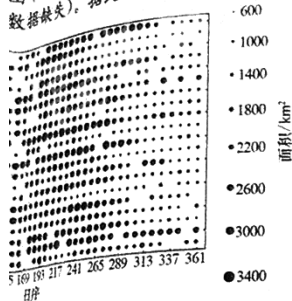
11. 阿尔伯特盆地油气（矿藏）
①泥页岩为优质烃源岩 ②砂岩层形成空隙发育
A. ①③ B. ①④
12. 2022 年 10 月 16 日，人民日报指出：一路披荆斩棘，能够取得历史性成就，领航，在于习近平新时代中国特色社会主义思想的愿，对新时代党和国家具有决定性意义。”这
①彰显道路自信，是 ②反映了时代的任务
③源于马克思主义 ④体现人民立场，是
A. ①② B.
13. 2022 年 12 月以来，大的情况下，开始市场监管总局发布《三资生产经营者划出市场监管总局此举
①规范市场竞争 ②规范行政干预
③规范企业经营 ④完善市场竞争
A. ①③ I
14. 内需是一国国民：以内需为主导是会议把着力扩大下列措施符合通
①甲市实行出口 ②乙省开展居民
③丙省建立个移 ④丁县提高农村
A. ①②
15. 陈望慧是四川省探索村里的致植。她自掏腰术。为让村民断培育壮大产
①中国共产党 ②共产党员的
③共产党员发宗旨 ④共产党员者私奉献的想
A. ①③
16. 2022 年 12 月开。10 位政台上发表意评价与导向技成果分类果功利化、
①坚持问题 ②创新履职

兴市有轨电车T1线全线开通运营,这是浙江省能、非市的新型超级电容电车。有轨电车站站如下图,据此完成4~5题。



- ③易乘错方向 ④管理集中方便
D. ①④

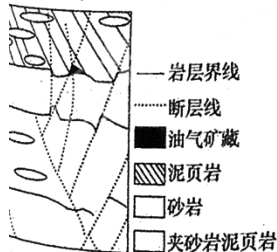
更合理的意义是
B. 完善城市功能分区
D. 改善城市环境质量
司周期性、有节律的变化,其变化直接影响着流下图为2001~2020年鄱阳湖水域面积在图中横坐标为年内时间日序列,圆圈大小表数据缺失。据此完成6~8题。



- B. 丰水期持续日数常年稳定
D. 多数年份枯水期日数较短
的时间大约是
C. 7月7日 D. 8月7日

- ②夏季风势力强
④副热带高压势力强
C. ②③ D. ②④

盆地地下层以湖泊相夹砂岩泥页岩为最重要的烃源岩(指大量生成油气与排湖湖面升降频繁,三角洲相砂岩(颗粒形成良好的储盖匹配。下图为阿尔伯



- 的自然环境特征是
C. 水源缺乏 D. 植被稀疏
主要条件是
3. 裂谷内断裂发育
1. 盆地沉积层较厚

11. 阿尔伯特盆地油气矿藏富集于砂岩层上部的原因有
①泥页岩为优质烃源岩 ②泥页岩的封闭性较好
③砂岩层形成空隙发育 ④砂岩层颗粒粗,埋藏深
A. ①③ B. ①④ C. ②③ D. ②④
12. 2022年10月16日,人民日报社论《奋力开创中国特色社会主义新局面》指出:一路披荆斩棘,一路凯歌前行。新时代党和国家事业之所以能够取得历史性成就、发生历史性变革,根本在于习近平总书记掌舵领航,在于习近平新时代中国特色社会主义思想科学指引。“党确立习近平同志党中央的核心、全党的核心地位,确立习近平新时代中国特色社会主义思想的指导地位,反映了全党全军全国各族人民共同心愿,对新时代党和国家事业发展、对推进中华民族伟大复兴历史进程具有决定性意义。”这是基于习近平新时代中国特色社会主义思想
①彰显道路自信,是实现中华民族伟大复兴中国梦的必由之路
②反映了时代的任务和要求,是党百年奋斗历史经验的结晶
③源于马克思主义理论研究,是马克思主义中国化最新成果
④体现人民立场,是历史和人民作出的正确选择
A. ①② B. ①③ C. ②④ D. ③④
13. 2022年12月以来,监管部门核查发现,部分经营者在采购成本变化不大的情况下,开始大幅提高相关药品等涉疫物资销售价格。为此,市场监管总局发布《关于涉疫物资价格和竞争秩序提醒告知书》,对涉疫物资生产经营者划出“九不得”红线,彰显了相关部门履职尽责的决心,市场监管总局此举旨在
①规范市场竞争秩序,稳定涉疫物资的市场价格
②规范行政干预行为,增强政府的宏观调控精准度
③规范企业经营行为,助力生产经营者提高经济效益
④完善市场竞争规则,保护群众身体健康和生命安全
A. ①③ B. ①④ C. ②③ D. ②④
14. 内需是一国国民经济总需求的主体,是大国经济最根本的发展动力,以内需为主导是大国经济的显著特征。2022年12月的中央经济工作会议把着力扩大国内需求放在了2023年的5项重点工作任务之首。下列措施符合通过再分配来增强内需发展后劲的是
①甲市实行出口退税全程网上办,降低企业纳税成本
②乙省开展居民基本养老保险专项监督,确保应保尽保
③丙省建立个税扣除的动态调节机制,减轻工薪阶层税负
④丁县提高农村公益性岗位工资的财政补贴,助推乡村振兴
A. ①② B. ①③ C. ②④ D. ③④
15. 陈望慧是四川省小金县达维镇冒水村的党支部书记,这些年她一直在探索村里的致富路。陈望慧经过考察学习,决定在当地发展玫瑰种植。她自掏腰包买来种苗发给村民,并请来技术人员手把手传授技术。为让村民持续增收,她又多方筹资建厂,开展玫瑰产品深加工,不断培育壮大产业链。在陈望慧身上,我们看到了
①中国共产党除了最广大人民的根本利益,没有任何自己特殊的利益
②共产党员的先锋模范作用,在不同的历史时期有着不同的内容
③共产党员发挥先锋模范作用,不断践行全心全意为人民服务的根本宗旨
④共产党员都是贯彻执行党的路线、方针、政策的模范,克己奉公、无私奉献的模范
A. ①③ B. ①④ C. ②③ D. ②④
16. 2022年12月9日,十三届全国政协第68次双周协商座谈会在北京召开。10位政协委员在会上发言,近50位委员在全国政协委员履职平台上发表意见。他们充分肯定了我国现行科技评价体系较好发挥了评价与导向作用,促进了科技进步和人才培养,同时对当前存在的科技成果分类评价体系不健全、评价标准单一、行政化色彩较浓、评价结果功利化、人情关系干扰多等问题积极建言献策。从中可以看出
①坚持问题导向,履行参政议政职能
②创新履职方式,增强民主监督质效



- ③参与社会管理,有效处置社会风险
④发扬协商民主,助力改善国家治理
A. ①③ B. ①④ C. ②③ D. ②④
17. 2022年12月22日,最高人民法院发布《关于加强中医药知识产权司法保护的意見》,《意見》明确,要遵循中医药发展规律,准确把握中医药创新特点,完善中医药领域专利司法保护规则。坚持规范和发展并重,加强对中医药领域垄断行为的司法规制,依法制裁中医药领域商标恶意注册行为,坚决惩治恶意诉讼。最高人民法院的这一做法
- ①能创新行政执法措施,提升中医药知识产权工作的实效性
②有利于维护公民合法权益,推进司法公正和提升司法质效
③旨在行使国家最高立法权,为自身司法实践提供明确指引
④有利于贯彻依法治国,发挥法治的规范、引领和保障作用
A. ①② B. ①③ C. ②④ D. ③④
18. 第五次全国经济普查2023年即将展开。通过这次普查,可以摸清全国第二、三产业的家底,为加强改善宏观调控,加快经济结构战略性调整、科学制定中长期发展规划,提供全面系统、真实可靠的统计信息支持。材料表明
- ①物质决定于意识,经济政策的调整源于国情的变化
②产业状况的客观性体现了人类社会的物质性
③制定国家经济政策要善于运用综合思维方式
④自在事物的种种联系在人类社会产生之前就存在了
A. ①③ B. ①④ C. ②③ D. ②④
19. 2023年1月5日,国务院国资委在京召开中央企业负责人会议。会议指出,2023年突出重点攻坚克难,乘势而上组织开展新一轮国企改革深化提升行动,积极稳妥分层分类深化混合所有制改革。我国深化混合所有制改革表明
- ①上层建筑一定要适应经济基础的状况
②生产关系一定要适应生产力发展的状况
③改革是社会主义制度的自我完善和发展
④社会意识对社会存在具有积极的推动作用
A. ①③ B. ①④ C. ②③ D. ②④
20. “茶起源于中国,盛行于世界。从神农以茶解毒的文献记载,到‘柴米油盐酱醋茶’的举国之饮,从‘丝绸之路’中的东方名片,到成功推动联合国设立‘国际茶日’……‘中国茶’三个字背后,蕴藏着无比丰富的文化内涵。”2022年11月29日,“中国传统制茶技艺及其相关习俗”申遗成功,载入世界非物质文化遗产名录。“中国茶”申遗成功能够
- ①明确传统文化是民族之基,回归传统文化是时代之需
②通过交流互鉴促进国际社会认同中国的茶文化
③向世界展示中国茶文化的独特魅力和深厚底蕴
④助力中国茶文化的传承与茶产业的创新性发展
A. ①② B. ①③ C. ②④ D. ③④
21. 习近平在会见越共中央总书记阮富仲并授予其中华人民共和国“友谊勋章”时指出,中越是山水相连、唇齿相依的好邻居、好朋友,是志同道合、命运与共的好同志、好伙伴,是致力于人类和平与进步事业的命运共同体。中越两国发展友好关系
- ①是中国构建以合作共赢为核心的新型国际关系的生动实践
②表明中国坚持走和平发展道路,愿同邻国进行务实合作
③坚持了共商共建共享原则,符合世界各国的根本利益追求
④说明国家性质和国家利益是影响国际关系的决定性因素
A. ①② B. ①③ C. ②④ D. ③④
22. 甲某前不久订购了一套全屋定制家具,由于没有经验,在交完定金量完尺寸,出了一张设计图后,就被要求付了全款。本以为会按图出货,但安装到一半发现和当初确认的整体结构不符。设计师承认在客户确认方案后又做了整改,但没有再次给客户确认和签字,合同也没签。甲某想全额退货退款,却遭门店拒绝。对此案例理解正确的是
- ①甲某有权要求门店退款、修理、重作、更换或退货
②如果甲某选择接受家具,则不能主张减少产品价款
③甲某与店铺没有签订书面合同,他们之间不成立承揽合同关系

- ④门店未按照约定单方改变设计
A. ①② B. ①④
23. 某校招生简章上写着“除非参加述观点认识正确的是
- ①此观点为必要条件假言推理
②此观点为充分条件假言推理
③无法报考本校,则一定是没有
④没有参加统一招考,则一定不
A. ①② B. ①④
24. 东汉末年,曹操将河东匈奴单于族为帅,另选汉人为司马对他
- A. 体现了反侵略的色彩
C. 反映了以夷制夷的策略
25. 魏晋时期按官位高低形成的门第区别的“膏粱之区”,出现了“膏粱之区别的门阀制度,出现了“膏粱之区”不因官位有无、高低而发生变
- A. 门阀发展固化了社会阶层
C. 血缘成为选官的主要依据
26. 公元1100年,外戚向氏兄弟京等“奔走其门,务相交结”,道:“谄事外戚,不畏上天,一
- A. 有助于政府公信力提高
C. 推动了监察制度的完善
27. 明朝从嘉靖即位起,内阁首辅“大礼议”争论中,首辅杨廷执奏几三十疏”,直至被迫辞
- A. 源于皇权政治现实需要
C. 推动了相权进一步独专
28. 下表是洋务运动早期和中

	体制性质	数目
早期	官办	10
中期	官办	21
	官督商办	29
	官商合办	4

- A. 清朝统治基础被严重削
C. 洋务未能赢得民间的支持
29. 某学者认为:这个长久以件,之所以发生在文学、传统中的一个特殊理念:文化成”,因此政治事务身。材料旨在说明新文
- A. 部分思想内涵源自传
C. 注重营造爱国进步社
30. 20世纪20年代后期和:义教条化、把共产国际法导致的后果是
- A. 人民军队遭受重大损
C. 国共第二次合作破裂
31. 1961年初,邓小平在会:际情况运用马克思列宁实际情况结合起来,自
- A. 纠正毛泽东晚年的错
C. 突破苏联模式的框

②④
虽中医药知识产权司
规律,准确把握中医
坚持规范和发展并
;制裁中医药领域商
的实效性
司法质效
明确指引
障作用
④
普查,可以摸清全
经济结构战略性调
「靠」的统计信息支

人会议。会议
「一轮国企改革
。我国深化混

「载,到「柴米
」成功推动联
;比丰富的文
长习俗」申遗
能够

和国「友谊
是志同道合
业的命运

「定定量
图出货,
,在客户
也没签。

系

- ④门店未按照约定单方改变设计图...已经违约,可能被起诉
D. ③④
32. 希腊崇尚竞技,视运动员为对城邦有功...
A. 加强民众对民主政治认同感 B. 推动...
C. 奠定了雅典民主政治的基础 D. 有利...
33. 16世纪和17世纪上半叶,英国、荷兰的...
A. 海上探险活动毫无成果 B. 力...
C. 对世界的认知相对落后 D. 商...
34. 1928年,美、法、德、英等15国在巴黎...
A. 有效化解了国际间的争端和矛盾
B. 区分了近代战争存在的不同性质
C. 明确了各国在战争中应负的责任
D. 提出了和平解决国际争端的设想
35. 20世纪70年代末以来,在欧洲一体...
A. 背离了成员国对主权利益的考...
B. 阻碍欧洲一体化进程的顺利发...
C. 体现一体化进程中政策的灵活...
D. 促进国家与超国家主义动态平...
23. 某校招生简章上写着“除非参加统...
A. ①② B. ①④ C. ②③ D. ③④
24. 东汉末年,曹操将河东匈奴单于...
A. 体现了反侵略的色彩 B. 加强了...
C. 反映了以夷制夷的策略 D. 减少...
25. 魏晋时期按官位高低形成的...
A. 门阀发展固化了社会阶层 B. 官...
C. 血缘成为选官的主要依据 D. 官...
26. 公元1100年,外戚向氏兄弟...
A. 有助于政府公信力提高 B. 打击...
C. 推动了监察制度的完善 D. 杜绝...
27. 明朝从嘉靖即位起,内阁首辅在...
A. 源于皇权政治现实需要 B. 导致...
C. 推动了相权进一步独专 D. 削弱...
28. 下表是洋务运动早期和中期创办的...
可以得出

	体制性质	数目	分布部门
早期	官办	10	军用工业 10
	官督商办	21	军用工业 10;采矿业 9;纺织业 2
中期	官督商办	29	采矿业 23;纺织业 3;交运业 2;电报 1
	官商合办	4	纺织业 2;其他 2

- A. 清朝统治基础被严重削弱 B. 洋务派志在发展新型经济
C. 洋务未能赢得民间的支持 D. 体制创新推动了洋务事业
29. 某学者认为:这个长久以来被视为中国近现代历史分水岭的重大事件,之所以发生在文学、文化的领域而非别处,恐怕正是由于儒家政治传统中的一个特殊理念:施政的目的就是让人接受文化濡染,所谓“人文化成”,因此政治事务中不仅应有文化和教育,而且它就是文教本身。材料旨在说明新文化运动
A. 部分思想内涵源自传统文化 B. 主张改造中国的传统文化
C. 注重营造爱国进步社会氛围 D. 动摇了封建君主专制统治
30. 20世纪20年代后期和30年代前期,在中国共产党内盛行把马克思主义教条化、把共产国际决议和俄国革命经验神圣化的错误倾向。由此导致的后果是
A. 人民军队遭受重大损失 B. 国民革命运动失败
C. 国共第二次合作破裂 D. “右”倾错误泛滥
31. 1961年初,邓小平在会见南非共产党代表团时指出:“要根据自己的实际情况运用马克思列宁主义,把马克思列宁主义的普遍真理同自己的实际情况结合起来,自己提出政策、方针和路线。”其意在
A. 纠正毛泽东晚年的错误 B. 阐述理论继承与创新的关系
C. 突破苏联模式的框架 D. 坚定改革开放信念永不动摇

【文科综合试题卷 XL】

第II卷(非选择

二、非选择题:共160分。

36. 阅读图文材料,完成下列要求。(拉萨河发源于念青唐古拉山江,流域降雨集中在夏季。拉萨:谷土壤分布呈现规律性,但南北:游河谷海拔为3580~4000米,产区之一。西藏在拉萨河修建拦的沙漠化现象。从2013年至20化河谷及两岸山体项目,总投资范围示意图。



- (1) 简述拉萨河流域天然植被
(2) 指出拉萨河谷两岸土壤类 (4分)
(3) 分析拉萨河下游河谷土层
(4) 解释拦水坝能缓解拉萨河
(5) 说明在拉萨河谷实施造林 (6分)

能被起诉

号本校”。对上

部,择立其贵

控制
威胁
血统高贵与否
]”等长期内一

下
治
学士承旨蔡
璠上疏指责
'。该举措

嘉靖初年的
御批者四,
世宗不理政
奏,百官请

对比。据此

为重大事
需家政治
所谓“人
文教本

马克思主
义。由此

自己的实
自己的

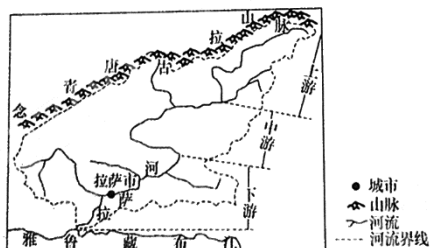
32. 希腊崇尚竞技,视运动员为对城邦有功勋的人。根据普鲁塔克记载,梭伦规定在地峡竞技场获胜可以得到 100 德拉克马的奖金,在奥林匹克竞技场获胜可以得到 500 德拉克马的奖金。他还将获得前排观剧、终身公餐的资格与纪念奖品。这些做法
- A. 加强民众对民主政治认同感 B. 推动了津贴制度的形成
C. 奠定了雅典民主政治的基础 D. 有利于人文思想的传播
33. 16 世纪和 17 世纪上半叶,英国、荷兰的探险家在美洲和欧洲北部海域进行了一系列探险,寻找到达亚洲的西北通道和东北通道,但是均未能达到目标。这反映出英荷两国
- A. 海上探险活动毫无成果 B. 力图打破贸易垄断
C. 对世界的认知相对落后 D. 商业冲突最为激烈
34. 1928 年,美、法、德、英等 15 国在巴黎签订的《非战公约》规定:缔约各国谴责用战争来解决国际争端,并在他们的互相关系上,废弃以战争作为执行国家政策的工具;各方之间可能发生的一切争端或冲突,不论其性质和起因如何,都只能用和平方式加以处理。据此可知,该规定
- A. 有效化解了国际间的争端和矛盾
B. 区分了近代战争存在的不同性质
C. 明确了各国在战争中应负的责任
D. 提出了和平解决国际争端的设想
35. 20 世纪 70 年代末以来,在欧洲一体化进程中,不是所有成员国都必须加入一体化的所有方面。如《马斯特里赫特条约》将共同外交与安全政策和司法与内政领域的合作游离于欧共体的政策制定机制之外,由各国政府商定。这样做
- A. 背离了成员国对主权利益的考虑
B. 阻碍欧洲一体化进程的顺利发展
C. 体现一体化进程中政策的灵活性
D. 促进国家与超国家主义动态平衡

第 II 卷(非选择题 共 160 分)

二、非选择题:共 160 分。

36. 阅读图文材料,完成下列要求。(28 分)

拉萨河发源于念青唐古拉山脉南麓,在拉萨市南部汇入雅鲁藏布江,流域降雨集中在夏季。拉萨河流域天然植被多数为灌丛草甸,河谷土壤分布呈现规律性,但南北两岸土壤分布高程范围有所不同。下游河谷海拔为 3 580~4 000 米,土层较厚,土壤肥沃,是西藏主要粮食产区之一。西藏在拉萨河修建拦水坝,缓解部分流域因变成沙滩出现的沙漠化现象。从 2013 年至 2022 年,拉萨市在拉萨河谷实施造林绿化河谷及两岸山体项目,总投资 100 亿元。下图为拉萨河水系及流域范围示意图。



- (1) 简述拉萨河流域天然植被多数为灌丛草甸的自然条件。(6 分)
- (2) 指出拉萨河谷两岸土壤类型分布高程范围有所不同的影响因素。(4 分)
- (3) 分析拉萨河下游河谷土层深厚、土壤肥沃的原因。(6 分)
- (4) 解释拦水坝能缓解拉萨河部分流域沙漠化现象的原理。(6 分)
- (5) 说明在拉萨河谷实施造林绿化河谷及两岸山体项目的生态环境意义。(6 分)

37. 阅读

支持
跑具
年

座位号

考号

姓名

班级

学校

内 线 封 密

题

答

不

内

线

封

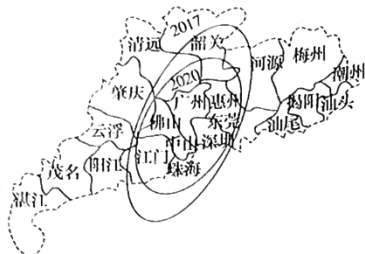
密

座位号
考号
姓名
班级
学校

密封线内不要答题

37. 阅读图文材料,完成下列要求。(28分)

瞪羚企业是指创业后跨过死亡谷,以科技创新或商业模式创新为支撑,进入高成长期的企业,它们与瞪羚具有共同的特征:个头不大,跑得快,跳得高。标准差椭圆是描述地理事物空间分布特征的重要工具,能反映出数据分布的方向和范围。下图为广东省2017年和2020年瞪羚企业分布的标准差椭圆示意图。



- (1) 与传统企业相比,指出瞪羚企业的主要特征。(6分)
- (2) 说明广东省推动瞪羚企业发展的优势。(8分)
- (3) 描述2017年和2020年广东省瞪羚企业分布变化情况,并分析原因。(6分)
- (4) 为促使更多走下坡路的企业成为瞪羚企业,说明广东省可采取的合理措施。(8分)

38. 阅读材料,完成下列要求。(16分)

材料一 近日,2023年全国能源工作会议在北京召开,会议以习近平新时代中国特色社会主义思想为指导,全面贯彻党的二十大精神,认真落实中央经济工作会议部署和全国发展改革工作会议要求,总结2022年重点工作和新时代十年发展成就,谋划当前和今后一段时期能源发展思路,部署2023年重点任务。会议强调,要全力提升能源生产供应保障能力,发挥煤炭兜底保障作用,夯实电力供应保障基础,推进跨省区输电通道规划建设,推动油气增产增供,加快油气管网和储备能力建设,加强能源关键信息基础设施安全保护和电网运行安全风险管控;要加强风电太阳能发电建设,统筹水电开发和生态保护,积极安全有序发展核电,加强民生用能工程建设;要着力加快科技自立自强,加强补短板锻长板,加强试点示范应用,推进重大创新平台建设,加强标准体系建设;要着力加强能源国际合作,构建更高质量的能源国际合作体系。

材料二 习近平总书记在中央政治局集体学习时强调,新形势下,我国面临复杂多变的发展和外部环境,我们必须增强风险意识,提高防范风险能力,“于安思危,于治忧乱”。围绕这一主题,某校思想政治兴趣小组的同学开展项目化学习,搜集到以下资料:

——由于人口增长、消费升级和进一步提升农业综合生产能力的资源环境约束趋紧,我国粮食和主要农产品的供求长期处于紧平衡状态。我国要保证农产品的供求平衡,至少需要35亿亩农作物种植面积,而目前国内能提供的农作物种植面积只有25亿亩;小麦产需平衡有余,但专用优质小麦供给不足,每年均需进口几百万吨;玉米产需长期趋紧,要保持90%以上的自给率需要付出艰苦努力;大豆目前对外依存度超过80%,产需缺口有进一步扩大趋势。

——由于自身能源生产无法满足能源需求,我国每年需要从国际市场购买大量化石能源。据国家统计局数据,2021年,我国原油对外

吨。三大主力化... 分之二来自南... 古和俄罗斯。

当前世界... 压力不断累积... 国际能源市场... (1)结合材料一... (2)请结合材料... 于治忧乱”为... 要求:①围绕主题... 使用规范;④总... 字数在20

39. 阅读材料,完成下列要求
2022年11月5日... (COP14)在中国武汉... 显著。为了让湿地成为... 的要求,积极探索走出... 来,党中央高度重视... 届全国人大常委会第三... 中国保护优先,严格管... 基本原则。这是我国... 护进入法治新时代;国... 职责,推进建立部门... 法打击各类破坏湿地... 人与自然和谐共生的... 地,满足了世界五分... 求,为全球湿地保护... 结合材料,运用... 理道路的理解。

商业模式创新为特征：个头不大，布特征的重要工；2017年和2020

依存度为72%，天然气对外依存度约为42%，而煤炭进口量为3.23亿吨。三大主力化石能源中，煤炭进口主要来自南北两个区域，其中三分之二来自南半球，天然气主要来自北部的蒙古和俄罗斯。

当前世界百年变局与世纪疫情交织叠加，全球经济总体下行压力不断累积，经济疲弱乏力。同时国际力量对比深刻调整，国际政治、经济局势日趋复杂，大国博弈、地缘冲突、区域争端频发，引发国际能源市场动荡不安，对我国经济和能源安全问题带来巨大挑战。

(1)结合材料一，运用《经济与社会》的知识，说明2023年全国能源工作会议相关部署所彰显的新发展理念。(10分)

(2)请结合材料二，运用《当代国际政治与经济》的知识，以“于安思危，于治忧乱”为主题，撰写一篇短评。(6分)

要求：①围绕主题，观点明确；②论证充分，逻辑清晰；③学科术语使用规范；④总字数在200字左右

40. 阅读材料，完成下列要求。(12分)
继长江保护法实施后，我国首部流域生态保护专门法——《黄河保护法》自2023年10月1日起施行，黄河流域生态保护全面加强。

材料一 黄河保护法坚持“牛鼻子”，为推进黄河流域对黄河流域水资源短缺问题、排和城镇节水降损措施，才域高质量发展不充分问题造业高质量发展和资源型碳能源，推动产业结构、自

材料二 法律明确响力。组织指导黄河文重要文化遗产进行记录河文化资源整合利用；革命纪念意义的文物和基地，深入挖掘黄河纪念馆、纪念馆、展览馆等；

(1)结合材料一，运用生态保护和高质量发展(2)黄河文化体系建设“文化传承与文化

兄，并分析原因。
东省可采取的

39. 阅读材料，完成下列要求。(12分)

2022年11月5日至13日，《湿地公约》第十四届缔约方大会(COP14)在中国武汉举行，会议主题为“珍爱湿地 人与自然和谐共生”。中国自1992年加入《湿地公约》后大力推进湿地保护修复，成效显著。为了让湿地成为造福人民的幸福家园，中国顺应生态文明建设的要求，积极探索走出了一条中国特色的湿地治理道路。十八大以来，党中央高度重视、科学部署，把湿地保护纳入国家战略规划；十三届全国人大常委会第三十二次会议表决通过的《湿地保护法》，确立了我国保护优先、严格管理、系统治理、科学修复、合理利用的湿地保护基本原则。这是我国首次针对湿地保护进行立法，标志着中国湿地保护进入法治新时代；国家林业和草原局牵头担负起湿地生态保护修复职责，推进建立部门协作机制、湿地分级管理体系，加大湿地监管，依法打击各类破坏湿地资源的行为。十年来，中国湿地保护成效显著，人与自然和谐共生的美丽中国正在成为现实。中国以全球4%的湿地，满足了世界五分之一人口对湿地生产、生活、生态和文化等多种需求，为全球湿地保护和合理利用作出了重要贡献。

结合材料，运用《政治与法治》的知识，阐述你对中国特色湿地治理道路的理解。

41. 阅读材料，完成下列要求。

2022年2月，某有限公司做消防池某某仅支付部分工某某等人找到劳动和社会保障局讨工资欠条，并承诺未果，遂诉至明溪

立案庭速裁；多元化化解等方式。双方当事人换位。由被告邱某某于结果均表示满意的合法权益。

(1)结合材料，运用成调解协议(2)结合材料，运用否可以就欠

召开，会议以党的二十大精神为指引，会议要求，前和今后一段要全力提升能力供应保障基加快油气管网和电网运行安和生态保护，力加快科技自大创新平台建更高质量的能

强调，新形势风险意识，提某校思想政

生产能力的处于紧平衡状作物种植面积小麦产需平衡玉米产需长豆类目前对外

而煤炭进口量为3.23亿吨，南北两个区域，其中三四分之一来自北部的蒙

加，全球经济总体下行力量对比深刻调整，国际、区域争端频发，引发问题带来巨大挑战。

明2023年全国能源工作，以“于安思危”

逻辑清晰：③学术术语

第十四届缔约方大会，人与自然和谐共生湿地保护修复，成效显著，顺应生态文明建设治理道路。十八大以

国家战略规划；十三湿地保护法》，确立了合理利用的湿地保护去，标志着中国湿地保护生态保护修复系，加大湿地监管，依湿地保护成效显著，中国以全球4%的湿生态和文化等多种需

你对中国特色湿地治

40. 阅读材料，完成下列要求。(12分)

继长江保护法实施后，我国第二部流域法律

三届全国人大常委会第三十七次会议表决通过，将从2023年1月1日

起施行，黄河流域生态保护高质量发展将有法可依。

材料一 黄河保护法坚持问题导向，紧紧抓住水沙关系调节这个

“牛鼻子”，为推进黄河流域生态保护和高质量发展提供有力保障。针对

对黄河流域水资源短缺问题，明确国家在农业节水增效、工业节水减排

和城镇节水降损措施，有效实现水资源节约集约利用；针对黄河流域

高质量发展不充分问题，规定流域县级以上地方人民政府应推动制

造业高质量发展和资源型产业转型，发展特色优势现代产业和清洁低

碳能源，推动产业结构、能源结构等优化调整。

材料二 法律明确，要推动黄河文化体系建设，提高黄河文化影

响力。组织指导黄河文化资源调查和认定，对文物古迹、古籍文献等

重要文化遗产进行记录、建档，建立黄河文化资源基础数据库，推动黄

河文化资源整合利用；加强黄河流域历史文化遗产的保护，加强具有

革命纪念意义的文物和遗迹保护，建设革命传统教育、爱国主义教育

基地，深入挖掘黄河红色文化；建设黄河国家文化公园，统筹利用博物

馆、纪念馆、展览馆等资源，综合运用调解手段，系统展示黄河文化。

41. 阅读材料，完成下列要求。(12分)

2022年2月，原告黄某某等人受雇于被告邱某某，在福建某材料

有限公司做消防池，双方约定每日工资200元。3月工程完工，被告邱

某某仅支付部分工资后，剩余工资以资金困难为由均未支付，原告黄

某某等人找到劳动与社会保障局协调解决。2022年9月13日，在劳

动与社会保障局协调下，被告邱某某向原告黄某某等8名农民工出具

工资欠条，并承诺2个月内付清工资。后黄某某等8人多次索要工资

未果，遂诉至明溪法院。

立案庭速裁法官拿到案件后，迅速了解案情，充分运用诉前联动、

多元化解等方式，注重调动各方力量，组织双方当事人进行调解，建议

双方当事人换位思考、互相体谅，最终促成双方当事人达成调解协议：

由被告邱某某于2022年12月20日付清拖欠工资，双方当事人对调解

结果均表示满意，该批案件仅用三天时间便圆满解决，维护了农民工

的合法权益。

(1)结合材料，运用《逻辑与思维》的相关知识，分析立案庭速裁法官促

成调解协议时运用的思维模式。(6分)

(2)结合材料，运用《法律与生活》的相关知识，分析案件中黄某等人是

否可以就欠薪问题直接向法院起诉，并说明理由。(6分)

超级全能生 2023 高考全国卷地区高三年级 3 月联考·文科综合 参考答案、提示及评分细则

地理部分

1. B 根据所学知识可知,目前我国出生率下降,20 世纪六七十年代生育高峰出生的劳动力人口即将转变为老龄人口,受人口惯性的影响,我国老年人口比重持续增加;老年人口比重增加促使养老产业的发展,同时,为了实现老年人的安居乐业,推动了人居环境改善工作的进行;人口总量减少,也可能是老年人口减少。
2. A 由材料可知,15 分钟养老服务圈是指以家庭为核心,以社区为依托,并引入养老机构专业化服务方式的居家养老服务体系。二者相比,养老院更便于集中管理,更适合高龄老人;打造集食、住、娱、医、养、护为一体的个性化“15 分钟养老服务圈”,以家庭为核心,更能满足老年人的多层次养老服务需求;二者提供的服务都齐全。
3. D 根据材料可知,建立 15 分钟养老服务圈,保留了家庭养老的优点,拓展了日常生活照料、医疗保健、文化娱乐等方面的养老服务供给,提高了养老服务质量,老年人可以在熟悉的环境中养老,更有利于其身心健康,延长老年人平均寿命;15 分钟养老圈建设的主要目的在于改善老年人的生活品质,对老龄化的速度无明显影响;养老相关产业的发展提供了大量就业岗位,可以减轻就业压力;养老服务圈提供了多项养老服务,会增加家庭养老的支出。
4. C 同等条件下,岛式站台可减少站台工作人员,管理上比较集中方便,乘客中途折返比较方便,站台利用率高;在上下行列车不同时到达时,可互相调节,分散人流;列车同时到站时,容易交错混乱甚至乘错方向;两类站台智能化差异小。
5. D 根据材料“车辆采用节能、静音的新型超级电容电车”可知,新型有轨电车投入使用能够降低嘉兴市的大气、噪音等污染,改善城市环境质量;新型有轨电车属于城市轨道交通,对远距离出行影响小;没有城市功能分区的变化;材料中没有体现新型有轨电车连接景区,不是满足游客观光需求的。
6. C 由图可知,2018 年鄱阳湖整体水域面积维持在较低水平,枯水期持续时间长,为枯水年;鄱阳湖地区为亚热带季风气候,夏季降水较多,进入丰水期,图中 2020 年 7—9 月鄱阳湖水域面积较大,为丰水期,并未出现“汛期反枯”现象。鄱阳湖丰水期持续日数每年不同,变化较大;多数年份湖泊丰水期集中在夏季,枯水期集中在冬春季,枯水期日数较长。
7. B 读图可知,2008 年开始进入枯水期的时间大约是第 169 天,1、3、5 月份为大月 31 天,2008 年闰年 2 月份为 29 天,第 169 天大约是 6 月 17 日。

8. A 读图可知,2010年丰水期持续时间长,为丰水年,说明南方地区降水多,可能是副热带高压势力弱,夏季风势力弱,使得锋面雨带在南方停留时间长。
9. B 根据材料“盆地下层以湖泊相夹砂岩泥页岩为主”可知,下层岩层形成时期湖泊水源充足,温暖湿润,植被茂盛,湖泊内动植物、淡水藻类等大量繁殖,使得湖泊形成大量沉积物。
10. D 阿尔伯特盆地位于东非大裂谷,水系呈向心状,盆地接收的沉积物多,形成较厚的沉积层,发育形成烃源岩,为油气资源的形成提供重要条件;大裂谷地壳运动剧烈,地壳沉降幅度较大;裂谷内岩层断裂发育,为油气资源的运移提供了路径;地壳运动导致了岩层发生弯曲,形成的背斜构造有利于油气资源的保存,为油气资源的储存提供地质条件。
11. C 读图可知,该地垂直方向上有泥页岩、砂岩和夹砂岩泥页岩,其中油气矿藏主要储存于砂岩层中,砂岩层位于(夹砂岩泥页岩)烃源岩上方,油气形成后沿着断层运移至砂岩层;砂岩层为三角洲相沉积,颗粒较大,埋藏较浅,压实较弱,形成孔隙发育的油气矿藏储层;受上部封闭性好的(细粒湖泊相)泥页岩阻挡,难以再向地表运动,最终在砂岩层上部富集。
36. (1)流域海拔较高,为高原高寒气候,气温低;土壤质地偏沙性,厚薄不一,养分较贫瘠;冬春季干燥,多大风,不利于森林植被生长。(每点2分,共6分)
- (2)拉萨河谷南北两岸的降水量和蒸发量略有差异;光照条件差异;植被覆盖状况不同。(每点2分,任答2点即可,共4分)
- (3)拉萨河携带大量泥沙在河流下游沉积,长期沉积使其土层深厚;(3分)携带来的泥沙富含多种矿物元素,土壤有机质含量提高,使得土壤比较肥沃。(3分)
- (4)拦水坝建成后,丰水期蓄水、枯水期放水,减小流量季节变化;夏季削弱洪峰侵蚀力度,减少沙滩产生;冬季防止河床裸露后遭风力侵蚀,从而缓解沙漠化现象。(6分)
37. (1)瞪羚企业属于创业公司转型,企业规模较小,以中小企业为主;以科技创新为支撑,成长速度快;以高新技术产业为主,能源消耗低,对环境的影响小。(每点2分,共6分)
- (2)地理位置优越,交通便利;靠近港澳台地区,靠近海外市场;本区有众多高等院校,科技力量雄厚,高素质人力资源丰富;是我国著名的侨乡,吸引了大量的外资和技术;是我国对外开放最早的地区。(每点2分,任答3点即可,共6分,其他答案言之有理也可得分)
- (3)瞪羚企业空间集聚程度提高。(2分)原因:标准差椭圆缩小,企业的集聚效应增强,有利于中小企业规避市场风险;共享基础设施和专业化劳动力市场等,增加企业利润;促进信息交流,带动产业创新发展。(每点2分,任答2点即可,共4分,其他答案言之有理也可得分)
- (4)为企业转型提供融资渠道和科学技术指导;规划不同类型的产业园区,促进同类产业集聚,获取规模效应,增强市场竞争力;提供优惠政策,降低内部交易成本,提高企业积极性;促进企业和市场的对接,打通贸易渠道。(每点2分,任答3点即可,共6分,其他答案言之有理也可得分)

43. 葡萄酒酒庄与该地区知名景点开展紧密合作,进行联合品牌宣传、共同设计葡萄酒旅游路线和活动,增强新兴葡萄酒旅游目的地的形象;酒庄应大力提升葡萄酒品质,提升竞争优势;酒庄加强接待服务能力,合理精细地规划旅游空间;改善新兴葡萄酒旅游目的地的旅游基础设施;当地政府制定促进和发展葡萄酒旅游的战略计划。(每点 2 分,共 10 分,其他答案言之有理也可得分)
44. (1)类型:建设用地。(2分)污染源:工业生产活动和城市生活活动排放污水。(2分)
(2)多山地、丘陵,灌草地面积大;灌草地主要分布在坡地上,物质迁移速度更快;灌草地坡度大,土层薄,水土流失较严重,汇入河流泥沙多。(每点 2 分,共 6 分)

政治部分

12. C 若其他条件不变,能引起快递市场需求从 D_1 移动到 D_2 ,这意味着商品的价格不变,需求量增加。国家出台对快递行业减税降费政策,有利于促进快递行业供给发展,但不是需求增加,①排除。疫情导致更多消费者选择线上购物,需求量增加,需求曲线向右移动,②符合题意。助力乡村振兴,发放家电下乡购物券,同样情况下花费成本降低,需求增加,③符合题意。价值决定价格,废纸价格上涨,快递纸箱的价格升高,需求量减少,④不合题意。
13. D 出口退税全程网上办对办理退税方便快捷,但并不会降低企业的税收负担和增强内需,①不符合题意。基本养老保险为居民养老提供保障,但并不会增强内需发展后劲,②不符合题意。通过个税扣除的动态调节机制能够减轻工薪阶层税负,工薪阶层消费潜力大,税负降低有利于促进消费,增强内需发展后劲,③正确。通过提高公益性岗位工资的财政补贴直接增加收入,从而能够增强内需发展后劲,④正确。
14. B 针对部分经营者在采购成本变化不大的情况下,开始大幅提高相关药品等涉疫物资销售价格,市场监管总局发布《关于涉疫物资价格和竞争秩序提醒告诫书》,对涉疫物资生产经营者划出“九不得”红线,彰显了相关部门履职尽责的决心。此举旨在完善市场竞争规则,维护良好的市场秩序,保障人民群众利益,①④符合题意。题目讲的政府通过行政手段扰乱市场秩序的行为加以规范,没有涉及到不当行政干预行为,②排除。“助力生产经营者提高经济效益”不是此举的目的,③排除。
15. D “全面放开市场准入”不符合实际,①不选;新发展格局以国内大循环为主,②说法错误;推动制度型开放有利于优化外资结构,转变对外发展方式,发展现代服务业,③④入选。
16. D 公民没有决策权,只能参与决策,我国公民最基本的民主权利是选举和被选举权,材料没有重点涉及,①②不选;③④入选。
17. B 题中对当前存在的科技成果分类评价体系不健全、评价标准单一、行政化色彩较浓、评价结果功利化、人情关系干扰多等问题积极建言献策,这表明人民政协坚持问题导向,履行参政议政职能,①正确。十三届全国政协第 68 次双周协商座谈会在北京召开,说明此方式

- 早已运用,因此并没有创新履职方式,②错误。人民政协是社会主义协商民主的重要渠道和专门协商机构,围绕团结和民主两大主题,履行政治协商、民主监督和参政议政的职能,不参与处置社会风险,③错误。10位政协委员在会上发言,近50位委员在全国政协委员履职平台上发表意见。这表明人民政协发扬协商民主,助力改善国家治理,④正确。
18. C 中越两国发展友好关系是中国构建以合作共赢为核心的新型国际关系的生动实践,表明中国坚持走和平发展道路,愿同邻国进行务实合作,②④正确。国家利益是影响国际关系的决定性因素,这里不包括国家性质,①错误。国家利益归根结底是该国统治阶级意志和利益的体现,世界各国的根本利益是有区别的,“符合世界各国的根本利益追求”说法错误,③排除。
19. D 传统文化是维系民族生存和发展的精神纽带,民族文化是民族生存和发展的精神根基,而且传统文化中有精华也有糟粕,“回归传统文化”说法错误,①不选。文化交流中的正确态度是,认同本民族文化,尊重其他民族文化,②错误。“中国茶”申遗成功可以向世界展示中国茶文化的独特魅力和深厚底蕴,助力中国茶文化的传承与茶产业的创新性发展,③④正确。
20. D 《厉害了,我们的新时代》将党的理论、路线、方针、政策融入到通俗易懂的节目中,运用百姓话讲述百姓事,播出后好评如潮,说明创新能够增强主旋律文化的生命力和感染力,人民大众真正需要的是喜闻乐见的社会主义文化,②④符合题意。文化创新的立足点社会实践,①错误。保障群众基本文化权益的途径是发展公益性文化事业,③错误。
21. C 物质决定意识,①错误。材料强调通过实践可以建立事物新的具体的联系,不强调自在事物的联系,④不符合题意。产业实况属于构成社会物质生活条件的要素之一,具有客观性,集中体现了人类社会的物质性,②符合题意。通过经济普查,能够为国家制定中长期发展规划提供全面系统、真实可靠的统计信息,统筹考虑各方面因素,体现了制定国家经济政策要善于运用综合思维方式,③符合题意。
22. A 真理是具体的有条件的,真理不能超越历史条件,③排除。实践是衡量认识正确与否的唯一标准,④排除。材料中有网友大量翻找古籍刻本、教材教辅,甚至连汉语语料库都查了一遍。专家表示,对“斯”“是”的争议,是考据传统的继承,也是求是精神的传承,这说明对两字用法的争议能够推动认识的发展和不断深化,也说明认识具有反复性、无限性等,追求和发展真理是一个永无止境的过程,①②正确。
23. A 深化混合所有制改革是基于改革是社会主义社会发展的强大动力,通过改革能够调整生产关系与生产力相适应,推动生产力的发展,①正确。深化混合所有制改革属于对生产关系的调整,不涉及上层建筑的调整,②排除。生产关系是指人们在物质资料的生产过程中形成的社会关系,是生产方式的社会形式,包括生产资料所有制的形式;人们在生产中的地位 and 相互关系;产品分配的形式等。深化混合所有制改革是基于生产力决定生产关系,生产关系一定要适应生产力发展的状况,③正确。一是材料体现的是对生产关系的调整,而不是对上层建筑的调整,二是上层建筑为先进的经济基础服务时能促进生产力的发展,排除④。

38. ①国企发挥引领和示范作用,坚持创新、绿色、开放理念,联合国内企业组队走出去,推动中国技术、中国装备、中国文化、中国品牌的输出,实现了从产品到服务全产业链的输出。(5分)②积极参与国际竞争与合作,参与国际分工,建立安全高效的国际和国内产业链,实现互利共赢。(4分)③坚持独立自主、自力更生原则,增强自主创新能力,实现关键技术自主可控,推动经济高质量发展,促进中国制造向更高层次的发展。(4分)(若从原创性引领性关键技术;具有全球竞争力的产品服务;在高水平开放合作中填补国际产业链空白等角度回答也可以酌情给分。)
39. ①该市人大常委会直面规范养犬问题,并制定征求意见工作方案,回应人民诉求,切实保障公众健康和人身安全,不断满足人民对幸福美好生活的期盼。(4分)②坚持民主集中制原则,向基层立法联系点发送立法征求意见函,并直接听取职能部门的意见建议,邀请立法咨询专家、法制委委员与基层执法工作者座谈交流,做到了科学立法、民主立法,使立法反映人民意志。(4分)③恪守立法为民理念,行使立法权。在深入社区进行实地调研时,面对面听取养犬居民和未养犬居民的意见建议,了解不同利益群体的利益诉求,尊重了人民群众的主体地位,做到了对人民负责。(4分)
40. (1)①矛盾就是对立统一,要用全面/对立统一的观点看问题。黄河保护法统筹兼顾黄河流域的生态保护和开发利用两个方面。②要坚持具体问题具体分析。黄河保护法针对黄河流域水资源短缺问题、发展不充分问题,有针对性地制定了相应制度措施。③坚持两点论和重点论的统一,要着重把握主要矛盾。黄河保护法围绕水沙关系调节,扎实推进黄河流域的生态保护和高质量发展各项工作。(每点4分,共12分)
- (2)①开展黄河文化资源调查和整合黄河文化资源,延续黄河文化历史根脉,助力黄河文化的传承与发展。(3分)②加强黄河流域文化遗址保护,传承弘扬黄河红色文化,赓续红色基因,助力黄河文化的传播与创新。(3分)③推动黄河文化与新技术融合,促进黄河文化创造性转化、创新性发展,有助于提高黄河文化影响力。(4分)
- (3)①守护母亲河,建设幸福河。②推进流域综合治理,保障黄河长治久安。(每点2分,共4分。其他答案言之成理即可酌情给分。)

历史部分

24. D 题干中的“匈奴”不属于外来侵略者,排除A项;题干中未提及“中央”与“地方”之间关系的变化,排除B项;C项中“以夷制夷”的说法与题干中的信息“选汉人为司马……进行监督”不符,排除;由题干中“将河东匈奴单于留于邺”“将其部众分为五部”“选汉人为司马对他们进行监督”等信息可知,曹操此举削弱了匈奴单于和贵族的实权,有利于减少其对中原的威胁,故D项正确。

25. D 根据材料“南方各个丘陵山区大量垦辟茶园,不少农家以栽茶、种茶为生”可知,茶叶生产规模扩大,并且成为一些地区和农户的重要收入来源,故选 D 项;经济重心完成南移是在宋朝,与“中唐以后”时间不符,排除 A 项;材料“大量垦辟茶园”“茶树栽培、茶叶采摘和培制加工技术已相当成熟”反映的是茶叶的生产和技术,与民营手工业规模化经营及商业环境无关,排除 B、C 两项。
26. A 结合材料中“交通宾客、漏泄机密”“蔡京”“奔走其门,务相交结”“流窜蔡京”等信息可知,北宋时期,蔡京等由于结交外戚,受到了言官的弹劾,说明宋代政府反对朝臣结交权贵,这些措施提高了政府在民众中的形象,树立了政府威信,故选 A 项;材料并未涉及对皇后的弟弟向宗良、向宗回兄弟的惩处,排除 B 项;材料属于言官陈瓘上疏指责的个体行为,排除 C 项;D 项说法太绝对。
27. A 结合材料中“内阁首辅在朝中的地位日益突出”“先后封还御批者四,执奏凡三十疏”“利用世宗不理政务”等信息可知,嘉靖时期,出现杨廷和、严嵩等人独专首辅和罢黜的现象,主要源于嘉靖初年的“大礼议”争论以及世宗不理政务,这说明皇权的现实需要和君主的好恶决定了首辅的任期长短和权力大小,这是封建君主专制的产物,故选 A 项;B 项错在异变,权力运行机制没有发生显著变化,排除;宰相已经在明朝初期废除,排除 C 项;首辅出现有利于效率的提高,削弱说法错误,排除 D 项。
28. C 表格内容显示了东部沿海和直隶地区留学人数明显较多,中西部地区的留学生较少,这说明近代中国地区经济文化水平与开放程度存在差异,导致留学生人数存在地区差异,C 项正确;表格信息无法体现当地政府的留学政策的情况,排除 A 项;材料反映的是留学情况,而不是革命运动,排除 B 项;D 项说法不符合史实,排除。
29. A 根据材料“恐怕正是由于儒家政治传统中的一个特殊理念”“施政的目的就是让人接受文化濡染”“它就是文教本身”可知,新文化运动时期,思想家们认为政治与文化教育密不可分。依据所学可知,这与儒家的传统认知相符,故选 A 项;材料强调新文化运动时期的某些主张与儒家思想相一致,并不是改造中国的传统文化,排除 B 项;材料说的是文学、文化领域的变化,并不是爱国进步社会氛围,排除 C 项;君主专制在辛亥革命后就已经被推翻了,排除 D 项。
30. A 由题干中的时间段“20 世纪 20 年代后期和 30 年代前期”可知,此时正值土地革命时期。“俄国革命经验神圣化”指的是走中心城市武装暴动的革命道路,属于“左”倾错误,最终导致中国共产党领导的人民军队遭受重大损失,故 A 项正确,D 项错误;B 项发生于 1927 年,早于题干中的时间,排除;C 项发生于抗日战争结束后,晚于题干中的时间,排除。

31. B 依据材料“要根据自己的实际情况运用马克思列宁主义,把马克思列宁主义的普遍真理同自己的实际情况结合起来,自己提出政策、方针和路线”可知,邓小平科学地阐述了对马克思列宁主义的继承并结合实际国情进行创新,B项正确;“纠正毛泽东晚年的错误”“突破斯大林模式的框架”“坚定改革开放信念永不动摇”均发生于改革开放新时期,与材料时间“1961年”不符,而且材料也不能体现,排除A、C、D三项。
32. B 根据材料并结合所学知识可知,文艺复兴时期的教育注重学生德智体美等全面发展,说明当时的教育受到了人文精神的影响,B项正确;文艺复兴时期的教育并未完全摆脱宗教的束缚,A项说法错误,排除;当时的教育注重培养公民的责任感,但其主要目的并非是培养公民,C项排除;D项“完善”过于绝对,排除。
33. B 根据材料中的时间可知,当时西班牙和葡萄牙垄断着新开辟的航路,相应地垄断随新航路而开展的海上贸易,英荷两国的行为正是力图突破这一垄断的体现,故B项正确。材料显示两国未能开辟出新的到达亚洲的航路,但是这不等于没有任何成果,在探险过程中发现了一些原来未知的水域和陆地,排除A项。英荷的行为本来就是探路、拓荒,不能得出其对世界认知相对落后,排除C项。当时商业冲突最为激烈的不是英荷之间,而应是同西班牙和葡萄牙之间,排除D项。
34. A 小说主人公主动让自己“边缘化”,甘愿去做一个“白种黑人”,是因为二战后民众严重的精神危机导致的,故选A项;主人公甘愿去做一个“白种黑人”是一种精神得不到满足的体现,而不是黑人政治地位的提高,排除B项;对社会弊病的剖析是现实主义文学的特征,而题干反映的是现代主义文学的特征,排除C项;人们对理想生活的向往属于19世纪的浪漫主义文学,排除D项。
35. C 本题主要考查欧洲一体化的相关知识。根据材料信息,欧洲一体化不是所有成员国都必须加入一体化的所有方面,而是可以由各国商定,这体现一体化进程中政策的灵活性,故C项正确;各国可以选择和商定,体现了成员国对主权利益的考虑,有利于推动欧洲一体化进程的顺利发展,故A项、B项错误;材料没有涉及国家与超国家主义动态平衡,故D项错误。
41. (1)原因:明末清初,经世致用的实学思潮兴起;统治者吸收引进的政策;西方科学知识的进步;传教士尊重中国文化、习俗,积极推动。晚清时期,民族危机、封建统治危机不断加重;各阶级积极探索救亡图存,国家富强之道;近代中国思想不断解放,民族经济不断发展。(12分)
- (2)变化:态度上,由主动到被动,进而主动;内容上,由自然科学到政治制度;主体上,由局限于部分地主阶级到各个阶层;地位上,由平等交流到向西求学;认识上,由“夷学”到“新学”。(8分,言之有理亦可)态度:应理性看待“西学东渐”;借鉴其精华,摒弃其糟粕;取长补短,促进自身发展。(5分,言之有理即可)

42. [示例]

看法:福利国家的形成和发展与政治经济的发展相关。(2分)

说明:第二次世界大战结束后,以英、法等为首的西欧国家对经济的干预明显加强,并借助于美国马歇尔计划的援助,从而出现了20世纪50年代—70年代资本主义经济高速发展的“黄金时代”。20世纪70年代的“滞胀”危机后,西欧各国减少了政府对经济的干预,并不断调整经济政策,各国经济逐渐得到恢复和发展。第二次世界大战结束后,随着经济的发展,英、法、联邦德国和瑞典等西欧资本主义国家普遍实行社会福利政策,福利国家的发展日渐完备。福利国家制度在很大程度上稳定了社会秩序,巩固了国家政权的稳定,使贫困民众的生活得到了一定的改善;但同时也增加了政府的财政负担,导致劳动者生产积极性降低(培养了懒汉),不利于发挥市场经济的作用。(10分)

(“示例”只作评卷参考,不作为唯一标准答案)

45. (1)内容:八王可集体推举或罢免新汗;集体议政,集体决断;按八旗平均分配战利品。(6分,言之有理亦可)

(2)意义:有利于抑制八王分权倾向,维护集团内部的稳定;有利于后金政权的巩固和发展,建立清王朝;可在一定程度上抑制新汗专制,是古代中国政权体制中的可贵尝试。(9分,言之有理亦可)

46. (1)原因:日本侵略者轻视苏军实力;日军战略战术上的失误;日军在武器装备上逊于苏军。(6分)

(2)影响:迫使日本改变了战略决策;使苏联得以集中力量对德作战;客观上有利于中国人民抗击日本帝国主义的侵略。(9分)

47. (1)原因:军事实力雄厚;实现个人政治野心;得到帝国主义的支持。(6分)

(2)评述:统一中国是大势所趋,但勾结列强、罔顾民众实不可取;镇压广大人民争取民主和自由的运动,违背了历史发展的潮流;晚年拒绝和日伪合作,诠释了中华民族伟大而不可侵犯的气节。(9分)

关于我们

自主选拔在线是致力于提供新高考生涯规划、强基计划、综合评价、三位一体、学科竞赛等政策资讯的升学服务平台。总部坐落于北京，旗下拥有网站（[网址: www.zizzs.com](http://www.zizzs.com)）和微信公众平台等媒体矩阵，用户群体涵盖全国 90% 以上的重点中学师生及家长，在全国新高考、自主选拔领域首屈一指。

如需第一时间获取相关资讯及备考指南，请关注**自主选拔在线**官方微信号：**zizzsw**。



 微信搜一搜

 自主选拔在线