

绝密★启用前

“天一大联考·皖豫名校联盟”2023 届高中毕业班第三次考试

文科综合

考生注意：

1. 答题前,考生务必将自己的姓名、考生号填写在试卷和答题卡上,并将考生号条形码粘贴在答题卡上的指定位置。
2. 回答选择题时,选出每小题答案后,用铅笔把答题卡对应题目的答案标号涂黑。如需改动,用橡皮擦干净后,再选涂其他答案标号。回答非选择题时,将答案写在答题卡上。写在本试卷上无效。
3. 考试结束后,将本试卷和答题卡一并交回。

一、选择题:本题共 35 小题,每小题 4 分,共 140 分。在每小题给出的四个选项中,只有一项是符合题目要求的。

农村工业和城市工业虽是两种不尽相同的经济类型,但都是国民经济的重要组成部分。从 20 世纪 80 年代开始,我国农村工业和城市工业都得到了蓬勃发展。表 1 示意 1980 年与 2020 年我国农村工业与城市工业产值占所在区域总产值的比重。据此完成 1~3 题。

表 1

	1980 年	2020 年
农村工业	建材及其他非金属矿物制品工业(14.54%) 纺织工业(13.78%) 机械工业(11.05%) 食品饮料及烟草工业(7.94%) 金属制品工业(6.49%)	建材及其他非金属矿物制品工业(17.23%) 纺织工业(7.52%) 机械工业(6.71%) 食品饮料及烟草工业(22.05%) 金属制品工业(7.26%)
城市工业	食品饮料及烟草工业(12.48%) 纺织工业(11.73%) 机械工业(11.16%) 化学工业(7.93%) 黑色金属冶炼加工业(7.46%)	食品饮料及烟草工业(8.35%) 纺织工业(17.66%) 机械工业(22.02%) 化学工业(14.71%) 黑色金属冶炼加工业(4.03%)

1. 影响 1980 年农村和城市食品饮料及烟草工业分布的共同区位因素是
A. 原料 B. 交通 C. 市场 D. 劳动力
2. 与城市相比,20 世纪 80 年代农村工业发展的优势在于有
A. 较低的贷款利率 B. 充足的劳动力
C. 先进的生产技术 D. 便捷的交通运输
3. 近年来我国农村工业的快速发展,有利于农村地区
①优化就业结构 ②改善生态环境 ③保护耕地资源 ④减少社会问题
A. ①② B. ②③ C. ③④ D. ①④

文科综合试题 第 1 页(共 12 页)

津巴布韦地处非洲东南部内陆高原,畜牧业在农业结构中占主导地位,以养牛为主,但发展水平很低。该国耕地资源十分丰富,可耕地面积占国土面积的80%,土壤肥沃,但很少种植农作物,农作物以玉米为主,仅分布在该国的北部。图1示意津巴布韦农业的分布。据此完成4~6题。

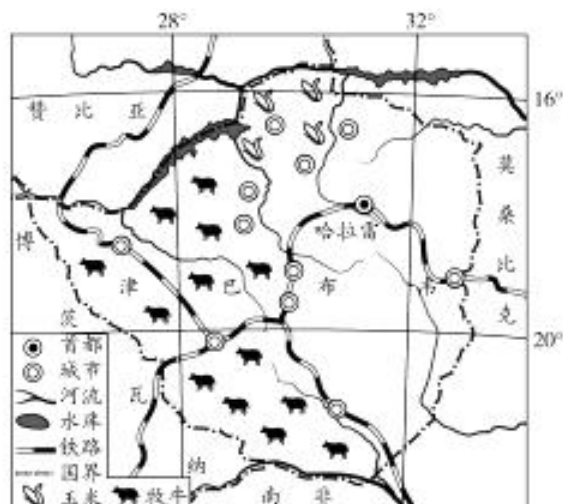


图1

4. 津巴布韦畜牧业在农业结构中占主导地位的主要自然原因是
- A. 气候炎热,终年多雨
B. 高原开阔,地形坦荡
C. 气候适宜,草场广阔
D. 河流纵横,水源充足
5. 阻碍津巴布韦畜牧业发展的主要因素是
- A. 草场面积
B. 交通运输
C. 消费市场
D. 养殖技术
6. 津巴布韦玉米种植集中在北部,主要得益于北部地区
- A. 热量充足
B. 降水量适中
C. 地形平坦
D. 日照时间长

海冰是指与海岸或海底冻结在一起的“固定冰”。海冰的存在及其季节和年际变化是极地海洋状况最显著和变化最大的特征。图2示意1968—2018年环南极大陆海冰北界的季节变化。据此完成7~8题。

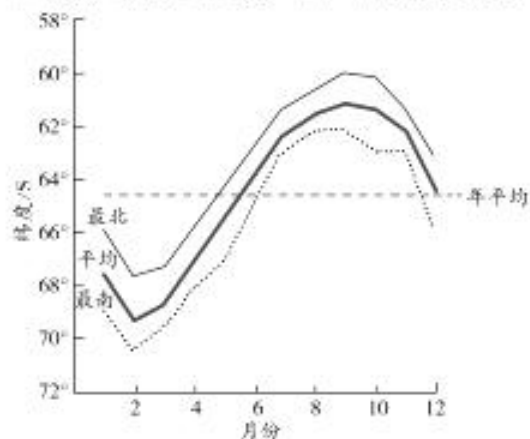


图2

7. 导致1968—2018年环南极大陆海冰北界位置季节变化的主导因素是
- A. 气温
B. 洋流
C. 风速
D. 降水
8. 推测2018年后环南极大陆海冰北界变化的总体趋势是
- A. 2月份最北界转为最南界
B. 9月份最南界转为最北界
C. 2月与9月的最北界位置颠倒
D. 最北界与最南界继续南移

辐射通量是指单位时间内通过单位面积上的辐射能。峨眉山位于 30°N 附近,四川盆地西南边缘,地势陡峭,植被葱郁,风景秀丽,最高峰万佛顶海拔 3 099 米。图 3 示意峨眉山地区大气逆辐射通量不同季节平均日变化。据此完成 9~11 题。

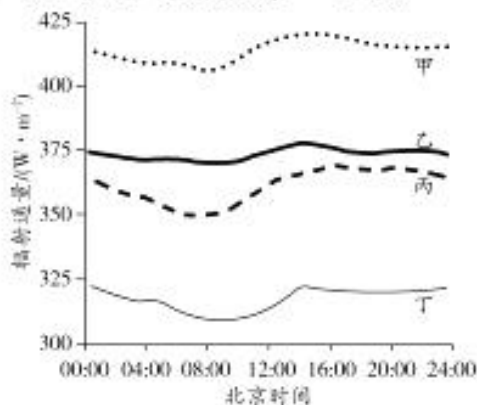


图 3

9. 图中表示峨眉山地区夏季大气逆辐射通量的曲线是
A. 甲线 B. 乙线 C. 丙线 D. 丁线
10. 峨眉山地区大气逆辐射不同季节平均日变化都较小,主要是由于该地区
A. 昼夜温差较大 B. 云雾较多
C. 气压较高 D. 风速较小
11. 推测峨眉山地区大气逆辐射的强弱主要取决于当地
A. 纬度高低和昼夜长短的变化 B. 地势高低和植被的覆盖状况
C. 大气温度和湿度的垂直分布 D. 岩石圈的性质和土壤的厚度
12. 1951 年,西藏和平解放,自此西藏人民永远摆脱了帝国主义的侵略和羁绊,在中华人民共和国各民族团结平等友爱合作的大家庭中,走上了团结、进步、发展的光明大道。70 多年来,在中国共产党领导下,西藏人民意气风发,奋进如歌,各项事业取得全方位进步和历史性成就,书写了当代西藏发展史上超越梦想的壮美诗篇。西藏的跨越式发展
①充分体现了只有社会主义才能救中国 ②表明党的领导是西藏发展的政治保证
③为实现中华民族伟大复兴展示了现实道路 ④佐证了生产力水平决定社会制度选择
A. ①② B. ①③ C. ②④ D. ③④
13. 曾长期被许多发展中国家奉为圭臬的西方资本主义制度弊病缠身、矛盾不断,欧美国家更是乱象频发。与“西方之乱”不同,中国制度无论是在平时还是在危急时刻都展现出强大的有效性,在经济发展和社会稳定上创造了史所罕见、世所罕见的奇迹。这充分展示了
①制度优势是一个国家的最大优势 ②制度竞争是国家间最根本的竞争
③国家的社会性质决定着国家制度 ④中国特色社会主义制度的优越性
A. ①② B. ①④ C. ②③ D. ③④
14. 为了探索“互联网+政务服务”,某市通过“一网通办”APP,在各街镇社区事务中心先后推出多项服务残疾人的措施,共推出残疾人服务项目 67 个,为残疾人开启了“智慧服务之门”。此举的目的在于
①创新工作方式,提高网站点击率 ②提升智能化管理水平,增进人民福祉
③优化公共服务,保障残疾人权益 ④用科技赋能政府治理,提高行政效率
A. ①② B. ①④ C. ②③ D. ③④

15. 图4为我国多层次、多支柱的养老保障体系。对此,下列分析正确的是

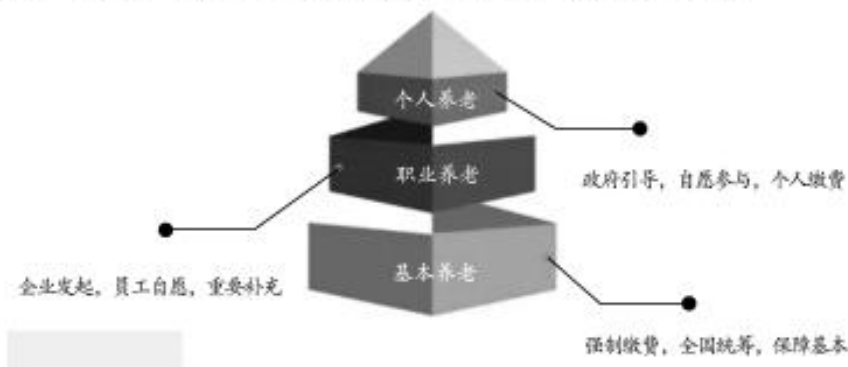


图4

- ①养老保障体系的健全需要多方力量协同推进
②个人养老保险属于社会保险的一种新型种类
③职业养老和个人养老一样需要个人全部承担
④基本养老在养老保障体系中起到了托底作用
- A. ①② B. ①④ C. ②③ D. ③④
16. 截至2021年4月,从国家到乡镇的中国五级人大代表,为数262万多名,其中占比94%的县乡人大代表,都是由选民一人一票直选产生。对此,下列说法错误的是
- A. 直接选举已全面覆盖我国五级人大代表
B. 人大代表选举方式体现了我国国家性质
C. 县以上的各级人大代表由间接选举产生
D. 我国采用直接与间接选举相结合的方式
17. 在广西柳州市三江侗族自治县林溪镇冠洞村鼓楼内,村民代表们围坐一堂,三江基层立法联系点信息员详细解读了《中华人民共和国妇女权益保障法(修订草案)》审议稿后,大家畅所欲言,讨论得热火朝天;从人大代表审议,到设立基层立法联系点,再到网上公开征集意见建议……我国每一部法律都满载民意。这表明
- ①我国基层群众自治和民族区域自治紧密结合
②完善的法律规范体系是坚持良法善治的前提
③我国深入推进科学立法、民主立法、依法立法
④群众全过程参与立法体现了人民民主的优势
- A. ①② B. ①④ C. ②③ D. ③④
18. 习近平总书记在党的二十大报告中指出,中国式现代化为人类实现现代化提供了新的选择。中国式现代化,是中国共产党领导的社会主义现代化,既有各国现代化的共同特征,更有基于自己国情的中国特色。可见
- ①各国现代化的共性寓于中国式现代化之中
②中国式现代化寓于各国现代化的共性之中
③中国式现代化表现出了各国现代化的共性
④没有各国现代化共性就没有中国式现代化
- A. ①③ B. ②③ C. ①④ D. ②④

19. 红色资源是我们党艰辛而辉煌奋斗历程的见证,是最宝贵的精神财富。近年来,全国各地着力推进革命文物遗产的活化利用,丰富展陈手段,探索文旅融合,生动形象地讲好红色故事。此举意在
- ①利用有效载体,弘扬革命文化 ②激活红色文化,提高经济效益
③用好红色资源,传承红色基因 ④提升文旅服务,增强旅游体验
- A. ①③ B. ①④ C. ②③ D. ②④
20. 在第二次世界大战中,数百万俄罗斯人和乌克兰人并肩作战,为保卫祖国而献出宝贵生命。1991年乌克兰宣布独立,苏联正式解体。2022年,受国际国内诸多因素影响,俄乌冲突爆发。俄乌关系的演变从一个侧面印证了
- ①国际关系纷繁复杂,并非是一成不变的
②冲突取代合作是国际关系的基本形式之一
③国际社会利益交织,难以达成合作共识
④国家间的亲疏冷热是多种因素作用的结果
- A. ①② B. ①④ C. ②③ D. ③④
21. 2022年11月,习近平在亚太经合组织第二十九次领导人非正式会议上的讲话指出,当前,新冠肺炎疫情反复延宕,世界经济复苏面临各种挑战,单边主义、保护主义上升,全球产业链供应链受到冲击,通货膨胀、粮食、能源安全等问题复杂严峻。我们要以战略和长远眼光看待亚太合作,维护亚太经合组织在区域合作中的主渠道地位,维护亚太合作正确方向。这要求
- ①各成员国加强团结合作,共同面对各种挑战
②发挥亚太经合组织实践多边主义最佳场所的作用
③进一步促进亚太区域经济可持续增长和繁荣
④打造当今世界一体化程度最高的区域性国际组织
- A. ①② B. ①③ C. ②④ D. ③④
22. 2022年以来,宁江区共受理法律援助案件109件,受援对象包括未成年人、残疾人、妇女、老年人、农民工等弱势群体;为审查起诉阶段犯罪嫌疑人办理认罪认罚案件334件,为当事人节约诉讼成本累计约50余万元。法律援助的意义在于
- ①帮助弱势群体保障自身合法权益 ②减轻群众诉讼负担提升其诉讼能力
③确保诉讼案件审判结果合法合理 ④保证困难群众在诉讼中获得胜诉
- A. ①② B. ①④ C. ②③ D. ③④
23. 全称判断,断定一类事物都具有或不具有某种属性的判断。其形式是:“所有S是(不是)P”。下列属于全称判断的一组是
- ①一切客观规律都不以人的意志为转移 ②一些人感染奥密克戎病毒后没有症状
③所有宗教人物都不是人们凭空捏造的 ④钱海军是新时代劳动模范的优秀代表
- A. ①② B. ①③ C. ②④ D. ③④
24. 商代礼器试图唤起的是一种恐惧之感,让人感受到自己的渺小与无力。西周青铜器比较直观的感受是鬼气减少,典雅有所增加,并出现不少写实风格的动物器形,逐渐有了“人”的气息和意识。这一变化反映出商周时期
- A. 制度建构尚不完善 B. 神权统治渐被抛弃
C. 早期宗法制的成熟 D. 敬天保民观念发展



- 25.《秦律》规定：“夫有罪，妻先告，不收。一夫有罪，妻媵臣妾，衣器当收不当？不当收。”汉宣帝时诏令：“自今子首匿父母，妻匿夫，孙匿大父母，皆勿坐。其父母匿子，夫匿妻，大父母匿孙，罪殊死，皆上请廷尉以闻。”这表明汉代
- A. 严刑峻法彻底被废除
B. 儒家文治功用得到发挥
C. 法律呈现儒家化特点
D. 以孝治国理念得以确立
- 26.唐代都城长安“棋布栉比，街衢绳直”，地方城市布局也是基本由坊组成。高高的坊墙将“坊城”笼罩在一片封闭自守的氛围中，对于社会中下层而言，是那么的威严和高不可攀。然而北宋前期，拆除坊墙，城市布局由“坊城”过渡到街巷。材料意在强调
- A. 宽松环境利于商业繁荣
B. 城市经济功能不断增强
C. 市坊分离的制度被打破
D. 宋代市镇经济相当发达
- 27.清朝中期，清王朝在伊犁西南方向的布鲁特部，由伊犁将军每年巡查哈萨克、布鲁特一次，每次“牛马百取一，羊千取一”。《回疆通志》中写道：喀什噶尔每年从布鲁特等地所征收的马匹八九十不等，羊一二千只不等，牛若干只。每年乌什收税马六七匹不等，羊百只不等。清政府的这一举措
- A. 彰显了因俗而治的特点
B. 显示出沉重封建剥削
C. 反映出君主专制的强化
D. 具有宣誓主权的色彩
- 28.鸦片战争后，恩格斯曾预言：“中国的南方人在反对外国人的斗争中所表现的那种狂热本身，似乎表明他们已觉悟到旧中国遇到极大的危险；过不了多少年，我们就会亲眼看到世界上最古老的帝国的垂死挣扎，看到整个亚洲新纪元的曙光。”据此可知，恩格斯意在强调鸦片战争
- A. 激化了中外民族矛盾
B. 催生了中国民族精神
C. 削弱了清廷专制统治
D. 开启了亚洲革命序幕
- 29.中国共产党领导人指出：“不论什么人，也不论做过什么事，只要他不是汉奸、卖国贼和犯罪经法庭褫夺公权的，都有选举权和被选举权”，“均按照平等、直接、无记名投票方式选举。”这说明边区政府
- A. 代表了根据地民众意志
B. 积极推动国共两党合作
C. 具有新民主主义的特征
D. 旨在建立民主联合政府
- 30.有学者指出：“提到庄园法庭的时候，人们第一反应是领主的法庭，处理领主与他的不自由佃农的关系（纵的关系）的机构。但是，它也是领主的佃农们处理他们之间的关系，主要是公地制度下的关系（横的关系）的机构——在这一意义上，是真正的村民会议，是公地共同体的象征。”该学者意在强调庄园法庭
- A. 促进了地域文化交流
B. 维护了农奴公共权利
C. 捍卫了封建领主利益
D. 巩固了自然经济基础
- 31.但丁在《飨宴》中指出：“人类的高贵，就他的许多成果来看，胜过天使的高贵。”既然人类可能胜过“天使”，人就应该积极抗争，努力实现人生目标。但丁的这一描述
- A. 建立在近代科学基础上
B. 彰显了积极进取的时代精神
C. 蕴含了人文主义的思想
D. 意在表达宗教信仰自由观点
- 32.19世纪初期，普鲁士的施泰因和哈登贝格颁布了农业立法与《城市规程》，实行废除农民封建义务的土地制度改革。德国统一后，颁布《德意志帝国宪法》规定了人们拥有自由迁徙权。这说明德国城市化
- A. 得益于国家制度变迁的推动
B. 打上了农奴制改革的烙印
C. 助推了农业生产效率的提高
D. 消除了工人运动的可能性

33. 从 1920 年末至 1921 年初,苏俄暴动的农民提出了“没有共产党人的苏维埃”的口号。鉴于这种情况,列宁说:“我们度过了,而且是胜利地度过了国内战争的最重要阶段以后,我们就遇到了苏维埃俄国内部很大的一——我认为是最大的一政治危机。”据此可知,这一政治危机产生的主要原因是

- A. 苏维埃政权脱离群众
B. 国内外敌人破坏活动
C. 战时共产主义的延续
D. 民众抗拒新经济政策

34. 图 5 为漫画《希特勒的荣誉室》,漫画中墙上的动物代表的是已被希特勒征服的国家。希特勒正把苏联也拖进他的“荣誉室”。该漫画反映的史实是

- A. 世界反法西斯同盟的形成
B. 苏德战争全面爆发
C. 欧亚两个战争策源地出现
D. 英法绥靖政策破产



图 5

35. 20 世纪 70 年代,瑞典的“雇员投资基金”方案是资本主义社会改良由分配领域转向其生产领域并触及所有制问题的一种尝试。当 70 年代国际经济危机冲击瑞典时,资本家仍“不顾法令,公然裁减雇员,压低工资,并力图修改法令以削弱工会的权力”。据此可知,该方案的实施说明

- A. 资本私有制度没有改变
B. 福利国家产生诸多问题
C. 经济危机危害日渐显现
D. 国家干预经济势在必行

二、非选择题:本题共 9 小题,共 160 分。

(说明:地理部分 2 题,共 56 分;思想政治部分 4 题,共 52 分;历史部分 3 题,共 52 分)

36. 阅读图文材料,完成下列要求。(28 分)

澳大利亚总面积 769.2 万平方千米,矿产资源丰富,畜牧业发达,总人口为 2 617 万人,主要集中在沿海地带,以飞机、火车和汽车为主要交通工具。澳大利亚铁路总通车里程仅 4.4 万多千米,公路也只有 87.8 万多千米,全国铁路和公路运输线沿海呈近半环状分布并伸向内陆,机场私有化程度较高,总体上,澳大利亚交通运输网密度较低,但十分方便快捷。

支线航空是指短距离、中小城市之间的非主干航线,一般使用的是小型客机。除了东南沿海和西南沿海的几个大城市外,澳大利亚其他沿海中小城市和广大内陆地区城市及城镇之间主要以支线航空相连,现在大、小民航机场遍及全国各地大小城镇。图 6 示意澳大利亚主要城市与交通线分布。

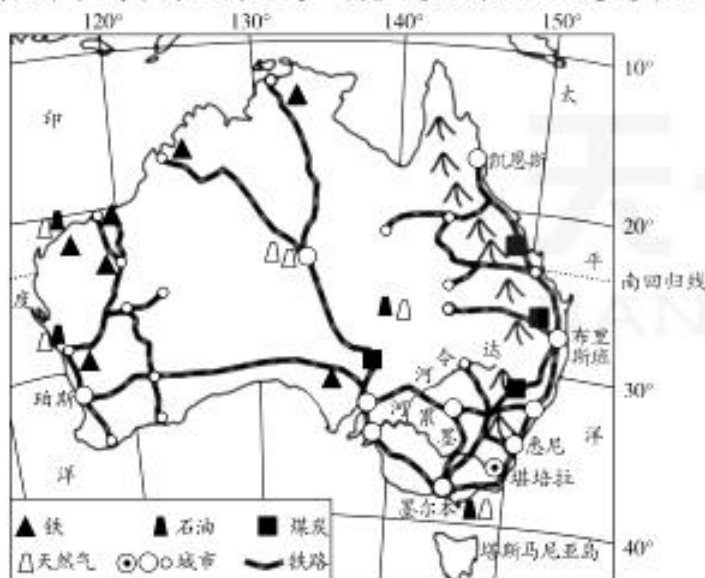


图 6

- (1)说明澳大利亚“国内交通路网密度较低,但十分方便快捷”的主要原因。(8分)
- (2)结合澳大利亚的情况,就“自然环境(包括地理位置、自然条件、自然资源等)与区域交通运输业发展的关系”谈谈个人的看法。(8分)
- (3)推测澳大利亚支线航空运输业目前面临的困境。(8分)
- (4)请为澳大利亚支线航空运输业的发展提出合理建议。(4分)

37. 阅读图文材料,完成下列要求。(28分)

土耳其地跨亚欧两大洲,是亚欧非的战略要冲,也是一个地震频繁的国家。当地时间2023年2月6日4时17分,土耳其已经两个多世纪未发生地震的南部地区突然发生7.8级强烈地震及多次强余震,震源深度多为20千米。此次地震的震中区人口密集,有33座大中城市。救援人员在雪中救援中发现,此次地震震中区的幸存者很少,建筑物多毁于“煎饼式坍塌”,很少见倾倒性坍塌,救援难度极大,经济损失惨重。因此,很多地震学家对土耳其经济发展做出了“成也位置,败也位置”的评价。图7示意土耳其此次地震震中区的位置。

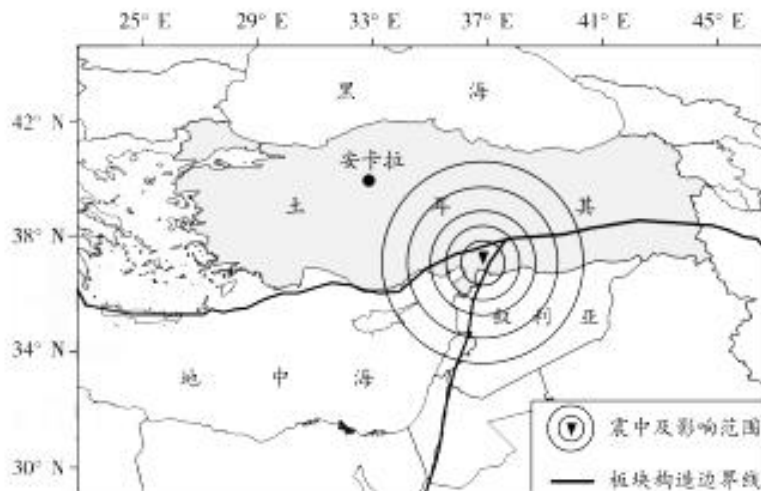


图7

- (1)土耳其此次地震震级高、余震多,请运用板块构造理论做出解释。(4分)
- (2)说出土耳其此次地震中震中区附近各板块的主要运动方向。(4分)

(3)分析土耳其此次地震后震中区居民逃生和救援难度大的主要原因。(10分)

(4)简述地震学家对土耳其经济发展做出的“成败”评价的合理性。(4分)

(5)对于“人类是否应投入大量人力、财力监测预报地震”这一问题,提出自己的观点,并说明理由。(6分)

38. 阅读材料,完成下列要求。(10分)

“没有共产党,就没有新中国!”这句中国人耳熟能详的话,在新时代又有了新的扩展:“没有中国共产党,就没有新中国,就没有中华民族伟大复兴。”这是对奋斗历史的精辟总结,也是对开创未来的深刻启迪。今天,我们行进在民族复兴的伟大征程上,前景光明同时前路艰险。一方面,我国发展进入战略机遇和风险挑战并存、不确定难预料因素增多的时期,各种“黑天鹅”“灰犀牛”事件随时可能发生。另一方面,我们要实现的中国式现代化,“既是最难的,也是最伟大的”。

习近平总书记在党的二十大报告中提出了以中国式现代化全面推进中华民族伟大复兴,明确了前进道路上必须牢牢把握的“五个重大原则”,其中第一条就是“坚持和加强党的全面领导”。远眺前路,我们必须坚决维护党中央权威和集中统一领导,把党的领导落实到党和国家事业各领域各方面各环节,使党始终成为风雨来袭时全体人民最可靠的主心骨。“没有中国共产党,就没有中华民族伟大复兴。”结合材料,运用《政治与法治》的知识加以说明。

39. 阅读材料,完成下列要求。(20分)

在2022年10月胜利闭幕的中国共产党第二十次全国代表大会上,习近平总书记回顾总结了过去五年的工作和新时代十年的伟大变革,对全面建设社会主义现代化国家、全面推进中华民族伟大复兴进行了战略谋划,为新时代新征程党和国家事业发展、实现第二个百年奋斗目标指明了前进方向、确立了行动指南。

当前,各地正在深入学习宣传贯彻党的二十大精神,把党的二十大精神送到不同行业领域、街头巷尾、田间地头。

——平乐县大发瑶族乡,将“固定讲台”变为“流动课堂”,为党员群众划重点、圈亮点、读成果,将党的二十大精神送到船舱,破解党员群众流动性强、集中学习难的问题。

——恭城瑶族自治县以新时代文明实践站为依托,以移动宣讲台为载体,组织宣讲队伍深入村屯、田间地头,利用农闲时间和夜课堂、大榕树课堂向基层党员干部群众展开宣讲,使党的二十大精神浸润瑶乡大地。

——灵川县围绕党的二十大精神、文明创城等元素,通过歌舞、彩调、小品等多种群众喜闻乐见的文艺形式,传递正能量、倡导文明新风尚。

……

(1)结合材料,运用超前思维的有关知识,分析党的二十大为什么能为实现第二个百年奋斗目标指明前进方向。(10分)

(2)结合材料,运用社会意识具有相对独立性原理,说明让党的二十大精神“飞入寻常百姓家”的哲学考量。(10分)

40. 阅读材料,完成下列要求。(10分)

党的十八大以来,我国经济总量多年稳居世界第二位,成为一百四十多个国家和地区的主要贸易伙伴,货物贸易总额居世界第一,吸引外资和对外投资居世界前列,形成更大范围、更宽领域、更深层次对外开放格局。

我国对外签署的自贸协定数由10个增加到19个,与自贸伙伴的贸易额占我国贸易总额的比重由2012年17%提升至2021年的35%。2022年1月1日,区域全面经济伙伴关系协定(RCEP)正式生效实施,我国还积极推进加入全面与进步跨太平洋伙伴关系协定(CPTPP)和数字经济伙伴关系协定(DEPA),向高标准自贸协定的目标迈出了新步伐。

2013年,我国在上海设立了第一个自贸试验区,现已扩容至21个。2018年,海南自贸港建设启动,2021年,我国出台《海南自由贸易港跨境服务贸易特别管理措施(负面清单)(2021年版)》,这是我国跨境服务贸易领域的首张负面清单,代表了相应领域最高对外开放水平。

截至2021年末,我国已与145个国家、32个国际组织签署200余份共建“一带一路”合作文件。“一带一路”倡议同联合国2030年可持续发展议程有效对接,形成了促进全球共同发展的政策合力。“一带一路”倡议与《东盟互联互通总体规划》、非盟《2063年议程》、欧盟“欧亚互联互通战略”等区域发展规划或合作倡议有效对接,达成促进互联互通、支持区域经济一体化进程的共识。

结合材料,运用《当代国际政治与经济》的知识,说明我国是如何“形成更大范围、更宽领域、更深层次对外开放格局”的,并回答形成这一格局的意义。

41. 阅读材料,完成下列要求。(12分)

2021年1月30日,小王到当地一家服装店购物,在店员的推荐下注册办理了会员卡,并提供了姓名、出生日期、手机号码等个人信息。双方约定,卡号为会员的手机号码;会员生日当月可以使用“银卡会员生日优惠券”,到店消费可享受6.8折优惠。

小王表示,自己的生日是12月份。2022年12月10日,店员未经其同意,擅自使用她的会员卡和生日优惠券为其他顾客提供了6.8折优惠,其会员卡因此凭空多了406个积分。

“为什么有人用我的会员卡和生日券?”小王在会员微信群看到该店发来的“银卡会员生日优惠券成功使用通知、积分变更提醒”信息后,便与店方进行理论。未得到店方满意解释后,小王便投诉至本市消保委,要求商家返还积分,赔偿店员擅自使用卡券给其他顾客消费打折的优惠金额 127.68 元。

(1)消保委认为,商家的行为构成侵权。为什么?(6分)

(2)商家应该承担哪些民事责任?(6分)

42. 阅读材料,完成下列要求。(25分)

材料一 历史上的黄河中下游区域雨量多,气候温和湿润,为农作物生长提供了良好条件。古希腊山脉众多,加上季风性气候影响,通过耕种葡萄、橄榄等经济作物进行海外贸易交换,支撑其最基本的生存。雅斯贝尔斯认为轴心时期中国涌现出了孔子、老子以及墨子、庄子、荀子等诸子百家;古希腊具有代表性的哲学家有巴门尼德、赫拉克利特以及古希腊三杰。“以前无意识接受的思想、习惯和环境,都遭到审查,探究和清理”,人们对于生命的理解有所改变,两个截然相反的事物之间存在的那种平静,变成了矛盾和对立的不宁。轴心时代人们全力地想操纵以及筹算一切事物的发展,一些自认为称心如意的条件也被他们极力筹算着。思想家在盘算人们怎样才能够最好地生活在一块,怎样才能最好地对他们加以管理和统治。

材料二 儒家学者孔子提倡的“亲亲之爱”强调孝悌,他认为只有施行了孝悌,方可避免出现以下犯上的现象。智者学派代表人物提出了“人是万物的尺度”,着重强调以人为中心的思想。并指出人是衡量万事万物的标准,个人不服从于法律,把个人想法当作道德来源。因此,必须用严厉的规章法令去桎梏人们的行为,保证个人权利的正当实施,防止个人权利的肆意滥用,进而维持社会安定。孔子认为“君子喻于义,小人喻于利”。亚里士多德强调至善即是幸福,他认为作为人的最终目标就是要达到至善。孔子强调用“忠恕之道”“己欲立而立人”以及“克己复礼”等伦理思想来维持社会秩序,想别人之所想,以情感人。

——上述材料均摘编自高瑞霞《轴心时代中西方道德思想的比较研究》

(1)根据材料一并结合所学知识,概括轴心时代在东西方历史发展中的贡献。(6分)

(2)根据材料一并结合所学知识,简析轴心时代的中国文化与希腊文化存在差异的原因。(10分)

(3)根据材料一、二并结合所学知识,说明轴心时代东西方道德观的不同内涵。(9分)

43. 阅读材料,完成下列要求。(12分)

材料 历史学家伊曼纽尔·沃勒斯坦指出,迄今为止,在全球范围内出现了3个世界性大国,17世纪是荷兰的崛起,19世纪是英国的崛起,20世纪是美国的崛起。其中,经济因素对大国崛起的影响巨大。

表 2

经济体制的维度	荷兰、英国和美国崛起的历史表明,凡是能够成功崛起的大国都必须积极建立和培育自由竞争的市场经济体制,从而为其经济发展注入持久的活力。
科技创新的维度	近代历史已雄辩地证明,科技创新在国家进步中扮演着重要的角色,能够崛起的大国不仅具有较强的技术创新能力,而且具有较强的技术转化和应用能力,持续的技术创新和先进的科研体系往往是大国崛起的重要因素。
经济全球化的维度	从荷兰、英国和美国崛起的历程来看,能否构筑开放的贸易格局,将国内产业结构与国际分工有机衔接,在广阔的国际市场空间优化配置资源,是决定大国能否成功崛起的必要条件。

——摘编自温俊萍《经济史视野中的大国崛起——基于荷兰、英国和美国的经验》等围绕材料,选择一种观点或自拟一个观点,并运用世界史的具体史实予以论述。(要求:观点明确,论证充分,史实准确,表述清晰。)

44. 阅读材料,完成下列要求。(15分)

材料一 抗日战争后期,毛泽东指出:“要打倒日本帝国主义,必需有工业;要中国的民族独立有巩固的保障,就必需工业化。我们共产党是要努力于中国的工业化的。”又指出:“民主革命的中心目的就是从侵略者、地主、买办手下解放农民,建立近代工业社会……新民主主义社会的基础是机器,不是手工……现在的农村是暂时的根据地,不是也不能是整个中国民主社会的主要基础,由农业基础到工业基础,正是我们革命的任务。”他在中共七大、七届二中全会上相继提到“使中国由农业国变为工业国”“使中国稳步地由农业国转变为工业国”。

材料二 1957年2月,毛泽东在《关于正确处理人民内部矛盾的问题》中指出:“将我国建设成为一个具有现代工业、现代农业和现代科学文化的社会主义国家。”1960年初,毛泽东提出“建设社会主义,原来要求是工业现代化,农业现代化,科学文化现代化,现在要加上国防现代化”。“四个现代化”的思想,最初由周恩来于1954年9月在全国人大一届一次会议上的政府工作报告中提出:“如果我们不建设起强大的现代化的工业、现代化的农业、现代化的交通运输业和现代化的国防,我们就不能摆脱落后和贫困,我们的革命就不能达到目的。”1979年9月,叶剑英指出:“我们所说的四个现代化,是实现现代化的四个主要方面,并不是说现代化事业只以这四个方面为限。……我们要在建设高度物质文明的同时,……建设高度的社会主义精神文明。这些都是我们社会主义现代化的重要目标。”

——上述材料均摘编自俞祖华《百年以来中国共产党国家现代化话语的建构》

(1) 根据材料一并结合所学知识,指出近代中国共产党国家现代化话语建构的内涵,并分析其形成的历史背景。(8分)

(2) 根据材料一、二并结合所学知识,概括新中国国家现代化话语建构的变化,并简析变化的影响。(7分)

关于我们

自主选拔在线是致力于提供新高考生涯规划、强基计划、综合评价、三位一体、学科竞赛等政策资讯的升学服务平台。总部坐落于北京，旗下拥有网站（[网址: www.zizzs.com](http://www.zizzs.com)）和微信公众平台等媒体矩阵，用户群体涵盖全国90%以上的重点中学师生及家长，在全国新高考、自主选拔领域首屈一指。

如需第一时间获取相关资讯及备考指南，请关注**自主选拔在线**官方微信号：**zizzsw**。



 微信搜一搜

 自主选拔在线



自主选拔在线
微信号: zizzsw



自主选拔在线
微信号: zizzsw



自主选拔在线
微信号: zizzsw