

参照秘密级管理★启用前

试卷类型:A

2022—2023 学年第一学期高三质量检测

历史试题

2023.01

注意事项:

1. 答卷前,考生务必将自己的姓名、考生号等填写在答题卡和试卷指定位置。
2. 回答选择题时,选出每小题答案后,用铅笔把答题卡上对应题目的答案标号涂黑。如需改动,用橡皮擦干净后,再选涂其他答案标号。回答非选择题时,将答案写在答题卡上。写在本试卷上无效。
3. 考试结束后,将本试卷和答题卡一并交回。

一、选择题:本题共 15 小题,每小题 3 分,共 45 分。每小题只有一个选项符合题目要求。

1. 孔子、孟子认为,圣王与圣人的内涵基本相同,皆属于德性至善之人。战国晚期的荀子则认为,相比于圣人,圣王更具有王者的权威性,即圣王身为教化者,需要具备使天下万民顺服归往的道德与能力。这一转变反映出先秦儒家思想
A. 具有较强的社会责任感
B. 力图顺应时代发展的需要
C. 受到韩非子思想的影响
D. 抛弃了理想化的政治诉求
2. 唐中期以后,使职差遣制日益盛行,即官员受上命另任他事,形成“职无品秩却治事务,官有品秩仅寄禄秩”的现象。如唐玄宗时负责顾问参议的要职翰林学士,其人选就“自诸曹尚书,下至校书郎,皆得与选”。使职差遣制的盛行
A. 迎合了庶族地主参政的需求
B. 推动了科举制度的重大改进
C. 妨碍了唐代办事效率的提升
D. 弱化了君主对朝堂的控制力
3. 图 1、图 2 分别是宋代和清代东南地区农作物种植结构示意图。这一变化




图 1 宋代太湖平原产粮外运

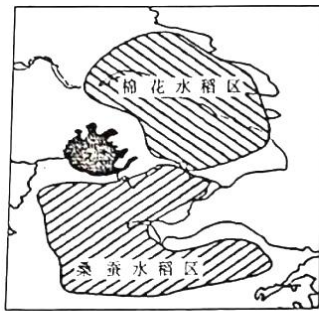


图 2 清代江浙棉桑分布

高三历史试题 第 1 页(共 8 页)

准考证号

姓名

学校

- A. 促使专门工商业市镇出现
B. 促进了跨区域贸易的发展
C. 改变了南北漕运经济格局
D. 加速了小农经济结构解体
4. 乾隆年间设立三通馆,其编修的地理志突破了之前以山川为纲要、以中原为核心的九州书写体系,采用以当朝行政区划为纲的疆域书写体系,将边疆地区与中原地区一视同仁。这种地理志书写体系的变化
- A. 服务于国家认同的需要
B. 说明了中国版图的奠定
C. 促进了边疆地区的开发
D. 推动了地方制度的改革
5. 据研究,开平煤矿面值 100 两的股票在 1881 年底投产时已涨至 150 两左右,上海电报局 100 两面额的股票在 1882 年突破了 200 两大关,上海机器织布局的股票价格也溢出原价的 15%左右。这表明当时
- A. 经营形式创新推动近代工业发展
B. 民族资本主义迎来发展春天
C. 洋务运动推行的阻力已完全消除
D. 列强对华资本输出日益扩大
6. 自 1918 年蔡元培喊出了“劳工神圣”的口号后,又有不少学者提出“今日政治问题,就是面包问题”“人人作工,人人读书,各尽所能,各取所需”等主张。这反映当时
- A. 马克思主义被广泛接受
B. 社会普遍崇尚生产劳动
C. 追求人人平等成为目标
D. 无产阶级力量引起重视
7. 表 1 是抗战防御阶段中共在国统区公开办报情况,这反映了

表 1

报刊名称	创办时间	地点	备注
《群众》	1937 年 12 月	汉口	宣传共产党抗战方针政策,报道战绩
《新华日报》	1938 年 1 月	武汉	宣传共产党抗日主张、报道两党抗战事迹
《战时青年》	1938 年 1 月	武汉	报道国内外形势、救亡运动等

- A. 民族矛盾开始成为主要矛盾
B. 中共主导抗日舆论阵地宣传
C. 中共意在增强民众抗战意识
D. 国共两党抗战路线趋于一致

8. 1953年12月,中印两国政府就历史上遗留下来的一些问题进行谈判,周恩来总理在北京接见印度代表团时提出了解决中印关系的五项原则,之后受到亚非各国人民的普遍赞同,同时获得了国际上的广泛好评,被称为“亚洲的宪章”。“五项原则”有如此反响缘于
- A. 新中国的外交逐渐走向成熟
B. 中印之间的问题具有代表性
C. 符合各国共同利益价值取向
D. 二战后两极格局的发展变化
9. 1985年的全国教育工作会议上,“劳动者的素质”这一综合性较强的概念被提出来,并逐步取代改革开放初期的“科学文化知识”“基本知识和基本技能”等表述。这一变化表明中国教育事业
- A. 具有强烈的意识形态色彩
B. 促进了科技快速进步
C. 逐步适应国家建设的需要
D. 致力于人的全面发展
10. 12、13世纪时,西欧越来越多的城市与国王结成同盟,即国王授予城市具有法律意义的“特许状”。通过特许状,城市的市民不再负担封建义务,他们拥有自己立法、司法和征税、铸币等权利,城市以金钱和人力支持国王。这表明,西欧城市自治
- A. 促进了封君封臣制度的产生
B. 符合国王权力加强的需要
C. 得益于近代民族国家的支持
D. 源于新型生产方式的推动
11. 图3反映了1650—1750年的早期经济全球化。该图示最适宜用于研究

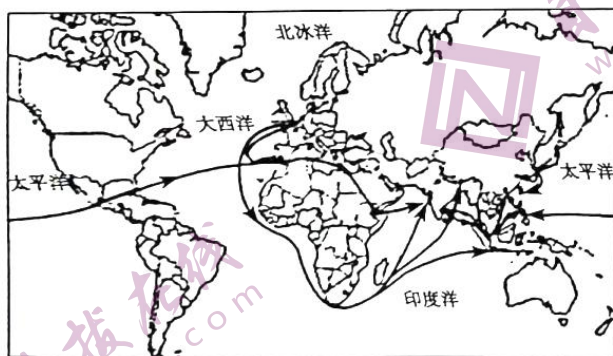


图3

- A. 丝绸贸易的盛行
B. 世界白银的流通
C. 三角航程的兴衰
D. 美洲物种的传播

12. 19 世纪 60 年代以后,英国资本家专注于推销纺织品,凭借庞大的殖民地市场获取丰厚的利润,他们坚信“要么死亡,要么贸易”。然而在市场规模扩大的同时,新生主导产业发展却明显迟缓。这说明当时英国
- A. 传统纺织业足以引领英国的产业革新 B. 必须为过剩的低端产能寻找市场
C. 海外殖民地保障其经济持续领先世界 D. 迷信自由贸易无益于新技术革命
13. 1931 年,《威斯敏斯特法案》确认了“英国和各自治领都是英帝国内的自治共同体,地位平等,在内政和外交的任何方面互不隶属”,英联邦遂正式形成。之后,英联邦成员由需对英王效忠的原则演变为接受英王为独立成员国自由联合体的象征。这一演变的历史背景是
- A. 世界殖民体系崩溃 B. 世界格局出现重大调整
C. 民族解放运动高涨 D. 英国霸主地位完全丧失

14. 图 4 是苏联 1928 年印发的一幅海报《工业化是通向社会主义的必由之路》,图案相当规整,背景的机器、仪表犹如机械制图,工人形象亦如机器人一般体现了规则和力量。该海报反映了



图 4

- A. 集中力量稳定苏维埃政权
B. 建成了社会主义工业强国
C. 工业化建设得以顺利推进
D. 倡导实施指令性计划体制
15. 21 世纪初,在世界政治经济中出现很多新兴经济体,如表 2,新兴经济体的出现

表 2

名称	英文缩写	代表国
金砖四国	BRIC	巴西、俄罗斯、印度、中国
基础四国	BASIC	巴西、南非、印度、中国
新钻十一国	Next-11	孟加拉国、埃及、印度尼西亚、伊朗、韩国、墨西哥、巴基斯坦、尼日利亚、菲律宾、土耳其、越南

- A. 利于国际关系民主化进程 B. 是经济区域集团化进程的结果
C. 取决于融入全球化的程度 D. 表明推动世界发展的主体转变

二、非选择题:本大题共 4 小题,第 16 题 12 分,第 17 题 13 分,第 18 题 15 分,第 19 题 15 分,共 55 分。

16. (12 分)西汉对西域的开拓与治理对历史发展产生了深远影响。阅读材料,回答问题。

材料一

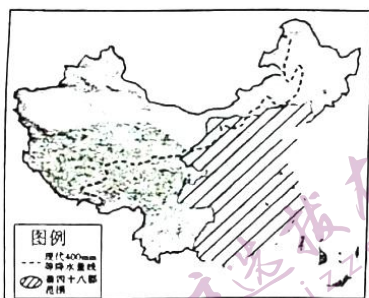


图 5 年降雨 400 毫米等值线

与秦西北边郡位置关系图

——摘自韩茂莉《中国历史地理十五讲》



图 6 西汉时期西北地区军事屯田图

——据郭沫若主编《中国史稿地图集》编制

(注:年 400 毫米等值线一般为游牧区与农耕区分界线。突破农耕区的自然界线,大幅度地开疆拓土开始于西汉)

材料二 中国的西北边陲古称西域,即今天的新疆和巴尔喀什湖以东以南的中亚地区。这里是一个南北西三面环山的区域,只有东边敞开,向东北可入蒙古草原,向东南沿河西走廊可达甘、青地区和富庶的关中平原。这里的许多古老的部落与民族或来自蒙古草原,或来自河西走廊,在此定居之后都以东部的中原和蒙古草原为主要的交流和发展方向。

葱岭以西的中亚河中地区,由一些山间盆地和绿洲组成,居住着一些经商务农的民族,这里是一个单独的地理区域。由于其西、北两边是干旱的草原与荒漠,活跃着强悍的游牧民族,南边是高山雪岭,为了经商和获得军事上保护的需要,使得这些部族与民族自古以蒙古草原和中原为主要外出活动的区域。

——摘自张岂之《中国历史十五讲》

提取材料信息,结合所学知识,以“西汉王朝对西域开拓与治理”为题写一篇历史短文。

(要求:史论结合,逻辑清晰,层次分明,表述成文)

17. (13分)20世纪30年代中国出现了一次乡村建设和合作社运动的潮流。阅读材料,回答问题。

材料

自1927年“四·一二”政变后,中国共产党的革命转入农村,进行土地革命,得到农民拥护,日益威胁到南京国民政府统治基础。此时农村经济也出现了种种衰退迹象,严重影响政府的财政。从最高统治者到民间舆论都发出了“乡村建设”、“农村复兴”的呼声。从20世纪30年代初开始,兴起了一个从国民政府到民间的农村合作社和乡村建设运动,试图在不改变旧有土地制度的前提下进行生产组合方式变革,来应对农村现状。在政府的引导下,乡村建设运动和合作社运动展开并形成潮流。

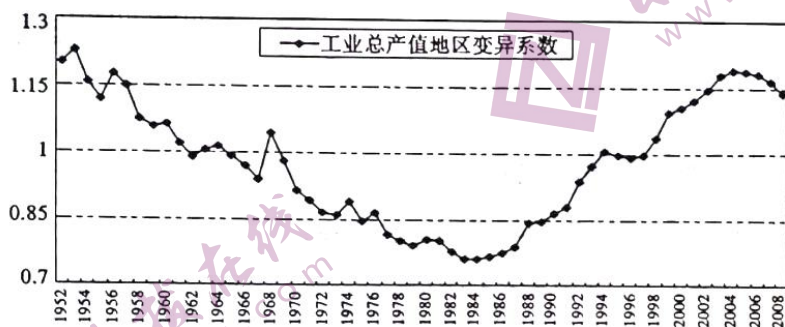
推行效果较好的是国民党为军事等需要在豫鄂皖三省推行的“农村合作预备社”,其中安徽六安县在1933年入社农民占全县人口的0.71%,这个比例高出其他一般地区。信用合作社成为全部合作社的主体,在1933年农民各类借贷来源中,合作社只占1.3%;1934年农民余款各种存放处所中,合作社占0.7%。抗日战争爆发后,国民党的农村政策毫无变化,中国共产党推行的新土地政策,再次得到农民认同。

——摘编自虞和平《走向现代化的历程·经济卷·1900—1949》

提取材料信息并结合所学知识,评述20世纪30年代的乡村建设和合作社运动。

18. (15分)工业布局对于各地区乃至全国经济发展有着十分重要的意义,新中国成立后工业布局发生了巨大的变化。阅读材料,回答问题。

材料一



注:地区经济发展变异系数反映的是各地区之间经济发展差异情况,数值越大,差异程度越大,反之亦然。

图7 中国工业总产值地区变异系数变动趋势图(1952—2008年)

材料二

表3 各时期沿海与内地基本建设投资所占比重(单位:%)

地区	“一五” 时期	“二五” 时期	1963— 1965年	“三五” 时期	“四五” 时期	“五五” 时期	“六五” 时期
沿海	36.9	38.4	34.9	26.9	35.5	42.2	47.7
内地	46.8	56.0	58.3	64.7	54.4	50.0	46.5

注:由于全国统计购置的机车车辆、船舶、飞机等投资,未划到地区内,因此沿海与内地投资比重之和小于100%。

——陆大道等著《中国区域发展的理论与实践》

表4 东中西部地区外贸依存度比较(单位:%)

年份	全国	东部	中部	西部
1988	18.08	28.61	6.17	5.83
1996	31.02	46.29	9.71	11.40
2004	57.95	87.99	11.85	12.85

——据《新中国五十年统计资料汇编》和《2004年中国经济普查年鉴》

提取材料二的信息并结合所学知识,对材料一所反映的现代中国的工业布局发展趋势进行阐释。

19. (15分)有学者认为一战后美国的外交政策由扩张主义回归到孤立主义传统;也有学者认为美国一直在奉行扩张主义的政策。阅读材料,回答问题。

一战后美国的外交:孤立主义还是扩张主义?

材料一

表5 1900—1938年主要国家在世界制造业产量中所占的相对份额(%)

	1900年	1913年	1928年	1938年
英国	18.5	13.6	9.9	10.7
美国	23.6	32.0	39.3	31.4
德国	13.2	14.8	11.6	12.7
法国	6.8	6.1	6.0	4.8
俄国	8.8	8.2	5.3	9.0
意大利	2.5	2.4	2.7	2.8

——摘编自[美]保罗·肯尼迪《大国的兴衰》

材料二

漫画:一战后的美国外交



图8 巴黎和会上三巨头




图9 缺失的拱顶石



图10 美国的“门户开放”

材料三

美国外交政策词典(部分)

- 孤立主义:孤立主义是美国开国元勋规定的在对外关系方面的基本原则,即利用地理上与欧洲隔绝的位置,保护美国的利益,避免同欧洲订立永久同盟,并避免卷入欧洲的纠纷。
- 实用主义:又称实效主义、实验主义、工具主义,指不受教条约束,从实际出发,根据每件事的具体情况作决定的一种思想方法。实用主义的经典表述是“有用即真理”“真理即工具”。美国是实用主义哲学的故乡。

请你对一战后美国的外交政策进行分析判断,写一份简要报告。(观点明确,史论结合,逻辑清晰,表述条理。)

关于我们

自主选拔在线是致力于提供新高考生涯规划、强基计划、综合评价、三位一体、学科竞赛等政策资讯的升学服务平台。总部坐落于北京，旗下拥有网站（[网址: www.zizzs.com](http://www.zizzs.com)）和微信公众平台等媒体矩阵，用户群体涵盖全国90%以上的重点中学师生及家长，在全国新高考、自主选拔领域首屈一指。

如需第一时间获取相关资讯及备考指南，请关注**自主选拔在线**官方微信号：**zizzsw**。



微信搜一搜

自主选拔在线