

2022~2023 下联合体高一第二次考试 地理试题

本试卷满分 100 分,考试用时 75 分钟。

注意事项:

1. 答题前,考生务必将自己的姓名、考生号、考场号、座位号填写在答题卡上。
2. 回答选择题时,选出每小题答案后,用铅笔把答题卡上对应题目的答案标号涂黑。如需改动,用橡皮擦干净后,再选涂其他答案标号。回答非选择题时,将答案写在答题卡上。写在本试卷上无效。
3. 考试结束后,将本试卷和答题卡一并交回。
4. 本试卷主要考试内容:必修二、中国地理。

一、选择题:本大题共 16 小题,每小题 3 分,共 48 分。在每小题给出的四个选项中,只有一项是符合题目要求的。

吉布提是非洲之角地区最小的国家,也是世界上最不发达的国家之一,地处非洲东北部亚丁湾西岸,国土面积 $2.32 \times 10^4 \text{ km}^2$,自然资源贫乏,2021 年人口约 100 万人。该国自独立以来社会、政治环境均比较稳定。图 1 示意 1990~2019 年吉布提移民群体流向各大洲(地区或国家)的分布情况。据此完成 1~3 题。

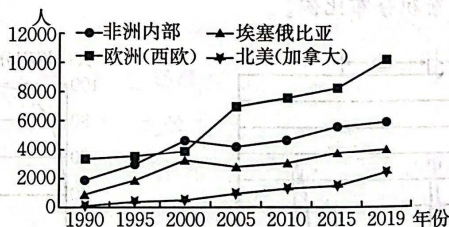


图 1

1. 影响吉布提移民群体流向西欧与北美差异的主要因素是

- A. 交通方式
- B. 经济水平
- C. 文化习俗
- D. 距离远近

2. 吉布提一直是传统的“移民跳板国”,最主要是由于吉布提

- A. 地理位置特殊
- B. 国家政治稳定
- C. 经济水平高
- D. 交通运输业发达

7. 三亚海棠湾海底数据中心建设的意义有

- ①利用海洋空间 ②促进海上风能、潮汐能等资源开发 ③增强与粤港澳大湾区的竞争力
④改善海洋生态环境

- A. ①② B. ①④ C. ②③ D. ③④

图3为我国四省轮廓图。据此完成8~10题。

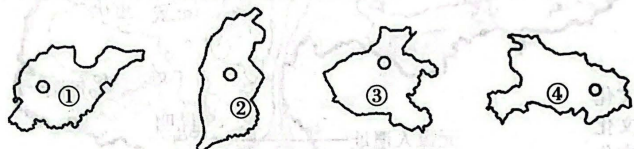


图3

8. 以上四省中,与河北省不相邻的是

- A. ① B. ② C. ③ D. ④

9. 以上四省中,黄河干流流经的省份有

- A. ①③④ B. ①②④ C. ①②③ D. ②③④

10. 图示④省

- A. 水力资源丰富 B. 地形以山地为主
C. 人口全国最多 D. 小麦种植业发达

图4为某国疆域四至点所在经纬线范围示意图,该国海洋性特征不显著。据此完成11~12题。

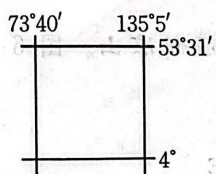


图4

11. 该国

- A. 主要位于中高纬度 B. 南北相差约 58°
C. 与14个国家陆上接壤 D. 位于太平洋东岸

12. 该国海洋性特征不显著,主要是由于

- A. 南北跨度大 B. 季风气候显著
C. 海岸线平直 D. 边境线绵长

图5为我国西南地区早期人类文化遗址分布图。据此完成13~14题。

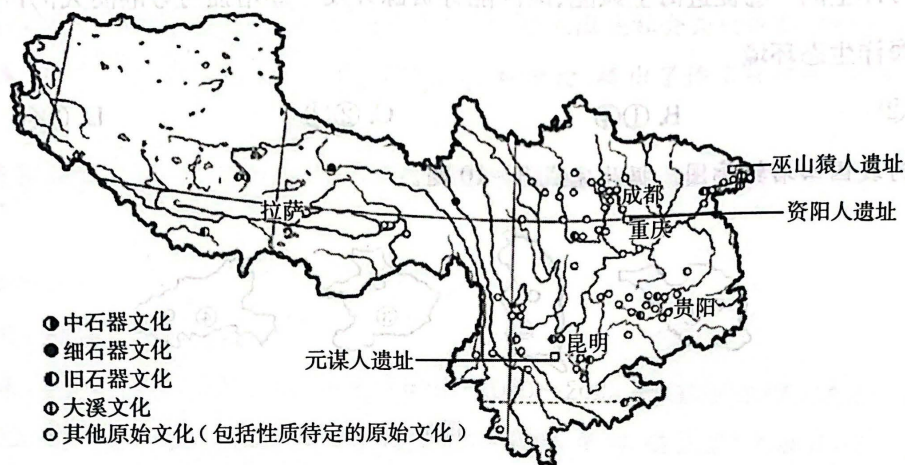


图5

13. 我国西南地区早期人类

- A. 分布均匀
- B. 多分布在高山
- C. 分布变动性较大
- D. 以血缘为纽带

14. 我国西南地区早期人类分布特征的形成原因是

- A. 河山隔离
- B. 水草丰美
- C. 地形平坦
- D. 土壤肥沃

凉山彝族自治州(以下简称凉山州)地处横断山脉纵谷地带,滑坡、泥石流等地质灾害频发。该地已成为我国重要的花卉和水果种植基地。2022年,凉山州号召群众节约能源资源,践行绿色消费,参加环保实践,共建清洁美丽新凉山。图6为我国西南地区局部等高线地形图(单位:m)。据此完成15~16题。

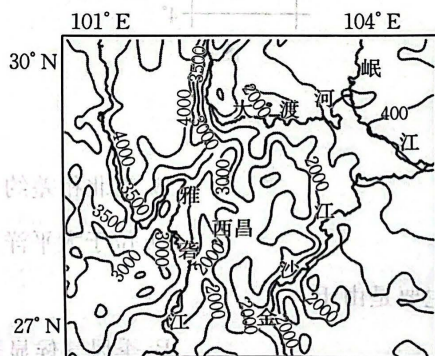


图6

15. 下列关于凉山州滑坡、泥石流等地质灾害频发的原因,说法正确的是

- A. 植被覆盖率低
- B. 地势起伏大
- C. 全年降水丰富
- D. 位于板块生长边界,多地震

16. 该地河谷地区种植花卉的优势自然条件是

- A. 冬季多雨
- B. 夏季少雨
- C. 冬季温暖
- D. 夏季凉爽

二、非选择题:共 52 分。

17. 阅读图文材料,完成下列要求。(18 分)

“呦呦鹿鸣,食野之蒿”出自《诗经》中的《小雅·鹿鸣》。青蒿根系浅,耐干旱,耐贫瘠,喜光忌涝,适应性强,在海拔 300 m 以下的石山、土坡、丘陵等地发育,生命力极强。青蒿素是有效的抗疟药原料,中国中医科学院建立了全球最大的青蒿国家种质资源库,同时选择在广西柳州市融安县建立分库。融安是典型的喀斯特地貌区,地表干旱,土壤贫瘠,多为旱地及牧场,政府鼓励种植青蒿,乡民的生活由此发生改变,青蒿在当地被称为“治贫仙草”。目前融安拥有全国最优质的青蒿种植区,也是全球青蒿素的主要产区。图 7 示意融安青蒿素产量占全国及全球比重,图 8 为全球青蒿素成品药市场比例构成图。

全国青蒿素总产量 200 吨



图 7

世界卫生组织青蒿素采购量 240 吨

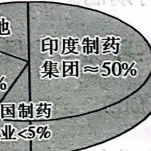


图 8

- (1) 分析融安种植的青蒿被称为“治贫仙草”的原因。(6 分)
- (2) 说明青蒿的优质种苗多分布在地缓坡的原因。(6 分)
- (3) 融安是全球最大的青蒿素生产基地,但青蒿素成品药的主要制造国不是中国,针对此问题提出合理化建议。(6 分)

18. 阅读图文材料,完成下列要求。(18 分)

厦门翔安大桥(如图 9)是福建省一次性投资额最大、整体桥面最宽、跨海段采用钢箱梁最长、下沉式隧道最长的桥隧综合跨海通道工程。翔安大桥跨海段下部承台、桥墩、跨海段上部均采用预制装配化施工(在预制场整体预制加工构件,然后运输至现场起重吊装),提高

了施工精度控制,这种“积木”式的施工工艺在福建省桥梁建设中首次应用。翔安大桥为厦门岛东部海域的第二条进出岛通道,主桥于2023年1月17日正式通车,跨岛只需5分钟车程。



图9

(1)简述装配化施工技术在建设厦门翔安大桥过程中起到的积极作用。(6分)

(2)试从自然环境角度,分析厦门翔安大桥成为福建省投资最大工程的原因。(6分)

(3)指出翔安大桥的建设对厦门市交通与经济发展的有利影响。(6分)

19. 阅读图文材料,完成下列要求。(16分)

地形起伏度是指在一个区域内,最高点与最低点海拔的差值(数值为相对值,数值越大表示地形起伏越明显)。图10示意我国沿80°E经线的地形起伏度分布,图11示意我国不同地形起伏度上人口的累积分布比例。

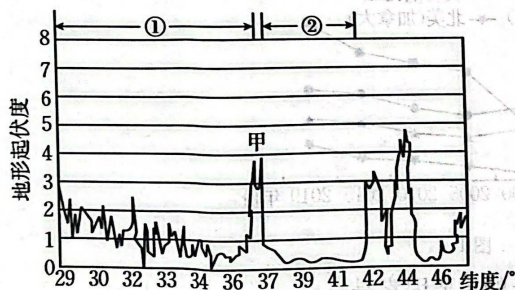


图10

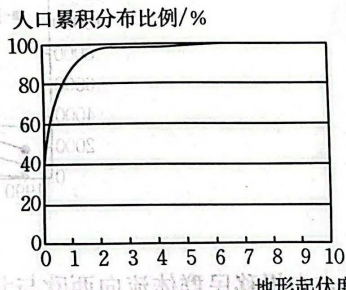


图11

(1)指出①地形区名称,并说明判断理由。(6分)

(2)指出②的地形类型,并从地形角度说明甲地形区的地理意义。(6分)

(3)根据图11分析我国人口东多西少的原因。(4分)

密封线内不要答题

关于我们

自主选拔在线是致力于提供新高考生涯规划、强基计划、综合评价、三位一体、学科竞赛等政策资讯的升学服务平台。总部坐落于北京，旗下拥有网站（[网址: www.zizzs.com](http://www.zizzs.com)）和微信公众平台等媒体矩阵，用户群体涵盖全国 90% 以上的重点中学师生及家长，在全国新高考、自主选拔领域首屈一指。

如需第一时间获取相关资讯及备考指南，请关注**自主选拔在线**官方微信信号：**zizzsw**。

