

2022 届高三二轮复习联考(二) 辽宁卷
历史试卷

注意事项:

1. 答卷前,考生务必将自己的姓名、考生号等填写在答题卡上。
2. 回答选择题时,选出每小题答案后,用铅笔把答题卡上对应题目的答案标号涂黑。如需改动,用橡皮擦干净后,再选涂其他答案标号。回答非选择题时,将答案写在答题卡上。写在本试卷上无效。
3. 考试结束后,将本试卷和答题卡一并交回。

考试时间为 75 分钟,满分 100 分

一、选择题:本题共 16 小题,每小题 3 分,共 48 分。在每小题给出的四个选项中,只有一项是符合题目要求的。

1. 公元前 6 世纪,郑国子产要求晋国收取合理的贡赋,他表示:“从前天子制定贡赋,依诸侯的地位决定轻重,地位尊贵的,贡赋就重……郑国爵位属男,却按公侯的贡赋标准,恐怕没办法如数供应。”最后,晋国退让。孔子曾赞誉子产“会合诸侯,制定对霸主贡赋的极限,是合礼的。”对于上述事件的解释,最合理的是
 - A. 贵族生活奢靡,社会矛盾激化
 - B. 诸侯走向联合,反对争霸战争
 - C. 德治法治之争,儒家谨遵周礼
 - D. 国家礼崩乐坏,各方趋于妥协

2. 表 1 是两则有关古代中国户籍制度的法律条文,下列选项说法正确的是

表 1

法律	条文
甲	“成年子女必须分家,不得与父母同属于一个户籍。”
乙	“祖父母、父母在世,子孙不得别立户籍,分割家产。”

- A. 甲应该符合唐代法律之基本精神
 - B. 乙的主张是汉代重道德教化的体现
 - C. 甲的规定为汉代以礼入律的产物
 - D. 就家庭组织的变迁而言,乙早于甲
3. “祖宗之法,不以武人为大帅,专制一道,必以文臣为经略,以总制之。武人为总管,领兵马,号将官,受节制,出入战守,唯听指挥。”下列所述现象与此处于同一朝代的是
 - ①初于广州置司,以知州为使,通判为判官,及转运使司掌其事
 - ②依样葫芦画不难,葫芦变化有千端。画成依样旧葫芦,要把葫芦仔细看
 - ③中原昔失御,幽冀不复华,我朝示仁抚,金币岁屡加

二轮复习联考(二) 辽宁卷 历史试卷 第 1 页(共 8 页)

D. 奠定了党的工作重心转移的思想基础

9. 图2分别为新中国1949年、1952年、1970年、1985年第一、二、三产业结构图(百分比)。其中属于1970年的是

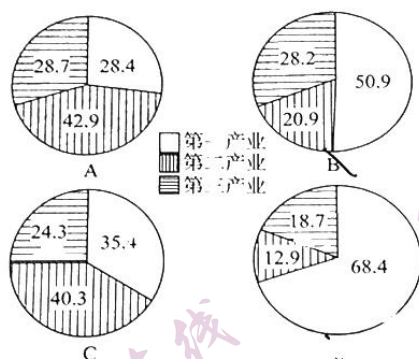


图2

10. 图3是根据欧洲某一历史事物发展进程所绘制的曲线图。下列命题适合作此图标题的是

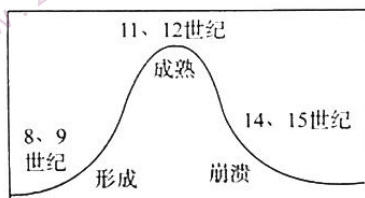


图3

- A. 欧洲封建制度的兴衰
- B. 欧洲民族国家的发展
- C. 文艺复兴运动的演进
- D. 西欧市民阶层的起落

11. 拉丁文一直是中古以来基督教会的专属语文,各地人民在日常生活里并不使用。但在15世纪之后,欧洲许多大学却开设拉丁文的课程,而且选修人数不少,最后成为知识分子的共同语文。欧洲知识分子学习拉丁文的风潮,与下列事件关系最密切的是

- A. 拜占庭帝国的灭亡
- B. 商业城市的兴起
- C. 人文主义者的提倡
- D. 伊斯兰文明的刺激

12. 光荣革命后,威廉三世身兼英国国王和荷兰执政,可以代表荷兰、英国两个国家进行外交活动。1701年公布的《王位继承法》规定:“此后本国王位与尊号归属于非英格兰王国的人的时候,如果未经国会同意,本国国民不负防御不属于英国的领土而从事战争的义务。”这表明

- A. 英国王位传承弱化亲缘关系
- B. 国王的外交权转移至议会
- C. 国王是英荷两国联系的纽带
- D. 王权必须服务于英国利益

13. 日本江户幕府时期正值中国明清两朝。图4中属于这一时期中、日两国共有现象的是

甲、皇权集中,君主专制
乙、西学东渐,西学与西教传入
丙、19世纪时均受外力挑战,开港通商
丁、采取变法维新,成功转型为现代国家

图4

- A. 甲乙 B. 乙丙 C. 甲丙丁 D. 丁
14. 恩格斯指出:“英国自上世纪中叶以来经历了一次比其他任何国家经历的变革意义更重大的变革;这种变革越是不声不响地进行,它的影响也就越大……英国的革命是社会革命,因此比任何其他一种革命都更广泛,更有深远影响。”这里的“革命”
- A. 为古典文化注入了时代精神 B. 建立了君主立宪制政体
C. 推进了世界市场雏形的出现 D. 开启了世界工业化浪潮
15. 美国独立战争前,农业人口占总人口的95%,到1820年,农业劳动力在全部就业劳动力中的比重仍占71.8%,直到1890年才第一次下降为42.6%。在独立战争前一年,工业净产值占工农业净产值的36.2%,直到1889年,美国的工业净产值总算上升到59.1%。这说明美国
- A. 消除了国内经济发展障碍 B. 主张自由放任反对政府干涉
C. 城市化与工业化协同推进 D. 国内经济结构转型严重滞后
16. 中亚地区长期是苏联的产棉区,外高加索主要生产茶叶和葡萄酒,乌克兰是欧洲著名的产粮区,远东地区为苏联提供各种矿产资源,二战后苏联又通过经互会等组织转移过剩产能和进行国际合作。这说明了
- A. 国内国际双循环有利于苏联经济发展 B. 苏联社会主义建设事业缺乏长远规划
C. 苏联国内经济结构不断调整趋于平衡 D. 美苏争霸促使欧洲市场日益分化对立

二、非选择题:本题共4小题,共52分。

17. 阅读材料,完成下列要求。(13分)

唐宋之变

材料

表2

时间	北方农田水利工程		南方农田水利工程		全国农田水利 工程总数
	数量	占全国比例(%)	数量	占全国比例(%)	
唐代前期	88	68.2	41	31.8	129
唐代后期	31	27.7	81	72.3	112

——据程民生《中国北方经济史》

二轮复习联考(二) 辽宁卷 历史试卷 第4页(共8页)

表 3

时间 区域	隋大业五年 (609)前后	唐天宝年间 (742-755)	唐元和年间 (806-820)
全国总户数(户)	8907546	8955370	2746150
北方户数所占比例(%)	75.8	54.9	29.4
南方户数所占比例(%)	24.2	45.1	70.6

——据梁庚尧《中国社会史》

表 4

时间 区域	北宋元丰三年 (1080)	南宋淳熙十四年 (金大定二十七年,1187)	元至顺元年 (1330)
全国总户数(户)	16570474	19166001	13711174
北方户数所占比例(%)	30.6	35.4	18.9
南方户数所占比例(%)	69.4	64.6	81.1

——据梁庚尧《中国社会史》

(1) 指出表 2 反映出现象并分析其影响。(4 分) 〃

(2) 据表 3、表 4 分别指出隋唐、宋元时期人口南北分布的特点,并说明影响隋唐至宋元时期人口数量及分布的因素。(9 分) 6

18. 阅读材料,完成下列要求。(13分)

宋朝:“积贫积弱”?

材料

“积贫积弱”源自钱穆先生著作《国史大纲》第六编“两宋之部”第三十一章“贫弱的新中央”之“宋代对外之积弱不振”“宋室内部之积贫难疗”。《国史大纲》是历史学家钱穆于1939年6月撰成的一部通史性论著。钱穆指出,“治国史之第一任务,在于国家民族之内部自身求得其独特精神之所在”。

表5 北宋部分皇帝在位时期财政收支情况统计表

年代	收入(单位:贯)	支出(单位:贯)	盈余(单位:贯)
太宗至道末年	22245800	岁出	余大半
真宗天禧末年	150850100	126775200	余 24074900
仁宗皇祐元年	126251964		无余
英宗治平二年	116138405	131864452	不足 15726047

——摘编自钱穆《国史大纲(下册)》

(1) 根据材料并结合所学知识,谈谈你对宋朝“积贫积弱”的看法。(7分)

(2) 钱穆先生为什么对宋朝有“积贫积弱”的评价?(6分)

19. 阅读材料,完成下列要求。(12分)

材料

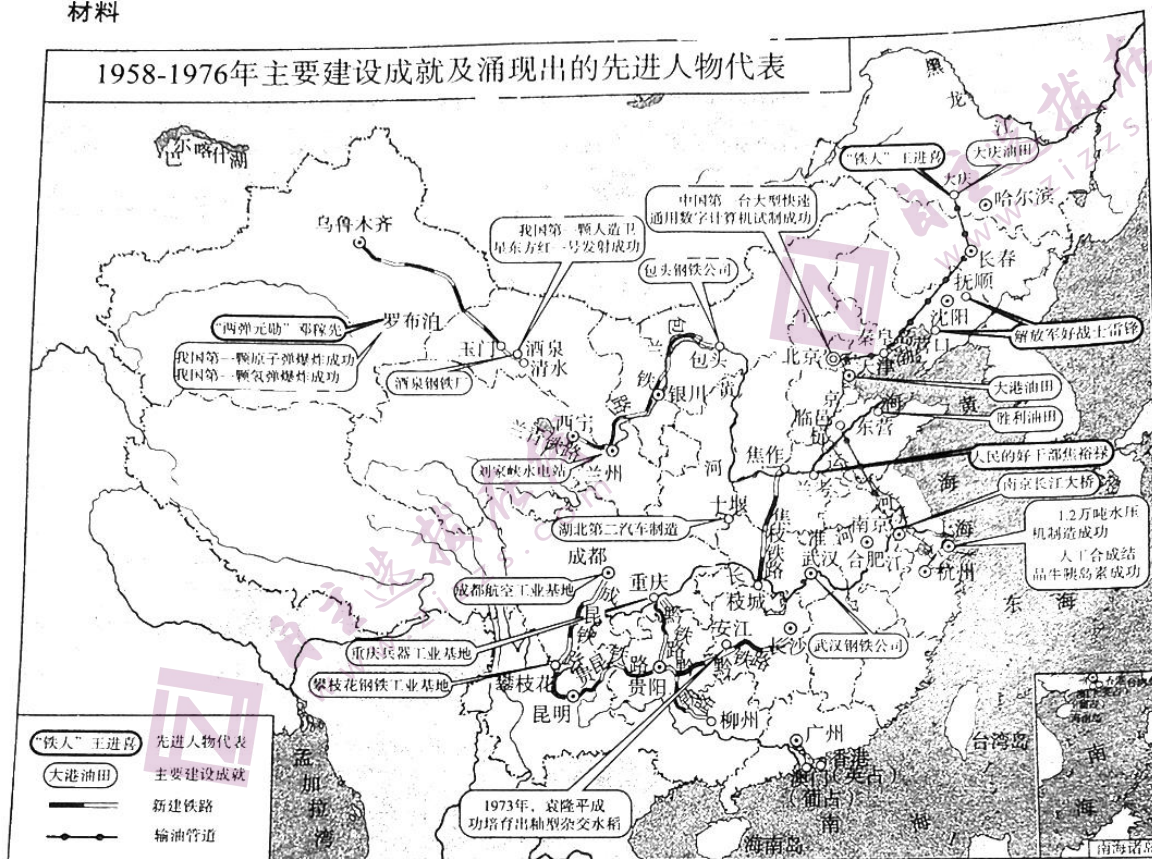


图5 1958—1976年主要建设成就及涌现出的先进人物代表分布图

(1) 根据材料,自拟一个主题并从材料中提取至少三条相互关联的信息进行阐述。(7分)(要求:自拟主题,史论结合,逻辑严密,表述清晰。)

(2)根据材料并结合所学知识,谈谈你是如何看待1958—1976年中国社会主义建设事业的。(5分)

20. 阅读材料,完成下列要求。(14分)

工业革命时期的西方世界

材料

资产阶级在1848年前的60年里已经获得历史性的突破,在经济阵线、政治、意识形态阵线上皆取得胜利。只要记住这一点足矣。1789—1848年的岁月……那个时期的主线是双元革命:由英国发起、主要限于英国的工业改造和与法国有关、主要限于法国的政治改造。两者异曲同工,皆是新社会的胜利,一个被法国历史学家称为“所向披靡的资产阶级”的社会,当时人可不像我们现在这般肯定。站在资产阶级政治思想理论家后面的,是一大群准备将温和自由主义革命转变为社会革命的群众。处在资本家之下和周围的,是被迫离乡背井、满腹怨言的“劳动贫民”,他们摩拳擦掌、跃跃欲试。19世纪30—40年代是充满危机的年代,前景未卜,只有乐天派才敢对其结果作出预测。

——摘编自艾瑞克·霍布斯鲍姆《资本的年代》

根据材料,自拟论题并进行阐释。(要求:表述成文;立论正确,史论结合;逻辑严密,条理清晰。)

关于我们

自主选拔在线是致力于提供新高考生涯规划、强基计划、综合评价、三位一体、学科竞赛等政策资讯的升学服务平台。总部坐落于北京，旗下拥有网站（[网址: www.zizzs.com](http://www.zizzs.com)）和微信公众平台等媒体矩阵，用户群体涵盖全国90%以上的重点中学师生及家长，在全国新高考、自主选拔领域首屈一指。

如需第一时间获取相关资讯及备考指南，请关注**自主选拔在线**官方微信号：**zizzsw**。



微信搜一搜

自主选拔在线