

2022-2023 学年度部分学校高三教学质量摸底检测 历史

注意事项:

- 1.答卷前,考生务必将自己的姓名、准考证号填写在答题卡上。
- 2.回答选择题时,选出每小题答案后,用铅笔把答题卡上对应题目的答案标号涂黑。如需改动,用橡皮擦干净后,再选涂其它答案标号。回答非选择题时将答案写在答题卡上。写在本试卷上无效。
- 3.考试结束后,将本试卷和答题卡一并交回。

一、选择题:本题共 15 小题,每小题 3 分,共 45 分。每小题只有一个选项符合题目要求。

- 1.春秋时期,管仲认为治国必须“劝之以赏赐,纠之以刑罚”,推行新法则要“慎用其六柄(杀、生、贵、贱、贫、富)”。这反映出其思想特点是
A. 尊法敬天 B. 外儒内法 C. 德法并重 D. 严刑峻法
- 2.山东莱芜出土了西汉初期的二十四件铸造农具的铁范,铁范之内有“李”“汜”“山”等文字标志。经学者研究,其中的李、汜、山是姓氏。据此我们可以推断,西汉初期
A. 冶铁业中心在北方 B. 冶铁技术相当普及
C. 铁制农具普遍使用 D. 尚未实现盐铁官营
- 3.踏歌是对以脚踏地为节、载歌载舞的群众性活动的一种通称。《旧唐书睿宗纪》记载了当时宫中表演踏歌的盛况。也有诗描写踏歌“春江月出大堤平,堤上女儿连袂行”“西域灯轮千影合,东华金阙万重开”。据此可知,当时
A. 市民文化是社会主流文化 B. 社会风气较为开放
C. 诗歌以描写民间生活为主 D. 中外文化交流频繁
4. 表 1 是宋明两代政府收入银、钱数额对照表。导致这一变化的主要原因是
表 1

年代	钱数(贯)	银数(两)
北宋元祐元年(1086年)	4848000	57000
明代万历九年(1582年)	21765.4	3704281.6

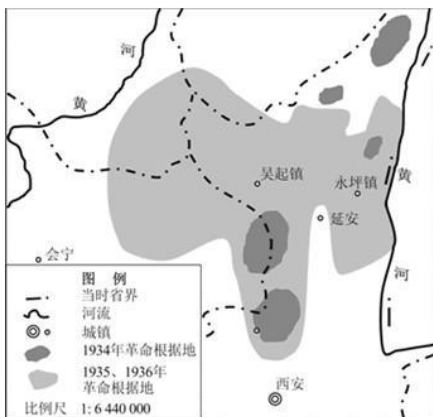
- A. 赋税政策的调整 B. 经济结构的变动
C. 社会秩序的稳定 D. 土地制度的改革
5. 清代科道官对于风闻传言且事实未清的行为可进行弹劾,这是科道官所独有的特权。科道官如果出于私心,徇私诬劾,“回奏不实,或并无可据者,降一级调用。”这些规定旨在
A. 限制监察官员的权力 B. 保障监察效果
C. 协调中央与地方关系 D. 杜绝官场腐败
6. 1881 年,清朝驻外公使曾纪泽赴英外交部,“谈商改条约之事”,并“争辩良久”。他认为:“诚能深通商务之利弊,酌量公法之平颇,则条约之不善,正赖此修改之文,得以挽回于异日,夫固非彼族所得专其利也。”这反映了当时部分中国人
A. 否定传统宗藩体制 B. 意识到启迪民智的重要
C. 力主融入国际社会 D. 国家主权意识有所增强
7. 1895 年,湖南巡抚陈宝箴在维新派帮助下进行改革,先后设立矿务局、铸币局,兴办新式学堂等,得到湖南乡绅的大力支持。梁启超入湘大讲康有为的《新学伪经考》《孔子改制考》,却遭到湖南乡绅们的激烈反对。这表明维新运动
A. 缺少广泛的群众基础 B. 受到湖南乡绅的强烈抵制
C. 应与社会实际相结合 D. 与旧学之间矛盾不可调和
8. 表 2 为北京大学平民教育讲演团(1919—1925 年)演讲分类情况。这反映出
表 2

类别	数量	占比
政治类	114	27.7%
社会改良类	73	17.3%
道德、友谊、权利类	52	12.7%
教育类	43	10.5%

一般问题和历史问题	35	8.5%
经济类	30	7.2%
科学及常识	25	6%
体育健康和卫生	21	5.1%
家庭	16	3.8%

- A. 知识分子渴望改造中国社会 B. 团结工农是革命的当务之急
C. 国内社会主要矛盾发生变化 D. 马克思主义成为学界的共识

9. 图 1 为 1934—1936 年革命根据地范围的变化情况。导致这一变化的主要因素是



- A. 西安事变的和平解决 B. 工农红军实现重大战略转移
C. 国共联合抗战的需要 D. 抗日民族统一战线正式形成

10. 图 2 为画家朱鸣冈于 1954 年创作的水彩宣传画。如果设计这幅宣传画的标题，最合适的是



- A. 咱们要共同努力来建设社会主义 B. 家家分土地，户户干劲足
C. 吃饭不花钱，努力搞生产 D. 抗美援朝，保家卫国 公众号高中僧课堂

11. 许多欧美学者试图证明埃及文明来自于两河流域，非洲和美国黑人学者则极力强调古代埃及文明的黑非洲性质。近年来的考古发掘表明，古代埃及文明是一种原生文明，同时它又受到来自埃及以北和以南两个方向的影响。这说明

- A. 新史料的发现推动历史认知进步 B. 世界文明的进程具有多样性
C. 历史共识的确立需要批判性思维 D. 地理环境决定了文明的属性

12. 1040 年，米兰城的中小贵族和工商业者联合起来，赶走了大主教。1045 年，在出身贵族的人民领袖兰佐内的领导下，米兰城内的小贵族和城市工商业者开始融为一体，他们的联合被称为“和平联盟”。上述

现象

- A. 导致天主教会迅速衰微
- B. 瓦解了封君封臣之间的关系
- C. 推动了城市经济的发展
- D. 呈现了王权逐渐加强的趋势

13.18 世纪，英国学者约翰逊编写《诗人列传》，旨在探求诗的正确原则，正如他编撰其他一切著作旨在探求举世皆通、古今变化的道德原则一样。这一做法表明，当时的英国

- A.道德成为评判一切的标准
- B. 宗教改革思想深入人心
- C.文学创作世俗化倾向明显
- D. 自然科学成就影响广泛

14.1844 年，恩格斯在《英国工人阶级的状况》中指出，“现在阶级分化日益尖锐，反抗精神日益深入工人的心中，愤怒在加剧，不久的将来，一个小小的推动力就足以引起山崩地裂”。这一论述

- A.发展了科学社会主义理论
- B.指明了无产阶级解放的道路
- C. 促成了巴黎公社革命爆发
- D. 推动了资产阶级代议制确立

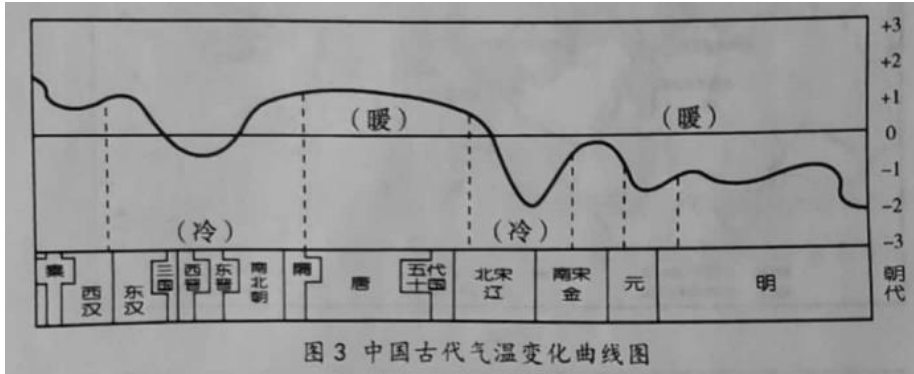
15.印度国大党领袖提拉克（1856—1920 年）宣称《薄伽梵歌》是印度“吠陀宗教树上所结的最甜蜜而不朽的果实”，他用《薄伽梵歌》论证其政治纲领的合理性。提拉克的做法

- A.复兴了印度的宗教文化传统
- B.巩固了国大党的领导地位
- C.打击了印度的封建顽固势力
- D.推动了印度民族解放斗争

二、非选择题：本题共 4 小题，共 55 分。

16.（14 分）阅读材料，回答问题。

材料一



——据邓小南等《宋：风雅美学的十个侧面》

材料二 表 3

文献材料	文献出处
礼宾院，掌回鹘、吐蕃、党项、女真等国朝贡馆设，及互市译语之事。	《宋史职官》
辽之先，出自炎帝……奇首（辽先祖名）生都奄山，徙潢河之滨。	《辽史太祖本纪》
朕（金世宗）所以令译五经者，正欲女直（真）人知仁义道德所在耳。	《金史世宗纪》
国朝土宇旷远，诸民相杂，俗既不同，论难遽定。考之前代，北方奄有中夏，必行汉法，可以长久。故后魏、辽、金历年最多，其他不能实用汉法，皆乱亡相继。	（元）许衡《许文正公遗书》

材料三

有学者指出，辽宋夏金元时期是由“小中国”向“大中国”转变的关键期。“小中国”指发源于中原农耕地带，以“车同轨、书同文、行同伦”的汉文化覆盖全部国家疆域作为理想目标，以“外儒内法”的专制君主官僚制作为统治模式的政权；“大中国”则指能对发源于汉地社会边缘的农耕——游牧交界地带的不同民族进行有效治理，并提供多样性发展空间的政权。

——摘编自日杉山正明《疾驰的草原征服者：辽西夏金元》

结合材料一和材料二，分析说明材料三的观点。（14 分）

17.(14 分)阅读材料,回答问题。

材料

民国学者对中国近代史起点的认识，有两种代表性的观点：“明清之际”开端与“鸦片战争”开端。

其一，“近代”始于明清之际。郑鹤声认为：“新航路发现以来，世界交通，为之大变，人类生活与国际关系，较之中古时代，显有不同之处，是即中古史与近世史之所由分界也。近世史之演变，有“继往开来”之趋势，其

一切表现,皆在根据往古事迹而发扬光大之。且推陈出新,由此而孕有未来之局势。故近世史之范畴,尖包括三四百年之历史,无论中西,大都皆然。”

其二,“近代”始于1840年鸦片战争。对鸦片战争为近代开端做出系统理论阐释的是李鼎声。李氏在《中国近代史》中表示:“我们之所以不以明末清初为近代史的开头而是近代发端于鸦片战争,理由是很简单的,明末清初不过是两个朝代的交替期,不能代表一个历史的大转变期。从鸦片战争后,中国才日益走上殖民地道路,在革命经济上,在阶级阵营上,以及文化思想上都表现了巨大的转变。”

20世纪30年代出版的20余种中国近代史著作大多以鸦片战争为开端。至1940年国民政府教育部将“中国近世史”列为历史系必修科目。鸦片战争开端说逐渐成为学界主流观点。

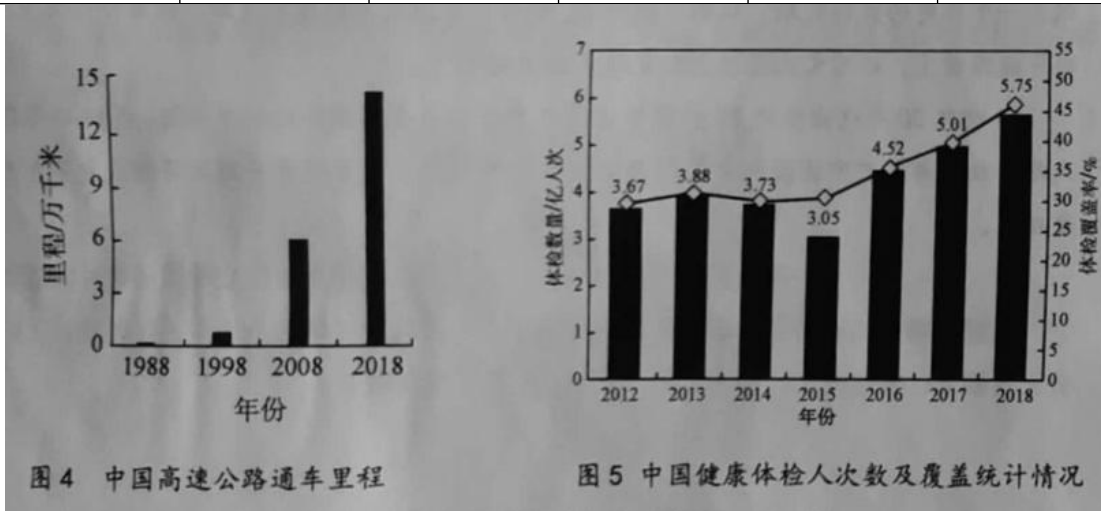
--摘编自赵庆云《何为“近代”--中国近代史时限问题讨论述评

根据材料并结合所学知识,对民国时期“中国近代史开端的争论”进行评述。(14分)(要求:表述成文、持论有据、论证充分、逻辑清晰)

18. (14分) 阅读材料, 回答问题。

材料从数据变化看社会发展
表4 1978—2018年中国经济数据表

年份	经济指标				
	国内生产总值/亿元	人均国内生产总值/元	工业增加值/亿元	农林牧副渔业增加值/亿元	进出口总额/亿元
1978	3678.7	385	1621.5	1072.5	355.00
1988	15180.4	1378	5814.1	3865.2	3821.80
1998	85195.5	6860	34134.9	14816.4	26849.68
2008	319224.6	24100	131727.6	33428.1	179921.47
2018	900309.0	64644	305160.0	67538.0	305050.0



- (1) 结合所学知识, 对材料中的数据变化进行合理解释。(8分)
- (2) 若进一步研究改革开放以来的社会发展, 你认为还需要从哪些方面补充史料并说明理由。(6分)
19. (13分) 某历史兴趣小组开展研究性学习, 搜集了以下历史地图。



图6



图7



图8

据张芝联《世界历史地图集》等

综合运用以上历史地图，设计历史习作主题及目录，并作简要介绍。（13分）

高三摸底检测历史试题参考答案

1-5: CDBAB 6-10: DCABA 11-15: ACDBD

16.

（1）从气候条件及其影响的角度作答；如：这一时期气候寒冷，北方游牧民族南下，建立少数民族政权，民族交融趋势加强。（3分）

（2）从政治制度的角度作答；如：辽、西夏、金沿袭汉法、因俗而治等。（3分）

（3）从经济交流的角度作答；如：各民族政权之间经济往来密切、互市贸易活跃等。（3分）

（4）从思想观念的角度作答；如：少数民族推崇儒家思想，华夏民族认同意识的增强等。（3分）

综上所述，辽宋夏金元时期，多民族政权并立与互动，促进了“小中国”向“大中国”的转变，巩固了统一多民族国家的新局面。（2分）

17.

（1）从背景角度作答：

西方史学的影响（西学东渐）；民族危机日益加深；中国知识分子积极进行学术研究，以时代进行历史分期，打破王朝史体系。（4分）

（2）从内容角度作答：

“明清之际说”从世界整体视角来分析中国历史，重视新航路开辟的影响，与世界近代史分期保持一致，试图从中国内部找出历史发展的原动力。（3分）

“鸦片战争说”从革命的视角来分析中国历史，强调列强对中国的侵略，重视鸦片战争对中国社会产生的重大影响。（3分）

（3）从影响角度作答：

“鸦片战争说”渐成主流，适应了时代形势的需要，激发了人们的爱国热情，有利于推动反帝运动的高涨；有助于中国近代史学科体系的构建。（4分）

18.

（1）公众号：高中试卷君解释：材料数据变化反映了我国经济与社会发展的巨大成就；我国主要经济指标有了跨越式发展；以高速公路为代表的基础设施建设迅速发展；医疗卫生事业有了长足发展。（2分）

家庭联产承包责任制的实行；城市经济体制改革全面展开；现代科技的发展；社会主义市场经济体制不断完善；对外开放，积极融入经济全球化。（4分）

巨大成就的取得有利于增强中国国际竞争力，提高国际地位，促进人民生活水平提升，体现了社会主义优越性。（2分）

（2）增加改革开放以来我国其他领域（外交、科技、文化、教育、体育等）的发展数据。可多角度说明社会发展的情况。（2分）

增加改革开放前我国社会发展数据。可提供纵向比较研究视角。（2分）

增加同时段其他国家社会发展数据。可提供横向比较研究视角。（2分）

19.

主题：走向整体的世界（1分）

目录：第一节 古代世界的文明交流

第二节 地理大发现和早期殖民扩张

第三节 改变世界的工业革命（3分）

简介：古代各个文明基本独立发展，表现出明显的多元特征。随着生产力的发展，游牧民族和海上民族迁徙出现，古代文明由分散逐步走向区域性联系。（3分）

16世纪，随着商品经济发展，资本主义萌芽产生，西方国家率先开辟了新航路，促进了世界动植物的大交流，各大洲之间的相对孤立状态被打破，人类历史逐步从分散走向整体。（3分）

19世纪，欧美等地相继发生两次工业革命，推动了国际贸易和交通运输业的发展，极大地改变了世界的面貌，世界市场逐渐形成，世界各地的联系日益紧密。（3分）