

成都市 2019 级高中毕业班第一次诊断性检测

文科综合

本试卷分选择题和非选择题两部分。第 I 卷（选择题）1 至 8 页，第 II 卷（非选择题）9 至 14 页，共 14 页；满分 300 分，考试时间 150 分钟。

注意事项：

1. 答题前，务必将自己的姓名、考籍号填写在答题卡规定的位置上。
2. 答选择题时，必须使用 2B 铅笔将答题卡上对应题目的答案标号涂黑，如需改动，用橡皮擦擦干净后，再选涂其它答案标号。
3. 答非选择题时，必须使用 0.5 毫米黑色签字笔，将答案书写在答题卡规定的位置上。
4. 所有题目必须在答题卡上作答，在试题卷上答题无效。
5. 考试结束后，只将答题卡交回。

第 I 卷（选择题，共 140 分）

一、选择题：本大题共 35 小题，每小题 4 分，共 140 分。在每小题给出的四个选项中，只有一项是符合题目要求的。

口袋公园是指对较小地块进行绿化，并配置座椅等便民服务设施的袖珍公园，常呈斑块状散落或隐藏在城市中。城市中各种街心花园、社区运动场所、小型绿地等都是常见的口袋公园。据此完成 1~2 题。

1. 与传统城市公园相比，口袋公园
 - A. 服务范围广
 - B. 间隔较远
 - C. 服务种类多
 - D. 数量较多
2. 口袋公园的核心功能是
 - A. 提供休闲场所
 - B. 缓解热岛效应
 - C. 增加生物多样性
 - D. 减少城市内涝

新昌县位于浙江省东部山区，是著名的工业县，有“轴承之乡”“纺机基地”之称。为促进产业优化升级，2021 年初新昌县出资在杭州建成“科创飞地”——杭州紫金科创港，吸引新昌本地企业及新兴产业的研发部门入驻，实现了“研发在杭州，生产在新昌”的发展模式。据此完成 3~5 题。

文科综合“一诊”考试题 第 1 页（共 14 页）

3. 新昌县选择在杭州建设“科创飞地”，主要因为新昌县
 - A. 工业基础较差
 - B. 人才吸引力弱
 - C. 劳动力价格高
 - D. 基础设施落后
4. 新昌本地企业研发部门入驻紫金科创港，主要目的是
 - A. 扩大生产规模
 - B. 降低研发费用
 - C. 降低用工成本
 - D. 提升研发能力
5. “科创飞地”模式体现了
 - A. 城乡统筹创新
 - B. 科学技术创新
 - C. 生产工序创新
 - D. 区域协同创新

图1中①→②→③→④示意我国南方某气象站经历的一次冻雨天气气温(°C)变化过程。研究发现，此次冻雨天气是冰雪降落至0°C以上的大气层融化，到达近地面与0°C以下的地表物体接触冻结而成。据此完成6~8题。

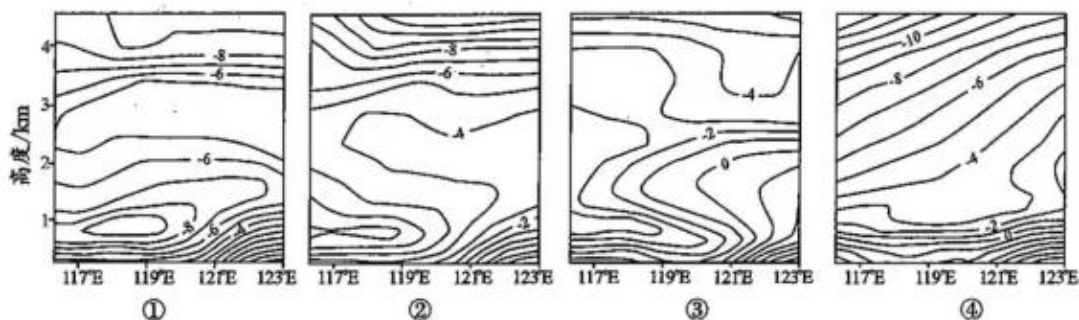


图1

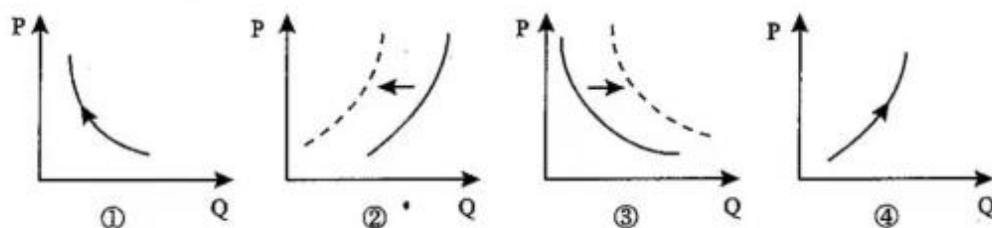
6. 出现冻雨天气的时段是
 - A. ①
 - B. ②
 - C. ③
 - D. ④
7. 造成此次冻雨天气的主要原因是
 - A. 暖气流侵入冷气团
 - B. 冷气流持续影响
 - C. 冷气流侵入暖气团
 - D. 暖气流持续影响
8. 监测发现气象站附近山区此次冻雨历时更长，其主要影响因素可能是
 - A. 水汽含量
 - B. 植被覆盖度
 - C. 地表温度
 - D. 土层厚度

全球气候变化对高山冰雪消融影响显著。表1为1961—2012年天山冰雪面积随海拔升高的累积退缩率。调查发现，与4000—5000米相比，天山海拔5000米以上区域冰雪覆盖率较高，但冰雪面积较小；5000米以上区域冰雪覆盖率夏季高于冬季。据此完成9~11题。

表 1

海拔/米	<3000	3000~4000	4000~5000	>5000
累积退缩率	2.35	3.06	3.40	3.42

9. 表中数据表明, 随海拔升高天山冰川退缩速度变化表现为
- A. 慢→快 B. 快→慢 C. 快→慢→快 D. 慢→快→慢
10. 天山 5000 米以上区域冰雪覆盖率夏季高于冬季的主要原因是夏季
- A. 植被覆盖高 B. 降雪较多 C. 风力较大 D. 融雪量较小
11. 天山 5000 米以上区域冰雪面积较小主要是因为
- A. 太阳辐射强 B. 大气降水少 C. 山体面积小 D. 山体坡度小
12. 2021 年 1—10 月, 我国动力煤现货价格由 694 元/吨飙升至 2400 元/吨。与此同时, 9 月以来我国多地出现拉闸限电现象。为保障电力供给, 10 月 8 日召开的国务院常务会议决定, 将市场交易电价浮动范围由分别不超过 10%、15%, 调整为均不超过 20%。不考虑其他因素, 上述现象带来的经济影响用图示 (P 表示火电价格, Q 表示火电数量) 表示正确的是



- A. ①→③ B. ①→④ C. ②→③ D. ②→④
13. 吃月饼是中秋节的传统习俗。以前, 月饼更像是一种“人情礼券”, “买的人不吃, 吃的人不买”, 装进高档包装盒里, 价格就能翻倍卖。近年来, 月饼一改往日“华贵”形象, 走起了“简约轻装”新路子。2021 年礼盒类月饼销售占比大幅下降, 而散装月饼则呈现“爆单”状态。这种变化表明
- ①月饼既要“文化味”, 也要“节俭美”
②人们的消费观念更趋理性, 更重实效
③月饼的礼品属性逐渐回归到商品属性
④月饼使用价值减少降低了月饼的价值
- A. ①② B. ①④ C. ②③ D. ③④

14. 近年来,互联网平台催生的新就业形态,成为我国吸纳就业的重要渠道。2021年11月,J公司召开首次集体协商会议,公司代表和职工代表(快递员、仓储分拣员、货运司机等)就劳动报酬、劳动安全、保险福利等事项开展协商,形成集体合同(草案),提交公司职代会审议。通过集体协商签订合同
- ①是保障新就业形态劳动者主人翁地位的前提
 - ②是破解新就业形态劳动者维权难的重要抓手
 - ③有利于构建和谐劳动关系,助力新经济发展
 - ④有效保障了新就业形态劳动者平等就业权利
- A. ①③ B. ①④ C. ②③ D. ②④
15. 近年来,我国石油、天然气对外依存度逐年上升,2020年达到73%和43%。中国作为制造业大国,要发展实体经济,能源的饭碗必须端在我们自己手里。对此认识正确的是
- ①能源是经济发展的重要支撑,关系着国家经济安全
 - ②减少进口量是降低我国油气对外依存度的关键所在
 - ③要推动我国能源消费革命,逐步减少能源消费总量
 - ④要立足国内保供给,积极发展新能源和可再生能源
- A. ①③ B. ①④ C. ②③ D. ②④
16. 杭州某航空工业公司为多家飞机制造企业生产零部件,对产品安全性和精准度要求十分苛刻。公司采用新的校企联合培养模式,学员两年在职院学习,一年在公司实践操作。职院专门为航空班编制教材,学校和公司各派教师和老师傅,以“带徒弟”方式进行理论教学和实操训练。这种“校中厂”或“厂中校”职教模式
- ①彰显了职业教育在我国国民教育体系中的平等地位
 - ②完善了专业技术人才激励机制,充分激发人才活力
 - ③是培养更多符合产业需求的高技能人才的有效途径
 - ④利于深化产教融合,推动现代职业教育高质量发展
- A. ①② B. ①③ C. ②④ D. ③④
17. 发展社会主义市场经济必须处理好做大蛋糕与分好蛋糕的关系。有人认为:“实现共同富裕,关键在于把蛋糕分好。”这一观点
- ①看到了合理的分配政策对共同富裕有重要作用
 - ②否定了高质量发展是实现共同富裕的物质基础
 - ③强调了实现共同富裕需要把效率放在首要位置
 - ④忽视了群众的积极性对经济发展具有重要影响
- A. ①② B. ①③ C. ②④ D. ③④

文科综合“一诊”考试题 第4页(共14页)

18. 工业生产者出厂价格指数 (PPI) 与居民消费价格指数 (CPI) 分别反映了生产领域与消费领域的商品和服务价格变动。一般情况下, 一国 PPI 持续上涨, 会推动该国 CPI 上行。下列由 PPI 向 CPI 传导路径正确的是
- ①原材料价格上涨→消费品工业企业支出增多→工业消费品生产成本增加→消费品价格上涨
 - ②原材料价格上涨→消费品工业企业利润增加→工业消费品生产规模扩大→消费品价格上涨
 - ③农业基本生产资料价格上涨→农业生产盈利能力削弱→农产品需求增加→农产品价格上涨
 - ④农业基本生产资料价格上涨→农业生产比较收益下降→农产品供给减少→农产品价格上涨
- A. ①③ B. ①④ C. ②③ D. ②④
19. 根据宪法和选举法规定, 全国县乡两级人民代表大会自 2021 年起将陆续换届。其主要程序包括: 设立选举委员会——划分选区——选民登记——提出候选人——候选人情况介绍——投票选举——公布选举结果——召开新一届人大第一次会议。对此解读正确的是
- ①县乡人大换届选举是加强基层政权建设的重要基础
 - ②年满 18 周岁的中国公民, 都可以参加选区选民登记
 - ③换届过程充分体现了社会主义协商民主的显著优势
 - ④民主集中制是人民代表大会制度的组织和活动原则
- A. ①② B. ①④ C. ②③ D. ③④
20. 2021 年 3 月, 由公安部刑事侦查局组织开发的“国家反诈中心”App 正式上线。该款 App 集报案助手、举报线索、诈骗预警、反诈宣传等多种功能于一体。当您收到可疑诈骗电话、短信, 或安装可疑诈骗 App 应用时, 它可以智能识别骗子身份并提前预警。这体现了相关部门
- ①履行专政职能惩治电信领域犯罪活动 ②运用现代信息技术提升社会治理能力
 - ③有效构筑信息社会反诈反诈“防火墙” ④坚持司法为民, 守好群众的“钱袋子”
- A. ①③ B. ①④ C. ②③ D. ②④
21. Y 省纪委监委从人大代表、政协委员、专家学者、主流媒体、街道社区等系统和部门聘请 26 名代表组成“阳光监督员”队伍。阳光监督员可定期参加干部监督有关调研活动、监督检查、业务培训及工作座谈, 列席有关会议, 提出意见、建议等。实行“阳光监督员”制度
- ①扩大了人民群众民主监督的权利
 - ②丰富了社会主义民主的实现形式
 - ③强化了纪检监察机构的内部监督
 - ④回答了“谁来监督监督者”问题
- A. ①③ B. ①④ C. ②③ D. ②④

文科综合“一诊”考试题 第 5 页 (共 14 页)

22. 2021年10月13日,习近平主席在中央人大工作会议发表讲话指出,各级人大及其常委会要成为自觉坚持中国共产党领导的政治机关、保证人民当家作主的国家权力机关、全面担负宪法法律赋予的各项职责的工作机关、始终同人民群众保持密切联系的代表机关。对此认识正确的是
- ①坚持党的领导是坚持和完善人大制度的首要前提
②人民当家作主是人大制度形成和发展的核心要义
③行使国家立法权是各级人民代表大会的重要职能
④保持同人民群众密切联系是人大代表的基本权利
- A. ①② B. ①④ C. ②③ D. ③④
23. 在2021年8月召开的中央民族工作会议上,习近平总书记强调必须以铸牢中华民族共同体意识为新时代党的民族工作的主线。铸牢中华民族共同体意识
- ①是我国民族区域自治制度的核心内容
②能夯实我国民族关系发展的思想基础
③要减少各民族风俗习惯等方面的差异
④要始终把中华民族整体利益放在首位
- A. ①② B. ①③ C. ②④ D. ③④
24. 孔子曾经倡言:“远人不服,则修文德以来之。”孔门弟子子夏进而提出“四海之内皆兄弟也”的命题;孟子也指出,东夷之人的舜和西夷之人的周文王,均以高尚的品德和卓越的事功“得志行乎中国”。这些言论反映了当时
- A. 以德治国思想的新发展 B. “大一统”观念深入人心
C. 文化认同已进至新境界 D. 儒学成为主流意识形态
25. 据司马迁《史记》等记载,胡亥当政时期法令和吏治严苛、赋敛无度、百姓因穷而皇帝却不收容救济。近年湖南出土的《秦二世元年十月甲午诏书》则展现出胡亥重视赦免罪人、“德惠”吏民的皇帝形象。这说明
- A. 秦亡的传统认识已被颠覆 B. 研究历史需多重证据
C. 出土文献相对更具可信度 D. 秦末的历史得到厘清
26. 《唐律疏议》明确规定:“(私藏)弩一张,加二等(处罚);甲一领及弩三张,流两千里;甲三领及弩五张,绞。”“若化外人(外国人)来为间谍,或传书信与化内人(本国人),并受化外书信,知情容止(包庇)者,并绞。”这说明唐王朝
- A. 刑法细密严酷 B. 加强边疆地区管控
C. 对外交往收紧 D. 重视维护国家安全

27. 南宋高宗时，监察御史方庭实上疏反对向金人求和，他指出“天下者……群臣、万姓、三军之天下，非陛下之天下”。孝宗死时，因光宗拒不主持丧礼，导致政局动荡，众大臣在征得太皇太后同意后，强迫光宗禅位于宁宗。这可以用来说明，当时
- A. 皇权受到文官体制的威胁 B. 伦常观念受到冲击
C. 士人“与君共治”意识强烈 D. 社会矛盾日益尖锐
28. 清嘉庆年间（1796—1820），四川各州府官员统计上报辖地人口时，大都认为“户口虚实无关政要”。1820年与1812年相比，各州府上报人口除泸州只增加2.5%之外，其余州府增幅在20%—30%以上，最高达55.1%。这折射出清朝中期
- A. 州府虚增人口敛财成风 B. 政府对民众人身控制有所放松
C. 农业经济迅速恢复发展 D. 原有的基层治理体系逐渐瓦解
29. 19世纪40年代以后，上海地区的农民多从传统的棉稻种植转向蔬菜种植，每年六七熟，获利较多，洋葱、马铃薯、“欧洲种”花菜等种植者日多，蔬菜在当地种植结构中占据重要地位。这种转变
- A. 得益于稻粮产量的迅速提升 B. 实现了传统产业向近代转型
C. 满足了民族工业的市场需求 D. 反映了上海城市规模的扩张
30. 清末时期，严复曾经提出“母健儿肥”，实现强母、强儿、强国、强种。梁启超反对妇女缠足，更进一步希望妇女读书识字，投入经济生产。他们意在倡导
- A. 解放女性以实现自由和平等 B. 增强民力启发民智以挽救危机
C. 发展体育运动以增强国民体质 D. 革新风俗以推动民族民主革命
31. 图2为1906年《北京画报》刊出的《恭贺立宪》，再现了当时学生队伍举着大清龙旗和“日新学堂”“恭贺立宪”的旗子，途经《中华报》等新式报馆时喜气洋洋的场景。半个月后，赞成立宪的《中华报》因涉嫌质疑立宪虚实被清廷查封。由此可知



图2

- A. 清廷统治基础正在萎缩 B. 晚清新学主导社会发展
C. 改良主义顺应时代潮流 D. 民众参政意识不断高涨

文科综合“一诊”考试题 第7页（共14页）

32. 20 世纪二十年代，在中国社会主义青年团机关刊物《中国青年》创刊初期，共产党员恽代英、萧楚女等人通过通信栏与青年交流互动，主要内容如表 2。这些交流互动

表 2

政治问题	文化教育问题	生活问题
揭露帝国主义与军阀压迫民众情形 探讨政治运动 指导青年“到民间去”开展农村运动	揭露反动教育界压迫学生的情形 开展教育斗争 研究社会科学	关于家庭 关于婚恋 关于就业

- A. 扩大了中国共产党的阶级基础 B. 提升了国民革命的社会氛围
C. 催生了家庭革命与教育革命 D. 推动了土地革命的深入发展
33. 20 世纪四十年代中期，成都茶馆最多时达到 1000 多家，茶馆从业者近 10 万人，比 1931 年时的茶馆数量多了近一倍，从业人数多了近 9 倍。由此可知，当时的成都
- A. 民族文化得到弘扬 B. 市民生活闲适安逸
C. 传统经济模式稳固 D. 社会人口流动增强
34. 表 3 是 1962—1965 年资本主义国家自费来华游客统计表（部分）。该表所反映的现象出现的主要原因是

表 3

	1962 年	1963 年	1964 年	1965 年
人数（单位：人）	约 50	约 400	1289	3915
所占外国来华游客总数比例	5%	39.8%	53.3%	87%

- A. 中国的外交战略发生调整 B. 和平与发展已经成为世界潮流
C. 中国的国际地位显著提升 D. 万隆会议打开中国外交新局面
35. 1983 年，上海美术电影制片厂制作了动画片《蝴蝶泉》，以中国山水画的雅致秀美为基调，艺术地再现了白族青年猎人霞郎与蝶妹的忠贞爱情故事。此后，这类艺术风格的作品相继出现。这反映出
- A. 对外开放孕育了社会创新活力 B. 党的民族政策推动了思想解放
C. 社会变革助推了传统文化复苏 D. 市场经济繁荣决定了文艺风尚

第Ⅱ卷（非选择题，共 160 分）

二、非选择题：共 160 分。第 36~42 题为必考题，每个试题考生都必须作答。第 43~46 题为选考题，考生根据要求作答。

（一）必考题：共 135 分

36. 阅读图文资料，完成下列要求。（24 分）

压砂地是干旱地区在土壤表面铺设 10—20cm 砾石和粗砂覆盖层的耕地。2000 年以来，宁夏中卫市大量林草地、坡地被开垦为压砂地，连年大规模砾砂瓜种植，促进了经济发展，但同时也出现了环境问题。2021 年，当地启动压砂地修复工程，压缩砾砂瓜种植面积。图 3 左图示意宁夏中卫市的位置，右图为压砂地西瓜种植景观。

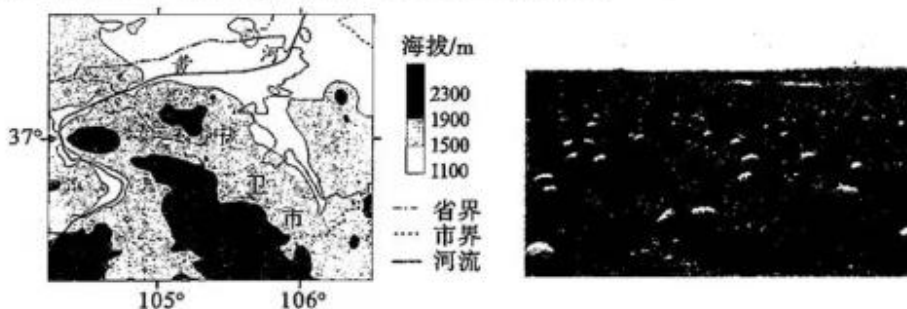


图 3

- (1) 从土壤角度简析中卫市发展种植业的不利条件。（6 分）
- (2) 与覆盖前相比，分析春季压砂地耕作土层温度较高的原因。（6 分）
- (3) 说出压砂地连年大规模砾砂瓜种植可能出现的环境问题。（6 分）
- (4) 从三大产业发展角度，请你为当地农业的可持续发展提出合理化建议。（6 分）

37. 阅读图文材料，完成下列问题（22 分）。

季节性洪沟是季节性河流流经的沟谷。图 4 示意黄河上游某区域十大季节性洪沟分布，该区域受风力与流水作用影响显著。暴雨时洪沟径流含沙量极高，洪沟下游水位迅速上涨，大量泥沙输入黄河。20 世纪 90 年代以来，该区域通过植被修复、打坝淤地等措施，输入黄河的泥沙明显减少，生态环境改善。

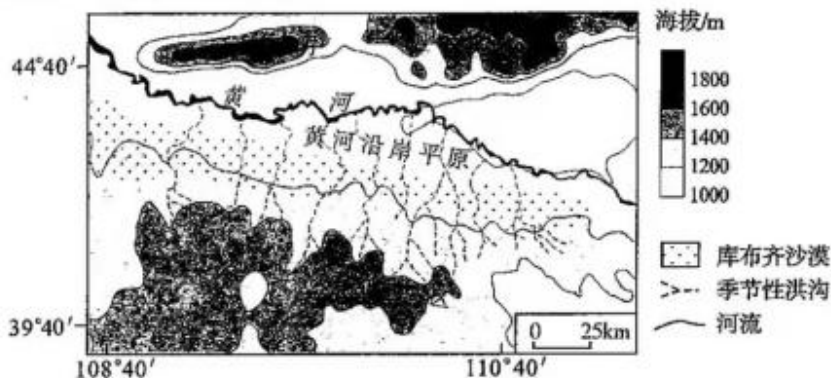


图 4

文科综合“一诊”考试题 第 9 页（共 14 页）

- (1) 分析暴雨时洪沟下游水位迅速上涨的原因。(8分)
- (2) 分析季节性洪沟中泥沙的主要来源。(6分)
- (3) 洪沟打坝淤地后入黄泥沙减少,试分析原因。(8分)

38. 阅读材料,回答下列问题。(12分)

目前,中小企业贡献了我国70%以上的技术创新成果,创造了80%以上的新产品。但中小企业自身积累少、资本实力相对弱,长期面临融资难、融资贵的问题,迫切需要资本市场的支持。

2021年9月2日,习近平主席在中国国际服贸会全球峰会上宣布:继续支持中小企业创新发展,设立北京证券交易所(以下简称“北交所”),打造服务创新型中小企业主阵地。

9月3日,北交所正式成立。

9月17日,北交所发布《投资者适当性管理办法(试行)》,为投资者设立准入门槛。

11月15日,北交所正式开市,我国由此形成京、沪、深三地交易所功能互补、各具特色、各显优势的证券市场新格局。首批上市81家公司,17家为专精特新“小巨人”企业,先进制造业、现代服务业、战略新兴产业等占87%。

结合材料和经济生活知识,说明我国设立北京证券交易所的重要意义。(12分)

39. 阅读材料,回答下列问题。(12分)

实现中华民族伟大复兴,是近代以来中华民族最伟大的梦想。无数仁人志士不屈不挠、前仆后继,但都以失败告终。1921年中国共产党的诞生,深刻改变了近代以来中华民族发展的方向和进程。

十九届六中全会指出:一百年来,党领导人民浴血奋战、百折不挠,创造了新民主主义革命的伟大成就;自力更生、发愤图强,创造了社会主义革命和建设的伟大成就;解放思想、锐意进取,创造了改革开放和社会主义现代化建设的伟大成就;自信自强、守正创新,创造了新时代中国特色社会主义的伟大成就。

党和人民百年奋斗,书写了中华民族几千年历史上最恢宏的史诗。中华民族迎来了从站起来、富起来到强起来的伟大飞跃,实现中华民族伟大复兴进入不可逆转的历史进程。

历史和现实都证明,没有中国共产党,就没有新中国,就没有中华民族伟大复兴。结合材料和所学政治生活知识加以说明。(12分)

40. 阅读材料,回答下列问题。(28分)

材料一 2021年9月,中办、国办印发《关于深化生态保护补偿制度改革的意见》指出,实施纵横结合的综合补偿制度,促进生态受益地区与保护地区利益共享。

文科综合“一诊”考试题 第10页(共14页)

新安江，发源于安徽徽州（今黄山市），流入浙江千岛湖。多年前，由于上游水质持续恶化，千岛湖污染问题日趋严重。2012年，皖浙两省实施横向生态补偿首轮试点：中央财政每年拿出3亿元，皖浙各拿1亿元，按照“谁受益谁补偿、谁保护谁受偿”原则，以两省跨界断面水质的监测数据为依据，年度水质达标，浙江补偿安徽1亿元，反之安徽补偿浙江1亿元。中央财政的3亿元全部拨付给安徽，用于新安江治理。

安徽把新安江综合治理作为生态强省建设的“一号工程”。黄山市累计关停污染企业220多家，整体搬迁企业90多家；植树造林39万亩，森林覆盖率由77.4%提高到82.9%。黄山市与社会资本共同设立新安江绿色发展基金，把生态补偿资金变为资本，主要投向生态治理和绿色产业发展。试点八年来，新安江流域综合治理取得明显成效，连年达到补偿标准。

材料二 生态文明是人类文明发展的历史趋势。2021年10月11日，联合国《生物多样性公约》第十五次缔约方大会（COP15）在云南昆明开幕，会议主题为“生态文明：共建地球生命共同体”。

中国是生物多样性最丰富的国家之一，也是最早加入《生物多样性公约》的国家之一。过去十年，中国森林资源增长面积超过7000万公顷，居全球首位；中国创造性提出并建立生态保护红线制度，这一做法成功入选联合国15个精品案例。2019年以来，中国成为《生物多样性公约》及其议定书核心预算的最大捐助国。中国积极开展野生动植物保护、荒漠化防治等方面的国际合作，引领全球生物多样性保护进程。

10月12日，习近平主席在COP15领导人峰会上宣布，中国将率先出资15亿元人民币，成立昆明生物多样性基金，支持发展中国家生物多样性保护事业。

(1) 结合材料一和所学经济知识，说明新安江治理模式对促进生态文明建设的重要作用。(12分)

(2) 结合材料二和国际社会的相关知识，说明中国在维护生物多样性方面做出的努力是如何彰显大国担当的。(12分)

(3) 生物安全是国家总体安全的重要组成部分，包括新发突发传染病、外来物种入侵、生物实验室安全、生物技术滥用、国家重要遗传资源和基因数据流失等。假如你所在社区要开展维护生物安全的宣传活动，请你设计两个活动方案。（要求：活动方案须体现形式与内容的统一。）(4分)

41. 阅读材料，完成下列要求。(25分)

材料一 20世纪二三十年代，上海失业人口一度高达60余万人。南京国民政府成立后，上海市政府开办了一些传习所，又筹集民间资本兴办了一些民生工厂，前后安置失业工人数千。在开展国民经济建设运动振兴实业的同时，政府还兴办了主要培养青年学生劳动技能的职业教育。抗战胜利后，南京国民政府通过法规，把失业保险列为重要险种，但由于资金缺乏而无法推行。受多种因素制约，上海市政府治理失业的成效并不显著。

——据谭玉秀《民国时期城市失业问题及其对策研究》

材料二 建国初期，上海失业人口高达67万余人。在政府拨款救济的同时，上海总工会发出“全市在业工人捐助一天工资”的号召，得到了全市工人的踊跃支持，全国人民也开展了对上海失业工人的捐助运动。上海市政府鼓励来自周边各省的失业工人回乡生产，并得到了当地政府的大力支持。在“一五”计划实施期间，政府严格控制资本家解雇工人。1957年，上海失业人口降至3万余人。

——据吴文俊《上海失业问题及其治理研究(1949—1957)》

材料三 20世纪九十年代以来，由于大量简单劳动岗位消失，上海失业人口剧增。2001年，上海启动“4050项目”，将40岁以上的女性和50岁以上的男性列为重点帮扶的再就业群体。所有“4050项目”都必须经过社会公开招标，中标者在政府扶持和市场中介监督下实施。政府还鼓励大龄下岗职工自主创业，由政府给予免费指导、培训和税费减免。五年来，上海创造了职业培训100万人，再就业近百万人的奇迹。

——据宸星《让百万下岗职工走上就业路》

(1) 根据材料一并结合所学知识，概括南京国民政府治下的上海解决失业问题措施的特点，并分析其解决失业问题成效不佳的原因。(12分)

(2) 根据材料二并结合所学知识，分析新中国成立初期上海解决失业问题的意义。(7分)

(3) 根据材料二、三并结合所学知识，指出与新中国成立初期相比，上海21世纪初解决失业问题措施的新变化。(6分)

42. 阅读材料，完成下列要求。(12分)

典籍中的北宋相国寺

太祖皇帝初幸相国寺，至佛像前……问当拜与不拜？(僧官)奏曰：“不拜。”问其何故，对曰：“见(现)在佛不拜过去佛。”太祖会心一笑。——(宋)欧阳修《归田录》

东京相国寺乃瓦市也……凡商旅交易，皆萃其中，四方趋京师以货物求售他物者，必由于此。太宗皇帝……命重建三门……亲填金字(匾)额，曰“大相国寺”。

——(宋)王楙《燕翼诒谋录》

相国寺每月五次开放，万姓交易……无所不有。——(宋)孟元老《东京梦华录》

文科综合“一诊”考试题 第12页(共14页)

本朝进士题名，皆刻石于相国、兴国两寺，盖效（唐）慈恩（寺）也。	——（宋）高似孙《纬略》
天子……（按例）上元（节）幸集禧观、相国寺。	——（元）脱脱《宋史》
国朝凡水旱灾异，有祈报（祈求和酬谢上天）之礼（于相国寺）。	——（清）徐松《宋会要辑稿》
辽国人使（使臣）于相国寺、集禧观拈香，不依旧例重行立（两列站立），其馆伴使副（宋接待官员）……不合依随（没有纠正）……罚金三十斤。	——（宋）李焘《续资治通鉴长编》
（帝）赐高丽使人（使臣）相国寺烧香。	——（宋）慕容彦逢《摘文堂集》

根据材料并结合所学知识，请围绕“从相国寺看北宋”这一话题，自拟题目，撰写一篇历史小论文，解读北宋的社会面相。（要求：可围绕一种或多种面相进行解读。论题明确，论证充分，表述清晰）

（二）选考题：共 25 分

请考生在第 43、44 两道地理题中任选一题作答，如有多做，则按所做第一题计分。并用 2B 铅笔在答题卡上把所选题目题号后的方框涂黑。

43. [地理——选修 3：旅游地理]（10 分）

牙林铁路（牙克石—满归）是一条因林业而兴起的铁路，大兴安岭林区全面禁伐之前，一直是木材运输的大动脉。该铁路现在以客运为主，是铁路迷心中经典的慢火车线路，受到越来越多的游客追捧。图 5 为牙林铁路位置图。

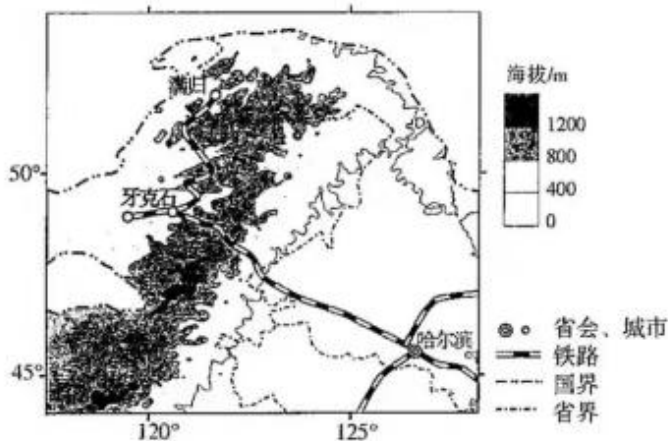


图 5

说明牙林铁路“慢火车线路游”受到游客追捧的原因。

44. [地理——选修 6：环境保护]（10 分）

极小种群野生物种数量少，随时面临灭绝危险，云南省通过一系列保护措施使得极小种群野生物种得到培育壮大。图 6 示意云南省极小种群野生物种保护时间轴。

文科综合“一诊”考试题 第13页（共14页）



图 6

简述云南北极小种群野生物种濒临灭绝的原因及当地可能采取的保护措施。(10分)

请考生在第 45、46 两道历史题中任选一题作答，如果多做，则按所做第一题计分。并用 2B 铅笔在答题卡上把所选题目题号后的方框涂黑。

45. [历史——选修 1：历史上重大改革回眸] (15 分)

材料 西汉武帝时，政法苛严，酷吏辈出，连朝廷大臣也“安危不可知”；其统治后期，更是贿赂公行，冤狱遍地。汉昭帝（前 87 年—前 74 年在位）曾颁布特赦令，把汉武帝时遗留的积案一次清理，全部免于究治。汉宣帝（前 74 年—前 48 年在位）继位后，亲自审理案件，宣布“子首匿（隐藏罪行）父母，妻匿夫，孙匿大（祖）父母”都不再连坐，下令凡触犯他名讳的人免于刑事追究，并恢复文景时期平（公平）狱缓（和缓）刑的传统政策。汉宣帝设置“廷尉平”官职四人，专助廷尉决疑案，平冤狱，把治狱的好坏作为考核官吏的一项重要内容。这一政策调整，使宣帝时“政教明，法令行”，西汉王朝得以继续维持兴盛。

——据顾奎相、陈澧《中国古代改革史论》等

(1) 根据材料并结合所学知识，概括汉宣帝刑狱改革的特点。(7 分)

(2) 根据材料并结合所学知识，分析汉宣帝刑狱改革的影响。(8 分)

46. [历史——必修 4：中外历史人物评说] (15 分)

材料 何刚德（1855—1936 年），福州人。他在任江西抚州知府期间，设农局，开农学课，走访调查农产情况，撰成《抚郡农产考略》。与强调粮食自给的传统农书相比，何刚德在书中记述了多种农作物的详细售价及其变动情况。他鼓励农民在“棉花行中隙地”种芝麻，“棉花地旁者”种绿豆……还主张用当地的甘蔗加工制糖，用竹子加工造纸等。他曾发出“西法能以萝卜酿酒，本省郡产萝卜，仅供蔬菜之用，有利源而不知，可惜也”的感叹。《抚郡农产考略》于 1903 年完成后，为农商部所采，为乡农之参助，部分文字连载于《江西官报》，但书中很多合理可行的举措并未达到理想实效。

——据张志翔等《何刚德〈抚郡农产考略〉农业经济思想初探》

(1) 根据材料并结合所学知识，概括何刚德的农业经济思想。(8 分)

(2) 根据材料并结合所学知识，简要评价何刚德的农业经济思想。(7 分)

成都市 2019 级高中毕业班第一次诊断性检测

文科综合参考答案及评分意见

第 I 卷(选择题,共 140 分)

- | | | | | | | | |
|-------|-------|-------|-------|-------|-------|-------|-------|
| 1. D | 2. A | 3. B | 4. D | 5. D | 6. C | 7. A | 8. C |
| 9. B | 10. B | 11. C | 12. D | 13. A | 14. C | 15. B | 16. D |
| 17. A | 18. B | 19. B | 20. C | 21. D | 22. A | 23. C | 24. C |
| 25. B | 26. D | 27. C | 28. B | 29. D | 30. B | 31. A | 32. B |
| 33. D | 34. A | 35. C | | | | | |

第 II 卷(非选择题,共 160 分)

36. (24 分)

(1)气候干旱,蒸发强,土壤墒情差(含水量少);有机质含量低,土壤贫瘠(肥力低);风力侵蚀作用强,土层浅薄;蒸发旺盛,土壤含盐量相对较高;土壤颗粒粗、空隙大,水分易渗漏、蒸发。(每点 2 分,答对三点得 6 分)

(2)春季多大风,冷空气活跃,因覆盖层(砂石层)阻隔,受冷空气影响小;水分蒸发少,土壤热量损耗少;土壤含水量较高,热容量大,散热慢;覆盖层阻隔土壤热量散失,具有保温效果;砂石层粗糙不平整,更利于吸热。(每点 2 分,答对三点得 6 分)

(3)加剧水资源短缺;生物多样性减少;加剧土地荒漠化(盐碱化);土壤退化,土壤肥力下降;造成土壤污染。(每点 2 分,答对三点得 6 分)

(4)增加作物种类,发展林果业和畜牧业,调整农业结构(2 分);发展农产品加工工业,提高附加值(2 分);发展农业观光旅游等,促进经济发展(2 分)。

37. (22 分)

(1)植被覆盖率低,涵养水源能力弱;暴雨降水强度大,上游来水量大;上游沟谷多,汇水量大;地势起伏大,流程短,汇水速度快;下游河段地势低平,排水速度慢;下游泥沙淤积严重,河床抬高,水位上升快;黄河水量丰富,顶托作用强。(每点 2 分,答对四点得 8 分)

(2)黄土丘陵和库布齐沙漠土质疏松,植被稀疏,易被外力侵蚀(2 分),暴雨和洪水冲刷地表,大量泥沙进入洪沟(2 分);冬春季,大风携带的沙粒在洪沟沉积(2 分)。

(3)拦蓄洪沟径流,减少下游水量,减缓径流流速,流水冲刷和搬运能力下降(4 分);拦截泥沙,进入黄河泥沙减少(2 分);淤地坝植被恢复固沙能力提高(2 分)。

38. (12 分)

①拓宽中小企业融资渠道,解决融资难、融资贵问题,助力其成长壮大;(3 分)

②落实创新发展战略,推动我国制造业升级转型,提升自主创新能力,推动我国科技自立自强;(3 分)

③完善多层次资本市场体系,提高资金使用效率,增强金融服务实体经济的能力。(3 分)

文科综合“一诊”参考答案 第 1 页(共 4 页)

④拓展居民投资渠道,有利于增加居民投资收益。(3分)

【评分细则】:①“拓宽融资渠道”,1分;“解决融资难、融资贵问题”,1分;“助力其成长壮大”,1分。②“创新发展战略”或“自主创新能力”,“推动产业结构升级转型”,2分,“推动我国科技自立自强”或“建设创新型国家”,1分。③每句1分。④“拓展投资渠道”,2分;“增加投资收益”或者“调动投资积极性”,1分。

39.(12分)

①党始终坚持以马克思主义为指导,结合国情不断推进理论创新和实践创新,找到了中国革命、建设和改革的正确道路,为民族复兴指引了一条康庄大道。(3分)

②党是领导我们事业的核心力量,总揽全局、协调各方,团结带领中国人民在百年奋斗历程中创造了四个伟大成就,为实现民族复兴奠定了坚实基础。(3分)

③党始终牢记初心使命,坚持人民至上,赢得全国人民的衷心拥护,为民族复兴凝聚起磅礴力量。(3分)

④党勇于自我革命,全面从严治党,永葆党的先进性和纯洁性,不断提高党的执政能力和领导水平,不断提高应对民族复兴道路上各种风险考验的能力。(3分)

【评分细则】:①关键词“马克思主义”“创新”“正确道路”,一个1分。②“领导核心”,1分;“创造四个伟大成就”,1分,“为实现民族复兴奠定了坚实基础”,1分。③“初心使命”或者“人民至上”,2分;“赢得人民拥护”或“凝聚磅礴力量”,1分。④“自我革命”或者“全面从严治党”,1分;“先进性和纯洁性,执政能力和领导水平”,1分;“提高应风险考验能力”,1分。

40.(28分)

(1)①完善生态保护补偿制度,健全生态文明制度体系,提高生态治理能力。(3分)

②贯彻“谁受益谁补偿、谁保护谁受偿”原则,实现生态保护者和生态受益者良性互动,激发全社会参与生态保护的积极性。(3分)

③发挥财政的积极作用,加大中央财政转移支付力度,充分调动地方政府加强生态保护的积极性。(3分)

④运用市场机制,促进社会资本参与生态建设,实现经济效益、社会效益和生态效益的统一。(3分)

【评分细则】:①每句1分。若答“建设美丽中国”或者“为生态文明建设提供制度保障”,可得1分,总分不超过3分。②每句1分。若答“形成生态保护合力”或者“促进利益共享”,可得1分,总分不超过3分。③“发挥财政作用,中央财政转移支付”,答出1句可得1分;“调动地方政府积极性”,2分。④“市场机制”,1分;“社会资本参与”,1分;三效益统一,1分;答出两效益统一也得1分。

(2)①顺应时代趋势,推进生态文明建设,促进人类可持续发展。(3分)

②切实履行国际公约义务,积极参与全球生物多样性治理。(3分)

③积极推动国际合作,共同构建地球生命共同体。(3分)

④以自身的经验和重大成就,为全球生物多样性治理提供了中国智慧和方案。(3分)

【评分细则】:①“时代趋势”或者“时代主题”,2分;促进人类可持续发展,1分;②履行国际义务,2分;参与全球生物多样性治理,1分。③推动国际合作,2分;共同构建地球生命共同体,1分。④自身经验成就,1分;提供中国智慧或中国方案,2分。

(3)答案示例:制作展板展览图片,宣传外来物种入侵的危害;发放宣传资料,宣传防控新

文科综合“一诊”参考答案 第2页(共4页)

新冠肺炎疫情的科学方法。(4分)

【评分细则】:每点2分,如果只答活动形式,不结合生物安全的具体内容,只给1分。答案言之有理都可得分,共4分。)

41.(25分)

(1)特点:政府主导,民间资本参与;措施多样;传统与现代相交融;发展经济与解决失业问题相结合。(每点2分,任答三点6分)

原因:长期战乱,社会动荡;经济发展水平有限;政府治理能力低下;治理措施自身的局限(资金有限,救济和教育的范围有限)。(每点2分,任答三点6分)

(2)保障了失业人员的生存和发展权;(2分)促进了经济的恢复与发展;(2分)有利于社会秩序的稳定;增进了人民对新生人民政权和社会制度的认同;(任答一点2分);为其他城市治理失业问题提供了借鉴。(1分)

(3)重点帮扶特殊群体;政府主导与市场力量积极参与相结合;主要按市场规律办事(由政府提供就业机会到鼓励自主创造就业机会);主要依靠上海自身的力量解决失业问题;把解决失业问题与实现产业的升级换代相结合。(每点2分,任答三点6分)

42.(12分)

【评分细则】:(1)论题(3分)。论题的表述,不必直接写出北宋的面相是什么,但应围绕相国寺拟定。

(2)说明(9分)。提炼材料信息准确,围绕北宋的“面相”进行多角度或者多层次的合理解读(至少从三个角度或三个层次进行解读,每个要点3分),语言简明,共9分。

答案示例:

第一类(围绕一种面相多角度或多层次解读)

【示例1】(多角度)相国寺是反映北宋政治文化的重要窗口

北宋时期,太祖至相国寺不拜佛像体现了皇权至上的观念和以世俗权力为主导的文明特征。太宗为相国寺题字,皇帝巡幸,“祈报”于相国寺,则体现了统治者对佛教的重视和利用宗教为皇权服务的政治目的。进士题名相国寺,既是对唐代科举文化的继承发展,也是教化百姓、笼络人心、稳定社会秩序的重要表现。辽国和高丽使者在出使活动中要前往相国寺烧香,一定程度上分别见证了北宋时期的民族交往和对外交往。

总之,相国寺与政治活动有着紧密联系,不同程度、不同层面承载和反映了宋代的政治文化。

【示例2】(多层次)相国寺凸显了北宋皇权的加强

宋太祖被尊为“现在佛”,体现了皇权至上的观念。魏晋时期皇权一度受到威胁,直至唐朝封建正统思想仍受到佛教冲击。随着中唐以来儒学复兴和北宋初年推行一系列强化君主专制的措施,同时佛教也为谋求自身发展而顺应中国政治文化,所以出现了佛教僧侣对皇权的遵从。

可见,太祖被尊为“现在佛”其实是北宋皇权强化的典型表现,反映了北宋政治文化的一个面相。

第二类(围绕多种面相多角度解读)

【示例3】相国寺是折射北宋社会发展状况的多棱镜

北宋统治者巡幸、赐字、祈祷于相国寺,凸显出世俗政权利用宗教巩固统治的目的。相国寺成为瓦肆和庙会交易的场所,民众参与商品交易,体现了宋代商品经济的发展和市民的阶层壮大。进士题名相国寺,反映了北宋文人的自豪感和社会的崇文风尚。

文科综合“一诊”参考答案 第3页(共4页)

可见,相国寺兼具宗教、政治、经济、文化等多种功能,多角度折射了北宋社会发展的总体状况。

【其他论题举例】

相国寺庙会反映了宋代商品经济的发展;相国寺反映了宋代社会生活的世俗化等等。

43. [地理——选修 3:旅游地理](10 分)

大兴安岭景色优美,自然景观丰富(2 分);民俗文化特色鲜明,旅游资源集群、组合状况良好(2 分);旅游方式独特,满足游客个性化需求(2 分);线路长,速度慢,增强游客体验(2 分);有主干铁路连接牙克石,交通便利,便于游客前往(2 分)。

44. [地理——选修 6:环境保护](10 分)

原因:种群生存空间狭窄,种群数量少,生存能力弱(2 分);人类活动干扰频繁,影响生存状况(2 分)。

措施:加强法律法规建设,强化监测和管理;推进保护区建设;加强濒危物种的人工培育工作;重视宣传教育,强化保护意识。(每点 2 分,答对三点得 6 分)

45. [历史——选修 1:历史上重大改革回眸](15 分)

(1)继承和发展前代改革的成果;以礼入法(重视伦常);宽刑平狱;高度重视治狱成效。(每点 2 分,任答三点 6 分,答出四点 7 分)

(2)有助于推动司法的公平公正;(2 分)有利于消除长久以来刑法严酷的现象(一定程度上纠正了武帝以来的弊政);有利于缓和社会矛盾,稳定统治秩序;(任答一点 2 分)为西汉维持兴盛提供了条件;(2 分)丰富了汉代法律建设的内涵;为后世的法制建设提供了借鉴。(任答一点 2 分)

46. [历史——必修 4:中外历史人物评说](15 分)

(1)重视农业;强调农产品的商业交换价值;充分利用土地资源,因地制宜地种植经济作物,开展多种经营;大力发展农产品加工业;引进西方技术,促进农业盈利。(每点 2 分,任答四点 8 分)

(2)是西方文明冲击下,商品经济发展的产物;(2 分)为政府兴办农务和农民从事生产提供了参考;(2 分)有利于农业经济向近代化转型;(2 分)囿于社会环境,未能产生理想实效。(1 分)

关于我们

自主选拔在线是致力于提供新高考生涯规划、强基计划、综合评价、三位一体、学科竞赛等政策资讯的升学服务平台。总部坐落于北京，旗下拥有网站（[网址：www.zizzs.com](http://www.zizzs.com)）和微信公众平台等媒体矩阵，用户群体涵盖全国90%以上的重点中学师生及家长，在全国新高考、自主选拔领域首屈一指。

如需第一时间获取相关资讯及备考指南，请关注**自主选拔在线**官方微信号：**zizzsw**。

