

## 高三历史

2023.9

本卷满分100分,考试时间90分钟。

## 注意事项:

1. 答题前,考生先将自己的学校、班级、姓名、考号、座号填涂在相应位置。
2. 选择题答案必须使用2B铅笔(按填涂样例)正确填涂;非选择题答案必须使用0.5毫米黑色签字笔书写,绘图时,可用2B铅笔作答,字体工整、笔迹清楚。
3. 请按照题号在各题目的答题区域内作答,超出答题区域书写的答案无效;在草稿纸、试题卷上答题无效。保持卡面清洁,不折叠、不破损。

一、选择题:本题共15小题,每小题3分,共45分。每小题只有一个选项符合题目要求。

1. 在甘肃齐家文化的皇娘娘台遗址中发现有一座成人合葬墓,一男二女。男性在正中仰卧,左右两侧各有一女性,均为侧身曲肢,面向男性,卧于棺外。这一时期
  - A. 人们开始大量使用陶器
  - B. 氏族公社联合形成部落
  - C. 熟练掌握青铜铸造技术
  - D. 仰韶文化处于发展高峰
2. 宋襄公曰:“君子不重伤,不禽二毛。古之为军也,不以阻隘也。寡人虽亡国之余,不鼓不成列。”下列关于这一时期的表述准确的是
  - A. 以兼并对手为作战目标
  - B. 以骑兵为主要作战兵种
  - C. 中央集权秩序初步形成
  - D. 士兵的来源主要是贵族
3. 自古以来,汉语就存在复杂的方言分歧,历史上汉语形成了7个方言区,分别是北方方言区、吴方言区、闽方言区、粤方言区、客家方言区、湘方言区、赣方言区。这种汉语方言的地理分布特征
  - A. 是由古代中国地区经济发展水平的差异所导致
  - B. 与古代中国自然环境引发的人口流动有关
  - C. 与古代中国封建统治中心地理分布关系不密切
  - D. 与古代中国幅员辽阔人口民族众多无必然联系
4. 表1为唐玄宗时期新建州县情况。该信息

时间	新建	今属	时间	新建	今属
735年	巴川县	四川	741年	尤溪县	福建
736年	汀州	福建	742年	青阳县	安徽
737年	唐城县	湖北	743年	唐年县	湖北
738年	明州	浙江	752年	太平县	安徽
740年	歙州	安徽	754年	浦阳县	浙江

表1



- A. 是唐代时南方地区经济显著发展的证明 B. 是唐玄宗为加强边防而采取的有力举措  
C. 是唐玄宗时期应对藩镇割据局面的措施 D. 是唐代完善道州县地方行政体制的表现

5. 表 2 是两部史书关于交子的不同记载,说明

时间	出处	记载
南宋	李焘《续资治通鉴长编》	初,蜀民以钱重,私为券,谓之交子,以便贸易,富民十六户主之
元朝	脱脱《宋史·食货志》	真宗时,张咏镇蜀。患蜀人铁钱重,不便贸易,设质剂之法。一交一缗……谓之交子

表 2

- A. 历史研究需要对史料进行甄别 B. 因记载不同无法得出历史真相  
C. 两则史料互证即可揭示出真相 D. 时代不同影响对历史事件解释
6. 据《清圣祖实录》记载,康熙曾言,“凡一切奏折,皆朕亲批,诸王文武大臣等知有密折,莫测其所言何事,自然各加警惧修省矣”。他主要强调这一制度
- A. 有利于皇帝直接广泛获取信息 B. 提高了皇帝决策严密和机密性  
C. 有利于皇帝对文武大臣的控制 D. 有利于提高各级官员政治素质
7. 图 1 为洋务运动时期大众传媒(画报)介绍西人制作的气球,名为《气球破敌图》。对此图理解准确的是




图 1

- A. 中西结合成为近代绘画新潮流 B. 推动了中国近代科学发展  
C. 如实描述了新式气球的先进性 D. 利于启蒙国人的科学意识
8. 针对西方列强经济侵略加剧,民族危机加深的现实,康有为阐明“犹不讲求生财之道,承亟以实利之是尚,吾恐鱼无水死,国无财亡。”这一主张
- A. 强调改变传统义利观的必要性 B. 说明维新变法讲功利求富贵  
C. 反映实业救国成为时代的潮流 D. 是民族资本主义发展的结果



9. 图 2 为清末知识分子成立政治社团情况示意图(摘自王尔敏的《清季学会汇表》)。图中现象出现的主要原因是

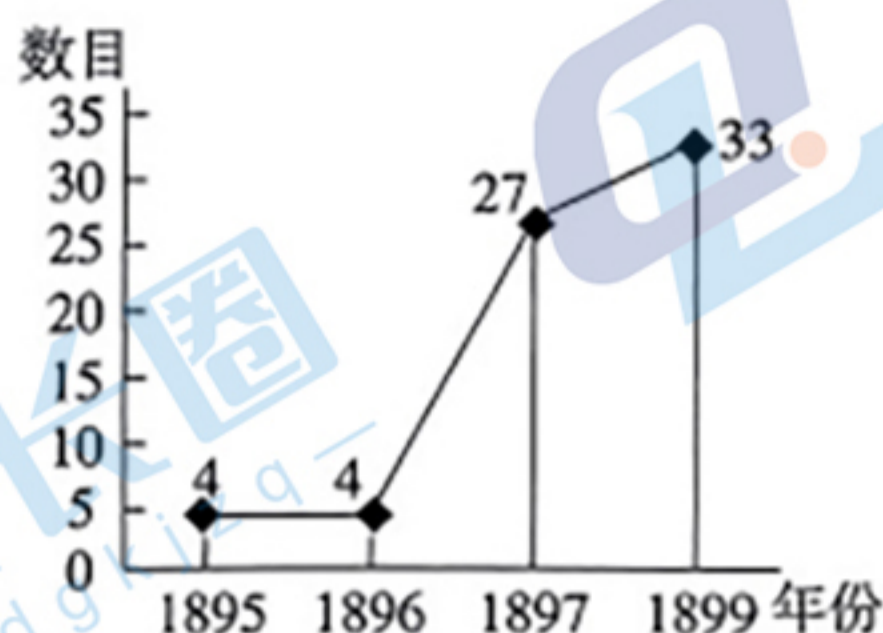


图 2

- A. 知识分子群体的不断壮大  
B. 民族危机的加深  
C. 民族资本主义经济的发展  
D. 清末新政的推动
10. 表 3 为 1915 年全国钢铁产量及其分布情况,据此可知当时

地区	产量(吨)	备注
湖北	136 540	此系汉阳铁厂炼成之铁
奉天(今辽宁)	29 530	本溪湖煤铁公司所炼
山西	72 000	平定、晋城、高平、孟县、隰县等处土法所炼
湖南	26 000	宝庆、茶陵等县土法所炼
四川	25 000	涪陵、綦江等县土法所炼
云南	11 000	镇雄、剑川、峨峨等县土法所炼
其余各省	10 000	均系土法
总计	310 070	其中土铁 144 000 吨

表 3

- A. 南方重工业发展迅速  
B. 民族工业布局合理  
C. 钢铁技术地域差异大  
D. 钢铁技术普遍落后
11. 建军初期,南昌起义部队实行了政治指导员制度……一切工作以争取军事胜利为主要目标。1927 年 9 月,“三湾改编”正式建立了党代表制度。1929 年 12 月,《古田会议决议》肯定了党对军队的绝对领导原则。1930 年 10 月,中央军委颁布了《中国工农红军政治工作暂行条例草案》,突出强调“红军中只允许党在政治上之唯一领导”。这一过程表明
- A. 党对人民军队的领导制度化  
B. 党在斗争中日益成熟  
C. 军队凝聚力战斗力不断提升  
D. 党的影响力不断扩大
12. 1953 年钱大昕创作的年画作品《把自己满意的人选出来了》。图 3 描绘的是当选者胸前戴大红花与大伙见面的场景,该年画反映了





图3

- A. 社会主义民主的确立  
 B. 人民群众拥护党的领导  
 C. 基层民主政治的发展  
 D. 人民群众参政热情高涨

13. 图4反映了改革开放以后

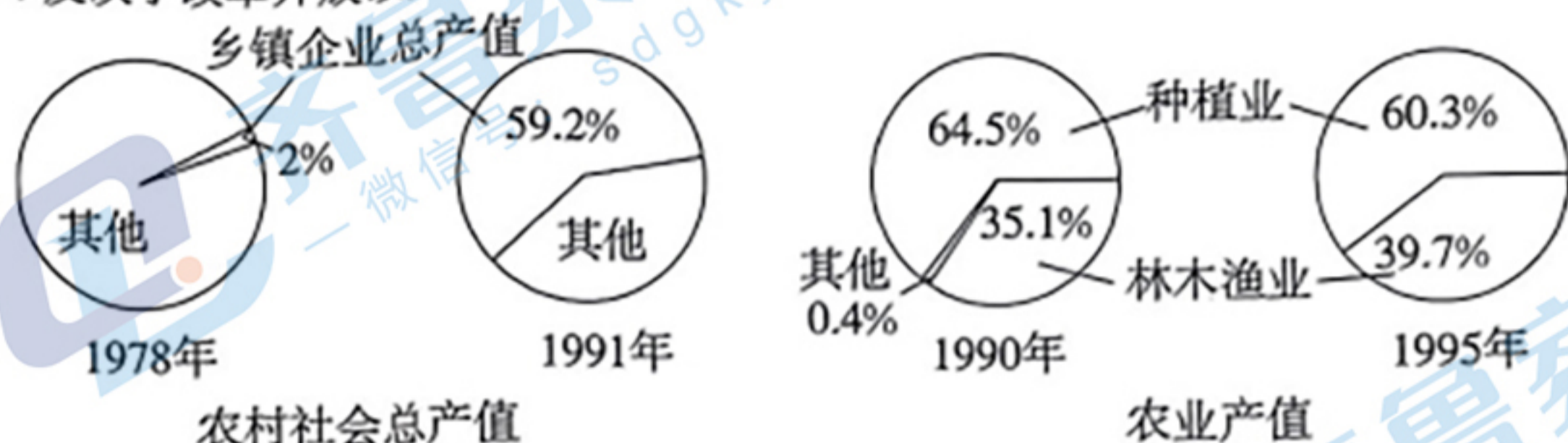


图4

- A. 农村经济结构发生显著变化  
 B. 农民从温饱迈入小康  
 C. 社会主义市场经济体制建立  
 D. 农村人口向城市转移

14. 图5是人类社会早期发展脉络,它反映了人类社会早期文明

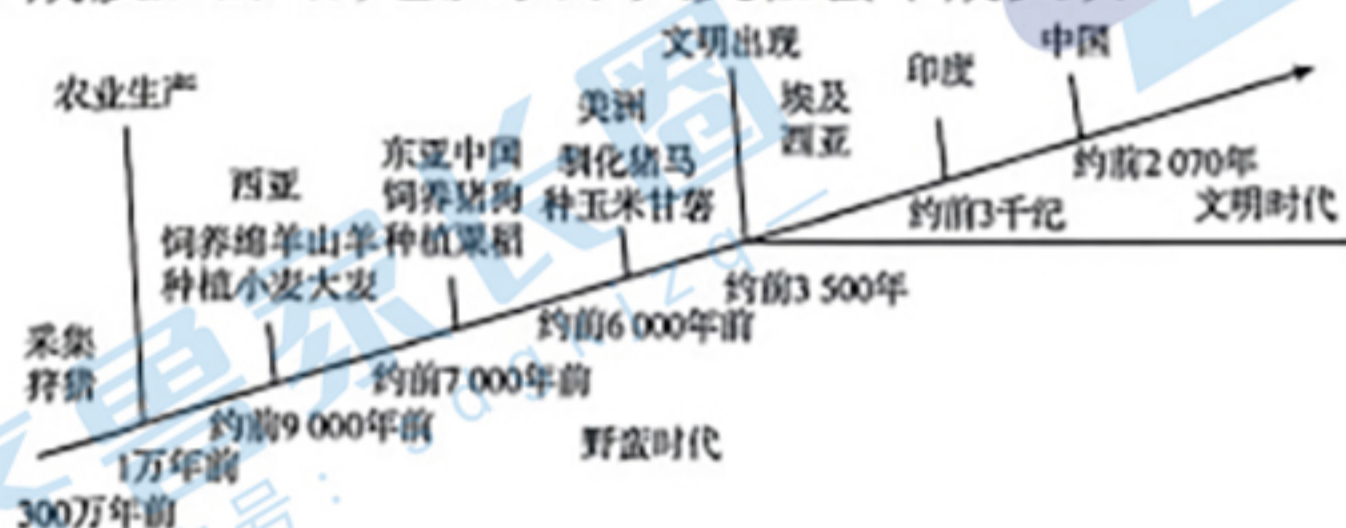


图5

- A. 由自然地理环境决定  
 B. 相互交流中吸收融合  
 C. 各地区发展速度一致  
 D. 呈现多元共生的特征

15. 表4是19世纪中期至20世纪初英、法、德、美四国资产占世界总资产的比例变化情况(单位:%)

年份	1850	1870	1890	1913
甲	59	53	32	14
乙	15	16	35	47
丙	10	11	8	6
丁	3	13	16	21

表4

——摘编自金注森《近代以来世界经济秩序变迁与东亚作用研究》

其中丁是

- A. 英国  
 B. 法国  
 C. 德国  
 D. 美国



二、非选择题：本大题共4小题，第16题14分，第17题13分，第18题14分，第19题14分，共55分。

16. (14分) 阅读材料，回答问题。

材料一 从法理上说，中央政府以命令授权形式将部分权力交予行省行使，一切治权皆属中央政府，行省只是中央的代理而已。无论行政、财政、军事、司法诸事权，朝廷总是在直接掌握某些基本权力（如军队、官吏任用等）的同时，把相当一部分权力分寄于行省，然后借行省集权于中央。显而易见，元代行省制中央集权是秦汉以来郡县制中央集权模式的较高级演化形态，也是两宋否定唐后期藩镇分权的继续。元行省制所体现的中央集权与地方分权的主辅结合，明显优于单纯的中央集权或单纯的地方分权。

——李治安《行省制度研究》

材料二 行省长官是中央官亲自降临到地方。在当时，并不是说把全国划分成几个地方行政区，乃是这几区地方各驻有中央宰相，即成为中央宰相府的活动分张所。……换言之，是中央侵入了地方。中央需要派一个大员来镇压某地方，就派一个外驻的宰相。

——钱穆《中国历代政治得失》

(1) 根据材料并结合所学概括元代行省制的特点。(4分)

(2) 对两则材料的观点分别予以评述。(10分)



17. (13分) 阅读材料, 回答问题。

材料



注：  
中东铁路：原名东清铁路，俄国建成于1903年7月。1920年起东清铁路始称中国东省铁路，简称中东铁路或中东路。  
南满铁路：日俄战争（1904年）后，沙俄把东清铁路南满支线的长春至大连段转让给了日本。这段铁路改称为南满铁路。  
北宁铁路：清政府始建于1880年唐山至胥各庄段。1912年全线通车。  
平绥铁路：又称京张铁路，清政府建成于1909年10月，总工程师为詹天佑。  
津沪铁路：南京浦口以北段称津浦铁路，是清政府借款建成最长的一条铁路。1908年6月开工建设，1912年11月全线通车。  
胶济铁路：德国修建成于1904年。

结合材料，以“铁路·缩影”为主题写一则历史短文。（要求：题目自拟，表述成文，叙述完整；立论正确，史论结合；逻辑严密，条理清晰。）



18. (14分) 阅读材料, 回答问题。

材料

1889年, 恩格斯领导的第二国际通过决议, 将5月1日定为国际劳动节, 从此“五一”国际劳动节成为全世界劳动人民共同的节日。中国共产党历来高度重视“五一”劳动节。表5体现不同时期中国共产党对“五一”劳动节的重视。

时间	内容
1927年5月1日	中共发表《告中国民众书》, 提出: “今年中国工人阶级的‘五一运动’, 绝不仅是宣传示威而已, 中国工人阶级已经要力争自己阶级利益的保障, 用自己的力量保障革命的胜利和工人阶级的利益。”
1939年4月12日	《中共中央关于开展职工运动与“五一”工作的决定》提出在“抗战中去解决工人失业、饥饿的问题, 以增加抗战建国的力量”
1948年4月30日	中共中央发布《纪念五一劳动节口号》, 提出巩固与扩大统一战线、促成全国胜利、建立新中国等一系列重大方针
1950年4月29日	刘少奇在“五一”劳动节纪念大会上发表讲话, 指出“劳动者是文明的创造者, 劳动者应该成为世界上最受尊敬的人们”
1961年5月1日	毛泽东指出“工人要有革命骨气, 坚持独立自主、自力更生的方针, 战胜困难, 勇往直前”
1984年5月1日	《人民日报》发表社论指出: “知识分子是工人阶级中文化科学水平较高的一部分, 要搞四个现代化, 必须把知识分子的聪明才智充分发挥出来。”

表5

- (1) 依据材料, 分别概括新中国成立前和成立后两个阶段工人阶级的历史使命。(4分)
- (2) 从表5中新中国成立前和成立后各选一个时期, 对工人阶级的历史使命进行合理解读。(10分)



19. (14分) 阅读材料, 回答问题。

材料一

时间	大事
1562~1563年	英国人约翰·霍金斯第一次贩奴至美洲
1670~1776年	英国贩卖到美洲大陆的奴隶总数超过其他国家贩奴数量的总和
1807年	英国议会通过了《废除奴隶贸易法案》
1833年	英帝国废除了奴隶制

——摘自杨瑛《英国奴隶贸易的兴衰》等

材料二 马克思曾说：“直接奴隶制是资产阶级工业的基础。没有奴隶制就没有棉花；没有棉花现代工业就不可设想。奴隶制使殖民地具有了价值，殖民地造成了世界贸易，而世界贸易是大机器工业的必不可少的条件。”

材料三 2021年3月在联合国“奴隶制和跨大西洋贩卖奴隶行为受害者国际纪念日”活动中，秘书长古特雷斯表示：“跨大西洋贩卖奴隶行为建立并维持了一套存在了400多年的剥削体制，彻底摧毁了受奴役群体的经济，却巩固了殖民主义，以受奴役群体的生命为代价，却让许多受益者成功敛财”。

(1) 结合材料和所学知识，分析英国成为世界奴隶贸易大国的因素。(6分)

(2) 谈谈你对世界奴隶贸易的认识。(8分)