

哈师大附中 2023 年高三第四次模拟考试

文科综合能力测试

本试卷共 45 题,共 300 分,共 12 页。考试用时 150 分钟。考试结束后,将本试卷和答题卡一并交回。

注意事项:1. 答题前,考生先将自己的姓名、准考证号码填写清楚,将条形码准确粘贴在条形码区域内。

2. 选择题必须使用 2B 铅笔填涂;非选择题必须使用 0.5 毫米黑色字迹的签字笔书写,字体工整,笔迹清楚。

3. 请按照题号在答题卡各题目的答题区域内作答,超出答题区域书写的答案无效;在草稿纸、试卷上答题无效。

4. 作图可先使用铅笔画出,确定后必须用黑色字迹的签字笔描黑。

5. 保持卡面清洁,不要折叠,不要弄破、弄皱,不准使用涂改液、修正带、刮纸刀。

一、选择题:本题共 35 小题,每小题 4 分,共 140 分。在每小题给出的四个选项中,只有一项是符合题目要求的。(说明:地理部分为第 1~11 题,共 44 分;政治部分为第 12~23 题,共 48 分;历史部分为第 24~35 题,共 48 分。)

高级生产性服务是指中心城市的证券公司、会计师事务所、律师事务所等为企业提供的服务。

图 1 表示我国主要服务性城市为我国 500 家创新型上市公司提供服务的分布情况。据此完成 1~2 题。

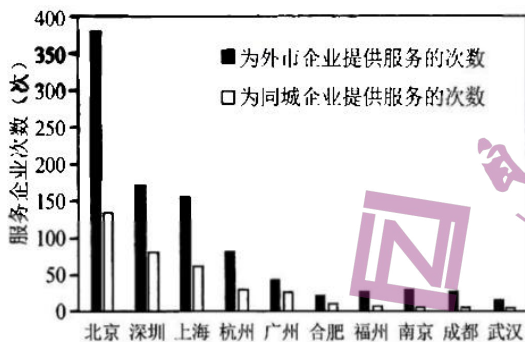


图 1

- 创新型上市公司优先选择同城的高级生产性服务企业进行合作,主要考虑
A. 服务范围的封闭性
B. 服务对象的排斥性
C. 空间邻近的便利性
D. 服务职能的差异性
- 深圳与广州地理位置邻近,但与广州的联系强度远小于北京和上海,体现了深圳上市公司选择高级生产性服务时遵循
A. 距离递减原则
B. 等级优先原则
C. 市场最优原则
D. 交通最优原则

站城融合是以综合客运枢纽为中心,通过空间的合理构建与功能的协调整合,在确保交通功能运行良好的同时,形成以综合客运枢纽为主体的城市活力区。图 2 示意站点客流—城市功能空间促进关系。据此完成 3~5 题。

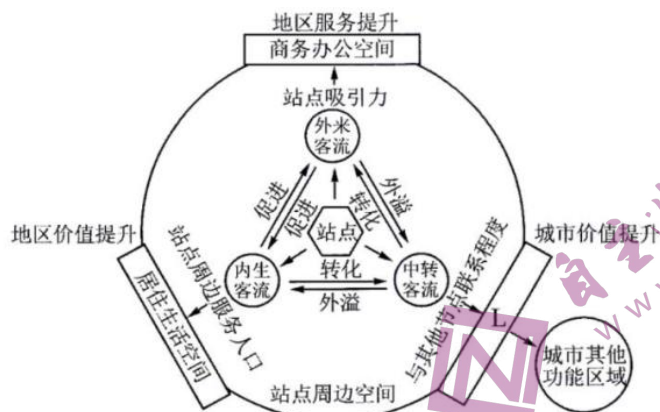


图 2

3. 相比其他站点,高铁站最先实现站城融合的主要原因是
- A. 客货流量较大 B. 运输效率最高 C. 运营时间较长 D. 与城市联动强
4. 站城融合发展催生城市功能空间,图中 L 示意的功能空间是
- A. 交通换乘空间 B. 文化教育空间 C. 工业生产空间 D. 娱乐休闲空间
5. 站城融合发展的主要目的有
- ①扩大城市规模 ②加强城乡协作 ③优化城市空间 ④完善综合交通
- A. ①② B. ②③ C. ①④ D. ③④

图 3 示意 2022 年 11 月 9 日 6:00 澳大利亚及其附近区域气压形势(单位:hPa)。据此完成 6 ~ 8 题。

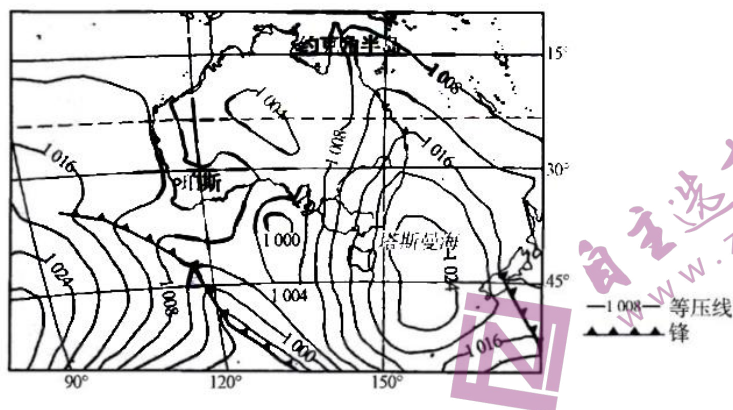


图 3

6. 图示区域内的反气旋系统中心气压差的最大值可能是
- A. 7 B. 8 C. 11 D. 12
7. 此时,海浪最大的海域是
- A. 塔斯马尼亚岛东岸 B. 约克角半岛西岸 C. 澳大利亚西海岸 D. 澳大利亚东海岸
8. 最先迎来明显降温、阴雨天气的区域可能是
- A. 珀斯附近 B. 塔斯曼海中部 C. 南岛北部 D. 澳大利亚中部

在气候暖湿化背景下,青藏高原的湖泊总体呈快速扩张趋势,部分湖泊发生水系重组(邻近湖泊因湖水溢出而形成上下游汇流关系)。图 4 示意青藏高原某内流区重组后的水系。图 5 示意该内流区水系重组前后甲、乙、丙湖的湖泊水位变化(与 2000 年的水位差)。据此完成 9 ~ 11 题。

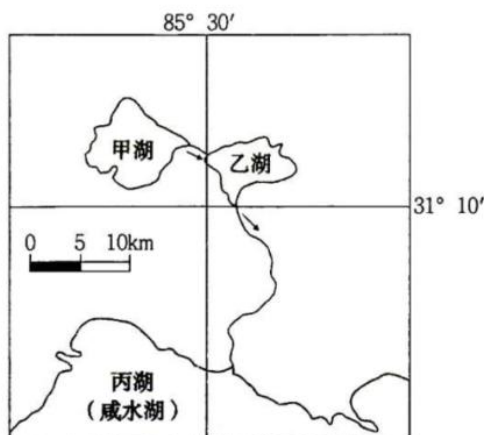


图 4

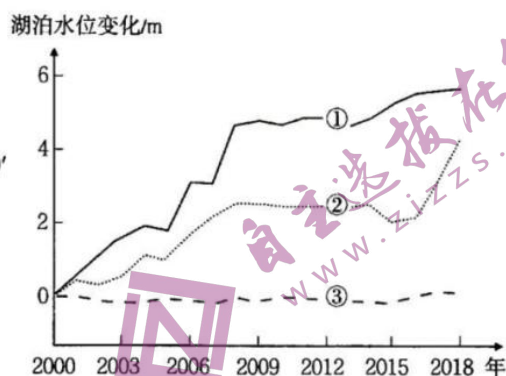


图 5

9. 湖泊及其水位变化对应正确的是
- A. 甲湖 - ①、乙湖 - ②、丙湖 - ③
B. 甲湖 - ②、乙湖 - ①、丙湖 - ③
C. 甲湖 - ①、乙湖 - ③、丙湖 - ②
D. 甲湖 - ②、乙湖 - ③、丙湖 - ①
10. 关于水系重组前后甲、乙、丙三湖的说法, 正确的是
- A. 重组前甲湖水汇入乙湖
B. 重组后乙湖湖盆容积缩小
C. 重组后甲湖流域面积扩大
D. 重组前乙湖水汇入丙湖
11. 随着气候暖湿化, 该区域湖泊盐度明显降低的是
- A. 甲湖、乙湖
B. 甲湖、丙湖
C. 乙湖、丙湖
D. 甲湖、乙湖、丙湖
12. 2023年2月28日, 党的二十届二中全会审议通过了《党和国家机构改革方案》。全会指出, 党的二十大对深化机构改革作出重要部署, 对于全面建设社会主义现代化国家、全面推进中华民族伟大复兴意义重大而深远。深化党和国家机构改革
- ①必须坚持问题导向, 推进国家治理体系和治理能力现代化
②是实现中华民族伟大复兴最为广泛而深刻的社会变革
③是新时代坚持和发展中国特色社会主义的必由之路
④能够优化职能配置, 使上层建筑更加适应经济基础状况
- A. ①③
B. ①④
C. ②③
D. ②④
13. 十四届全国人大一次会议审议通过的《中华人民共和国立法法(修正草案)》加入了坚持和发展全过程人民民主的内容, 此举体现出我国将全过程人民民主制度化、规范化、法律化, 明确将人民利益置于国家立法工作的中心位置, 确保立法工作每个环节都能听到广大人民的声音, 从而在立法过程中回应广大人民的诉求。坚持和发展全过程人民民主
- ①确立了我国人民当家作主的主人翁地位
②是全面建设社会主义现代化国家的应有之义
③有助于保障我国人民享有广泛权利和绝对自由
④有利于巩固和发展生动活泼、安定团结的局面
- A. ①②
B. ①③
C. ②④
D. ③④
14. 近年来, 浙江、云南、天津等地面向全国招聘“乡村CEO”(CEO是首席执行官的英文缩写, 是公司企业行政事务的最高行政官员), 鼓励本土和返乡人才从事专门的乡村经营性工作。此举产生影响的正确传导路径是
- ①为乡村产业提供更多人才支撑
②健全更加注重公平的分配机制
③推动乡村振兴和共同富裕
④提高农村集体收入和农民收入
⑤激发乡村产业发展活力
- A. ①→⑤→④→③
B. ②→①→④→③
C. ⑤→④→①→③
D. ①→③→④→⑤

15. 2023年1月31日,习近平总书记在主持中共中央政治局第二次集体学习时强调,加快构建新发展格局,要坚持问题导向和系统观念,着力破除制约加快构建新发展格局的主要矛盾和问题,全面深化改革,推进实践创新、制度创新,不断扬优势、补短板、强弱项。构建新发展格局需要
- ①实施扩大内需战略、培育完整内需体系
②深化要素市场化配置改革,强化法治环境、信用环境和公平竞争环境建设
③以对外开放为基点,充分利用国际国内两个市场
④降低市场准入门槛,推动生产要素全面自由流动
- A. ①② B. ①④ C. ②③ D. ③④
16. 即时零售是在我们身边悄然兴起的消费市场的新业态。不同于传统电商,它采用实体店入驻电商平台的方式,市民可以像点外卖一样,30分钟收到商品。预计在2025年,“即时零售”开放平台模式规模将突破万亿门槛。这一模式迅速发展的原因在于
- ①缩短商品交易的中间环节,降低商品整体价格
②减少实体店与电商的竞争,通过合作实现共赢
③推动线上与线下深度融合,扩大商品销售半径
④提高购物便利性和即时性,提升顾客消费体验
- A. ①② B. ①④ C. ②③ D. ③④
17. 某市人大常委会在“人大代表履职通”小程序上设立“民意码上聚”模块,市民可以扫描二维码进入人大代表“云工作室”留言。人大常委会通过“议题征集—码上留言—码上议事—码上公开”的方式,汇集民意民智,解决诉求。该市人大常委会
- ①践行全过程人民民主,助推社会治理现代化 ②赋予市民民主权利,既发扬民主又善于集中
③推动人大代表有效履职,体现我国制度优势 ④创新民意表达形式,保障公民行使国家权力
- A. ①③ B. ①④ C. ②③ D. ②④
18. 老旧小区人员复杂,没有物业,日常事务协调难度大。S市设立联席会议制度,街道和社区党组织牵头,由驻区单位、党员代表、居民代表、社会组织等组建对话平台,充分讨论,共同破解老旧小区改造和治理僵局。这一做法的工作特色是
- A. 发扬基层民主,听取行业意见,促进社会和谐
B. 采用少数服从多数的原则,通过政治协商凝聚共识
C. 动员社会力量,吸纳多元主体合理表达,共建共治
D. 转变工作作风,坚持群众路线,密切党群关系
19. 图6漫画《也为上坡加把劲》(作者:古俊明)启示我们想问题办事情要
- ①优化组合,实现整体最优目标
②承认矛盾,在统一中实现对立
③遵循规律,正确发挥主观能动性
④各尽所能,用局部推动整体发展
- A. ①② B. ①③ C. ②④ D. ③④
20. 延安是中国革命的圣地,从1935年到1948年,延安是中共中央的所在地。2022年10月27日,习近平总书记带领中共中央政治局常委专程从北京前往延安,瞻仰延安革命纪念地,宣誓新一届中央领导集体将继承和发扬延安时期形成的优良传统和作风。如果请你对这件事写一篇新闻报道,其中恰当的题目应是
- A. 融通不同资源,正确对待外来文化 B. 弘扬时代精神,夯实文化自信基础
C. 回答时代问题,展示中华文化独特魅力 D. 坚定理想信念,自觉继承革命文化



图6

21. 2023年2月24日,中国外交部发布《关于政治解决乌克兰危机的中国立场》文件,从尊重各国主权、启动和谈、停止单边制裁、推动战后重建等12个方面全面阐述了中方原则立场。这从一个侧面表明我国
- ①坚持独立自主的对外关系基本准则 ②勇于承担大国责任,展现大国担当
③践行全球安全倡议,契合各国心声 ④用实际行动践行人类命运共同体理念
- A. ①② B. ①③ C. ②④ D. ③④
22. 2023年4月实施的《快递电子运单》国家标准强化了个人信息保护:要求快递企业、电商经营主体等采取措施,避免在电子运单上显示完整的收寄件人个人信息;收寄件人姓名应隐藏1个汉字以上,联系电话应隐藏6位以上,地址应隐藏单元户室号;推荐对个人信息进行全加密处理,规范个人信息相关内容的读取权限。这些规定
- ①丰富了我国基本法律的内容,明确了解决纠纷、化解矛盾的法律途径
②体现了用全面的观点看问题,有利于实现个人信息使用与保护的统一
③强化对个人信息进行全加密处理,旨在保护自然人的名誉权和荣誉权
④针对快递业出现的具体问题,细化保护要求有利于防止个人信息泄露
- A. ①② B. ①③ C. ②④ D. ③④
23. 2023年中央经济工作会议指出,把“着力扩大国内需求”作为改善社会心理预期、提振发展信心的五大重点任务之首,并特别强调“要把恢复和扩大消费摆在优先位置”。这就意味着,扩大内需将成为2023年甚至未来多年经济工作的核心主线。这体现了我们党
- ①根据我国经济发展规律运用超前思维作出预测
②从感性具体到思维具体到思维抽象的认识历程
③运用辩证思维以动态的方式思考经济工作趋势
④运用聚合思维的头脑风暴法,能集聚群体智慧
- A. ①② B. ①③ C. ②④ D. ③④
24. 表1为原始社会晚期部分墓葬出土情况。表中现象反映了

表1

时间	遗址	出土情况
距今8000年前后	河南舞阳贾湖	随葬骨规形器、骨律管(骨笛)等可能用于观象授时的天文工具
距今6000年左右	河南汝州阎村	墓中陪葬的一件陶器上彩绘了具有战争纪念碑性质的“鹤鱼钺图”
距今5000年前后	浙江余姚良渚镇	遗址有宫殿区、内外城垣,十数座高、低水坝等水利工程

- A. 公共权力不断加强的趋势 B. 私有制的产生和贫富分化
C. 氏族成员经济待遇的差异 D. 等级观念产生和阶级分化
25. 图7为汉代画像砖图“二桃杀三士”,齐景公与晏婴合谋,馈二桃于公孙接、田开疆和古冶子三人,由他们“计功而食桃”。三人述说了各自的功绩,公孙接、田开疆听了古冶子的事迹,认为“取桃不让,是贪也,然而不死,无勇也”,遂拔剑自刎。古冶子耻于自己的言行,自认不仁、不义,也拔剑自刎了。据此可知,该画像砖

文科综合试题第5页(共12页)



图 7

- A. 反映出汉代思想文化多元化
B. 有利于推动儒学的社会教化
C. 是研究秦汉历史的二手史料
D. 再现了齐国尚武的社会风貌
26. “禁榷”是中国古代对重要商品采取政府垄断经营的制度。北宋政府禁榷的范围包括盐、茶、酒、醋、铁等,其禁榷范围之广、攫取商品利益之大是其他朝代无法比拟的。宋代这一局面形成的主要原因是
- A. 政府财政的紧张
B. 重农抑商的强化
C. 城市经济的繁荣
D. 社会治理的完备
27. 清初学者王夫之说:“秦以私天下之心而罢侯置守,而天假其私以行其大公。”即置郡县为“行其大公”。民初学者章太炎说:“古先民平其政者,莫遂于秦。”“平其政”即“使人们在政治上平等”。“行其大公”和“平其政者”体现在
- A. 百姓不再是封君的属民
B. 政务处理的高度程序化
C. 依据才干政绩任免官吏
D. 郡县制更利于皇帝集权
28. 19 世纪中后期,上海、天津、汉口等地逐步形成了具有地方货币特色的“虚银两”,从货币信用与运行机制上看,“虚银两并无实物存在,仅作为实物银的价值符号和折算标准而存在,代表白银发挥货币职能”。由此可知,“虚银两”的形成
- A. 反映了清政府经济主权受损
B. 适应了对外贸易发展的需要
C. 说明白银实物不被市场认可
D. 因太平天国运动被政府默许
29. 1919 年 3 月,邓中夏等人组织成立了“平民教育讲演团”,并把人力车夫、产业工人作为启迪反帝反封建觉悟的首选对象,甚至五四运动后,平民教育讲演团成员还深入工矿企业,与工人同吃同住同劳动。这表明
- A. 国民觉悟得到提升
B. 救亡之路出现转向
C. 无产阶级力量壮大
D. 新型政党开始筹建
30. 从 1939 年起中共中央领导人发表了一系列论著,如:刘少奇《论共产党员的修养》、张闻天《共产党员的权利与义务》、陈云《怎样做一个共产党员》等;毛泽东特别强调党的建设是一项“伟大工程”。上述活动
- A. 充分纠正了党内的贪污腐败问题
B. 推动抗日民族统一战线的建立
C. 加强了党对民族战争的领导能力
D. 标志着毛泽东思想的正式形成
31. 1990 年 3 月,政府允许上海、深圳两地试点公开发行股票。同年,深圳证券交易所和上海证券交易所成立。随着改革开放的深入,利用股票融资改善企业经营的机制在全国逐渐推广开来。这反映
- A. 企业体制改革全面铺开
B. 对外开放的日益扩大
C. 经济体制改革不断深化
D. 市场经济体制的建立

32.《十二铜表法》第8表规定：“凡故意伤人肢体而又未能取得调解时，则伤人者 also 需受到同样的伤害。不过，如有人打断自由人的骨头，他须偿付300阿司罚金；如被打折骨头的是奴隶，罚金可以减半。”这表明古罗马的司法原则是

- A. 私有财产神圣不可侵犯
B. 严守契约规定
C. 严格等级与“同态复仇”
D. 追求公正至上

33.图8是欧洲帆船的发展概况图。据此可知



图8

- A. 欧洲造船技术领先于世界
B. 阿拉伯帝国垄断东西方贸易
C. 新航路开辟推动技术进步
D. 文化交流有利于技术的发展

34. 1913年至1920年，欧洲制造业产量下降了23%，美国却增长了22%。1920年，美国发电量相当于欧洲的总和，钢产量占世界一半以上，石油产量占世界2/3。据此可推知，当时

- A. 美国操纵国联大发横财
B. 社会主义运动蓬勃发展
C. 西欧霸权地位逐渐衰落
D. 资本主义阵营内部分化

35.“在当今时代背景下，一个国家很难做到与世隔绝、独善其身，相反，全球的跨国性使得应对问题的新模式应运而生，即通过调动国际社会各种力量共同应对。”由此可知，“新模式”的产生

- A. 推动了经济区域集团化兴起
B. 有利于提高全球治理能力
C. 旨在应对经济全球化的弊端
D. 打破了西方霸权主义政策

二、非选择题：本题共8小题，共160分。（说明：地理部分为第36~37题，共56分；政治部分为第38~42题，共52分；历史部分为第43~45题，共52分。）

36. 阅读图文材料，完成下列要求。（28分）

建筑材料琉璃，是用低铝坩土（含铝和钠的硅酸化合物）制成坯泥，后经干燥、素烧、施釉、釉烧而成，上釉用的颜料多是被碾成细末的金属矿物，且需要经过二次烧制，在古代只能在宫殿、皇陵等建筑上使用。山西省介休市东南部的洪山镇富藏低铝坩土，地形以丘陵为主。洪山镇泉水流量大，矿产资源比较丰富，是我国琉璃烧制的起源地之一，也是全国琉璃窑火最旺盛的中心地区，建筑琉璃产量居全国前列，古代顶级的建筑琉璃多出自当地工匠之手。伴随大量工匠外迁，介休琉璃烧制技艺也随之传播到了全国各地。由于社会的发展和建筑材料的更新换代，介休琉璃已不复往日兴盛之态。图9示意介休位置。

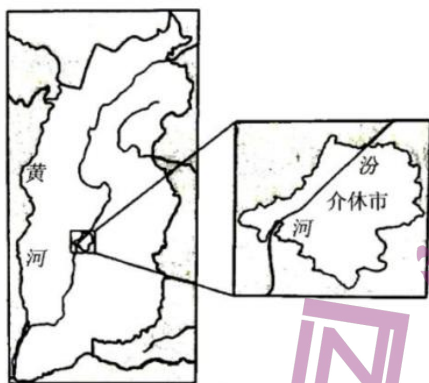


图9

- (1)分析早期介休成为全国琉璃窑火最旺盛地区的原因。(8分)
- (2)推测介休琉璃工匠外迁的原因。(6分)
- (3)从市场角度分析介休琉璃窑火燃烧千年后不复往日兴盛之态的原因。(6分)
- (4)介休琉璃是我国的艺术瑰宝,请为介休琉璃发展提出合理建议。(8分)

37. 阅读图文材料,完成下列要求。(28分)

意大利威尼斯地处地中海北部边缘的潟湖中(潟湖是被沙嘴、沙坝分割而与外海相分离的局部海水水域,是陆上河流与海水共同作用的产物)。潟湖与海水相通,水位受海水潮汐涨落影响大。为减少威尼斯的洪水威胁,早期意大利政府将很多汇入潟湖的河流改道外流。近年来,意大利斥巨资在威尼斯潟湖与外海之间设置三道水闸,采用摇动浮起闸门方案(需要时闸门可升起阻断上涨海水,不需要时落下沉入水底)。某年2月末,受暖高压等因素影响,威尼斯的水位波动下降,以至于城中河道出现干涸,人们惊呼威尼斯水乡风光不再。图10为威尼斯区域图,图11为水闸景观图。

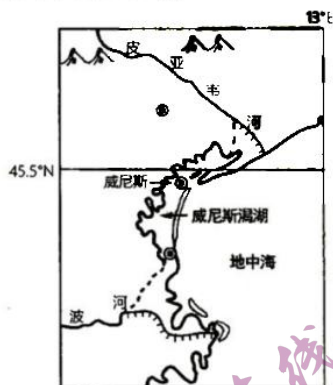


图10



图11

- (1)分析图示沙坝的形成过程。(10分)
- (2)推测该城市河道出现干涸现象的自然原因。(4分)
- (3)分析河流改道对潟湖水环境可能造成的影响。(8分)
- (4)说明摇动浮起闸门方案相比传统高水闸的优点。(6分)

38. 阅读材料,回答下列问题。(10分)

材料一

时间	地点	问题	正确答案
1945年	延安	跳出治乱兴衰历史周期律	答案一:人民监督
2022年	北京	跳出治乱兴衰历史周期律	答案二:自我革命

材料二

1949年,毛泽东同志在党的七届二中全会上提出“两个务必”:务必使同志们继续地保持谦虚、谨慎、不骄、不躁的作风,务必使同志们继续地保持艰苦奋斗的作风。2022年,习近平总书记在二十大报告中指出:全党同志务必不忘初心、牢记使命,务必谦虚谨慎、艰苦奋斗,务必敢于斗争、善于斗争,坚定历史自信,增强历史主动,谱写新时代中国特色社会主义更加绚丽的华章。

结合上述材料,运用《政治与法治》相关知识说明,从“第一个答案”到“第二个答案”,从“两个务必”到“三个务必”彰显了中国共产党哪些鲜明的政治品格。(10分)

39. 阅读材料,回答下列问题。(10分)

党的二十大报告提出:中国式现代化是人口规模巨大的现代化。我国第七次全国人口普查数据显示,与10年前相比,中国16岁至59岁劳动年龄人口减少4000多万人;2020年,65岁及以上人口为19064万人,占13.50%。老龄化进程加快,劳动年龄人口减少,未来中国经济增长还会有人口方面的红利吗?

2023年两会期间,国务院新总理李强在记者见面会谈“人口红利”时强调:人口红利既要看总量,更要看质量;既要看人口,更要看人才。我国有近9亿劳动力,每年新增劳动力都超过1500万,人力资源丰富仍然是中国的突出优势。更重要的是,我国接受高等教育的人口已超过2.4亿,新增劳动力平均受教育年限达到14年。可以说,我们的“人口红利”没有消失,“人才红利”正在形成,发展动力依旧强劲。当然,我们对人口增减可能带来的问题还要作深入的分析研判,积极应对。

结合材料,运用矛盾的观点,分析如何正确地看待我国的人口红利?(10分)

40. 阅读材料,回答下列问题。(12分)

数字外交是指以数字技术为支撑、利用数字平台和数字手段开展外交的活动。既包括传统外交的数字化,也包括通过数字平台实施的数字公共外交。

注释:

传统外交:一国政府对其他国家政府开展的外交活动。

公共外交:政府或政府支持下的实体针对外国公众开展的外交活动。

场景一:除主权国家外,国际组织、跨国公司、科学家共同体以及广大民众是数字时代国际关系的重要参与者。在数字外交场景下,外交行为体和公众间通过社交媒体、网络进行交谈与倾听,实现双向信息沟通和传播。

场景二:习近平主席以视频方式出席了《生物多样性公约》第15次缔约方大会、第76届联合国大会一般性辩论、上海合作组织成员国元首理事会、金砖国家领导人峰会等,全面阐发了中国在各个全球治理议题上的主张和方案,向全球发出了践行真正的多边主义的倡议。

场景三:中国公民在海外如遭遇紧急情况,除拨打12308热线,还可以通过“中国领事”App寻求帮助;护照和应急旅行证的网上申办、海外人员养老金的资格审核等都可以通过网络高效快捷地完成。

结合材料,运用《当代国际政治与经济》知识分析我国发展数字外交的原因。(12分)

41. 阅读材料,回答下列问题。(10分)

第六十八条 夫妻双方应当共同负担家庭义务,共同照顾家庭生活。

——《中华人民共和国妇女权益保障法》

针对新《中华人民共和国妇女权益保障法》第六十八条的修订,有人认为这一修订不符合我国“男主外、女主内”的传统。运用《法律与生活》所学加以评析。(10分)

42. 阅读材料,完成下列要求。(10分)

在互联网迅速发展的时代,传播媒介发生了很大的改变,人们阅读书籍的方式也随之改变,从以往单纯的视觉阅读到现在的视听结合阅读,阅读的种类也从较为单一的纸质媒介到多元媒介,并且阅读目的多样化、阅读时间碎片化。传统书店的经营在上述变化的冲击下遇到诸多困难和挑战,如何生存与发展,成为传统书店所面临的重大问题。

运用创新思维的方法,为传统书店走出困境提出2条合理化建议。(10分)

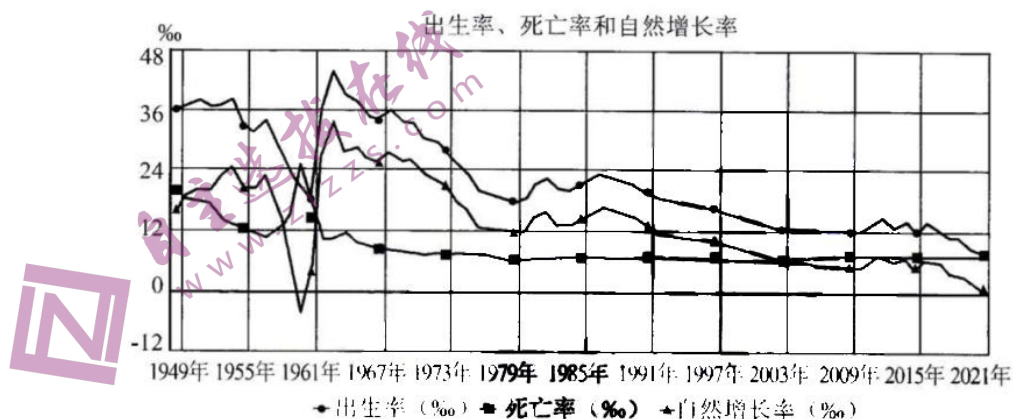
43. 阅读材料,完成下列要求。(25分)

材料一

20世纪初,美国从一个曾经的农业国变成了一个以城市为主的国家。美国上千座城市的人口数从1862年的620万人增加到1920年的5430万人,这个数字已经超过了当时美国总人口数的一半。尽管城市人口增长的部分原因应归结于出生率高于死亡率,但是最重要的原因是新移民的到来。他们有的来自美国的农村,有的来自国外,有的来自其他美国小城镇。美国南方的黑人,饱受经济剥削、种族歧视和债务之苦,有些人就离开农场出去闯荡赚薪水,以求温饱。他们顺着水路或者沿着铁路,去往北方扩张中的商业或工业中心城市。在20世纪10年代末,因为第一次世界大战扩大了就业需求,大批新移民纷至沓来,北方城市的黑人社区发展尤其迅速。

——摘编自丘达柯夫《美国城市社会的演变》

材料二



——据国家统计局数据库整理

(1) 根据材料一并结合所学知识,分析美国20世纪初城市人口增加的原因。(12分)

(2) 根据材料二并结合所学知识,概括新中国成立以来我国人口变化的特点。(8分)

(3) 根据材料并结合所学知识,请为我国人口问题的合理发展提出你的建议。(5分)

44. 阅读材料,完成下列要求。(12分)

材料

“古代中国陈列”是中国国家博物馆的基本陈列,它以王朝更替为主要脉络,分为远古时期、夏商西周时期、春秋战国时期、秦汉时期、三国两晋南北朝时期、隋唐五代时期、辽宋夏金元时期和明清时期八个部分。该陈列以古代珍贵文物为主要见证,较为全面地展示了古代中国不同历史时期在政治、经济、文化、社会生活以及中外交流等方面的发展状况,突出展现了中华文明绵延不绝的发展特点和各族人民共同缔造多民族国家的历史进程,展现了中华民族所取得的辉煌成就和对人类文明所做出的伟大贡献。

——据国家博物馆“古代中国陈列”展览介绍

根据材料并结合中国古代史知识,从国家博物馆“古代中国陈列”展览的八个部分中任选两个部分,拟定一个主题,并予以阐述。(要求:明确列举两个部分,主题明确,持论有据,逻辑清晰,表达顺畅)

45. 阅读材料,完成下列要求(15分)。

材料一

鸦片战争后,外国教会、租界等在华势力开展的医疗卫生活动,引起了国人见贤思齐的仿效舆论,在舆论压力和疫病流行的情况下,清廷开始着手施行卫生新政。1902年,给事中吴鸿甲奏请设立医局,得到光绪帝的准允,1905年清政府设立巡警部卫生科,1908年设立了外城官医院,开创了官办平民医院的先河。清廷虽然移植了西方卫生职能,但许多举措仍然体现着施舍性质的社会救济的特点,并且没有相应的法律制度来规范这种行为。

——摘编自修圆慧《仿效与超越:中国近代卫生事业演进历程分析》

材料二

新中国成立后,党和政府迅速做出决策,采取各种措施增进人民的健康。从1953年开始,全国省、地区、县各级卫生防疫站逐步建立。稍后,铁路系统、厂矿企业也建立了卫生防疫站。1955年,国务院发布的《传染病管理办法》是卫生防疫工作的第一个法定性文件,从而使防疫工作有法可依。1958年,国家发动全民除“四害”运动,进一步整治了环境卫生,以预防疾病传播。

——摘编自《新中国七十多年来的医疗卫生事业是如何发展的?》

(1) 根据材料一并结合所学知识,概括晚清医疗卫生事业发展的特点。(5分)

(2) 根据材料一、二并结合所学知识,指出与晚清相比新中国医疗卫生事业的进步之处,并分析其原因。(10分)

哈师大附中 2023 年高三第四次模拟考试
地理答案

一、选择题

1. 选 C。

【解析】创新型上市公司优先选择同城的高级生产性服务企业进行合作，主要考虑同城服务商有更加便利的距离优势，C 正确；从图中看出，大部分省会城市都是对外服务大于本市服务，说明其服务范围没有封闭性，A 错误；材料中没有信息表明服务对象的排斥性，同一公司可以为多家公司提供类似的服务，B 错误。不同城市服务商的职能没有明显差异，D 错误。

2. 选 B。

【解析】深圳与广州地理位置邻近，但与广州的联系强度远小于与北京、上海的联系强度，体现了深圳上市公司选择高级生产性服务时对于北京和上海提供的服务满意度和需求度更高，说明北京、上海比起其他城市，包括深圳本市可以提供更高级的专业性服务，即等级更高，B 正确；深圳与广州的地理位置邻近，距离北京、上海较远，不符合距离递减原则，A 错误；北京、上海、广州都是交通枢纽城市和区域中心城市，交通便捷程度，差异不大，D 错误。深圳上市公司为北京、上海和广州共同的市场，C 错误。

3. 选 D。

【解析】一般而言，高铁车站与城市空间紧密融合，依托高铁客运站及周边区域快速发展，将交通功能与城市公共服务功能有机衔接，形成铁路建设与城市发展联动效应，D 正确；高铁站为综合客运枢纽，货物运输量极少，运输效率相对于航空港较低，与运营时间长短关系不大，A、B、C 错误。

4. 选 A。

【解析】根据图示可知，L 示意的功能空间主要服务于中转客流，故其应为中转客流促生的交通换乘空间，A 正确；其他选项与中转客流关系不大，B、C、D 错误。

5. 选 D。

【解析】站城融合后可以带动相关产业发展，改变传统发展模式，调整产业结构、优化城市空间，③对；站城融合是通过空间的合理构建与功能的协调整合，在确保交通功能运行良好的同时，形成以综合客运枢纽为主体的城市活力区，所以站城融合可以进一步促进交通发展，完善综合交通，④对；盲目扩大城市规模会带来新的城市问题，不是主要目的，①错；站城融合发展与城乡协作关系不大，②错。综上所述可知，D 正确，A、B、C 错误。

6. 选 A。

【解析】由图可知，该区域有两个反气旋天气系统，中心气压值区间分别是 (1024, 1028) (1028, 1032)，气压差的数值区间是 (0, 8)，A 正确。

7. 选 A。

【解析】由图可知，塔斯马尼亚岛东部有一个高压中心，塔斯马尼亚岛东岸等压线较为密集，此时吹向岸风，海浪最大，A 正确；而 B、C、D 选项海域等压线均较稀疏，海浪较小。

8. 选 C。

【解析】由图可知，珀斯附近和南岛北部都位于冷锋锋前，但南岛北部距离锋面更近，故可能最先迎来降温、阴雨天气，C 正确，A 错误；塔斯曼海中部受高压控制，天气晴朗，B 错误；澳大利亚中部虽然受低压控制，但其下垫面主要为荒漠，水汽匮乏，降水可能性小，且没有明显降温天气，D 错误。

9. 选 C。

【解析】根据材料信息“在气候暖湿化背景下，青藏高原的湖泊总体呈快速扩张趋势，部分湖泊发生水系重组（邻近湖泊因湖水溢出而形成上下游汇流关系）”可知，湖泊水位上升，但是水位增加不同，形成水系重组，结合图中湖泊之间水流流向可知，甲湖湖水流向乙湖，甲湖湖泊水位增加较多，形成外溢，因此甲湖对应为①，乙湖湖水又流向丙湖，因此丙湖湖水水位上涨且与甲湖变化趋势类似，因此丙湖对应为②；乙湖位于甲湖和丙湖之间，起到调节作用，湖泊变化较小，因此乙湖对应为③。因此 C 正确，排除 A、B、D。

10. 选 D。

【解析】根据材料信息可知，该水系重组主要原因在于气候暖湿化，重组后甲湖流向乙湖，主要原因在于甲湖海拔较高，气候暖湿化后，甲湖补给增多，湖泊水位上升，形成外溢，甲湖流域面积不会发生明显变化，排除 C；根据图中信息可知，乙湖水位变化较小，湖盆容积变化小，排除 B；根据图中信息可知，甲湖和丙湖水位变化趋势相近，因此重组后甲湖变化较大，影响丙湖水位，重组前后乙湖对丙湖影响相差不大，因此重组前乙湖流向丙湖，甲湖未流向乙湖，排除 A，D 正确。

11. 选 B。

【解析】根据图中信息可知，甲湖和丙湖水位明显上升，水量增加，盐度降低，乙湖变化较小，几乎保持原状，盐度不会明显降低，因此 B 正确，排除 A、C、D。

二、非选择题

36. (28 分)

(1) 周边丰富的煤矿和森林资源为窑烧提供了燃料；靠近河流，便于供水和（为金属矿物碾成细末）提供动力；矿产资源丰富，为炼制琉璃釉提供了物质基础；位于山西中部，交通便利；我国琉璃烧制的起源地之一，生产经验丰富，生产技艺精湛的工匠众多。（每点 2 分，任选 4 点，共 8 分）

(2) 古代琉璃仅用于宫殿、皇陵等建筑，市场需求有限；（3 分）当地琉璃技艺精湛，琉璃工匠去外地寻求工作机会，获取更高收入。（3 分）

(3) 琉璃烧制工艺复杂，造价高；（2 分）随着社会发展，建筑琉璃主要应用于文物修复和仿古建筑建造，市场狭小；（2 分）新型建筑材料或替代材料的冲击。（2 分）

(4) 将现代设计和传统技术相融合，增加琉璃制品的类型和样式；推动琉璃从建筑构件向艺术品转变；开发与生活相关的适合不同场所摆放的琉璃摆件，获得市场认可；设立体验式琉璃烧制旅游项目，传承琉璃烧制技术；培养琉璃生产工匠，传承琉璃生产工艺。（每点 2 分，任选 4 点，共 8 分）

37. (28 分)

(1) 河流入海携带了大量泥沙；（2 分）入海后水流扩散、坡度降低，（2 分）又受海水顶托作用影响，（2 分）流速减慢，搬运能力降低；（2 分）泥沙堆积形成沙坝。（2 分）

(2) 该时期受暖高压控制，降水少，河水补给少；（2 分）海水落潮低潮时，水位较低，潟湖湖水外泄，水位下降。（2 分）

(3) 有利影响：汇入的泥沙量减少，潟湖不易淤积；（2 分）

不利影响：淡水汇入减少，湖水盐度升高，（2 分）水生生物生境变化，部分生物消失（或生态破坏）；（2 分）湖水净化速度变慢，污染加重。（2 分）

(4) 摇动浮起闸门非洪灾时在水下，不会破坏自然风景；（2 分）有利于湖水与海水之间的交换，降低湖水水质恶化风险；（2 分）对航运影响小，降低对社会、经济活动不利影响。（2 分）

哈师大附中 2023 年高三第四次模拟考试 历史答案

24. A

【详解】材料中反映的观天象授时、战争、工程需要加强和集中公共权力才能得以实现，反映了公共权力不断加强的趋势，A 项正确；材料并未体现随葬品的差别，不能体现私有制的产生和贫富分化、等级观念产生和积极分化，排除 BD 项；题干中没有涉及氏族成员的经济待遇问题，排除 C 项。故选 A 项。

25. B

【详解】根据材料可知，画像砖中的人物舍生取义、勇于赴死、重仁义等行为，有利于推动儒学的社会教化，B 项正确；材料主要信息是儒家思想价值观的影响，得不出汉代思想文化多元化，排除 A 项；材料是汉代画像砖记述春秋战国时期的历史典故，没有秦朝史料，排除 C 项；“二桃杀三士”中的“杀”不是勇武相斗，而是从儒家理念分析自己的行为，最终在价值观的影响下自杀而亡，这不是“尚武”，排除 D 项。故选 B 项。

26. A

【详解】根据材料可知，“禁榷”是中国古代对重要商品采取政府垄断经营制度，北宋禁榷范围广，是因为政府财政紧张，需要从中攫取商品利益以增加财政收入，A 项正确；宋代这一局面形成的主要原因是政府财政的紧张，B 项不属于主要原因，排除 B 项；北宋政府为了增加财政收入，扩大了禁榷范围，与城市经济的繁荣、社会治理的完备无关，排除 CD 项。故选 A 项。

27. C

【详解】结合所学知识可知，秦朝推行的郡县制是官僚政治取代贵族政治的显著标志，是“公天下”的开端，主要依据是依据才干政绩任免官吏，打破贵族世袭的局面，C 项正确；材料与百姓不再是封君的属民、政务处理的高度程式化以及皇帝集权的说法无关，排除 ABD 项。故选 C 项。

28. B

【详解】据材料和所学可知，近代中国逐渐形成了多元货币一体流通的混乱复杂局面，汉口、上海等成为通商口岸后，在商业活动中产生了一种只作为计算单位的“虚银两”，客观上适应了对外贸易的发展，B 项正确；“虚银两”是市场自发形成的，没有体现反映了清政府经济主权受损，排除 A 项；“虚银两”的形成，不能代表白银实物失去原本的职能，排除 C 项；“虚银两”的出现与太平天国运动没有直接联系，排除 D 项。故选 B 项。

29. B

【详解】本题考查马克思主义在中国的传播，考查学生获取和解读材料信息、运用所学知识分析历史现象的能力。材料中邓中夏等人将进行反帝反封建的对象定位为下层工人阶级，说明当时开始以马克思主义指导中国革命，体现了救亡之路出现转向，B 项正确；提升国民觉悟是“平民教育讲演团”的宗旨，但不能说明国民的觉悟得到提升，排除 A 项；材料只体现了进步知识分子和工人结合加深，并不能说明无产阶级力量壮大，排除 C 项；虽然邓中夏是中国共产党早期的创始人，但材料现象并不是在筹建政党，排除 D 项。故选 B 项。

30. C

【详解】根据材料可知，毛泽东及其余中共中央领导人的活动都强调党建工作的重要性，加强党的建设有利于增强党的凝聚力战斗力，能够加强党对民族战争的领导能力，C 项正确；材料中的活动与“左倾错误”无关，排除 A 项；1937 年国共实现第二次合作，表明抗日民族统一战线正式形成，排除 B 项；1940 年毛泽东发表《新民主主义论》，标志着毛泽东思想的成熟，排除 D 项。故选 C 项。

31. C

【详解】20 世纪 90 年代初，深圳证券交易所和上海证券交易所的成立，适应了我国经济发展的需求，C 项正确；城市经济体制改革 1984 年开始，排除 A 项；题干中的现象是国内金融市场和企业的发展，与对外开放关联不大，排除 B 项；1992 年十四大召开，确立经济体制改革的目标是建立社会主义市场经济，排除 D 项。故选 C 项。

32. C

【详解】材料中《十二铜表法》规定，“凡故意伤人肢体而又未能取得调解时，则伤人者亦需受到同样的伤害”表明古罗马的司法原则是“同态复仇”，保留了一些比较野蛮的习惯法，“如有人打断自由人的骨头，……如被打折骨头的是奴隶，罚金可以减半”表明罗马法作为奴隶社会的法律制度，严格规定等级秩序，材料中并未涉及私有财产，故 A 项错误；材料也没有表明严守契约规定的原则，故 B 项错误；严格等级与“同态复仇”符合题意，故 C 项正确；对于自由人和奴隶不同规定表明罗马法存在不平等，追求公正至上不符合题意，故 D 项错误。综上所述，本题正确答案选 C。

33. D

【详解】从材料中的三幅图信息可以看出，原来欧洲的帆船传到阿拉伯后，经过改造，再传入欧洲又进行了进一步的改进，反映出在文化交流的过程中技术得以改进与提高，D项正确；材料没有把欧洲与世界进行比较，排除A项；材料不能体现阿拉伯垄断，只体现了造船技术的变化，排除B项；新航路开辟是在15世纪末，排除C项。故选D项。

34. C

【详解】根据材料中的“1913年至1920年，欧洲制造业产量下降了23%，美国却增长了22%”信息可以得出，一战期间作为主战场的欧洲在经济发展方面大受影响，又根据材料中的“1920年，美国发电量相当于欧洲的总和，钢产量占世界一半以上，石油产量占世界2/3”信息可以得出，一战后美国实力迅速上升，这就使得过去几个世纪以来以西欧为中心的世界格局受到了巨大挑战，综合可知，一战重大后果之一就是西欧霸权地位逐渐衰落了，C项正确；国际联盟成立于1920年1月10日，它以保障国际和平与促进国际合作为宗旨，所以“美国操纵国联大发横财”的说法是不成立的，排除A项；二战结束后，社会主义运动从“一国”到“多国”这意味着“社会主义运动蓬勃发展”，时间不符合，排除B项；资本主义阵营内部分化，发生在二战结束以后，仅从材料中的信息无法得到体现，排除D项。故选C项。

35. B

【详解】依据材料“即通过调动国际社会各种力量共同应对”，可知新模式指的是通过国际各种力量共同应对跨国问题，这显然有利于提高全球治理能力，B项正确；材料未涉及世界经济区域集团化，排除A项；材料中的新模式顺应了全球化发展，排除C项；“打破了西方霸权主义政策”，与资本主义阵营分化现状不符，排除D项。故选B项。

43. (1) 原因：第二次工业革命的影响；城市化加快；医疗事业进步（出生率高于死亡率）；新移民的到来；南北战争废除了黑人奴隶制；一战扩大就业需求；交通条件的改善。（12分，任答6点）

(2) 特点：人口总量逐渐增加；增速总体呈减缓趋势；改革开放前人口增长波动较大，改革开放后保持平稳增长；受国家政策的影响明显。（8分）

(3) 建议：

- ①重视农业发展，保障粮食安全；
 - ②制定合理人口政策，控制人口规模，优化人口结构；
 - ③大力发展教育事业，提升人口整体素质，将人口数量优势转变成人口质量优势；
 - ④鼓励不同地区、多种产业发展，稳定就业，实现协调发展；
 - ⑤注重保护环境，实现绿色发展、可持续发展；
 - ⑥完善社会保障，巩固脱贫攻坚取得成果，彰显社会主义制度的伟大优越性；
 - ⑦坚定不移推进我国改革开放事业，大力发展生产与经济，提高广大人民的幸福感。
- （5分，任答3点）

44.

示例一

选择部分：三国两晋南北朝、辽宋夏金元（1分）

主题：国家分裂时期的民族交融促进了统一多民族国家的发展。（主题2分）

阐述：三国两晋南北朝时期，由于战乱和政权并列，北方少数民族南下和中原人口南迁，汉族和少数民族在思想文化和生活习俗等方面相互影响，北魏孝文帝推行汉化改革，民族之间的隔阂与偏见逐渐减少，民族交融为中华民族的发展注入了新的动力。辽宋夏金元时期，从多民族政权并立到重建大一统，边疆各少数民族同汉族杂居相处，宋与辽夏金各政权之间的经济往来十分密切，官方设置榷场进行互市交易，经过长期的交融，共同丰富了中华文明。（史实2点4分，史论4分，逻辑1分）

示例二

选择部分：秦汉、隋唐（1分）

主题：大一统政权是促进统一多民族国家发展的重要阶段。（主题2分）

阐述：秦汉时期，秦朝实行皇帝制度、郡县制，汉朝实行郡国并行，奠定了大一统中央集权国家治理的基本模式，汉代开通丝绸之路、设立西域都护府，促进统一多民族封建国家的形成。隋唐时期，结束魏晋时期的分裂局面，通过制度创新，加强中央集权，实行羁縻政策，草原各族共同尊奉唐太宗为“天可汗”，先后设置安西都护府和北庭都护府，统辖天山南北，推动了统一多民族封建国家进入繁荣时期，出现了国力强盛、经济繁荣、民族往来和对外交往活跃的局面。（史实2点4分，史论4分，逻辑1分）

45. (1)特点：以仿效西方医疗卫生事业为主；由清政府主导；被动学习；设立专门机构；具有社会救济性质。(5取3, 5分)

(2)进步之处：主动推进；法律立法保障；覆盖范围广，惠及人民群众；体系完善；充分调动群众参与。(5取3, 5分)

原因：新中国的成立，人民翻身作主人；党和政府的高度重视；大规模经济建设的开展；人民群众觉悟的提高。(4取3, 5分)



哈师大附中 2023 年高三第四次模拟考试

政治答案

一、选择题

12	13	14	15	16	17	18	19	20	21	22	23
B	C	A	A	D	A	C	B	D	C	C	B

12. B【详解】①④：深化党和国家机构改革必须坚持问题导向，通过优化职能配置，使上层建筑更加适应经济基础状况，从而推进国家治理体系和治理能力现代化，①④符合题意。

②：深化党和国家机构改革是上层建筑的调整，作为一种社会变革有利于推动中华民族伟大复兴的进程，但不是实现中华民族伟大复兴最为广泛而深刻的社会变革，②错误。

③：改革开放是新时代坚持和发展中国特色社会主义的必由之路，③错误。故本题选 B。

13. C【详解】①：新中国成立就确立了人民当家作主的地位，而不是由全过程人民民主确立的，①表述错误。②：全过程人民民主是全链条、全方位、全覆盖的民主，全过程人民民主是社会主义民主政治的本质属性，是最广泛、最真实、最管用的民主，发展全过程人民民主是全面建设社会主义现代化国家的应有之义，②符合题意。③：自由是相对的，没有绝对的自由，③表述错误。④：立法工作每个环节都能听到广大人民的声音，从而在立法过程中回应广大人民的诉求发展全过程人民民主有利于巩固和发展生动活泼、安定团结的局面，④符合题意。故本题选 C。

14. A【详解】①：向全国招聘“CEO”鼓励本土和返乡人才从事专门的乡村经营性工作，为乡村产业提供更多人才支撑，①应该排在第一位。⑤：更多的人才返乡工作，有利于激发乡村产业发展的活力，⑤应该排在第二位。④：乡村产业发展活力提高，有利于提高农村集体收入和农民收入，④应该排在第三位。③：农村集体收入和农民收入提高，进一步推动乡村振兴和共同富裕，③应该排在第四位。②：材料涉及乡村集体经济发展，不涉及按生产要素参与分配，②排除。正确的传导路径是①→⑤→④→③。故本题选 A。

15. A【详解】①②：加快构建新发展格局，要坚持问题导向和系统观念，推进实践创新、制度创新，不断扬优势、补短板、强弱项，这表明实施扩大内需战略、培育完整内需体系，深化要素市场化配置改革，强化法治环境、信用环境和公平竞争环境建设，①②说法正确。③：构建新发展格局需要以扩大内需为基点，充分激发我国超大规模市场优势，③说法错误。④：构建新发展格局，核心是循环，要打通生产、分配、流通、消费环节的堵点和梗阻。通过改革，促进生产要素自由流动和资源优化配置，而不是仅仅降低市场准入门槛，④说法错误。故本题选 A。

16. D【详解】③④：推动线上与线下深度融合，扩大商品销售半径，提高购物便利性和即时性，提升顾客消费体验属于该经营方式的直接作用，③④正确。②：正常的市场竞争对提高经济活力具有重要意义，选项中的“减少竞争”不符合市场经济的价值取向。实际上，即时零售与传统商品销售类电商竞争依然存在，也没有减少，②错误。①：快递也要产生成本，商品价格并不因此而降低，①错误。故本题选 D。

17. A【详解】①③：通过“议题征集—码上留言—码上议事—码上公开”的方式，汇集民意民智，解决诉求，体现了该市人大常委会践行全过程人民民主，发挥我国人民代表大会制度优势，推动人大代表有效履职，助推社会治理现代化，①③符合题意。②：公民的民主权利是宪法和法律赋予的，该市人大常委会无权赋予市民民主权利，②错误。④：在我国，一切权力属于人民，该市人大常委会的做法有利于保障人民依法行使国家权力，而不是保障公民行使国家权力，④错误。故本题选 A。

18. C【详解】材料并未涉及行业意见，A 是无关选项。政治协商是政协的职能，联席会议制度无此职能。B 错误。转变工作作风，坚持群众路线，密切党群关系，是对党提出的要求，

与材料不符，D 是无关选项。联席会议制度，街道和社区党组织牵头，由驻区单位、党员代表、居民代表、社会组织等组建对话平台，体现了动员社会力量，吸纳多元主体合理表达，共建共治。C 合理。

19. B【详解】①③：漫画《也为上坡加把劲》启示我们想问题办事情要遵循规律，正确发挥主观能动性，通过优化组合以实现整体最优目标，①③符合题意。

②：漫画反映了采用不恰当的方法为上坡加劲，启示我们要在对立中把握统一，而不是在统一中实现对立，②错误。④：漫画《也为上坡加把劲》讽刺了那些缺乏整体观念的现象，强调要立足整体，优化组合，而不是强调部分，④与题意不符。故本题选 B。

20. D【详解】D：习近平总书记带领中共中央政治局常委专程从北京前往延安，瞻仰延安革命纪念地，宣誓新一届中央领导集体将继承和发扬延安时期形成的优良传统和作风，这表明要坚定理想信念，自觉继承革命文化，D 正确。ABC：材料没有涉及外来文化、中华文化、时代精神，ABC 排除。故本题选 D。

21. C【详解】①：独立自主是我国对外关系的基本立场，和平共处五项原则是我国对外关系的基本准则，①排除。②④：中国外交部发布《关于政治解决乌克兰危机的中国立场》文件，从尊重各国主权、启动和谈、停止单边制裁、推动战后重建等 12 个方面全面阐述了中方原则立场。这从一个侧面表明我国勇于承担大国责任，展现大国担当，用实际行动践行人类命运共同体理念，②④正确。③：材料中我国向世界表明了一个鲜明立场，那就是在战争与和平问题上，中国站在和平一边。这从一个侧面表明我国践行全球安全倡议。但它不一定契合各国心声，在俄乌问题上，一些国家拱火浇油，故意激化矛盾，造成了乌克兰危机的进一步恶化甚至失控，③排除。故本题选 C。

22. C【详解】①：《快递电子运单》是国家标准是行业规则，不是我国的基本法律，①不选。②④：要求快递企业、电商经营主体等采取措施，对个人信息进行加密，保护个人信息，规范个人信息相关内容的读取权限，体现了用全面的观点看问题，有利于实现个人信息使用与保护的统一，针对快递业出现的具体问题，细化保护要求有利于防止个人信息泄露，②④入选。③：强化对个人信息进行全加密处理，是为了保护自然人的隐私权和个人信息，与自然人的名誉权荣誉权无关，③不选。故本题选 C。

23. B【详解】①③：材料中，2023 年中央经济工作会议特别强调“要把恢复和扩大消费摆在优先位置”，这就意味着，扩大内需将成为 2023 年甚至未来多年经济工作的核心主线，这体现了我们党从我国经济发展的实现状况出发，根据我国经济发展规律运用超前思维作出预测，也说明了经济形势是不断变化发展的，我们党运用辩证思维以动态的方式思考经济工作趋势，①③正确。②：从感性具体到思维抽象，再从思维抽象到思维具体，②排除。④：头脑风暴法是一种集思广益的群体思维发散技法。它以会议的形式开展，要求有人主持会议，会议有讨论的主题。在会议进入自由畅想阶段，不宜过早地评判他人的设想，以利于其他设想能够顺利地产生。这种会议的原则是“延迟评判”“以量求质”。可见，材料不涉及头脑风暴法，排除④。故本题选 B。

二、主观题。

38. ①坚持与时俱进，不断解答时代之问，坚定不移地用党的创新理论成果武装全党，确保党始终走在时代前列。（2 分）

②坚持全心全意为人民服务宗旨，践行初心使命，自觉接受人民监督，紧紧依靠人民创造历史伟业。（2 分）

③不断加强党的建设，坚持全面从严治党，敢于正视自身问题，勇于自我革命，永葆党的生机与活力，不断保持党的先进性。（2 分）

④不断提高党的执政能力和水平，（2 分）继承党的优良传统，弘扬伟大斗争精神，增强斗争本领，确保党始终成为中国特色社会主义事业坚强领导核心。（2 分）

答案第 2 页，共 3 页

39. ①事物的性质主要是由主要矛盾的主要方面决定的，(2分)认识事物时，既要全面，又要分清主流和支流，坚持两点论和重点论的统一。(2分)

②当前，我国老龄化进程加快，劳动年龄人口减少，(2分)但我国仍有近9亿劳动力，每年新增劳动力都超过1500万，人力资源丰富仍然是中国的突出优势。(2分)分析我国的人口红利既要看人口的总量，更要看人口的质量；既要看人口，更要看人才。(2分)

40. ①社会信息化背景下，数字外交具有多元主体参与、互动畅通等优势，促进国际合作与交流，推进全球治理；(4分)

②可更好地履行国家职能，保障人民利益。世界多极化背景下，国际竞争日益激烈，其本质是国家综合国力的竞争。(4分)

③数字外交拓宽了表达中国立场和观点的渠道，增强我国国际传播力和话语权，提升我国网络空间软实力。(4分)

41. ①这一不符合我国“男主外、女主内”的传统的修订，正是民法典男女平等基本原则的体现。(2分)

②民法典规定，夫妻在婚姻家庭中地位平等。(2分)夫妻在人格上和权利义务上平等。(2分)夫妻双方无须受“男主外、女主内”思想的束缚，均有参加生产、工作、学习和社会活动的自由。(2分)

③当然，平等不是均等，夫妻平等需要考虑男女在生理上的差异，合理分工，共同承担家庭和社会的责任。(2分)

42. (10分)答案示例1：发散思维：(2分)构建以社区书店、校园书店等小微型门店为主的销售网络，走出差异化的发展路径。(3分)

答案示例2：聚合思维：(2分)引入多种文化业态，强化文化交流和文化体验功能，使之形成集阅读、教育、休闲、消费于一体的阅读文化综合体、体验式阅读中心(3分)

答案示例3：联想思维或形象化想象。(2分)找出互联网与阅读之间关联，与软件公司合作，开发手机在线阅读软件、手机云视听APP，满足多样化的阅读需求。(3分)

答案示例4：超前思维。(2分)调整单纯依靠视觉阅读的思路，适应互联网未来发展需要，建设网上书店、网上图书馆。(3分)

(以上答案任选2个角度即可，如有其它合理答案，可酌情给分，总分不超过10分。)

关于我们

自主选拔在线是致力于提供新高考生涯规划、强基计划、综合评价、三位一体、学科竞赛等政策资讯的升学服务平台。总部坐落于北京，旗下拥有网站（[网址: www.zizzs.com](http://www.zizzs.com)）和微信公众平台等媒体矩阵，用户群体涵盖全国90%以上的重点中学师生及家长，在全国新高考、自主选拔领域首屈一指。

如需第一时间获取相关资讯及备考指南，请关注**自主选拔在线**官方微信号：[zizzsw](https://www.zizzs.com)。



微信搜一搜

自主选拔在线