

文科综合试卷

注意事项:

1. 答题前, 考生务必用黑色碳素笔将自己的姓名、准考证号、考场号、座位号在答题卡上填写清楚。
2. 每小题选出答案后, 用2B铅笔把答题卡上对应题目的答案标号涂黑。如需改动, 用橡皮擦干净后, 再选涂其他答案标号。在试题卷上作答无效。
3. 考试结束后, 请将本试卷和答题卡一并交回。满分300分, 考试用时150分钟。

一、选择题 (本大题共35小题, 每小题4分, 共140分。在每小题给出的四个选项中, 只有一项是符合题目要求的)

都市圈是城市群内部以超大特大城市或辐射带动功能强的大城市为中心、以1小时通勤圈为基本范围的城镇化空间形态。2022年12月7日, 《武汉都市圈发展规划》已获得国家发改委批复同意, 武汉都市圈成为国家级都市圈。图1为武汉城市圈示意图。据此完成1~2题。

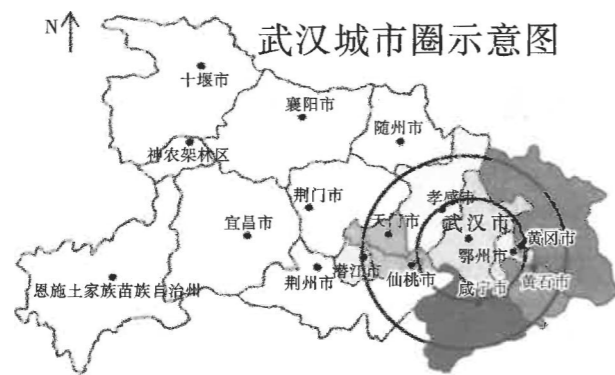


图1

1. 武汉都市圈范围的大小主要取决于

A. 中心城市的辐射能力	B. 周围城市数量
C. 中心城市的地理位置	D. 区域人口密度
2. 引导武汉都市圈空间结构演变的有效措施是

A. 提高城市等级
B. 保护周边基本农田
C. 城市连片发展
D. 轨道交通引导开发

图2为2022年甘肃、青海和宁夏三省区人口、耕地面积和人均粮食产量示意图。据此完成3~5题。

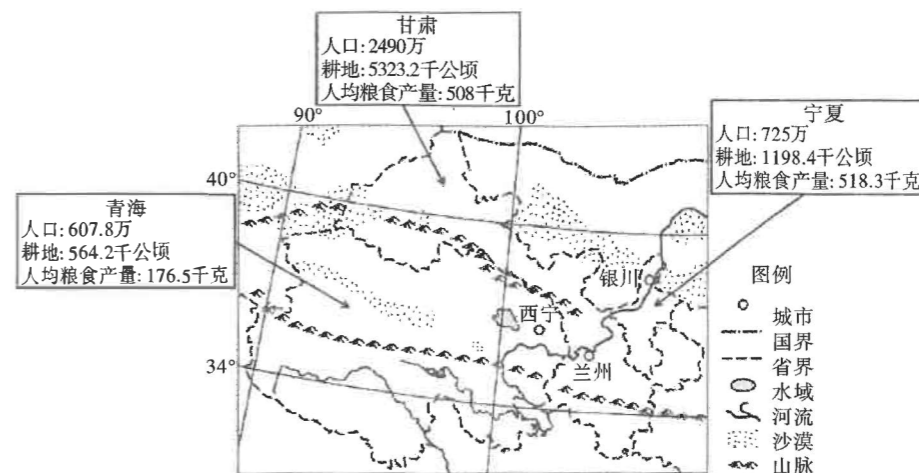


图2

3. 与甘肃、宁夏相比, 青海人均粮食产量低的主要原因

①气候高寒	②人均耕地少	③土地生产力低	④人口数量少
A. ①②③	B. ②③④	C. ①③④	D. ①②④
4. 此三省区面临的主要生态环境问题是

A. 水土流失	B. 土地荒漠化	C. 土地污染	D. 生物多样性减少
---------	----------	---------	------------
5. 此三省区实现农业生产可持续发展宜采用

A. 间作套种	B. 立体开发	C. 节水技术	D. 土地休耕
---------	---------	---------	---------

世界杯一直都是在5至7月间举行, 但在卡塔尔举行的2022年第22届世界杯足球赛却于11月21日至12月18日进行。卢赛尔体育场“金色之碗”是2022年卡塔尔世界杯主体育场(图3右图), 是中国企业首次承建的世界杯主场馆, 该场馆还增加了与一般球场不同的大型设备。据此完成6~8题。



图3

6. 卡塔尔世界杯足球赛选择在冬季举行, 主要是因为该地

A. 冬季是旅游淡季, 利于增加旅游客源	B. 冬季受信风影响, 空气较为湿润
C. 夏季是石油生产旺季, 会影响石油生产	D. 夏季气温过高, 不宜举行足球比赛

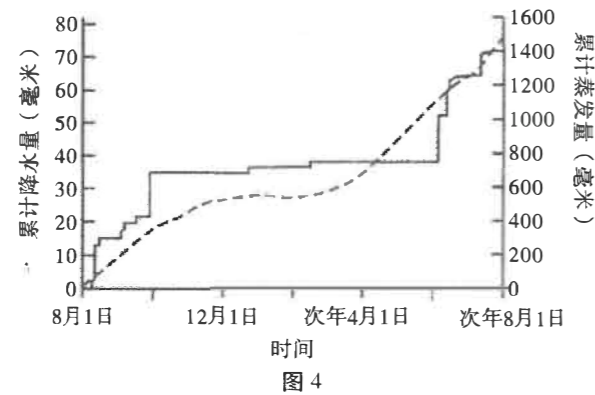
7. 卡塔尔的淡水资源主要来自

- A. 雨水收集 B. 海水淡化 C. 开采地下水 D. 跨流域调水

8. 卢赛尔体育场“金色之碗”增加的与一般球场不同的大型设备最可能是

- A. 灯光 B. 电梯
C. 音响 D. 空调

为研究我国某地湖泊（湖面海拔 1169 米）的水量变化，学者统计了某年 8 月 1 日至次年 8 月 1 日期间湖面日蒸发量的累计值（虚线）和同期当地降水量累计值（实线），并绘制成图 4。据此完成 9~11 题。



9. 影响当地累计降水量及其变化的主要因素是

- ①太阳辐射 ②大气环流 ③地理位置 ④地形地势 ⑤植被覆盖
A. ①②③ B. ②③④ C. ①③④ D. ①④⑤

10. 该湖附近可能因不合理灌溉导致土壤盐碱度上升最明显的时段是

- A. 8、9 月份 B. 12、1 月份
C. 4、5 月份 D. 6、7 月份

11. 推测该湖泊的主要补给类型为

- A. 雨水 B. 季节性积雪融水
C. 地下水 D. 河流水

12. 1982 年，邓小平明确提出：“走自己的道路，建设有中国特色的社会主义”，从此以后，中国共产党所有的理论创新和实践创新都是紧紧围绕这个主题展开的。下列事件是围绕这一主题进行的是

- ①党的八大明确了中国社会的主要矛盾，为社会主义事业的发展指明了方向
②党的二十大提出了高质量发展是全面建设社会主义现代化国家的首要任务
③党的十四大确定了我国经济体制改革的目标是建立社会主义市场经济体制
④生产资料私有制的社会主义改造取得决定性胜利，我国进入社会主义社会
A. ①② B. ①④ C. ②③ D. ②④

13. 下列大事与其意义对应正确的是

- ①完成新民主主义革命，建立中华人民共和国→实现了中国从几千年封建专制政治向人民民主的伟大飞跃
②完成社会主义革命，确立社会主义基本制度→完成了中华民族有史以来最为广泛而深刻的社会变革
③进行改革开放新的伟大革命→开启了全面建设社会主义现代化国家新征程
④全面建成小康社会→中国特色社会主义进入了新时代
A. ①② B. ①④ C. ②③ D. ③④

14. 2023 年，国资委进一步优化完善中央企业经营指标体系，提出“一利五率”经营指标和“一增一稳四提升”总体目标，引导企业突出高质量发展首要任务，扎实推进提质增效稳增长。同时，将组织开展新一轮国企改革深化提升行动，加大科技创新力度，全面加快建设世界一流企业。下列国企改革的相关措施推导正确的是

- ①推进国企战略重组→提高经营者管理水平→提高国有资本配置效率→增强国际竞争力
②建立现代企业制度→明确产权责任→增强企业创新动力→激发市场活力
③推动各类产权交叉持股→打破所有制界限→激发经营活力→开拓新发展空间
④增强研发创新能力→提高劳动者的素质→调动员工积极性→推动国有企业保值增值
A. ①② B. ①④ C. ②③ D. ③④

15. 2022 中国体育彩票“百村万帐”运动振兴乡村活动临安白果村站在杭州大明山举行。活动传承“在有风景的地方嵌入新经济”的理念，以“围炉煮茶”等多样化活动打造休闲、文化消费，探索出“体育+露营”的户外运动新经济模式，让“运动振兴乡村”不只是一句口号。该活动的举办

- ①旨在完善农村基本经营制度，利于拓宽农民增收渠道
②有利于助力多种业态跨界融合支撑的乡村发展新格局
③有利于促进区域协调发展，塑造区域协调发展新格局
④体现了体育产业助力乡村振兴，有利于当地产业转型
A. ①② B. ①③ C. ②④ D. ③④

16. 为了选好党的二十大代表，云南结合边疆民族地区实际，注重先进典型推荐，统筹少数民族人选，严格落实“三上三下”程序，通过自下而上、上下结合、反复酝酿、逐级遴选的办法，好中选优、优中选强，共推荐提名出党的二十大代表人选 541 名。其中来自生产和工作一线的代表人选占 39.29%，少数民族代表人选占 41%。这些举措

- ①能够提高代表行使国家权力的水平
②充分保障民族自治地方的自治权
③能够提升决策的科学性和民主性
④有利于加强和规范党内政治生活
A. ①② B. ①③ C. ②④ D. ③④

17. 2023年1月9日,在第三个中国人民警察节来临之际,云南省公安厅召开新闻发布会,通报2022年全省公安机关的工作成效。据通报,云南省公安厅推动执法权力运行机制改革,细化公安机关执法岗位权责,加强现场执法监督管理,规范接处警范围和流程,规范现场执法语言动作,全面落实现场执法音视频记录制度。执法权力运行机制改革有利于
- A. 捍卫法律的权威和尊严,实现司法公开公正
B. 公正执法,减少执法人员行使自由裁量权
C. 建立完备的法律体系,加强对权力运行的制约和监督
D. 规范执法,更好保障人民的幸福感和安全感
18. 近年来,我国积极推进鸟类保护工作,加强鸟类栖息地和迁徙停歇地的保护,为鸟类创造了更好的栖息条件。相关部门提醒:2022年长江中下游地区遭遇干旱,会对越冬候鸟产生一定影响。当下正是候鸟迁徙季节,各地应提前预判并采取措施,遵循候鸟自然习性,保证人工栖息地能有效发挥补充作用。材料反映的哲学道理有
- ①意识活动具有目的性、自觉选择性和能动创造性
②矛盾的同性和斗争性既相互联结又相互分离
③真理是具体的有条件的,坚持理论与实际的统一
④人民群众是历史的创造者,是社会变革的决定力量
- A. ①② B. ①③ C. ②④ D. ③④
19. 2022年5月14日,“云南2022年第七届花朝文化节翠湖系列文化活动月”在翠湖公园拉开帷幕。该活动邀请市民、游客及汉服同袍现场体验中华优秀传统文化,活动现场设置包含茶艺、琴棋书画、文创知识问答等的互动体验,营造了别具一格的国风游园氛围。该活动的举办
- ①立足当地文化资源,吸收外来有益文化,讲好中国故事
②着力推动中华优秀传统文化创造性转化和创新性发展
③提升文化社会效益,发掘优秀传统文化的当代价值
④丰富了中华优秀传统文化的内涵,夯实了文化发展的基础
- A. ①② B. ①④ C. ②③ D. ③④
20. 2023年1月5日,土库曼斯坦总统谢尔达尔·别尔德穆哈梅多夫对中国进行国事访问。两国元首就中土关系、两国各领域合作以及共同关心的国际和地区问题深入交换意见,达成广泛共识。双方高度评价两国建交31年来各领域合作发展取得的丰硕成果,一致认为两国关系已进入全面发展的新阶段。这主要体现了
- ①合作共赢是最大公约数
②多边主义的国际关系基本原则
③在双边层面践行命运共同体
④独立自主是我国外交政策的基本立场
- A. ①② B. ②③ C. ①③ D. ①④

21. 2022年6月19日,红十字会与红新月会国际联合会将代表该联合会最高荣誉的亨利·戴维逊奖颁发给中国红十字会等国家红会和个人,这是中国红十字会首次获得这一奖项。中国红十字会成立于1904年,是红十字会与红新月会国际联合会的成员。对红十字会与红新月会国际联合会的认识正确的是
- ①按照职能范围,属于非政府间国际组织
②它能促进各成员在经济、科技领域的交流与合作
③是世界性、专门性的国际组织
④对维护和促进世界和平作出贡献
- A. ①② B. ①③
C. ②④ D. ③④
22. 张某与方某为夫妻关系,双方父母均已过世,育有一儿张甲。婚前方某有一套房产,婚后张某购买一套商品房,登记在自己名下。后张甲远在外地工作,张某与方某由邻居王某照顾,方某于2021年以公证遗嘱的形式将其婚前所购房产留给张甲。2022年6月,方某以自书遗嘱的方式将自己的婚前购买的那套房产留给邻居王某,10月,张某与方某相继去世,留有10万债务。关于遗产的处理
- ①公证遗嘱的效力高于自书遗嘱,应按照方某的公证遗嘱处理
②张甲可以通过法定继承获得张某和方某婚后购买的商品房
③张甲在其继承的遗产范围内还需承担相应的债务
④王某是基于遗赠扶养协议的方式,获得方某的部分遗产
- A. ①② B. ①④ C. ②③ D. ③④
23. 某大学有赵、王、李三位教授,他们分别来自广东、广西、湖南中的一个,其专业学科分别为历史学、文学与哲学之一。已知:
- ①王教授与来自湖南的教授拥有共同的爱好
②历史学教授从来没有去过湖南
③来自广西的教授住在历史学教授的隔壁
④来自广东的教授喜欢和王教授一起下棋
⑤李教授经常与哲学教授以及来自湖南的教授三人一起登山
- 由此可知
- A. 赵教授喜欢下棋 B. 文学教授来自广东
C. 王教授住在赵教授隔壁 D. 哲学教授来自广西
24. “出奔”是被迫从一国出逃到另一国寻求政治庇护或援助的行为。春秋时期出奔者多来自贵族阶层,有不少宗族成员和私属仆役跟随,出奔事件集团性色彩浓重;战国时期出奔占主导地位的是士,向个人化方向发展。这一变化反映了
- A. 官僚政治取代了贵族政治 B. 诸侯兼并战争实现了局部统一
C. 当时的政治斗争错综复杂 D. 宗法血缘关系在政治领域淡化

25. 图 5 是四川彭县出土的东汉画像砖，画像砖正面为官府粮仓，仓前设席于地，一人正衣冠而坐其上，两手伸出，拟作指挥之状。其前置器二。右一老者荷鸠杖跪于地上正观量器内之粟，其前一一人执量器注粟于地上的容器中。上述史料可以说明汉代




图 5

- A. 形成优抚弱势群体的完备体系
B. 宣扬尊老养老之风气
C. 践行民本思想以缓和社会矛盾
D. 推行休养生息的政策
26. 宋神宗问唐代河北州县设置，安石曰：“唐时或是藩镇欲张虚名，纵唐州县亦不足问，但计方今利害何如尔。”他主持变法期间，政府对地方行政区进行了调整，河北西路撤去 19 个县。这说明北宋中央政府
- A. 并未实行重文轻武政策
B. 认为社会伦理纲常失序
C. 治国理念发生剧烈变动
D. 力图改变积贫积弱局面
27. 明中叶至清康雍乾年间，由于闽广两省为代表的东南沿海地区与全国主体部分经济结构差异，出现 200 余年的禁海与开海之争，立足于全国制定的包括对外贸易政策在内的中央政府，一而再、再而三地将“禁海”定为国策。由此可知，海禁政策的根源在于
- A. 不断强化的君主专制
B. 重农抑商的传统经济政策
C. 根深蒂固的小农经济
D. 西方殖民侵略的现实威胁
28. 下表为 1893~1930 年中国进口商品所占比例。

年份	生产资料			消费资料	
	机器及大工具	原料	建筑用品等	消费品原料	直接消费资料
1893	0.6	—	7.8	13.0	78.6
1910	1.5	0.1	16.0	17.0	65.4
1920	3.2	0.2	25.1	16.9	54.6
1930	3.7	1.9	21.3	17.3	55.8

据表可推知，这一时期

- A. 中国近代民族工业的畸形发展
B. 实业救国思想开始兴起
C. 中国对外贸易由顺差转向逆差
D. 列强对华资本输出扩大

29. 张之洞任湖广总督时期，湖北新式教育发展快速。1903 年，湖北已有留日学生 91 人，两年后激增至 1700 余人，湖北还向欧美各国派遣了一定数量的留学生。以至于慈禧太后 1907 年说：“造就人才的是湖北，我所虑的也在湖北。”由此可知当时
- A. 思想解放运动方向发生了变化
B. 民主思想的传播威胁到清统治
C. 清政府改变了鼓励留学的政策
D. 清末新政受到知识界普遍拥护
30. 1950 年 5 月，我国成立总参测绘局，统筹全军测绘工作。测绘供应国防建设必需的全国精密地形图，并承办人民政府经济建设所需要的测绘业务，有计划地完成全国测绘任务。这表明，新中国测绘事业
- A. 适应外交政策的转变
B. 探索维护国家主权的新形式
C. 服务于国家发展战略
D. 立足于国民经济的恢复发展
31. 图 6 是 1952 年发行的邮票。对此解读正确的是



图 6

- A. 描绘了农民参与社会主义生产的场景
B. 当时国民经济调整任务基本完成
C. 体现了“双百”方针提倡的创作精神
D. 土改是在完成民主革命遗留任务
32. 拜占庭在实用科学如建筑、美术等方面成就突出，文艺复兴时期的西欧教堂采用了拜占庭式的穹顶。正当文艺复兴兴起时，拜占庭则出现了与人文主义近似的倾向，即所谓“拜占庭文艺复兴”。据此可知，当时欧洲
- A. 思想解放植根于东欧文化
B. 东正教文明区域扩展
C. 文化的同源异流特征明显
D. 东西欧文化遥相呼应

33. 下表所示为 1520~1801 年英国人口结构变动趋势情况。

年份	城市人口 (百万)	乡村人口 (百万)	农业人口占乡村 总人口的比例 (%)	乡村非农业 人口 (百万)
1520	0.13	2.27	80	0.45
1600	0.34	3.77	76	0.90
1670	0.68	4.30	70	1.29
1700	0.85	4.21	66	1.43
1750	1.22	4.55	58	1.91
1801	2.38	6.28	50	3.14

据表可知, 该时期的英国

- A. 具备社会转型的有利条件
 - B. 人口增长大量劳动力剩余
 - C. 经济生产结构变革完成
 - D. 农村封建经济已经瓦解
34. 1859 年, 随着加利福尼亚、澳大利亚和西伯利亚的日渐繁荣, 黄金年均产量达到 275 吨, 是 18 世纪年均产量的 10 倍。尽管关于黄金大幅增加和物价上涨的警告不绝于耳, 但除了 19 世纪末很短的一段时间, 欧美通货膨胀并未发生。这主要是由于
- A. 英国成为头号工业强国
 - B. 资本主义国家普遍推行金本位
 - C. 世界殖民体系最终形成
 - D. 国家宏观调控与市场调节并用
35. 二战后至 20 世纪 70 年代, 以科技、企业管理人员、高学历的白领雇员、一部分蓝领雇员及政府文官等为主体的中产阶级日益形成并成为美国的主流社会阶层。1970 年, 美国白领人数与蓝领工人的比例为 5 : 4; 1980 年, 美国白领已占劳动力市场的 50% 以上。这反映出美国
- A. 就业结构固化阶层流动困难
 - B. 教育普及提升了劳动者素质
 - C. 贫富差距拉大社会矛盾尖锐
 - D. 科技革命推动产业结构调整

二、非选择题 (共 9 小题, 共 160 分。把答案填写在答题卡上相应的位置, 在试题卷上作答)

“一带一路”桥头堡的荷兰是一个低地国家, 2022 年人口约 1760 万, 人口密度达 420 人/km², 有三条河流 (默兹河、莱茵河和斯海尔德河) 在这里入海。这些大河给荷兰提供了丰富的灌溉水源和便利的航运条件。虽然淡水水系发达, 但是由于海拔较低, 荷兰人几百年来都在与水抗争, 他们进行过三次大规模的围海造陆工程, 在各海湾口和许多分岔河口筑起海堤、围堤、拦河坝和挡潮闸等组成的水利系统。近年来, 近年来荷兰已减慢围海速度, 甚至推倒部分堤坝。图 7 为荷兰地理位置示意图。

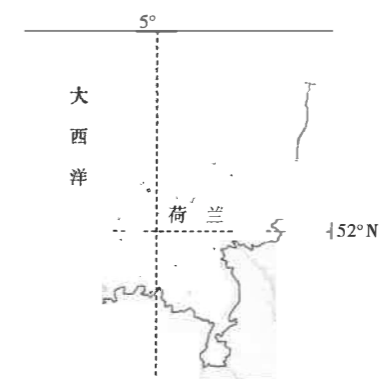


图 7

- (1) 简述荷兰大量修建拦海大坝的主要目的。(6 分)
- (2) 说明早期荷兰围堤排水的主要动力来源及判断理由。(8 分)
- (3) 提出荷兰保障淡水供给的可行性措施。(8 分)
- (4) 近年来荷兰已减慢围海速度, 甚至推倒部分堤坝, 请分析其目的。(6 分)

37. (28分) 阅读图文材料, 完成下列要求。全科试题免费下载公众号《高中僧课堂》

江苏省淮安市盱(xu)眙(yi)县位于泛长三角地区, 是北部淮安都市圈、徐州都市圈进入南京的必要支点和第一站, 也是南京都市圈辐射苏北地区的桥头堡; 东西联系上, 是安徽中北部通往沿海开发轴的支点。境内有明祖陵、第一山、天泉湖、铁山寺、西汉王陵等特色文化遗迹, 湖泊河流沿岸多湿地。全县万人卫生技术人员数和万人执业医师数在苏北地区排名靠前, 盱眙县技师学院还开设了护理系养老护理员培训专业。近年来, 盱眙县在满足本地需求的基础上, 强力打造独具特色的养老养生示范区, 率先在苏皖地区及周边区域崛起。图8为盱眙县地理位置示意图。



图8

(1) 说明盱眙县发展特色康养产业的优势。(8分)

(2) 说出盱眙县特色康养产业的客户来源。(6分)

(3) 推测盱眙县特色康养产业发展过程中可能带动的企业类型。(8分)

(4) 请为盱眙县特色康养产业进一步发展提出建议。(6分)

38. (10分) 阅读材料, 完成下列要求。

十三届全国人大常委会第三十次会议表决通过《中华人民共和国法律援助法》, 自2022年1月1日起施行。《中华人民共和国法律援助法》是维护社会公平正义的一项重要法律制度, 是规范我国法律援助制度的基本法律。《中华人民共和国法律援助法》的出台标志着我国法律援助工作正式进入“国家法时代”, 其每一个条文都在掷地有声地点明这部立法绽放着“国家责任、政府义务、公民权利、社会参与”精神的光彩。

《中华人民共和国法律援助法》相较于《法律援助条例》等其他法律援助领域的规范性文件, 《法律援助法》提升了法律援助制度在法律体系中的地位; 提出了法律援助的完整概念, 为法律援助制度的不断发展奠定了重要基础; 强化了国家、政府对法律援助的责任; 确定了法律援助机构的地位和职责; 确立了层次分明、各有所长的法律援助队伍; 理性扩大法律援助范围, 务实简化法律援助程序; 明确了委托辩护应当优先法援辩护的原则; 系统构建了法律援助案件质量管理体系。

结合材料, 运用《政治与法治》的知识, 说明法律援助法的制定是如何贯彻全面依法治国原则的。(10分)

39. (20分) 阅读材料, 完成下列要求。

从“网络大国”到“网络强国”, 中国该如何破解这一字之变?

截至2022年6月, 我国网民规模达10.51亿, 互联网普及率达74.4%, 形成了全球最为庞大、生机勃勃的数字社会。当网络空间成为国家继陆、海、空、天之后的第五疆域, 保障网络空间安全就是保障国家主权。近年来, 数据安全事件频发, 且安全威胁呈现多样性, 经济社会面临着网络安全的严峻挑战, 2022年6月, 西北工业大学遭受境外网络攻击一事再度引发了行业和民众对网络安全的关注。

破题的关键在于“安全”二字。“安全”二字始终托举着人民群众的美好期待和幸福生活动, 坚持正确的网络安全观, 统筹好发展与安全“一体之两翼、驱动之双轮”, 才能奋力开创新时代网络安全工作新局面, 全力护航中华民族伟大复兴的中国梦。

在这样的大背景下, 依法治网紧随时代脚步向前迈进。随着网络的不断变化发展, 《数据安全法》《个人信息保护法》《关键信息基础设施安全保护条例》等法律法规相继颁布,

《网络安全审查办法》《云计算服务安全评估办法》《汽车数据安全管理办法(试行)》等部门规章和政策文件陆续出台,我国网络安全政策法规体系的“四梁八柱”基本构建。

(1) 结合材料,运用“寻觅社会的真谛”的相关知识,分析中国破解“一字之变”的依据。(10分)

(2) 结合材料,运用《逻辑与思维》的相关知识,说明中国破解“一字之变”是如何体现辩证思维的特征的。(10分)

40. (10分) 阅读材料,完成下列要求。

伴随着经济全球化潮流,一些产品的设计、生产、组装、营销、售后服务等一系列环节,形成了一条紧密相连的跨国性的价值创造与分配链条,链条各个环节的利润率不同,有人以“微笑曲线”形象地形容这条全球性链条。发达国家处于价值链条的高端,它们获取了经济全球化所带来的绝大部分收益;发展中国家通常处于价值链条的低端,它们只能从中获得较少收益。

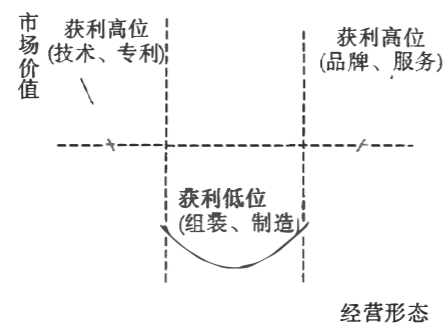


图9

结合材料,运用“经济全球化”的相关知识,谈谈你对“微笑曲线”的认识。(10分)

41. (12分) 阅读材料,完成下列要求。

张某于2022年6月入职某科技公司,月工资20000元。某科技公司在与张某订立劳动合同时,要求其订立一份协议作为合同附件,协议内容包括“我自愿申请加入公司奋斗者计划,放弃加班费”。实际工作中,经常出现加班情况。

半年后,因同一项目组另一名员工离职,该公司在未与张某协商的情况下,安排其在下一年在本职工作的基础上再承担离职员工的工作任务,并要求张某节假日休息时间变为单休一天。张某认为,要完成加倍的工作量,其每天工作时间至少需延长4小时以上,故拒绝上述安排。该公司依据员工奖惩制度,以张某不服从工作安排为由与其解除劳动合同。

张某向劳动人事争议仲裁委员会申请仲裁,主张该公司违反劳动合同内容,违法解除劳动合同,并要求该公司支付加班费。

(1) 该公司的行为侵犯了张某的哪些权利?(4分)

(2) 张某的主张能否得到法院的支持?请说明理由。(8分)

42. (25分) 阅读材料,完成下列要求。

材料一 英国出版业在1476年引入印刷术后建立。光荣革命后,出版业摆脱出版审查制度,促进了产业的自由化发展。伴随着蒸汽机的发明和成功改造,出版业也开始使用蒸汽机进行生产。机器的使用,也使英国的造纸量成倍增加,这为出版业解决了原料的供应问题。英国在商业战争中不断地胜利,经济整体呈现良好的发展态势,不仅形成了以伦敦为中心的国内出版业市场体系,而且出版业海外市场也在不断地扩张。伦敦和美洲殖民地之间的出版贸易往来,增强了支撑美国政治变革的“公民和解放”。与此同时,这一时期民众的识字率有了一定的提升,受过教育的儿童,具有提高其社会和经济地位的能力,这刺激了民众对阅读的追求不断地上升。英国出版业在18世纪完成现代化转型,从一种主要面向上层人士的传统产业发展成为更多为民众服务的成熟产业。

摘自龚敏《18世纪英国出版业的转型》

材料二 明清时期是我国古代图书出版史上的全盛时期。除了以出版经、史、子、集为大宗的官府刻书取得长足发展外,满足大众文化类出版物消费的民间刻书业也快速发展。但直到

鸦片战争以前，官、私、坊三大体系的生产力和生产关系也一直未能摆脱中古时期的封建手工经营模式。当时的出版业以手工雕版印刷为大宗，期间杂以木、铜、铅、泥等各种活字印刷方式。北京、杭州、南京、苏州等成为明清时期的印刷出版中心，但未形成自己的行会和独立职业。晚清以前，历代政府均缺乏对出版业的法制化、规范化的管理，律例中对出版业并无专门的法律保护条文，反而对有悖统治阶级利益的出版行为有十分严厉的处罚，所以政府的管理行为多表现为“禁书毁版”。

——摘编自《明清图书出版特征及促销艺术》等

(1) 根据材料一并结合所学知识，概括 18 世纪英国出版业转型的背景和影响。(14 分)

(2) 根据材料一、二并结合所学知识，指出与 18 世纪的英国出版业相比，明清时期中国出版业发展的不同走向，并简析其原因。(11 分)

43. (12 分) 阅读材料，完成下列要求。

材料 新中国成立后，随即成立中央人民政府铁道部，统一管理全国铁路的运输生产、基本建设和机车车辆工业，到 1949 年底，全国铁路达 21810 公里。“一五”计划时期，全面改造旧中国铁路落后面貌，同时将新线建设放在西南、西北地区……1991 年，国家启动高铁科研攻关计划。2005 年制定通过《中长期铁路网规划》，明确了建设目标，强化了高铁建设“原始创新、引进消化吸收再创新、全面自主创新”的发展阶段。2008 年，我国第一条具有完全自主知识产权，世界一流水平的京津城际高速铁路投入运营。中国高铁技术已处于世界先进行列，并大步走向海外，成为中国外交战略的一个大方向。

——摘编自孙健《中华人民共和国经济史稿》

材料提供了现代中国铁路交通发展状况的相关信息，蕴含了现代中国铁路发展的诸多启示。从材料中提炼一个启示，并结合所学的中国现代史知识予以说明。(要求：观点明确，史论结合，言之成理)(12 分)

44. (15 分) 阅读材料，完成下列要求。

材料一 中国先秦时期的人口数量因统计资料缺乏而难得其详；到汉代，最高达到 6 千万左右；魏晋南北朝时期因长期战乱而下降一半左右；唐代鼎盛时期，最高达到 8 千万左右；北宋末期(12 世纪初)，首次突破 1 亿大关。在古代，人口的增长和繁多，固然是自然条件优越的结果，主要的还是整体生产力、特别是粮食生产发展的结果。除了人口数量，还要看劳动者文化教育素质。宋代通过科举等各种考试(包括“特奏名”恩赐等)而获得功名的人共有 11 万左右，目前可考者有 4 万多人。而参加各级考试的人数要多出几百倍。农民的识字率和文化素质也因此大大提高。岳飞虽然出身佃农，却从小就有机会练习弓枪、读书识字，成年后表现出不同凡响的武将才能。从河北省石家庄市鹿泉区发现的一处摩崖石刻来看，山区牧羊人也有能识字写字者。南方农村的文化教育水平高于北方。如福建路建州“耕且读者十家而五六”，邵武军“所至村落皆聚徒教授”。

——摘编自姜锡东《宋代生产力发展水平》

材料二 宋代农业生产力发展的局限性，从长时段对比来看，主要表现为：农业技术还属于古代经验型，这个时期农业技术的发展进步，是广大农民长期的生产实践、亲自体验、外在观察、经验积累的结果。农具小型化趋势，宋代中原内地的牛马牧养业明显萎缩倒退。特别是耕牛的短缺，导致黄河和长江流域都普遍存在畜力不足问题。畜力不足，就只能依靠人力。而人力不可能牵引、推动大型农具，人们只能竭力发展改进小型农具。黄河中下游农业生产力发展缓慢甚至局部萎缩，学者漆侠的论文已论述宋代生产力发展不平衡及其所导致的生产关系和社会形态的巨大差异，这里再补充如下：由于战乱和水灾等，原来处于领先地位的黄河中下游地区，在唐末五代宋金时期发展迟缓，开封市以南许多地区甚至长期荒芜。粮食生产供不应求、南粮北运问题，成为长期制约北方生存与发展的一大难题。

——摘编自姜锡东《宋代生产力发展水平》

(1) 根据材料一并结合所学知识，指出宋代生产力提高的表现，并分析其原因。(10 分)

(2) 根据材料二，概括宋代农业生产力发展的局限性。(5 分)