

“四省八校”2020 届高三第二次教学质量检测考试

文科综合能力测试

2019.11

考生注意：

1. 本试卷分第 I 卷和第 II 卷两部分。满分 300 分，考试时间 150 分钟。
2. 考生作答时，请将答案答在答题卡上。必须在题号所指示的答题区域作答，超出答题区域书写的答案无效，在试题卷、草稿纸上答题无效。
3. 做选考题时，考生须按照题目要求作答，并用 2B 铅笔在答题卡上把所选题目的题号涂黑。

第 I 卷

本卷共 35 小题，每小题 4 分，共 140 分。在每小题给出的四个选项中，只有一项是最符合题目要求的。

构皮纸是我国古法手工造纸之一，因所用原料为构树皮而得名，纸质优良。早先分散于云南、贵州等地的偏远山区，主要以家庭小作坊形式生产。构皮纸制作需经浸泡、蒸煮、晾晒等多个环节完成，其独特的生产工艺被列为首批国家级非物质文化遗产。近年来，随着生产规模扩大及制作工艺的革新，丰富了构皮纸的品种和内涵，制作的工艺品得到人们青睐。据此完成 1~3 题。

1. 小作坊生产构皮纸除需要充足原料外，还需要

A. 充足的水源	B. 平坦的地形	C. 先进的设备	D. 丰富的劳动力
----------	----------	----------	-----------
2. 近年来构皮纸制作的工艺品得到人们的青睐，主要是因为

A. 生产工艺精湛	B. 文化内涵丰富	C. 实用价值较高	D. 外观更加美观
-----------	-----------	-----------	-----------
3. 云贵偏远山区大力发展构皮纸制造对该地自然环境的影响是

A. 土地盐碱化加剧	B. 缓解人口老龄化	C. 促进旅游业发展	D. 河流水质下降
------------	------------	------------	-----------

图 1 为我国部分地区等高线地形图。读图，完成 4~6 题。

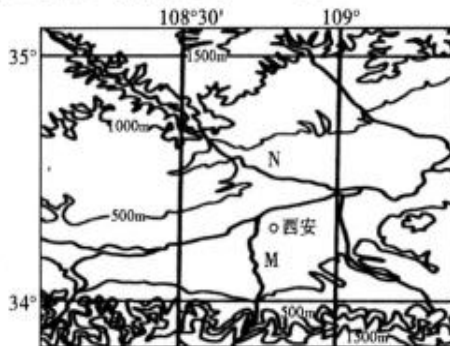


图 1

4. 图示区域主要的自然植被类型为

A. 亚热带常绿阔叶林	B. 亚寒带针叶林	C. 温带落叶阔叶林	D. 温带荒漠草原
-------------	-----------	------------	-----------
5. 与 M 河相比，N 河

A. 含沙量大	B. 凌汛多发	C. 冰期更短	D. 水能丰富
---------	---------	---------	---------
6. 图示区域南部山体坡度较陡，其原因最可能是

A. 水土流失	B. 风力侵蚀	C. 断裂上升	D. 褶皱隆起
---------	---------	---------	---------

气候变化对我国南方某省水蜜桃的叶芽萌动期、始花期、成熟期、落叶期等物候条件均有一定影响,该省种植户采取相关措施以应对气候变化。据此完成7~8题。

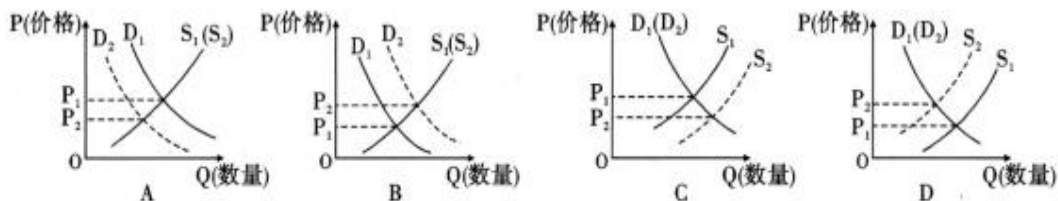
7. 推测近年来气候变化对该省水蜜桃的影响最可能是
 A. 叶芽萌动期推迟 B. 始花期略有提前 C. 成熟期略有推迟 D. 落叶期略有推迟
8. 为适应气候变化,该省水蜜桃种植应
 A. 适当降低种植海拔,抢占水蜜桃的市场 B. 完善设施,以应对极端气象灾害的影响
 C. 培育良种,消除气温升高对产量的影响 D. 输营养液,改善水蜜桃糖分不足的现象

我国某市有夏季和冬季两个作息时间表,表1为该市夏季作息时间(北京时间),晚于我国大部分城市,该市于每年5月1日与10月1日调整作息时间,调整后的冬季午休时间缩短为1小时。据此完成9~11题。

表 1

作息	上班	午休	下班
时间	10:00	14:00—16:00	20:00

9. 该城市最有可能是
 A. 北京市 B. 武汉市 C. 哈尔滨市 D. 乌鲁木齐市
10. 推测该市冬季上班时间最可能是
 A. 9:30 B. 10:30 C. 11:30 D. 12:30
11. 采用冬季作息时间表期间
 A. 该市太阳东南升起 B. 我国各地昼短夜长,昼渐长
 C. 我国南北温差较小 D. 该市正午日影朝向正北方向
12. 去年4月份以来,受“猪周期”下行、非洲猪瘟疫情冲击和一些地方不当行政干预影响,我国猪肉市场供应偏紧价格上涨,有网友戏称为“涨上明猪”,若用S、D分别表示供给和需求曲线(D_1 、 S_1 表示变化前, D_2 、 S_2 表示变化后),不考虑其他因素,下列图示正确反映网友所说“涨上明猪”现象的是



13. 自2019年7月份国务院常务会议决定全面推开划转部分国有资本充实社保基金以来,截止10月份,央企和中央金融机构已划转国资约8601亿元充实社保基金。划转部分国有资本充实社保基金
- ①发挥了国有经济在国民经济中的主体地位作用
 ②表明我国公有制经济和非公有制经济共同发展
 ③是贯彻共享发展理念,解民生之忧的重要举措
 ④充分体现国有企业全民所有,发展成果全民共享
- A. ①② B. ①③ C. ②④ D. ③④

14. 新中国成立 70 年来,我国已成为全球第一贸易大国、全球第二大消费市场。贸易结构不断优化,开放的大门越开越大,支持多边贸易体制,推动建设开放型世界经济,共建“一带一路”倡议,得到了 160 多个国家和国际组织的支持和积极响应。由此可见
- ①我国的对外开放战略已由“引进来”调整为“走出去”
②主动参与和推动经济全球化进程,是我国的正确抉择
③我国在世界经济发展进程中发挥着领导作用
④全球化背景下世界各国经济联系越来越紧密
- A. ①③ B. ①④ C. ②③ D. ②④
15. 减税降费是今年积极财政政策的头等大事,目前各项减税降费措施落实有力,效果正在逐步显现,全年减负量将比预计的近 2 万亿元要多,10 月 17 日,财政部召开新闻发布会披露,1 月份至 9 月份累计,全国一般公共预算收入 150678 亿元,同比增长 3.3%。不考虑其他因素,大规模减税降费可能带来的影响传导过程是
- ①增加财政收入 ②激发市场活力 ③减轻企业负担 ④促进经济发展
- A. ②→③→①→④ B. ③→②→④→① C. ②→④→③→① D. ③→②→①→④
16. 2019 年 10 月 15 日,国家网信办举报中心转发微博表示:在网上被辱骂、侮辱、人肉等,都是网络暴力的一种形式。10 月 16 日,歌手、演员张艺兴名誉权纠纷一案一审胜诉。被告需向张艺兴赔礼道歉,并赔偿精神损害抚慰金 20000 元。网友刷屏呼吁:未窥全貌,不予置评,拒绝网络暴力!公民有言论自由权,但网络不是法外之地。材料表明在我国
- ①公民权利的实现需要义务的履行,义务的履行确保权利的实现
②坚持依法治国,立法机关公正司法为人民民主提供法律保障
③人民民主具有真实性,政府依法行政保障公民基本的民主权利
④法律面前人人平等,国家保护公民的合法权益、打击违法行为
- A. ①② B. ①④ C. ②③ D. ③④
17. 2019 年 10 月 21 日,澎湃新闻报道 Z 市继去年冬季以羊肉粉为首开启市中心城区早餐价格上涨趋势后,当地“起步价”10 元以下的大众早餐种类所剩无几。而这一阵涨价风也波及到该市辖区部分县、乡镇。根据当地物价和消费水平,某县市场监管部门先后以发通知、约谈等方式,对个别早餐经营户的集体不合理涨价的行为进行警告,并责令已涨价的早餐店“降回去”。这体现了
- ①政府坚持求真务实,依法惩治犯罪行为 ②政府履行经济职能,稳定物价保障民生
③政府积极接受监督,权力在阳光下行使 ④政府要为人民服务,积极作为敢于担当
- A. ①② B. ①③ C. ②④ D. ③④
18. 第六届世界互联网大会于 2019 年 10 月 20 日在浙江乌镇开幕。国家主席习近平致贺信并指出:发展好、运用好、治理好互联网,让互联网更好造福人类,是国际社会的共同责任。各国应顺应时代潮流,勇担发展责任,共迎风险挑战,共同推进网络空间全球治理,努力推动构建网络空间命运共同体。这说明我国
- A. 是负责任的大国,引领践行独立自主的和平外交政策
B. 积极承担国际责任,推动构建公正合理的国际新秩序
C. 积极参与国际竞争,促进世界格局向多极化方向发展
D. 走和平发展道路,以国家间共同利益作为外交出发点

19. 今年以来，“不忘初心，牢记使命”主题教育活动在全党全国展开，一个个先进事迹的涌现触动着人们的心灵。副县长兰辉用生命谱写务实清廉赞歌，“人民楷模”朱彦夫身残志坚带领乡亲奔小康，县委副书记杰桑·索南达杰用生命守护可可西里……广大党员干部牢记“初心”，用实际行动践行着对党对人民的承诺。下列对“初心”的认识正确的是
- A. “初心”作为文化素养的核心，指引广大党员前进的方向
 B. “初心”作为时代精神的体现，成为广大党员奋斗的源泉
 C. 只有牢记“初心”，才能为广大党员提供强大的精神动力
 D. 只要牢记“初心”，就能保证党掌握意识形态工作领导权
20. 9月23日下午，2019年女排世界杯中国以3:0战胜美国，再次卫冕世界冠军。女排姑娘们在赛场上顽强战斗、勇敢拼搏，其“不断挑战自我、超越自我，变不可能为可能”的女排精神再一次让国人沸腾，再一次向历史和人民、向全世界证明了中国实力。这说明女排精神
- ①形成于实践中，是中华民族精神的生动体现 ②为人民群众建设文化强国提供智力支持
 ③是女排姑娘在运动赛场奋力拼搏的精神支柱 ④是中华民族历史文化的长期积淀和价值追求
- A. ①② B. ①③ C. ②④ D. ③④
21. 哲学是一座高山。拾级而上，谛听来自智者的妙语；俯首凝神，让思接千载，心游八方。每个足迹都写满了人类探索的经验，每种方法都搭起了人类进步的阶梯。对此，下列说法错误的是
- ①人们在探索中获取的认识推动人类的进步 ②物质和意识相互影响、相互制约
 ③智者的妙语不一定是真理 ④发挥主观要与尊重客观相统一
- A. ①② B. ②④ C. ①③ D. ③④
22. 中国写意画主张神似。董其昌有论：“画山水唯写意水墨最妙。何也？形质毕肖，则无气韵；彩色异具，则无笔法。”南山乐山认为“夫写意者，无意而写何为？故用意第一。故曰笔不到意到。笔断意连，意断神连。”由此可见写意画
- A. 是画家创作意识的产物，不能真实反映现实世界
 B. 是对客观事物错误反映，是唯心主义的一种表现
 C. 能够拓展人们的想象力，体现意识活动的创造性
 D. 缺乏相应社会实践基础，但具有更高的艺术价值
23. 探索月球一直是人类的愿望。明代名为“万户”的人尝试用捆绑着47支“火箭”和两只风筝的座椅当作“飞行器”飞往太空探索月球，在火光和硝烟中失败了。2018年12月8日，我国“嫦娥四号”探测器成功发射，实现人类首次月球背面软着陆，为月球资源的开发和利用提供极具价值的第一手资料。从哲学角度看，这进一步佐证了
- ①正确的意识活动能够能动地改造客观世界
 ②科学探测成功需要发挥意识作用作为基础
 ③实践活动是认识的来源与认识发展的动力
 ④受主客体条件的制约决定认识具有反复性
- A. ①② B. ①③ C. ②④ D. ③④
24. 赵翼《廿二史札记》：“自古皆封建诸侯，各君其国，卿大夫亦世其官……其后积弊日甚……其势不得不变……秦始皇尽灭六国以开一统之局……下虽无世禄之臣，而上尤是继体之王也”。对材料理解错误的是
- A. “封建诸侯，各君其国”体现家国同构的政治特征
 B. “其势不得不变”的根源是封建土地私有制的确立
 C. “下虽无世禄之臣”是指由贵族政治转向官僚政治
 D. “而上尤是继体之王”是受到宗法血缘关系的影响

25. 北宋初年,宋太祖采纳宰相赵普的建议,以禁军分驻京师与外郡,内外轮换,定期回驻京师,但将领不随之调动,使“兵无常帅,帅无常师”。此举意在
- A. 增强军事实力
B. 提高行政效率
C. 加强中央集权
D. 减少军队开支
26. 唐代刘宴在进行盐法改革时,放弃了官产官销政策,让煮盐民户自行生产并在盐官的监督下出售给盐商;北宋则实行利用商人转运货物到边州或京师,在异地支付给商人盐、茶、钱的“入中制度”。据此可知,唐宋政府
- A. 放弃对盐的专卖权
B. 与商人分盐茶之利
C. 以发展商业为宗旨
D. 放弃重农抑商政策
27. 理学家提出“理”作为宇宙万物的本原,它以儒家的礼法、伦理思想为核心,吸收佛道思想中的精粹,形成了析理精微、论证明确的哲学体系,这是两汉的粗糙儒学所无法比拟的。对此理解正确的是
- A. “粗糙”是指两汉儒学自身存在理论缺陷
B. 理学趋向“精微”目的是为了明道德之善
C. 理学吸收佛道精粹论证三教合一的合理性
D. 理学集儒佛道精粹于一体成完美哲学体系
28. 《中国的世界纪录》收录的中国古代科技成果统计

表 2

类别	数学	天文 历法 气象	地学	化学	农学	机械	水利	轻工	兵器
项数	22	25	25	9	25	7	7	8	8

- 由此表可知,中国古代科技
- A. 处于世界领先地位
B. 已具有近代化特色
C. 注重实际生产应用
D. 具有科学理性精神
29. 英国人赫德,28岁担任大清海关总税务司,掌权长达45年,被清廷视为客卿,1901年赫德向列强提供清政府财政报告,具体情况如下表。

表 3

岁出	数额(千两)	岁入	数额(千两)
中央和各省的行政费	30000	田税	26500
陆军	30000	各省杂税	1600
海军	5000	各省杂项收入	1000
宫廷花费	1100	盐税盐厘	13500
海关经费	3600	厘金	16000
出使经费	1000	常关税	2700
河道经费	940	海关税(一般货物)	17000
铁路	800	
借款开支	24000		
.....			
总计	101120	总计	88200

注:“借款开支”中的债务主要是指1895—1898年的三笔外债。

“厘金”是一种商业税,盐也是抽厘对象,即“盐厘”。

“常关税”为内地货物通过税。

- 根据上述表格数据,下列分析有误的是
- A. 晚清与世界市场的联系日益紧密
B. 晚清统治出现内外交困的危机
C. 晚清社会的近代化取得一定进展
D. 清末新政取得较为明显的效果
30. 1924年,陈独秀在《向导》周刊发文说道:“义和团的野蛮,义和团的顽固与迷信,义和团时的恐怖空气,我都亲身经历过。我读八十年来中国的外交史、商业史,我终于不能否认义和团事件是中国民族革命史上悲壮的序幕。”他重在说明
- A. 义和团运动具有极端盲目排外性
B. 义和团运动悲壮地展示民族气节
C. 义和团运动属于民主革命的范畴
D. 义和团运动推动外交经济近代化
31. 钱塘江大桥,近代中国建桥史上的一个里程碑,是我国第一座完全自己设计并建造的现代化大铁桥,由著名桥梁专家茅以升主持设计建造。钱塘江大桥于民国23年开始修建,至民国26年秋建成通车。然而短短89天后,南京国民政府下令炸毁钱塘江大桥。其原因在于
- A. 南京政府实行国民党独裁腐败统治
B. 国共内战愈演愈烈严重影响江浙地区
C. 国民经济结构不合理重工业基础弱
D. 全面抗战爆发后战事发展对中国不利
32. 有学者把七届二中全会精神概括成西柏坡精神,具体是:两个敢于,即敢于斗争、敢于胜利的彻底革命精神;两个善于,即善于破坏旧世界、善于建设新世界的开拓创新精神;两个坚持,即坚持依靠群众、坚持团结统一的民主团结精神;两个务必,即务必谦虚谨慎、务必艰苦奋斗的“不懈赶考”精神。关于西柏坡精神
- A. 表明毛泽东思想成熟成为党的指导思想
B. 为新中国成立做了重要的政治理论准备
C. 西柏坡精神具有“承前启后”的时代特征
D. 为我国革命重心转移到农村奠定了基础
33. 国务院副总理李富春在《关于发展国民经济的第一个五年计划的报告》中谈到:我国的社会主义工业化和社会主义改造的工作很艰巨很繁重,也就需要比较长的时间。按照我国实际情况,完成这个过渡时期的总任务,除了恢复时期的三年以外,大概还需要十五年左右的时间,即大概需要三个五年计划。这说明
- A. 部分领导干部在工作中存在保守倾向
B. 该设想在过渡时期得到了较好的实践
C. 社会主义建设总路线得到较好的贯彻
D. 这是对五十年代中国国情的理性分析
34. 90年代初,邓小平在南方视察期间发表了著名的“南方谈话”,其中他特别强调:“革命是解放生产力,改革也是解放生产力”。据此,下列理解正确的是
- A. 新中国成立彻底完成民主革命任务极大解放了生产力
B. 在社会主义制度背景下也存在制约生产力发展的因素
C. 家庭联产承包责任制有利于工业化城市化的深入发展
D. 社会主义革命的完成使得我国生产力得到极大的提高
35. “海选”制度很好地体现了基层村民的意志,极大地推动了我国基层民主的发展。但海选过程中通过拉选票贿选等方式上台时有发生,甚至某些宗族势力长期霸占了村官位置,更有甚者“海选”出村霸出任村官。这反映了
- A. “海选”制度不符合我国的国情
B. “海选”制度不能代表基层民意
C. 代议制民主制度优于直接民主
D. 基层民主需不断培育实施环境

第Ⅱ卷

本卷包括必考题和选考题两部分,共计 160 分。第 36 题~第 41 题为必考题,每个试题考生都必须作答。第 42 题~第 46 题为选考题,考生根据要求作答。

36. 阅读图文材料,完成下列要求。(20 分)

北京市原有机场为首都机场,近年来首都机场客货运量迅速上升,航班已接近饱和。为了满足运输需求,北京市在南部大兴区及河北省廊坊市交界处修建了大兴国际机场,距天安门 46 千米,距首都机场 67 千米。除了高速公路外,新机场通过地下巨大的轨道交通网把京津冀周边地区连接起来,换乘便捷,以实现旅客快速运达。机场内通用车辆全部采用新能源,同时还采取屋顶自然采光、自然通风、海关智能查验台等新型设计。



图 2 北京市交通示意图

- (1) 分析北京市在南部与河北省交界处建设大兴国际机场的原因。(8 分)
- (2) 简要分析大兴国际机场采用新能源与新型设计带来的积极影响。(6 分)
- (3) 有人建议在大兴机场附近新建一座城镇。你是否赞同? 请表明态度并说明理由。(6 分)

37. 阅读图文材料,完成下列要求。(26分)

耶罗岛又名“费罗岛”,是火山岛,属加那利群岛,距离西班牙本土非常遥远。岛上地形崎岖,常有海雾缭绕,岛上动植物与火山“相爱相杀”。2016年2月15日,耶罗岛首次成功实现了连续24小时全天候由可再生能源供电,这意味着它从此之后就可以彻底摆脱油气资源,成为世界上第一个完全利用可再生能源的岛屿,也是全世界最环保的小岛之一。

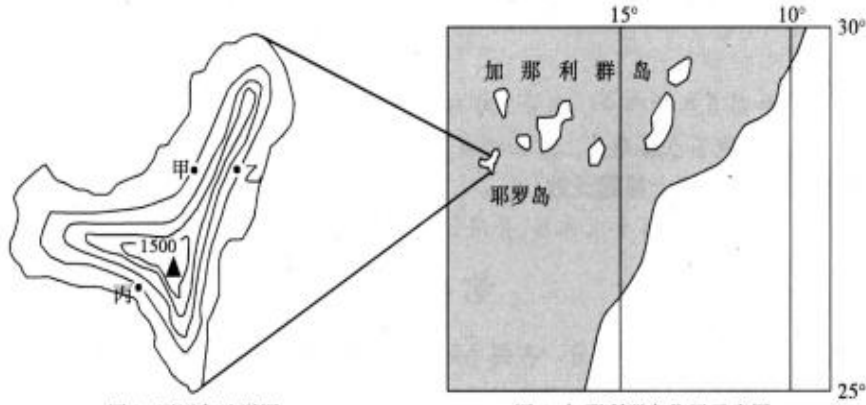


图3 耶罗岛地形图

图4 加那利群岛位置示意图

- (1) 指出加那利群岛海雾多发的季节及原因。(8分)
- (2) 推测图中甲、乙、丙三地中降水量最多的区域并分析其原因。(8分)
- (3) 分析耶罗岛火山活动对岛上动植物的影响。(6分)
- (4) 列举两种耶罗岛上可利用的可再生能源。(4分)

38. 阅读材料,完成下列要求。(26分)

新中国成立70年来,我国经济政治发展取得巨大成就。

材料一 据国家统计局初步核算,2019年前三季度国内生产总值697798亿元,按可比价格计算,同比增长6.2%,专家预计全年GDP增长在6.2%左右。2019年1-9月,全国新设立外商投资企业30871家,同比增长6.5%,专家预测,随着中国全面对外开放步伐的加快以及营商环境的持续改善,中国将持续保持全球投资吸引力。专家认为未来随着中国经济发展,居民收入增长有较好的预期,但是要想想方设法提高劳动生产率,把“蛋糕”做大;着眼于缩小不合理的收入分配差距,充分调动劳动者的积极性;党和政府要破除妨碍劳动力流动的体制机制限制,使人人都有通过辛勤劳动实现自身发展的机会;体制创新,畅通居民工资性收入、经营性收入、财产性收入、转移性收入等多种收入渠道和途径。

材料二 70年风雨兼程,70年沧桑巨变,中国共产党带领全国人民向贫困宣战,从温饱不足到迈向全面小康,从积贫积弱到迈向繁荣富强。9月3日,全国政协第七次重点关切问题情况通报会围绕“打赢民族地区脱贫攻坚战”这一主题进行深入探讨,各民主党派、无党派人士团结协作、共谋发展。会议指出,开展脱贫攻坚工作以来,党和国家把民族地区作为脱贫攻坚的重点,结合民族地区具体实际强化产业

扶贫和就业帮扶等措施,加大支持力度,推动民族地区脱贫攻坚取得了显著成绩。为力保脱贫攻坚实效,十三届全国人大常委会第九次会议中多位委员建议研究制定反贫困法,为后续脱贫攻坚战提供法制保障。各级人大要不断提高监督工作质量和水平,把监督与支持有机统一起来,精心选题,找准切口,务求实效。要不断完善监督工作的方式方法,在中央的统一领导下广泛听取基层群众和各方面的意见建议。

- (1) 结合材料一,运用经济生活知识简要概括当前我国经济发展的特点并分析如何进一步促进居民收入增长。(14分)
- (2) 结合材料二,运用政治生活的知识说明应如何发挥我国的政治优势和制度优势打赢脱贫攻坚战。(12分)

39. 阅读材料,完成下列要求。(26分)

奥运盛会看大国本色,盛世华章显中华风采。

材料一 2019年9月17日晚,“冰墩墩”和“雪容融”的出场惊艳了世界。作为2022年北京冬奥会和残奥会的吉祥物,它们在形象设计和文化内涵上的完美搭配,生动诠释了中华文化的深刻内涵和奥林匹克精神。“冰墩墩”的大熊猫形象向世界传递了敦实、勤劳、友好的中国形象,它手上的爱心象征着热爱祖国,富有超能量的冰晶外壳,充满科技感的造型展现出中华民族在科技浪潮中直面挑战、不断奋进的精神。灯笼是中国文化的重要标记,“雪容融”通过将“大红灯笼”拟人化处理,既表达出了吉祥、欢庆的寓意,也体现了和平与友谊的美好祝愿。更难得的是,它的内部还能点亮,寓意让残疾人对生活充满信心和希望,契合了冬残奥会的理念。“冰墩墩”和“雪容融”就像奥运大使一样,向世界传达中国民众对冰雪运动的热爱,对北京冬奥会和冬残奥会的热切期盼。

材料二 大数据助力奥运会,时代发展进入新征程。早在2008年奥运会时,北京就初步尝试过运用大数据技术来提高服务能力。2012年伦敦奥运会和2016年里约奥运会举办期间,大数据技术都成为提升环境设施智能感知度和观众实时信息获得感的重要手段,带来巨大商业价值。2022年北京冬运会筹备过程中,大数据将带来思维模式、资源配置方式和社会运行机制的深刻变化。包括互联网、物联网、云计算、大数据、人工智能在内的最先进、最前沿的大数据技术及管理手段有效运用到冬奥场馆、基础设施、生态保护、赛事服务、安全保障等各方面、各环节。时代的变化要求我们在冬奥会筹备过程中必须坚持大数据思维,以获得巨大价值,提升各方面协调配合水平,提高安全保障能力。

- (1) “冰墩墩”和“雪容融”的发布对建设中国特色社会主义文化有什么意义?结合材料一,请运用文化生活知识加以分析。(10分)
- (2) 结合材料二,运用辩证唯物论的相关知识,分析冬奥会筹备过程中坚持大数据思维的必要性。(12分)
- (3) 学校围绕“参与奥运,奉献奥运,共享奥运”开展主题演讲活动,请你列出两条发言提纲。(4分)

40. 阅读材料,完成下列要求。(25分)

材料一 清朝时期,国内市场包括城市市场和农村市场两大类。至于城市市场,刘献廷指出“天下由四聚,北则京师,南则佛山,东则苏州,西则汉口”。农村市场则呈现各种景象:川、陕、楚毗连各县的山区农村,“有田地数十亩之家,必栽烟草数亩,田则栽姜或药材数亩。烟草亩摘三四百斤,卖青蚧(蚧:古代用作铜钱的别名)十千以外,姜、药材亩收八九百斤,卖青蚧二三十千……”;山西“高县镇,镇为曲沃县所辖,直隶省深城、获鹿所出棉花布匹,贩运者皆集于此,商旅甚多……”

材料二 近清代的商业已经发展到一个重要的转折时期。一方面,商业资本向生产领域的渗透,导致商人支配生产。但另一方面,商业以市场为依托,市场以城市为中心,可是商人土生土长,和城市没有先天的血缘关系。民间俗谚:“无徽不成镇”,然而就在徽州这个地方,其民“世治则出而贸易,世乱则归家。家各有田……”。商人一边从农村游离出去,一边又把自己的根扎在农村的土地上,这种亦农亦商,农商相杂的双重格局正好反映了商人阶层的矛盾处境。

——摘编自白寿彝《中国通史》

- (1) 根据材料并结合所学知识,概括清朝时期商业繁荣的原因。(10分)
- (2) 根据材料并结合所学知识,简析商人出现“亦农亦商,农商相杂的双重格局”的原因及对当代经济发展的启示。(15分)

41. 阅读材料,完成下列要求。(12分)

材料 历史是具有整体性的,是横向和纵向的有机结合。现行各个版本的高中历史教材,把历史“割裂”成了政治、经济、思想三个必修模块和若干选修模块,对学生理解历史的整体性不利。某中学历史老师在复习中国近代史时,把中国近代政治、经济、思想大事件,归纳总结为一张简图,以直观地体现三者的某种内在联系。具体如下。

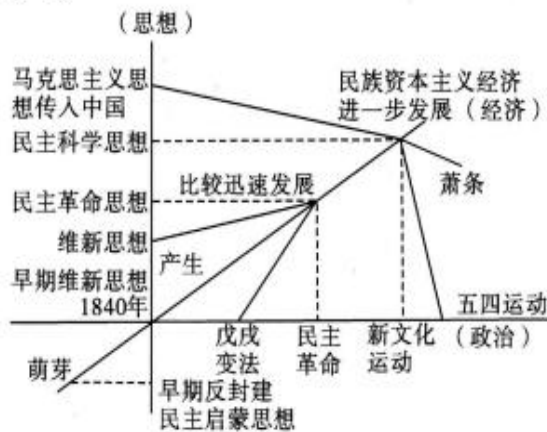


图5

——根据人教版历史教材编

根据上述图表所展示的信息,结合所学知识,自拟一个具体有效的论题,并进行论述。(要求:观点明确、史论结合、论证充分、表达顺畅)

请考生在第 42、43 两道地理题中任选一题作答,如果多做,则按所做的第一题计分。作答时用 2B 铅笔在答题卡上把所选题目的题号涂黑。

42.【地理——选修 3: 旅游地理】(10 分)

2019 年国庆期间,重庆各大旅游景点人气爆棚的照片和短视频刷爆网络平台,仅国庆首日,解放碑、朝天门人流量均达到 40 万人次,洪崖洞游客接待量达到 14 万人次。对此,重庆市公安局、重庆市文化旅游委分别发布“温馨提示”,请广大市民把更多空间留给外地游客,得到广大市民的积极响应,市民纷纷表示理解支持。

(1)从旅游资源的角度,分析国庆期间重庆旅游景点人气爆棚的原因。(6 分)

(2)为提升重庆旅游的体验感和舒适度,列举相关部门还可以采取哪些措施。(4 分)

43.【地理——选修 6: 环境保护】(10 分)

亚马孙雨林位于南美洲亚马孙平原,总面积 550 万平方公里,占世界雨林总面积的一半,这片雨林横跨 8 个南美国家,其中 60% 位于巴西境内。境内多国政府支持雨林种植业及畜牧业的发展,热带雨林迁移农业仍然存在。从前这里是地球上氧气最丰富的地方,曾经被寄予“气候变暖最后的堡垒”。近年来,亚马孙雨林火灾次数大幅度增长,引起了国际社会的热切关注。

(1)试分析近年来亚马孙雨林火灾次数大幅度增长的原因。(4 分)

(2)指出大面积热带雨林破坏给当地带来的环境问题。(6 分)

请考生在第44、45、46三道历史题中任选一题作答,如果多做,则按所做的第一题计分。作答时用2B铅笔在答题卡上把所选题目的题号涂黑。

44.【历史——选修1:历史上重大改革回眸】(15分)

材料 两税法是唐中后期和五代十国时期的基本税收制度。唐中期以来,随着官员增多和人口繁殖,大量可耕作官田和荒地均以永业田的名义转为私田,官田和可耕荒田日益减少。同时随着土地兼并加剧,地主庄园经济进一步发展,大地主霸占官田、兼并民产,广占土地,使得政府收入减少。日益增加的兵役和赋税使农民不堪重负,大量脱籍逃亡。公元780年,杨炎实行两税法。两税法主要内容有每户按资产缴纳户税(纳钱),按田亩交纳地税(纳米粟),取消租庸调和一切杂税、杂役,一年分夏秋两季纳税。

——摘编自白寿彝《中国通史》

- (1)根据材料结合所学知识,分析两税法实施的原因。(6分)
- (2)根据材料结合所学知识,指出两税法的历史意义。(9分)

45.【历史——选修3:20世纪的战争与和平】(15分)

材料 中国是在1917年夏天对德宣战的,西线战壕需要大量人力来挖掘和维护,在列强要求下大约10万名中国劳工在1918年前被送往法国。当第一次世界大战结束的消息传到中国时,中国媒体满版刊登民主战胜专制的文章,很多中国人也很希望和平可以终结列强对中国事务的干预,提高中国的国际地位。但是对中国这个“弱国”和“半殖民地”,列强是不放在眼里的。当“巴黎和会”外交失败的消息传入中国后,中国人自1911年悲惨地体验了“西式民主”以来,更进一步加深了对西方民主的幻灭,加上从俄国身上看到了另一种明确的方案,使得中国走上了一条新的革命道路。

——摘编自玛格雷特·麦克米兰《缔造和平》

- (1)根据材料结合所学知识,概括中国参加第一次世界大战的原因。(6分)
- (2)根据材料结合所学知识,概括中国参加第一次世界大战的影响。(9分)

46.【历史——选修4:中外历史人物评说】(15分)

材料 尼克松,美国第34任副总统及第37任总统。执政期间尼克松提出“尼克松主义”,与中华人民共和国直接接触,于1972年实现访华,打开了两国关系的大门。20世纪70年代,美国深陷越南战争泥潭,苏联在核武器技术的发展上领头超前……不管乐见与否,尼克松也了解到美国在世界上的主导性已不如以往。如今美国必须面对自己的相对衰退,以及自信满满的新兴大国崛起。再者,共产主义的铜墙铁壁开始出现松动,中苏关系之间出现嫌隙。而对于中国建国20年来所取得的重大成就和在国际上的重要地位,世界各国包括美国都是承认的。在这样的国际形势下,尼克松认为拒绝与亚洲大国,一个世界人口最多的国家交往,是没有道理的。1972年的尼克松中国行,使得长期敌视的中美两国关系开始“破冰”。在尼克松暮年时期,依然坚称开启与中华人民共和国的大门,乃是他从事公职生涯以来的巅峰创举。尼克松认为,中美关系的改善不仅能遏制苏联力量的扩张,同时缔造了亚洲乃至全世界的稳定及和平。

——摘编自玛格雷特·麦克米兰《当尼克松遇上毛泽东:改变世界的一周》

- (1)根据材料并结合所学知识,概述尼克松访华的背景。(6分)
- (2)根据材料并结合所学知识,指出尼克松访华的影响。(9分)

专注名校多元录取

自主招生在线创始于 2014 年，致力于提供自主招生、综合评价、三位一体、学科竞赛、新高考生涯规划等政策资讯的服务平台。总部坐落于北京，旗下拥有网站 (www.zizzs.com) 和微信公众平台等媒体矩阵，用户群体涵盖全国 90% 以上的重点中学师生及家长，在全国自主招生、综合评价领域首屈一指。

如需第一时间获取相关资讯及备考指南，请关注**自主选拔在线**官方微信号：**zizzsw**。



识别二维码，快速关注

温馨提示：

全国重点中学 2020 届高三上学期期中考试试题及答案汇总 (更新下载中)，点击链接获得
<http://www.zizzs.com/c/201911/40242.html>