

2022年12月

绵阳南山中学 2022 年秋高 2020 级 12 月月考文科综合试卷

出题人：曾祥勇 蒲松 杨毅 审题人：杨光有 唐丽玲 钟晓燕 组题人：唐丽玲

本卷分第 I 卷（选择题）和第 II 卷（非选择题）两个部分，满分 300 分，考试时间 150 分钟。

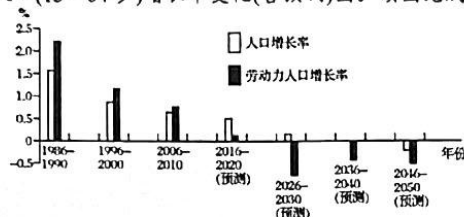
注意事项：

1. 答题前，务必将自己的姓名、考号填写在答题卡上规定的位置上。
2. 答选择题时，必须使用 2B 铅笔将答题卡上对应题目的答案标号涂黑，如需改动，用橡皮擦擦干净后，再选涂其他答案标号。
3. 答非选择题时，必须使用 0.5 毫米黑色签字笔，将答案书写在答题卡规定的位置上。
4. 所有题目必须在答题卡上作答，在试卷上答题无效。
5. 考试结束后，只将答题卡交回。

第 I 卷（选择题）

一. 选择题：本题共 35 小题，每小题 4 分，共 140 分。

下图为我国人口和劳动力人口(15—64岁)增长率变化(含预测)图。读图完成第 1-2 题。



1. 我国劳动力人口最大值出现的时间段是()
A. 1986—1990年 B. 2016—2020年 C. 2020—2025年 D. 2026—2030年
2. 据图推测，2036—2040年我国的人口状况最可能的是()
A. 人口总量下降 B. 人口出生率低 C. 劳动力严重过剩 D. 老龄化现象趋缓

开普敦是南非的主要港口和第二大城市，建于 1652 年。它曾经是欧洲殖民者向亚洲扩张时期重要的供应站，并迅速发展成为南非第二大城市。现有多条铁路、公路通往内陆地区及其他国家。下图示意开普敦城区及交通分布。读图完成 3-4 题。



3. 开普敦早期城市兴起的有利区位条件是()
A. 矿产资源丰富 B. 气候温和湿润 C. 地理位置优越 D. 商业贸易发达
4. 从城市功能区的角度分析，开普半岛最适宜发展()
A. 城市高级住宅区 B. 城市航空港功能区 C. 城市核心功能区 D. 城市生态功能区

通过多年探索，地处非洲北部内陆的 N 国终于在沙漠咸水湖中养鱼成功，使鲜鱼摆脱“奢侈”标签而进入普通家庭的餐桌。研究发现鱼苗直接投入湖泊养殖则会当天死亡，而将鱼苗投入室内装满湖水的鱼缸中养殖则能正常生长。据此完成 5-7 题。

12 月月考

第 1 页 / 共 11 页

5. 鲑鱼曾经是N国的“奢侈”标签，其直接原因是（ ）
 A. 活鱼运输成本过高 B. 鱼类养殖成本过高
 C. 鱼类养殖技术落后 D. 境内鱼类资源匮乏
6. N国在沙漠咸水湖中养鱼成功的关键措施是（ ）
 A. 降低湖水盐度 B. 投放大量饵料 C. 增加湖泊水量 D. 调节湖水温度
7. 与滨海鱼类养殖相比，该国沙漠咸水湖鱼类养殖的优势在于（ ）
 A. 水域广 B. 污染少 C. 热量足 D. 品种全

安平桥是修建于南宋时期的跨海石桥，位于福建省安海镇和水头镇之间的淤泥质海湾上。水流急的航道采用单边或双边船形桥墩，水流缓的浅滩采用方形桥墩。古代安平桥不仅沟通了安海湾东西两岸的交通，桥面还被作为码头，促进了当地商贸的发展。下图为南宋时期安平桥位置示意图及安平桥景观图。据此完成8-9题。

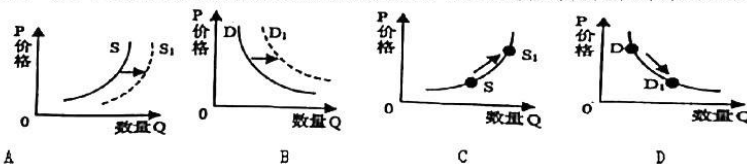


8. 安平桥在水流急的航道处采用船形桥墩主要是为了（ ）
 A. 减少桥底的泥沙淤积 B. 减少水流对桥墩的冲击
 C. 提高上游枯水期水位 D. 减少潮汐对河水的顶托
9. 与在桥两端的海岸建设码头相比，南宋时期利用安平桥桥面作为码头的的原因是（ ）
 A. 桥梁坚固，便于马车通行 B. 海湾宽阔，便于躲避台风
 C. 桥面平整，利于货物堆放 D. 桥下水深，利于船只停泊

读云南省2013-2015年接纳风电规划表(单位:万千瓦),回答10-11题。

年份	2013年	2014年	2015年
风电可发电量	54.0	101.6	173.2
枯水年接纳	46.0	100.4	168.7
平水年接纳	41.0	89.3	155.4
丰水年接纳	39.3	76.4	81.6

10. 表中2013-2015年云南风电可发电量的增长意味着（ ）
 A. 气候变化强风资源增多 B. 水电发电量大幅减少
 C. 水能资源开发达到饱和 D. 居民用电量同步增长
11. 云南省实施风水互补，比之于水火互补，更有助于（ ）
 A. 提高资源利用效率 B. 解决枯水季节水能不足
 C. 降低成本，保护环境 D. 解决枯水年份水能不足
12. 商务部等12部门联合印发《关于提振大宗消费重点消费促进释放农村消费潜力若干措施的通知》。下列图示中(D、S分别代表市场需求曲线和供给曲线)最能直接反映该通知带来的影响的是



13. 2022年7月12日，中央企业深化专业化整合(指企业通过资产重组等方式将资源向优势企业和主业企业集中)工作推进会在北京举行，涉及数字科技、通航业务、能源装备、供应链等涵盖25家央企的13组专业化整合项目集中签约。这有利于（ ）
 ①解决央企之间同质化竞争，实现主责主业更加聚焦

- ②优化国企布局，保持国有资本在社会总资本中的优势
③促进产业链深度融合，提升产业链供应链韧性和竞争力
④推动国有资本从价值链高端退出，向重要行业关键领域集中
A. ①③ B. ②③ C. ②④ D. ①④
14. 2022年党中央部署实施了社会保险“降返补”一揽子政策。人社部数据显示，1至7月份，各地落实降低失业、工伤保险费率为企业减负超过1000亿元，阶段性缓缴养老、失业、工伤三项社保费已缓缴660余亿元。1至8月份，各地已向1120.1万户次企业发放稳岗资金“646.3亿元。“降返补”政策产生影响的传导路径正确的是()
①增加在岗员工补贴→减少企业员工流失→保障企业生产稳定
②不断优化营商环境→实施积极财税政策→恢复企业生产能力
③缓解企业资金周转压力→帮助企业渡过难关→激发市场主体活力
④降低企业用工成本→切实减轻企业负担→提升企业经营信心
A. ①② B. ①③ C. ②④ D. ③④
15. 2022年以来，受新冠肺炎疫情、俄乌冲突等多种因素影响，国际粮价大幅度上涨，国内粮价也不可避免受到波及。为保障粮食和食品安全，我国加大了政策支持和引导农业发展特别是粮食生产的力度，牢牢掌握粮食安全主动权。不考虑其他因素，下列维护粮食和食品安全的政策措施发挥作用的路径正确的是
①鼓励发展粮食深加工产业→扩大工业用粮需求→化解粮价贱和卖粮难问题
②完善粮食收购和种粮补贴政策→保障种粮合理收益→调动农民种粮积极性
③树立大农业、大食物观→全方位开发食物资源→增加各类食物的有效供给
④提高粮食进出口关税→限制国际粮食贸易→阻止国际粮价上涨向国内传导
A. ①② B. ①④ C. ②③ D. ③④
16. 中共中央高度重视土地保护问题，指出要加强对土壤污染防治的源头治理，保护好粮食生产的命根子。政协委员和人大代表多次提交关于土壤普查的提案，2022年2月，全国人大常委会审议了国务院关于《开展第三次全国土壤普查的通知》，并成立了国务院全国土壤普查领导小组开展土壤普查质量监督检查。由材料可知()
A. 政协委员依法履行政治协商的职能 B. 这是中国共产党依法执政的具体体现
C. 人大和其他国家机关是监督和被监督的关系 D. 民主党派积极行使参政权，参与国家大政方针的协商
17. 党的二十大相关工作网络征求意见活动于4月15日至5月16日开展，通过互联网就党的代表大会相关工作向全社会征求意见和建议，在我们党的历史上是第一次。活动得到广大人民群众广泛关注和参与，累计收到网民建言超过854.2万条。此项活动的开展()
①彰显了以习近平同志为核心的党中央发扬民主、集思广益的优良作风
②是党坚持以人民为中心、尊重人民主体地位、走好群众路线的重要体现
③是保障人民享有对重大事务的决策权，推进全过程人民民主的生动实践
④是党与时俱进、守正创新，推进国家治理体系和治理能力现代化的有益探索
A. ①③ B. ①④ C. ②③ D. ②④
18. 最高人民法院发布的《人民陪审员制度的中国实践》显示，截至2022年7月，全国人民陪审员共计332万余人，比2013年扩大了将近3倍。人民陪审员的来源更加广泛、结构更加合理、代表性进一步增强，司法民主的覆盖面大大拓宽。2018年4月人民陪审员法正式颁布以来，截至2022年9月底，全国人民陪审员共参审刑事案件215万余件、民事案件879万余件、行政案件78万余件，取得了良好的法律效果、政治效果与社会效果。人民陪审员制度()
①是人民群众参与国家管理的重要形式和途径，体现了人民当家作主
②是我国基本政治制度的完善和发展，彰显人民民主是最广泛的民主
③凸显了人民陪审员参与司法、见证司法、监督司法的重要作用
④保证司法公开与司法民主的彻底落实，有利于提高司法公信力

- A. ①② B. ①③ C. ②④ D. ③④

19. 为争创全国法治政府建设示范市, 济南发布 2022 年法治政府建设工作要点, 不断提高行政水平。以下创建举措与解读对应正确的是()

举措	解读
①着力优化“极简审批”模式, 深化“一套标准管审批”, 力争实现高频服务事项全省通办, 加快建设无证明城市	深入推进“放管服”改革, 提升服务水平和办事便利化水平
②交通违法处理采用“线上+线下”同步开放的方式, 预约优先, 按需办理	依法行政, 恰当使用自由裁量权
③政府新增社区卫生服务中心, 新建、改造养老服务设施	提升政府的服务能力, 正确履行职能
④出台《行政执法数据公开办法》, 要求每年度公开一次	便于接受社会监督, 真正做到文明执法

- A. ①② B. ①③ C. ②③ D. ②④

20. 下列古诗文中与下图漫画《你现在所偷的懒, 都会变成将来的坎》(选自《小林漫画》) 蕴含哲理相近的是:



- ①却是平流无石处, 时时闻说有沉沦
②纸上得来终觉浅, 绝知此事要躬行
③天不言而四时行, 地不语而百物生
④投之亡地然后存, 陷之死地然后生

- A. ①② B. ①④ C. ②③ D. ③④

21. 对于太阳, 人类自古以来就充满好奇和想象。近年来, 伴随着新的太阳活动周期的开始, 全球又进入太阳研究新的高峰期。围绕太阳探测热点, 科学家们瞄准我国航天发展急需的创新技术验证和空间科学前沿研究需求, 制定了我国的空间科学研究发展路线图, 为太阳探测贡献了中国方案。这表明()

- ①意识具有直接现实性, 能够使客观物质世界发生改变
②意识能够反映事物规律, 指导实践活动、推动社会发展
③意识活动具有自觉选择性, 对客观世界的反映是主动的
④意识活动具有目的性、计划性, 能够在行动之前制定方案

- A. ①② B. ①③ C. ②④ D. ③④

22. 网络信息多样、开放、共享, 而一味迎合受众的阅读偏好, 计算方法简单, 定向推送粗暴, 让读者尤其是鉴别力、自控力不强的青少年越“好”越“偏”。原本能够提供多样化精神食粮的手机 App, 却让人有一种“我才夹了一筷子, 你就送我一桌子”的惊喜与尴尬, 在不知不觉中受困于“信息茧房”。从哲学角度看, 走出“信息茧房”, 需要()

- A. 提升鉴别和过滤信息的能力 B. 把具体科学知识上升为哲学知识
C. 把量变控制在一定的范围内 D. 用正确的价值观来指导阅读

23. 有个孩子去池塘摸鱼。他父亲叮嘱他: “摸鱼时不要弄出声, 否则, 鱼会吓得往水深处跑, 就捉不到鱼了。”孩子刚开始摸鱼时缩手缩脚, 一条也没逮到。后来, 他突发奇想, 先在池塘中央挖个深水坑, 再向池塘四周扔石子, 鱼就会跑进深坑。他用这个办法竟捉到了半桶鱼。这个故事给我们的哲学启示是()

- A. 要坚持唯物主义, 反对唯心主义 B. 要正确认识物质与运动的辩证关系
C. 创新思维的思路具有多向性 D. 科学思维方法是我们做事成功的源泉

24. 商人笃信天命, 在殷墟甲骨文辞中的“德”字既不常见, 也无“心”符。周人认为“天命靡常, 唯德是辅”。西周金文和文献中“德”字加入了“心”符, 成为一个被周人反复提到的突出概念。这反映了()

- A. 天命观念逐渐淡化
B. 宗法分封制的影响
C. 周人不再崇拜鬼神
D. 德的观念更趋理性

25. 《汉书》记载，汉宣帝本始四年诏：“父子之亲，夫妇之道，天性也。虽有祸患，犹蒙死而存之。诚爱结于心，心厚之至也，岂能违之哉？自今子首匿父母、妻匿夫、孙匿大父母，皆勿坐；其父母匿子、夫匿妻、大父母匿孙，罪殊死，皆上请廷尉以闻。”汉宣帝的诏书，反映出

- A. 家庭内部矛盾成为社会主要矛盾
B. 黄老哲学是治国理政的指导思想
C. 小农经济的发展导致伦理的丧失
D. 统治者利用法律儒家化巩固政权

26. 如表是东汉后期和唐朝前期黄河、长江流域县城数量表（单位：座），据此表呈现的变化可推断出

时间区域	东汉后期	唐朝前期
黄河流域	765	669
长江流域	342	611

- A. 社会安定导致疆域不断扩大
B. 长江流域已经占据经济优势
C. 地方行政体制出现重大调整
D. 行政区划以人口基数为依据

27. 冯梦龙编撰的“三言两拍”中的许多作品突出了儒家的仁义贞节，肯定了圣君贤相、君臣相得的社会理想，对婚姻自主、商人的经商活动等也有所描写和肯定。《聊斋志异》往往借助因果报应、宿命轮回、得道成仙等佛道观念，弘扬孝悌信义等儒家道德规范；对小说中的僧道法术，是以儒家的民本思想为评判标准的。这体现出

- A. 传统文化心理仍占主导地位
B. 佛儒道思想冲突激烈不可调和
C. 新思潮引领小说创作的辉煌
D. 市民文学成为社会文化的主流

28. 晚清以来清政府与外国打交道的机构经历了这样的变化：从礼部司仪馆→理藩院→总督、巡抚监理→钦差大臣总理→五口通商大臣，南北洋通商大臣→最后到总理衙门。这一变化表明

- A. 中国仍以传统夷夏观念自居
B. 中央集权体制受到严重挑战
C. 中国外交逐步纳入国际轨道
D. 清政府已沦为“洋人的朝廷”

29. 19世纪60—90年代，洋务派陆续兴办了数十个近代军事、民用企业。到1894年，洋务企业的资本额和工人数分别在全国近代企业中占45.2%和41.6%。而清政府对洋务企业的投资仅占其同期财政总收入的4.2%和财政总支出的4.0%。据此可知

- A. 洋务运动改变了工业落后状况
B. 早期工业化受制于政府政策
C. 晚清政府面临严重的财政危机
D. 传统小农经济阻碍了近代化

30. 《中华民国史》记载，1910年留学生杨荫杭回家乡聚集同志，创设励志学会，借讲授新知识之机宣传排满革命。但是据杨绛回忆，其父杨荫杭1910年获宾夕法尼亚大学法学硕士回国，执教北京政法学校，兼为肃亲王讲法律，辛亥事发父亲辞职回乡照顾祖母。据此可知

- A. 学术专著具有权威性
B. 历史叙述具有一定的主观性
C. 口述史料更有可信性
D. 综合两种说法可确认客观事实

31. 建党初期，中国共产党在宣传中大量使用“劳工神圣”“赤化大地”等口号；第一次国共合作后，中国共产党在宣传中突出“民族解放”“平民政权”等口号；八七会议后，“打土豪，分田地”成为中国共产党的宣传口号。这一系列变化表明中国共产党（ ）

- A. 始终把握中国社会的主要矛盾
B. 打开了中国革命新局面
C. 不断探索符合国情的革命道路
D. 坚持建立革命统一战线

32. 雅典的街头一个卖香肠的人问将军：我怎样才能成为您这样的大人物？将军说：你已经具备一切应有

- 的条件，“卑贱的出身，蛮横无理。幸运儿！你要担任公职的话，已有一个多么好的开端啊！”这段对话表明（ ）
- A. 权力滥用导致政局的动荡
B. 直接民主存在非理性漏洞
C. 雅典的公民缺乏个体自由
D. 雅典民主政治的高度发展
33. 到16世纪末，世界贵金属开采量的83%来自西班牙。西班牙每年派遣两支运载金银的船队来往于美洲与本土之间。1503年到1600年，西班牙从美洲一共掠夺了153564公斤黄金，7439142公斤白银。这导致西班牙
- A. 国力增强，成为世界工业强国
B. 资本积累，引发本国经济转型
C. 贸易发达，成为世界市场中心
D. 物价上涨，加速社会阶层分化
34. 马克思在评价马丁·路德的宗教改革时说：“他打破了对权威的信仰，是因为他树立了信仰的权威。他把僧侣（神职人员）变成了俗人，是因为他把俗人变成了僧侣。”下列对宗教改革的相关评述，不正确的是
- A. 打破了罗马天主教会神圣不可侵犯的地位
B. 树立信仰本身为权威，只要虔诚信仰，灵魂即可得救
C. 试图清除宗教对个人生活的影响，开启了人类理性的光芒
D. 改变了过去通过神职人员与上帝沟通的惯例，人人可以同上帝直接对话
35. 据美国媒体统计，1976年以来，美国联邦政府遇到过21次“停摆”，最近一次是由于美国白宫和国会民主党人在修建边境隔离墙等问题上分歧严重，各方未能就拨款法案达成一致，部分美国联邦政府机构从2018年12月22日凌晨开始陷入“停摆”，影响约80万联邦政府雇员的工作和收入。材料表明美国
- A. 宪政体制的设计存在缺陷
B. 两党之间的矛盾日益激化
C. 行政权力侵夺国会的权力
D. 宪政体制阻碍了社会发展

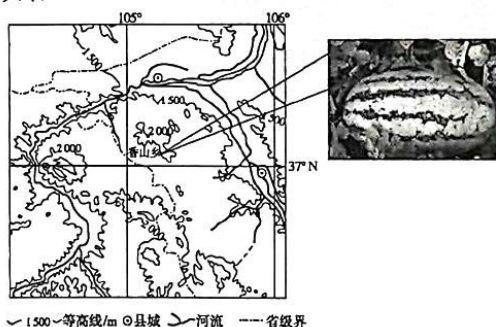
第II卷（非选择题）

二、非选择题：共160分。第36—42题为必考题，每个试题考生都必须作答。第43—47题为选考题，考生根据要求作答。

（一）必考题：共135分

36. 阅读图文资料，回答下列问题。（22分）

香山乡位于宁夏中部干旱带核心区。该地区年平均降水量近180毫米，年平均大风天数为8-46天，植被覆盖率不足20%。该地采用的压砂栽培技术是在荒山斜坡上铺垫10-15厘米厚的颗粒或片状砂砾后再进行西瓜栽培，出产的绿色有机压砂瓜每年7-9月份上市，被列为地理标志产品，是“石头缝长出的西瓜珍品”。下图为香山乡等高线地形图。



（1）从水分收入的角度分析香山乡地区干旱的原因。（6分）

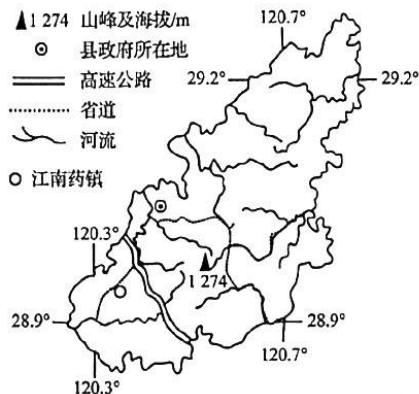
(2) 简述压砂地种植西瓜的耕种方式对土壤质量的改善作用。(10分)

(3) 与我国南方地区相比,指出该地区出产压砂瓜的市场优势。(6分)

37. 阅读图文材料,完成下列要求。(24分)

磐安县是中国药材之乡,有药用植物1219种,境内大盘山保护区是全国唯一的以野生中药材种植资源为保护对象的国家级自然保护区,著名的“浙八味”中有五味药盛产于磐安。江南药镇位于磐安县新城区,距离中心城区约10千米,核心区块2000亩,计划打造成省内一流、全国闻名的药材天地、医疗高地、养生福地和旅游胜地。江南药镇相继引进了中药制造龙头企业,成功入驻各类中药制药、配方颗粒、饮片加工企业67家,中药保健营销企业574家。近年来,磐安将“互联网+”服务延伸至中药材产业前后端。下图示意磐安县的地理位置。

(1) 指出磐安江南药镇选址的合理性。(6分)



(2) 简述打造江南药镇对该县医药产业的有利影响。(8分)

(3) 简述将“互联网+”服务延伸至销售环节的好处。(6分)

(4) 说出江南药镇模式对区域经济发展的借鉴意义(4分)

38. 近几年,国家密集出台多项新政,力促新时代新能源高质量发展。据统计,随着可再生能源发电占比提升,2035年新能源汽车将实现道路交通领域碳减排约2亿吨。

在燃油车时代,由于缺乏足够的技术、品牌和传统积淀,中国汽车一直扮演着追赶者角色。在新能源重构行业技术、产品和供需后,中国汽车品牌获得更多改变自身行业地位和形象的机会:2022年1~9月中国出口新能源汽车38.9万辆,同比增长超过1倍,中国已成为全球第一大新能源汽车出口国;中国自主品牌汽车比某迪海外溢价居高不下,其某款新能源汽车的欧洲预售价高达7.2万欧元,约合51万元人民币。

结合材料,运用经济生活的相关知识,说明我国新能源汽车行业的迅猛发展的动力点。(12分)

39. 阅读材料，回答问题。

湿地与森林、海洋并称为全球三大生态系统，被誉为“地球之肾”“物种基因库”。2010年十一届全国人大三次会议期间，张庆伟等30名人大代表提出议案，要求制定湿地保护法。2015年，中共中央将湿地保护修复上升为生态文明建设的重要议题。全国人大常委会坚决贯彻党中央决策部署，将湿地保护立法列入第十三届全国人大常委会立法规划和年度立法工作计划，由全国人大环资委牵头研究起草，广泛听取地方以及专家意见，经过深入研究论证，反复修改，形成了《中华人民共和国湿地保护法（草案）》。2021年12月24日，《中华人民共和国湿地保护法》于十三届全国人大常委会第三十二次会议表决通过，标志着我国湿地保护走向法治化。6月1日，湿地保护法正式施行，意味着更多湿地将进一步强化原生态保护，在新时代焕发更美的光彩。

结合材料，运用“我国的根本政治制度”的相关知识分析我国是如何推进湿地保护法治化的？（12分）

40. 阅读材料，完成下列要求。

材料一：党的十九届五中全会提出，要加快构建以国内大循环为主体、国内国际双循环相互促进的新发展格局。“双循环新发展格局”的形成有其自身的历史演进：

1987年的“沿海发展战略”使经济运行由国内循环扩大到国际循环；

1988年为应对亚洲金融危机而首提“立足国内需求”；

2001年加入世界贸易组织是我国国际大循环的里程碑；

2006年由于过度依赖投资和出口给我国经济带来了一些问题，我国国际大循环的思路转向国内外循环相协调；

2020年面对严峻的国内外形势，提出了双循环新发展格局。

材料二随着经济新常态的到来，中国经济将从要素与投资驱动更多地转向改革与创新驱动——以市场改革开路，激发创新活力，从而增加经济增长的内生动力，已越来越成为经济发展的核心要求，不断注重质量、效益，促使中国经济由中低端向中高端升级。

“社会主义市场经济本质上是法治经济。”让市场在资源配置中起决定性作用，需要运用法治严格规范政府与市场的关系，牢固树立和切实贯彻市场主体“法无禁止皆可为”、政府“法无授权不可为”的法治新思维，进而获得可持续发展的动力。

(1)结合材料一，运用认识论的知识，请以“新发展格局的历史必然性”为主题撰写发言提纲。（要求：观点鲜明；知识运用准确、贴近；论述合乎逻辑，条理清晰；字数200以内。）（12分）

(2)结合材料二，请运用社会基本矛盾运动知识，说明“以市场改革开路”与“树立法治新思维”是如何遵循社会发展普遍规律的。（12分）

(3)当前面临后疫情时代，为推动经济社会的健康发展，请你为“处理好安全与发展的关系”提两条合理化建议。（4分）

41. 阅读材料，完成下列要求。

材料一 随着黄道婆的手工棉纺织技艺在松江地区的传播，逐渐开始辐射到整个江南，随后向中原、湖广等地扩展，掀起了一场明清时期的“棉花革命”。在明清政府的推动下，棉花作为经济作物被大量种植，加之河南、山东等地的棉花伴随着地区商品市场的发展作为大宗商品贩运至江南，为江南地区棉纺织业提供了充足的原料。由于棉纺织业的发展，对纺织劳动力需求进一步增大，出现了雇染匠、研匠“往来成群”的现象，在织造、染色和平整等流程上的分工也越来越细。棉纺织产品不再停留在自给自足的小农范畴，而是大量投入市场销售，迎合了明清时期日益增长的人口需求，棉布成为“寸布皆有”的主要布料，并远销海外。

——摘编自毕东海《棉花的革命》

材料二 近代开埠通商以来，洋商凭借雄厚的资金及本国国家权力为后盾，使我国棉花贸易基本落入外人之手，而华商大多资本短缺，金融周转不灵难以与洋商抗衡。近代国际市场棉花贸易日益标准化，且一般采用国际通行的机器打包，棉包密度有严格规定，而中国市场棉花贸易缺乏量化标准，打包的形色也颇有参差，部分棉商甚至为了谋求利益，人工掺水掺杂。洋商在航运交通上的优势大大缩短了交易周期和经营成本，而这也使得华商望其项背，加之战争对船只、火车运输的阻断“贸易几至完全停顿”的现象偶有发生。然而在国际贸易大背景下，在华洋行为华人棉商提供了模仿和学习的机会，棉业公会相继确立，业务涵盖了从国内贸易到国际贸易，从零收贩运到加工业务，从设行收花到居间介绍。

——摘编自于新娟《近代国际化背景下的江南棉商》

- (1) 根据材料一并结合所学知识，归纳明清时期棉花革命的特点，并分析产生的原因。(12分)
(2) 根据材料二，并结合所学知识，概括近代以来中国棉花贸易面临的挑战与机遇。(13分)

42. 阅读材料，完成下列要求。(12分)

1862年，京师同文馆正式开馆，第一批入学者均为十三、四岁的八旗子弟，有统一的课程设置和管理章程。

1904年，晚清政府规定“中学堂以上必勤学洋文”；“大学堂必深通洋文”，译学馆“以储交涉之才”。

1933年，国民政府规定英语学习目标是“练习运用切于日常生活之浅近英语，增加研究外国事物之兴趣”等。

1954年政务院规定“初中一般不设外国语”。教育部更进一步强化了这一精神，连“二、三年级原已授外国语科的一律停授”，强调高中“从一年级起授俄语”。

1978年英语重新被定为高考必考科目，同年《北京日报》刊出文章，号召“努力掌握英语这个武器，为把我国建设成为伟大的社会主义强国贡献自己的力量”；1987年开始大学英语四级考试、1989年开始六级考试；1999年英语水平与技术人员职称评定开始挂钩，“英语热”向社会蔓延。

以“英语的_____变化与百年中国社会变迁”为题，从上述材料中选择一个恰当的角度进行论述。(要求：论点明确，运用材料中的史实进行论述，史论结合)

(二) 选考题: 共 25 分。请考生从 2 道地理题、3 道历史题中每科任选一题作答, 如有多做, 则按所做第一题计分。并用 2B 铅笔在答题卡上把所选题目题号后的方框涂黑。

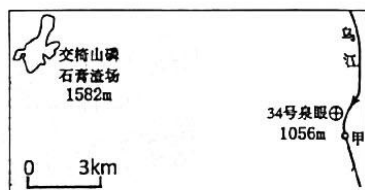
43. 【选修 3——旅游地理】(10 分)

季节性是旅游产业最重要的特征之一, 对旅游业发展具有至关重要的影响, 最显著的表现是在较短的特定时间内集中了大规模的客流, 从而产生了旅游旺季和旅游淡季。“反季旅游”也称淡季旅游, 是指避开旅游高峰时节进行的旅游活动。

说明发展反季旅游对游客的好处, 从景区方面提出促进反季旅游的措施。

44. 【选修 6——环境保护】(10 分)

2009 年贵州省遵义市境内的甲河段总磷含量严重超标, 变成了“牛奶河”, 其原因与 34 号泉眼(属于岩溶泉眼)密切相关。经过十余年的治理, 目前乌江水质已达到 II 类标准, 水环境得到显著改善。下图为乌江部分河段示意图。



(1) 描述图中甲河段遭到磷污染的过程。(6 分)

(2) 推测治理乌江磷污染可采取的工程措施。(4 分)

45. 阅读材料, 完成下列要求。

材料 隋朝开皇十六年(596年), 隋文帝“诏九品以上妻, 五品以上妾, 夫亡不得改嫁”。贞观元年(627年), 唐太宗颁布“劝勉民间嫁娶诏”, 规定: “男年二十、女年十五已上, 及妻表达制之后, 孀居服纪已除, 并须申以媒媾, 令其好合。”唐太宗还明确规定: “刺史、县令以下官人, 若能使婚姻及时, 鳏寡数少量, 准户口增多, 以进考第。如其劝导乖方, 失于配偶, 准户减少, 以附殿失。”“故(唐朝)公主再嫁者达二+三……”

太宗女六。”对此，朱熹指出：“唐源流出于夷狄，故闺门失礼之事不以为异。”据统计，“贞观初，户不及三百万”，到贞观二十三年（649年），全国户数接近380万户。与此同时，粮食价格从贞观八年（634年）、九年（635年）的斗米四五钱，跌至贞观十五年（641年）的斗米两钱。

——摘编自孙顺华《唐朝妇女观之嬗变与社会政治》

- (1)根据材料并结合所学知识，概括唐太宗婚嫁制度改革的主要内容及其背景。（8分）
- (2)根据材料并结合所学知识，简析唐太宗婚嫁制度改革的影响。（7分）

46. 阅读材料，完成下列要求。

康德不但是伟大的哲学家，而且是卓越的教育家。他认为，教育问题说到底是一个哲学问题。他出身贫寒，大学毕业后当过9年的家庭教师，先后在3个家庭教12岁以下的男孩，后来进入哥尼斯堡大学当教师，从讲师到教授再到校长，有40多年的大学教育生涯。康德认为，道德教育的可能性在人性中是有其基础的，他从牛顿和伽利略的按照理论做实验的方法中分析出了一个预先深思熟虑的准则，就是让一切步骤在一个经过周密思考的方法的轨道上运行。他关注下层百姓的道德状况，正如他早年说的，是卢梭纠正了他的优越感。

——摘编自邓晓芒《康德论道德教育》

- (1)根据材料并结合所学知识，概括康德道德教育思想的特点。（8分）
- (2)根据材料并结合所学知识，分析康德道德教育思想产生的历史背景。（7分）

关于我们

自主选拔在线是致力于提供新高考生涯规划、强基计划、综合评价、三位一体、学科竞赛等政策资讯的升学服务平台。总部坐落于北京，旗下拥有网站（[网址: www.zizzs.com](http://www.zizzs.com)）和微信公众平台等媒体矩阵，用户群体涵盖全国90%以上的重点中学师生及家长，在全国新高考、自主选拔领域首屈一指。

如需第一时间获取相关资讯及备考指南，请关注**自主选拔在线**官方微信号：**zizzsw**。



 微信搜一搜

 自主选拔在线