

## 汉中市2023届高三年级教学质量第二次检测考试

### 文科综合能力测试

(命题学校：城固县第一中学)

本试卷共47题，共300分，共14页。考试结束后，将本试卷和答题卡一并交回。

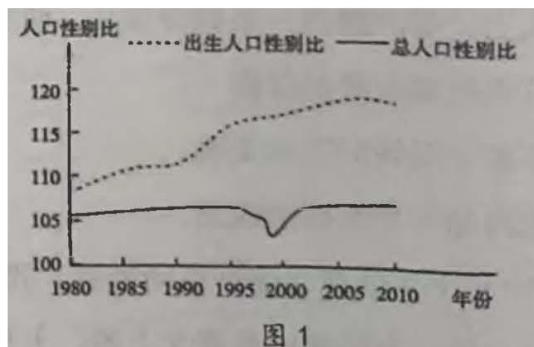
注意事项：

1. 答题前，考生先将自己的姓名、准考证号码填写清楚，将条形码准确粘贴在条形码区域内。
2. 选择题必须使用2B铅笔填涂；非选择题必须使用0.5毫米黑色字迹的签字笔书写，字体工整，笔迹清楚。
3. 请按照题号顺序在各题目的答题区域内作答，超出答题区域书写的答案无效；在草稿纸、试题卷上答题无效。
4. 作图可先用铅笔画出，确定后必须用黑色字迹的签字笔描黑。
5. 保持卡面清洁，不要折叠、不要弄破、弄皱，不准使用涂改液、修正带、刮纸刀。

#### 第I卷（选择题 共140分）

本卷共35小题，每小题4分，共140分。在每小题给出的四个选项中，只有一项是符合题目要求的。

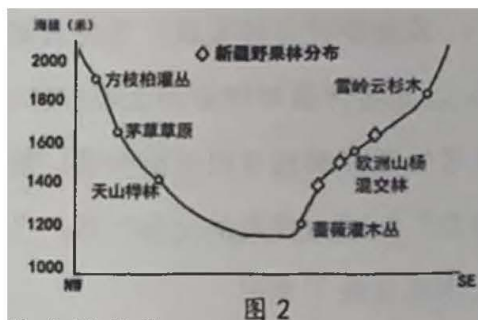
人口性别比是一定时期区域人口中男性人口与女性人口的比值，通常以每100位女性对应的男性人数表示，图1为我国出生人口性别比和总人口性别比的变化图。据此完成1-3题。



1. 由人口性别比变化图可推知  
A. 人口性别结构变化小  
B. 人口政策使性别比变大  
C. 女性死亡率低于男性  
D. 农村留守男童有所增加
2. 2010年前后出生人口性别比带来的影响是  
A. 产业结构日趋优化  
B. 加剧了人口老龄化  
C. 婚育年龄逐渐提前  
D. 跨国婚姻有所增多
3. 为缓解我国总人口性别比偏高问题可采取的措施有  
①杜绝胎儿性别鉴定  
②提倡计划生育少生优生  
③农业生产技术革新  
④增加服务业的就业岗位  
A. ①③  
B. ③④  
C. ①④  
D. ②③

果子沟地处新疆西天山地区，沟内无农耕地，但野苹果林成片，山地植被存在明显的坡向差异，并有一定规律性。图2为果子沟夏季山地植被类型图。据此完成4-5题。

4. 影响新疆野苹果林分布的主要原因是
- A. 地处阳坡，光热条件优越
- B. 地处缓坡，土壤深厚肥沃
- C. 地处沟谷，昼夜温差较大
- D. 地处阴坡，水土条件较好
5. 果子沟蔷薇灌木丛被破坏以后，若未受到人为干扰首先会演化为

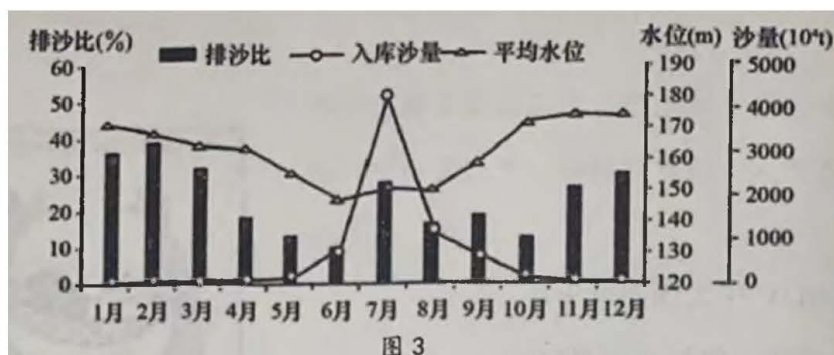


- A. 天山桦林
- B. 欧洲山杨混交林
- C. 野果林
- D. 茅草草原

宁夏永宁县地处银川平原，土壤含有大量的砾石，矿物质丰富，当地引进法国的嫁接苗，种植优质酿酒葡萄。该地依托葡萄集聚了大量的葡萄酒生产企业，近年来所打造的高端品牌“贺兰红”由桶装改为瓶装方式大量出口欧洲。据此完成6-8题。

6. 影响该地区酿酒葡萄品质好的主要自然因素是
- A. 光照
- B. 水源
- C. 土壤
- D. 热量
7. 该地区高端葡萄酒出口多采用瓶装的主要原因是
- A. 防止酒的蒸发
- B. 提高产品口感
- C. 注重品牌保护
- D. 减少植被破坏
8. 葡萄酒生产企业不断集聚于永宁县主要是为了
- A. 靠近原料提升知名度
- B. 降低生产能源的消耗
- C. 利用廉价的劳动力
- D. 推动下游产业发展

水库排沙比是指一定时段内出库沙量与入库沙量之比。排沙比越大，水库排沙效果越好。三峡水库采用“蓄清排浑”的方式运行，水库淤积和排沙比受进出库流量、含沙量、泥沙粒径、坝前水位等因素影响。图3为2013-2018年三峡水库月排沙比、入库沙量及平均水位变化图。据此完成9-11题。



9. 2至6月河流排沙比呈现出下降趋势的主要原因是

- A. 库区上游引水灌溉
- B. 入库流量增大
- C. 植树造林面积扩大
- D. 库区水位升高

10. 推测该水库淤积最小的时间

- A. 2月
- B. 6月
- C. 7月
- D. 12月

11. 导致三峡水库11月至次年3月“蓄清”期排沙比高的原因是

- A. 库区水位高
- B. 出库沙量小
- C. 泥沙粒径小
- D. 出库水量小

12. 2023年的《国民经济和社会发展规划》中指出，着力扩大国内需求，充分发挥消费的基础作用和投资的关键作用。下列对刺激消费举措理解正确的是

- ①增强消费能力—落实重要民生商品价格调控机制，加大保供稳价工作力度
- ②改善消费条件—支持传统商业企业加快数字化、智能化改造和跨界融合
- ③创新消费场景—鼓励有条件的地方积极发展首店经济、首发经济
- ④引导消费理念—发展夜间文化和旅游经济，支持各地举办文化和旅游消费惠民活动

- A. ①②
- B. ①③
- C. ②④
- D. ③④

13. 2022年7月国家卫健委等11部门联合印发《关于进一步推进医养结合发展的指导意见》强调，推进医养结合是优化老年健康和养老服务供给的重要举措，是积极应对人口老龄化、增强老年人获得感和满意度的重要途径。下列推进医养结合发展路径合理的是

- ①落实财税优惠政策→支持社会力量建设医养结合机构→增加医养服务供给
- ②实施基本医疗保险改革→鼓励商业保险扩大保障范围→降低老年人养老成本
- ③加强行业监管→引导医疗养老行业健康发展→保障老年人医养服务安全
- ④推进“互联网+护理服务”→优化医疗资源配置→根治医疗资源短缺问题

A. ①②

B. ①③

C. ②④

D. ③④

14. 2023年政府工作报告指出，面对战略机遇和风险挑战并存、不确定难预料因素增多的现状，要保持政策连续性稳定性针对性，赤字率拟按3%安排（赤字率的国际警戒线为3%），比去年提高0.2%。对此认识正确的是

①赤字率的提升，有利于提振市场信心

②赤字率的提升，促进了融资成本稳中有降

③赤字率的确定，有效刺激社会总供给

④赤字率的确定，统筹了经济发展和安全关系

A. ①④

B. ①③

C. ②③

D. ②④

15. 2023年3月16日国务院发布《新时代的中国网络法治建设》白皮书。其中提出，坚持依法规范发展数字市场，坚决反对垄断和不正当竞争，健全数字规则，有力维护公平竞争的市场环境。此举旨在

①充分发挥市场在数据资源配置中的作用

②加强法治建设，营造公平竞争环境

③加强宏观调控，维护数字市场秩序

④坚持有为政府和有效市场相结合，规避市场的自发性弊端

A. ①④

B. ①③

C. ②③

D. ②④

16. 某中学模拟政协社团的“小委员”们多年来积极开展活动，关注时政、心系社会发展。学生们在当地调研，了解城市桥下空间利用情况、市民对桥下空间利用需求的基础上，提出《关于进一步推进城市桥下空间科学利用的“提案”》，受到当地全国政协委员的点赞。这表明

①中学生开展社会调研有利于提高学生的公共参与素养

②中学生提出政协提案是人民民主真实性的彰显

③中学生在学习实践中培养社会责任感和担当意识

④中学生积极履行参与国家社会事务管理的义务

A. ①②

B. ①③

C. ②④

D. ③④

17. 近年来, 犯罪分子利用新型电信网络技术手段实施精准诈骗, 已成为群众反映强烈的突出犯罪。2022年9月2日, 全国人大常委会审议通过《中华人民共和国反电信网络诈骗法》。该法的通过

- ①表明依法治国是社会主义最本质的特征
- ②能有效保障政府部门公正司法、文明执法
- ③有利于保护公民合法权益, 维护社会稳定
- ④顺应新时代发展的要求, 体现了科学立法

A. ①②

B. ①④

C. ②③

D. ③④

18. 党的二十大对深化党和国家机构改革作出重要部署。在深化金融体制改革, 完善党中央对科技工作统一领导的体制, 优化政府职责体系和组织结构, 完善党中央决策议事协调机构, 优化机构编制资源配置, 推进以党建引领基层治理等方面提出明确要求。此次党和国家机构改革

- ①是新时代、新征程提出的新任务所决定的
- ②促进了党和政府高效顺畅地履行国家职能
- ③是推进国家治理体系和治理能力现代的集中部署
- ④使党对社会主义现代化建设的领导在机构设置上更加科学

A. ②③

B. ①④

C. ①②

D. ③④

19. 2023年是毛泽东等老一辈革命家为雷锋同志题词60周年。从“学雷锋, 送温暖”为主题的关爱活动, 到“学雷锋活动常态化”, 半个多世纪以来, 党和国家将弘扬雷锋精神作为社会主义精神文明建设的重要内容, 引领越来越多的人追寻雷锋的脚步。弘扬雷锋精神

- ①为践行社会主义核心价值观提供精神动力和智力支持
- ②有利于强化公民的社会责任意识和奉献意识
- ③引导青年在为人民利益的奋斗中书写人生华章
- ④就是铸造中华民族的精神支柱, 为中华民族的生存和发展强基固本

A. ①②

B. ①④

C. ②③

D. ③④

20. 西安易俗社近年来在整理复排经典传统秦腔剧目的基础上, 创排推出了抒发家国情怀的《昭君行》、歌颂伟大建党精神的《党的女儿》等作品, 实现了秦腔古曲新调。越来越多的“秦腔+”让秦腔跨界出圈,

越来越多人开始接触秦腔、爱上秦腔。从中我们感悟到

- ①融百家之长是文化创新的根本途径
- ②要推动中华优秀传统文化创造性转化、创新性发展
- ③发展先进文化要以立足人民群众的需要为路径
- ④优秀的文艺作品既要回应时代要求又能引领时代方向

- A. ①③
- B. ①④
- C. ②③
- D. ②④

21. 图4漫画《快乐可依靠幻想，幸福却要依靠实际》针砭时弊，富含哲理。从所含哲理看，下列诗句中与漫画最接近的是

- ①吾心自有光明月，千古团圆永无缺
- ②纸上得来终觉浅，绝知此事要躬行
- ③历尽天华成此景，人间万事出艰辛
- ④耳闻之不如目见之，目见之不如足践之

- A. ①③
- B. ①④
- C. ②④
- D. ②③



22. 某县围绕乡村振兴，紧扣群众增收，充分利用全县24.5万亩水稻田资源，大力推动稻鳖、稻虾、稻鱼、稻鸭、稻蟹、稻鳅6种综合种养模式，实现了“一水多用、一田多种、一季多收”，实现了稳粮、增收、生态“三丰收”，实现了“百斤渔、千斤粮、万元钱”。走出了一条产业突破发展带来的振兴之路。材料体现的唯物辩证法道理是

- ①创造条件，调整原有联系，推动事物发展
- ②立足现实，树立正确意识，促进社会进步
- ③着眼全局，运用综合思维，提高治理效能
- ④创新理论，破除落后观念，开拓全新境界

- A. ①③
- B. ①④
- C. ②④
- D. ②③

23. 荣获2022年感动中国人物的钱七虎院士，六十多年来，在他指导下构建的一系列地下防御工程，构成了中国战略防御的基石；截至2022年，他资助了584位困难学生，捐助慈善事业累计超过1800万元。钱老说，“为国家和人民安全贡献心血，有价值”。他的事迹启示我们

- ①把埋头苦干作为实现人生价值的根本途径  
②人生真正的价值在于对社会的责任和贡献  
③弘扬劳动精神，在奉献祖国事业中实现人生价值  
④社会提供各种奖励是创造和实现人生价值的前提

- A. ①③  
B. ②④  
C. ①④  
D. ②③

24. 《夏小正》是中国现存最早的科学文献之一，记载：“月农纬厥耒，囿有见韭；三月撮桑，委扬，始蚕，祈麦实，越有小旱；四月囿有见杏；五月种黍、菽、糜时也。”这说明夏代历法

- A. 体系发展已成熟  
B. 催生了农时观念  
C. 与农业生产紧密  
D. 适应了小农经济

25. 关于“夏”、“夷”关系，贾谊曰：“凡天子者，天下之首，何也？上也。蛮夷者，天下之足，何也？下也。”《汉书》记载：“事天以礼，立身以义。事亲以孝，育民以仁。四守之内莫不为郡县，四夷八蛮咸来贡职，与天无极。人民蕃息，天禄永得。”这反映出汉代

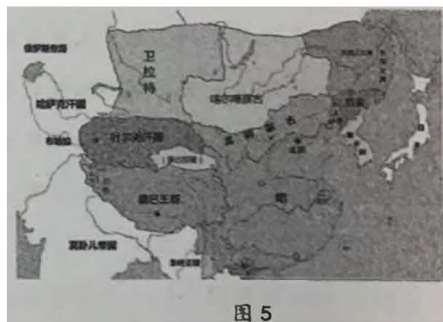
- A. 兼容并蓄的文化政策利于思想统一  
B. 大一统下的政治环境促进民族认同  
C. 黄老学说传播实现了夷夏文化认同  
D. 国家统一开始出现了夷夏政治认同

26. 孟元老怀着对往昔的无限眷念，撰写了《东京梦华录》，其中都城生活描写分为都城日常生活和都城节日生活两类。如“州桥夜市”叙述夜市中丰富的饮食种类。“东角楼街巷”叙述市井商品交易生活，“并是金银彩帛交易之所，屋宇雄壮，门面广阔”。这从侧面反映了当时

- A. 经济重心南移  
B. 坊市制度崩溃  
C. 城镇经济出现  
D. 市民阶层壮大

27. 1421年，明成祖朱棣迁都北京，此举意义重大，影响深远。据图5可知，迁都

- A. 根本目的是抵抗蒙古人  
B. 巩固了边防和国家统一  
C. 开创了建都北京的先例  
D. 解决了明朝的边疆危机



28. 19世纪末，汉阳铁厂、湖北织布局、启新洋灰公司等洋务企业，通过转租给商人或增加商股的方式经营，吸引了大量商人投资入股，企业发展有了新的起色。材料表明

- A. 方式转变决定企业发展  
B. 理念更新推动了近代化  
C. 入股成为实业救国新潮  
D. 政策转变推动投资设厂

29. 针对胡适发表《多研究些问题，少谈些主义》，李大钊在《再论问题与主义》一文中指出：“社会问题的解决，是多数人共同的问题，且要先有一个共同趋向的理想、主义……. 社会运动固然要研究实际问题，也要宣传理想的主义。”这场争论

- A. 有利于新文化运动方向的改变  
B. 促使李大钊成为马克思主义者  
C. 推动了新民主主义革命的到来  
D. 表明马克思主义成为主流思想

30. 毛泽东在《关于目前政治形势与党的任务决议》中指出，“我们应该采取各种适当方式，争取资产阶级、富农、小地主以及军阀中的中立者，发动并组织全中国、全民族一切革命力量”。该《决议》

- A. 系统阐述了革命的动力问题  
B. 彻底改变了革命的斗争策略  
C. 体现了国内主要矛盾的变化  
D. 推动了一二·九运动的兴起

31. 下表反映了1978-1997年我国各种经济成分在工业总产值中的比重变化。该变化的主要原因是

年份	类别	国营企业	集体企业	个体、私营和外资企业
1978年		77.6%	22.4%	0
1984年		69.1%	29.7%	1.2%
1997年		25.5%	38.1%	36.4%

- A. 市场经济体制逐步形成  
B. 企业管理体制不断变革  
C. 现代企业制度逐步建立  
D. 经济体制改革不断深化

32. 黑格尔认为：“活跃在希腊民族生活里的第二个元素就是海，地形造成了他们两栖式的生活，他们不像游牧民族那样漂泊无定，也不像江河流域居民那样安土重迁。”据此可知，古希腊民族的生活方式

- A. 促进了自由观念形成  
B. 孕育了人文主义精神  
C. 推动了民主政治确立  
D. 推动了对对外贸易发展

33. 斯塔夫里阿诺斯在《全球通史》中说：“美洲和东欧（包括西伯利亚）生产原料、非洲提供人力、亚洲提供一系列奢侈品，西欧则指导这些全球性运作并日益集中于工业产出。”这表明新航路的开辟

- A. 使农耕文明转向工业文明  
B. 推动人口迁徙与物种交流  
C. 加速商品世界性自由流动  
D. 促使全球联系的初步建立

34. 从列宁和平共处观念的产生动机看，我们能找到两个线索：第一个线索是现实的依据（迫切性）；第二个线索就是观念上的。十月革命并不是最终的目的，它作为历史阶段过渡的途径，需要被否定才能完成自身的任务。十月革命后，苏维埃政权通过了《和平方令》。《和平方令》颁布后，苏俄

- A. 成功化解了外部军事压力  
B. 革命任务实现逻辑上转变  
C. 革命指导理论已发生变化  
D. 已经过渡到社会主义阶段

35. 美国对华贸易逆差直接影响美国对华贸易政策。据关方统计，2017年美对华贸易逆差达到3752亿美元，占美国全部货物贸易逆差的46%。以此为由，特朗普政府针对中国对美出口和投资，出台了多种贸易保护主义措施……. 在特朗普的压力下，北美自贸协定已岌岌可危，而新关税措施很可能是压倒加拿大和墨西哥的最后一根稻草。这表明



- A. 区域集团化受到严重威胁
- C. 经济全球化面临巨大挑战
- B. 逆全球化成为国际主流现象
- D. 发达国家主导地位受到冲击

第II卷（非选择题 共160分）

本卷包括必做题和选做题两部分。第36~42题为必做题，每个试题考生都必须作答。第43~47题为选做题，考生根据要求作答。

36. (24分) 阅读图文材料，回答下列问题。

全球现存温带雨林约有30万平方公里，是地球上中纬度高雨量地区的针叶树或阔叶树森林，冬季气温极少低于0℃。加拿大温哥华岛西南部分布有大面积的温带雨林，也是世界上保存最完好的温带雨林区，常年云雾缭绕、无法进入。

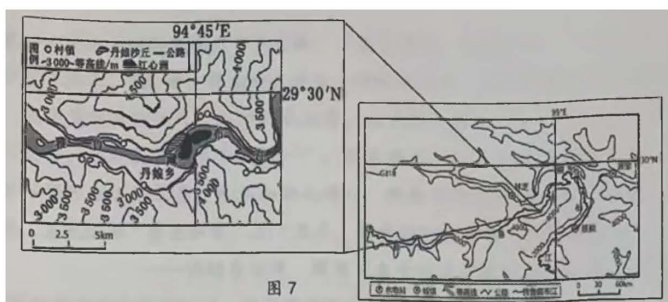
- (1) 说明加拿大温哥华岛西南部温带雨林保存完整的原因。(6分)
- (2) 简析温哥华岛地形对河流水系的影响。(6分)
- (3) 从大气运动的角度，分析温哥华岛常年云雾缭绕的原因。(6分)
- (4) 说明温哥华岛城市主要分布在东部的理由。(6分)



37. (22分) 阅读图文材料，回答下列问题。

材料一 雅鲁藏布江是我国最长的高原河流，也是世界上海拔最高的大河之一。其中游河段分布有十分典型的“爬升丹娘沙丘”，雅鲁藏布江中游河段所在地区的气候属于高原温带半湿润季风气候，年降水量超过600毫米。

材料二 雅鲁藏布江流域是清洁能源的富集地，水能、太阳能、风能、地热能蕴藏量丰富。当地政府发挥能源产业链优势，在能源开采、发电、储电、输电、应用、能源装备制造等领域延链补链，大力引进下游项目，推动能源全产业链发展。近年来累计向外输送65亿千瓦时的清洁电力。图7为雅鲁藏布江部分流域



图和丹娘沙丘分布图。

- (1) 简述林芝地区降水量的空间分布特点及原因。(4分)

- (2) 阐述“爬升丹娘沙丘”的形成过程。(8分)
- (3) 分析雅鲁藏布江流域能源全产业链发展的基本思路。(6分)
- (4) 指出该区域能源产业体系建设对我国能源安全的意义。(4分)

38. (14分) 阅读材料, 完成下列要求。

党的二十大报告指出: “高质量发展是全面建设社会主义现代化国家的首要任务。”

某市就贯彻落实党的二十大精神、如何走好新时代赶考路, 进行了谋划思考。在市委经济工作会议上, 以奋进之姿、拼搏之态作出部署: 各级党员干部以抓铁有痕、踏石留印的干劲, 聚焦重点改革、提升区域协同发展水平, 实施人才强市战略; 大力实施制造强市战略, 提质发展服务业, 做大做强都市现代农业, 构建以工业为主引擎, 现代服务业同先进制造业、都市现代农业深度融合的产业体系; 完成森林生态修复2.6万亩, 新建成绿道35公里, 实施打好污染防治攻坚战、扎实推进农村生活污水治理“千村示范工程”建设等系列工程; 全年开工云数据、跨境电商西部总部基地等重大项目60个、总投资123.9亿元; 践行“人民城市人民建、人民城市为人民”理念, 坚持教育优先发展; 加快补齐民生事业短板, 推动城乡公共服务优质均衡, 千方百计增加城乡居民收入, 让人民群众在城市建设和发展中有更多的获得感、幸福感、安全感。

该市以推动高质量发展、创造高品质生活、实现高效能治理为路径的探索实践, 成功入选2021-2022国家治理创新经验(高质量发展)典型案例。

结合材料, 运用经济生活知识, 说明某市的实践探索如何推动经济社会的高质量发展。(14分)

39. (12分) 阅读材料, 完成下列要求。

重视调查研究, 是中国共产党的光荣传统。毛泽东历来重视调查研究工作。在大革命时期和土地革命时期, 他深入工人、农民、红军战士中进行调查, 写出的《湖南农民运动考察报告》、《寻乌调查》、《反对本本主义》等, 都已成为调研报告中的经典。

新时代, 调查研究仍然是共产党人做好工作的基本功。为深入学习贯彻习近平新时代中国特色社会主义思想, 全面贯彻党的二十大精神, 近日中共中央办公厅印发了《关于在全党大兴调查研究的工作方案》。(以下简称方案)

《方案》提出要围绕“人民最关心最直接最现实的利益问题”、“全面深化改革开放中的重大问题”、“贯彻新发展理念、构建新发展格局、推动高质量发展中的重大问题”等12个方面。《方案》指出要紧紧围绕全面贯彻落实党的二十大精神、推动高质量发展, 直奔问题去, 实行问题大梳理、难题大排查, 着力打通贯彻执行中的堵点、淤点、难点。《方案》强调要坚持因地制宜, 综合运用座谈访谈、随机走访、问卷调查、专家调查、抽样调查、统计分析等方式, 充分运用互联网、大数据等现代信息技术开展调查研究, 提高科学性和实效性。

结合材料并运用政治生活知识, 说明新时代共产党人为什么仍然要练好调查研究基本功, 以及如何做好调查研究工作。(12分)

40. (26分) 阅读材料, 完成下列要求。

党的二十大审议通过《中国共产党章程（修正案）》：“发扬斗争精神、增强斗争本领”经大会同意写入党章。

党的百年奋斗史就是一部敢于斗争、善于斗争的历史。中国共产党诞生之时，就铭刻着斗争的烙印，一路走来也是在斗争中求得生存、获得发展、赢得胜利。新民主主义革命时期，党团结带领人民，同国内外强敌进行艰苦卓绝的斗争，建立了人民当家作主的新中国；社会主义革命和建设时期，党团结带领人民，自力更生、发愤图强，同影响新生人民政权稳定的各种因素作斗争，同旧的不合理的社会制度和落后的社会经济条件作斗争，确立社会主义基本制度，推进社会主义建设；改革开放和社会主义现代化建设新时期，党团结带领人民，解放思想、锐意进取，同阻碍社会发展进步的各种思想观念和体制机制障碍作斗争，同关系我国改革发展稳定全局的一系列风险考验作斗争，同党内存在的不适应新形势新任务要求、不符合党的性质和宗旨的问题作斗争，开创、坚持、捍卫、发展了中国特色社会主义。

习近平总书记在党的二十大报告中明确了“坚持发扬斗争精神”是前进道路上必须牢牢把握的原则之一。当前，我们还会面临许多激流险滩，面临的各种斗争是长期的，实现第二个百年奋斗目标，我们要大力弘扬斗争精神，依靠顽强斗争打开事业发展新天地。

(1) 结合材料，运用社会基本矛盾运动的知识，说明党的百年奋斗史就是一部敢于斗争、善于斗争的历史。(12分)

(2) 实现第二个百年奋斗目标，我们要大力弘扬斗争精神，依靠顽强斗争打开事业发展新天地。运用文化对人的影响知识并结合材料加以分析。(8分)

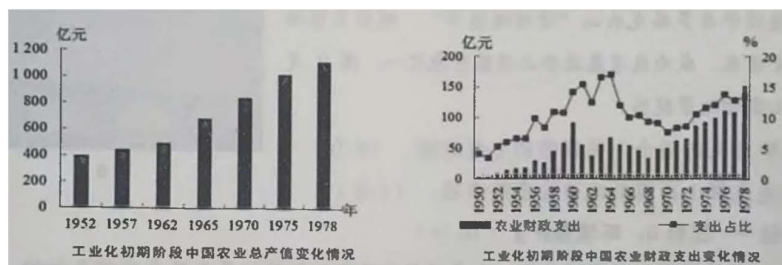
(3) 结合材料，运用所学知识，以“弘扬斗争精神 勇于担当作为”为主题撰写一篇短评。(6分)(要求：①围绕主题，观点明确；②论证充分，逻辑清晰；③学科术语使用规范；④总字数在200字左右)

41. (25分) 阅读材料，完成下列要求。

材料一 19世纪中期是英国农业发展的“黄金时代”，种植业、畜牧业等传统意义上的农业，园艺业等新兴农业都呈现出一片繁荣景象。这一时期，英国农业人口数量相对稳定，耕地面积不断扩大，农产品产量日益增加，品种也呈现繁多的趋势。圈地运动进入了议会圈地的阶段，打破了农业在公共领域发展的障碍……当时农业体制的变化、农业技术的革新以及与农业相关行业的发展，也极大地促进了英国农业的繁荣。

—摘编自张梦醒《论19世纪中期英国农业的繁荣》

材料二 下图是新中国工业化初期阶段农业发展情况。



—摘编自《新中国农业60年统计资料》

材料三“三农”问题是关乎国家发展命运的重大问题。习近平总书记强调：重农固本是安民之基，要保持强农惠农富农的力度，保持认识高度、重视程度的良好势头，始终将“三农”工作摆在突出位置并贯彻落实。

—摘编自李奕颖《习近平新时代“三农”观研究》

- (1) 根据材料一并结合所学知识，分析19世纪中期英国农业发展的原因和影响。(10分)
- (2) 根据材料二并结合所学知识，概括工业化初期中国农业发展的特点及形成原因。(10分)
- (3) 根据材料并结合所学知识，围绕我国新时代农业发展谈谈你的认识。(5分)

42. (12分) 阅读材料，完成下列要求。

材料 习近平总书记在党的二十大报告中指出，“中国共产党已走过百年奋斗历程，用伟大奋斗创造了百年伟业”。准确把握中国共产党百年奋斗历史定位和时代坐标，就要以唯物史观为指导，运用大历史观（在一个比较长的历史时段来认识和分析问题），从中国近代180多年斗争史中予以科学定位，把握历史大趋势，感悟中国共产党百年奋斗历史伟业、明晰百年奋斗重要意义、传承百年奋斗历史经验，树立正确党史观。

—摘编自王树荫、王君《以大历史观审视中国共产党百年奋斗历史定位》


结合所学知识，围绕“中国共产党百年奋斗史”，自拟论题并阐述。（要求：论题明确，论据准确，论证充分，逻辑清晰。）

请考生从2道地理选做题、3道历史选做题中每科任选一题作答。如果多做，则每科按所做的第一题计分。

43. 【地理-选修3：旅游地理】(10分)

龙头山位于汉中市南郑区小南海镇，系米仓山山系，最高海拔2336米，最热月7月平均气温19℃，气候温润，草原广布，动植物资源丰富。有“陕西省最美林地”

“天然氧吧”“空调房”之美称。自2018年以来，该地已连续举办多届龙头山“清凉帐篷节”，吸引大量游客纷至沓来，成为我省最适合山顶露营地之一。图8是龙头山露营地景观图。



- (1) 分析龙头山适合山顶露营的主要原因。(6分)
- (2) 简述选择山顶露营应该注意的事项。(4分)

44. 【地理-选修6：环境保护】(10分)

滇金丝猴是国家一级保护动物，也是世界自然保护联盟红色名录中的濒危物种，分布于金沙江和澜沧

江之间面积约2万平方公里的狭窄地带，与大熊猫一样被称为中国的国宝。据史料记载，中国古代的滇金丝猴分布区域广泛。由于人类活动的影响，活动范围不断退缩，种群减少。经过40多年坚持不懈的保护，滇金丝猴种群数量从17群增加到24群，个体数量从不足2000只增加至3800多只。

(1) 说明滇金丝猴成为濒危物种的原因。(4分)

(2) 专家建议将滇金丝猴自然保护区的范围扩大，简述扩大自然保护区范围的影响。(6分)

45. 【历史-选修1：历史上重大改革回眸】(15分)

材料 从天宝年间始，“天子佚乐，而用不知节”，大地主官僚又大肆兼并土地。

安史之乱后，地方上诸侯割据，不供贡赋，“太仓空虚，鼠雀又饿”。762年刘晏出任盐铁使进行盐业改革。780年，宰相杨炎开始了两税法改革，基本内容是“凡百役之费，一钱之敛，先夺其数而赋于人”，“户无主客，以见居为簿；人无丁中，以贫富为差；不居处而行商者，在所周县，三十而税一”。夏秋两季征收，其租庸杂役悉省，而丁额不废。两税法推行后效果显著，赋不加敛而增入，版籍不造而得其虚实。但推行中弊端也逐渐出现，王夫之称“量事取资，上下其手，从中渔利，百姓自然横遭祸害”。

—摘编自马涛、周原《唐中叶刘晏理财与两税法改革的再评价》

(1) 根据材料并结合所学知识，指出唐代实行两税法改革的原因。(7分)

(2) 根据材料并结合所学知识，评价杨炎的两税法改革。(8分)

46. 【历史-选修：20世纪的战争与和平】(15分)

材料 太平洋战争爆发后，英美等国同时执行“先欧后亚”战略。日本乘势南下，占领了泰国、马来西亚、新加坡等地，并积极策划控制缅甸，已达到完全封锁中国的目的。为缓解缅北紧张形势，英国要求蒋介石派兵入缅作战。1941年12月3日，中英签订了《共同防御滇缅路协定》。1942年2月中旬，中国远征军以“支援英军确保缅甸国际补给线”为目的，赴缅作战。1943年10月，中国驻印军和中美混合部队从印度率先反攻，揭开了滇西、缅北反攻战的序幕。中国远征军1944年5月正式发动反攻，强渡怒江，直到1945年1月，把日军完全赶出国土，3年的滇缅抗战以胜利宣告结束。

—摘编自王学明《跨越国境线的抗日战争》

(1) 根据材料并结合所学知识，概括中国远征军入缅作战的原因。(8分)

(2) 根据材料并结合所学知识，简析中国远征军入缅作战的意义。(7分)

47. 【历史-选修：中外历史人物评说】(15分)

材料 范文澜(1893-1969)，浙江人。毕业于北京大学，精研传统学术道路，被视为考据学派传人。在北平、天津等学校任教期间，撰写了《文心雕龙注》、《正史考略》等国学著作。抗战时期，积极投身于抗战宣传和动员，并参加了新四军。他积极学习马克思主义著作，阅读毛泽东的文章，担任延安马列研究室主任，撰写了《中国通史简编》。该书以马克思主义历史观为指导，运用朴素的唯物论和辩证法对历史进行研究。他坚持用历史主义原则评价人物，用阶级斗争学说分析历史事件。他肯定劳动人民的作用，提出劳动人民是历史的主人。他的史学思想和学术著作影响深远，有“马克思主义史学开创者”之称。

—摘编自谢一彪《范文澜传》

(1) 根据材料并结合所学，指出范文澜能够成为“马克思主义史学开创者”的原因。(7分)

## 关于我们

自主选拔在线是致力于提供新高考生涯规划、强基计划、综合评价、三位一体、学科竞赛等政策资讯的升学服务平台。总部坐落于北京，旗下拥有网站（[网址：www.zizzs.com](http://www.zizzs.com)）和微信公众平台等媒体矩阵，用户群体涵盖全国 90% 以上的重点中学师生及家长，在全国新高考、自主选拔领域首屈一指。

如需第一时间获取相关资讯及备考指南，请关注**自主选拔在线**官方微信信号：**zizzsw**。



 微信搜一搜

 自主选拔在线

