

姓名\_\_\_\_\_ 座位号\_\_\_\_\_

(在此卷上答题无效)

绝密★启用前

2023年池州市普通高中高三教学质量统一监测

## 文科综合能力测试题

满分：150分 考试时间：150分钟

注意事项：

1. 答题前，考生务必将自己的学校、姓名、班级、准考证号填写在答题卡上。
2. 回答选择题时，选出每小题答案后，用铅笔把答题卡上对应题目的答案标号涂黑。如需改动，用橡皮擦干净后，再选涂其他答案标号。回答非选择题时，将答案写在答题卡上。写在本试卷上无效。
3. 考试结束后，将本试卷和答题卡一并交回。

一、选择题（本题共35小题，每小题4分，共140分。在每小题给出的四个选项中，只有一项是符合题目要求的）

自中美贸易冲突以来，不少产业撤离中国。目前在越南投资力度最大的外企是韩国三星，衣服、鞋子等低端产业链也纷纷将目光投向越南，耐克和阿迪达斯近50%的鞋子都在越南加工完成的。数据显示，2022年越南出口额达到3718.5亿美元。图1示意越南和中国深圳2016-2021年出口额。据此完成1-3题。

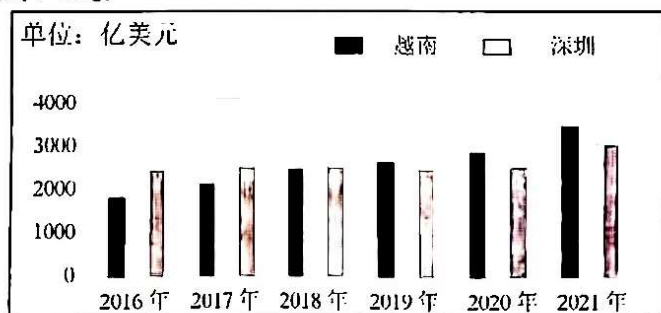


图1

1. 与越南承接产业转移有直接竞争关系的主要是我国的
  - A. 北京、上海
  - B. 深圳、广州
  - C. 沿海发达地区
  - D. 中西部地区
2. 对比越南和中国深圳2016-2021年出口额，说明近年来
  - A. 深圳高技术产业比重大
  - B. 深圳经济总量大，增长速度减缓
  - C. 越南产业结构升级困难
  - D. 越南出口总量大，增长速度较快
3. 近年来，外企投资从中国转向越南是因为越南的
  - ①劳动力成本低
  - ②基础设施不断完善
  - ③综合国力较强
  - ④工业体系相对完整
  - A. ①②
  - B. ①③
  - C. ②③
  - D. ③④

文科综合试题 第1页 (共12页)

希腊克里特岛是油橄榄树中最名贵品种“科拉喜”的独特产地，该地处于地中海与爱琴海  
的交汇处，海运便利，克里特岛为火山岛，是希腊著名的旅游目的地，因岛上游客数量存在显著  
的季节差异，导致岛内电力需求量出现明显的季节性变化。

岛内自主发电，图2为克里特岛地理位置图。据此完成4-6题。




图2

4. 克里特岛成为油橄榄“科拉喜”独特产地的主要自然原因是

- A. 昼夜温差大                      B. 远离大陆  
C. 火山灰土质                      D. 光照充足

5. 推测克里特岛电力需求量最大的季节可能是

- A. 春季                                  B. 夏季  
C. 秋季                                  D. 冬季

6. 为克里特岛自主供电提供可靠电力的主要是

- A. 太阳能发电                      B. 风能发电                      C. 水能发电                      D. 进口石油发电

沱沱河位于长江源头宽阔的盆地之上，受地形、降水、冰雪融水等的影响，形成了“辫状水系”。下图为沱沱河某段景观图，经调查发现，该河段右岸多年冻土发育较好。据此完成7-9题。



图3

7. 与右岸相比，左岸多年冻土层缺失的主要原因可能是左岸

- A. 植被稀疏                      B. 降水较多                      C. 坡度平缓                      D. 河流侵蚀

8. 有关沱沱河“辫状水系”形成的原因，描述不正确的是

- A. 河流两岸比降大                      B. 河床坡度比降大  
C. 河流水位变化大                      D. 河流流量变化大

9. 在全球气候变暖的背景下，有关沱沱河流域地理环境变化的描述正确的是

- A. 河流结冰期延长                      B. 径流不稳定性增加  
C. 冻融泥石流减少                      D. 冻土埋藏深度变浅

为提高茶叶品质，石台县政府购买并使用了太阳能杀虫灯，效果显著，图4为石台县某茶叶园（约30°N）太阳能杀虫灯景观图，太阳能光伏电池板与水平面的夹角约为26°。据此完成10-11题。




图4

10. 一年中有两次正午太阳光线与图示太阳能杀虫灯光伏电池板垂直出现在

- A. 惊蛰和寒露                      B. 雨水和霜降  
C. 清明和白露                      D. 立春和立秋

11. 若由计算机控制, 太阳能光伏板始终与太阳光保持垂直。某一天太阳能光伏板水平方向转动的度数为  $\alpha$ , 若未来某年某日至日  $\alpha$  增大, 推测未来某年的黄赤交角与现在相比
- A. 增大                      B. 减小                      C. 不变                      D. 无法比较
12. 中国特色社会主义是同社会主义理论逻辑和中国社会发展历史逻辑的辩证统一, 是根植于中国大地、反映中国人民愿望, 适应中国和时代发展进步要求的科学社会主义, 具有深厚的历史渊源和广泛的现实基础。中国特色社会主义
- ①揭示并遵循了人类社会发展的—般规律  
②是在改革开放四十多年伟大实践中得来的  
③是中国人民不断创造历史伟业的根本前提  
④是实现中国式现代化和民族复兴的必由之路
- A. ①②                      B. ①③                      C. ②④                      D. ③④
13. 人世间的美好梦想, 只有通过诚实劳动才能实现; 发展中的各种难题, 只有通过诚实劳动才能破解; 生命里的一切辉煌, 只有通过诚实劳动才能铸就。劳动教育具有综合育人价值, 是学生成长的必要途径。新时代要在大中小学开展劳动教育, 这是基于
- ①劳动者是生产过程中的主体, 在生产力发展中起主导作用  
②劳动是社会财富的创造活动, 是人类文明发展的唯一条件  
③新时代是奋斗者的时代, 劳动教育能有效保障劳动者权益  
④幸福源于劳动, 人只有在劳动中才能创造和实现人生价值
- A. ①③                      B. ①④                      C. ②③                      D. ②④
14. 下图是我国 2022 年 CPI 相关数据 (CPI 指数, 是反映一定时期内城乡居民所购买的生活消费品和服务项目价格变动趋势和程度的相对数, 按国际通行标准, 3% 是 CPI 的通胀警戒线)。




图 5

- 由图中信息可以推断出
- ①2022 年 9 到 11 月物价呈下降趋势                      ②2022 年我国消费市场稳中回暖  
③2022 年我国宏观经济运行总体稳定                      ④2022 年我国企业发展面临较大压力
- A. ①③                      B. ①④                      C. ②③                      D. ②④
15. 资本作为一种生产要素, 能够推动技术进步、促进产业升级、满足生产和消费需要, 将有力助推中国式现代化进程。然而, 为了追逐利润最大化, 资本存有危害市场主体利益、破坏规则秩序的动机。下列选项中有助于打消此类顾虑和担心的是
- ①有效的政府治理是中国特色社会主义制度的优势所在  
②实现共同富裕是中国特色社会主义市场经济根本目标

- ①生产要素与分配机制使世间财富源源不断流动  
②非公有制经济是社会主义市场经济的重要组成部分
- A. ①②                      B. ③④                      C. ②③                      D. ③④
16. 基层治理是国家治理的基础。某村采取民主投票的方式，公开选出村民理事会和监事会，并结合实际召开民情恳谈会、民主议事会和群众评议会，有效解决了基层“忧心事”、“烦心事”。该村“五会”机制有助于
- ①发展基层民主，站稳人民立场                      ②完善基层政权，提高治理能力  
③创新自治组织，夯实自治基础                      ④直接行使权利，激发自治热情
- A. ①②                      B. ①③                      C. ②③                      D. ②④
17. 在以习近平总书记为核心的党中央坚强领导下，共产产生了 2296 名党的二十大代表，其中生产和工作第一线代表 771 名，占 33.6%。代表结构合理、素质优良、分布广泛，充分展现新时代中国共产党人良好精神风貌。党的二十大代表结构优化
- ①是推进全面从严治党向纵深发展的基本要求  
②是巩固全党全国各族人民团结奋进的共同思想基础  
③有利于聆听基层党员声音巩固党的群众基础  
④有利于发挥先锋模范作用增强党的群众组织力
- A. ①②                      B. ①③                      C. ②④                      D. ③④
18. 《故事里的中国》是央视近几年推出的深受群众喜爱的文化类节目。故事里的中国是什么样子的？是《创业史》里梁生宝的克己奉公，是《渴望》里刘慧芬的上善若水，是《人到中年》里陆文婷的医者仁心……该节目的成功得益于
- ①立足于时代精神进行创作，把握了时代的脉搏  
②以彰显个性人生作为艺术创作的根基本价值追求  
③创作者为时代立传、为人民画像、为民族铸魂  
④彰显了伟大的中国精神、中国价值和中國力量
- A. ①②                      B. ①④                      C. ②③                      D. ③④
19. “白圭之行堤也塞其穴，丈人之慎火也涂其隙”是说白圭巡视长堤时堵塞小洞，老人谨防跑火而涂封缝隙。这启示我们
- A. 促进感性认识上升到理性认识，深化对事物的认识  
B. 把握事物发展中量变与质变的关系，注意防微杜渐  
C. 把握肯定与否定的辩证关系，加速事物的新陈代谢  
D. 重视量的积累，为实现事物的质变创造充分的条件
20. 在 2022 年的美国中期选举中，民主党和共和党分获国会参议院和众议院控制权，拜登政府在未来施政过程中必将受到掣肘。另据统计，本次美国中期选举的竞选花费超过 167 亿美元，成为历史上最昂贵的中期选举。由此可见
- ①美国采用民主共和制的国家结构形式，其民主政治日益脱离公众意愿  
②美国两党制中执政党和反对党相互制约，最大限度维护资产阶级利益  
③受到利益集团的影响，美国民主难以坚持维护美国公众利益的初衷  
④美国政党制度难掩其阶级本质，经济地位不平等转变为政治地位不平等
- A. ①②                      B. ①③                      C. ②④                      D. ③④

21. 《金砖国家领导人第十四次会晤北京宣言》提出，金砖国家秉持互尊互谅、平等相待、团结互助、开放包容、协商一致的精神，取得了一系列重大成果。我们重申基于共同利益和优先领域，进一步加强金砖团结合作的重要性，从而进一步巩固金砖战略伙伴关系。这说明
- ①金砖国家的诞生和发展是国际格局演变的产物  
②金砖国家已成为新兴市场团结合作的重要平台  
③维护共同利益是金砖国家合作的出发点和落脚点  
④金砖国家合作机制推动国际关系民主化的发展
- A. ①②                      B. ①③                      C. ②④                      D. ③④
22. 熊某与杨某结婚后，杨某与前夫所生之子小强由一人一直抚养，熊某死亡，未立遗嘱，熊某去世前杨某孕有一对龙凤胎，产出时男婴为死体，女婴为活体但旋即死亡。关于对熊某遗产的继承，下列说法正确的是
- 《中华人民共和国民法典》第十六条 涉及遗产继承、接受赠与等胎儿利益保护的，胎儿视为具有民事权利能力。但是，胎儿娩出时为死体的，其民事权利能力自始不存在。
- ①杨某、小强均是第一顺序继承人                      ②小强可代位继承男婴所得的遗产  
③为男婴保留的遗产份额由杨某继承                      ④为女婴保留的遗产份额由杨某继承
- A. ①③                      B. ①④                      C. ②③                      D. ②④
23. 小明买了一款音乐播放器，拿给朋友小林、小李和小张试听。试听后，小林说这款音乐播放器是优质产品，小李说这款音乐播放器是劣质产品，小张说这款音乐播放器既不是优质产品，也不是劣质产品。针对小林、小李和小张关于该音乐播放器的说法，分析正确的是
- A. 小林和小李没有看到事物是不断变化的  
B. 小张骑墙居中，犯了“两不可”的错误  
C. 小林和小李的观点中至少有一种是错误的  
D. 小张并未表明自己对音乐播放器的评价
24. 据《管子·桓公问》的记载，“黄帝立明台之议者，上观于贤也；尧设衢室之问者，下听于人也。”《淮南子·主术训》也有“尧置敢谏之鼓，舜立诽谤之木。”的记述。材料表明中国古代早期政治
- A. 蕴含着原始民主因素                      B. 受制于社会舆论导向  
C. 重视社会道德的构建                      D. 强调君民关系的和谐
25. 《黄帝内经》约成书于战国至西汉时期，它认为气是世界的原初物质，阴阳二气交互作用而生成宇宙万物；强调“阴阳者，天地之道也，万物之纲纪，变化之父母，生杀之本始，神明之府也，治病必求于本。”这说明《黄帝内经》
- A. 强调生命活动的物质性                      B. 助推了阴阳五行学说的兴起  
C. 奠定了中医理论的基础                      D. 已科学认识人体的形神关系
26. 唐中期以后，朝廷往往给地方权力较大的节度使加衔“同中书门下平章事”，并称其为“使相”。唐肃宗继位后，时任朔方节度使的郭子仪因勤王有功，被任命为兵部尚书并加衔“同中书门下平章事”，负责中央政府的军事工作。“使相”的设立旨在
- A. 安抚笼络节度使                      B. 维护国家统一  
C. 进一步加强皇权                      D. 提高行政效率

27. 1864年,英商开始在上海租界筹建煤气厂,1865年11月正式向用户供气,12月向公共路灯供气,上海街头第一次出现煤气路灯,在市民中引起强烈反响随后被广泛安装。上海第一家煤气厂的建成
- A. 便利了英国掠夺中国的资源  
B. 标志着中国近代化的开端  
C. 推动了上海近代企业的出现  
D. 促进了社会生活的近代化
28. 20世纪20年代,马克思主义民族区域自治思想开始在中国传播,初期的主要内容是民族联邦理论。此后中国共产党根据革命形势的变化,构建了“单一制”框架下的民族区域自治格局,最终确立了以民族区域自治为补充的单一制国家结构形式。由此表明,我国的民族区域自治制度
- A. 立足多元一体的基本国情  
B. 是马克思主义中国化的具体实践  
C. 继承发展了民族联邦理论  
D. 保障了国家统一和人民当家作主
29. 口号作为一种舆论手段和社会动员模式,被近代以来的政党和团体普遍采用,它以特殊的方式记录历史跳动的脉搏。以下是中国共产党在不同时期提出的口号:



这些口号在党史研究中

- A. 提供了新的史料类型  
B. 需要辨别真伪  
C. 具有史料实证的价值  
D. 开创了新史观
30. 古代埃及人将一年分为泛滥季、播种季和收获季,并制定了世界上第一部太阳历;两河流域的苏美尔人也是在与经常泛滥的洪水斗争过程中留下了著名的洪水和方舟传说,经由古代希伯来人和希腊人的传承,一直影响至今。材料表明
- A. 自然环境塑造文化特色  
B. 多元一体的文化格局初具雏形  
C. 地域交流推动文化发展  
D. 世界农耕文明区域不断地扩大
31. 在古希腊城邦中,只有公民才拥有土地。公元前4世纪的雅典作家色诺芬著有《家庭经济》一文,其主要内容是如何经营和管理家庭的土地;亚里斯多德也指出,土地收成是城邦经济的主要来源。由此可知,古希腊城邦
- A. 以农为本的传统源远流长  
B. 具有农业社会的特征  
C. 农业被认为是文明的标志  
D. 农民是民主政治主体
32. 法国历史学家费尔南·布罗代尔指出,新航路开辟后新世界的市场增长十分缓慢:在1660年代,近一半的英国货物出口到地中海,只有10%左右的货物出口到美洲和印度。这主要是因为当时新世界
- A. 小农经济的抵制  
B. 实行闭关锁国的政策  
C. 消费主体是移民  
D. 市场购买力非常有限

33. 伏尔泰在《风俗论》中写道：“中国人最深地了解，最精心培育，最致力完善的东西是‘礼’和‘法律’；孟德斯鸠在《法法的精神》中则指责“中国没有法治观念”（两位思想家的认识都基于）

- A. 传播中国传统文化的需要
- B. 中华文明的辉煌灿烂
- C. 以儒家精神上富启蒙思想
- D. 中西法治文化的差异

34. 1957年全球贸易的一半是用英镑支付的，而到1977年下降20%。50年代后期，英镑在资本主义世界货币储备总额中占三分之一，70年代末却只占1%多一点。1979年5月撒切尔夫人上台执政后，英国经济一改颓废之态，实现了连续8年的稳定增长。这一变化主要得益于当时的英国政府

- A. 强化社会保障措施
- B. 颁布一系列国有化法令
- C. 严格控制财政支出
- D. 国家大量投资增加就业

35. 人工智能的快速发展改变了人类生活。有学者指出，人工智能对中间技能人员的替代最为严重，而高技能行业及低技能服务业的就业岗位则有所增加。该学者意在说明人工智能的发展

- A. 扩大社会收入差距
- B. 影响了劳动力就业结构
- C. 促进了经济的增长
- D. 增加了社会失业的风险

二、非选择题（本题共10小题，共160分）

36. 阅读图文材料，完成下列要求。（26分）

卡塔尔位于水体盐度很高的波斯湾西岸的卡塔尔半岛，国土面积小，在油气资源被开发之后，大量国际移民迁入。卡塔尔政府在国家战略中明确提出要在2030年之前打造成一个可持续发展的先进社会。政府投入巨资承办了第22届世界杯足球赛，修建了场馆，酒店，地铁等设施，堪称有史以来投资最豪横的一届世界杯，该赛事首次在北半球冬季举行。图6为卡塔尔及周边区域略图，图7为卡塔尔移民数量排名前10位国家，图8为卡塔尔气候资料图。

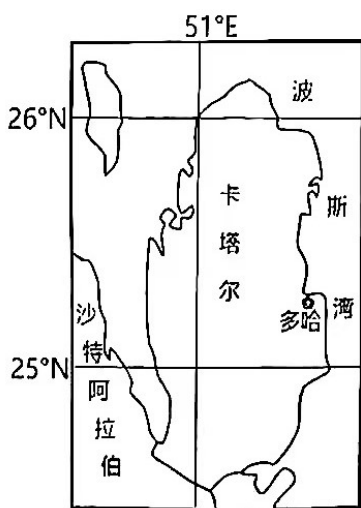


图6

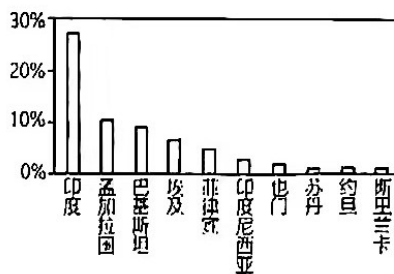


图7

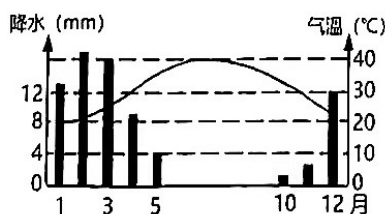


图8

- (1) 简析波斯湾水体盐度高的原因。(6分)
- (2) 说出卡塔尔除南亚、东南亚以外的外籍公民其他来源区并分析原因。(6分)
- (3) 分析卡塔尔世界杯首次选择在冬季举办的原因。(6分)
- (4) 从可持续发展的角度, 简述卡塔尔花费巨资举办世界杯对本国未来发展有何重要意义。(8分)

37. 阅读图文材料, 完成下列要求。(30分)

俄乌冲突导致“欧洲粮仓”乌克兰粮食大幅度减产, 再加之俄罗斯对乌克兰的封锁, 欧洲或将出现粮食危机。纵观全球, 世界三大黑土带集中分布于北半球中纬度地区的乌克兰中、东部平原, 中国东北平原, 美国中央大平原北部, 为世界重要的商品性谷物产区。其中中国东北地区黑土开发破坏严重, 土层变薄, 有机质含量下降, 土壤板结, 肥力下降, 土壤退化严重。世界面积第五的黑土区域主要位于阿根廷的潘帕斯(没有树木生长)草原, 该地发展了全球闻名的大牧场牧牛业。图9为乌克兰黑土地分布图, 图10为阿根廷潘帕斯草原牧牛业分布图。

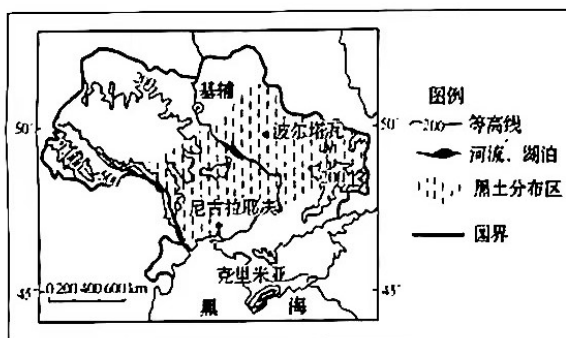


图9

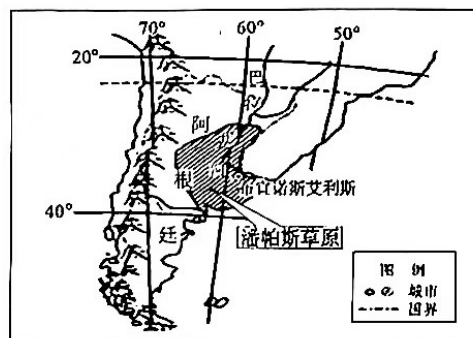


图10

- (1) 说明世界三大黑土带自然黑土形成的条件, 并简述中国东北地区黑土保护和利用应当采取的措施。(10分)
- (2) 从自然环境方面, 推测阿根廷潘帕斯黑土区没有大面积发展种植业的原因。(6分)
- (3) 简析乌克兰能够成为“欧洲粮仓”的区位优势。(6分)
- (4) 结合俄乌冲突带来的粮食危机, 谈谈保障我国粮食安全的主要途径。(8分)



38. 阅读材料，完成下列要求。(10分)

网络安全治理现代化是新时代国家治理体系和治理能力现代化发展的客观要求。

习近平总书记多次强调，网络空间不是“法外之地”，加强党的领导，才能更好推动社会治理从现实社会向网络空间覆盖，建立健全网络综合治理体系，营造清朗的网络空间。

2022年我国专门针对电信网络诈骗治理的反电信网络诈骗法新制定出台，保障网络平台经济有序发展的反垄渐法修改，互联网安全治理有序推进。

2022年7月21日，国家互联网信息办公室依据网络安全法等法律法规，对滴滴全球股份有限公司处人民币80.26亿元罚款，国家将不断加强对网络安全、数据安全、个人信息的保护力度。

结合材料，运用《政治与法治》的有关知识阐释我国网络安全治理中彰显的社会主义民主显著优势。

39. 阅读材料，完成下列要求。(10分)

广东省积极应对人口老龄化国家战略，聚焦全省老年人“急难愁盼”事项，努力构建居家社区机构相协调、医养康养相结合的养老服务体系，针对城乡特困老年人、特殊困难老年人、广大老年人“三个圈层”的不同特点，广东注重分类施策，竭力满足老年人多层次、多样化养老服务需求，携手香港和澳门，开创“湾区养老”新模式，并与东北三省、江西等10个省区市共同打造“旅居养老”新样态，加快推进全省养老服务高质量发展。

结合材料，谈谈养老服务的“广东实践”是怎样坚持唯物辩证法的实质与核心的。

40. 阅读材料，完成下列要求。(10分)

2013年以来，高质量共建“一带一路”稳步发展，取得了突出的成绩。我国与沿线国家贸易往来日益密切，已成为25个沿线国家最大的贸易伙伴，期间与共建“一带一路”国家在科技园区、技术转移等方面开展合作，共同迎接新一轮科技革命和产业变革。

十年来，共建“一带一路”和“共商共建共享”的倡议已经从理念转化为行动，从愿景转化为现实，在解决当地民众就业、带动东道国经济发展等方面发挥了积极作用。截至2021年末，境外经贸合作区分布在46个国家，累计投资507亿美元，上缴东道国税费66亿美元，为当地创造39.2万个就业岗位。

结合材料，运用所学经济全球化的知识分析共建“一带一路”对我国和世界经济发展的意义。

41. 阅读材料，完成下列要求。(12分)

【起因】2022年12月21日，张先生到某4S店购买了一辆新能源汽车。当日上午张先生与该4S店签订了购车协议并办完了交款手续后因事离开，约定4S店将车开到某小区交付给张先生，随后4S店办理了临时牌照和保险。下午4S店销售员小李将车开出店内停车场，但刚出店门就撞上了一辆黑色轿车。

【争议】事件发生后，该4S店要求张先生走保险程序，由保险公司负责赔偿。理由是这辆车已办完所有手续，合同已经履行完毕，车辆的所有权已经属于张先生。张先生觉得非常委屈，自己的新车瞬间变成了事故车。于是，张先生主张换车。理由是这辆车并未交到自己手上，车辆所有权尚未转移，合同还未履行完毕。

运用《法律与生活》的知识，结合材料，回答下列问题：

- (1) 张先生的主张是否合乎法理？请说明理由。(6分)
- (2) 请你为材料所涉纠纷提供两种解决方式，并说出该方式的基本含义。(6分)

42. 阅读材料，回答问题。(10分)

党的十八大以来，中国共产党人顺应时代发展，从理论和实践结合上系统回答了新时代坚持和发展什么样的中国特色社会主义、怎样坚持和发展中国特色社会主义这个重大时代课题，创立了习近平新时代中国特色社会主义思想。习近平新时代中国特色社会主义思想是对马克思列宁主义、毛泽东思想、中国特色社会主义理论体系的继承和发展，是马克思主义中国化时代化最新成果，是党和人民实践经验和集体智慧的结晶，是中国特色社会主义理论体系的重要组成部分，是全党全国各族人民为实现中华民族伟大复兴而奋斗的行动指南，必须长期坚持并不断发展。

结合材料，说明思维与实践的关系。

43. 阅读材料，回答下列问题。(25分)

材料一 宋代的租佃制更为普遍，地主和佃农签订一年或几年的租佃契约，出让土地使用权以收取地租。《宋刑统》和敕令都确认租佃制度，以维护地主的权益。宋律规定，契约到期，租佃关系结束，农民可以另租土地，地主可以另佃；契约未到期，禁止佃户逃离，也不允许地主私自处置佃农，不得随意撤佃；佃户欠租，官府要以强力帮助地主索取。尽管当时佃户的法律地位很低，但与“部曲制”下的部曲(唐以前地主豪强私家的部属、家仆，身份地位比奴婢略高)相比，地位和处境要好一些。

——摘编自《中国古代法制史话》(任继愈主编 / 李用兵著)

材料二 1931年11月颁布的《中华苏维埃共和国土地法》规定：“地方苏维埃政府，应根据各个乡村当地情形，选择最有利于贫农、中农利益的原则来分配土地。为迅速分配土地，中农、贫农和雇农应按照人口平均分配，富农以劳动力(即在按照人口平均分配土地的地方，每个有劳动能力的富农，所得分田数量，等于按人口平均分配一人所得的分田数量)为单位，人口为补助去分配”。显然这一分配标准在利益上明显向贫雇农倾斜了，正如《申报》记者陈廉雅在宜黄县

棠阴镇观察到的那样，“分田情形，地主无份，富农照劳动能力，授以劣地，贫农佃农雇农等，则计口授以良田。”依照这一标准，贫雇农往往能够分得比地主富农更多更好的土地。

——摘编自李丹利《从土地改革到发展生产：中央苏区解决乡村民生问题的路径研究》

材料三 我国农村改革是从调整农民和土地的关系开启的。新形势下深化农村改革，主线仍然是处理好农民和土地的关系。当前最大的政策就是必须坚持和完善农村基本经营制度……就是要坚持农村土地集体所有，坚持家庭经营基础性地位，坚持稳定土地承包关系。……建立土地承包经营权登记制度，是实现土地承包关系稳定的保证，要把这项工作抓紧抓实，真正让农民吃上“定心丸”。

——习近平总书记在农村改革座谈会上的讲话（2016年4月25日），

《论“三农”工作》，中央文献出版社，2022年6月第1版

- (1) 根据材料一并结合所学知识归纳分析宋代租佃制的特点和影响。（12分）
- (2) 根据材料一、二并结合所学知识比较宋代租佃制与中央苏区土地改革政策的差异。（6分）
- (3) 综合以上材料结合所学知识简析处理好农民与土地关系的历史经验。（7分）

44. 阅读材料，完成下列要求。（12分）

材料 冷战后大事年表（部分）

时间	事 件
1991年	12月25日，苏联正式解体
1992年	2月7日，《欧洲联盟条约》在荷兰马斯特里赫特正式签署
	3月3日，波黑内战爆发
1993年	1月13日，《禁止化学武器公约》在巴黎开始签署
	3月12日，朝鲜宣布退出《不扩散核武器条约》
1994年	4月7日，卢旺达图西族和胡图族武装在首都发生激烈冲突
	10月11日，美国出兵海地
1995年	1月1日，世界贸易组织（WTO）成立并开始运行
	5月11日，联合国《不扩散核武器条约》审议和延长大会决定无限期延长该条约
1996年	9月10日，联合国大会通过《全面禁止核试验条约》
1997年	10月29日，中美发表联合声明，决定共同致力于建立中美建设性战略伙伴关系
1998年	4月10日，英国、爱尔兰与北爱尔兰签署争取北爱地区和平协议
1999年	3月24—6月20日，以美国为首的北约空袭南联盟
2000年	6月13—15日，朝韩举行历史性首脑会晤
2001年	9月11日，美国遭受历史上最严重的恐怖袭击
	11月10日，多哈WTO第四届部长级会议，批准中国加入WTO
	……

根据材料并结合世界现代史的相关知识，围绕“冷战后的世界局势”自拟一个论题，并就所拟论题进行简要论述。（要求：观点明确，史实准确，论述充分，表达清晰）

15. 阅读材料，完成下列问题。（15分）

材料一



2009年入选“人类非物质文化遗产代表作名录”的中国剪纸艺术

材料二 在本公约中，“非物质文化遗产”是指被各群体、团体、有时为个人视为其文化遗产的各种实践、表演、表现形式、知识和技能及其有关的工具、实物、工艺品和文化场所。各个群体和团体随着其所处环境、与自然界的相互关系和历史条件的变化不断使这种代代相传的非物质文化遗产得到创新，同时使他们自己具有一种认同感和历史感，从而促进了文化的多样性和人类的创造力。

——节选自《保护非物质文化遗产公约》（2003年联合国教科文组织通过）

材料三 文化在不同的时代和不同的地方具有各种不同的表现形式。这种多样性的具体表现是构成人类的各群体和各社会的特性所具有的独特性和多样化。文化多样性是交流、革新和创作的源泉，对人类来讲就像生物多样性对维持生物平衡那样必不可少。从这个意义上讲，文化多样性是人类共同遗产，应当从当代人和子孙后代的利益考虑予以承认和肯定。

——《世界文化多样性宣言》（2001年联合国教科文组织通过）第1条

- （1）根据材料一、二并结合所学知识归纳“非物质文化遗产”的特点。（8分）
- （2）根据上述材料并结合所学知识说明维护文化多样性的意义。（7分）

## 关于我们

自主选拔在线是致力于提供新高考生涯规划、强基计划、综合评价、三位一体、学科竞赛等政策资讯的升学服务平台。总部坐落于北京，旗下拥有网站（[网址: www.zizzs.com](http://www.zizzs.com)）和微信公众平台等媒体矩阵，用户群体涵盖全国90%以上的重点中学师生及家长，在全国新高考、自主选拔领域首屈一指。

如需第一时间获取相关资讯及备考指南，请关注**自主选拔在线**官方微信号：**zizzsw**。



 微信搜一搜

 自主选拔在线