

# 赣州市 2023 年高三年级摸底考试

## 文科综合能力测试

2023 年 3 月

本试卷分第 I 卷（选择题）和第 II 卷（非选择题）两部分。第 I 卷 1 至 8 页，第 II 卷 9 至 16 页，共 300 分。

考生注意：

1. 答题前，考生务必将自己的姓名、学生代码等填写在答题卡上。
2. 第 I 卷每小题选出答案后，用 2B 铅笔把答题卡上对应题目的答案标号涂黑。如需改动，用橡皮擦干净后，再选涂其他答案标号。第 II 卷用黑色墨水签字笔在答题卡上书写作答，在试题卷上作答，答案无效。
3. 考试结束，监考员将试题卷、答题卡一并交回。

### 第 I 卷

本卷共 35 小题，每小题 4 分，共 140 分。在每小题给出的四个选项中，只有一项是符合题目要求的。

兴泉铁路（江西省兴国县到福建省泉州市）设计最高时速 160 公里，2022 年 12 月底建成通车，结束了宁化等 8 个县不通铁路的历史，是开发沿线国土资源和服务革命老区为主的区域客货运铁路。图 1 为兴泉铁路线路走向示意图。据图文回答 1~3 题。

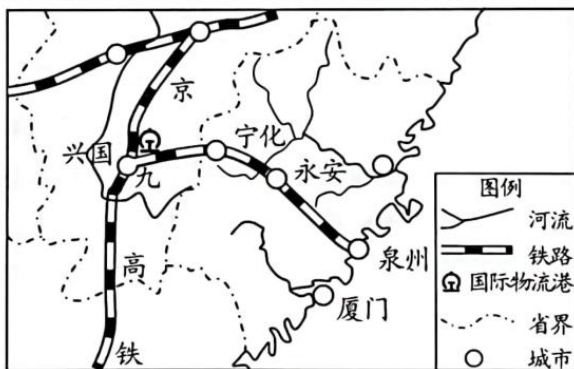


图 1

1. 兴泉铁路设计时速较京九高铁低的主要原因是
  - A. 确保铁路运营安全
  - B. 缺少高铁建设资金
  - C. 沿线地区客流量少
  - D. 便于欣赏沿途风景
2. 兴泉铁路建成通车后
  - A. 沿线城市功能分区更为明显
  - B. 直接扩大厦门港的腹地范围
  - C. 促进宁化县域产业升级转移
  - D. 缓解福建沿海地区能源需求
3. 兴国县规划建设赣闽国际物流港，将促进当地
  - A. 承接服务外包产业
  - B. 发展出口加工产业
  - C. 建立科技研发中心
  - D. 乡村产业“空心化”

储能电站主要配建在发电侧、电网侧和用电侧。为提高综合效益，江苏某企业在厂区建设了大容量“用电侧”储能电站，在用电负荷低谷时段充电，用电负荷高峰时段放电。图2为储能电站系统削峰填谷、调节内电网负荷曲线示意图。据图文回答4~5题。

4. 该企业的主营业务最可能是
- A. 服装制造      B. 家具生产  
C. 半导体封装    D. 金属冶炼
5. “用电侧”储能电站能根据电力需求调节内电网负荷，其主要作用是
- A. 增加厂区电能供应  
B. 降低长期用电成本  
C. 保证厂区内电网的稳定  
D. 延缓新建输电设备扩容

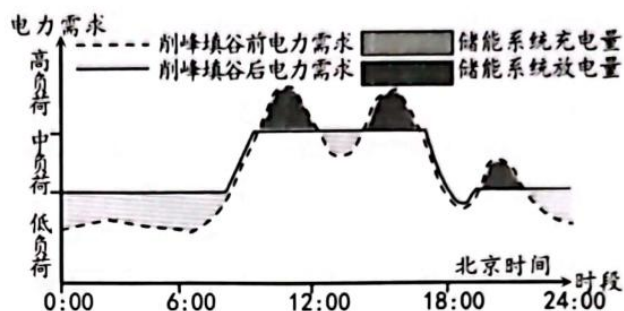


图2

在中国东北季节性冻土区，黑土耕作层在冻结融化期土壤含水量与冻融程度、表面蒸发、水热运动、降水及土层土质等因素相关。图3为东北某阳坡耕地黑土耕作层某年3月20日土壤含水量日变化图。据图文回答6~8题。

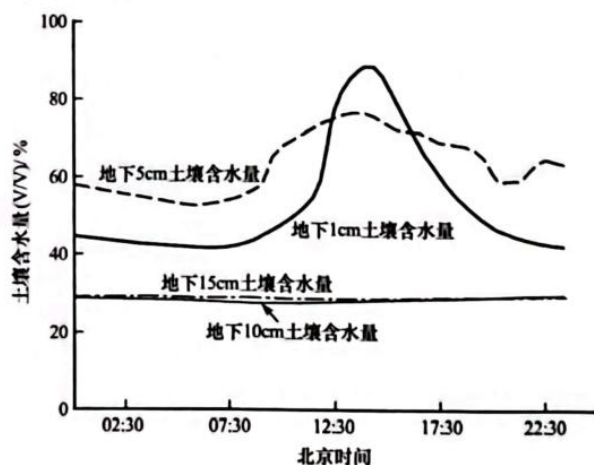


图3

6. 该日，影响地下10cm与地下15cm土壤含水量几乎无变化的主要因素是
- A. 蒸发      B. 降水      C. 孔隙      D. 温度
7. 北京时间14:00前后，地下1cm土壤含水量高于地下5cm土壤含水量的原因是
- A. 冰雪融化，水量增加，地表水顺流至表层  
B. 气温升高，蒸发加剧，地下水上升至表层  
C. 气温升高，底层冻土融化，表层土壤水下渗  
D. 短时降水、降水量小被表层土壤吸收未下渗
8. 近年来，该地春季气温回升速度加快可能造成早春时节
- A. 出现严重干旱      B. 冬小麦遭受冻害  
C. 土壤侵蚀加重      D. 土壤出现盐碱化



山地垂直自然带幅高度一般不超过 1000m,但秦岭中部太白山南北坡形成了从海拔 500m 向上到海拔 2800m 的超级自然带,是目前世界上发现的带幅最宽、结构最复杂的山地自然带。其内部又可以分为 3 层结构,由下往上分别为基带、典型垂直带和先锋群落带。据此完成 9~11 题。

9. 推测该超级自然带的树种主要为

- A. 常绿阔叶林      B. 落叶阔叶林      C. 针叶林      D. 灌丛

10. 该地超级自然带形成的主要原因是

- A. 南北过渡      B. 东西演替      C. 降水丰富      D. 热量充足

11. 与基带和典型垂直带相比,先锋群落带的树种具有的鲜明特点是

- A. 耐寒      B. 耐旱      C. 抗风      D. 耐强光

12. 采购经理指数 (PMI), 是反映当期全行业 (制造业和非制造业) 产出变化情况的综合指数。图 4 是国家统计局 2023 年 1 月发布的中国制造业采购经理指数 (PMI) 图, 要让 2023 年上半年中国 PMI 指数维持在 50% 以上运行, 下列措施正确的有

制造业 PMI 指数 (经季节调整)

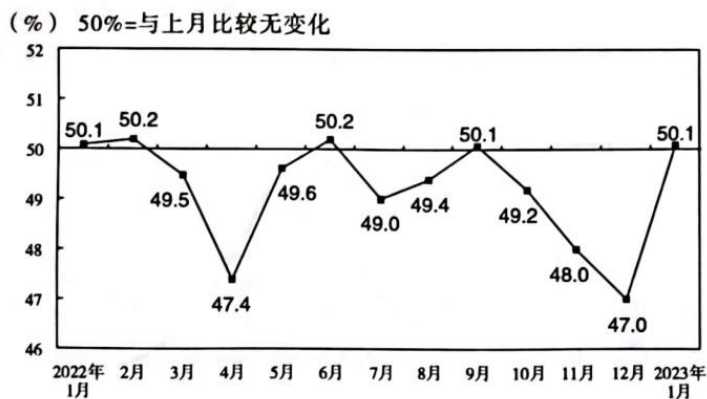


图 4

注: PMI 高于 50% 时, 反映经济总体较上月扩张; 低于 50%, 则反映经济总体较上月收缩。

- ①精准有效实施积极的财政政策, 延续留抵退税政策  
②在节假日期间发放消费券, 提高社会总体消费水平  
③从制度和法律上平等对待国企民企, 提升民企地位  
④降低存款准备金率, 缓解企业融资困难, 激发活力

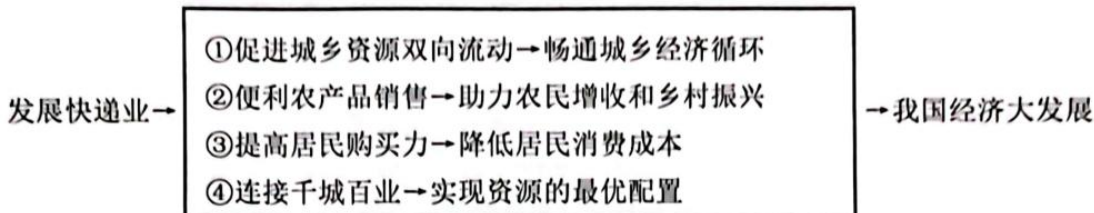
- A. ①③      B. ①④      C. ②③      D. ②④

13. 2022 年 11 月, 由 L 省政府部门指导、商业保险公司承保的“惠辽保”上线, L 省基本医疗保险在保状态的参保人均可参保。“惠辽保”每人每年保费 129 元, 实现了医保目录内外全覆盖, 不限年龄、户口、病史, 旨在减轻参保人因患大病重疾导致高额医疗费用的经济负担。该省人民群众积极预约投保。该保险

- ①有利于提高 L 省的社保水平, 有效减轻人民群众重特大疾病经济负担  
②与基本医疗保险有效衔接, 有利于促进 L 省多层次医疗保障体系发展  
③虽然投保成本较低, 但投保人数众多, 确保了保险公司的盈利水平  
④体现以人民为中心的发展思想, 能增强人民群众的获得感和安全感

- A. ①②      B. ①③      C. ②④      D. ③④

14. 截至 12 月 1 日, 2022 年我国快递业务量突破 1000 亿件, 其中日均有 1 亿件在农村地区进出。通过快递这张大网, 越来越多的农特产品连接全国大市场, 越来越多的工业品入乡进村。当前, 全国建制村快递服务覆盖率已达 90%, 未来“快递+现代农业”的成效将不断显现。小快递能推动大发展, 其正确传导路径是




- A. ①②                      B. ①③                      C. ②④                      D. ③④
15. 十年来, 国家气象工作者攻克了一系列“卡脖子”技术难题, 基本建成拥有自主知识产权的地球系统数值预报模式, 为我国精细化、无缝隙的现代气象预报预测业务铸成“中国芯”。我国气象部门将不断提升“全球监测、全球预报、全球服务”能力, 以更加开放的姿态拥抱世界、以更有创造性的科技成果贡献世界。该模式的成功研制
- ①有利于推动气象领域的国际合作, 带动相关产业“走出去”  
②提高了我国自主创新能力, 使科技成为引领发展的第一动力  
③发挥政府创新主体的作用, 有利于保障我国气象领域的独立  
④突破了气象核心技术瓶颈, 促进我国气象核心竞争力的提高
- A. ①②                      B. ①④                      C. ②③                      D. ③④
16. 截至 2022 年 12 月 23 日, 我国 8 个民主党派全国代表大会圆满结束。在中共二十大精神的指引下, 各民主党派牢记合作初心、凝聚奋进共识, 把多党合作事业继续推向前进, 巩固和发展最广泛的爱国统一战线, 汇聚致力民族复兴的强大合力。由此可见, 各民主党派
- ①自觉接受中国共产党的思想领导      ②是推进民族伟大复兴的重要力量  
③是最为广泛的爱国统一战线组织      ④与中国共产党是通力合作的友党
- A. ①③                      B. ①④                      C. ②③                      D. ②④
17. 2022 年 5 月 8 日, 李家超高票当选香港特别行政区第六任行政长官, 香港特区政府将选举结果报请中央人民政府任命。专家表示, 作为香港新选制下第一次特首选举, 此次选举产生了符合“爱国者治港”标准的贤能人选, 将成为香港治理和发展过程中一个新起点。此次新选制下的特首选举
- ①符合香港的实际情况, 保证了香港的民族自治权  
②实现了爱国者治港, 保障了港人当家作主的权利  
③贯彻民主集中制, 正确处理了人大与香港政府关系  
④符合“一国两制”方针, 有利于保障香港长治久安
- A. ①②                      B. ①③                      C. ②④                      D. ③④



18. 全球发展促进中心于 2022 年 11 月 12 日正式成立, 是中方为落实全球发展倡议, 打造统筹资源、协调行动、汇集众智、宣介理念的重要平台。其主要职责包括建立全球发展项目库、举办全球共享发展行动论坛、促进全球发展筹资、建立全球发展数字宣介平台、创建全球发展促进中心网络等。全球发展促进中心的成立
- ①表明促进国际合作与发展是我国外交政策的宗旨
  - ②顺应了经济全球化的趋势, 符合各国的国家利益
  - ③有利于推动更加包容、普惠、更有韧性的全球发展
  - ④表明中国是全球发展事务的利益相关者和坚定力量
- A. ①②                      B. ①④                      C. ②③                      D. ③④
19. 国家典籍博物馆通过举办系列展览, 挖掘典籍中蕴含的爱国主义精神、重民本、求大同等内容, 并与当代的治国理政、道德规范相结合, 着力打造教育课程“典籍课堂”, 通过知识讲授、实地展厅讲解、经典作品汇演等多种授课手段, 传承典籍文化。可见, 国家典籍博物馆举办系列活动意在
- ①发挥教育选择与传递文化等功能, 传承中华优秀传统文化
  - ②推动典籍资源的转化利用, 实现优秀传统文化的当代价值
  - ③全面展示中华民族文化的精髓, 永续中华民族的文化根脉
  - ④以社会效益带动经济效益, 满足人民群众的精神文化需求
- A. ①②                      B. ①③                      C. ②④                      D. ③④
20. 近期, 法治题材剧《狂飙》热播, 电视剧与现实的互文, 是本剧最大的亮点。该剧反映了国家法治方针政策从扫黑除恶专项斗争到扫黑除恶常态化的变化, 还将反面人物的堕落史拍出来警示世人, 提升观众法治素养, 使观众在无形之中成为社会主义法治的忠实崇尚者、自觉遵守者、坚定捍卫者。对此, 下列认识正确的是
- ①文化创新的根本途径是立足于社会实践
  - ②政治决定于文化, 文化促进政治的发展
  - ③文化对人的影响发生于潜移默化的过程之中
  - ④文化创作要弘扬主旋律, 迎合文化市场需要
- A. ①③                      B. ①④                      C. ②③                      D. ②④
21. 我国云南天文台大样本恒星演化研究团组李振威博士与合作者利用最新得到的物质交换稳定性判据, 并结合双星星族演化模型, 成功构造了银河系内双白矮星星族。在此基础上, 他们进一步研究了双白矮星并合对 Ia 型超新星的影响及双白矮星的引力波辐射性质, 为相应观测提供了理论支撑。这说明
- ①创新意识能将观念的存在变为现实的存在      ②意识具有主动创造性, 能把握事物规律
  - ③认识具有无限性, 追求真理是永无止境的      ④科学家通过科学实验, 可以创造出物质
- A. ①②                      B. ①④                      C. ②③                      D. ③④

22. 漫画《身边 VS 孤岛》启示我们

- ①要积极创造条件，促使矛盾向其对立面转化
- ②事物都有利弊两个方面，要树立全面的观点
- ③联系具有多样性，需要全面把握事物的多样联系
- ④认识某一矛盾时，应坚持两点论与重点论相统一



- A. ①②                      B. ①④                      C. ②③                      D. ③④

23. 针对证明材料过多和重复证明等突出问题，在“减证利民”的理念指导下，H市将没有法律法规依据的证明材料全部取消，并以数字化改革为牵引，打破部门之间的信息壁垒，采用数据共享、告知承诺等方式，逐步实现群众在办事过程中，不用自行提交纸质证明材料。H市的此项改革

- ①坚持了群众观点，践行了群众路线
- ②说明上层建筑变革推动经济基础的发展
- ③体现了社会意识反作用于社会存在
- ④坚持了从群众中来，到群众中去的方法

- A. ①②                      B. ①③                      C. ②④                      D. ③④

24. 《管子》提出：“凡立国都，非于大山之下，必于广川之上。高毋近旱而水用足，下毋近水而沟防省。因天材，就地利，故城郭不必中规矩，道路不必中准绳。”材料中体现了中国古代城市规划

- A. 遵循礼制，合理布局
- B. 尊卑有序，等级森严
- C. 顺应自然，天人合一
- D. 依山傍水，因地制宜

25. 2023年1月陕西发布秦兵马俑第三次考古发掘发现，共清理陶俑220余件、陶马16匹、战车4乘、鼓2处、鼓槌1处、漆盾1处、笼箠3处，兵器秘多处、弓弩箭箠多处，发现车马器、兵器、生产工具等共计千余件（组），按照排列密度估计，全部发掘后可出土陶俑、陶马约6000件。对这一考古发掘解释最为合理的是

- A. 初步厘清军阵排列规律
- B. 明确武器的种类与配饰
- C. 清楚了陶俑的制作程序
- D. 展示秦朝军事实力强大

26. 宋代政府打破唐代手工业者、商人等（从事）杂业的人不能与士人为伍的禁令，还规定：“场务（征税机构）不即（及时）检税，若收纳力胜钱过数，各杖一百；留滞三日加一等，罪止徒二年；因而乞取财物，赃重者徒一年。”这反映了宋代

- A. 商品经济高度发达
- B. 扩大科举选官的范围
- C. 重视规范商税征管
- D. 鼓励和保护商业发展



27. 黄宗羲的《明夷待访录·学校》记载：“学校，所以养士也。……天子之所是未必是，天子之所非未必非，天子亦遂不敢自为非是，而公其非是于学校。……是故养士为学校之一事，而学校不仅为养士而设也。”这一主张的积极意义是
- A. 使儒家民本思想发扬光大  
B. 为近代反专制提供思想武器  
C. 为近代人才培养提供借鉴  
D. 学校是决定是非的最高机构
28. 根据下表可知，中国贸易额增长

中国贸易额（含进出口）	事 件
1840-1856年，贸易额从52.4万多英镑增长到近150万英镑。	鸦片战争后，国门洞开，被迫开放通商口岸；列强获得片面最惠国待遇等特权。
1872年，贸易额增长到了近400万英镑	1869年苏伊士运河通航； 1871年丹麦公司在中国境内铺设电报线。
1892-1911年，贸易额再次增长了三倍。	外国在中国资本输出，抢夺铁路修筑权； 受日俄战争的影响，东北开放10多处商埠。

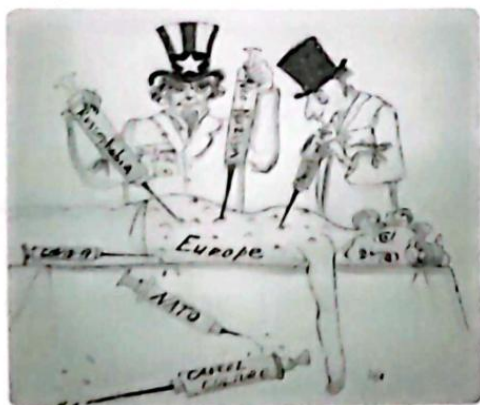
- A. 很大程度上受当时重大事件的影响  
B. 是促进近代中国经济增长的驱动力  
C. 反映了商品结构和贸易对象的变化  
D. 反映西方列强侵略中国的程度加深
29. 五四时期（1915年9月-1921年7月）中国思想界出现了两种危机：一是在新文化运动中，向来为士人安身立命的儒家思想体系崩溃了，人们失去了传统的精神支柱；二是近代以来中国人所向往的西方文明也“破产了”，人们又失去了并未根深蒂固的精神寄托。据此可推断此时的中国
- A. 宣告了西方文明的破产  
B. 马克思主义得到广泛传播  
C. 社会主义各派学说流行  
D. 动摇封建思想的统治地位
30. 下表为陕甘宁边区1939-1944年牲畜饲养数量统计。这些数据表明当时

年份	牛（头）	驴（头）	羊（只）	备注：1944年有骆驼11780头，骡马12万匹，未计入。
1939	150892	124935	1171366	
1940	193238	125054	1723037	
1941	202914	137001	1714205	
1942	209684	169966	1873120	
1943	214683	169404	1923163	
1944	223058	180862	1954756	

- A. 保障了革命根据地军民的生活  
B. 国民经济建设运动的迫切性  
C. 边区为持久抗战提供物质支持  
D. 抗日民族统一战线得到巩固

31. 《人民日报》新年社论的高频词反映当年中国社会发展的主题。1993 年新年社论《团结奋进》中的高频词汇应包括
- A. 重在建设 南方谈话 收入翻番 国内大循环  
B. 国企改革 九二共识 经济体制 邓小平同志  
C. 九二共识 科学发展 股票上市 全方位开放  
D. 实体经济 城乡基层 真抓实干 十四大精神
32. 从克利斯提尼时代开始，雅典发展出一种“公益捐助”制度。城邦最主要的财政开支由富有公民无偿承担，普通公民则免于任何赋税。这些财政开支包括公共节日的活动经费和三层桨战舰的维护费。这一制度
- A. 推动了雅典社会财富再分配  
B. 缓和了平民与富人的阶级对立  
C. 推动了雅典民主政治的形成  
D. 损害了平民的城邦事务发言权
33. 1685 年《南特救世法令》被废除，大批宗教逃难者进入加尔文教控制下的日内瓦，其中有精通银行业务的富有银行家和技术管理人才，为了避免泄露这些逃难者的财务状况，银行家们逐渐建立了保密制度，瑞士银行逐渐成为世界上最安全的银行。这反映出当时
- A. 宗教政策不确定性导致人才和技术转移  
B. 区域性经济发展不平衡引发的虹吸效应  
C. 宗教改革引发人口迁移为他国做嫁衣  
D. 宗教政策助推银行业隐私制度的发展
34. 俄国化学家门捷列夫根据元素的性质进行分类尝试；1869 年把已发现的 63 个元素用拉丁字母表示法寻找规律，最终把元素固定到所在的位置；1871 年系统地提出了元素周期律体系，并预言了 3 种未知元素。据此可知，他在研究和编制元素周期表过程中
- A. 解释自然规律和预见自然现象  
B. 推动自然科学和生产力的发展  
C. 体现精益求精、勇于创新精神  
D. 工业革命助推科学与技术结合
35. 2022 年 3 月 24 日，北约、七国集团、欧盟在比利时首都布鲁塞尔分别举行以扩大对乌克兰援助、应对难民危机、协调对俄罗斯制裁、减少对俄能源依赖等议题的峰会。当天俄罗斯驻法大使馆发布名为《2022 年的欧洲》的漫画。该漫画反映了

L'Europe en 2022.



备注

病人：欧洲。  
医生：美国、欧盟。  
六根针管：新冠、恐俄症、  
北约、文化废除、新纳粹主义、制裁。

- A. 美国想借俄乌冲突牟利  
B. 世界局势紧张与动荡并存  
C. 欧洲盲从美国作茧自缚  
D. 俄罗斯为发动战争找借口



## 第Ⅱ卷

本卷包括必考题和选考题两部分。第36题~第42题为必考题，每个试题考生都必须作答。第43题~第47题为选考题，考生根据要求作答。

(一) 必考题：共135分

36. (24分) 阅读材料，回答下列问题。

材料一

巴塔哥尼亚沿岸海域是阿根廷红虾的拖网捕捞作业区，出产的红虾营养丰富、壳薄肉多、味美鲜嫩，经快速冷冻至 $-20^{\circ}\text{C}$ 以下进行储藏和运输。近几年阿根廷红虾热销全球，逐渐成为政府所依赖的最主要渔业出口导向型产品，中国是其主要市场。图5为阿根廷红虾集中产区分布图。

材料二

位于玛德琳港市的阿特玛公司，拥有多艘携带专属经济区捕捞配额的现代化渔轮，主要从事阿根廷红虾的捕捞、加工出口及内销。2014年中国上海的S远洋渔业集团公司推进“产业外扩，产品回国”的发展战略，全资收购了阿根廷阿特玛公司所有股权及下属的船队、加工厂和冷库，依托S集团营销体系不断增加优质海产品对中国市场的有效供给，并将阿特玛公司建设成“中阿渔业合作示范基地”。

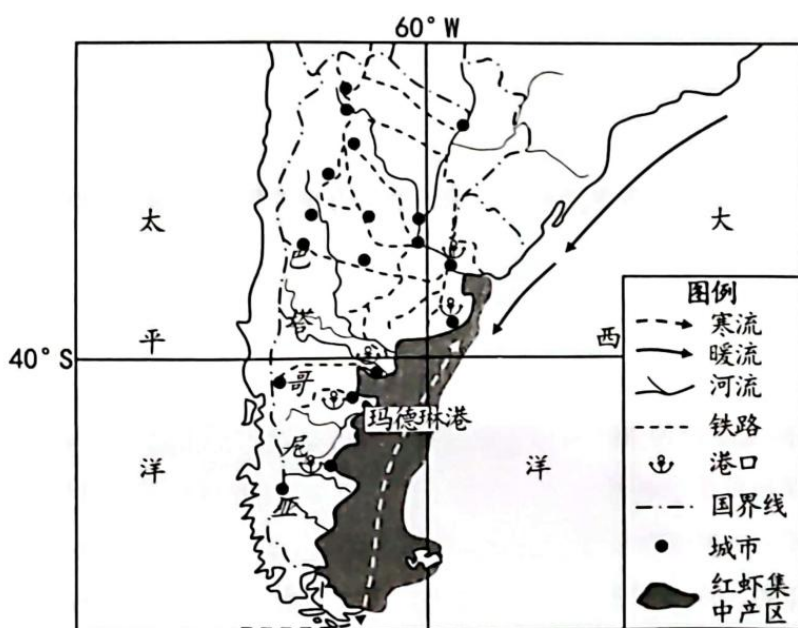


图5

(1) 说明巴塔哥尼亚沿岸海域成为阿根廷红虾集中产区的优势条件。(4分)

(2) 分析红虾成为阿根廷渔业出口导向型产品的原因。(8分)

(3) 推测 S 集团公司推进“产业外扩，产品回国”发展战略的意义。(6分)

(4) 从红虾资源可持续利用角度，谈谈中阿两国可在哪些方面加强合作。(6分)

37. (22分) 阅读材料，回答下列问题。

阿牙克库木湖位于青藏高原北部边缘，是阿尔金山与昆仑山之间的一个大型咸水湖，湖泊面积 960 平方千米。喀沙克力克河和色斯克亚河为湖水的重要补给来源，该湖流域年降水量 100-200mm。有学者研究发现，该区域湖泊面积大小与气温、降水、冰川面积变化等具有极强的关联性。图 6 为阿牙克库木湖 1995-2015 年湖泊面积变化示意图。

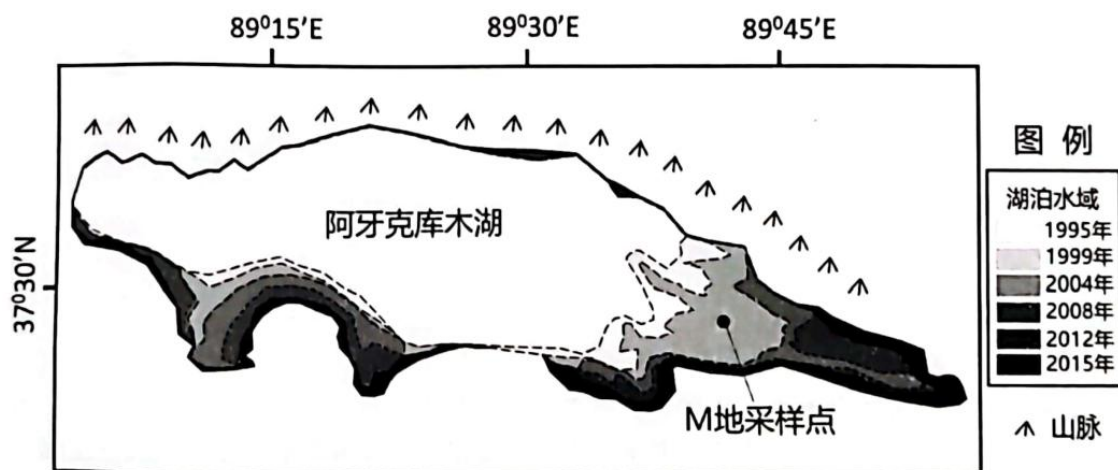


图 6

(1) 指出补给该湖的两条主要河流的入湖口位置并说明原因。(6分)

(2) 推测 1995-2015 年湖泊面积变大的原因，并说明其对该区域冬季气温的影响。(10分)

(3) 说出 M 地采样点 1995-2015 年沉积颗粒物大小垂直变化特征并分析原因。(6分)



38. (14分) 阅读材料, 完成下列要求。

传统商圈分布在老城区, 窄马路、密路网、小街区, 消费者经常为行车与停车犯愁; 很多商圈盲目跟风, 一味追求国际化形象, 引入的国际品牌大同小异, 致使传统商圈吸引力不断降低, 亟需转型纾困。

智慧商圈, 是建立面向消费者、商业企业、政府部门的智慧应用服务体系, 具备数据获取、交通引导、信息推送、移动支付、物流配送、公共服务等功能, 实现业态融合互补、设施智能高效、功能便利完备的商圈。

在广州智慧商圈, 想要停车, 打开小程序即可查看附近的“剩余车位”; 搭建的VR全景地图、智能导购、虚拟试妆镜等智慧应用和新型消费场景, 为消费者提供了便利化服务和科技互动新体验, 推动广州新型消费比例从38%提升至72%, 消费者满意度达94.1%, 商业消费活力迸发。智慧商圈自带商户小程序, 实现商户广告招牌更换、室内装修申报线上办理, 办事“只跑一次”。在做好数据脱敏的前提下, 利用大数据对消费数据、游客画像进行分析评价, 为商家业态调整提供参考, 商户满意度达到92.5%, 商业氛围提档升级。未来, 智慧商圈的效益将辐射全国, 成为激活经济新引擎。

结合材料并运用经济生活知识, 概括传统商圈存在的问题, 并说明传统商圈向智慧商圈转型对激发我国经济活力的积极作用。(14分)

39. (12分) 阅读材料, 完成下列要求。

万物土中生, 有土斯有粮。保护好、利用好黑土耕地, 对于保障国家粮食安全、生态安全具有重要作用。但由于盗挖滥挖、非法买卖、污染黑土等行为屡禁不止, 东北一些地方黑土“变薄、变瘦、变硬”。

国家高度重视黑土地保护, 十三届全国人大常委会第三十五次会议经表决, 通过了《中华人民共和国黑土地保护法》, 并于2022年8月1日正式实施, 这是我国首次对黑土地保护进行立法。

《中华人民共和国黑土地保护法》明确政府职责, 要求四省区(黑龙江省、吉林省、辽宁省、内蒙古自治区)人民政府对本行政区域内的黑土地数量、质量、生态环境负责; 要求县级以上地方人民政府建立有关部门组成的黑土地保护协调机制, 加强协调指导, 明确工作责任, 推动黑土地保护工作落实; 要求有关部门依职责联合开展监督检查, 有关人民政府应当就黑土地保护情况依法接受本级人大监督。

结合材料, 运用政治生活知识, 说明我国首次对黑土地保护进行立法的意义。(12分)

40. (26分) 阅读材料, 完成下列要求。

黄大发, 中共党员, 现任贵州遵义团结村名誉村支书, 荣获“全国劳动模范”“时代楷模”等称号, 2021年6月29日, 被授予“七一勋章”。

“山高石头多, 出门就爬坡, 一年四季包沙饭, 过年才有米汤喝……”这是一个被层峦叠嶂的大山遮得严实的村庄——草王坝村(现团结村), 黄大发就出生于该村。

早在1959年, 为了解决村里的用水难题, 黄大发带领村民在悬崖绝壁上修水渠。经过13年的艰辛施工, 水渠完工了, 终究还是无法把三重山外的螺丝河水引过来。十几年的努力付诸东流, 村里人灰心丧气, 甚至有人说:“草王坝能通水, 我用手掌心煎蛋吃。”但是黄大发不服气, 更不放弃。1992年春天, 他再次带领村民重新开工凿渠, 3年后, 一条总长9400米的“生命渠”通水成功了! 黄大发的梦想终于实现了。习近平总书记充分肯定了黄大发用实干兑现了36年前“水过不去, 拿命来铺”誓言的感人事迹。

随着经济社会的发展, 黄大发意识到交通对带动农村旅游和产业发展的重要性, 在他的建议和推动下, 2022年仁遵高速路这条“幸福路”终于通到了团结村。如今, 通过招商引资建水厂, 带动村民增收成为了黄大发的新梦想。黄大发一心为民, 埋头苦干, 感动了一代又一代人。这种实干精神作为我们党的宝贵精神财富, 值得我们学习并传承下去。

(1) 运用价值判断和价值选择知识, 谈谈你对黄大发“一句誓言 一生作答”之人生选择的认识。(10分)

(2) 弘扬实干精神对坚持社会主义核心价值体系具有重要价值, 运用文化生活知识加以说明。(10分)

(3) 功勋模范的感人事迹和崇高品德是激励我们踔厉奋发、勇毅前行的精神火炬。全国大中小学纷纷开展功勋模范事迹展播活动, 掀起了向榜样学习的热潮。请你针对这一活动, 以“致敬新时代功勋模范·汲取新征程前进力量”为主题, 撰写一篇短评。(6分)

要求: ①围绕主题, 观点明确; ②评论得当, 逻辑清晰; ③学科术语使用规范; ④总字数在150字左右。



41. (25分) 阅读材料, 完成下列要求。

材料一

1618—1648年发生了席卷整个欧洲的三十年战争, 战后缔结的《威斯特伐利亚和约》, 承认和确立了国家主权、主权平等、维护和平、协商解决争执等一系列国际关系中应遵守的准则, 宣告了近代国际法的产生。国际法是和欧洲国家间体系的发展联系在一起, 不适宜美洲大陆上不信奉基督教的民族或亚非国家。随着西欧国家向全球扩张势力, 主权(民族)国家的概念开始传播至全世界, 与西欧界定之主权(民族)国家要素不一致者皆可兼并之、占有之, 列为殖民地。

——摘编自普纳《改变中国的国际定位观: 晚清时期国际法引进的意义》等

材料二

国际法正式系统地被介绍到中国是19世纪60年代。1863年, 同文馆总教习美国传教士丁韪良将惠顿的《国际法》翻译为《万国公法》。该译著的出版, 得到了洋务派奕訢的大力资助。总理衙门曾将此书分发到沿海各重要通商口岸作为对外交涉的依据。甲午战争后, 清政府扶持大批学生去日本留学。中国学生在此期间接触到了大量的日本文化及政治动态, 其中也包括国际法的学习和国际关系的研究。他们把国际法当作一种救世工具, 将一些国际法著作翻译、介绍到中国。从1902年到1911年, 共有几十种日本留学生编译的国际法著作出现, 对国际法知识在中国的普及有重要意义。

——摘编自董临瑞《从〈南京条约〉看晚清时期国际法在中国的运用》

- (1) 根据材料一并结合所学知识, 概括近代国际法的主要特征, 并分析其意义。(12分)
  
  
  
  
  
  
  
  
  
  
- (2) 根据材料二并结合所学知识, 指出晚清时期国际法在中国传播的变化, 并分析其原因。(8分)
  
  
  
  
  
  
  
  
  
  
- (3) 根据上述材料并结合所学知识, 简要说明当今中国如何用好国际法应对大变局。(5分)

42. (12分) 阅读材料, 回答下列问题。

材料

大一统的秦汉帝国体制, 从建立、稳固到衰落, 中经六朝动荡分裂, 最后重归一统, 形成隋唐帝国, 构成中国历史上第一个完整而典型的循环。关于汉唐相似性的考察, 进一步确认了“朝代循环”现象的客观存在。汉唐之前的秦隋, 在结束长期分裂建立统一王朝后, 均二世而亡, 西汉建立后, 亦经过高祖灭异姓诸侯王, 吕氏之乱, 景帝平同姓诸侯王之乱的严峻考验后才稳定下来。唐朝在高宗时亦遭遇皇后专权及武周代唐的考验。不仅仅秦汉隋唐, 中国历代王朝在开国皇帝之后的第二第三代皇帝统治时, 大抵王朝建立后三四十年左右, 会出现一次政治危机, 或称之为“瓶颈危机”。汉唐历史进程中的相似性和重复性, 又有内在的连续, 更有显著的差异。其断续异同之间, 在不少方面透露出秦汉隋唐间乃至整个帝制时代历史演进的特点及规律。

——摘编自牟发松《汉唐异同论》

根据上述材料并结合所学知识, 提取一个观点, 并加以阐述。(要求: 写出观点, 观点明确, 史论结合。)

(二) 选考题: 共 25 分。请考生从 2 道地理题、3 道历史题中每科任选一题作答。如果多做, 则按每科所做的第一题计分。

43. (10分) 【地理——选修 3: 旅游地理】

“一首歌唱火一座城”, 那些带有地域特色的歌曲, 因朗朗上口的旋律迅速风靡抖音、音乐榜等全网络, 创造了超百亿播放量, 也让歌曲关联地窜上热搜, 吸引了大波游客前往打卡体验, 成为享誉全国的网红旅游目的地。

请为网红旅游目的地持久“保鲜”出谋划策。

44. (10分) 【地理——选修 6: 环境保护】

从 2022 年 3 月开始, 重庆交通大学“沙漠土壤化”团队师生们在涪陵市通过技术手段将矿区堆放的无重金属污染矿渣进行土壤化实验, 在改良后的土壤中种植榨菜、萝卜、狼尾草等农作物, 长势良好。

说出该项技术的应用给矿区带来的环境效益。



45. (15分)【历史——选修1：历史上重大改革回眸】

材料

新中国成立之初，国民经济濒临崩溃，灾民、贫民、无依无靠的孤老残幼等城乡贫困人口众多。党和政府及时开展临时性、应急性救助，妥善解决了历史遗留问题。社会救济制度按照“生产自救、节约度荒、群众互助、以工代赈、辅之以政府必要的救济”的基本方针进行救助。1951年，对于企业职工，财务部颁布《劳保条例》规定，保险经费来源为企业，职工无需缴纳保险金，保险的管理单位为工会。对于国家机关和事业单位等国家工作人员实行供给制，由国家定额和统包统配，不实行《劳保条例》。1954年《中华人民共和国宪法》中规定，中华人民共和国劳动者在年老、疾病或者丧失劳动能力的时候，有获得物质帮助的权利。国家举办社会保险、社会救济和群众卫生事业，并且逐步扩大这些设施，以保证劳动者享受这种权利。此后，城市的就业单位和农村生产大队承担了主要的社会保障功能，国家和集体对“五保户”、孤残人员等特殊困难群体进行救济。

——摘编自《建国以来重要文献选编》等

(1)根据材料并结合所学知识，指出新中国初期实行社会保障制度的背景。(6分)

(2)根据材料并结合所学知识，概括新中国初期我国社会保障制度的特点。(9分)

46. (15分)【历史——选修3：20世纪的战争与和平】

材料

1941年德军发动了巴巴罗萨计划，闪击苏联。德军的三个集团军先后进攻苏联的边境，苏德战争就此爆发。由于苏联事先并没有做好充分准备，面对德军的步步紧逼，导致苏联大片的国土陷入敌手。随后爆发了基辅战役，这场战役后来也被称为历史上最大的包围战。在这场战斗之中，苏军阵亡的将士高达15万人，同时德军占领基辅也付出了十多万人死亡的代价。事前朱可夫曾建议斯大林放弃基辅，将在那里驻守的西南方面军撤退，然后全力保卫莫斯科，但正确的提议遭到了拒绝，这样反而为德军消灭苏军的有生力量埋下了伏笔。在后来的战役中，在德军猛烈进攻下，很快就围困了基辅，随着苏军被切断与外国的联系，最后不得不投降，苏军近65万人投降德军。

——摘编自《基辅包围战》

(1)根据材料并结合所学知识，分析苏联在基辅包围战中失败的原因。(6分)

(2)根据材料并结合所学知识，分析基辅战役的影响。(9分)

47. (15分)【历史——选修4：中外历史人物评说】

材料

张自忠(1891—1940)，抗日名将，民族英雄，字基忱，山东临清人。1911年加入同盟会，1914年投笔从戎，军职集团军总司令。戎马三十余载，竭尽微忱。自抗战事起，命运起落无常。曾被污为汉奸，备受责难。抱定“只求一死”之决心，一战于肥水，再战于临沂，三战于徐州，四战于随枣宜，终换得马革裹尸还，以集团军总司令之位殉国。以一生之践行，换得了名中的一“忠”字。

1940年5月，张自忠在宣城壮烈牺牲，生前写下了鼓舞士气的抗战家书：“为国家民族死之决心，海不清，石不烂，决不半点改变。”周恩来曾亲自写下文章称赞张自忠“其忠义之志，壮烈之气，直可以为中国抗战军人之魂”。朱德、彭德怀给张自忠题写挽联。

他是中国抗日战争中、也是二战反法西斯阵营中所有牺牲军人中军衔最高之人。张自忠不愧为“抗战军人之魂”！1982年被追认为革命烈士。随后，北京、天津、上海、武汉均恢复设立张自忠路。2009年，新中国成立六十周年之际张自忠被选为“新中国百位英雄模范人物”。

——摘编自《上将张自忠》

(1)根据材料并结合所学知识，分别指出徐州会战、枣宜会战的背景。(8分)

(2)根据材料并结合所学知识，指出张自忠被追认为革命烈士的原因。(7分)



## 关于我们

自主选拔在线是致力于提供新高考生涯规划、强基计划、综合评价、三位一体、学科竞赛等政策资讯的升学服务平台。总部坐落于北京，旗下拥有网站(网址：[www.zizzs.com](http://www.zizzs.com))和微信公众平台等媒体矩阵，用户群体涵盖全国90%以上的重点中学师生及家长，在全国新高考、自主选拔领域首屈一指。

如需第一时间获取相关资讯及备考指南，请关注**自主选拔在线**官方微信号：[zizzsw](https://www.zizzs.com)。





 微信搜一搜

 自主选拔在线

