

机密 ★ 启用前

湖湘教育三新探索协作体 2021 年 11 月期中联考试卷

高三历史

班级：_____ 姓名：_____ 准考证号：_____

(本试卷共6页，全卷满分100分，考试用时75分钟)

注意事项：

1. 答题前，先将自己的姓名、准考证号写在试题卷和答题卡上，并将准考证条形码粘贴在答题卡上的指定位置。
2. 选择题的作答：每小题选出答案后，用 2B 铅笔把答题卡上相应题目的答案标号涂黑。写在试题卷、草稿纸和答题卡上的非答题区域均无效。
3. 非选择题的作答：用签字笔直接答在答题卡上对应的答题区域内，写在试题卷、草稿纸和答题卡上的非答题区域均无效。
4. 考试结束后，将本试题卷和答题卡一并上交。

一、选择题：本题共 16 小题，每小题 3 分，共 48 分。在每小题给出的四个选项中，只有一项是符合题目要求的。

1. 周王不是不想集中权力，而是条件不允许。说到底，是钱的问题，周王没有通过编户齐民直接控制税收的体制，也不大可能有后世的俸禄制度。据此可以得出的结论是
 - A. 贵族制度建构于编户齐民体制之上
 - B. 政治制度的变革依托经济的发展
 - C. 权力集中的根本在于实行俸禄制度
 - D. 封邦建国造成西周诸侯分裂割据
2. “告身”为封建社会朝廷颁发给官员的身份证明，是官员“赋役优免、子孙恩荫、永业田申请”的凭证。唐朝告身的颁发程序，是中书省奉皇帝旨意写好任命词，经门下省审查和皇帝盖章后，将御批原本存档，另抄副本送尚书省办理正式手续。根据材料可知



唐朝《朱巨川告身》局部

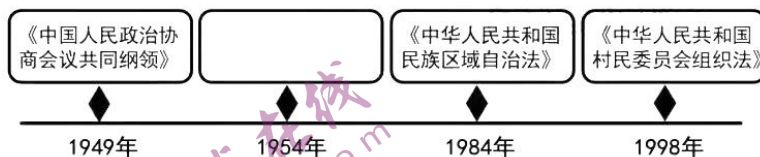
- A. 唐朝最早出现告身制度
 - B. 楷书为古代公文书写的主要形式
 - C. 告身仅为官员授官凭证
 - D. 告身颁发程序体现权力运行机制
3. 宋代，专供城区蔬菜的蔬圃大量出现，京城地区的蔬圃多为皇室和贵族私产。《续资治通鉴长编》记载：（宋真宗时）宜春郡主高氏言，蒙恩赐城西蔬圃，望蠲（免除）其常租。上曰：“租税所以备军须，免之，则后援例者众。”不许。据此可以推断出宋朝
 - A. 市民阶层壮大
 - B. 市坊界限打破
 - C. 中央集权削弱
 - D. 国家积贫积弱
 4. 明朝中后期松江出现了“当窗织，急生计，口食相关殆非细。御上有田岁不熟，日资一匹聊治济。”的现象。材料反映松江地区
 - A. 小农经济逐渐凋敝
 - B. 手工业日益市场化
 - C. 资本主义萌芽出现
 - D. 商品经济高度发达

历史试题卷 第 1 页（共 6 页）

5. 有人认为，太平军匆忙建都给予清廷喘气的机会，所以他们应该在攻克南京后，乘胜北进，直取北京。关于这一点，胡绳同志分析：“如果以为太平军要是全力北伐打下北京就能取得完全的胜利，这是把问题看得太简单了。”对胡绳的分析理解正确的是
- A. 北伐是决定太平军取胜的关键 B. 定都天京导致太平军失败
C. 清政府趁机解除太平军的威胁 D. 应当肯定太平军定都天京
6. 1899年，湖北官钱局向日本官方印刷局订印钞票。湖广总督张之洞发布通告：“本部堂、院念市面之艰，特饬在日本铸造银元票……以补银元之不足。……与官钱票相辅而行，按照银元市价，折合银钱，准其完纳丁漕、关税、盐课、厘金、土税、膏捐等一切捐款各官项。”张之洞的行为
- A. 一定程度上加剧清政府的财政危机 B. 引起了国内市场混乱局面
C. 客观上有利于民族资本主义的发展 D. 便利了日本对华资本输出
7. 下表为江南制造总局职役平均日工资统计表，据此可推知

职役	平均日工资(银元)	折合中等米(市斤)
洋匠	11.43	357.28
总办、提调、委员	1.773	55.41
司事	0.886	27.69
匠目	1.746	54.56
工匠	0.652	20.38
幼童	0.207	6.47
小工	0.166	5.17

- A. 外国工匠操控了洋务企业的经营活动
B. 江南制造局在生产上依赖于西方技术
C. 早期近代化企业殖民地化的色彩浓厚
D. 洋务军事工业照搬西方先进生产关系
8. 1912年8月13日，革命党创办的《民权画报》刊发了一则漫画《环游地球》，表达作者对当时政治形势的观察和讽刺。漫画中一只猿猴手挥五色旗，在地球上绕圈子跑动。这幅作品
- A. 揭露袁世凯专制独裁的企图
B. 表达国人重建专制政体的愿望
C. 赞扬孙中山传播共和的努力
D. 讽刺列强企图瓜分世界的野心
9. 制作年代尺是学习历史的重要方法。对下面年代尺空白处相关史实描述正确的是



- A. 规定新中国是新民主主义国家 B. 是我国第一部宪法性文件
C. 体现人民民主和社会主义原则 D. 推进了农村民主制度建设
10. 1956年12月，毛泽东提出要搞“新经济政策”。他说：“地下工厂因为社会需要就发展起来了。要使它成为地上的，合法化的，可以雇工。现在合作工厂做衣服要三个月，袖子一长一短，扣子没有眼，质量差。最好开私营工厂，同地上作对，还可以开夫妻店，请工也可以。这叫作新经济政策。”毛泽东提出“新经济政策”意在
- A. 促进国民经济的恢复 B. 建立社会主义市场经济体制
C. 构建社会主义经济体系 D. 探索社会主义建设新模式

11. 中共十八大以来,我国在外交领域呈现出“介”字型布局。“撇”指“丝绸之路经济带”,“捺”指“21世纪海上丝绸之路”,两“竖”分别指“中国、巴基斯坦经济走廊”和“中国、印度、缅甸、孟加拉国经济走廊”。这反映出当代我国外交
- A. 凸显“一边倒”的方针
B. 调整不结盟政策
C. 与政府工作重心相适应
D. 积极谋求霸主地位
12. 斯塔夫里阿诺斯在《全球通史》中说:“希腊到处是交叉重叠的山脉,而意大利却只有一条南北走向、中间没有横断山脉、不难翻越的亚平宁山脉。”这可以用来证明
- A. 罗马能够征服和统一半岛的原因
B. 希腊的地形比罗马优越
C. 罗马疆域由欧洲逐渐扩张到世界
D. 雅典城邦走向衰落的根源
13. 美国 1787 年宪法规定:合众国的参议院由每州的州议会选举两名参议员组成,每名参议员有一票表决权。《德意志帝国宪法》规定:联邦议会由联邦成员代表组成,其票权分配是普鲁士、汉诺威等 17 票,巴伐利亚 6 票,萨克森 4 票,巴登 3 票……导致两国上院代表人数组成特点不同的主要因素是
- A. 经济水平
B. 现实政治
C. 政体属性
D. 历史传统

14. 三角贸易是指一个牵扯到三个区域或港口的贸易名词。根据下图判断

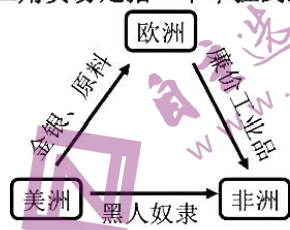


图 1

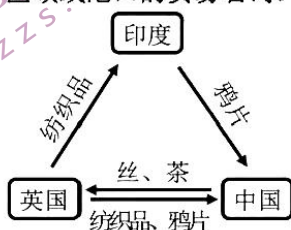


图 2



图 3

- A. 图 1 推动了世界市场雏形的出现
B. 图 2 标志英国成为“日不落帝国”
C. 图 3 有利于美洲资本主义的发展
D. 三者都体现西方资本主义扩张性
15. 以下四项表述可以从史实直接推断出结论的是

	史实	结论
A	19 世纪初,圣西门、傅立叶、欧文抨击资本主义的种种弊端,提出空想社会主义	工人阶级已经觉醒
B	1848 年,马克思、恩格斯批判继承前人理论成果,总结工人运动的经验,发表《共产党宣言》	马克思主义成为无产阶级斗争的科学理论指导
C	1871 年,巴黎公社成立后,没收逃亡资本家的工厂,交给工人合作社管理	巴黎公社是无产阶级专政的伟大尝试
D	1917 年,苏维埃代表大会通过《土地法令》,没收地主的土地	苏俄实行农民土地所有制

16. 联合国五大常任理事国有“一票否决权”。在联合国成立的前十年中,苏联曾因频繁动用否决权而被西方国家谑称为“Mr.No”。截至 2019 年底,美国、苏联及俄罗斯、英国、法国和中国在公开会议中分别动用过 81、133(其中苏联 110 次)、34、20、14 次否决权。据此可知
- A. 苏联频繁使用否决权带有“冷战”思维
B. 否决权的使用次数与国家实力相背离
C. “一票否决权”体现了公平正义的原则
D. “一票否决权”主导联合国的决议

二、非选择题:共 52 分。

17. 图 4、图 5 分别为宋元、明清时期的经济分布图。阅读材料,回答问题。(14 分)

历史试题卷 第 3 页(共 6 页)

材料

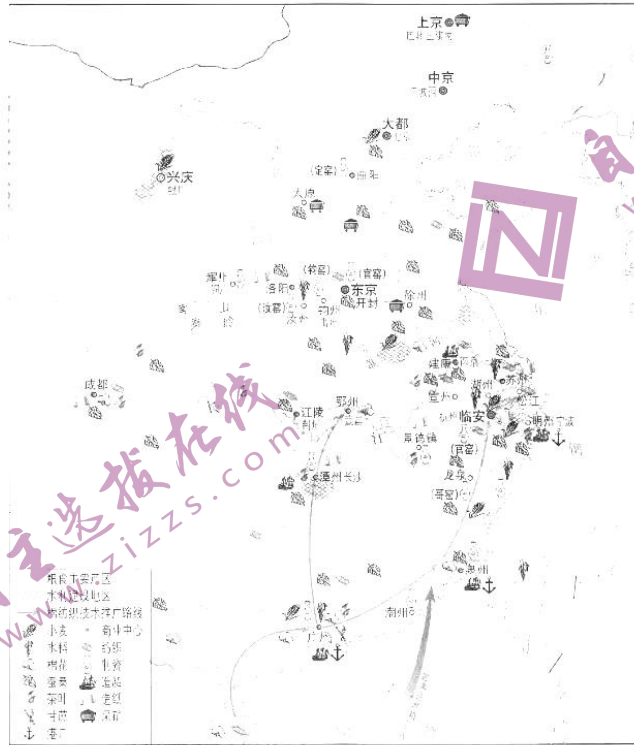


图4 宋元经济分布图

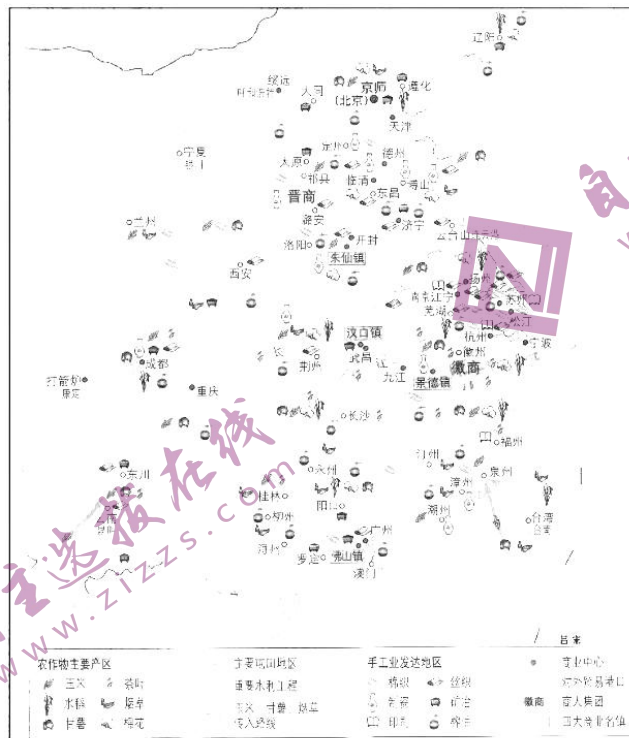


图5 明清经济分布图

历史试题卷 第4页 (共6页)

请回答：

- (1) 根据材料并结合所学知识，指出宋元经济和明清经济的发展变化。（8分）
- (2) 根据材料并结合所学知识，分析明清经济发展变化的原因。（6分）

18. 1950年11月，中国人民志愿军为诱敌深入，将联合国军引至朝鲜纵深的长津湖地区，对敌军构成包围态势，中国志愿军第9兵团与美国第10军团在接近零下40摄氏度的气温下展开激烈较量。阅读材料，回答问题。（16分）

材料一

长津湖战役中的伤亡情况

	参战人数	战斗减员	非战斗减员 (冻伤亡)	伤亡比例
美国第10军团	约100000人	10505人	7338人	18%
中国志愿军第9兵团	约150000人	21300人	28954人	33%

——根据张枫《长津湖战役再审视》整理

材料二

美军是清一色的自动武器，大中小口径火炮齐全；步兵、炮兵、装甲兵、工程兵兵种建制齐全；三军立体作战建制整齐；食物全部是铁制罐头食品；居住条件均为野战帐篷，每人配发一个鸭绒睡袋。

——根据宋时轮（时任志愿军第三副司令员）秘书的口述整理

材料三

志愿军总部向9兵团发出贺电：“你们在冰天雪地、粮弹运输极端困难情况下，与敌苦战一月有余，终于熬过困难，打败了美国侵略军陆战1师及第7师，收复了许多重要城镇，取得了很大胜利。

美陆战1师也把长津湖作战视为其骄傲的资本，美国军方为长津湖作战共颁发了17枚荣誉勋章、70枚海军十字勋章，是美军战史上为一次作战颁发勋章最多的一次。英国人麦克斯·哈斯丁评论：“（美）陆战队员的表现是英勇的。他们从长津湖成建制的退出来，基本上保留了他们所有的重型装备。”

——佳音《中美军人的各自亲历》

请回答：

- (1) 辨析上述材料，概括能够认定的基本史实。（8分）
- (2) 关于抗美援朝战争的意义，众多专家指出，它是新中国的“立国之战”。依据材料并结合所学知识，谈谈你对该观点的理解。（8分）

19. 历史事件之间往往充满着联系。阅读材料，回答问题。（12分）

材料

18—19 世纪部分中外历史事件简表

序号	时间（年）	历史事件
①	1785	瓦特改良蒸汽机投入使用
②	1789	法国大革命爆发
③	1832	英国议会改革
④	1840	英国发动鸦片战争
⑤	1848	马克思、恩格斯发表《共产党宣言》
⑥	1871	《德意志帝国宪法》颁布
⑦	1872	李鸿章创办轮船招商局
⑧	1876	贝尔发明电话
⑨	1894	中日爆发黄海海战
⑩	1895	孙中山领导广州起义

从上表中提取三条相互关联的信息序号，确定一个主题，对所选的主题做出历史解释。（要求：自拟标题，史论结合，逻辑严密，表述通畅。）

20. [选修1：历史上重大改革回眸] 阅读材料，完成下列要求。（10分）

材料

在融入世界经济与贸易的过程中，知识产权法律的现代化是基本要求。洪仁玕著《资政新篇》便提出兴专利之利。1882年郑观应为其上海机器织布局申请纺织布新技术专利，获光绪帝御批10年专利保护，为近代第一件专利。维新运动中光绪帝所颁布的《振兴工艺给奖章程》，成为我国历史上第一部专利法。

新中国成立后，为配合计划体制，一度忽视知识产权制度，以奖励制度激励科技与文化创新，但收效甚微。1978年改革开放，知识产权制度勃兴。1980年、1985年中国专利局和国家版权局相继成立。1982年《商标法》、1984年《专利法》、1990年《著作权法》等相继出台，同时《著作权法》的制定参照了若干国际惯例，我国也于1980年加入联合国世界知识产权组织，1984年加入了《保护工业产权巴黎公约》。加入世贸组织后，我国实行新一轮高水平对外开放，更需要促进国际国内创新要素有序自由流动发展的知识产权贸易。

——摘编自易继明《国家治理现代化进程中的知识产权体制改革》

请回答：

- （1）根据材料并结合所学知识，概括指出近代中国知识产权制度产生的背景。（4分）
- （2）根据材料并结合所学知识，概括指出改革开放前后两个阶段知识产权制度的变化，并分析发生变化的原因。（6分）