

2023年高三年级模拟考试(二)

文科综合能力测试

(考试时间:上午9:00—11:30)

注意事项:

1. 答题前,考生务必将自己的姓名、考试编号填写在本试卷相应的位置。
2. 全部答案在答题卡上完成,答在本试卷上无效。
3. 回答选择题时,选出每小题答案后,用2B铅笔把答题卡上对应题目的答案标号涂黑。如需改动,用橡皮擦干净后,再选涂其他答案标号。回答非选择题时,将答案用0.5mm黑色笔迹签字笔写在答题卡上。
4. 考试结束后,将本试卷和答题卡一并交回。

一、选择题:共35小题,每小题4分,共140分。在每小题给出的四个选项中,只有一项是符合题目要求的。

生产性服务业指与制造业相配套的第三产业,包括物流、商务、科技、信息、金融等行业。研究表明,近年来广州市生产性服务业与制造业的空间集聚现象日趋明显。行业的属性、发展历史、服务功能特性等是影响其与制造业空间集聚的重要因素。据此完成1~3题。

1. 生产性服务业与制造业集聚是为了节省
 - A. 营销成本
 - B. 原料成本
 - C. 设备成本
 - D. 劳动力成本
2. 广州市生产性服务业与制造业集聚现象最显著的区域可能是
 - A. 城市中心
 - B. 城市近郊
 - C. 城市远郊
 - D. 城中村
3. 与制造业空间集聚程度较低的生产性服务业是
 - A. 金融业
 - B. 科技服务
 - C. 物流业
 - D. 信息服务

文综(二) 第1页(共16页)

内蒙古河套灌区传统的粮食作物为春小麦。近年来,种植向日葵的农户越来越多,春小麦-向日葵复种方式的推广却比较困难。图1示意当地农事时间和土壤表层盐分的变化。据此完成4~5题。

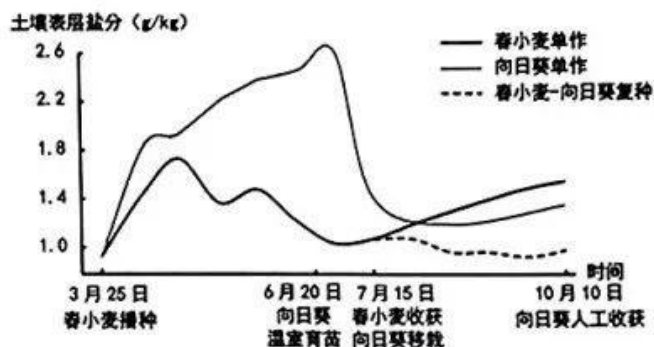


图1

4. 与春小麦单作相比,向日葵单作可以

- A. 提高土地利用率
- B. 减少水资源消耗
- C. 提高土壤肥力
- D. 增加农民收入

5. 当地春小麦-向日葵复种制度推广比较困难的原因是

- A. 破坏生态环境
- B. 农民积极性低
- C. 影响粮食安全
- D. 技术水平落后

祁连山西段某河流一水文观测点的海拔为4192 m,图2示意该观测点在冰雪消融季(5~9月)的降水量与降雪量,图3示意该观测点某年消融季(5~8月)河流径流量的日变化。据此完成6~8题。

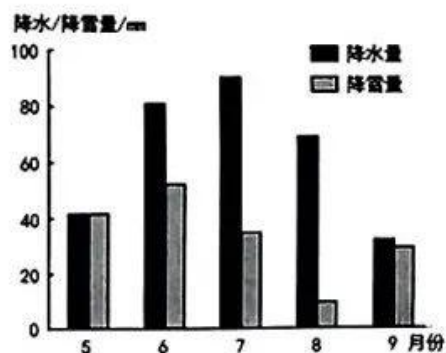


图2

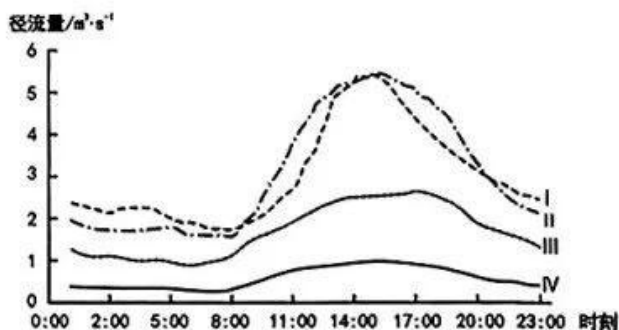


图3

6. 图中曲线 I、II、III、IV 依次代表的月份是
- A. 8、7、5、6
B. 7、8、6、5
C. 5、6、7、8
D. 6、7、8、5
7. 与 I、II 相比, III 月该河日径流量峰值出现的时刻滞后, 其主要原因是
- A. 径流量大
B. 降雨量比重大
C. 积雪阻截
D. 冰面水系发达
8. 9 月份的该河径流日变化状况可能最接近
- A. I
B. II
C. III
D. IV

图 4 示意吉林省东北部某地 2020 年 11 月 19 日 2 时气温垂直变化趋势。此时该地的降水状况为雨夹雪, 19 日 10 时前后转为雪, 地面气温为 -6.3°C , 并继续降低。据此完成 9~11 小题。

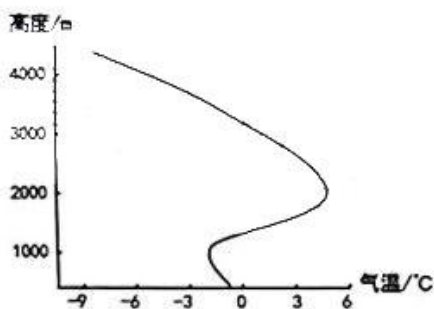


图 4

9. 当地图示时刻放飞的气象气球, 先飘向西南后逐渐转向东北, 是因为
- A. 海陆风转换
B. 对流运动
C. 逆温层影响
D. 锋面过境
10. 该次降水过程的水汽来源于当地的
- A. 东南方向
B. 东北方向
C. 西南方向
D. 西北方向
11. 19 日 10 时后影响该地的天气系统是
- A. 冷高压
B. 低压槽
C. 暖锋
D. 气旋

文综(二) 第3页(共16页)



- 12.《共产党宣言》指出：“随着大工业的发展，资产阶级赖以生产和占有产品的基础本身也就从它的脚下被挖掉了。他首先生产的是它自身的掘墓人。资产阶级的灭亡和无产阶级的胜利同样是不可避免的。”由此得出的正确结论是
- ①资产阶级被推翻的根源在于有掘墓人 ②资本主义灭亡是不可逆转的必然趋势
③阶级斗争是资本主义无法克服的痼疾 ④生产力的发展决定着生产关系的变革
- A. ①③ B. ①④ C. ②③ D. ②④
- 13.“神舟”问天、“嫦娥”揽月、“北斗”指路、“祝融”探火、“羲和”逐日、“天和”遨游星辰、“悟空”“慧眼”探索宇宙奥秘……几代航天人不断谱写中华民族飞天梦想的崭新篇章，持续迈出从航天大国到航天强国的铿锵步伐。我国航天事业成就斐然的主要原因是
- ①航天科技持续进步提升了我国国际地位
②中国共产党的领导提供了根本政治保证
③航天人坚守民族梦想勇于创新接续奋斗
④建设航天强国的理想信念发挥决定作用
- A. ①② B. ①④ C. ②③ D. ③④
14. 2023年3月，政府工作报告指出，我国坚持实施积极的财政政策和稳健的货币政策，积极的财政政策要加力提效助企纾困，稳健的货币政策要精准有力保持流动性合理充裕。下列对我国经济政策发挥作用的传导路径理解正确的是
- ①下调存款准备金率→保持流动性合理充裕→激发市场主体活力
②继续实施税费优惠→降低企业的经营成本→实现居民稳定就业
③调整优化资金流向→优先支持小微企业→落实结构性货币政策
④合理安排专项债券→拉动基本建设投资→推动经济高质量发展
- A. ①③ B. ①④ C. ②③ D. ②④
15. 2022年11月，我国个人养老金制度启动实施。这项制度是政府政策支持、个人自愿参加、市场化运营、实现养老保险补充功能的制度。个人养老金实行个人账户制，缴费完全由个人承担，参加人自主选择购买符合规定的金融产品，按规定享受税收优惠政策。个人养老金制度的实施能够
- ①提高居民的养老规划意识，引导其合理安排资金
②扩大基本养老保险覆盖面，保障老年人合法权益
③健全多层次养老保障体系，弥补养老保险的不足
④有效应对人口老龄化趋势，主导解决养老难问题
- A. ①② B. ①③ C. ②④ D. ③④

文综(二) 第4页(共16页)

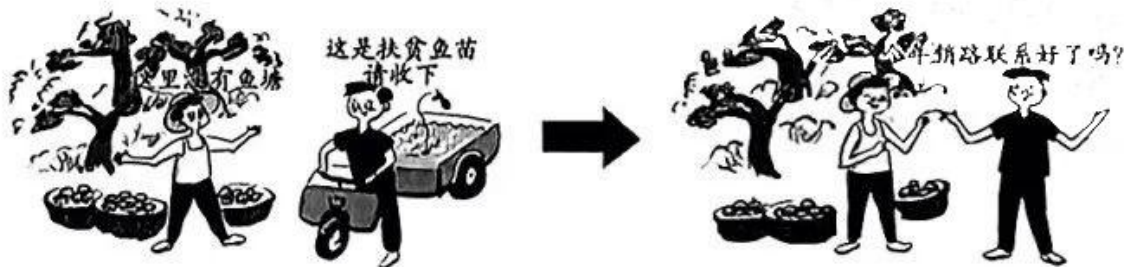
16. 2023年3月,习近平总书记在中国共产党与世界政党高层对话会上提出:“中国共产党愿同各国政党和政治组织深化交往,不断扩大理念契合点、利益汇合点,以建立新型政党关系助力构建新型国际关系,以夯实完善全球政党伙伴关系助力深化拓展全球伙伴关系”。这表明中国共产党

- ①深化政党合作,构建人类命运共同体
 - ②寻求共同利益,增进全人类共同福祉
 - ③秉持独立自主,尊重别国的道路选择
 - ④协调国际关系,平衡国家间政党利益
- A. ①② B. ①④ C. ②③ D. ③④

17. 某自治区一民族乡政府为解决当地农村土地流转争议问题,依托“代表委员”平台组织人大代表、政协委员进村入户征集意见,通过召开由代表委员、村干部、农业大户、村民代表和有关负责人组成的民主协商恳谈会,探索出土地流转新模式,取得令人满意的效果。该做法是基于

- ①政府作为国家政权机关有领导村委会的职能
 - ②政协委员可以通过协商民主的渠道建言资政
 - ③自治区各级政府既是行政机关又是自治机关
 - ④公共政治参与是全过程人民民主的内在要求
- A. ①② B. ①③ C. ②④ D. ③④

18. 下面漫画《换个姿势去调研》(来源:中央纪委国家监委网站)中的“转换”给我们的哲学启示有



- ①加强基层调研,想问题办事情要从实际出发
 - ②坚定人民立场,自觉维护群众各种利益诉求
 - ③坚持实事求是,实现科学性与价值性的统一
 - ④注重实际行动,做到实践与认识具体的统一
- A. ①③ B. ①④ C. ②③ D. ②④

19. 2023年3月4日,被誉为“中国人的年度精神史诗”的央视品牌栏目《感动中国》揭晓了2022年度获奖十大人物。其中有为国“铸盾”六十年的钱七虎院士、马兰花儿童合唱团创办人邓小岚、身残志坚的创业之星陆鸿等。每个人物身上都有一种让观众感到心灵震撼的精神力量。该节目的创办有利于

- ①培育文化产业的新业态,发挥文化教育人民的功能
②挖掘我国传统文化内涵,延续中华文化的历史根脉
③弘扬主旋律传播正能量,践行社会主义核心价值观
④引导媒体承担社会责任,为人们提供精神道德滋养
- A. ①③ B. ①④ C. ②③ D. ③④
20. 2023年是澳门基本法正式颁布30周年。新时代新征程,实施好澳门基本法,必须全面准确把握“一国两制”内涵要义,坚持中央全面管治权和保障特别行政区高度自治权相统一,坚定落实“爱国者治澳”原则,持续推进澳门积极融入国家发展大局。这表明我国
- ①是世界上实行地方分权型单一制的典型国家
②行政区划的设置需考虑国际关系等诸多因素
③国家结构形式要服务于主权统一和领土完整
④按照民主集中制原则划分中央与地方的职权
- A. ①② B. ①③ C. ②④ D. ③④
21. 2022年9月,上海合作组织第22次元首理事会在乌兹别克斯坦举行。中方支持积极稳妥做好上海合作组织扩员工作,推进接收伊朗为成员国进程,启动白俄罗斯加入程序,吸收巴林、马尔代夫、阿联酋、科威特、缅甸为对话伙伴。越来越多的国家申请加入,是因为上合组织
- ①谋求共同发展,开展符合时代主题的综合性和区域合作
②秉持互信互利,致力于推动各成员国根本利益相一致
③尊重多样文明,以不断增强各成员国之间的文化认同
④坚持平等协商,积极践行共商共建共享的全球治理观
- A. ①② B. ①④ C. ②③ D. ③④
22. 甲地的杨某购买了一台汽车,登记所有人为杨某自己。后杨某将该车租赁给乙地的韩某,韩某将该车以市场价格卖给丙地不知情的刘某并完成交付。杨某将刘某告上法庭,要求刘某返还汽车。该案例中
- ①杨某应该向甲地法院提起诉讼 ②杨某有权向韩某请求损害赔偿
③刘某可申请商事仲裁拒绝返还 ④刘某合法取得该汽车的所有权
- A. ①② B. ①③ C. ②④ D. ③④
23. 2023年,电影《流浪地球2》聚焦地球开始“流浪”之前,展现太阳危机初期,人类携起手来迎难而上、攻坚克难的经历。其以极高的制作水准,超凡的想象力,为观众奉献了一场纵横寰宇的视觉盛宴。台词:“中国航天飞行中队50岁以上的,出列!”更是引发国内外观众的强烈共鸣。据此,电影《流浪地球2》运用的思维形式
- ①触及到事物的本质规律 ②实现了思维抽象的飞跃
③表达了强烈的思想情感 ④基本的单元概括而严谨
- A. ①③ B. ①④ C. ②③ D. ②④

24. 战国时期,燕国刀币的出土范围涉及燕国本国及赵国、中山国、齐国、朝鲜等地,出土量巨大,而且往往与尖足布、方足布、赵刀、齐刀、环钱等同时出土。这表明当时
- A. 各国货币制度异常混乱
B. 北方诸侯争霸比较激烈
C. 燕国商品经济相对发达
D. 区域经济交流较为密切
25. 汉武帝推行以察举制为主体的荐举取士制度,包括孝廉、贤良以及异科。所谓孝廉,“孝谓善事父母者,廉谓清洁有廉隅者”。与孝廉相比,贤良更强调被举荐者在才能智力等方面的突出性或稀缺性。据此可推知,察举制在当时
- A. 推动了豪强地主的崛起
B. 体现了公平公正的原则
C. 加快了社会阶层的流动
D. 适应了国家治理的需要
26. 在唐代,马球主要流行于贵族圈内,甚至相邻的渤海、日本等国都有与唐朝进行马球竞技的描述。到了宋代,马球逐渐在军营和民间流传开来。这一变化反映了
- A. 中外经济文化交流日益频繁
B. 社会结构变动影响文化传播
C. 民族政权并立促进文化交融
D. 体育运动推动军事技术进步
27. 清中叶,东北的大豆、杂粮等农产品运往南方沿海各省,台湾的稻米、蔗糖也成为其与各省贸易的主要货物。这反映了当时
- A. 东部地区成为贸易中心
B. 国家统一助推商贸发展
C. 国内长途贩运开始兴盛
D. 重农抑商政策出现松动
28. 英法联军攻占北京后,联军统帅额尔金照会恭亲王奕訢,声称“英法侨民,即在此园(圆明园)内遇害极惨”;而据法国俘虏科尔迪埃记载,巴夏礼一行8人被捕后,“初解至通州,过八里桥”,禁锢一庙内,后被押送至京,“加锁练(链),置于狱”。据此可知
- A. 历史真相因年代久远而无法还原
B. 英法侨民遇害是战争爆发的主因
C. 侵略者试图为战争暴行寻找借口
D. 中西方的维权意识存在明显差异
29. 抗日战争期间,山西各根据地先后建立出版社19家,印刷厂17家,书店10多家,出版图书2520余种,发行量达480多万册。这些图书中既包括最早描写敌后抗战生活的小说《吕梁英雄传》,也有政治军事类期刊《前线月刊》等。这表明中国共产党
- A. 致力于唤醒民众进行抗日救亡
B. 建立了抗日民族统一战线
C. 已成为全民族抗战的领导力量
D. 促进了文化事业全面繁荣

文综(二) 第7页(共16页)

30. 图5是1949年5月下旬上海“漫画工学团”的成员洪荒根据自己的所见所闻创作的漫画。这幅漫画
- A. 能够反映出人民认同新生政权
 - B. 揭示了国统区的经济濒临崩溃
 - C. 可以用来解释解放战争的结果
 - D. 说明了革命统一战线成效显著



图5《强烈的对比》

31. 1979年8月,邓小平在天津视察时说:“搞四化,搞合资经营,在过去,帽子是很大的。什么‘洋奴哲学’‘卖国主义’都可以扣上。现在……关键是发展生产力,增加人民收入,这样社会主义制度的优越性就体现出来了。”邓小平意在强调
- A. 摆脱传统思想束缚
 - B. 坚持社会主义制度
 - C. 推广合资经营企业
 - D. 否定阶级斗争学说
32. 在古代雅典,许多学者、文人,如哲学家柏拉图、毕达哥拉斯、戏剧家欧里庇得斯等,都是优秀的运动家或锦标获得者。凡在运动会上夺标的,国家出资为其立像,并刻上他的名字,如米隆的《掷铁饼者》。这反映了当时
- A. 城邦政治影响文化发展
 - B. 人文主义成为主流思潮
 - C. 尚武观念推动对外扩张
 - D. 民主政治逐渐发展完善
33. 据统计,1871~1914年,英国进行了30场殖民战争。在此期间,英国、法国和荷兰至少打了100场战争。这些殖民战争造成28万~30万欧洲人死亡,而被殖民地区丧生的民众则高达5000万~6000万人。据此可知,当时
- A. 殖民战争摧毁传统霸权
 - B. 工业革命决定战争频次
 - C. 商业革命影响列强关系
 - D. 帝国主义带来沉重灾难
34. 下表为1913~1926年俄国农业指数变化情况。这反映了当时
- | 年份 | 农业指数(%) |
|-----------|---------|
| 1913 | 100 |
| 1921-1922 | 54.4 |
| 1922-1923 | 73.6 |
| 1925-1926 | 101.3 |
- A. 集体化政策调动了农民积极性
 - B. 工业化运动助推农业持续发展
 - C. 分配政策调整有助于经济恢复
 - D. 计划经济加快了农业转型升级
35. 据统计,在1973年到80年代后期之间,欧洲主要工业国从事制造业的人口减少了四分之一,大约700万人。这一现象
- A. 推动了社会保障体系的建立
 - B. 与第三次科技革命密切相关
 - C. 缘于政府对经济的全面干预
 - D. 导致了欧洲社会运动的兴起

二、非选择题:共 160 分。

36. 阅读图文材料,完成下列要求。(28分)

S镇当地没有石料资源。20世纪80年代末,S镇国道两侧涌现出许多石材小作坊,将邻近地区的石料加工后外销,形成了“马路市场”。1993年镇政府成立商会,进口意大利、土耳其、印度等地的石料进行加工。1998年成立石材市场,整合家庭小作坊,推动技术革新,定期举办国际石材博览会。2003年起,S镇很多企业到国外购买和开采矿山,将高端石材原料运回来精细加工后销往世界各地,实现了“买全球,卖全球”。该镇还投资生态大理石、人造玉石等再生石(将废弃的边角石料粉碎、重塑成石)智能生产线。现在,该镇已经看不到低矮混乱的石材加工厂,企业总部、研发中心、工业园区、会展中心、金融商务等大厦林立的现代化新城已悄然成型。图6示意S镇的位置。

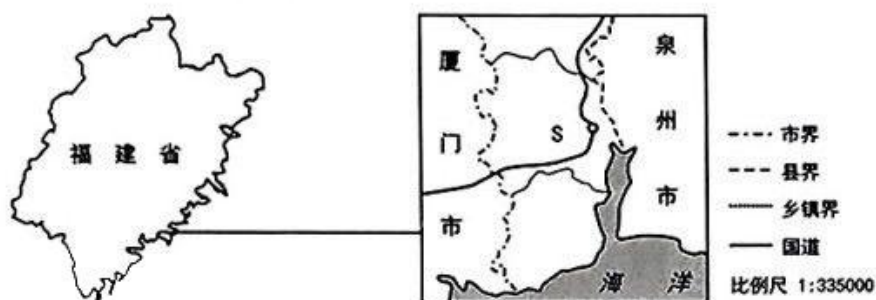


图6

(1)说明20世纪80年代末S镇形成石材加工“马路市场”的有利条件。(8分)

(2)分析S镇的石材加工产业能够实现“买全球,卖全球”的原因。(10分)

(3)有人对“S镇发展再生石生产”这一问题提出质疑。对此,请提出自己的观点,并说明理由。(6分)

(4)简述该镇石材产业发展给我国区域经济发展的启示。(4分)

37. 阅读图文材料,完成下列要求。(28分)

冰碛物是冰川在运动过程中搬运、携带的碎屑物,由冰碛物堆积而成的地貌为冰碛地貌。新奥尔松地区位于斯匹次卑尔根岛的西部,近年来该地区冰碛地貌的面积不断扩大。图7示意新奥尔松地区的位置和局部地貌。

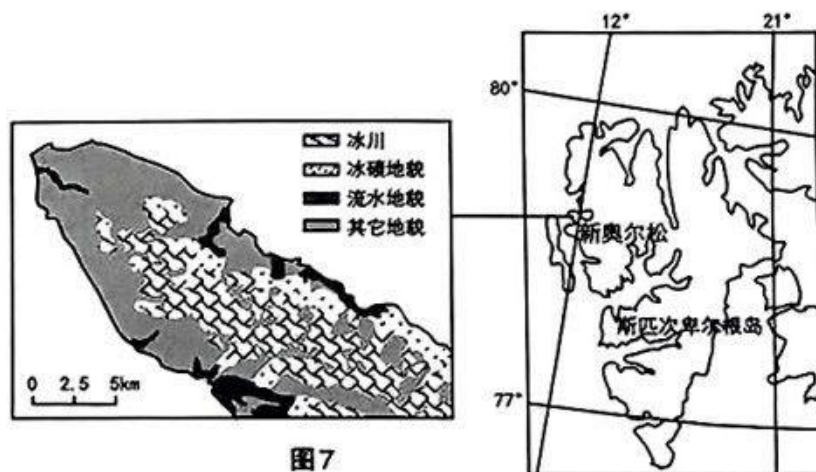


图7

(1)与同纬度的格陵兰岛相比,分析新奥尔松地区冰川覆盖率较低的原因。(6分)

(2)判断新奥尔松图示地区的地势特点,并说明理由。(8分)

(3)分析近年来新奥尔松地区冰碛地貌面积扩张的趋势及原因。(10分)

(4)全球变暖的背景下,推测未来新奥尔松地区地貌的变化趋势。(4分)

38. 阅读材料,完成下列要求。(10分)

依法治国,立法先行。为规范立法活动,提高立法质量,更好推进新时代立法工作,2023年3月15日,修正后的《中华人民共和国立法法》正式实施。

良法是善治的前提。当前,大数据、云计算、人工智能等前沿技术发展日新月异,应用场景不断拓展,创新引领作用日益增强,这对新领域新业态的知识产权保护提出了新的更高要求。十四五规划和2035年远景目标纲要对健全知识产权保护运用体制作出战略部署,强调完善知识产权相关法律法规,加快新领域新业态知识产权立法。在立法的过程中,既要对过去出现的问题进行总结,又要具有一定的前瞻性,更要充分听取市场主体的意见。

结合材料,运用《政治与法治》知识,说明我国应如何加强新领域新业态知识产权立法。

39. 阅读材料,完成下列要求。(10分)

习近平总书记指出:“中国式现代化既切合中国实际,体现了社会主义建设规律,也体现了人类社会发展规律。”历史条件的多样性,决定了各国选择发展道路的多样性。我们党团结带领亿万人民群众通过走中国式现代化道路,用几十年时间走完了西方发达国家几百年走过的工业化历程,创造了经济快速发展和社会长期稳定的奇迹。这一辉煌成就深刻表明:通向现代化的道路不止一条,世界上既不存在定于一尊的现代化模式,也不存在放之四海而皆准的现代化标准。

结合材料,运用“寻觅社会的真谛”知识,论证我国走中国式现代化道路的客观必然性。

40. 阅读材料,完成下列要求。(10分)

2022年的中国外交,开拓进取,攻坚克难,成绩斐然。踏上新时代新征程的中国展现出广交四海宾朋、共行天下大道的大国气度、大国风范,不断刷新着世界的“中国印象”。

这一年,中国以更加开放的姿态拥抱世界,高水平开放举措有序推出,进博会、服贸会、广交会、消博会,四大盛会好戏连台,践行“开放的大门越开越大”的坚定诺言。这一年,北京冬奥会向各国人民发出“一起向未来”的热情呼唤,匠心独运的场馆设施,活泼可爱的吉祥物,饱含中国元素的二十四节气、迎宾松、折柳寄情等,让世界领略了中华文化的博大精深。这一年,我国提出数字创新合作行动计划,旨在推动数字技术创新应用,实现创新成果普惠共享,在数字产业化、产业数字化方面推进国际合作,释放数字经济推动全球增长的潜力。

一个可信、可爱、可敬的中国,赢得越来越多的理解、尊重与支持。

结合材料,运用“中国的外交”知识,谈谈我国是如何向世界展现可信可爱可敬的国家形象的。

41. 阅读材料,完成下列要求。(12分)

2022年8月,业主胡某经小区物业公司同意,自费购买了一套儿童游乐设施——旋转滑梯,包含配套脚垫,固定在本小区公共区域,供儿童免费游乐。该区域的卫生保洁工作和旋转滑梯管理工作由小区物业公司负责。2023年2月,小区业主刘大爷途经此处,踩到湿滑脚垫,不慎摔伤,经司法鉴定为十级伤残。刘大爷将胡某和小区物业公司诉至法院,要求双方共同赔偿。一审法院判决胡某不承担责任,赔偿责任由物业公司承担。

结合材料,运用《法律与生活》知识,分析法院判决的法理依据与社会价值。

42. 阅读材料,完成下列要求。(10分)

2022年11月,“中国传统制茶技艺及其相关习俗”成功列入人类非物质文化遗产代表作名录。为纪念雨花台革命烈士、汇集全省茶界精英创制而出的南京雨花茶制作技艺也位列其中。

南京雨花茶是中国传统针形类绿茶杰出代表,其制作技艺通过师徒代代传承,独创的搓条抓条技法被誉为“手中的芭蕾舞”。雨花茶色泽润绿、滋味甘醇,干茶外形如松针,寓意大雪压青松,青松挺且直的革命精神永不磨灭。一杯雨花茶浸泡着悠长的历史与文化。

雨花茶传承至今,手工引领支撑,机制并肩前行。1986年研制成功国内首条机械化雨花茶生产线。近年来,雨花茶制作从消费端回溯生产端,已从当初的“小茶叶”变为“大茶业”,年产量600吨,总产值10亿元,带动全市3万茶农增收致富。目前,南京市出台政策加大对非物质文化遗产传播力度,越来越多的年轻人开始接触了解雨花茶,让雨花茶香飘更远。

申遗成功不是终点,而是保护传承的新起点。面向未来,围绕如何保护发展好雨花茶制作技艺等非遗项目,请思考回答下列问题。

(1)关于非遗项目的保护传承,有人认为唯有继承才能行稳,也有人认为唯有创新才能致远。请结合材料,运用辩证思维的方法,综合评析这两种观点。(6分)

(2)结合材料,从创新思维角度,为非遗项目的保护发展提两条合理建议。(4分)

43. 阅读材料,完成下列要求。(25分)

材料一 1751~1772年,由狄德罗主编,数学家达罗贝尔、伏尔泰和卢梭等人参与编写的《百科全书,或科学、艺术、工艺的理性辞典》(以下简称“法国《百科全书》”)陆续出版。法国《百科全书》包括17卷文字,11卷图版,71818个条目,2885幅插图,其中自然科学占比超过人文科学。法国国王路易十五也想参与该书的编纂,被狄德罗拒绝。该书在出版过程中两次被政府查禁,又两次解禁。1789年法国大革命以前,法国《百科全书》共出版了6个版本,印刷了大约2.4万套,在法国国内卖了11507套,在欧洲其他国家卖了12054套,美国的富兰克林、“宪法之父”麦迪逊等人都购买了此书。

材料二 乾隆五十二年(1787年),由乾隆皇帝亲自审校的《四库全书》最终编纂而成,它是我国古代规模最大的丛书,分为经、史、子、集四部,共收录3470部书,其中科技著作内容不超过全书的5%。在征集图书的过程中,乾隆帝下令销毁了大量书籍,据学者统计,累计毁掉图书2929部。例如,《天工开物》只因在序言中指出清朝龙兴之地东北在3000年前曾是蛮荒之地,就被禁毁了。《四库全书》编成后,乾隆决定人工抄写七部,分藏在6座城市,长期束之高阁。直到1986年台湾商务印书馆将其影印1000套,21世纪初内地出版社前后影印了2000套,这些书发货后即很快售罄。

——以上材料均摘编自刘澍《〈四库全书〉与〈百科全书〉之比较》

(1)根据材料一、二,分别概括法国《百科全书》与中国《四库全书》的特点。(12分)

(2)根据材料一并结合所学知识,分析法国《百科全书》呈现这些特点的原因。(7分)

(3)根据材料并结合所学知识,简析大型文化典籍的编纂对文化发展的意义。(6分)

44. 阅读材料,完成下列要求。(12分)

观察历史可以有不同角度,下列材料呈现了观察历史的一个视角。

材料 近代中国社会最基本的历史实际是什么?那就是外国资本帝国主义的侵略与国内封建统治的压迫相结合,把一个独立的封建的中国,逐步变成半殖民地半封建的中国。这两个强大的反动势力,一方面残酷地压迫和剥削中国人民;另一方面又严重地阻碍中国社会生产力的发展。中华民族各族人民为了推翻帝国主义和封建主义的统治,维护国家的独立和取得社会进步,进行了一百多年艰苦卓绝的英勇斗争。

——李侃等《中国近代史(1840~1919)》

结合所学知识,另拟一个观察中国近代史的角度,并加以阐释。(要求:角度明确,史论结合,论证合理,逻辑清晰。)



45. 阅读材料,完成下列要求。(15分)

材料 1954年1月25日至2月18日,苏、美、英、法四国外长在柏林举行会议,决定召开关于朝鲜问题和印度支那问题的日内瓦会议,同时邀请中华人民共和国及其他有关国家的代表参加。4月19日,中央人民政府主席毛泽东任命周恩来为中国代表团的首席代表。4月26日,日内瓦会议在万国宫开幕。由于美国和韩国代表极力阻挠,朝鲜问题被搁置,印度支那问题成为日内瓦会议的主题。美国向法国施加种种压力,并加紧策划对印度支那进行军事干涉。为促使会议取得积极成果,中国代表团利用英法和美国在印度支那问题上的分歧,在会外与英法代表频繁接触。最终经过中国代表团的努力,于7月21日通过了《日内瓦会议最后宣言》,实现了印度支那停战,结束了法国在这个地区进行多年的殖民战争,印度支那问题得以和平解决。周恩来总理如是总结:“日内瓦会议的成就证明,国际争端是可以和平协商的方法求得解决的。现在世界上赞成不同社会制度的国家和平共处的人已经越来越多。”

——根据吴建民《外交案例Ⅱ》等整理

(1)根据材料并结合所学知识,简析日内瓦会议召开的历史背景。(9分)

(2)根据材料并结合所学知识,说明日内瓦会议的成功召开对中国的影响。(6分)

关于我们

自主选拔在线是致力于提供新高考生涯规划、强基计划、综合评价、三位一体、学科竞赛等政策资讯的升学服务平台。总部坐落于北京，旗下拥有网站（[网址: www.zizzs.com](http://www.zizzs.com)）和微信公众平台等媒体矩阵，用户群体涵盖全国90%以上的重点中学师生及家长，在全国新高考、自主选拔领域首屈一指。

如需第一时间获取相关资讯及备考指南，请关注**自主选拔在线**官方微信号：**zizzsw**。



 微信搜一搜

 自主选拔在线

