



丰台区 2017 年高三年级第二学期综合练习（一）

文科综合

2017. 03

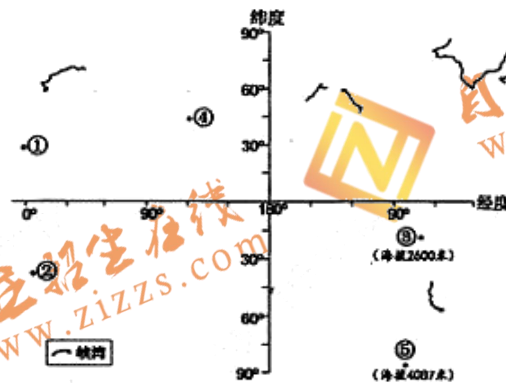
注意事项：

1. 答题前，考生务必先将答题卡上的学校、年级、班级、姓名、准考证号用黑色字迹签字笔填写清楚，并认真核对条形码上的准考证号、姓名，在答题卡的“条形码粘贴区”贴好条形码。
2. 本次考试所有答题均在答题卡上完成。选择题必须使用 2B 铅笔以正确填涂方式将各小题对应选项涂黑，如需改动，用橡皮擦除干净后再选涂其它选项。非选择题必须使用标准黑色字迹签字笔书写，要求字体工整、字迹清楚。
3. 请严格按照答题卡上题号在相应答题区内作答，超出答题区域书写的答案无效，在试卷、草稿纸上答题无效。
4. 请保持答题卡卡面清洁，不要装订、不要折叠、不要破损。

第一部分（选择题 共 140 分）

本部分共 35 小题，每小题 4 分，共 140 分。在每小题列出的四个选项中，选出最符合题目要求的一项。

读图 1，回答第 1~3 题。



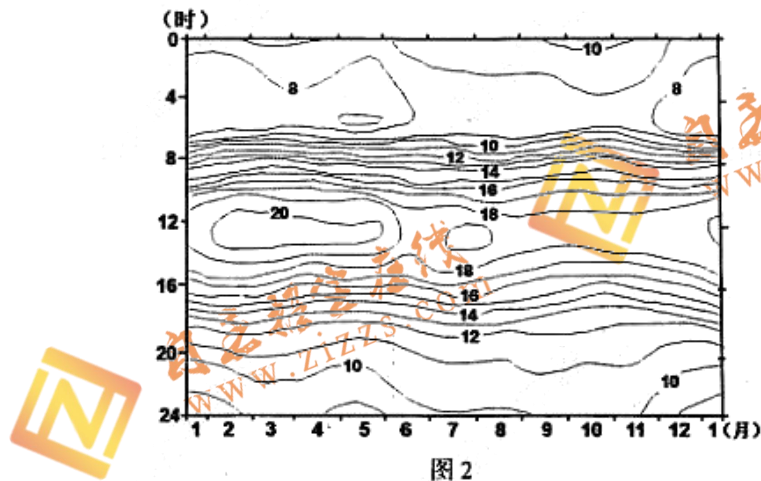
1. 峡湾

图 1

- |                   |                   |
|-------------------|-------------------|
| A. 是由冰川刨蚀、河水侵蚀而形成 | B. 地貌景观主要位于中高纬海岸带 |
| C. 所在地区能源消费以潮汐能为主 | D. 所在地区自然植被为落叶阔叶林 |
2. 立秋时节，
- |                   |            |
|-------------------|------------|
| A. ①、②地正午旗杆与其影长相等 | B. ③地多低温冻害 |
| C. ②、③地白昼与黑夜的时长相等 | D. ④地日出东北方 |

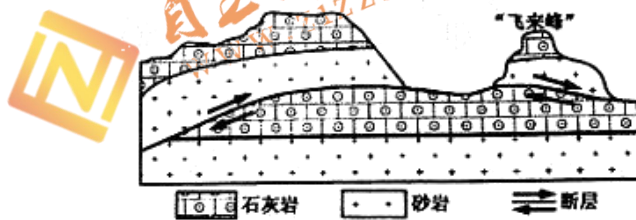
3. 我国两个海外天文观测基地③、⑤选址的共同条件是
- ①降水稀少，晴天天数多
  - ②终年受高压带控制，风力小
  - ③地势高，空气较稀薄，大气透明度高
  - ④气温年较差小，设备运行稳定
- A. ①②      B. ③④      C. ①③      D. ②④

图2为某年某地逐月逐时气温(℃)变化图。读图，回答第4、5题。



4. 气温日较差最大的月份是
- A. 2月      B. 5月      C. 8月      D. 11月
5. 该地可能
- A. 光热充足，适宜种植棉花
  - B. 发展绿洲农业
  - C. 海域辽阔，珊瑚礁发育好
  - D. 河流无结冰期

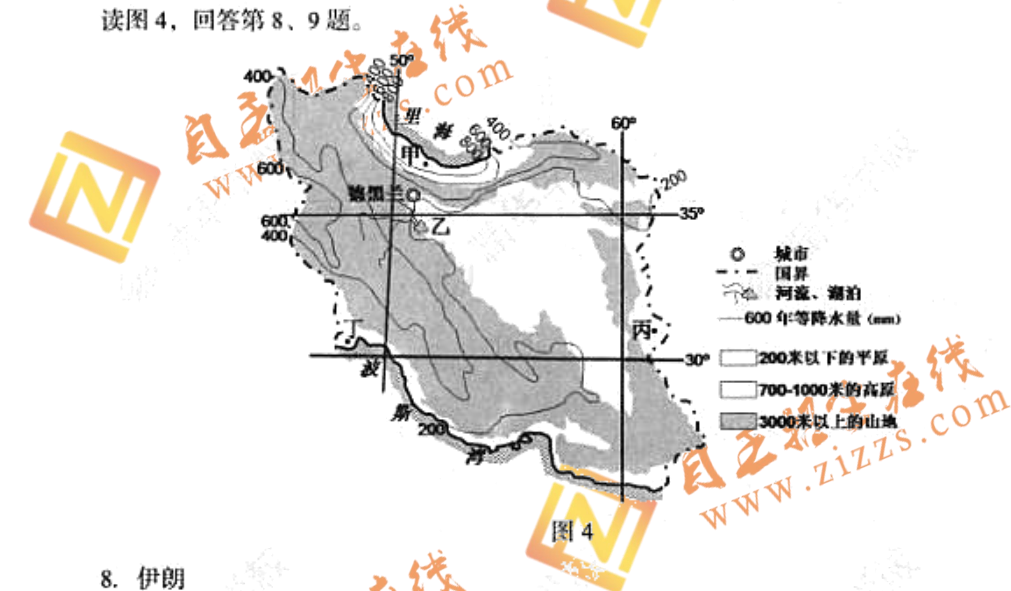
图3为“飞来峰”示意图。相传东晋咸和初年，印度僧人慧理云游到此，看到石山很像印度灵鹫峰，说“此乃天竺国灵鹫山之小岭，不知何以飞来？”于是在此建寺，名灵隐，将此石山称“飞来峰”。据此，回答第6、7题。





6. “飞来峰”形成的地质过程依次为
- 固结成岩—地壳抬升—断裂错动—风化侵蚀
  - 地壳抬升—断裂错动—风化侵蚀—固结成岩
  - 风化侵蚀—地壳抬升—固结成岩—断裂错动
  - 断裂错动—固结成岩—地壳抬升—风化侵蚀
7. 灵隐寺景区成为杭州著名旅游地主要是因其具有
- ①壮美的流泉飞瀑
  - ②独特的地质构造
  - ③浓厚的佛教文化
  - ④精巧的园林建筑
- ①②
  - ①④
  - ②③
  - ③④

读图4，回答第8、9题。



8. 伊朗
- 地处亚欧板块与非洲板块的消亡边界，地震多发
  - 河流呈向心状分布，流程长，水量大，航运发达
  - 沿海地带经济腹地小，缺少大型综合性港口
  - 西北部地区人口稀疏，东南部地区人口稠密
9. 图中
- 甲地区地势低平，降水多，为种植业主要分布区
  - 乙湖面积季节变化小，通过蒸发环节参与水循环
  - 丙地区受北印度洋季风洋流的影响，多雾少雨
  - 丁地区气候温和，石油资源丰富，人口密度大

容积率是指一个小区的地上总建筑面积与用地面积的比率。一般情况下，提高容积率可以提高土地的利用效益。图5为北京局部地区示意图。读图，回答第10、11题。

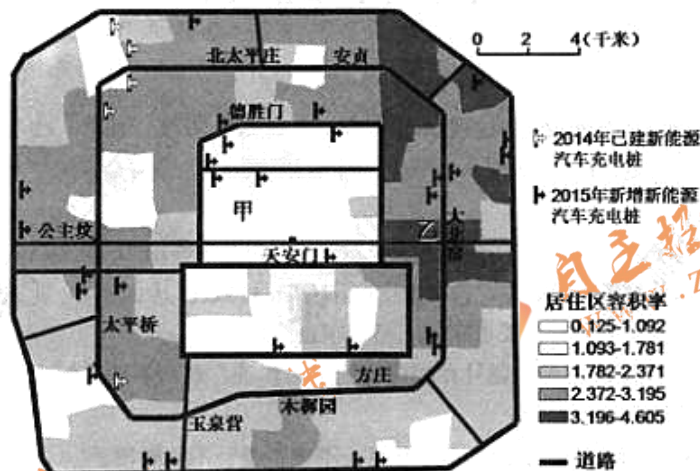


图5

10. 甲地居住区容积率低于乙地，主要是因其
- A. 交通便利                      B. 建筑高度受限  
C. 地价高昂                      D. 环境承载力大
11. 图中新能源汽车充电桩的变化体现了该区域
- A. 再城市化过程                  B. 人口向中东部迁移  
C. 商业用地增加                  D. 基础设施逐步完善

12. 下列是关于中国古代重要科技应用的记述，其中与图6所示形势相关的是
- A. 切脉动静而视精明，察五色，观五脏……决死生之分  
B. 以所部发机飞火，烧龙沙门，带领壮士突火先登入城  
C. 止印三二张未为简易，若印数十百千本，则极为神速  
D. 风雨冥晦时，惟凭针盘而行……盖一舟之人命所系也



图6

13. 孔仅是西汉时期的大商人，因精通冶铁生产和销售而家财万贯，武帝时与大盐商东郭咸阳一同被任命为大农丞，负责盐铁事务，在全国建立了盐铁管理机构，任用一些经营盐铁的大商人担任各地盐官、铁官，将盐铁收归官府经营。这说明当时
- ①商人的社会地位有了提高                      ②官吏任用实现了专业化  
③商人把持了国家经济命脉                      ④私营工商业受到了打击
- A. ①②                      B. ②③                      C. ③④                      D. ①④



14. 毕士安是某朝抵抗派宰相。乾德四年考中进士，后为监察御史，出知乾州。淳化二年，召入翰林为学士。咸平中，以目疾出知潞州，又入为翰林侍读学士。景德元年先后任吏部侍郎、参知政事，拜平章事。毕士安所处的朝代为  
A. 秦朝                  B. 唐朝                  C. 宋朝                  D. 明朝
15. 朱熹认为人有“天命之性”和“气质之性”，前者源于太极之理，是绝对的善；后者则有清浊之分，善恶之别。人们应该通过“居敬穷理”（保持谨慎敬重的态度，对事物要探究它的道理）来变化气质。上述观点  
①体现儒家的伦理道德                  ②借鉴道家的思想主张  
③渗透格物致知的思想                  ④强调后天修养的重要  
A. ①②③④                  B. ①②④                  C. ①③④                  D. ②③④
16. 1873 年，李鸿章将轮船招商局改为官督商办，委任经营茶叶和地产业获利丰厚的商人徐润为会办，开始进行新一轮招股。拟定首期招股 100 万两白银，徐润入股 24 万两，又广招亲友入股，后来社会上入股者踊跃，100 万两很快招齐。这表明  
A. 民族资本主义产生                  B. 洋务运动由此失败  
C. 实业救国浪潮的涌动                  D. 民族资本家经营得法

17. 图 7 是《孙中山传》的目录，每一章下包含若干子目，“宣扬民生主义和实业救国”子目应属于  
A. 第二章  
B. 第三章  
C. 第四章  
D. 第五章

第一章 青少年时代
第二章 踏上民主革命的征途
第三章 成立中国同盟会
第四章 推翻封建帝制，创建中华民国
第五章 坚决捍卫共和国
第六章 掀起国民革命高潮
第七章 抱病北上，巨星陨落

图 7

18. 读图 8，判断下列各项表述正确的是  
A. 1921 年在③召开的会议，标志中国工人阶级政党诞生  
B. 1927 年在②举行的起义，成为创建人民军队的开始  
C. 1931 年在①响起的枪声，揭开中国 14 年抗战的序幕  
D. 1949 年④的解放，表明国民党政府在大陆统治结束

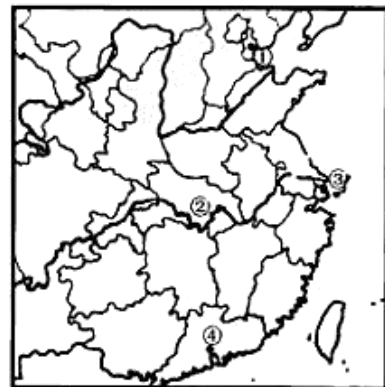


图 8

19. 1984年7月，北京天桥股份有限公司经中国人民银行批准向社会公开发行股票。这一举措

- ①是城市经济体制改革的体现                      ②废除了僵化的计划经济体制  
③有利于扩大企业自主经营权                      ④是建立现代企业制度的探索
- A. ①②③                      B. ①②④                      C. ①③④                      D. ②③④

20. 图9是反映16世纪欧洲社会状况的漫画，画中右边是新教徒，左边是天主教徒，天平右侧托盘中为圣经，左侧为教皇。该漫画意在



图9

- A. 宣扬教皇的崇高地位  
B. 强调信仰上帝的重要  
C. 倡导新旧教会的和谐  
D. 主张社会的公平交易

21. 1693年英国议会提出《任职法案》，规定凡议员得到国王任命或从国王那里领取薪俸后，就失去了议员资格。该法案被国王威廉三世否决，以后如此多次，直到1707年才获得通过。下列对上述内容解释正确的是

- A. 英王违背了《权利法案》的规定                      B. 英国政体出现了十分严重的倒退  
C. 英国君主立宪制度在渐进中完善                      D. 英王最终失去了全部的政治权力

22. 有学者指出，到1900年，在人类历史上第一次可以提及“世界文明”，这主要是由于

- A. 世界各地都进入了资本主义社会                      B. 各地被拖入一个统一的世界市场中  
C. 英语国家取得了对整个世界的统治                      D. 世界各地的语言和文化差异被消除

23. 20世纪30年代美国政府采取扶助措施，安排失业艺术家从事美化公共建筑的工作，并要求创作的主题必须与“美国场景”有关，艺术家们共创作了近300万幅美术作品。这样做的目的是

- ①通过提供就业机会维护稳定                      ②通过保护艺术家发展民族文化  
③通过艺术作品激发民众信心                      ④通过艺术发展促进经济的发展

- A. ①②③                      B. ①②④                      C. ①③④                      D. ②③④

24. 2017年央视春晚分会场地处于祖国东南西北四个方向，个性鲜明，独具特色。上海的“光舞台”时尚前卫、四川凉山的“火舞台”激情豪迈、广西桂林的“水舞台”清秀柔润、黑龙江哈尔滨的“冰舞台”浪漫旖旎，构筑了地域文化景观，给观众带来一场美轮美奂的视觉盛宴。这样的设计让我们感受到

- ①一方水土滋养一方文化，中华文化有无可比拟的优越性  
②百花齐放才有春色满园，多姿多彩的地域文化相映生辉  
③大众传媒服务春晚舞台，现代科技助力文化传承与发展  
④一城一故事一曲一传奇，深谙传统文化就会有文化自信

- A. ①②                      B. ①④                      C. ②③                      D. ③④



25. 在中国人的精神谱系里，国家与家庭、社会与个人都是密不可分的。“小家”与“大国”同声相应，从孝亲敬老、兴家乐业的义务走向济世救民、匡扶天下的担当。家国情怀宛若川流不息的江河，流淌着民族的精神传统，滋润着每个人的精神家园。以下名言诗句中能体现这种家国情怀的是
- ①天下兴亡，匹夫有责
  - ②克勤于邦，克俭于家
  - ③吾生也有涯，而知也无涯
  - ④捐躯赴国难，视死忽如归
- A. ①②      B. ②③      C. ③④      D. ①④
26. 子曰：“危者，安其位者也；亡者，保其存者也；乱者，有其治者也。是故君子安而不忘危，存而不忘亡，治而不忘乱，是以身安而国家可保也。”从《周易》的这段记载可见，维护国家安全
- ①是关系到社会稳定和人民生活的重大
  - ②应当兼顾周边主权国家的关切以及利益
  - ③是对中国传统文化中“居安思危”思想的传承
  - ④需要每个公民自觉遵守法律面前一律平等的原则
- A. ①②      B. ①③      C. ②④      D. ③④
27. 2017年全国两会期间，共有172名来自全国各地的“新华小记者”参加了两会报道，成为一支表现活跃的“童子军”。小记者们近距离接触代表、委员，关注国情民生，代表青少年发声，从青少年的角度宣传报道两会议程。童眼看两会有利于
- ①树立公民意识，提高青少年自身政治素养和政治参与能力
  - ②获得实践体验，内化青少年对社会主义核心价值观的认同
  - ③行使民主权利，增强青少年参与基层民主政治建设的能力
  - ④拓宽民主渠道，激发青少年参与民主决策的热情与责任感
- A. ①②      B. ②③      C. ③④      D. ①④
28. 某市民因违反《XX市道路交通安全管理条例》，电动自行车被交警扣留。该市民不服，认为该条例在道路交通安全法的相关规定之外增设了扣留非机动车并托运回原籍的行政强制手段，违反了法律规定。遂致信全国人大常委会，建议对该条例进行审查。虽然此事只是缘起于一辆电动自行车，但涉及地方性法规的合法性、公民财产权利的保护。最终，全国人大常委会接受其建议，决定对该条例进行纠正。此案例表明
- ①我国公民的法律意识增强
  - ②全国人大拥有最高决定权
  - ③我国现行司法体系建设已经完善
  - ④行政法规不得与现行法律相抵触
- A. ①②      B. ②③      C. ③④      D. ①④



29. 下列语句中蕴含的人生哲理与图 10 寓意最为相近的是

- A. 只有自己诚心待人，别人才有可能对自己以诚相待。——路遥《平凡的世界》
- B. 人不是为失败而生的，一个人可以被毁灭，但不能被打败。——海明威《老人与海》
- C. 凡事都有偶然的凑巧，结果却又如宿命的必然。——沈从文《边城》
- D. 人是为了活着本身而活着，而不是为了活着之外的任何事物而活着。——余华《活着》



图 10 自弃者扶不起 自强者打不倒

30. 习近平总书记在在中国文联十大、作协九大上指出，文艺工作者要做到四“有”：胸中有大义，心里有人民，肩头有责任，笔下有乾坤。这是因为

- ①人民群众的生活和实践是一切精神财富形成发展的源泉
- ②人民群众是社会历史的主体，是社会存在和发展的基础
- ③社会主义文艺应该反映并服务于人民群众的生产和生活
- ④优秀的文艺作品源于文艺工作者对人民群众的深厚感情

- A. ①②
- B. ①③
- C. ②④
- D. ③④

31. 如图 11 所示，“镜面效应”描述了企业人力资源管理中的一种“奇怪”现象，即良好的企业发展态势并不必然造就稳定且高绩效的员工队伍，企业发展态势和员工心理几乎不成正比，而是构成反面对称。这启示企业

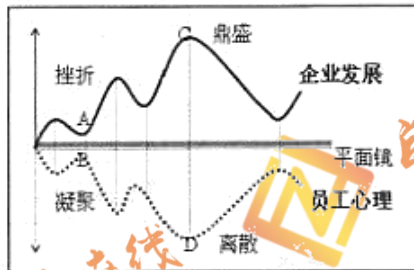


图 11 企业发展与员工心理的“镜面效应”

- A. 矛盾无处不在，要持续激发员工的工作热情
- B. 部分决定整体，要注意提高员工的心理素质
- C. 具体分析问题，要致力于增强企业的扩张力
- D. 树立创新意识，要努力提高企业的经济效益

32. 为促进房地产市场平稳健康发展，中央经济工作会议提出“房子是用来住的，不是用来炒的”。这一定位

- ①强调了住房的消费品属性
- ②否定了住房的投资品属性
- ③全面抑制了居民住房需求
- ④有利于打击楼市投机行为

- A. ①②
- B. ②③
- C. ③④
- D. ①④





33. 读图 12，这种通过市场机制解决温室气体减排问题的方式可能对企业生产的影响是

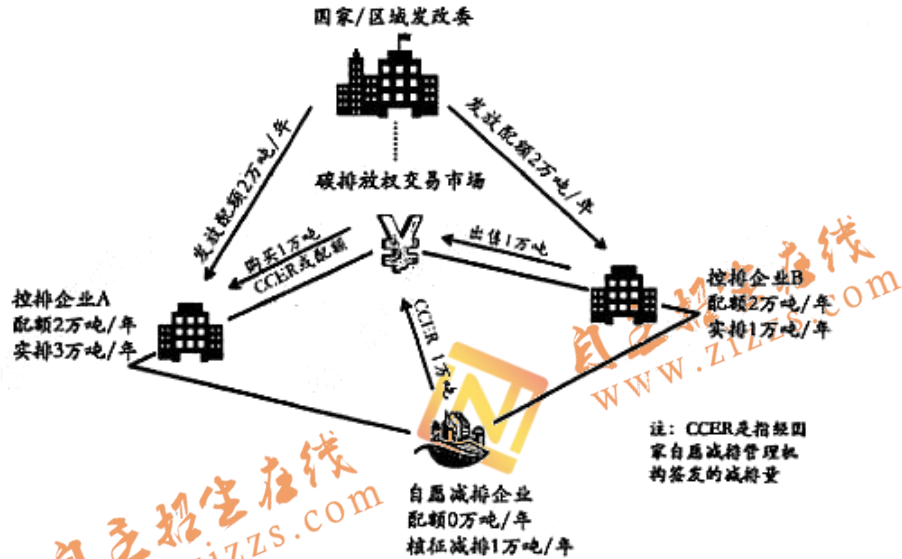


图 12 碳交易原理示意图

- ①推动技术创新，引导企业向着低碳经济方向转型升级
- ②改变收支结构，把气候变化因素纳入企业的成本核算
- ③规范法律法规，充分发挥市场决定作用优化资源配置
- ④减少融资成本，加快工业输出顺应全球经济发展趋势

A. ①②      B. ②③      C. ③④      D. ①④

34. “持久收入假说”理论认为，消费者的消费支出不是由他现期的暂时性收入决定的，而是由他的持久收入决定的。理性的消费者为了效益的最大化，会根据长期能保持的收入水平来作出消费决策。根据这一理论，下列行为更符合理性的是

- A. 预期收入暂时增长，应当增加未来消费支出
- B. 预期收入暂时增长，应当减少未来消费支出
- C. 预期收入持久增长，应当增加未来消费支出
- D. 预期收入持久增长，应当减少未来消费支出

35. 巧用经济学理论，提高学习效率。假定你想最大化各门功课的知识量，但因时间有限，再加上学习不同功课的最后一分钟并不给你带来相同的知识量，因此，你不必在每门功课上花费相同时间，只需从各门功课上所获得的边际知识量相等即可。举例来说，假设同一时间内你从 A 学科中获得的边际知识量大于 B 学科，你就可以把学习时间从 B 学科转移到 A 学科上，直至花费在每门功课上的边际知识量都相等。不在每门功课上花费相同时间的学习策略依据的经济学理论是

- A. 价值规律                      B. 流动性偏好
- C. 边际效用递减理论              D. 边际消费倾向递减理论

第二部分（非选择题 共 160 分）

36. (36 分) 读图 13，回答下列问题。

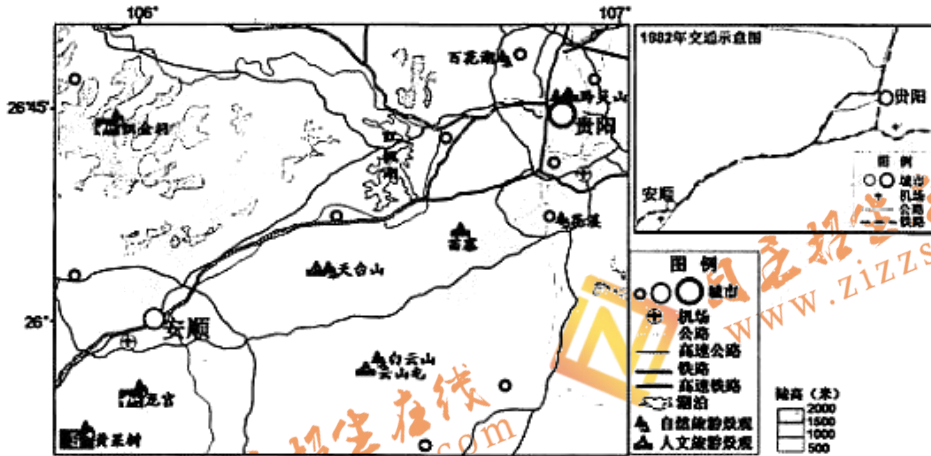


图 13

- (1) 从地理位置、地形角度分析该区域主要气候特征。(10 分)
- (2) 为“多山少地”的安顺农村地区脱贫致富提出合理化建议。(10 分)
- (3) 简述该区域交通运输的变化，并说明其对该区域城镇化的促进作用。(10 分)
- (4) 说出该区域旅游资源多样性的表现，并指出夏季到该区域旅游需防范的主要自然灾害。(6 分)

37. (34 分) 家庭是社会的重要组成部分。阅读材料，回答问题。

材料一

苏格拉底主张在家庭内部保持融洽、和谐。他认为，作为子女要尊重父母、孝敬父母；在处理夫妻关系上，丈夫要忍让、克制；兄弟之间要努力发展友谊；女人持家、男人治国若无节制和正义，就管不好家、治不好国，不论男女，只要有节制和正义，就是最好的男人和女人。

——摘编自王世军《希腊哲学家的家庭观》

孟子主张的家庭成员行为准则是仁、礼、义、慈、孝、敬。“仁”就是要孝敬父母、关心他人；“义”就是要尊敬兄长；“礼”就是要谦让；“慈”是长辈对晚辈要慈爱；“孝”和“敬”则是晚辈必须履行的对长辈的尊敬和赡养等义务。孟子认为处理好父母兄弟的关系不仅能使家庭和睦，还能影响政治。

——摘编自高智《试论孟子的家庭观》

- (1) 阅读材料一，概括苏格拉底和孟子家庭观念的共同点。(8 分)



### 材料二

16 世纪以前，大家庭（拥有自己的土地或其他生产资料，子孙满堂甚至四世、五世同堂的家庭）在英国社会中占有绝对比重。

16 世纪末 17 世纪初，核心家庭（一夫一妇式小家庭）已经是绝大多数英国社会的基本单位。年轻夫妇虽建立自己的小家庭或从大家庭分离出来，但父母长辈对青年男女的择偶或择业还有一定的权力。

在 1700—1850 年英国初期工业化阶段，绝大多数工人仍以手工劳动为主，分散于以家庭工业经济为特征的手工工场中，由于工业的机械化不完善，核心家庭仍是生产劳动的基本单位。（在工人之中）妇女和孩子成了独立的挣工资者，不再是家庭劳动的补充，16、17 世纪家庭中的家长制权威必然被取代或发生变化。

自 1850 年起，英国核心家庭失去了作为生产单位的机能，以核心家庭为主的家庭体制确立。英国社会出现了总生殖率下降、妇女单身率增长及头婚年龄提高等现象。

——摘编自谢天冰《近代化和英国家庭体制的变迁》

(2) 阅读材料二，概括英国近代家庭演变的趋势。结合所学知识分析影响英国家庭演变的因素。（14 分）

### 材料三

1920 年春夏之交，《民国日报》副刊《觉悟》上开辟了“废除婚姻制度”的讨论专栏。

讨论伊始，废婚派人士“哲民”开宗明义，强调“婚姻制度是万恶的源泉”，是强权的赞歌；主张夫妻制度的人，犹如迷信国家主义和专制主义的人一样；至于“父母之命、媒妁之言”，更是罪恶。其他废婚派人士也都主张废除婚姻制度，实现男女自由结合。

保婚派人士“葆华”认为自由恋爱无异于乱交，“今天甲和乙恋爱，明天乙向丙恋爱，完全成了乱交状态，使兽性冲动逐渐增加”，如此“提倡公妻主义”，是蔑视女人的人格，所以坚持婚姻应在自主的基础上实现一夫一妻这一“绝对的信条”。其他保婚派人士也都反对废除婚姻，反对绝对的恋爱自由。

——摘编自熊培云《民国的“另类笔战”：要不要废除婚姻和家庭》

(3) 你如何看待上述婚姻争论中的观点？请运用所学知识进行论述。（12 分）

要求：观点明确，史实充分，史论结合，逻辑清晰。

38. (34分) 健康中国，共建共享。阅读材料，回答问题。

【健康中国需要健康体魄】

当全民健身成为中国人对体育的“正确打开方式”，体育产业真正迎来了发展的春天。

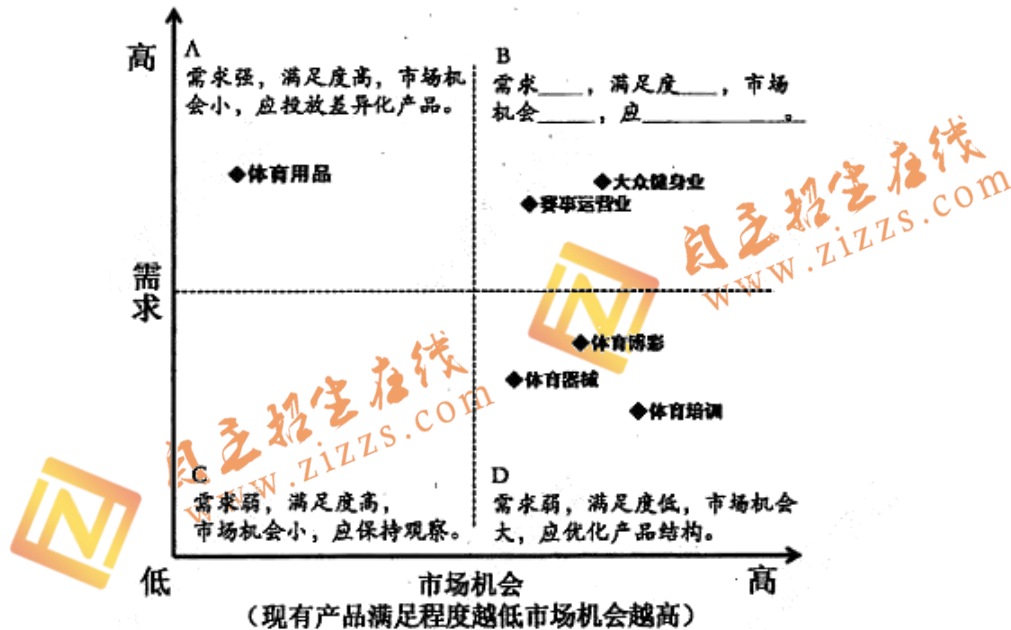


图 14 中国体育产业行业需求与机会

(1) 读图 14，说明 B 区域内中国体育产业行业需求和市场机会情况。(4分)

在体育产业中，体育服务业处于核心层，包括赛事运营、大众健身、体育培训等，其发达程度可以检验一国体育产业的发展程度。发达国家体育市场成熟，体育服务业占比在 50-60% 之间。在我国，处于非核心层的体育用品占比达到 80%，是产业主要支撑，体育服务业占比却不到 20%。我国体育产业市场化程度较低，国内职业体育发展不成熟，国内体育赛事影响力有限，观众覆盖率、忠诚度、消费潜力与国际顶级赛事之间仍有较大差距。

(2) 根据图 14 与材料信息，运用《经济生活》知识谈谈应如何促进体育产业的发展。(10分)

【健康中国需要智慧养老】

很多城市探索“互联网+居家养老”，即利用智能化设备把物联网、互联网和养老加在一起，整体构成一个信息平台，上门为老人提供紧急救援、家政服务、日常照顾、康复护理等综合性的服务项目，构建一个智能化的“没有围墙的养老院”。然而，这一模式并不



易推广，这是因为一方面要有庞大的资金投入，另一方面要有高标准的质量把控，更为重要的一点是养老产业回报周期漫长。此外，许多老人不会操作电脑，同时也害怕网络受骗，对此持观望态度。

(3) 结合《政治生活》相关知识，说明政府的哪些作为可以促进“互联网+居家养老”模式推广。(10分)

【健康中国需要文化润洋】

健康中国不仅需要建设物质文明也需要发展精神文明。

在“洋文化”强势入侵、娱乐快餐广为流传的当下，《中国诗词大会》《见字如面》《朗读者》等一批高而不冷的综艺界清流先后涌现，令传统文化回暖。面对这一现象人们众说纷纭。



(4) 请你任选其中两个观点，运用《文化生活》相关知识加以点评。(10分)

39. (12分) 全球化不是从来就有的，它是人类社会发展的—种现象和过程，是现代世界主客观条件共同发展成熟的产物，全球化经历了三个伟大的时代。

阶段	特征
全球化 1.0 (1492—1800 年)	哥伦布远航开启新旧大陆间的贸易。全球一体化的进程取决于一国的实力，即一国有多少马力、风力等。这一时期，受到宗教影响或帝国主义影响（或两者的结合），国家和政府利用暴力推倒壁垒，将世界的各个部分合并为一。
全球化 2.0 (1800—2000 年)	推动全球一体化的主要力量是跨国公司，这些公司到国外去的目的是要寻找市场、劳动力和资源。各国之间有充足的商品和信息的流动，出现了真正的全球市场，商品、劳动力和资源可以在全球范围内实现套利。 这一时期全球化的进程取决于硬件的突破——从早期的蒸汽汽船和铁路到后来的电话和大型计算机。铁路和蒸汽机带来了运输成本的下降；电话、电报、电脑、卫星、光纤电缆和初期互联网的发展带来了通信成本的下降。
全球化 3.0 (2000 年至今)	全球化的动力来自于个人，个人获得了新的机会能够在全世界范围内参与竞争和合作，能够让个人自由参与全球竞争的是软件和网络。应用软件和全球光纤网络的结合拉近了人们的距离，使人们变成了彼此的邻居。 现在，每个人都要问的问题是，我怎样才能融入全球竞争？我怎么能够通过自己和其他人开展合作？
全球化的未来	.....

阅读上述材料，围绕“全球化”这一主题，自选角度，自拟题目，运用《生活与哲学》相关知识，写一篇 200~300 字的短文。

要求：观点鲜明；可以全面论述，也可以就某一点深入分析；知识运用准确、贴切；论述合乎逻辑，条理清晰。

40. (18 分) 随着北京城市总体规划的实施，古老的通州焕发出新的生机。

北京通州大运河物质文化遗址名录（部分）

遗址名称	遗址说明
通惠河	元朝水利工程专家郭守敬开凿的运河，总长 164 华里，是元明清三代著名的运粮河。
张家湾码头遗址	元世祖时大都用粮依赖江南，张家湾成为运河码头，直至清嘉庆七年北运河改道而止，作为大运河北端码头达七百余年。
大运中仓、西仓遗址	元明清三代，每年要由南方诸省运来三四百万石漕粮，其中的十之二三储存在通州。明代在通州建四仓，到了清代仍沿用中、西二仓。
皇木厂村遗址群	包括皇木厂遗址、花斑石厂遗址和上、下盐厂遗址。明永乐年间建设北京，木材砖石多由大运河自南方运至此处存储。明清时期皇家建筑物料和官盐多在此储存。

(1) 结合材料，从历史研究的角度谈谈通州大运河遗址的价值。(8 分)

高三文科综合第 14 页 (共 16 页)



通州位于季风区，夏季局地短时强降水易引发内涝。2016年12月23日位于通州的行政办公区被列为“海绵城市”试点区域。图15为“海绵城市”水循环收集与释放示意图。据此，回答第(2)题。

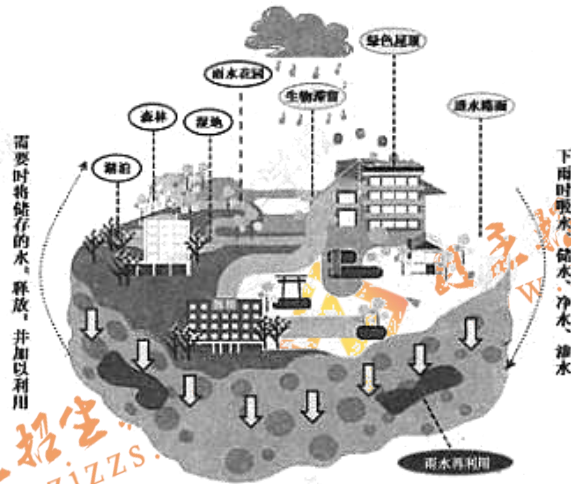


图15

(2) 简析建设“海绵城市”对缓解城市内涝所起的积极作用。(10分)

41. (26分) 美国的发展状况引发世人关注。

近年来，美国大力推进“再工业化”战略，一些市场主要在美国的技术导向型制造业相继从中国和其他国家迁回本土，制造业出现明显的“回流”现象。读图16，回答第(1)题。

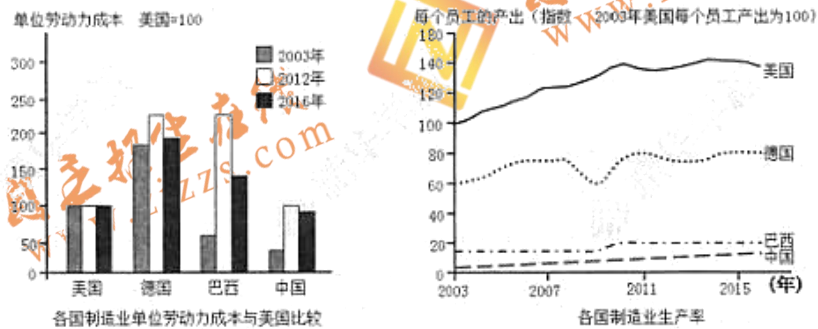


图16

(1) 简析影响技术导向型制造业“回流”美国的主要地理条件。(10分)

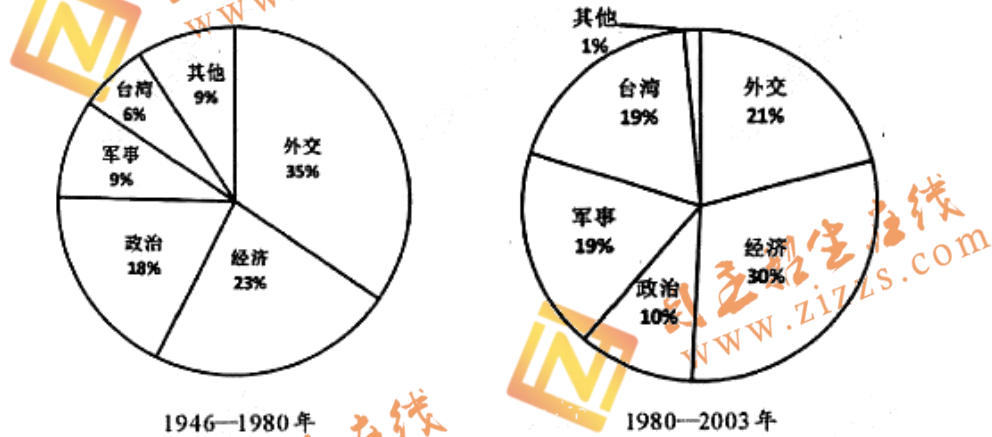
自2009年奥巴马执政以来,美国公共债务水平在过去8年从10.6万亿美元增长至19.7万亿美元,激增9万亿美元,在刚刚过去的2016财年里,债务增长1.4万亿美元,为历史最高水平。

当奥巴马入主白宫时,美国公共债务占GDP比例为73%;到特朗普上台时,债务占GDP的比重已达到109.8%,而国际警戒线是60%。

每年美国政府仅偿还国债利息就要筹集7000亿美元,前任美联储主席指出,到2020财年,美国政府需要筹集8140亿美元偿还国债利息,相当于当年政府预算的1/10。

(2)由此可见,美国经济是典型的\_\_\_\_\_经济。(1分)这种经济模式主要受到哪种经济学理论的影响,请简述其主要内容。(5分)

兰德公司是美国的一个智库,它先以研究军事尖端科学技术和重大军事战略而著称于世,继而又扩展到内外政策各方面,逐渐发展成为一个研究政治、军事、经济、科技、社会等各方面的综合性思想库。下面是兰德公司不同时代研究中国的出版物结构图。



——摘编自中华人民共和国国史网《美国当代中国研究》

(3)依据材料概括兰德公司关于中国研究的特点,结合所学历史知识分析形成这些特点的原因。(10分)



丰台区 2017 年高三年级第二学期综合练习（一）  
文科综合参考答案

一、选择题

1	2	3	4	5	6	7	8	9	10
B	D	C	B	D	A	C	C	A	B
11	12	13	14	15	16	17	18	19	20
D	B	D	C	A	D	D	A	C	B
21	22	23	24	25	26	27	28	29	30
C	B	A	C	D	B	A	D	B	B
31	32	33	34	35					
A	D	A	C	C					

二、非选择题

36. (36 分)

(1) (10 分)

纬度位置较低，年均温较高；(2 分) 地处我国西南部，深受夏季风影响，夏季降水丰富；(2 分) 海拔较高，夏季凉爽；(2 分) 冬季，南下冷气团受地形阻滞，形成准静止锋，该区域位于冷气团一侧，多阴雨；(2 分) 纬度较低，地势较高，气温年较差较小。(2 分)

(2) (10 分)

发展山地特色立体农业；(2 分) 实现农业的多种经营；(2 分) 发展农产品深加工，延长产业链；(2 分) 加大科技投入，提高农产品品质，提升农产品竞争力；(2 分) 充分利用“互联网+”，及时关注市场信息，调整农业生产类型和规模，并扩大产品市场；(2 分) 发展农业观光旅游；(2 分) 退耕还林还草，有效防治石漠化，形成良性农业生态环境。(2 分) (答出五点即可)

(3) (10 分)

交通运输出现高速化；(1 分) 交通线路增加；(1 分) 密度增大；(1 分) 综合运输网进一步完善。(1 分) 促进经济发展，推动工业化进程和产业结构调整；(1 分) 城市人口比重增加；(1 分) 城市数量增多，城市用地规模扩大，等级提升，城市等级体系更加完善。(4 分)

(4) (6 分)

该地区既有自然景观又有人文景观；(1 分) 空间分布比较广泛。(1 分)

暴雨、山洪、滑坡、泥石流。(4 分)

37. (34 分)

(1) (8 分)

共同点：在总原则上，都倡导家庭和谐。(2 分) 在家庭成员个人品行方面，强调个人修养；(2 分) 在家庭内部关系上，主张孝敬父母、兄弟和睦。(2 分) 在家国关系上，都认为治家与治国有很大关系。(2 分)

(2) (14 分)

趋势：在家庭体制上，由大家庭向小家庭演变，小家庭体制最终确立；在家庭成员关系上父权制最终被取代或发生变化，小家庭最终获得独立；在家庭功能上，家庭由生产单位逐步转变为生活单位；在家庭人数上呈现减少的趋势。(8 分)

因素：英国经济发展导致家庭演变(商品经济发展，工场手工业，工业革命)；

思想观念的变化导致家庭演变(文艺复兴倡导个人主义，启蒙运动提倡自由、平等)(6 分)

(3) (12 分)

论点明确：可选择其中一个观点确立论点，也可以综合两种论点确立论点。(2 分)

论据充分：选择与论点相关的证据，注意长时段与段时段，传统与现代等因素。(4 分)

论述合理：能够结合论点，准确阐述论据的价值；能够从正反两方面进行论述。(4 分)

总结提升：能够结论论述，形成启示性的认识。(2 分)

示例：

论点：废除旧式婚姻有利于思想解放(或赞成废除旧式婚姻的观点)

论据与论述：在几千年的传统社会中，大多数婚姻采取的是父母之命、媒妁之言的形式，严重压抑了人性，导致家庭悲剧频发。辛亥革命后，虽然推翻了帝制，但包括旧式婚姻在内的

旧有伦理道德依然存在，阻碍了社会进步。新文化运动提倡新道德，反对旧道德，倡导思想解放，废除旧式婚姻便自然而然成为一些激进人士的追求。由于家庭是社会的细胞，如果不打破其中的旧道德，社会变无从进步。

总结：因此，提倡废除旧式婚姻是时代发展的表现，对于促进中国社会进步是有利的。

38. (34 分)

(1) (4 分)

需求强，(1 分) 满足度低，(1 分) 市场机会大，(1 分) 应研发新产品。(1 分)

(2) (10 分)

政府提供政策支持，优化产业结构，优化产业环境，引导体育产业健康发展。(2分)  
体育行业中的相关企业应制定正确的经营战略；(3分) 坚持创新驱动；(3分) 加强大型场馆运营管理改革与相关人才培养；(1分) 提高服务质量，创建知名品牌。(1分)

(3) (10分)

政府制定相应行政法规，简政放权，促进养老产业发展；(2分) 政府履行组织社会主义经济建设职能，通过政策扶持，吸引资本流向养老业；(3分) 加强社会服务，搭建信息平台，有效整合资源；(3分) 政府坚持对人民负责原则。(2分)

(4) (10分)

任选两个观点加以评论，观点鲜明、论证充分、逻辑清晰。

等级水平	分值	等级描述
水平 4	8-10 分	观点鲜明，能明确表达自己的见解；紧扣问题，全面展开论述，或就某点深入分析；知识运用准确、贴切；逻辑严密，条理清晰
水平 3	4-7 分	观点比较明确，能表达自己的见解；能扣住问题展开论述，或能就某点分析；知识运用比较准确、贴切；逻辑性较强，有条理
水平 2	1-3 分	观点不明确；论述不能集中指向问题，罗列知识；知识运用不正确；论述缺乏逻辑，条理性差
水平 1	0 分	回答与试题无关，或重复试题内容，或没有回答

示例：小同的观点：传统文化是在长期历史发展中形成的，并保留在现实生活中具有相对稳定性的文化，是维系民族生存和发展的精神纽带，古诗词蕴藏着丰富的文化内涵，是中华民族传统文化的重要组成部分，电视作为大众传媒，通过节目进行文化传递、沟通、共享。

小宣的观点：大众文化应满足与引领人民群众精神文化需求；应大力发展先进文化，奏响主旋律；电视节目应与我国深厚文化底蕴和丰富文化资源相匹配，倡导人们思考与追求美好生活。

39. (12分)

等级水平	分值	等级描述
水平 4	9-12 分	观点鲜明，能明确表达自己的见解；紧扣问题，全面展开论述，或就某点深入分析；知识运用准确、贴切；逻辑严密，条理清晰
水平 3	5-8 分	观点比较明确，能表达自己的见解；能扣住问题展开论述，或能就某点分析；知识运用比较准确、贴切；逻辑性较强，有条理
水平 2	1-4 分	观点不明确；论述不能集中指向问题，罗列知识；知识运用不正确；论述缺乏逻辑，条理性差
水平 1	0 分	回答与试题无关，或重复试题内容，或没有回答

40. (18分)

(1) (8分)

通州大运河遗址有利于研究元明清时期的工程建筑、运河航运、经济格局、经济措施及北京发展的历史。(6分) 作为第一手材料，为历史学家研究上述内容提供了直接的物证，有助于弥补文字记载的不足和印证文献记载。(2分)

(2) (10分)

透水路面、雨水花园等增加下渗水量；(2分) 湖泊、湿地等利于蓄水；(2分) 减少地表径流；(2分) 森林、雨水花园等减缓地表径流速度；(2分) 减少地表水短时间的汇集量。(2分)

41. (26分)

(1) (10分)

美国政府的支持；(2分) 海外制造业劳动力成本上升；(2分) 制造业生产方式发生变革，生产技术水平提高，企业对劳动力数量需求减少；(2分) 美国劳动力素质高，劳动生产率水平高；(2分) 产品销售市场主要在美国。(2分)

(2) (6分)

债务经济 (或赤字经济)，(1分) 凯恩斯主义。(1分)

凯恩斯主张采取赤字财政政策，(2分) 通过扩大财政支付来增加投资，刺激消费，扩大需求。(2分)

(3) (10分)

特点：中国政治 (含外交、军事、台湾)、经济是研究的重点，80年代后关于经济、军事、台湾研究的比重增加。(4分)

原因：是与兰德公司本身的性质密切相关的。也与中国改革开放后经济发展迅速，综合国力增强相关，及台湾地区形势变化有关；还与美国的全球战略和国际局势的变化有关。(6分)



自主招生  
ZZZS.COM



WWW.ZZZS.COM

扫描二维码，关注自主招生官方微信！

查看更多自主招生相关资讯！

