

江西省 东乡一中 都昌一中 丰城中学 赣州中学 新八校  
景德镇二中 上饶中学 上栗中学 新建二中

2022届高三第二次联考文科综合试题

政治 命题人：东乡一中 张艳霞 审题人：东乡一中 李海波  
历史 命题人：东乡一中 陈志明 审题人：东乡一中 杨生良  
地理 命题人：赣州中学 刘方满 审题人：赣州中学 刘海香

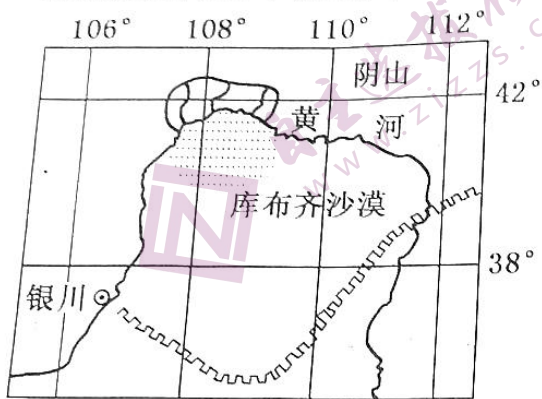
考试时间：120分钟 满分：150分  
第1卷（选择题 共140分）

6. (1) A

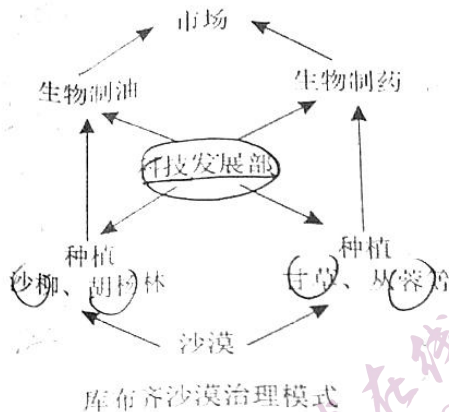
测试 158

一、选择题：本大题共35小题，每小题4分，共140分。在每小题给出的四个选项中，只有一项是符合题目要求的。

库布齐沙漠是中国第七大沙漠，当地人民不断探索沙漠治理技术，从传统植树到微创植树，从人工种植到无人机播种，经过几十年治理，2016年森林覆盖率、植被覆盖率已达到15.74%、53%。库布齐沙漠的治理并不限于防风固沙，还借助沙漠自然资源发展经济走出了一条“治沙、生态、民生、经济”平衡驱动的可持续发展之路，被联合国环境规划署确定为“全球沙漠生态经济示范区”。据此完成下面小题。



图例  
—— 长城  
..... 沙漠




库布齐沙漠治理模式

- 库布齐沙漠森林覆盖率、植被覆盖率大幅度提高的主导因素是 (A)  
A. 政策 B. 技术 C. 市场 D. 水源
- 与传统的沙漠治理相比，库布齐实现可持续发展的关键是 (A)  
A. 治沙技术的提高 B. 产业的协调发展 C. 生态环境的改善 D. 生活水平的提高
- 库布齐沙漠的有效治理对当地的影响不包括 (C)  
A. 调整当地产业结构 B. 改善能源消费结构 C. 扩大粮食生产规模 D. 减少沙尘暴的频率

稀土被称为“工业维生素”，在现代工业中广泛应用。江西赣州素有“稀土王国”之美誉，如今稀土产业规模占到全国总量的1/3。为使我国稀土产业可持续发展，2021年12月，由多家企业组建的中国稀土集团有限公司在赣州挂牌成立，作为江西第一家央企总部，不仅对于赣州发展稀土产业意义重大，对我国整个稀土战略而言亦有着举足轻重的作用。据此完成下面小题。

- 赣州发展稀土产业的主导因素是 (A)  
A. 原料 B. 动力 C. 政策 D. 交通
- 中国稀土集团落户赣州的原因主要是 (B)  
A. 政策支持 B. 产业基础好 C. 技术水平高 D. 劳动力丰富





13. 回首过去一年，数字化运营师、城市管理网格员……一大批具有创新活力的新职业出现在人们生活中，5G、人工智能、物联网等新技术得到了广泛应用，短视频、直播带货等在线娱乐、在线教育、互联网医疗等新模式成长壮大，为经济发展注入新的活力。它们能够为经济发展注入新的活力是因为

- ①新职业应运而生，扩大了就业，促进了人们创业  
②新技术的广泛应用，加速了落后传统产业的淘汰  
③新产业新业态新模式，为经济发展注入新的活力  
④“互联网+”等新模式推动了产业结构的优化升级

- A. ①② B. ①④ C. ②③ D. ③④

14. “十四五”规划中提出，要坚持扩大内需这个战略基点，加快培育完整内需体系，把实施扩大内需战略同深化供给侧结构性改革有机结合起来，以创新驱动高质量供给引领和创造新需求。不考虑其他因素，下列举措中符合上述要求的合理推导是

- ①优化产业结构→改善供给质量→提升供给体系对内需的适配性→激发消费热情  
②扩大外资准入负面清单项目→改善营商环境→保护消费者权益→增强消费信心  
③线上赋能实体商超→促进线上线下融合→补齐传统商业的短板→扩大消费规模  
④落实带薪休假制度→增加劳动者可支配收入→扩大节假日消费→释放消费动能

- A. ①② B. ①③ C. ③④ D. ②④

15. 江西某市出台政策，实施农业“一镇一品”示范建设工程，通过招商引资，引导龙头企业与试点镇对接，构建平价商店、机场超市、网站、连锁店等组成的网络化销售平台，显著带动了当地农业增效和农民增收。这一成效得益于

- ①借力政策扶持，整合资源优势 ②降低商品价格，确立竞争方向  
③创新营销模式，优化发展战略 ④调整消费结构，增加产品供给

- A. ②④ B. ①④ C. ②③ D. ①③

16. 2022年3月，江西省某地检察院邀请人民监督员，就拟向相关职能部门制发检察建议的重要性、可行性充分听取意见建议。随后，该地检察院依法先后向辖区教育局等部门发出行政公益诉讼诉前《检察建议书》，督促切实履行“双减”政策。相关单位收到《检察建议书》后高度重视，在多方共同努力下完成。这一案例表明

- ①深化司法民主建设能够提升司法机关履职水平  
②政府职能部门必须按照检察建议开展相关工作  
③司法对行政权力的监督有利于维护人民的利益

4. 内外监督相结合对改进政府工作有独特作用  
A. ①③ B. ②④ C. ②③ D. ②④

17. 当今时代正处于百年未有之大变局中，全球治理体系与国际关系变化的不适应、不对称日益上升。面对这一大变局，前所未有，保护主义、单边主义愈演愈烈，不稳定不确定因素增多。我国应：  
① 顺应国际关系民主化，增强广大发展中国家话语权  
② 适应当今时代主题的变化，发挥负责任大国的作用  
③ 坚持共商共建共享，构建公正合理的国际治理体系  
④ 构建人类命运共同体，维护合作共赢的国际新秩序  
A. ①② B. ②④ C. ①③ D. ③④

18. 《博物馆说》网络短视频推广活动开展以来，已展播了我国 143 家博物馆的馆藏珍品，为群众送上一份云端“文化大餐”，使广大群众足不出户便能穿越时空打卡全国博物馆，了解文物故事，漫游历史文化长河。江西省某校高三某班拟组织撰写相关新闻报道，可使用的观点有：  
① 满足人民群众的文化需要，是文化创新发展的目的所在  
② 发展高科技的博物馆，在资源整合中追求经济效益  
③ 建设有声音的博物馆，在文化传承中讲好中国故事  
④ 打造有魅力的博物馆，在文化传承中走向异同融合  
A. ①② B. ①③ C. ②③ D. ①④

19. 由中央宣传部着力打造的互联网学习平台“学习强国”于 2019 年 1 月 1 日正式上线。这是一个多媒体呈现、多资源聚合、多技术应用的融媒体平台，共有“学习新思想”“环球视野”“学习慕课”等 17 个板块 180 多个一级栏目，内容极为丰富，很快在全国党员、干部和群众中掀起了学习热潮。由此可见：  
① 壮大主流舆论需要促进传播内容与形式的创新  
② 把握时代脉搏才能满足人民群众精神文化需求  
③ 网络传媒是信息社会文化传播的主要手段  
④ 树立文化自信取决于对传统文化的创新性发展  
A. ①② B. ①④ C. ②③ D. ③④

20. 一百年来，党领导人民浴血奋战、百折不挠，创造了新民主主义革命的伟大成就；自力更生、发愤图强，创造了社会主义革命和建设的伟大成就；解放思想、锐意进取，创造了改革开放和社会主义现代化建设的伟大成就；自信自强、守正创新，创造了新时代中国特色社会主义的伟大成就。党和人民百年奋斗，书写了中华民族几千年历史上最恢宏的史诗。这体现了：  
① 我国社会变革实践的自觉性、创造性不断增强  
② 实践具有社会历史性  
③ 实践是认识发展的动力  
④ 实践在认识的指导下不断发展  
A. ①② B. ②③ C. ①④ D. ③④

21. 2021 年是中国加入世界贸易组织 20 周年。入世 20 年，中国勇敢迈向世界市场，其间呛过水，遇到过漩涡，遇到过风浪，但在其中学会了游泳。如今中国已经成为全球第二大经济体、第一大货物贸易国，入世 20 年来对全球经济增长的年均贡献率接近 30%。这蕴含的哲学道理是：  
① 事物发展道路是曲折的，发展前途是光明的  
② 积累正确的主观因素是成功改造世界的基础  
③ 量变积累到一定程度就必然推动事物的发展  
④ 人们改造客观世界的活动具有社会历史性  
A. ①② B. ②③ C. ①④ D. ③④

称前  
局。

22. “车联网”是指以车载网为中心的，整合信息通信、移动互联网、云计算、大数据技术等，在经济、社会生活各部门的扩散、应用与互动的合作，首次将大数据分析体系引入汽车领域，实现了品牌定位和有效创新。从哲学的角度看，上海大众汽车全车遵循“普遍—特殊—普遍”的认识秩序，契合了历史的统一。

- ①能顺势而为，不失时机地促成企业经营方式的飞跃
- ②善于根据事物的固有联系，充分利用有利条件，建立了互联网与传统行业融合发展的新形态、新业态
- ③善于抓住品牌经营中市场营销这一主要矛盾，有效地提升品牌的核心竞争力

A. ①③ B. ①④ C. ②③ D. ②④

23. 湘赣两省共同主办的中国红色旅游博览会确定以“红色土地·全面小康”为主题，一张张展板、一件件文物诉说着先烈们的崇高精神和价值追求，参观的青年学生们以鞠躬、敬礼、献花等方式表达着对革命先辈的崇敬之情，纷纷表示继承先烈遗志，当好社会主义事业建设者和接班人。这说明( )

- ①价值判断和价值选择具有社会历史性和主体差异性
- ②价值观对人们认识活动和实践活动具有导向作用
- ③人们应树立理想信念，在努力奉献中实现自我价值
- ④选择正确的人生发展道路需要树立正确的价值观

A. ①② B. ①③ C. ②④ D. ③④

24. 《礼记·礼运》曰：“故圣王所以顺，山者不使居川，不使渚者居中原，而弗敝也。“郑玄注：“山者利其禽兽，(渚者)利其鱼盐，中原利其五谷，使各居其所安，不易其利劳敝之也。民失其业则穷，穷则滥。此段对话反映了儒家( )

- A. 认为百姓富裕是治国之本
- B. 主张人与自然应和谐共处
- C. 存在自由主义的思想倾向
- D. 主张重农轻利的治国理念

25. 考古工作发现距窦皇后陵 800 米的江村大墓为“亚”字形(汉代当时是帝后配置)，地表无封土，这与《史记·孝文帝本纪》中“治霸陵皆以瓦器……不治坟”的记载十分吻合。符合汉代帝后合葬的“同茔异穴”。(墓室四周外藏坑出土了许多分别刻着“中司空印”“车府”等等字样印章。据此可知( )

- A. 西汉初经济得到一定恢复发展
- B. 江村大墓体现了汉初治国理念
- C. 西汉初女性地位有了一定改善
- D. 实物史料比文献史料价值更高

26. 宋代政府对私营工商业应因势利导，达到官民共利；从直接全面垄断到间接部分垄断。这种转变主要表现在治理者与被治理者之间出现平等自愿、共利双赢的关系，以及市场性政策工具特有的公开、公平竞争和订立契约。这一转变( )

- A. 打破了官营手工业的垄断
- B. 促进了经济重心南移完成
- C. 体现了国家治理手段的转变
- D. 实现了商品经济空前发展

27. 与初登准噶尔部汗位的达瓦齐交战失败后阿睦尔撒纳请求归附清廷，1754 年，清皇帝于山庄内举行了隆重的欢迎仪式后，又招待阿睦尔撒纳等人一道观看了精彩的马术表演。西洋画师郎世宁等对此进行了纪实性描绘(见下图)。据此可知该画( )



28. 1895年《马关条约》签订之后，在士大夫群体之中，赞成变法的已经成为主流。以康梁为代表的新崛起的文人士大夫意识到不变重无法度过危机，他们在精神气质上继承的是具有个人意志和思想解放色彩的阳明心学，试图掀起一轮从思想解放到激进变革的狂澜。这说明了当时（B）
- A. 具有较高史料价值和艺术价值
  - B. 反映了中外经济文化交流频繁
  - C. 布局气势恢宏具有较强写意性
  - D. 体现了清朝宫廷生活豪华奢侈

29. 蒋介石说：“现在欧战既起，促进远东问题解决的中国抗战，已与促进世界问题解决的欧洲战争，在东亚、西欧同时并进。我们已经获得一个中国问题将随世界问题之解决而解决的基础。”这主要表明了蒋介石认识到（B）
- A. 康梁等具有浪漫主义精神色彩
  - B. 变法图存成为社会共识
  - C. 救亡图存的变法运动发展迅猛
  - D. 中国传统文化根深蒂固

30. 中国内外历史条件变化迫切需要强大的重工业基础。（优先发展重工业需要政府具有强大的动员能力和资源配置能力，而新中国私营和个体经济与资源配置集中化、计划化不相适应，这就要求建立社会主义的管理体制和经济体制。据此可知（D）
- A. 中国战场决定了远东战场的走势
  - B. 中国战场中的利害成败深受欧洲战场影响
  - C. 中国抗争与欧洲战争是并进关系
  - D. 中国的抗战与世界反法西斯战争连为一体

31. 在论述十三大确定的初级阶段发展战略时，邓小平说道：“现在一百年已经过去三十八年，还有六十二年，所以说我们的路还很长。以后的六十二年，我们还要夹着尾巴做人。”邓小平的这一思想主要反映了当时（B）
- A. 过渡时期总路线是历史发展的产物
  - B. 建国初国家经济落后于西方国家
  - C. 工业状况不适应社会主义建设需要
  - D. 计划经济体制有利经济恢复发展

32. 古典民主仅把“自由”定义为个人参与政治活动的自由，似乎人只应为公共政治而生活，个人在公共权力面前也没有任何自我保护的能力，现代民主赋予个人的自由则广泛得多，个人既有权参与政治活动，也有权不受非议地放弃公共政治而从事一切私人的合法活动，而政府的主旨也正是保护这种个人自由权利不受任何势力侵犯。材料旨在强调（D）
- A. 现代民主和古典民主相比是一种进步
  - B. 古典民主无法解决民主与自由之间的矛盾
  - C. 现代民主里个人自由权利受政府保护
  - D. 现代间接民主比古典直接民主有制度优势

33. 英国当时的教育模式是与社会发展相适应的，但初等教育的普及化却并不能创造和支持出更先进的生产力，……工业革命的技术创新并不复杂，人人能从变革中受益，教育的边际收益因此递减，民众的教育需求也因此逐渐减弱，唯有国家干预才能改变这种状况。这主

9:00~11:00

- 要说明了
- A. 工业革命阻碍了英国初等教育的发展  
B. 工业革命促进了英国高等教育的发展  
C. 自由放任政策影响了美国教育的发展  
D. 工业革命推动了美国国家教育观念的转变
34. 表1 1913~1998年世界主要地区人均GDP(年均复合)增长率(%)

国家或地区	年份		1950~1973	1973~1998
	1913	1950		
甲	1.50	3.49	2.90	1.40
乙	-0.60	8.05	4.08	5.60
丙	0.89	2.34	1.78	
丁	0.76			

——据安格斯·麦迪森《世界经济千年史》整理

据表1判断,甲、乙、丙、丁所代表的国家或地区依次为( )

- A. 东欧和前苏联、日本、西欧、中国  
B. 日本、东欧和前苏联、中国、西欧  
C. 东欧和前苏联、中国、日本、西欧  
D. 西欧、中国、东欧和前苏联、日本
35. 国际经济体系已经全球化,而世界政治结构还是以民族国家为基础,全球化的经济管理者几乎没有机会参与全球化的政治进程,而政治进程的管理者不愿意冒失去国内支持的风险对经济或金融问题未雨绸缪。这一现象反映了( )
- A. 国际逆全球化现象普遍存在  
B. 世界政治组织和经济组织不同步  
C. 政治管理者违背了历史潮流  
D. 世界的秩序结构存在着重大缺陷

第II卷(非选择题 共160分)

本卷包括必考题和选考题两部分。第36题~42题为必考题,每个试题考生都必须作答。第43~47题为选考题,考生根据需求作答。

(一) 必考题

36. (24分) 阅读材料, 回答问题:

材料一: “东数西算”中的“数”, 指的是数据; “算”指的是算力, 即对数据的处理能力。“东数西算”工程, 即通过构建数据中心、云计算、大数据一体化的新型算力网络体系, 把东部的数据传输到西部进行计算和处理。

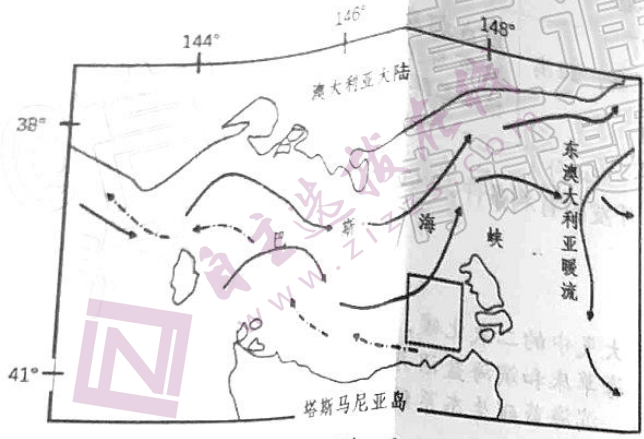
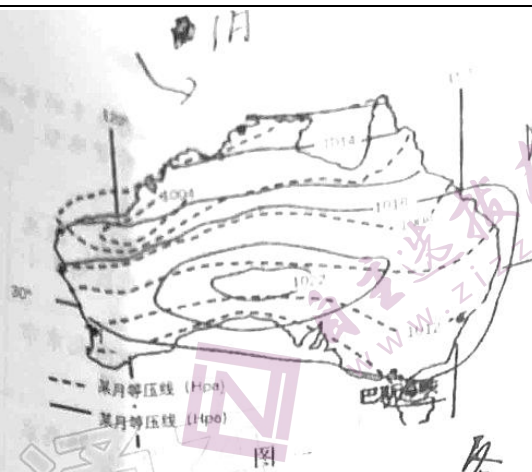
材料二: 2022年2月, 国家发改委联合多部门印发通知, 同意在京津冀、长三角、粤港澳大湾区、成渝、内蒙古、贵州、甘肃、宁夏等8地启动建设国家算力枢纽节点(分单一行政区枢纽节点和跨区域枢纽节点), 并规划了10个国家数据中心集群。依托这8个算力枢纽, 有利于集中政策和资源, 着力优化网络、能源等配套保障, 更好引导数据中心集约化、规模化、绿色化发展, 带动数据中心相关产业由东向西有效转移。



- (1) 据图描述两类算力枢纽节点的空间分布特征, 并分别说明其优势区位条件(12分)
- (2) 推测东数西算能带动哪些产业的转移(6分)
- (3) 东数西算可以加快“碳达峰、碳中和”目标的实现, 试分析其原因(6分)

100~11.5°

37. (22分) 阅读材料, 完成下列要求。  
 巴斯海峡位于澳大利亚大陆与塔斯马尼亚岛之间, 其海水流动受风季节变化影响。下图一是澳大利亚大陆与塔斯马尼亚岛之间的等压线分布图, 图二是巴斯海峡海水的水龄分布图。海水的水龄(海水在某一海域水体的停留时间)与海水的水龄密切相关。研究表明, 巴斯海峡的水质一般大于表层。研究表, 巴斯海峡的水质和(图二中方框范围)海水水龄较大, 海洋生物造成一定影响。根据图二回答问题



高压: 冬  
低压: 夏

- (1) 根据海陆热力性质差异, 判断图一中虚线与实线分别表示的月份并说明理由。(6分)
- (2) 根据图一, 推测图二中甲、乙洋流分别出现在什么季节。(6分)
- (3) 请根据图二中所给的信息, 分析方框内表层海水水龄较大的原因。(6分)
- (4) 图二方框内海洋水龄大, 分析其对海洋生物的有利与不利影响。(4分)

元  
员  
192  
视觉  
基层  
上  
紧升  
解

4

38. 阅读材料, 完成下列要求。(共14分)

材料一: 近五年来我国GDP增长速度、人均可支配收入增长速度及消费对经济增长贡献率表

年度项目 (%)	2015年	2016年	2017年	2018年	2019年	五年平均
GDP 增长速度	7.3	6.9	6.7	6.8	6.6	6.8
人均可支配收入增长速度	8.0	7.4	6.3	7.3	6.5	7.1
消费对经济增长的贡献率 (%)	48.8	59.7	66.5	58.8	76.2	62

材料二: 在我国, 中等收入群体已经成为消费结构升级的“主力军”。目前我国中等收入群体超过4亿人, 但是我国中等收入群体所占比例远远低于发达国家。要推动消费结构升级, 就要继续扩大中等收入群体比例。从国际经验看, 中等收入群体比例的提高不仅依赖于居民收入增长, 还受分配、财税政策等因素的影响。另外, 还应该注意我国现有的中等收入群体数量尚不够稳定; 有些人的收入可能因工作变动、家庭变故等不确定因素而受到影响, 甚至成为低收入者。

- (1) 材料一反映了哪些经济信息?(4分)
- (2) 结合材料, 运用经济与社会的知识, 说明我们应如何扩大中等收入群体比例。(10分)



39. 阅读材料,完成下列要求。(12分)

2021年是中国共产党成立100周年。党支部是党的基础组织,是党组织开展工作的基本单元,在党的发展壮大中发挥了“战斗堡垒”的关键作用,担负着直接教育党员、管理党员、监督党员和组织群众、宣传群众、凝聚群众、服务群众的职责。党支部是党的全部工作和战斗力的基础。党的一切工作到支部,党的一切工作靠支部。从1921年毛泽东在湖南领导“三湾改编”首次提出“支部建在连上”以来,党的十八大以来,习近平总书记高度重视党支部建设,对新时代党支部建设提出了一系列新思想新论断新要求,推动全党形成了大抓基层、大抓支部的良好态势。到今天发展为“支部建在村上”“支部建在楼上”“支部建在项目上”,全党460多万个党支部在基层工作中唱主角,像一张庞大的神经网络,把9000多万名党员紧紧联结在一起。党支部唱主角并不是唱独角,做好基层工作,需要大合唱,唱出主旋律才能提升支部组织力、强化政治功能,把党员群众紧紧聚合在一起。做好基层工作党支部唱主角并不是唱独角。运用中国共产党的相关知识谈谈你对此的理解。(12分)

40. 阅读材料,完成下列要求。(共26分)

奥林匹克运动承载着人类对和平、团结、进步的共同追求。今天,它已经远远超出体育竞技范畴,成为全人类的文化盛会。

材料一:2022年春节,北京冬奥会吸引了全世界的目光。冬奥场馆、会徽、吉祥物、奖牌等。随处可见中国传统元素。开幕式上,充满中国韵味的“二十四节气”创意倒计时影像“黄河之水”幻化出的“冰雪五环”、象征团结共赢的“大雪花”惊艳了世界。来自中国大山里的孩子们用希腊语完美演绎《奥林匹克圣歌》,由19首各国名曲串烧组成的运动员入场式背景音乐。也火出了圈。绿色、共享、开放、廉洁的办奥理念,生态修复、协同发展、赛后利用的多重考哥。创造了一个个奇迹,兑现了对全世界的庄严承诺。这场简约、安全、精彩的奥运总会为冰雪健儿们提供了超越自我的舞台,努力在世界各国之间建立相互沟通的平台,让本届冬奥会成为而年冬季奥运会上新的里程碑。

材料二:赛场内,奥运健儿们争金夺银、如火如荼;赛场外,吉祥物冰墩墩爆红网络。软萌可爱的大熊猫,是国际上接受程度比较高的中国元素。设计者摆脱了传统的元素思维运用系统思维,操弃了手绘、水墨等传统方式运用三维技术进行创作,把国家速滑馆“冰丝带”扣到了“冰墩墩”的头盔上,流动的色彩线条象征冰雪运动的赛道和5G高科技。整体造型像航天页。寓意创造非凡探索未来,体现了追求卓越、引领时代以及面向未来的无限可能。大熊猫覆盖着冰晶外壳。体现了冬奥冰雪主题:“墩墩”意喻敦厚、健康、活泼、可爱,契合熊猫的整体形象,象征着冬奥会运动员强壮的身体,坚韧的意志和鼓舞人心的奥林匹克精神。

- (1) 结合材料一和文化生活知识,说明这场惊艳世界的冰雪之约所具有的文化意义。(12分)
- (2) 结合材料二并运用创新意识的知识,分析冰墩墩“一墩难求”的原因。(10分)
- (3) 第31届世界大学生夏季运动会将于2022年6月26日至7月7日在成都举行-需要大量志愿者,如果你是一名招募者,请你列两条吸引青年人参加志愿服务的理由。(4分)

43. (10分) 【旅游地理】

近年来，“微度假”旅游已成为众多游客的首选。从目前来看，微度假目的地主要可分为民宿集群型、户外营地型、康养疗愈型、特色景观型。

类型	典型	区位	客源	业态
民宿集群型	计家墩理想村	苏州市昆山锦溪，距离上海和苏州市区均1小时车程	以上海为主体的核心客群	民宿集群+餐饮+咖啡馆+手作工坊+亲子乐园+市集
户外营地型	日光山谷	北京密云，距离北京市区约1小时车程	以北京及周边的城市为主体的核心客群	露营住宿+会所+户外运动+自然教育+亲子娱乐+餐饮配
康养疗愈型	青城山六善酒店	都江堰青城山，距离成都约1小时车程	以成都为主体的核心客群	精品酒店+六善 SPA+生态有机农庄+儿童俱乐部+特色餐饮
特色景观型	浮云牧场	四川阿坝州理县，距离成都170公里	以成都及周边的城市为主体的核心客群	主题酒店+帐篷体验区+景观拍照打卡地+牧场养殖+种植观赏体验区+恒温半山泳池+儿童游乐房

- (1) 简述微度假旅游的特征。(4分)  
(2) 简析微度假旅游目的地开发的有利条件。(6分)

44. (10分) 【环境保护】

利用海洋活动及海洋生物吸收大气中的二氧化碳，并将其固定、储存在海洋的过程、活动和机制则被称作“蓝碳”。红树林、海草床和滨海蓝藻并称三大滨海蓝碳生态系统，是实现碳中和不可忽视的“中流砥柱”。但目前，滨海蓝碳生态系统面临严峻挑战，以每年34万至98万公顷的速度遭受破坏。

简述滨海蓝碳生态系统的生态功能及保护滨海蓝碳生态系统的公民行为。

45. [历史——选修1：历史上重大改革回眸] (15分)

材料 “民二以前，盐款收入，既无考核，又不统一。各省税课例归中央稽核，但出入款项，报部者仅止十分之二三，均系内销之款，其外销之款并不报部。提用盐款，听凭各省随意挪移，而盐务机关率皆任意滥支，从无一标准。”北洋政府建立后，基本承袭这一制度。在内外压力之下，北洋政府决定对盐税管理体制进行改革。

北洋政府在北京设立盐务稽核总所，在全国各产盐区设立盐务稽核分所，后北洋政府经过与五国银行团交涉，颁布了《盐务署稽核总所章程》和《盐务署稽核分所章程》，由盐务稽核系统全权负责盐税的收支管理和审核。1913年12月24日，颁布了《盐税条例》，规定：盐税率为每百斤2.5元，废除以前各种名目繁多的盐税课目，盐税“除依本条例征收外，不得另以他种名目征税”。在一定程度上改变了过去各地税率税目混乱不一的情况，“比较以前税率多至七百余种者，已呈统一之象矣。”又在在盐务稽核系统的基础上着为完善盐务管理制度，堵住征税环节漏洞，有效防止食盐走私，为食盐增产和盐税增收提供制度保障。加强缉私立法，建立了相对完善的缉私制度，明确了缉私部门和地方官员缉私职责，这在一定程度上打击了食盐走私行为，挽回了盐税损失。1916年袁世凯病逝后，由于全国政局不稳，盐税体制改革逐渐陷入停顿。

——摘自岳瑾明《民国初期北洋政府盐税体制改革浅析》

- (1) 根据材料，简析民国初期北洋政府盐税体制改革原因，并概括改革的措施。(9分)  
(2) 根据材料并结合所学知识，说明民国初期北洋政府盐税体制改革主要意义。(6分)

目  
假

46. [历史——选修3: 20世纪的战争与和平] (15分)

材料 1991年7月, 华约宣布解散, 新独立的俄罗斯为谋求西方经济援助而从东欧地区收缩力量, 使东欧地区出现“力量真空”的局面。同时, 东欧各国由于内部民族、宗教等矛盾冲突及受到外部力量威胁等因素, 希望得到北约确实的安全保障。1997年7月, 波兰、匈牙利和捷克三国正式加入北约, 北约完成首轮东扩, 将己方军事防线向东推进了700-900公里, 逼近了俄罗斯边界。

苏联解体后, 美国认为“灾祸帝国”已不存在, “一个扩大和民主的欧洲必须是一个没有尽头的历史进程, 不应受在政治上任意涂抹的地理的限制”。而西欧外交官则认为“如果欧洲国家团结起来, 我们的力量不会比美国弱, 通过北约东扩, 我们向成员国以外的国家证明了一种有用的东西”。

——摘编自《光明日报: 北约东扩是引爆乌克兰危机的罪魁》

- (1) 根据材料并结合所学知识, 概括指出北约东扩的原因。(8分)
- (2) 根据材料并结合所学知识, 分析北约东扩对国际关系的影响。(7分)

47. [历史——选修4: 中外历史人物评说] (15分)

材料一 普朗克(1858—1947)十分具有音乐天赋, 曾为多首歌曲作曲, 但他在大学选择专业时, 决定学习物理。他的物理老师曾劝他不要学习物理, 认为“这门科学中的一切都已经被研究了”, 这也是当时许多物理学家所坚持的观点, 但普朗克说: “我只希望理解已经存在的物理学基础, 或许能将其加深。”普朗克中年以后家庭遇到了不幸, 1909年, 妻子去世, 后来大儿子死于凡尔登战役, 二儿子因参与暗杀希特勒未遂而被纳粹杀害, 然而普朗克仍以顽强的毅力潜心研究物理学。他发现了普朗克辐射定律, 提出量子假设, 为量子理论奠基, 1918年获得诺贝尔物理学奖。纳粹政权统治下, 他反对种族灭绝政策, 并坚持留在德国尽力保护各国科学家。

——摘编自冯士超《世界科技发展史话》

材料二 邓稼先(1924—1986)在抗日战争胜利后便投身到争取民主、反对国民党统治的斗争中。他认为只有学习更先进的知识和本领才能报效祖国, 于1947年通过了赴美研究生考试, 进入美国普渡大学学习, 由于学习成绩突出, 一年多就获得了博士学位, 被称为“娃娃博士”。美国政府打算用优越的科研条件、生活条件留住他, 但被邓稼先婉言谢绝了, 在新中国百废待兴之际回到祖国, 并隐姓埋名, 在茫茫戈壁数年如一日从事核武器研究, 他的团队攻坚克难、费尽心血, 使新中国成功地研制出原子弹、氢弹, 被授予“两弹元勋”。

——摘编自杨振宁《邓稼先》

- (1) 根据材料一、二, 比较普朗克和邓稼先科技研究的异同。(8分)
- (2) 根据材料一、二并结合所学知识, 分别概括普朗克和邓稼先科技成就的影响。(7分)

## 关于我们

自主选拔在线是致力于提供新高考生涯规划、强基计划、综合评价、三位一体、学科竞赛等政策资讯的升学服务平台。总部坐落于北京，旗下拥有网站（[网址: www.zizzs.com](http://www.zizzs.com)）和微信公众平台等媒体矩阵，用户群体涵盖全国90%以上的重点中学师生及家长，在全国新高考、自主选拔领域首屈一指。

如需第一时间获取相关资讯及备考指南，请关注**自主选拔在线**官方微信号：**zizzsw**。



微信搜一搜

自主选拔在线