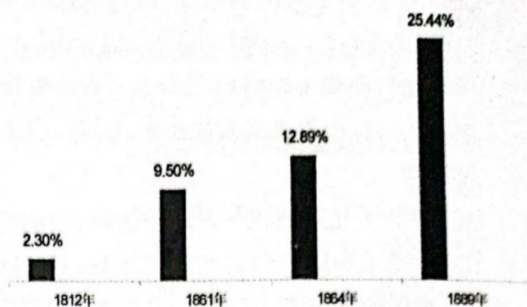


6. 右图为 1812—1889 年海关关税占清政府财政收入比重情况, 这反映了这一时期

- ①中国日益卷入资本主义世界市场
- ②中外贸易量迅速增长
- ③清政府财政收入结构发生变化
- ④列强加紧了对华资本输出

- A. ①②③
- B. ②③④
- C. ①②④
- D. ①③④



7. 对于某段历史, 鲁迅先生曾深有感触地说: “见过辛亥革命, 见过二次革命, 见过袁世凯称帝、张勋复辟, 看来去, 就看得怀疑起来, 于是失望、颓唐得很了”。下列事件不属于发生在这一时期的是

- A. 胡适发表《文学改良刍议》
- B. 荣氏兄弟创办福新面粉公司
- C. 北洋政府向德、奥宣战
- D. 中共建立中华苏维埃共和国

8. 下图为某时期《农民日报》上刊登的一幅宣传画, 以下选项与该画宣传内容无关的是

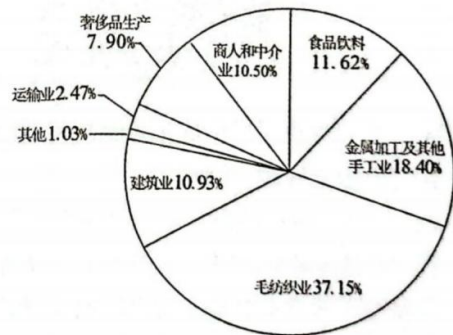


- A. 《中共中央关于彻底平分土地问题给中央工委的复示》
 - B. 《中国土地法大纲》
 - C. “地主减租减息，农民交租交息”
 - D. 号召各解放区贯彻全国土地会议精神
9. 目录是一本著作浓缩的精华, 目录研读是历史学习的一种重要方法, 下表为《剑桥中华人民共和国史》前二个目录中的其中四章, 对此按发生时间先后排序正确的是

模仿苏联模式 (1949—1957) 与寻求中国道路 (1958—1965)	
①	一边倒: 毛泽东和斯大林
②	百花运动
③	万隆方针
④	大跃进的经济策略

- A. ①②③④
- B. ①③②④
- C. ①③④②
- D. ②③④①

10. 2017年11月13日,美国公布的《时代》周刊杂志封面用中文和英文两种语言写着“中国赢了”(China Won),这是时代周刊历史上第一次用两种语言刊登标题。这一期杂志的《中国经济是如何赢得未来的》一文中,布雷默指出,如今中国已经成为全球经济领域最具实力的国家,并提出五个事实来解释为何中国正在超越西方。下列选项在布雷默文章中不可能提及的是
- A. 中共十九大顺利召开,中国特色社会主义进入了新时代
B. 肯定了中国社会主义政治体制和经济模式存在着优越性
C. 中国的“一带一路”给世界和中国提供巨大经济推动力
D. 中国已经全面实现了国家治理体系和治理能力的现代化
11. 埃及旅游和文物部2023年3月6日宣布,考古学家在埃及南部的哈索尔神庙附近出土一尊“带着笑脸和两个酒窝”的狮身人面像。这尊狮身人面像是在“一处两层墓穴内部的拜占庭式池子之中”发现的,旁边是一座“刻有文字的罗马石碑”。考古学家认为这尊狮身人面像或属于罗马皇帝克劳迪乌斯(公元41年—54年在位)。据此,下列解读不正确的是
- A. 此罗马石碑上的文字可能为象形文字
B. 这尊狮身人面像是希腊化时代的产物
C. 反映罗马帝国统治范围扩展到北非地区
D. 这尊狮身人面像或受埃及法老文化影响
12. 在欧洲殖民者到来以前,美洲的印第安人创造出了独特的文化。玛雅人、阿兹特克人和印加人都有建造规模宏大的金字塔,他们在塔顶建立起祭祀神灵的神庙,祭司也在塔上观察天象。其中著名的羽蛇神金字塔坐落于
- A. 阿兹特克文明区 B. 玛雅文明区
C. 印加文明区 D. 大洋洲文明区
13. 右图为中古后期的西欧城市布鲁日(今比利时)的职业构成比例,这种现象出现主要由于
- A. 城市经济的发展
B. 教会实力的衰落
C. 大陆法系的推动
D. 民族国家的形成
14. 骑士文学在中古西欧文化中占有重要地位,大多反映骑士阶层的道德和理想。下列属于西欧骑士文学代表作的是
- A. 《神学大全》 B. 《列那狐的故事》 C. 《罗兰之歌》 D. 《伊戈尔远征记》
15. 李伯重指出:在世界所有国家中,只有英国是自发地从传统农业社会过渡到近代工业社会的唯一事例。虽然任何国家的近代工业化都离不开一定的外部影响,但是相对于其他任何国家而言,只有英国的工业革命主要是在“自己完成的经济循环”的基础上发生的,从而带有某种“自立性”的色彩。对此李伯重强调英国工业化模式具有
- A. 普遍性 B. 特殊性 C. 偶然性 D. 必然性

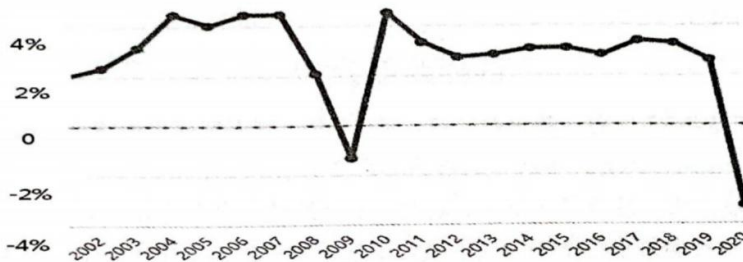


16. 右图的海报题名为《人民胜利备忘录》。它显示了一个君主将权力交给武装士兵和武装工人所象征的革命力量。背景中有一枚冉冉升起的太阳，它是自由的象征。这海报反映的主题最有可能是



- A. 战时共产主义政策引发政治危机
- B. 新经济政策巩固了苏维埃政权
- C. 俄国二月革命推翻了沙皇专制
- D. 俄国十月革命实现了社会主义

17. 下图为 2002 年—2020 年的全球 GDP 增长率（数据来源于世界银行），下列解读正确的有



- ①世界经济的不确定性突出，增长动能不足
- ②发展中国家经济发展道路仍然充满曲折与挑战
- ③2008年国际金融危机对世界经济产生严重影响
- ④随着全球化的发展，世界范围内贫富分化加剧

- A. ①②
- B. ①④
- C. ①③
- D. ②③

二、选择题 II (本大题共 5 小题, 每小题 3 分, 共 15 分。每小题列出的四个备选项中只有一个是符合题目要求的, 不选、多选、错选均不得分)

18. 关于某部重要典籍的编修缘起,《唐会要》中记载:“开元十四年,右丞相张说奏曰:‘《礼记》汉朝所编,遂为历代不刊之典。今去圣久远,恐难改易。今之五礼仪注,贞观、显庆两度所修,前后颇有不同,其中或未折衷。望与学士等更讨论古今,删改行用。’制从之。”以下关于该典籍的叙述正确的是

- A. 继承汉以来立法经验,礼法结合的典范
- B. 推广魏晋以来家训经验,强化基层教化
- C. 我国现存最早的行政法典——《唐六典》
- D. 成为秦汉以来封建礼仪制度的集大成者

19. 2023 年 3 月 13 日,国务院总理李强出席记者会时重谈浙商“四千精神”,即“走千山万水、吃千辛万苦、想千方百计、说千言万语”,最早的完整文字表述出自 1985 年《解放日报》的报道,该报道可直接用于研究

- ①经济体制改革的开展
- ②个体私营经济的发展
- ③市场经济体制的确立
- ④现代企业制度的推广



- A. ①②
- B. ②③
- C. ②③④
- D. ①②③④

20. 某一大教堂因罗马式穹顶而闻名于世, 它于公元 537 年完工, 1453 年以后被土耳其人占领, 改建成为清真寺。1935 年改为博物馆, 1985 年列入世界文化遗产。该大教堂位于下图中的



- A. ① B. ② C. ③ D. ④

21. 下表为 16 世纪至 20 世纪末世界人口的主要迁移情况。以下对应关系不正确的是

时间	主要移出地	主要移入地
1500~1850 年	欧洲、①	美洲
1850~1945 年	欧洲、②	美洲
1945~1970 年	非洲、亚洲	北美、西欧、大洋洲
20 世纪七八十年代	非洲、亚洲	③、东亚、北美
20 世纪九十年代	④、亚洲	西欧、北美

- A. ①——非洲 B. ②——大洋洲 C. ③——中东 D. ④——东欧

22. 对同一历史事件, 往往有不同的记载, 玄武门之变就是其中一例。下列项中, 对“玄武门疑云”解读不正确的是

材料一	(武德九年六月) 四日, 太宗将左右九人至玄武门自卫……俄而东宫及齐府精兵二千人结阵驰攻玄武门……太宗左右数百骑来赴难, 建成等兵逆败散。 ——《旧唐书》(注: 《旧唐书》成书于五代时期)
材料二	(地府判官) 自出问头(写在纸上审讯犯人的问题)云: “问大唐天子为甚杀兄弟于前殿, 囚慈父于后宫?” (皇帝) 问头寻读, 闷闷不已。 ——《唐太宗入冥记》(注: 成书于武则天时期, 是民间话本)
材料三	常何的墓志铭中记载: 武德七年, (常何) 奉太宗令追入京, 赐金刀子一枚……九年六月四日, 令总北门之寄(负责玄武门守卫)。
材料四	太宗见六月四日事, 语多微文(隐晦)。乃谓玄龄曰: “宜即改削浮词, 直书其事。” ——(唐)《贞观政要》

- A. 材料一和材料二对玄武门之变阐述不同,因而不能由此得出确定的历史结论。
- B. 材料二和材料三都是唐朝遗留下来的史料,一定程度上可互相印证李世民发动政变。
- C. 材料三是一手史料,可作为直接证据证明玄武门之变是李世民安排常何蓄谋发动的。
- D. 材料四反映统治者有干预史官修史的意图,因此其后成书的官修正史可能遭到篡改。

非选择题部分

三、非选择题(本大题共 3 小题,其中第 23 题 18 分,第 24 题 17 分,第 25 题 16 分,共 51 分)


23. 赋税是国家取得财政收入的重要形式。阅读材料,完成下列要求。(18 分)

材料一

秦赋户口,百姓贺死而吊生。故秦谣曰“渭水不洗口赋起”。

——《七国考·秦食货》引《咸阳大事记》

材料二

 <p>唐朝怀集庸调银饼</p>	<p>国家定两税,本意在爱人。厥初防其淫,明敕内外臣: 税外加一物,皆以枉法论。奈何岁月久,贪吏得因循。 浚我以求宠,敛索无冬春。织绢未成匹,缲丝未盈斤。 里胥迫我纳,不许暂逡巡……昨日输残税,因窥官库门。 缿帛如山积,丝絮如云屯。号为羨余物,随月献至尊。 夺我身上暖,买尔眼前恩。进入琼林库,岁久化为尘。</p> <p>——白居易卷 2《重赋》</p>
--	---

材料三

中国成立后由于经济基础和税收制度构建的特殊性,我国个人所得税收入在税收收入中所占的比重极小,且逐渐呈下降趋势,因而其财政功能和收入调节功能都极为有限。为了适应改革开放的需要,特别是出于解决来华工作外籍人士的个人所得税问题,财政部税务总局从 1978 年底开始研究建立个人所得税制度的问题。根据“税负从低、优惠从宽、手续从简”的原则,1980 年通过并公布实施了《中华人民共和国个人所得税法》。

——赵仁平《近现代中国个人所得税功能的历史变迁》

- (1) 据材料一并结合所学,指出秦朝农民需承担的赋役并分析秦朝崩溃的原因。(6 分)
- (2) 指出材料二中左图所示赋税制度的名称及其实施的基础。根据材料二并结合所学,分析两税法实施的利弊。(7 分)

- (3) 根据材料三并结合所学, 分析 1980 年我国颁布《中华人民共和国个人所得税法》的原因并用一句话概括其颁布的意义。(5 分)

24. 交通不仅是联系地区间发展的一个重要媒介, 它更是历史发展的助推器。阅读材料, 完成下列要求。(17 分)

材料一

2000 多年前中国最早的运河即是出于作战需要而诞生, 此后不论是中原地区发动统一战争还是对岭南等边疆地区的远征时, 都曾大规模地修挖运河, 以实现快速转运军队和后勤补给的目的。隋唐以后经济重心和政治重心南北分离的局面使得大运河成为了维系帝国统治和国防安全的大动脉。通过大运河源源不断地将南方的粮食、赋税等输送到北方, 为都城供给“养分”, 运河因此也被赋予了更多的经济政治方面的功能, 甚至催生了一批运河城市和运河文化, 然而其军事上的重要性并未因此而降低, 反而有所提升。

——侯杨方、陈熙《千年运河: 中华帝国的军事大动脉》

材料二

诞生于北非和西亚之间广袤干旱地带的诸多文明, 很快就建立起了属于自己的帝国, 在与游牧民族的不断斗争中, 甚至形成了横跨欧亚大陆的庞大帝国。但是, 以欧亚大陆为中心的历史舞台, 还不到整个大陆面积的 1/3, 要想将整个地球作为历史的舞台, 就必须将五大洲和三大洋联合在一起。而直到人类开辟出“海上的航线”之后, 我们的世界才像现在这样属于一个整体。

——【日】宫崎正胜《航海图的世界史——海上道路改变历史》

材料三

速度是交通的灵魂, 是人类的永恒追求, 速度的进步也推动着人类文明的进步。人类对快捷和高速的追求一直没有停止过, 高速化成为现代交通运输追求的重要目标。高速化可显著提高运输工具的运行速度, 缩短运输时间, 增加通过能力。当今的高速公路、高速铁路和超音速飞机, 充分体现了交通运输高速化的发展趋势。

——徐飞《世界交通运输的发展趋势与挑战》

- (1) 试举一例秦远征岭南时修挖的运河名称, 根据材料一概括中国古代运河具备哪些作用?(6 分)
- (2) 材料二中“人类开辟出‘海上的航线’”指什么事件? 结合所学, 列举该事件的主要标志, 并分析为什么该事件后“我们的世界才属于一个整体”? (7 分)
- (3) 根据材料三并结合所学, 回答第一次工业革命时人类为追求“快捷和高速”发明的交通工具以及中国进入“高速公路时代”、“高速铁路时代”的标志。(4 分)

25. 阅读材料，回答问题。（16分）

材料一

魏晋之际，内迁中原的各少数民族政权基本上都采用汉魏以来的政治制度。前赵刘渊为了取得汉人的支持，自称是汉朝皇帝的外甥，建国号汉，祭祀汉高祖以下三祖五宗。后赵石勒任用汉族士人张宾为谋主。政治上继续推行九品中正制，典定士族，令胡人不得欺侮衣冠华族。文化教育上兴办太学和宣文、宣教、崇儒、崇训四门小学 10 余所。这些政策都有力地促进了后赵境内各少数民族的汉化。

——晁福林《中国古代史》

材料二

世界历史上游牧世界对农耕世界的三次大冲击

时间	概况
公元前 2 千年代中叶开始	由北方来的以战车为武装的各个部族，以印欧人为主力，对古代亚欧大陆整个农耕世界的入侵
公元 1 世纪左右 - 7 世纪	以闪人为主力，具有骑兵优势的北方游牧或半游牧部族对农耕世界的冲击。卷入的部族最多，包括阿尔瓦人、西部印欧种人的日耳曼各支、斯拉夫各支、闪族的阿拉伯人等
13 世纪开始	最后一次，也是范围最广的一次，主要是蒙古人及大量突厥人对东亚、中亚、南亚、西亚、东欧和中欧的入侵

材料三

恩格斯说：“对拿破仑的胜利就是欧洲的君主国对法国革命的胜利”。然而，法国大革命所开辟的资产阶级革命时代，并不会因为拿破仑帝国的覆灭而停止前进的步伐。

——吴于廑齐世荣《世界史近代史编》上卷

- （1）根据材料一和所学，写出魏晋之际内迁中原的三个少数民族名称，并概括中国古代少数民族从哪些角度进行华夏认同？（6分）
- （2）参考材料一二三，自选一个角度，运用相关史实，围绕文化交流与传播主题写一则历史短文，题目自拟。（要求：观点明确，史实准确，条理清晰，表述成文）。（10分）

关于我们

自主选拔在线是致力于提供新高考生涯规划、强基计划、综合评价、三位一体、学科竞赛等政策资讯的升学服务平台。总部坐落于北京，旗下拥有网站（网址：www.zizs.com）和微信公众平台等媒体矩阵，用户群体涵盖全国 90% 以上的重点中学师生及家长，在全国新高考、自主选拔领域首屈一指。

如需第一时间获取相关资讯及备考指南，请关注**自主选拔在线**官方微信号：**zizzsw**。



微信搜一搜

浙考家长帮

