

座位号
高 考
利 剑
考场号
江西科学技术出版社 盗版必究
准考证号
ISBN 978-7-5390-8374-2
姓名
卷 试 进 班 级

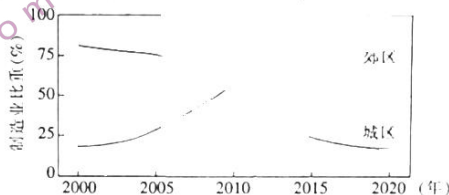
绝密★启用前

2022—2023 学年高三 5 月高考适应性大练兵联考 文科综合

注意事项:

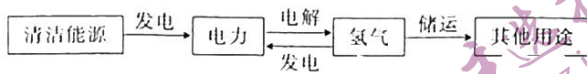
1. 答卷前,考生务必将自己的姓名、准考证号等填写在答题卡 and 试卷指定位置上。
2. 回答选择题时,选出每小题答案后,用铅笔把答题卡上对应题目的答案标号涂黑。如需改动,用橡皮擦干净后,再选涂其他答案标号。回答非选择题时,将答案写在答题卡上。写在本试卷上无效。
3. 考试结束后,将本试卷和答题卡一并交回。

一、选择题:本题共 35 小题,每小题 4 分,共 140 分。在每小题给出的四个选项中,只有一项是符合题目要求的。
下图示意我国东部某城市产业空间变化,2000 年到 2020 年,该城市制造业规模显著扩大。据此完成 1~2 题。



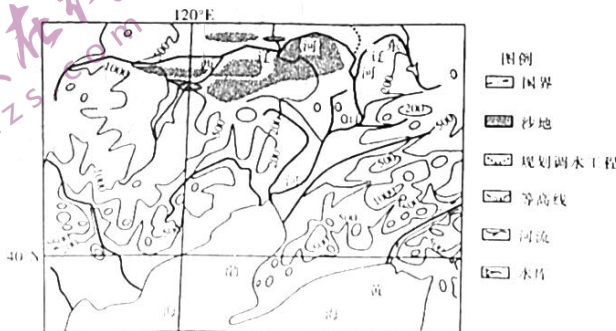
1. 2000 年到 2020 年,该城市郊区
 - A. 粮食播种面积增加
 - B. 蔬菜播种面积减少
 - C. 老年人口比重下降
 - D. 少儿人口比重上升
2. 2010 年该城市
 - A. 城区商业用地明显增加
 - B. 郊区居住用地明显减少
 - C. 制造业产值城区与郊区相当
 - D. 服务业从郊区向城区转移

制取氢气的一般方法是电解水,氢气属于清洁能源。当前我国制氢的重心在沿海地区。下图是我国制氢的一般流程。据此完成 3~5 题。



3. 我国沿海地区用于制氢的清洁能源主要是
 - A. 水能
 - B. 风能
 - C. 太阳能
 - D. 天然气
4. 与西部地区相比,我国将沿海地区作为制氢重心的好处是
 - A. 提高电力供应总量
 - B. 降低氢气储运成本
 - C. 提高清洁能源消费比重
 - D. 降低化石燃料消费比重
5. 电解水的合理时机是
 - A. 氢气对外输出低谷
 - B. 氢气对外输出高峰
 - C. 清洁能源发电低谷
 - D. 清洁能源发电高峰

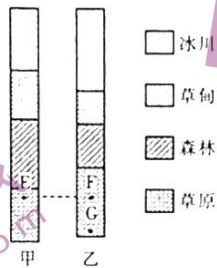
下图是辽河流域(局部)干支流及地形分布略图。辽河干流泥沙淤积严重,河床抬高明显。图中规划调水工程,拟从松花江向辽河输水。据此完成 6~8 题。



文综 第 1 页(共 8 页)

6. 辽河干流的泥沙主要来自
- A. 东辽河
C. 干流东侧坡地
B. 西辽河
D. 干流西侧坡地
7. 泥沙淤积可能造成辽河干流
- A. 流速加快
C. 流量季节变化减小
B. 河面变窄
D. 地下水补给减少
8. 调水工程实施初期, 辽河干流
- A. 含沙量增大
C. 结冰期缩短
B. 输沙量增大
D. 出现凌汛现象

下图示意某内陆地区山地自然带分布, 甲、乙代表不同坡向。据此完成9~11题。



9. 甲坡比乙坡
- A. 热湿
B. 热干
C. 冷湿
D. 冷干
10. 若图中 E、F 两处积雪期长度相同, 则 E 处比 F 处积雪期
- ① 开始早
② 开始晚
③ 结束早
④ 结束晚
- A. ①③
B. ①④
C. ②③
D. ②④
11. 乙坡植物长势 G 处优于 F 处, 原因是 G 处
- A. 热量充足
B. 降水丰富
C. 地下水埋藏浅
D. 土壤透水性好
12. 1999 年前后, 一台 21 英寸的显像管彩电价格近 4000 元, 2009 年 42 英寸液晶电视 6000 多元, 2016 年降至 2000 多元, 2023 年一台 42 英寸 4K 高清智能电视有的已不足千元。电视价格的这种变动
- A. 主要是由于生产力进步导致价值量降低引起的
B. 体现供求关系变化引起的价格围绕价值上下波动
C. 反映了供给结构优化推动居民的消费逐渐升级
D. 是通货紧缩的表现, 会抑制企业扩大投资积极性
13. 专业化整合, 是指企业通过资产重组、股权合作、资产置换、无偿划转等多种方式, 将资源向优势企业和主业企业集中。2022 年, 我国中央企业实施专业化整合项目 1272 个, 其央企内部资源整合项目 803 个、央企间整合项目 154 个、央地整合项目 138 个、外部资源整合项目 177 个。加速央企专业化整合旨在
- ① 优化国有经济布局, 推动经济高质量发展
② 实现不同所有制经济优势互补、共同发展
③ 增强国有经济核心功能, 提高央企竞争力
④ 构建中国特色企业制度, 增强管理科学性
- A. ①②
B. ①③
C. ②④
D. ③④
14. 2023 年国家财政预算报告明确要求: “从严控制一般性支出, 强化‘三公’经费预算管理, 不该上的项目一个不上, 不该花的钱一分不花, 把更多财政资源腾出来用于稳增长、稳就业、稳物价。”由此可以推断出
- ① 强化预算管理将促使我国财政收支由赤字转向平衡
② 我国精准实施减税降费政策, 助力市场主体发展
③ 我国努力优化财政支出结构, 提升财政治理效能
④ 我国强化预算资金管理, 提高财政资金的使用效率
- A. ①②
B. ①④
C. ②③
D. ③④
15. 再贷款是中央银行为实现货币政策目标而对金融机构发放的贷款。2023 年 2 月 13 日, 中国人民银行与中国交通运输部、银保监会联合印发通知, 将交通物流专项再贷款延续实施至 2023 年 6 月底, 发挥结构性货币政策工具的引导作用。该政策产生影响的传导路径是
- A. 增加货币供应量 → 支持金融机构扩大消费贷款 → 充分发挥消费的基础性作用
B. 引导金融机构贷款方向 → 保障交通物流业融资需求 → 助力国民经济循环畅通
C. 增加金融机构可使用资金数量 → 满足金融机构资金支付需要 → 稳定金融信用
D. 支持交通物流业创新发展 → 助力企业扩大科研资金投入 → 实现科技自立自强

文综 第 2 页 (共 8 页)

16. 某市人力资源服务管理部门设立“找不到工”反映窗口,重点解决高校毕业生、大龄就业困难人员、农民工等群体就业问题。收到登记表后,窗口工作人员要在5个工作日内给出推荐岗位,并安排专人跟踪进度。对此概括准确的是
- ①优化行政机构设置,提升公共服务效能
②建设服务型政府,践行为人民服务宗旨
③畅通求助渠道,解决群众急难愁盼问题
④完善就业分配机制,实现更高质量就业
- A. ①③ B. ①④ C. ②③ D. ②④
17. 在中国共产党领导下,我国不断完善社会治理体系,提高公共安全治理水平,保障人民安全,成为世界公认最安全的国家之一。这表明
- ①党坚守人民立场,维护人民利益
②党的领导是我国的最大政治优势
③党始终坚持依靠人民创造历史伟业
④党依法执政的意识和能力不断增强
- A. ①② B. ①④ C. ②③ D. ③④
18. 2019年10月,全国人大常委会授权国务院在自贸试验区进行试点改革,与国际通行规则接轨,取消对外贸易经营者备案登记。在三年改革试点基础上,2022年12月30日,全国人大常委会修订对外贸易法,从立法层面全面取消备案制。同日,商务部门停止办理对外贸易经营者备案登记。在上述过程中
- ①我国履行以和平方式解决国际争端的义务
②生动体现了民主集中制的组织和活动原则
③实现了依法治国与深化改革开放同频共振
④国务院在全国人大常委会领导下认真履职
- A. ①② B. ①④ C. ②③ D. ③④
19. 一部电视剧,唤醒一座城。电视剧《去有风的地方》开播后,云南大理的美景美食和丰富多彩的非遗项目再次走入观众视野,也带动了当地旅游复苏。剧中隽秀婀娜的自然风光与悠闲惬意的慢节奏生活,吸引了大量年轻人。由此可见,该电视剧
- ①为优秀传统文化的传播提供了有效途径
②在潜移默化中对观众的文化选择产生影响
③实现了社会效益与经济效益的同步提高
④满足了群众的精神需求,促进了经济发展
- A. ①③ B. ①④ C. ②③ D. ②④
20. 党的十八大以来,我国经济社会发展取得新的历史性成就,实现新的历史性跨越,综合国力跻身世界前列,日益走近世界舞台的中央。但国际社会对我国还存在“认知错位”,如何扭转国际传播的“中国音量”与国家发展的“中国体量”不适应的现状,成为重大而紧迫的课题。为此需要
- ①建设文化强国,满足群众日益增长的文化需求
②加快国际传播能力建设,增强我国国际影响力
③厚植文化自信,夯实中国式现代化的文化根基
④讲好中国故事,展示可信可敬可爱的中国形象
- A. ①② B. ①③ C. ②④ D. ③④
21. 许多自然灾害发生之后,会诱发出一连串的次生灾害,这种现象被称为灾害链。比如某地可能因为下了一场暴雨造成溃坝,进而导致下游发生洪水或者山体滑坡。灾害链变化多端,影响因素极为复杂,准确预测的难度很大。目前,人们已经可以依托先进的通信技术和观测设备对灾害链的变化作出比较准确的判断,通过发布灾害预警,最大限度降低损失。这表明
- ①人能认识和改变对人们有害的灾害链
②正确把握自然规律,能让自然为人服务
③人类不断提高实践活动的自觉能动性
④意识活动具有主动创造性,能预测未来
- A. ①② B. ①③ C. ②④ D. ③④
22. 从哲学角度看,克服漫画《扯皮》中出现的问题需要



扯皮


- ①树立全局观念,局部工作不能偏离整体目标
②准确把握事物的发展趋势,增强必胜信心
③坚持系统优化的方法,优化局部工作的管理
④坚持联系的观点,在联系中正确认识问题
- A. ①② B. ①④ C. ②③ D. ③④
23. 有网友以“丑化女性”“无原则歌颂滥杀无辜”等为由,建议把《水浒传》相关内容从中小学语文课本清除出去。此前,也有“专家”以“父亲”横穿月台违背交通规则为由,建议删除中学课本中朱自清的散文《背影》。无一例外,这些主张都遭到众多网友的反。从哲学角度看,下列能支持反对者主张的理由有

文综 第3页(共8页)

- ①价值判断具有社会历史性,不能脱离具体的历史条件去评价文学人物
 ②喜爱文学经典的读者众多,文学经典在语文课本中是不可被取代的
 ③社会意识具有相对独立性,文学经典能被不同时代的人所认同和接受
 ④正确把握事物性质要分清矛盾的主次方面,不能任意歪曲文学经典
- A. ①②
 B. ①④
 C. ②③
 D. ③④
24. 在周代宗法社会下,宗族内部有着巨大的凝聚力,宗法制演变出的宗法观念初步形成了“父慈子孝、兄良弟悌、夫义妇听、长惠幼顺、君仁臣忠”。由此可知,材料意在说明
- A. 宗法制与儒家学派的关系
 B. 分封制度与宗法制度的关系
 C. 道家学派与宗法制的关系
 D. 分封制度与墨家学派的关系
25. 以下是西汉时期的赋税种类及纳税占比统计表。

赋税项目	政府财政收入(五铢钱)	小农纳税量	百分比
田租刍稿(秦、汉田赋的一种)	34.5 亿	21.6 亿	62.6%
算赋口赋	38.7 亿	20.1 亿	51.9%
更赋(纳钱代更役的赋税)	50.2 亿	50.2 亿	100%
合计	123.4 亿	91.9 亿	74.5%

- 据表中信息可知,西汉时期
- A. 苛捐杂税种类繁多
 B. 官民劳役负担沉重
 C. 财产税额占比较高
 D. 农业经济占据主导
26. 从“贞观之治”到“开元盛世”,书法的风格发生了很大的变化,从唐初的方整劲健逐渐向着雄浑的方向发展。以下能够体现这种风格的是



A



B



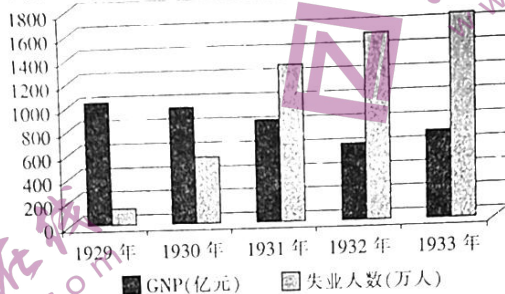
C



27. 明朝嘉靖、万历年间,瓷器行业出现了新的生产形式——“官搭民烧”,这时民窑的技术水平已很高,生产的产品蜚声海内外。很多来自外地的商人和游民也加入到生产领域。这说明,明朝
- A. 雇佣劳动迅速发展
 B. 社会观念有所变化
 C. 民窑实力超过官营
 D. 海外市场持续扩大
28. 1840—1895 年期间,在古巴和秘鲁的“华工”身价达 400 元,而成本却仅仅是 110—120 元。在运费上,每名“华工”的运费为 50 到 60 元,但成本却不到 5 元。这些现象
- A. 推动了近代传统文化的传播
 B. 刺激了列强掠夺华工的行动
 C. 导致了西学东渐现象的质变
 D. 促进了资产阶级革命的发生
29. 孙中山在 1905 年《民报》发刊词中指出:“世界开化,人智益蒸,物质发舒,百年锐于千载,经济问题继政治问题之后,则民生主义跃跃然动,二十世纪不得不为民生主义之擅场时代也。”这表明,孙中山认为“民生主义之擅场时代”的前提是
- A. 民智开化,经济发展
 B. 农民壮大,民生渴求
 C. 工业繁荣,民权实现
 D. 思想解放,革命高涨
30. 1941 年 12 月,华北地区日本侵华军队总兵力达 47 万之多,而且还集中了南京傀儡政权投入战场的全部伪军 150 多万人。这一现象主要源于
- A. 国民党正面抗战的结果
 B. 国共两党合作抗日成绩显著
 C. 反法西斯同盟国的支持
 D. 共产党敌后抗战有力抵抗
31. 20 世纪 80 年代末 90 年代初,寄望于一步到位的价格改革闯关受挫,一些人把计划和市场的问题同社会主义制度联系起来,提出姓“社”还是姓“资”的问题。这些事件
- A. 反映了真理标准问题的讨论成果
 B. 表现了党和政府维护主权的决心
 C. 体现了民众在思想意识上的认知
 D. 促进了市场经济体制的直接建立

文综 第 4 页(共 8 页)

32. 屋大维执政时期(公元前30年至公元14年),罗马政府授予权威法学家以“公开解释法律的特权”,承认这些法学家的著作享有与法律同等的效力。这一“授权”有利于
- A. 成文法的出现 B. 公民法的形成 C. 自然法的制订 D. 万民法的发展
33. “文艺复兴之父”彼特拉克,既鞭挞教廷的虚伪,又长期在教廷担任要职;既大胆追求爱情和幸福,有时又认为这是邪恶;既热爱祖国和人民,又轻视和脱离群众。由此可知,彼特拉克
- A. 具备精致细腻的思想 B. 带有新旧过渡时代的特征
C. 体现产业革命的意识 D. 强调对自由和平等的诉求
34. 下图是1929年至1933年美国部分经济数据情况



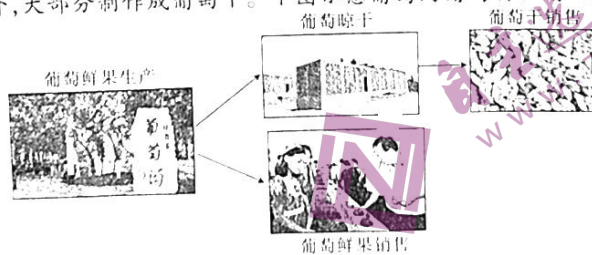
- 由图中信息,可以推知美国
- A. 国家垄断迅速发展 B. 体制危机趋于严重
C. 金融调整影响稳定 D. 国际贸易形势严峻
35. 20世纪40—50年代,是美苏两极格局时期,然而到了60年代,以美、苏、日、欧、中等五大力量及一些地区性大国或国家集团为基本架构的多极化格局已经有所表现。20世纪90年代,这种趋势在继续加强。以上格局的演变反映了
- A. 第二次世界大战的影响 B. 美苏的利益博弈
C. 国际力量的调整与分化 D. 集团的势力增强

二、非选择题:本卷包括必考题和选考题两部分。第36~42题为必考题,每个试题考生都必须作答。第43~47题为选考题,考生根据要求作答。

(一)必考题:共135分。

36. 阅读图文材料,完成下列要求。(24分)

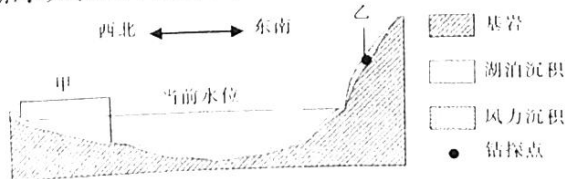
葡萄沟位于吐鲁番盆地,以盛产葡萄而得名。每年8月,是葡萄沟采摘葡萄的季节,收获的葡萄鲜果,除小部分直接销售外,大部分制作成葡萄干。下图示意葡萄沟葡萄转化情况。



- (1) 结合地形,推测葡萄沟的位置特点。(4分)
- (2) 葡萄沟的葡萄品质优良,简述其自然原因。(6分)
- (3) 解释葡萄沟盛产葡萄干的社会经济原因。(6分)
- (4) 与葡萄鲜果相比,分析葡萄沟葡萄干市场销售的时间差异。(8分)

37. 阅读图文材料,完成下列要求。(22分)

10万年来,新疆某地地壳稳定,该地Q湖一直以冰川融水补给为主,受气温波动影响,湖泊水位变化较大。下图为Q湖湖盆及相关沉积地层地质剖面略图。图中甲地是乙地沉积物的沙源地,钻探发现,乙地距今5万年到3万年期间形成的沉积地层中,沉积物粒径由下向上递减。



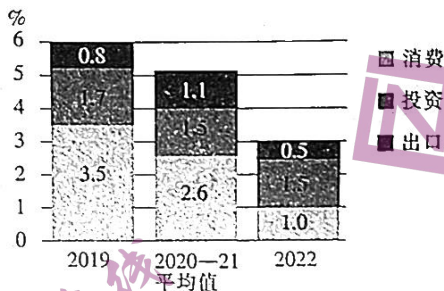
文综 第5页(共8页)

- (1) 乙地风力沉积主要发生在冬半年,简述其原因。(6分)
 (2) 与高水位相比,从粒径、厚度角度分析 Q 湖低水位地质时期乙地沉积物的特点。(8分)
 (3) 推测距今 5 万年到 3 万年期间 Q 湖盐度的变化特点。(8分)

38. 阅读材料,完成下列要求。(14分)

中央经济工作会议提出,着力扩大国内需求,要把恢复和扩大消费摆在优先位置。

材料一 2019—2022 年我国消费、投资、出口对 GDP 增长的贡献情况



注:消费、投资、出口拉动经济增长的总和为 GDP 增速,如 2022 年 GDP 增速为 3%,其中消费拉动 GDP 增长 1%,投资拉动 GDP 增长 1.5%,出口拉动经济增长 0.5%。

材料二 2023 年一季度经济数据显示,当前我国消费整体性回稳的同时,存在结构性不均衡状态:文化旅游、交通出行、住宿餐饮等部分人力密集型行业经营超预期恢复,住房、汽车等大宗消费的活跃程度弱于部分行业的恢复势头,消费增长的潜力仍需拓展。同时,一些潜在甚至迫切的消费需求仍得不到有效满足,与居民日常生活密切相关的便民类、保障类、提升生活品质类消费现状,消费者还不够满意。构建放心满意的消费环境任重道远,成为抑制消费不容回避的难题和堵点。

- (1) 材料一反映了哪些经济信息?(4分)
 (2) 结合材料和经济生活知识,说明我国如何促进消费持续回升。(10分)

39. 阅读材料,完成下列要求。(12分)

当今世界正经历百年未有之大变局,世界又一次站在历史的十字路口。对此,中国提出了一系列主要主张和倡议,受到国际社会的积极响应和支持。

2021 年 9 月,为破解发展难题,习近平主席在联合国大会首次提出全球发展倡议。目前已有 100 多个国家和国际组织支持全球发展倡议;2022 年 4 月,面对国际安全局势持续复杂变化,习近平主席在博鳌亚洲论坛首次提出全球安全倡议,已有 80 多个国家和地区组织表示赞赏、支持全球安全倡议。

2023 年 3 月,面对近年地缘政治冲突加剧,西方煽动文明冲突,加剧不同文明仇恨隔阂,阻碍全球交流合作,习近平总书记在中国共产党与世界政党高层对话会上首次提出全球文明倡议,着眼于推动文明交流互鉴、促进人类文明进步,为推动人类现代化进程、推动构建人类命运共同体注入强大正能量。全球文明倡议一经提出,就引发国际社会积极反响。

结合材料和政治生活知识,分析三大全球倡议会得到国际社会支持的原因。(12分)

40. 阅读材料,完成下列要求。(26分)

没有调查,就没有发言权。重视调查研究,是我们党在革命、建设、改革各个历史时期做好领导工作的重要传家宝,是做好各项工作的基本功。习近平总书记强调:“正确的决策离不开调查研究,正确的贯彻落实同样也离不开调查研究。”

中共中央办公厅印发《关于在全党大兴调查研究的工作方案》,要求弘扬调查研究优良传统。中央这一次重提调查研究,主要是针对党和国家面临的新形势新任务,向全党提出 12 个方面的调研内容,希望通过调研找到破解难题的办法和路径。

这次调研虽然承担新的使命,却也是调研的一种延续和升华。新征程上,领导干部要用好调查研究这个“传家宝”,要学会运用互联网、大数据等现代信息技术,提高调研的科学性和实效性。党的二十大相关工作网络征求意见活动、“十四五”规划编制工作网上意见征求活动,都是新时代创新调研方式的具体实践。

- (1) 运用在“实践中追求和发展真理”的知识并结合材料,分析为什么全党要大兴调查研究之风。(12分)
 (2) 此次调研,是党的优良传统的一种延续和升华。结合材料并运用“文化传承与创新”知识对此加以说明。(10分)
 (3) 某校拟对中学生网络素养开展调查研究,请你提出一个方法并说明调查内容。(4分)

41. 阅读材料,完成下列要求。(25分)

材料一 1923 年 5 月 24 日,共产国际给中国共产党第三次全国代表大会发出指示,要求中共把土地革命和农民问题放在首位。共产国际认为,“中国共产党作为工人阶级的政党,应当力求实现工农联盟”,为达到这个目的,必须“没收地主土地,没收寺庙土地并将其无偿地分给农民”“建立农民自治机构,

文综 第 6 页(共 8 页)

并由此机构负责分配没收的土地”。指示同时要求国民党“无条件地支持中国北方和南方的工人运动”；要求国民党“吸引中国最广泛的民主力量参加反对北洋军阀和外国帝国主义的斗争”。同时要把抵制日货的运动，发展成为中国民主力量的普遍的反帝运动，并要求废除英、美以及其他帝国主义的国家强加给中国的条约和债务。

——摘编自薛衔天、金东吉《民国时期中苏关系史》(1917—1949年)

材料二 1953年苏联对中国的主要援助

技术类型	苏联援助的主要内容
机械制造技术	向中国提供了大量机床、生产线等机械设备，并派遣了专家为中国提供技术支持
建筑工程技术	为中国提供了大量的规划设计和工程施工技术，支持中国建设基础设施
电力工程技术	向中国提供了电力工程设备和技术支持，帮助中国建设电网和发电站
航空航天技术	向中国提供了飞机、导弹等航空航天设备和技术支持，并帮助中国培养了一批技术人才
农业技术	向中国提供了农业机械、肥料等农业设备和技术支持，帮助中国提高粮食产量
技术援助的结果	帮助了新中国工业化、现代化建设。但是，苏联向中国提供的设备和技术不完全适合中国的国情和实际需求，同时苏联也在技术转让过程中保留了一定的竞争优势和高额利润

——摘编自刘日新《新中国经济建设简史》

- 根据材料一并结合所学知识，简析1923年共产国际给中共提出指示的国际国内背景以及主要内容。(10分)
- 根据材料二并结合所学知识，归纳苏联在1953年援助中国经济建设的特点，概括苏联援助的影响。(10分)
- 根据以上材料并结合所学知识，简析苏联两次帮助中国对我们的启示。(5分)

42. 阅读材料，完成下列要求。(12分)

材料 1662年，葡萄牙国王约翰四世的女儿凯瑟琳公主嫁给了英国国王查理二世。在婚宴上，这位新王后并没有饮用王宫贵族向她敬献的各种美酒，却饮用一杯不知何物的红色饮品。绝大多数当时的王公贵族并没有见过或者喝过红茶，内心暗暗惊奇。当时出席宴会的法国王后尤其好奇，私下里安排自己的侍卫悄悄潜入王后寝宫一探究竟。然而这一举动却惊动了王宫卫士，侍卫被当场抓住，也就有了轰动一时的“红茶窃案”。原来凯瑟琳公主嗜好饮用红茶，她的陪嫁里就有几箱珍贵的中国茶叶，婚宴上所饮用的“红液汁”，按茶色可以判断是红茶。这事件使得查理二世和英国贵族开始认识红茶并激起了饮用红茶的兴趣。

凯瑟琳公主喜好饮用红茶，她认为常饮既能提神又可保持苗条身材，她是英国历史上第一位饮用红茶的皇后，她的行为对当时的社会各阶层都能产生影响。上行下效，饮用红茶在英国宫廷中成为一种风尚，贵族们纷纷效仿起来。红茶于18—19世纪在英国普及，饮用红茶成为一种日常的生活习惯。

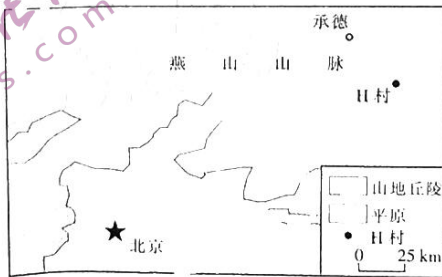
——摘编自刘章才《英国茶文化研究：1650—1900》

根据以上材料，提炼一个主题，并结合世界近代史的相关知识予以阐述。(要求：主题明确，史论结合，逻辑严密，表述成文)

(二) 选考题：共25分。请考生从2道地理题、3道历史题中每科任选一题作答。如果多做，则每科按所做的第一题计分。

43. 【地理——选修3：旅游地理】阅读图文材料，完成下列要求。(10分)

旅游扶贫是国家精准扶贫计划中一项十分重要的内容，我国已经有越来越多的贫困地区通过发展旅游业走上了脱贫致富的道路。位于燕山腹地的H村，地形以山地为主，景色秀美。由于人多地少，一时难以摆脱贫困。经过充分调研，当地政府将旅游扶贫作为H村摆脱贫困的主攻方向。下图是H村区位略图。



说明将旅游扶贫作为H村摆脱贫困主攻方向的合理性。

文综 第7页(共8页)

2022—2023 学年高三 5 月高考适应性大练兵联考
地理参考答案

1.【答案】C

【解析】2000 年到 2020 年,该城市制造业规模显著扩大,城市郊区大量青壮年劳动力人口迁入,使该城市郊区老年人口比重下降。C 项正确。

2.【答案】A

【解析】2010 年该城市城区制造业比重下降,第三产业比重上升。另外,郊区大量劳动力人口迁入,郊区居住用地明显减少不正确,排除 B 项;城区与郊区制造业比重相当,不等于产值相当,排除 C 项;服务业从郊区向城区转移,不客观,排除 D 项。A 项正确。

3.【答案】B

【解析】我国沿海地区的清洁能源,风能具有一定优势。B 项正确。

4.【答案】B

【解析】我国沿海地区氢能消费市场大,作为制氢重心的好处是降低氢气储运成本。B 项正确。

5.【答案】D

【解析】制氢的主要目的是对电网削峰填谷,电解水的合理时机是清洁能源发电高峰。D 项正确。

6.【答案】B

【解析】读图可知,西辽河所在区域,易发生水土流失,辽河干流的泥沙主要来自西辽河。B 项正确。

7.【答案】D

【解析】泥沙淤积造成辽河干流河床抬高,可能造成地下水补给减少。D 项正确。

8.【答案】B

【解析】调水工程实施,会输入一定的泥沙,由于松花江来水含沙量小,初期造成河床冲刷,辽河干流输沙量增大。B 项正确。

9.【答案】A

【解析】甲坡比乙坡森林下限低,说明水分条件更好;同时甲坡比乙坡森林上限更高,冰川下限更高,说明热量条件比乙坡好,故甲坡比乙坡湿热。A 项正确。

10.【答案】D

【解析】图中 E、F 两处海拔相同,E 处更加热湿。由于 E 处更热,因此积雪期开始晚。又因为两地积雪期长度相同,所以 E 处积雪期一定结束晚,原因是 E 处更湿,积雪更厚。D 项正确。

11.【答案】C

【解析】乙坡植物长势 G 处优于 F 处,是试题确立的地理事实。F、G 均位于较干旱的草原,水分是关键因素。热量充足,蒸发量大,不契合,排除 A 项;降水丰富不客观,排除 B 项;土壤透水性好,既不客观,也不契合,排除 D 项;地势低,地下水埋藏浅,既客观,又契合。C 项正确。

36.【答案】(1)葡萄生产离不开水源(当地气候干旱),(2分)葡萄生产宜分布在山麓地带。(2分)

(2)水质洁净;光热充足;昼夜温差大;晴天多,太阳紫外线强,病虫害少。(每点 2 分,任答其中三点即可,共 6 分)

(3)葡萄鲜果产量大(原料丰富),(2分)晾干技术成熟,(2分)当地葡萄鲜果消费市场小。(2分)

地理 第 1 页(共 2 页)

(4) 葡萄干晾晒需要消耗一定时间。(2分) 销售时间滞后于(当年的)葡萄鲜果;(2分) 葡萄干易储存(2分) 销售时间比葡萄鲜果更长。(2分)

37.【答案】(1) 冬半年 Q 湖补给水源少, 水位低, 甲处湖泊沉积物裸露面积大; 冬半年西北风盛行; 冬半年 Q 湖面多封冻, 对风的阻挡作用弱; 乙地位于西北风的迎风坡, 利于风力沉积物沉积。(每点 2 分, 任答其中一点即可, 共 6 分)

(2) 离沙源近,(2分) 沉积物粒径大;(2分) 沙源面积大,(2分) 沉积物厚度大。(2分)

(3) 乙地沉积物粒径向上递减,(2分) 说明 Q 湖水位上升,(2分) 湖水收入大于支出,(2分) 盐度下降。(2分)

43.【答案】当地风景秀丽,(2分) 可以与承德形成联动,(2分) 距离北京较近(靠近市场);(2分) 旅游业能快速增加集体收入,(2分) 大量吸收村民就业。(2分)

44.【答案】节约水资源,(2分) 减少土壤盐碱化,(2分)(防止潜水面上升,)减轻盐碱化,(2分)(无需开沟,)提高土地利用率,(2分)(不产生回水,)减少化肥农药造成的水体污染。(2分)

2022—2023 学年高三 5 月高考适应性大练兵联考
政治参考答案

12.【答案】A

【解析】彩电的价格总体持续下降,这种长期的变动通常是由于电子类产品社会劳动生产率不断提高、单位商品价值量下降引起的,A项正确。题干不反映供求关系的影响,也不体现彩电价格围绕价值上下波动,而是体现彩电价格总体上呈下降趋势,B项不符合题意。题干反映的是彩电价格变化,不反映供给结构优化促进居民消费升级,C项不符合题意。通货紧缩表现为在较长时间物价总体水平持续下降。仅由某一种商品价格的持续下降,不能说明发生了通货紧缩,D项错误。

13.【答案】B

【解析】央企专业化整合能推动国有资本优化配置,旨在优化国有经济布局,增强国有经济核心功能,提高国有企业竞争力、控制力、带动力,更好地实现经济高质量发展,①③正确。央企专业化整合不完全是外部资源整合,并且外部资源整合也不一定是非国有经济,因此央企专业化整合的目的不是实现不同所有制经济优势互补、共同发展,②不符合题意。专业化整合主要强调资源整合,而不是强调构建企业制度,④不符合题意。

14.【答案】D

【解析】我国目前实施积极的财政政策,加强预算管理不足以消除财政赤字,①错误。题干强调严格预算管理,不体现精准实施减税降费,②不符合题意。严控财政支出,不该上的不上、不该花的不花,表明我国努力优化财政支出结构,提升财政治理效能,③正确。加强预算管理,从严控制一般性支出,有利于堵住预算资金管理漏洞,防止资金浪费,提高资金使用效率,④正确。

15.【答案】B

【解析】交通物流专项再贷款是支持交通物流业发展的,不是直接满足居民消费的,A项不符合题意。央行通过再贷款,可以引导金融机构为交通物流业发展提供贷款支持,从而助力国民经济循环畅通,B项正确。交通物流专项再贷款,不是用于金融机构应对资金支付需要的,不是针对防范金融风险,C项排除。题干没有具体涉及专项贷款用于科研投入,不涉及交通物流业科技自立自强,D项不符合题意。

16.【答案】C

【解析】在部门内部设立服务窗口,不涉及政府机构设置调整,①排除。设立“找不到工”反映窗口,帮助就业困难群体解决问题,畅通了公民向政府求助的渠道,这是建设人民满意的服务型政府、践行政府宗旨的表现,②③正确。我国坚持劳动者自主择业、市场调节就业、政府促进就业的方针,而不是政府分配就业,④错误。

17.【答案】A

【解析】在党的坚强领导下,我国提高公共安全治理水平,保障人民安全,成为世界公认最安全的国家之一,表明党坚守人民立场,维护人民利益,也表明党的领导是我国的最大政治优势,①②正确。题干反映党坚持为人民执政,不反映依靠人民执政,也不涉及依法执政,③④不符合题意。

18.【答案】C

【解析】在对外贸易经营者备案登记问题上,我国并未与其他国家产生争端,而是从推进贸易自由化便利化的角度,主动取消对外贸易经营者备案登记,①不符合题意。全国人大常委会授权国务院进行改革试点、全国人大修法、国务院进行试点、商务部依据新修订法律停止备案登记,是民主集中制原则在人大与政府关系上的生动体现,②正确。取消备案登记试点改革是在全国人大常委会授权下进行的,全面取消备案登记改革是依据新修订法律进行的,体现了依法治国与深化改革开放的紧密关系,③正确。全国人大常委会与国务院不是领导与被领导的关系,④错误。

19.【答案】D

【解析】影视属于文化传播的手段,不是途径,①错误。受电视剧的感染,观众选择到拍摄地旅游,享受慢节奏生活,表明该电视剧在潜移默化中影响了人们的文化选择,②正确。题干具体体现了电视剧的社会效益,没有体现电视剧给创作者带来经济效益,③不符合题意。该剧满足了人民群众的精神需求,同时也拉动了地方经济的发展,④正确。

20.【答案】C

【解析】题干考查文化传播与国家影响力的关系,不反映满足群众的文化需求,也不反映文化与中国现代化的

- 关系,1、3不符合题意。题干表明我国国际传播能力较弱,中国的声音没有产生应有的影响,要求加快国际传播能力建设,讲好中国故事,增强我国国际影响力,展示可信可爱可敬的中国形象,2符合题意。
- 21.【答案】D
【解析】依托先进通信技术和观测设备对次生灾害的发生作出判断和预警,并没有改变灾害链条,1排除。人与自然是和谐共生的,自然的存在和发展不是为人类服务的,2排除。当前,人们能对自然灾害引发的次生灾害进行预判,提前做好准备,体现了人类不断提高实践活动的自觉能动性,3正确。人们提前进行预警,体现了人的意识活动具有主动创造性,能把握事物运动的规律,并预见未来的变化,4正确。
- 22.【答案】B
【解析】井和井盖不匹配,说明在工作中缺乏整体意识,克服这一问题,需要树立全局观念,在做好局部工作中不偏离整体目标,1正确。题干讽刺“扯皮”现象,并不反映事物的发展趋势,不涉及增强必胜信心,2不符合题意。漫画反映相关的两方没有做好配合,而不是各自内部的工作没有管理好,3不符合题意。事物是普遍联系的,坚持联系的观点,在联系中正确认识问题,才能克服漫画反映的问题,4正确。
- 23.【答案】B
【解析】用今天的交通规则去要求民国时期的“父亲”,明显是脱离具体的时代看问题,违背了价值判断的社会历史性,1正确。题干中的人主张删除部分文学经典有具体原因,2没有针对具体原因作回答,排除。文学经典能被不同时代的人所认同和接受的说法错误,并且也是答非所问,3排除。文学经典也可能有瑕疵,但其积极意义是主要的,因此不能任意歪曲文学经典,4正确。
- 38.【答案】(1)2020年以来我国经济增长速度逐年下降。(1分)消费对经济增长的贡献率下降明显。(1分)出口对经济增长的贡献率波动较大。(1分)投资在稳增长中发挥了重要作用。(1分)
(2)1.稳定并扩大就业,完善社会保障,加强政策引导,优化消费市场环境,巩固消费整体回暖的趋势。(3分)
2.深化供给侧结构性改革,优化消费结构。(2分)加强政策支持,促进部分经营超预期的人力密集型行业发展,巩固优势;完善消费政策,通过税费减免,发放消费券等方式,促进住房、汽车等大宗消费的恢复;完善便民生活服务和设施,扩大和优化保障类服务有效供给,满足潜在或迫切的消费需求,持续释放消费潜力。(3分)
3.规范消费市场秩序,切实保护消费者权益,加快构建让消费者放心满意的消费环境。(2分)
- 39.【答案】1.三大全球倡议践行人类命运共同体理念,有利于推动建设相互尊重、公平正义、合作共赢的新型国际关系,符合绝大多数国家的共同利益,凝聚了各国利益的最大公约数。2.三大全球倡议顺应和平与发展的时代潮流,反对霸权主义和强权政治,推动建立公正合理的国际新秩序,维护世界和平,促进共同发展,符合世界各国的共同心愿。3.中国始终奉行独立自主的和平外交政策,是世界和平的建设者、全球发展的贡献者、国际秩序的维护者、人类文明进步的促进者,三大全球倡议得到国际社会的认可和信任。4.三大全球倡议为解决全球问题与共同挑战提供中国智慧和方案,给世界源源不断地注入稳定性,给世界人民带来新的希望。(每点3分。从联合国宪章的宗旨和原则的角度,或从其他角度回答,言之成理,也可以适当给分)
- 40.【答案】(1)1.真理是有条件的。大兴调查研究之风,才能准确把握政策适用的条件和范围,科学运用政策破解难题。2.真理是具体的。大兴调查研究之风,才能实现主观与客观具体的历史相统一,准确把握党和国家面临的新形势新任务,正确制定和执行政策,破解发展难题。3.认识具有反复性。大兴调查研究之风,才能提高实践水平,树立正确的立场、观点和方法,发现问题的本质,制定正确的决策,破解发展难题。4.认识具有无限性。大兴调查研究之风,才能随着社会实践的发展不断深化认识,作出更加科学的决策,找到破解难题的办法和路径。(每点3分)
(2)1.继承是发展的必要前提,发展是继承的必然要求。继承党的优良传统,才能开展好本次调研;同时本次调研承担着新使命,要求对党的优良传统进行升华。(4分)2.社会实践是文化创新的动力。党和国家面临新形势新任务,需要弘扬调查研究的优良传统,寻找新办法,解决新问题;新征程也为调查研究提供了更为丰富的资源,提供了信息技术等更加充足的条件,推动调研的升华。(6分)(从实现创新要继承传统,推陈出新的角度回答,言之成理,也可给分)
(3)调查方法:发放调查问卷,访谈等。(回答任意一条给1分)
调查内容:学生上网的主要目的、利用网络的时间、利用网络从事的活动、如何看待人肉搜索、如何避免网络暴力等。(回答任意三点内容给3分)

2022—2023 学年高三 5 月高考适应性大练兵联考
历史参考答案

24.【答案】A

【解析】材料中的时间是“周代”，其政治制度是宗法制，其观念是宗法观念，而“父慈子孝、兄良弟悌、夫义妇听、长惠幼顺、君仁臣忠”是儒家学派的主张，故 A 项正确。材料中虽然有“君仁臣忠”，但从属于儒家学派，故 B 项不是材料的主旨，排除。材料中无道家学派、墨家学派的信息，故排除 C 项和 D 项。

25.【答案】D

【解析】表中小农纳税量占比达到 74.5%，体现了西汉小农经济占据主导地位的特点，故选 D 项。表格中体现的西汉时期的税种，但不能说明税种繁多，故排除 A 项。表中反映的是农民所承担的税收负担，但没有反映政府官员的赋税情况，故排除 B 项。材料反映的田赋、算赋和口赋，属于土地税和人头税，故排除 C 项。

26.【答案】C

【解析】从材料看，“方整劲健逐渐向着雄浑的方向发展”，反映了唐初至唐朝中期的主流书法艺术，就是楷书。A 项是行书，B 项是隶书，C 项是楷书，D 项是草书，故 C 项符合题意。

27.【答案】B

【解析】明代“官搭民烧”现象，反映了私营手工业的发展，“外地商人和游民”“加入到生产领域”，反映了人们对手工业和商业观念的变化，故 B 项正确。材料不能反映雇佣关系的特征，也不能反映民富实力超过官营手工业，排除 A 项和 C 项。由于明朝推行“海禁”政策，海外市场受到影响，排除 D 项。

28.【答案】B

【解析】由于成本低廉，加剧了列强对“华工”的掠夺，故 B 项正确。“华工”被掠夺出国做苦力，与近代传统文化无直接关联，故排除 A 项。西学东渐在当时并未发生质变，中华传统文化仍然占据主流地位，故排除 C 项。材料与资产阶级革命爆发的条件无关，也没有提及相关的内容，故排除 D 项。

29.【答案】A

【解析】孙中山认为“民生主义之擅场时代”，是在“世界开化”“人智益蒸，物质发舒”“经济问题继政治问题之后”，故 A 项正确。辛亥革命缺乏广泛的群众基础，孙中山推行民生主义，主要是克服西方民生问题的不足，故 B 项和 D 项均不正确。1905 年中国的民权问题尚未实现，故排除 C 项。

30.【答案】D

【解析】材料所述时间，华北地区是敌后战场的作战区域，国民党正面战场主要在大西南、华东、华南等地区。中国共产党领导的八路军在华北等敌后抗日根据地英勇抵抗，其中百团大战使日本帝国主义认清了中共领导的华北地区抗日力量的实力，故选 D 项。1941 年抗日战争已经进入相持阶段，国共两党在华北并非紧密合作，故 A 项和 B 项不符合题意。1941 年 12 月，世界反法西斯同盟还没有形成，故排除 C 项。

31.【答案】C

【解析】20 世纪 80 年代末和 90 年代初，党的十四大还没有召开，此时，出现姓“社”还是姓“资”的问题的讨论，反映了人们在思想上对计划和市场的认识水平，故 C 项正确。真理标准问题的讨论，发生在 1978 年 5 月，与题中材料无关，故排除 A 项。党和政府维护主权与材料中的信息无直接关联，故排除 B 项。社会主义市场经济体制初步建立于 21 世纪初，故排除 D 项。

32.【答案】D

【解析】材料时间是公元前 1 世纪到公元 1 世纪，此时罗马帝国建立，出于维系统治的需要，罗马民法逐渐发展为万民法，故 D 项符合题意。成文法已经于公元前 449 年制订，即《十二铜表法》，也就是民法形成，故 A 项和 B 项均不符合题意。自然法不是具体的法律条文，故 C 项的表述不正确。

33.【答案】B

【解析】彼特拉克是新旧时代过渡时期的人物，从他的主张看，也体现了这一特征，故 B 项正确。文艺复兴初期，人文主义思想家的思想比较质朴，到了文艺复兴后期，莎士比亚等人的人文主义才走向精致和高雅，故 A 项不正确。产业革命即工业革命，发生在 18 世纪下半期，故 C 项不符合题意。自由、平等是启蒙运动时期的诉求，故排除 D 项。

34.【答案】B

【解析】1929—1933年是资本主义经济大危机时期,由于胡佛政府继续推行自由主义政策,国家经济形势趋于严重,政权体制的危机日趋严重,故B项正确。国家垄断资本主义是罗斯福总统开始建立的,A项错误。1933年是罗斯福“新政”开始的第一年,从材料看GNP的形势有所好转,故C项不正确。材料没有体现国际贸易形势的信息,故排除D项。

35.【答案】C

【解析】从二战后的雅尔塔体系、美苏两极格局,到多极化趋势的出现,再到两极格局的瓦解,多极化趋势增强,都体现了国际力量的调整 and 分化,故C项正确。A项只是两极格局形成的原因,排除。美苏的利益博弈,是影响国际局势在一定时期内变化的原因,但苏东剧变后苏联解体,俄罗斯成为多极化中的一极,故B项不全面,排除。在国际局势中,有的集团力量增强了,比如北约,也有的集团力量减弱甚至解散了,如华约集团等,故D项不正确。

41.【答案】(1)背景:国际:凡尔赛—华盛顿体系形成,列强共同反苏并共同支配中国。(2分)国内:中共三大召开,国共两党第一次合作正在进行中。(2分)

内容:把土地革命和农民问题放在首位,实现工农联盟;(2分)要求国民党大力支持工人运动,建立革命统一战线;(2分)利用经济和政治斗争,废除列强在华的特权和债务。(2分)

(2)特点:以重工业技术支持为主,以农业技术为辅,体现苏联模式的影响。(2分)援助的技术种类多样,部分脱离中国国情。(2分)

作用:为中国工业化、经济现代化、国防技术现代化奠定了物质基础,推动了新中国科技进步;(3分)加强了苏联模式对中国的影响力,也带来了一些负面影响。(2分)

(3)启示:坚持借鉴外来先进技术和经验;(2分)走符合中国国情的革命道路和经济建设道路;(3分)把国家利益放在首位;(2分)大力发展平等合作、互利共赢的国家关系;(3分)把自力更生、创新发展与技术有机结合。(3分)(答出2点即可,共5分)

42.【答案】示例:“红茶窗案”与英国饮茶习俗。(2分)

17世纪,随着新航路的开辟,殖民扩张和重商主义思想的发展,通过陆上和海上丝绸之路,中国茶文化开始在英国等西欧国家传播。(2分)“红茶窗案”及其结果,反映了中英贸易的发展和世界市场的扩大,也反映了西欧国家在政治、经济和婚姻生活的追求,同时反映了饮茶的多重益处。(2分)

18—19世纪,随着工业革命的进行,工业化、城市化、社会经济的发展,资本主义世界市场的形成,加上上层人士的推广,人们生活水平的提高,饮茶成为英国等西欧国家的生活习惯之一。中华传统文化,生活习惯逐步向西传播。(4分)

综上所述,中国茶在欧洲以及世界的传播,是中国传统文化在西方本土化的缩影。发扬传统文化的优势,弘扬中华文化,有利于和谐世界的构建。(2分)

(评分说明:本题是开放性试题,示例仅作参考,不作为评分的唯一依据。学生在答题时,只要言之有理,论之有据,均酌情评分)

45.【答案】(1)根源:政治上,君主专制中央集权的强化,政府闭关锁国,民族矛盾尖锐;(3分)经济上,商品经济发展,资本主义萌芽产生,土地矛盾尖锐;(3分)学术上,宋明理学成为官方哲学,脱离社会实际;(3分)学者限于清朝文字狱迫害,不敢研究社会现实问题,埋首于故纸堆。(3分)(共9分,答出3点即可)

(2)局限性:未突破封建君主制度的藩篱;(2分)“均天下”的平均思想很难实现;(2分)没有跳出封建制度范畴和束缚;(2分)不可能找到中国社会发展的正确方向。(2分)(共6分,答出3点即可)

46.【答案】(1)原因:盟军数量占优势;(2分)盟军作了充分的作战准备;(2分)德意非洲军团后期补给困难;(2分)盟军空中支援的优势。(2分)(共6分,答出3点即可)

(2)直接影响:保障了地中海交通线的安全,促使北非战场最先胜利;(3分)为进攻意大利,消灭意大利法西斯创造了条件;(3分)积累了实施大规模进攻战役的经验,促进了军事思想的进步。(3分)

47.【答案】(1)内容:科技兴国,技术创新;(2分)深化改革,强化管理;(2分)择优录用,竞争上岗;(2分)公平竞争,奖罚分明。(2分)(共6分,答出3点即可)

(2)精神品质:卓越的胆识,才气和意志;(3分)造福家乡,振兴家乡的情怀;(3分)科技、公平、创新的认识。(3分)(言之有理,论之有据,同等评分)

关于我们

自主选拔在线是致力于提供新高考生涯规划、强基计划、综合评价、三位一体、学科竞赛等政策资讯的升学服务平台。总部坐落于北京，旗下拥有网站（[网址: www.zizzs.com](http://www.zizzs.com)）和微信公众平台等媒体矩阵，用户群体涵盖全国90%以上的重点中学师生及家长，在全国新高考、自主选拔领域首屈一指。

如需第一时间获取相关资讯及备考指南，请关注**自主选拔在线**官方微信号：[zizzsw](https://www.zizzs.com)。



微信搜一搜

自主选拔在线