

姓名_____

准考证号_____

绝密★启用前

长沙市一中 2023 届高三三月考试卷(八)

历史

注意事项:

- 1.答卷前,考生务必将自己的姓名、准考证号填写在答题卡上。
- 2.回答选择题时,选用每小题答案后,用铅笔把答题卡上对应题目的答案标号涂黑,如需改动,用橡皮擦干净后,再选涂其他答案标号。回答非选择题时,将答案写在答题卡上。写在本试卷上无效。
- 3.考试结束后,将本试题卷和答题卡一并交回。

一、选择题(本大题共 16 小题,每小题 3 分,共 48 分。每小题只有一个选项符合题意,请将正确答案的序号填涂在答题卡相应的位置上)

1.龙山文化大汶口墓葬遗址出土的红陶兽形壶极具特色,其形状如右图所示。该壶为水器,近似猪或狗形,尾根部一筒形注水口,嘴可出水,腹部鼓起加大了容积,四足立起便于加热。据此可以说明



- A.大汶口先民高超的制陶技艺
B.墓主人有较高的社会地位
C.农耕是当地主要的生产方式
D.龙山文化孕育了早期国家
- 2.秦始皇曾南巡至湘山祠时遭遇狂风而无法前行,随行博士提议祭祀湘君,秦始皇将湘山所有树木全部砍伐,以示轻蔑。汉武帝则相信“天子受命于天”,上天会降下灾异以警示天子。秦汉统治者思想的转变主要是因为
- A.统治者人生经历的差异
B.小农经济占主导地位
C.儒家思想的影响力扩大
D.君主专制进一步加强
- 3.唐代颜真卿知抚州时,诗人杨志坚因屡试不第,其妻到州府请求离婚。颜真卿依《唐律》“若夫妻不相安谐而和离者,不坐(不为犯罪)”,笞(以细竹条打臀腿)其妻二十后任其改嫁,同时赠杨志坚财物若干并在军中给他安排工作。这反映了当时
- A.女性家庭地位低下
B.民事审判不甚严格
C.恩荫入仕颇为普遍
D.社会氛围较为开放
- 4.宋仁宗嘉祐四年,王安石作《明妃曲二首》,一时和者甚众,欧阳修也作诗以和。诗中写道:“耳目所及尚如此,万里安能制夷狄!汉计诚已拙,女色难自夸。”欧阳修此举旨在
- A.批评汉朝和亲政策
B.表达强硬的对外态度
C.谋求加入变法阵营
D.支持王安石强兵举措
- 5.明朝时晋商不仅经营盐茶、丝绸等商品,也通过票号提供汇兑、贷款等金融服务,其业务遍及全国各地。官府一方面利用晋商征收赋税、运送军饷、调剂粮食,另一方面也对其施加各

种监管和干预。官府同晋商的关系

- A.促进了商业资本的积累 B.加剧了金融市场的风险
C.补充了中央集权的建设 D.削弱了山西商人的势力

6.严复青年时留学英国,返国后师事吴汝纶,学习桐城古文,研习八股制艺,“欲博——第人都”;屡试不第后转而系统地阅读西书并用传统古文从事翻译工作。严复的这些经历反映了

- A.士人观念的解放 B.中西文化的融合
C.近代转型的艰难 D.中体西用的思想

7.1912年至1916年的袁世凯统治时期,先后产生了唐绍仪、段祺瑞等8届内阁;1916年至1924年的9年间,则先后历经了27届政府内阁,其中最短的两届内阁存在不到一周。造成这一现象的主要原因是

- A.政治体制存在缺陷 B.各地军阀割据混战
C.责任内阁名存实亡 D.民众参政热情高涨

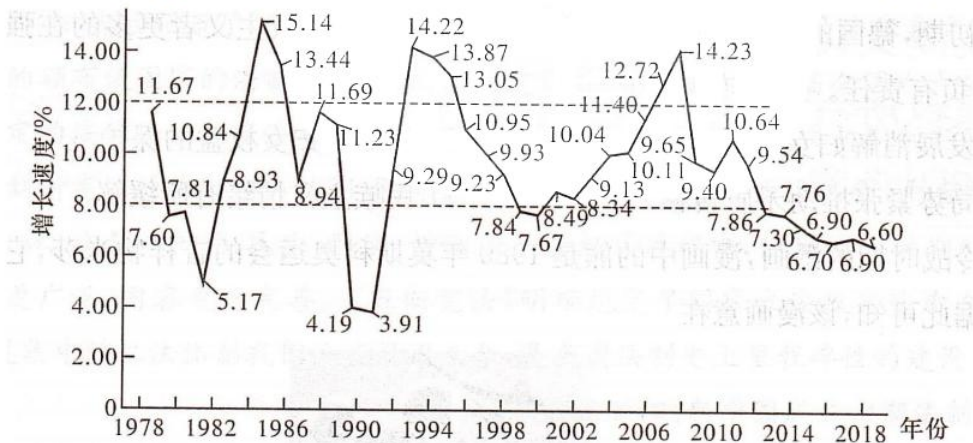
8.一位同学查阅《申报》时看到以下报道:“×路方面消息,沪平通车昨日起北上车暂以济南为终点;南下车亦由济南开出,惟津浦客车则仍开至沧州,其以北之情形×不明×。南下各次车抵沪时,均甚拥挤。”(注:×表示字迹不清)该报道的背景是

- A.红军转战陕北,国共军事对峙 B.日本全面侵华,平津局势紧张
C.内战全面爆发,华北战事频繁 D.平津战役结束,长江以北解放

9.1964年6月,国务院发布了《关于试办工业、交通托拉斯的意见报告》,准备将苏联援建的电机企业,按照东北、西南、上海三个地区,合并成三个托拉斯,分别以哈尔滨、四川德阳、上海为总部,作为国务院直属企业。这一决策

- A.折射出中苏外交关系的恶化 B.有利于电机工业的产业升级
C.对应着三线建设的重大战略 D.落实了“四个现代化”要求

10.下图是改革开放以来中国GDP增长速度统计表,据此作出的判断正确的是



- A.改革开放前期的经济更具活力 B.市场经济改革的效果最为明显
C.国家发展主要受国际形势影响 D.经济增速减缓刺激了体制改革

11.古代雅典的法庭诉讼中,诉讼人经常会避开案件本身,着重陈述自己或其先辈曾承担过的城邦捐助,并以此胜诉。例如,某位被告宣称自己支付了许多战争税,还履行了其他各种社会捐助,陪审团因此判其胜诉。这可以说明古代雅典

- A.个人利益与公共利益的冲突 B.公民的参政热情日趋高涨
C.法律注重维护贵族阶层权益 D.司法审判体现其民主运作

12.中世纪时期,西欧的农民按照习惯法可以长期保有土地,有些庄园农民土地的保有时间甚至长达99年之久,而庄园的地租也长达几十年不变。这一现象

- A.改变了西欧土地所有制 B.提升了庄园农业生产效率

- C.有利于封建领主的壮大 D.强化了庄园内的人身依附
13."下表是17至18世纪欧洲部分国家重要科技发明统计(单位:项)。

国家	数学	物理	化学	天文学	地学	生物医学
英国	17	20	17	18	8	36
法国	26	14	15	16	10	9
德国	7	5	12	8	5	5
西班牙	0	0	2	0	0	1
荷兰	0	5	2	2	0	1

据上表可推知,这些科技发明的出现

- A.标志着近代科学体系的建立 B.受资产阶级革命的影响
C.推动了理性主义的迅速发展 D.得益于技术革命的推动


14. 19世纪60年代初期,在伦敦有640个民间的慈善机构,其中1700年前建立了103个,1700-1800年间建立了114个,1800-1850年间建立了279个。据此可知,这一时期的英国

- A.经济快速发展扩大贫富差距 B.社会矛盾有所缓和
C.议会改革助推经济政策调整 D.福利国家逐步建立

15.19世纪末,德国爆发了大规模的妇女运动,妇女为争取自身权益进行了大规模的抗争;但在20世纪初期,德国的妇女运动退守到非常传统的层面,女权主义者更多的在强调妇女应对家庭、国家负有责任。这一转变源于当时

- A.经济发展消解妇女政治诉求 B.德国对妇女权益的保护
C.国际局势紧张推动矛盾转移 D.民族主义情绪有所缓解

16.下图是冷战时期的漫画,漫画中的熊是1980年莫斯科奥运会的吉祥物米莎,它被刺刀刺中了身体。据此可知,该漫画意在



被刺刀刺中的莫斯科奥运会吉祥物米莎

- A.揭露苏联借助奥运会宣传意识形态 B.批判举办奥运会使得苏联经济困难
C.讽刺苏联在奥运期间发动对外战争 D.强调美苏军备竞赛威胁了世界和平

二、非选择题(本大题共52分)

17.阅读材料,完成下列要求。(25分)

材料一

中国不同时期的法律概况与法律指导思想统计表

时间	概况	指导思想
春秋 战国	公布成文法,法律走向公开	维护等级秩序;圣贤治国与立法;以法治国;一断于法
秦	确立了一整套法制体系,较为严苛	法令统一;专任刑罚
汉	汉初承秦制,汉武帝后“引经注律”	用儒家的道德精神指导司法审判;法家思想仍有一定影响
隋唐	在吸收前代法律成果基础上,确立了较为完善的封建法典及司法体系	德主刑辅,礼法并用;立法宽简,执法严明
宋元	增加新的法律内容,重法惩治“盗贼”犯罪,注重法律对民事、经济关系的调整	强化集权;强调义利,重视经济;严刑为本
明清	继承前代法律,中央集权控制力加强,制定综合性法典	重典治吏;立法简约化;以德化民

材料二 新中国成立后,我国以《共同纲领》为基础,以结合了马克思列宁法制思想的毛泽东法制思想为指导,先后颁布了《中华人民共和国土地改革法》《婚姻法》等法律条文。1954年,《五四宪法》的颁布使国家的法制正式确立,法制建设步入正轨。第一届全国人大宣布新中国成立以来制定的法律除了与宪法相抵触的一律无效,这就把新中国成立初期制定的过渡时期的法律纳入到新宪法的体制内。1954年到1957年,我国大力开展立法工作,先后制定和批准了40多个法律、法令。同时,民法、刑法、诉讼法也在起草过程中,使得这一时期的法律体系调整的关系更广泛、内容更加完善。《五四宪法》明确规定了国家立法权只能由全国人大行使,这种高度集中的立法体制我们一直沿用至今,是我国法制史上里程碑性的建设。

——摘编自王欣阳《新中国成立初期法制建设研究》

- (1)根据材料并结合所学知识,概括古代法制建设与新中国成立初期法制建设的异同点,并简要分析新中国成立初期法制建设的背景。(15分)
- (2)结合材料与所学的中外历史信息(中国史与世界史至少各一条信息),围绕“法制建设与国家治理”自行拟定一个具体的论题,并就所拟论题进行简要阐述。(要求:观点明确,史论结合,表述清晰)(10分)

18.阅读材料,完成下列要求。(15分)

材料一 1784年,英国政治家索姆·杰宁斯指出:“下院独立不是英吉利法的基本要素。英国宪法的优点在于它由三种权力构成,彼此相互依靠。其中一方独立于其他两方,它必将独占全部的权力,我们的政体就会立刻改变。上个世纪行使过下院独立,国王被弑,贵族遇难,建立起世上最坏的民主政体。倘若我们不幸再看到另一个民主政体,同样的混乱肯定会再次发生。”同一时代的英国保守主义政治家埃德蒙·伯克认为:“成功源自光荣革命,但光荣革命的原则不是变革而是维护传统。传统保障了社会的存在,是社会的基石。”

——方家、张士昌《迈向大众民主---1832年英国议会改革探析》

材料二 法国的革命者倾慕并效法古代民主,在表面上更忠实于民主的理想,实际上却把民主过度价值化,抽空了它的工具性内涵。在法国革命的高潮,国家政治的基本形态不是国民公会的理性辩论,而是变幻无常的街头民众运动。美国的革命者则出于对精英政治的偏好,对那种直接诉诸民众的民主忧心忡忡,他们基于对集权和压迫的恐惧,设计了一种体现限权、

分权和制衡原则的代表制政体,这固然导致了民主价值的流失,但也为治理现代大型民族国家找到了一条非君主制的道路。英国推崇混合宪政的理念,经过一百多年的努力,虚化了“王在议会”的制度,架空了世袭贵族主导的上院,缩短议员任期,扩大选民基础,以渐进变革将传统政治转化为了民主政治。

——李剑鸣《世界历史上的民主与民主化》

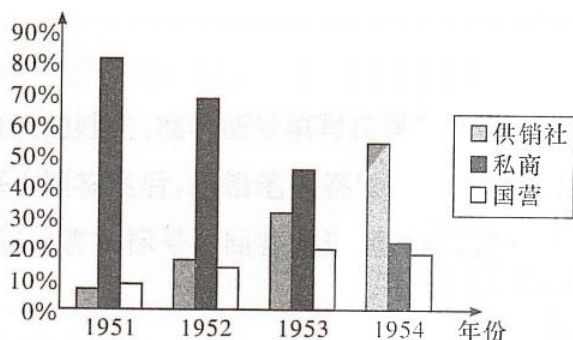
(1)根据材料一并结合所学知识,指出这种政治主张产生的历史背景。(6分)

(2)根据材料并结合所学知识,分析这三个国家的民主政体对近代中国产生的影响。(9分)

19.阅读材料,完成下列要求。(12分)

材料 1950年7月,中央召开了中华全国合作社工作者第一届代表会议,成立了中华全国合作社联合总社,统一领导和管理全国的供销、消费、信用、生产、渔业和手工业合作社。1951年初,长沙市合作社联合社(1951年3月成立)协同文艺、金盆、岳麓、会春4个区下辖27乡共组建20个供销合作社(简称供销社)。1952年初,有入股社员41266人,股金4.2亿元,辖猪肉、生资、送货、稻谷收购等站39处。

1951--1954年供销社、私商、国营在长沙市商品流转额中的比重变化情况



20世纪90年代,由于多种原因,长沙市供销社陷入十分困难的境地。系统负债总额近10亿元,负债率近90%,下岗人员达数千人。从2001年开始,在长沙市委、市政府的大力支持下,开始全面的改革改制,企业初步建立了现代管理制度。全社建立了有1450个村级站的农资连锁服务网络和200多个农村生活用品连锁超市,“新网工程”基本覆盖到行政村;创办、领办了70余个农民专业合作社;培育了梦洁、金苹果等有较大影响的企业和品牌。2020年,全市供销系统实现营业总收入102.3亿元,实现利润8.5亿元。

根据材料并结合所学知识,对同时期农村供销合作社的职能作出合理解释。(12分)

关于我们

自主选拔在线是致力于提供新高考生涯规划、强基计划、综合评价、三位一体、学科竞赛等政策资讯的升学服务平台。总部坐落于北京，旗下拥有网站（[网址: www.zizzs.com](http://www.zizzs.com)）和微信公众平台等媒体矩阵，用户群体涵盖全国 90% 以上的重点中学师生及家长，在全国新高考、自主选拔领域首屈一指。

如需第一时间获取相关资讯及备考指南，请关注**自主选拔在线**官方微信信号：**zizzsw**。



 微信搜一搜

 自主选拔在线

