

政治测试卷

一、选择题

1. “从前，劳动资料的占有者占有产品，因为这些产品通常是他自己的产品，别人的辅助劳动是一种例外；而现在，劳动资料的占有者还继续占有产品，虽然这些产品已经不是他的产品，而完全是别人劳动的产品了。”恩格斯这句话意在说明

- A. 商品生产和商品交换是从资本主义社会开始的
- B. 资本主义生产关系较以往的生产关系更加倒退
- C. 资产阶级的历史作用是将分散的生产加以集中和扩大
- D. 生产社会化和生产资料私人占有之间的矛盾是资本主义社会的基本矛盾

2. 盘点 2022 年的江苏，“农业生产总体平稳，粮食产量再创新高；工业经济支撑有力，先进制造业较快增长；服务业稳定复苏，生产性服务业增势较好；市场销售规模稳定，网络零售持续快增；固定资产投资平稳增长，重点领域投入明显加快……”这一系列成就的取得

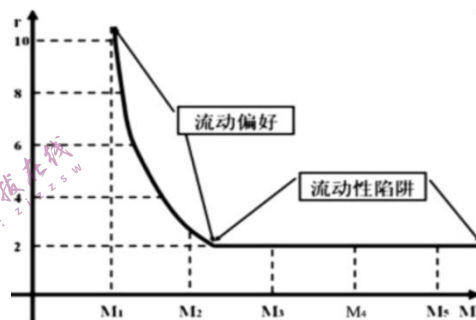
- ①根源于中国人民在新时代的伟大奋斗中焕发出强烈的主动精神
- ②意味着中华民族实现了从站起来、富起来到强起来的伟大飞跃
- ③彰显出科学社会主义在新时代伟大进程中焕发出新的蓬勃生机
- ④得益于新时代全面深化改革开放极大解放和发展了社会生产力

- A. ①②
- B. ①③
- C. ③④
- D. ②④

3. 利率是调节市场流动性的重要工具，但在特定条件下，即使利率降低到无可再降低的地步，基于某种“流动性偏好”的作用，大多数人宁愿以现金或储蓄的方式持有财富，而不愿意用这些财富投资，也不愿意扩大消费。国家任何货币供给量的增加都会以“闲资”的方式被吸收，这就是“流动性陷阱”（如图）。出现“流动性陷阱”的原因可能在于

①实体经济行业的投资回报率不如虚拟经济行业
②投资和消费意愿因央行的宽信用政策而下降
③宏观经济的不确定性降低了人们对未来的预期
④供给端缺乏能够激活消费热点的革命性产品

- A. ①②
- B. ①④
- C. ②③
- D. ③④



4. 2023 年，我国将以实施城市更新行动为抓手，着力打造宜居、韧性、智慧城市，主要举措是加快城市基础设施更新改造。具体计划是推进地下综合管廊建设，新开工城市燃气管道等老化更新改造 10 万公里以上，改造建设雨水管网 1.5 万公里以上，新开工改造城镇老旧小区 5.3 万个以上。实施城市更新行动对我国经济的影响路径是

- A. 实施城市更新行动——创造新的投资需求和消费需求——带动关联产业协同发展
- B. 加强基础设施更新——创造更多就业机会和投资机会——增加居民的财产性收入
- C. 改造城镇老旧小区——改善人民群众的生产生活条件——增强中心城市的吸引力
- D. 实施城市更新行动——增强新老城区发展的内生动力——促进生产要素自由流动

5. 老旧小区人员复杂，没有物业，日常事务协调难度大。S 市设立联席会议制度，街道和社区党组织牵头，由驻区单位、党员代表、居民代表、社会组织等组建对话平台，充分讨论，共同破解小院改造和治理僵局。这一做法的工作特色是

- A. 发扬人民民主，听取行业意见，促进社会和谐
- B. 采用少数服从多数的原则，通过政治协商凝聚共识
- C. 动员社会力量，吸纳多元主体合理表达，共建共治
- D. 转变工作作风，坚持群众路线，密切党群关系

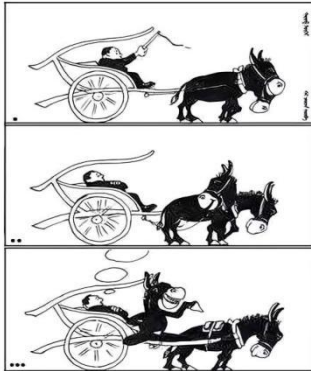
6. 近年来，上饶市以“一站式”矛盾纠纷多元调处化解平台建设为牵引，充分发挥调解、仲裁、行政裁决、行政复议、诉讼等多元化纠纷解决机制功能，让百姓足不出户、动动手指

便可调解纠纷，这有利于

- ①提高诉讼服务水平，有效惩治犯罪活动②降低矛盾化解成本，提高纠纷调解效率
③创新百姓维权渠道，提高服务群众水平④完善基层社会治理，消除人民内部矛盾

A. ①② B. ①④ C. ③④ D. ②③

7. 阅读下图漫画，给我们的警示是



- ①要常备不懈，不断砥砺自我 ②要居安思危，防止矛盾转化
③要未雨绸缪，做到防微杜渐 ④要抓住时机，促成事物飞跃

A. ①③ B. ①④ C. ②③ D. ②④

8. 2022年11月，中国政府和国际竹藤组织在国际竹藤组织成立25周年志庆暨第二届世界竹藤大会上共同发布“以竹代塑”倡议，并启动制定“以竹代塑”全球行动计划，寻找塑料替代品，减少塑料使用、减轻塑料污染，以有效治理塑料污染。竹子作为绿色、低碳、可降解的生物质材料，在这一领域大有可为。“以竹代塑”表明

- ①事物的性质主要是由主要矛盾的主要方面决定的，要善于抓主流
②具体问题具体分析是正确认识事物的基础和正确解决矛盾的关键
③人有主观能动性，可以在价值选择的基础上作出正确的价值判断
④随着时空的推移和条件的变化，一定事物的价值也会发生变化

A. ①② B. ①③ C. ②④ D. ③④

9. 门墩是门枕石的一部分，也是显示门第、表达主人喜好、装饰门面的物件，祖辈居住生活在胡同里的老北京人，对门墩情有独钟。门墩上通常雕刻一些中国传统吉祥图案，取其美好寓意：猴子寓意官爵，仙鹤寓意长寿，牡丹代表富贵……这小小的门墩，不仅让出入的家人看到时心生欢喜，也给来访的客人、往来的行人，送出美好的祝福。由此可见，门墩

- ①寄托着人们丰富的情感和对生活的美好祝愿
②有利于引领社会风尚，提升人们的文化素养
③作为一种物质载体，体现人们独特审美情趣
④是现实存在的事物在雕刻者头脑中的客观映象

A. ①③ B. ①④ C. ②③ D. ②④

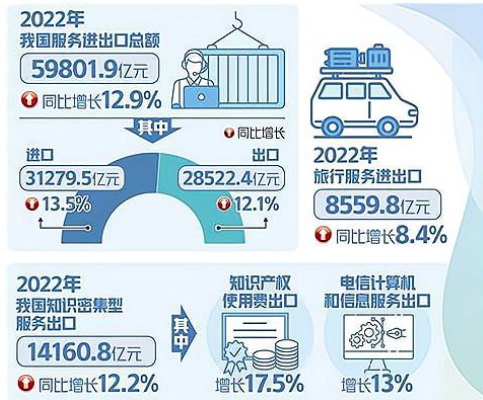


10. 2023年3月20日，习近平应邀对俄罗斯进行国事访问时强调，作为最大邻国和全面战略协作伙伴，中俄关系在各自外交全局和对外政策中都占据优先地位。越是困难重重，越要为和平留下空间；越是矛盾尖锐，越不能放弃对话努力。双方就乌克兰危机进行了深入交流，并签署了农林、基础科研、市场监管等领域多项双边合作文件，成为两国关系发展内生动力的缩影。对此，理解正确的是

- ①中俄盟友关系是基于自身利益和世界大势作出的战略抉择
- ②中俄两国树立起相互尊重、合作共赢的新型大国关系典范
- ③负责任的对话是稳步解决问题、推动国际关系民主化的最佳途径
- ④捍卫各国独立、主权和领土完整是我国外交政策的基本立场

A. ①② B. ①④ C. ②③ D. ③④

11. 2022年，我国服务贸易保持较快增长。解读下图中的信息，可以看出



- A. 我国服务贸易的逆差缩小，结构趋向合理
- B. 旅行服务进出口增长说明来华游客大幅度增加
- C. 知识产权使用费出口增长显示我国的创新发展
- D. 我国的电信计算机和信息服务进出口贸易出现顺差

12. 陈某和妻子李某均已退休多年，两人名下有两套房产，另有存款 30 万元。他们的两个女儿均已出嫁，在外地生活。2023 年 4 月，陈某因遭遇车祸不幸离世，李某与其妹妹订立口头意定监护协议。随后李某立下遗嘱：房产给两个女儿，陈某的车祸赔偿款两个女儿一人一半，30 万元存款留给其妹妹作为监护回报。下列对于本案例说法正确的是

- A. 车祸赔偿款属于陈某夫妻共同财产，李某有权处置
- B. 遗嘱继承优先于法定继承，李某妹妹据此可得 30 万元
- C. 两个女儿如没有赡养母亲应被依法剥夺其财产继承权
- D. 口头意定监护协议无效，且李某只能处理自己的存款

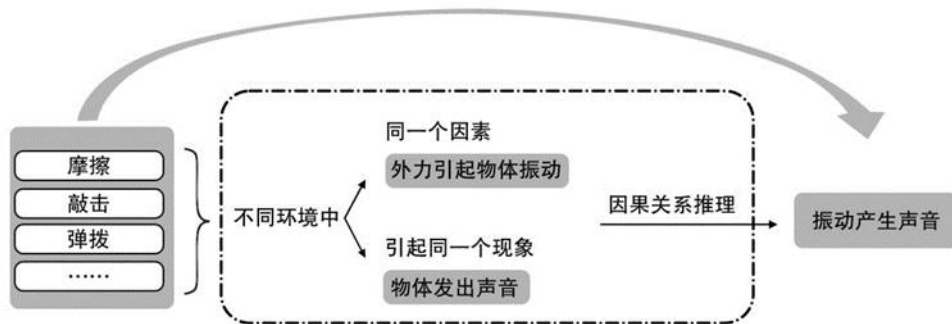
13. 李某酒后驾驶汽车，与运输公司的罐式货车发生追尾事故，罐式货车装载的一甲胺发生泄漏，给当地鱼塘、农田造成污染。交警部门认定，李某承担此次交通事故的全部责任。当地村民提起诉讼，请求判令李某和运输公司连带赔偿财产损失。对本案认识正确的是

- A. 因李某过错发生交通事故，村民可以向李某请求赔偿
- B. 环境污染责任属于过错推定责任，村民可以向运输公司请求赔偿
- C. 李某负此次交通事故的全部责任，运输公司可以拒绝村民的赔偿请求
- D. 根据“谁主张，谁举证”的原则，村民应对自己提出的主张提供证据

14. 随着生态环境不断改善、城乡基础设施提升和私家车的普及，越来越多人爱上逃离喧嚣、亲近自然的野外露营活动，露营产业也逐渐成为休闲旅游业的重要增长极。然而部分露营者的不文明行为对当地生态环境造成影响，更存在消防安全隐患。这需要

- A. 运用超前思维，大力控制露营的活动范围
- B. 坚持辩证思维，全面认识露营活动的影响
- C. 注重发散思维，加强露营配套设施的建设
- D. 重视逆向思维，推广健康文明的旅游意识

15. 声音是怎样产生的？某学习小组做了以下实验，推测到振动与物体发出声音存在因果关系。该小组使用的推理方法是



- A. 求同法 B. 求异法 C. 求同求异并用法 D. 共变法

二、非选择题

16. 丁某（出租方）与赵某 15 岁（承租方）于 2022 年 8 月 25 日签订《车辆租赁合同》，合同约定，丁某自 2022 年 8 月 25 日 7 时起将车辆交付给赵某使用，至 2022 年 8 月 26 日 7 时收回，租金共计人民币 550 元。

赵某在租赁车辆期间因操作不当造成车辆损坏，丁某认为赵某损坏车辆造成损失，必须进行赔偿，赵某父母认为，赵某所签合同没有经过父母同意或追认下，丁某不应该出租车辆给赵某，责任应该由丁某承担，在协商无果下，双方决定通过调节的方式解决纠纷。

如果你是人民调解员，调节过程中，就该案中各方法律责任进行简要分析。（6 分）

参考答案：

赵某属于限制民事行为能力人，丁某未加审核与之签订合同且合同未经赵某父母同意或追认，该合同属于无效合同，丁某应承担一定的责任。（2 分）

赵某因行为过错造成他人损失，应承担一定的责任。（2 分）

赵某父母有对未成年子女的监护职责，在赵某造成他人损失后，应依法承担一定的责任。（2 分）

17. 二十大以来多国领导人密集访华，成为中国特色大国外交的独特风景线。其中，法国总统马克龙于 2023 年 4 月 5 日至 7 日对中国进行国事访问，中法在发布的联合声明中强调：

中法两国共同致力于为国际安全和稳定面临的挑战和威胁寻求基于国际法的建设性解决方案，寻求在多极世界里强化以联合国为核心的多边国际体系。

中法签署了近 40 项政府间协议和商务合同，涵盖航空、科技、教育、农业等多个领域，助力两国发展振兴。

为在全球推动保护和促进文化表现形式多样性，支持深化文化作品创作与利用方面的合作，积极推动重启文化和旅游领域的交流合作。

双方将相互支持对方提出的多边理念和倡议，携手应对气候变化、保护生物多样性、粮食安全等全球性挑战，共同完善全球治理。

访问结束后，马克龙在接受采访中表示欧洲必须为争取战略自主而战。战略自主意味着，无论是在乌克兰、对华关系还是制裁方面，我们都要有欧洲战略。我们不想陷入集团对抗的逻辑。

运用《当代国际政治与经济》的相关知识，综合上述资料，以“国际新秩序的独特风景线”为主题，写一篇时事评论。（8 分）

要求：①观点明确，论证充分。②逻辑清晰，学科术语使用规范。③总字数在 250 字左右。

参考答案：两个在世界上有重要影响力的大国在经济和文化领域加强交流与合作，有利于推动经济全球化朝着更加开放、包容、普惠、平衡、共赢的方向发展，让经济全球化更有活力。

(2)

两国主张基于国际法的建设性解决方案，推动世界多极化，维护联合国的权威，有利于反对霸权主义和强权政治，推动国际关系民主化，推动国际秩序朝着公正合理的方向发展。(2)
两国携手应对全球性挑战，共同完善全球治理，有利于推动全球性问题的解决，维护世界的安全与稳定，促进世界的和平与发展。(2)

法国总统访问中国，既有利于法国推动欧洲的战略自主，也有利于我国展现大国外交特色，维护国家的独立、主权和安全利益，为构建人类命运共同体贡献中国智慧与中国方案。(2)

18. 这个春天，淄博烧烤“火”出圈。浓浓的烟火气带来熙熙攘攘人流的同时，也考验着社会治理能力和水平。

在淄博市委领导下，商务、市场监管、公安、文旅、卫生、城管等部门各司其职。如文旅部门通过多种方式提供一站式接待服务，市场监督管理部门严查市场。淄博全方位提升优化营商环境，努力提高游客游客满意度。服务行业从业者切实树立诚信经营理念，坚决杜绝“赚快钱”的不健康心态，摒弃冷冰冰的“商业套路”，以行业自律服务社会。淄博市居民自觉维护城市形象，积极配合政府建言献策，举报不文明行为，自发地给予游客各类帮助。淄博的“热”，点燃现代化治理的“火”，把出圈之“术”变成中国式现代化之“道”。结合材料，运用《政治与法治》的相关知识，阐述淄博是如红利用出圈之“术”变成中国式现代化之“道”的。(12分)

参考答案：淄博坚持党的全面领导，发挥党总揽全局、协调各方的领导核心作用；(3)
淄博建设职能科学、执法严明、人民满意的法治政府，在现代化治理中积极转变政府职能，建设服务型政府；(3)

淄博坚持人民主体地位，建设法治社会，支持各类社会主体自我约束、自我管理，发挥社会规范的积极作用，在现代化治理中坚持多元共治；(3)

将坚持党的领导、人民当家作主、依法治国统一于治理实践，是实现全过程人民民主的生动写照。(3)

19. 阅读材料，回答问题。

材料一 汽车产业是国民经济支柱产业，也是促进消费的重要抓手。2022年，尽管受芯片结构性短缺、动力电池原材料价格高位达行等诸多不利因素冲击，但在购置税减半、购置新能源汽车给予补贴、完善充换电设施等一系列稳增长、促消费政策的有效拉动下，中国汽车市场逆境下整体复苏向好。

材料二 2022年我国汽车产销情况

	汽车产量	汽车销量	乘用车			新能源汽车		
			产量	销量	新能源乘用车销量	产量	销量	出口量
数量(万量)	2702.1	2686.4						
同比增长	3.4%	2.1%	11.2%	9.5%	140%	96.9%	93.4%	120%

注：新能源乘用车和传统能源乘用车销量都集中在A级车(轴距2米至2.7米)。掌握电池、电机、电控等核心技术的比亚迪，累计销量超过180万辆，同比增长207.2%。全球新能源汽车销量排名前10的企业集团中中国占3席，动力电池装机量前10的企业中中国占6席。

(1)结合材料，运用经济与社会知识，概括2022年我国汽车产业发展的主要特点。(2分)

(2)有人认为，促进汽车产业高质量发展，关键在于政府完善汽车消费政策提高了居民消费积极性。结合材料，运用经济与社会、当代国际政治与经济知识对该观点进行评析。(12分)

参考答案：(1)我国汽车产业规模大、增速快、结构不断优化，新能源汽车优势明显，品牌

和国际竞争力持续提升。(2)

(2)完善汽车消费政策,降低居民汽车购置成本,刺激居民消费。政府要全面履行经济职能,完善汽车产业政策,进行财政货币政策支持。(4)

推进供给侧结构性改革,推动经济高质量发展,增强居民消费意愿和消费能力。市场在资源配置中起决定性作用,企业作为最重要的市场主体,要面向市场、自主创新、优化结构,积极参与国际竞争与合作。(4)

促进汽车产业高质量发展要实现有为政府与有效市场的有机结合。(4)

公众号:高中试卷君

20.古遗址是认识中华文明的额重要物质载体,做好文化遗址的保护和利用,让文化遗址活起来,建设古遗址公园是较好的选项。在某古遗址公园的建设讨论中,针对古遗址的保护和利用村民是否应该搬迁,村民们表达了不同的观点。

甲:建设古遗址公园可将村民房屋纳入规划,村民房屋改造后可作为基础设施建设提供必要的服务,村民也可参与古遗址的保护工作,村民的房屋与古遗址公园可以融合共生,所以村民不应该搬迁。

乙:只要村民留下,就会造成古遗址破坏,对村民进行搬迁,该处遗址可以得到保护。

(1)运用唯物辩证法的有关知识,说明甲不赞同的理由(10分)

参考答案:

①整体与部分辩证统一,立足整体,树立全局观念,实现整体最优目标(5)

②矛盾的同一性与斗争性是辩证统一的,矛盾的对立统一推动事物的运动,变化和发展,村民房屋与古遗址公园可以实现融合共生(5)

(2)运用《逻辑与思维》的知识,分析乙方推理的逻辑谬误(5分)

参考答案:

①充分条件假言推理的正确有效式是肯定前件能够推出肯定后件,否定后件推出否定前件(2分)

②乙的推理,否定前件推不出否定后件,该推理的逻辑结构错误(3分)