

秘密★启用前

## 曲靖市第二中学学联体 2023 届高三联考(第二次)

### 文科综合试卷

(满分 300 分,考试时间 150 分钟)

#### 注意事项:

1. 本试卷分第 I 卷(选择题)和第 II 卷(非选择题)两部分。答卷前,考生务必将自己的姓名、准考证号填写在本试卷和答题卡的相应位置上。
2. 回答第 I 卷时,选出每小题答案后,用铅笔把答题卡上对应题目的答案标号涂黑,如需改动,用橡皮擦干净后,再选涂其他答案标号。写在本试卷上无效。
3. 回答第 II 卷时,将答案写在答题卡上,写在本试卷上无效。
4. 考试结束后,将本试卷和答题卡一并交回。

#### 第 I 卷

一、单选题,共 35 个小题,每小题 4 分,共 140 分。在每小题给出的四个选项中,只有一项是符合题目要求的。

近年来广东省佛山市不断推动传统制造业向新兴产业发展。下图为佛山市三大类新兴产业的空间分布。据此回答 1~3 题。



高端装备制造业



新能源产业

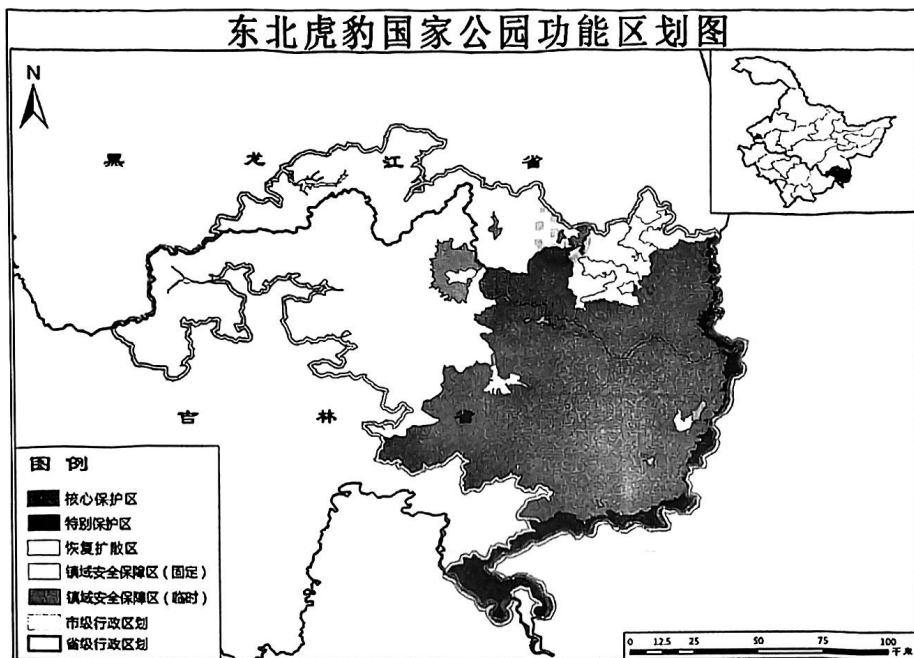


新材料产业

1. 推动佛山市的传统制造业转向新兴产业发展的主要原因是  
A. 原有产业基础好  
B. 劳动力价格的上涨  
C. 新兴产业附加值高  
D. 政府的大力支持
2. 佛山市新兴产业的空间分布有集中为主、少数分散的特点,这样布局的目的在于  
A. 获取原料  
B. 共享空间  
C. 人才流动  
D. 降低运费
3. 该地区布局新兴产业的主要优势是  
A. 距离近,便于不同企业间技术合作  
B. 区域产业链完整,降低成本  
C. 企业距离近,利于行政管理  
D. 零部件运输速度快,节省组装时间

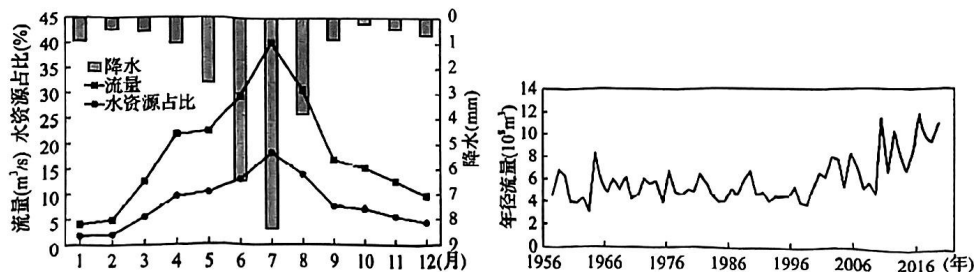
文科综合试卷·第1页·共16页

20 世纪 90 年代末,东北虎和东北豹仅分布于中朝俄三国边界线附近。2017 年,我国依据东北虎豹集中分布和迁移扩散区划定了东北虎豹国家公园,公园共划分出 4 个功能区(见图)。据此回答 4~6 题。



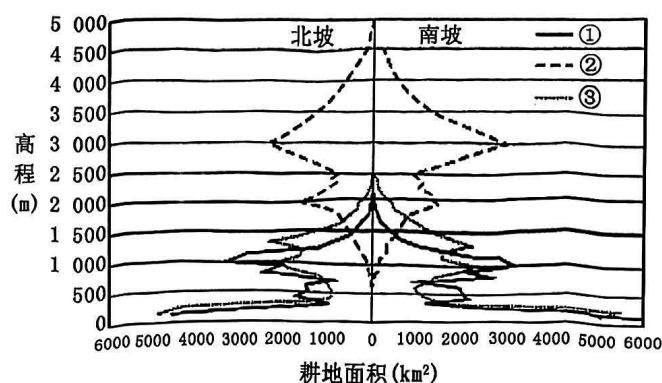
4. 划定东北虎豹国家公园中“特别保护区”的主要影响因素是  
A. 经济                      B. 地貌                      C. 位置                      D. 人口
5. 关于该国家公园内各功能区的发展定位,叙述正确的是  
A. 核心保护区是生态修复、改善栖息地质量和生态廊道的重点区域  
B. 特别保护区是开展自然教育、游憩、生态体验服务的主要场所  
C. 恢复扩散区是维护现有虎豹种群正常繁衍、迁移的关键区域  
D. 镇域安全保障区是林场职工和当地居民生产、生活主要区域
6. 符合东北虎豹国家公园所在区域植被特征的是  
A. 根系发达                      B. 抗寒抗旱                      C. 垂直结构复杂                      D. 多革质叶片

车尔臣河位于昆仑山北麓。下左图为车尔臣河流域月均降水、径流及水资源年内分布,下右图示意 1957-2019 年车尔臣河流域年际径流量变化特征。据此回答 7~8 题



7. 每年 2-3 月车尔臣河径流量增加,其主要补给源是  
A. 高山冰雪融水      B. 季节性积雪融水      C. 大气降水      D. 地下水
8. 下列要素中,与车尔臣河流域年际径流量变化特征关联度最大的是  
A. 春季流量      B. 秋季流量      C. 冬季流量      D. 夏季流量

山地地形影响气候特性,进而使山地景观类型随海拔升高而变化。下图为太行山区、横断山区、黔桂喀斯特山区的耕地面积与坡向关系示意图。考察发现,黔桂喀斯特山区较低海拔区针叶林面积占比较高。据此回答 9~11 题。



9. 能代表横断山区、太行山区分别对应的序号是  
A. ②与③      B. ①与②      C. ②与①      D. ①与③
10. 黔桂喀斯特山区的针叶林面积低海拔区占比较高,是因为山区  
A. 土壤肥沃      B. 水分充足      C. 山体陡峭      D. 热量充足
11. 太行山区与黔桂喀斯特山区的耕地分布上限存在差异,影响这种差异的主要因素是  
A. 耕作技术      B. 农耕历史      C. 光照条件      D. 水热匹配
12. 厦门是习近平新时代中国特色社会主义思想的重要孕育地和实践地,彰显了中国式现代化的深刻内涵和巨大魅力。2012 年到 2022 年,厦门人均 GDP 从 7.74 万元增至 14.78 万元。同时,“爱心厦门”逐渐成为城市新名片,厦门收获了全国文明城市“六连冠”的殊荣。材料说明中国式现代化  
A. 要求物质文明和精神文明相协调  
B. 以经济的快速发展为有力支撑  
C. 以文明城市建设丰富人民的精神世界  
D. 目标是实现全体人民共同富裕



13. 2022年是国企改革三年行动的收官之年。通过改革,国有企业经营机制更“活”,一大批活力迸发、动力充足的现代新型国企正在形成;布局结构更优,国有经济竞争力、影响力和抗风险能力显著提升;科技范儿更足,在航天、深海、能源、交通、国防军工等领域取得一批重大科技成果。可见,国企改革

- ①是坚持和发展中国特色社会主义的必由之路
- ②为我国实现国家富强创造了根本社会条件
- ③调整经营机制以激活国有经济的内生活力
- ④重视创新引领发展以推动科技自立自强

A. ①②                      B. ①③                      C. ②④                      D. ③④

14. 1992年中国载人航天工程正式立项实施,2022年圆满完成“三步走”战略任务,全面建成中国空间站,目前已正式进入空间站应用与发展阶段。经过三十年几代航天人的接续奋斗,我国成功突破掌握了一系列关键核心技术,创造了重大飞行任务27战27捷的辉煌战绩,将神话中的“天宫”变成了现实,凸显了新型举国体制的独特优势。新型举国体制的优势在于

- ①推动有效市场和有为政府更好结合,提升科技攻关体系化能力
- ②坚持公有制的主体地位,不断做大做强国有经济和民营经济
- ③能够集中力量办大事,在重要领域形成竞争优势、赢得战略主动
- ④便于更好地发挥关键核心技术在资源配置中的决定性作用

A. ①②                      B. ①③                      C. ②④                      D. ③④

15. 习近平总书记强调:“检验农村工作实效的一个重要尺度,就是看农民的钱袋子鼓起来没有。”增加农民收入,是“三农”工作的中心任务。增加农民收入

- ①要以“乡村建设”为中心,全面推进乡村振兴
- ②要推进农业现代化,加快建设农业强国
- ③要保证粮食安全,实施粮食产能提升行动
- ④关系民生福祉,也事关加快构建新发展格局

A. ①②                      B. ①③                      C. ②④                      D. ③④

16. 为改善镇容镇貌,某镇党委、政府依法依规,从抓好“三清理三拆除三整治”开始,引导村民自觉遵守各项规定;通过召开党员大会、村民代表大会,引导村民投身美丽乡村建设。经过改造提升,该镇镇容镇貌实现靓丽蝶变,成为远近闻名的“彩虹小镇”。该镇乡村治理的经验有

- ①村民代表作为人大代表,依法行使权利
- ②发挥镇党委总揽全局、协调各方的作用
- ③镇政府作为群众自治组织,依法行政
- ④发扬基层民主,实现村民自我管理

A. ①②                      B. ①③                      C. ②④                      D. ③④

17. 近年来,北京市人大常委会探索“万名代表下基层”机制,在立法修法、执法检查等环节,充分听取民意、传递民智,将来自人民群众的“金点子”转化为解决问题的“金钥匙”,擦亮了全过程人民民主的北京实践“金名片”。“万名代表下基层”
- ①巩固了立法的民意基础,推动法律的实施
  - ②促进开门立法,提高立法机关的立法效能
  - ③拓宽公民参与的渠道,扩大了公民的权利
  - ④汇聚民智、听取民意,保障人民当家作主
- A. ①②                      B. ①④                      C. ②③                      D. ③④
18. 人们普遍认为,黎明的阳光作为一种信号传递给公鸡,刺激了公鸡打鸣。后有科研团队通过长期实验发现,主要是因为规律的昼夜节律在公鸡体内形成的生物钟“告诉”它们在黎明前要打鸣。该团队还进一步指出,其它因素也会对公鸡打鸣造成特定的影响。对公鸡打鸣原因的探索过程告诉我们
- ①规律具有客观性,人们能够在实践中认识规律
  - ②意识具有目的性,这是人们认识和改造世界的前提
  - ③实践具有能动性,人们的实践能够突破条件的制约
  - ④认识具有上升性,实践活动推动着认识的不断发展
- A. ①③                      B. ①④                      C. ②③                      D. ②④
19. 2022年11月20日,第二十二届世界杯足球赛在卡塔尔举行。四川熊猫和青神竹编组“CP”亮相,向全球观众展示已有5000多年历史的中国青神竹编文化,让竹艺之花烂漫在世界各地。青神竹编是流传在眉山市青神县的一种古老民间工艺,也是国家级非物质文化遗产,并且被联合国教科文组织专家称为“竹编史上的奇迹,艺术中的艺术”。材料说明
- ①文化因交流而多彩,因差异而丰富
  - ②悠久的历史积淀是文化交流的前提
  - ③文化不仅是民族的,也是世界的
  - ④艺术创作要坚持国际创作导向
- A. ①②                      B. ①③                      C. ②④                      D. ③④
20. 2022年美国中期选举的开支再次刷新纪录。美国选举越来越“烧钱”是一个长期趋势,党派对立让政治愈发成为一项“零和游戏”,因此,利益集团和个人捐助者下的“赌注”也更高。民主党和共和党支持者用钞票为参选者堆起了总统宝座,美国的民主政治彻底沦为了“金主政治”。由此可以判断
- ①美国民主政治沦为“金主政治”说明美国的民主政治实质是资本主义民主
  - ②“党派对立让政治成为‘零和游戏’”说明美国两党存在根本利益的分歧
  - ③利益集团下“赌注”是通过助选的方式影响政府决策,实现自身利益
  - ④民主党和共和党积极参与中期选举表明两党的主要目标是竞选国家元首
- A. ①③                      B. ①④                      C. ②③                      D. ②④

21. 2023 年是习近平主席提出“一带一路”倡议十周年。“一带一路”倡议主张共同应对全球发展挑战,旨在推动沿线国家实现发展战略对接、优势互补,促进地区经济增长、推动全球共同发展。世界银行研究报告显示,若共建“一带一路”框架下的项目全部实施,到 2030 年有望为全球产生 1.6 万亿美国的收益。这表明

- ①中国通过“一带一路”参与全球经济治理规则制定
- ②共建“一带一路”能让沿线国家共同分享发展机遇
- ③共建“一带一路”能助推沿线国家实现经济一体化
- ④倡议彰显共商共建共享、合作共赢的发展理念

A. ①②                      B. ①③                      C. ②④                      D. ③④

22. 小刘参加拼多多“砍价免费拿”活动,他按照平台提示的操作,挑选了一款手机进行砍价。不久系统显示,他已达成“砍价进度第一名”,只需再邀请几位好友就可以免费得到商品。小刘于是便邀请同事们帮忙砍价,但他很快发现,无论邀请多少好友,最终进度都停留在只差 0.9% 不动,为此,小刘与该电商平台产生纠纷。对此,下列说法正确的是

- ①小刘可先单方面申请商事仲裁,再提起诉讼
- ②若提起诉讼,电商平台可委托诉讼代理人
- ③小刘若提起诉讼,需承担举证责任
- ④电商平台涉嫌侵犯消费者的知情权

A. ①②                      B. ①④                      C. ②③                      D. ③④

23. 云南省地理位置独特,气候多样,自然资源丰富,也是我国少数民族最多的省份。下列判断能够与“云南省既是旅游大省又是民族文化大省”这一判断同时为真的是

- A. 云南省既不是旅游大省,又不是民族文化大省
- B. 云南省虽然是旅游大省,但不是民族文化大省
- C. 云南省要么是旅游大省,要么是民族文化大省
- D. 云南省或者是旅游大省,或者是民族文化大省

24. 从河南二里头和时间稍后的四川三星堆遗址中,考古发现两地有一些共同特征的器物,都有陶盃(酒器)、龙形牙璋(礼器)、镶嵌绿松石铜牌、海贝等。但三星堆独特的青铜神像、金杖、面具和神树等,显示其特殊的祭祀行为。对此解读最准确的是

- A. 夏人礼仪在古蜀文明中传承
- B. 古蜀文明兼收并蓄且个性鲜明
- C. 两地的区外贸易都相当发达
- D. 两地文明之间存在着交流互鉴

文科综合试卷·第6页·共16页



25. 两汉时期,在户籍管理上,户内有男性成员的情况下,女性也可以成为户主;尊长与卑幼同时存在的情况下,尊长或卑幼均可能成为户主。三国时期出现了新的趋向,若户内有成年男性,则女性和未成年男子已不能成为户主。据此可知三国时期( )
- A. 国家治理效能显著提高  
B. 户籍制度日趋完备  
C. 儒学逐渐渗入基层管理  
D. 女性社会地位低下
26. 下表内容是宋期皇帝(部分)颁发的一些关于植树的诏令。宋朝统治者此举意在

时间	诏令内容
宋太祖建隆元年 (960年)	“课民种树,定民籍为五等,第一等种杂树百,每等减二十为差,桑枣半之……令、佐春秋巡视,书其数”
宋太宗至道元年 (995年)	“令诸路州府各据本县所管人户,分为等第,依元(原)定桑枣株数,依时栽种……如将来增添桑土,所纳税课并依元(原)额,更不增加”
宋神宗熙宁二年 (1069年)	“民种桑柘,毋得增赋……令民即其地植桑榆或所宜木……官计其活茂多寡,得差减在户租数,活不及数者罚,责之补种”

- A. 增强官民重农意识  
B. 维护小农经济稳定  
C. 减轻农民赋税负担  
D. 改善乡民生活环境
27. 明人王世贞(1526-1590)认为:“高皇帝收天下之权,以归一人,即狼戾如(王)振、(刘)瑾者、一蹶而忧,再蹶而危,片纸中夜下而晨就缚,左右无不鸟散兽窜,是以能为乱而不能为变也”。这说明,明代
- A. 初期制度设计缺乏对宦官的制约  
B. 内阁行政高效有力地牵制了宦官  
C. 宦官政治势力依附和借助于君权  
D. 灭亡教训催生出反专制进步思想
28. 洋务派创办的民用企业大都采用官督商办的方式,通过招募商股筹集资金。轮船招商局第一期股银拖延了六年才招齐。然而,19世纪80年代初却出现了股份投资热,轮船招商局每股100两的股票在当时曾被卖到每股253两,开平煤矿的同额股票也被卖到每股250两。这一时期的“股份投资热”
- A. 缘于洋务派指导思想的转变  
B. 促使民族资本主义快速发展  
C. 利于推动传统社会结构瓦解  
D. 受到群众性反帝运动的推动
29. 梁启超从1899年到1903年在《清议报》和《新民丛报》两种刊物上发表了多篇文章,向国民广泛地介绍了西方资产阶级的各种理论和学说,竭力鼓吹民族主义、自由平等、博爱、民主、民权等资产阶级的思想与精神。这反映出梁启超
- A. 将传统文化与西方思想相融合  
B. 激励国民从西学中寻找救国良策  
C. 认为西学成为救亡图存的根本  
D. 引入了西方民主共和的救国理念

30. 国民政府在内地通过改善旧路和修建新路,形成了以贵阳、重庆为中心的西南公路网,到 1943 年西南五省通车里程为 1.7 万公里。1937 年西南空运飞行里程为 267 万多公里,1943 年增至 884 万公里。政府旨在
- A. 促进西南地区经济发展  
B. 改变偏远地区交通落后状况  
C. 加强对黔渝地区的统治  
D. 保证战争物资供应补给充足
31. 下面为 1978 年和 1987 年国家宏观调控范围和方式的情况对照表。表中种类和占比的变化反映出我国

	国家计委计划管理的工业品种类	国家统配物资种类	国家计划管理商品种类	全国用于生产和建设的资金	
				财政筹集占比	银行筹集占比
1978 年	120 种	259 种	188 种	76.6%	23.4%
1987 年	60 种	26 种	23 种	31.2%	68.8%

- A. 社会经济活力显著增强  
B. 国民经济结构持续变化  
C. 城乡居民生活同步改善  
D. 市场经济体制日益健全
32. 14 世纪中期,欧洲地产托管在封土中使用情形增加,即封臣将封土委托他人代为管理,自己不直接占有土地却可以享有土地收益。土地托管的发展
- A. 推动了圈地运动的发展  
B. 根植于资本主义的萌芽  
C. 冲击了传统的封建体制  
D. 有利于农业集约化经营
33. 下图创作于 1780 年左右,画面中的“绅士”手持天平,天平的一端秤盘中放置着一桶钱币,另一端高高翘起的秤盘中则是卢梭的《爱弥儿》等书卷。这反映了当时法国



- A. 民众不认可政治变革  
B. 新思潮引发争鸣冲突  
C. 商人们抵制理性精神  
D. 知识界反思人文主义



34. 1865年前后,旋转木马开始在纽约科尼岛流行。1884年,科尼岛引进了一种纽约人从未见过的娱乐项目——过山车,票价相当便宜,只需5美分。不久,摩天轮出现了,科尼岛娱乐设施的发展
- A. 折射出民众工作条件的改善
  - B. 得益于工业化成果的应用
  - C. 说明休闲旅游生活方式出现
  - D. 反映出市民福利建设加快
35. 2011年,英国《卫报》揭露了美国军方研制软件操纵社交网络,一名美军可以拥有10个虚假身份出现在网络上,在其他国家制造亲美的网络舆论。据布鲁金斯学会统计,从2008年到2012年,美国国务院在相关活动上花费将近1亿美元。这表明
- A. 冷战仍然在网络世界中延续
  - B. 技术进步导致战争形式变化
  - C. 美国意图操纵舆论维护利益
  - D. 英美利益分歧同盟关系破裂

## 第 II 卷

### 二、综合题

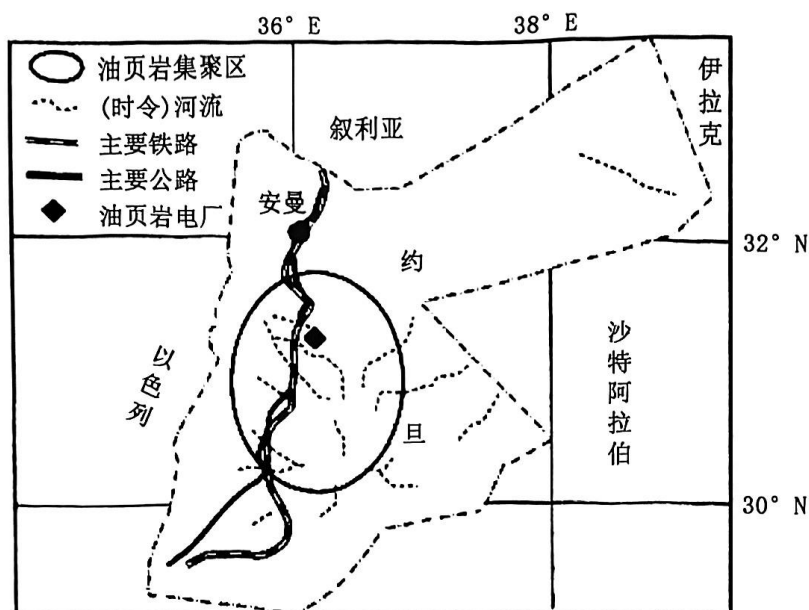
36. 阅读图文资料,完成下列要求。(28分)

约旦位于亚洲西部,属于发展中国家,经济基础薄弱。约旦西部多山地,属亚热带地中海气候;东部和东南部为沙漠,沙漠占全国面积80%以上。约旦西部山区和约旦河谷地区年降水量在380~630毫米之间,而东部沙漠地区气候恶劣,昼夜温差大,干燥,风沙大,年降水量少于50毫米。约旦能矿资源较匮乏,长期依赖进口。为此,该国政府大力提倡发展清洁能源。近年来,越来越多中国企业在约旦投资、承建发电项目,这将帮助约旦逐渐实现绿色发展的愿景。

油页岩是一种含有固体可燃有机质的沉积岩,从油页岩中可以提炼出页岩油。约旦拥有丰富优质的油页岩资源,其埋藏深度浅,上覆岩层成岩程度低,便于露天开采。由中国能源建设集团融资建设的阿塔拉特油页岩电站是约旦最大电站项目。

页岩油是最难开采的石油之一。开发过程需要大量的淡水资源并产生大量废水,目前处理这些废水最常用的方法是将其注入废水深井,而非回收利用。开采页岩油需要先进的技术。页岩油里面含有一些有毒物质,开采石油必须用到淡水,如果对水资源处理不到位,后果非常严重。

文科综合试卷·第9页·共16页



约旦及油页岩项目示意图

(1) 指出约旦东西部的气候特征差异并分析其形成原因。(8分)

(2) 根据材料说出一种约旦可开发的清洁能源, 简述该能源发电站建成后对约旦发展的意义。(8分)

(3) 说明在油页岩聚集区开采油页岩的有利条件。(6分)

(4) 目前油页岩开采对当地环境会产生哪些不利影响。(6分)

37. 阅读图文资料,完成下列要求。(28分)

云南地处低纬度高原,平均海拔2000米,最高海拔6740米,独特的地理及气候环境赋予了云南得天独厚的高原体育训练资源。因此,这里已经成为中国最重要的高原体育训练基地之一。作为提高耐力型项目运动能力的一种重要训练手段,高原训练的效果已得到世界体育界公认,国家田径队、游泳队、足球队经常驻扎此地训练。近年云南省的交通建设也在如火如荼开展。

南昆铁路东起南宁,西至昆明,北接红果,全长899.68公里,沿线途经滇、黔、桂三省区,共29个县市,1990年12月开工建设,为国家Ⅰ级干线电气化铁路。铁道从北部湾海滨爬上云贵高原,相对高差达2010米,是沟通西南与华南沿海的一条重要通道,也是云、贵、川出海的最佳捷径。

南昆铁路沿线地质极为复杂,地形极其险峻,线路沟梁相间,桥隧相连,共有隧道258座,总长194.6公里,大中桥梁476座,总长79.8公里,桥隧总长占线路总长的31%,按当时的科技水平,修建难度可想而知。

有“天下第一洞”之称的家竹箐隧道,洞身有1085米是煤系地层,主要煤层共14层,隧道施工通过煤层时,瓦斯涌出量最多时达到每小时349立方米,施工难度在当时我国铁路隧道建设史上还没有先例,但这些难关都被建设者一一攻克。

(1)简析1800-2400米高原成为体育训练基地的自然原因。(8分)

(2)说明影响南昆铁路布局的区位因素。(8分)

(3)分析在修建南昆铁路过程中遇到的自然限制因素有哪些。(6分)

(4)你是否赞成国家花费巨资建设南昆铁路,请说明理由。(6分)



38. 阅读材料,回答下列要求。(10分)

中央提出,干部敢为、地方敢闯、企业敢干、群众敢首创。“四敢”吹响了创新干事的冲锋号。

内蒙古不怕自揭家丑,敢于正视问题,下大力气,盘活“半拉子”工程。不到一年的时间,387个政府投资类的濒死项目、搁置数年的“断头路”、部门互踢的“破皮球”、谁都不理的“烂摊子”……这些群众烦心、政府糟心的工程,有近三分之一得到盘活。内蒙古坚持问计于民,综合施策,靶向施策,逐一化解;通过依法依规腾出宝贵资源,鼓励社会投资合理配置资源,财政投入优化使用资源,用先进的理念盘活“半拉子”工程。

内蒙古盘活“半拉子”工程深得民心,关键在于党组织敢做敢当,敢于在理旧账中增强服务的紧迫感,敢于在困难中寻找化解矛盾的金钥匙,用意志战胜困难,靠创新创造奇迹。

结合材料,运用《政治与法治》的知识,分析内蒙古是怎样盘活“半拉子”工程的。

39. 阅读材料,完成下列要求。(10分)

现代化是一个国家、民族发展必经的阶段,是传统社会向现代社会发展的必然选择。从世界范围看,许多二战后独立的国家或是照搬西方现代化模式,或是谋求依附发展,被迫丧失独立性,最后不仅没有成功走上现代化道路,反而陷入各种发展的“陷阱”。中国式现代化是中国共产党领导的社会主义现代化,既有各国现代化的共同特征,更有基于自己国情的中国特色。中国式现代化道路是一条为了人民、依靠人民、服务人民的发展道路,是一条独立自主、艰苦奋斗的发展道路。中国式现代化打破西方现代化的“一元定式”,让现代化的道路选择从“单选”变为“多选”,给其他发展中国家走向现代化提供了借鉴。

结合材料,运用矛盾普遍性和特殊性的关系,说明中国式现代化给其他发展中国家走向现代化提供了借鉴。

40. 阅读材料,完成下列要求。(10分)

2023年2月19日,第59届慕尼黑安全会议在德国闭幕。会议重点讨论了俄乌冲突,但最终并未就相关问题达成广泛共识。中共中央政治局委员、中央外事工作办公室主任王毅在会上发表的主旨讲话中指出,建设一个更加安全的世界,是各国人民的强烈愿望,是世界各国的共同责任。

他强调:肆意干涉别国内部事务,无论编造什么理由,都是对国际关系基本准则的无视和背叛,主权原则是当代国际秩序的基石,各国都应切实遵守;国与国难免出现矛盾和摩擦,施压抹黑、单边制裁,往往事与愿违,甚至贻害无穷,无论争端如何尖锐,都应坚持政治解决;一些国家挑起意识形态对立,破坏了国际团结,阻碍了国际合作,当务之急是各方都应放弃本国利益优先的“小道理”,服从遵守联合国宪章宗旨和原则的“大道理”,要切实保障世界各国的正当发展权利,助力落后地区改善民生,振兴经济,消除滋生冲突的土壤。

结合材料,运用世界多极化的相关知识,谈谈应如何共建一个更加安全的世界。

41. 阅读材料,完成下列要求。(12分)

小伟和小涛是某小学一年级同班同学。2022年10月12日,他们两人课间在学校操场活动,小涛跑到小伟身边,从身后抱住小伟打闹玩耍,将小伟摔倒在地,致其右臂受伤。老师发现后,遂上报学校,通知其家长带去医院检查,诊断为右肱骨外髁骨折。小伟虽经手术治疗痊愈,但其父母为此支付医疗等费用2万余元。因当事人未能就赔偿达成一致意见,遂诉至法院。

(1)结合材料,运用《法律与生活》的有关知识回答,本案中小伟的什么权利受到侵害?谁应当对小伟受伤承担侵权责任,为什么?(8分)

(2)谈谈你从本案中得到的启示。(4分)

42. 阅读材料,完成下列要求。(10分)

“盲”在实验中是一种基本的工具。双盲实验是科研人员对在研西药进行测试的一种方法。在双盲实验中,科研人员把实验对象分为实验组和对照组。作为实验对象的病人和作为实验参与者或观察者的医务人员都不知道谁被给予了实验药,谁被给予了安慰剂。医务人员对病人服药以及服安慰剂这两种结果的观察就会更加客观,因而对新药实际效果的解释也就会更准确、更科学。疗程结束后,科研人员将两组病人的治疗效果进行对比,就可以从其他一些变量中孤立出新药的效果来。

结合材料,运用《逻辑与思维》的知识,对双盲实验所运用的逻辑推理方法进行说明。

43. 阅读下列材料,完成下列要求。(25分)

材料一 所谓“春秋决狱”,是指在遇到有关伦常而现行法律无明文规定或虽有明文规定但却有碍伦常时,用儒家经典《春秋》所载有关事例及其体现的道德原则作为司法审判的依据。在当时,经过皇帝的认可,《春秋决狱》成为司法实践的依据,起了“判例法”的作用,故该书获得了立法意义,而体现在该书之中的儒家道德原则变成了法律原则。“春秋决狱”在汉代成为风气,事实上,汉代儒家士大夫不但据《春秋》之经义断狱,而且还扩大范围,根据其他的儒家经典断狱,称之为“引经决狱”。引经决狱之风的盛行,又开启了引经注律的风气,当儒生的法律解释著作得到皇帝的批准而具有法律效力的时候,法律也就儒家化了。

——摘编自曾宪义《中国法制史》

材料二 随着居住在罗马的外来自由民数量的增多,罗马市民法无法适应社会发展的需要。为了解决异邦人和被征服地区居民内部以及他们同罗马居民相互之间的权利和义务关系,公元前242年,罗马国家设置外事最高裁判官,专职处理此类案件,逐渐形成一套“万民法”。万民法适用于罗马公民和非公民之间以及非罗马公民之间的纠纷。其主要来源是:清除了形式主义的罗马固有的“私法”规范;同罗马人发生联系的其他各民族的规范;地中海商人通用的商业习惯与法规等。其内容绝大部分属于财产关系。罗马帝国前期,法学家的活动日益加强,其著述和一系列的司法实践活动,使罗马法律能够适应社会需要的不断发展。

——摘编自何勤华《外国法制史》

(1) 根据材料一并结合所学知识,指出汉代法律演变的背景及其影响。(12分)



(2)根据材料一、二并结合所学知识,比较中国和罗马法律发展的异同。(13分)

44. 阅读材料,完成下列要求。(12分)

材料 针对有一种“唐宋变革”理论把唐、宋两代分割为二,唐为贵族政治,宋一变而为君主独裁,同时其政治、经济、文化上都“近代化”了的情况,当代学者阎步克认为,唐宋两朝的政治体制的相似性大于变异性。期间虽有变化,但其变化幅度未必就比秦汉400多年的变化幅度更大,更达不到所谓“变革”的程度。此期经济、文化、社会方面的若干新现象,总体仍然从属于中国史的内在演化规律,不具备西欧的那种“近代化”的意义。

——摘编自阎步克《波峰与波谷:秦汉魏晋南北朝的政治文明》

根据材料并结合所学知识,针对材料中的观点,自拟论题,并结合所学知识予以阐述。(要求:写明论题,史论结合)

45. 阅读材料,完成下列要求。(15分)

材料一 1791年,美国首任财政部长汉密尔顿在《关于制造业的报告》中第一次系统提出了幼稚产业保护理论,他驳斥了英国经济学家亚当斯密的自由贸易理论,认为政府可以通过征收高额进口关税,极端情况下可以通过禁止进口来保护国内刚起步的制造业。南北战争期间及之后,林肯的经济顾问亨利凯里继承并发扬了汉密尔顿的贸易保护思想,并把自己的经济政策纲领命名为“美国体系”,以显著区别于宣扬自由贸易主义的“英国体系”,即通过高关税、建设基础设施等措施保护本国纺织、钢铁等支柱工业,同时注重差别关税,对本国不生产的咖啡与茶叶等进口产品予免税或减税。

美、英两国早期发展阶段制成品的平均关税率(加权平均数)

国家	1820年	1875年	1913年	1925年	1931年
美国	40%	45%	44%	37%	48%
英国	59%	0	0	0	5%

——摘编自陈树志《美国:贸易保护政策促进经济崛起的历史经验与启示》

文科综合试卷·第15页·共16页

材料二 1949年《共同纲领》规定：“凡是有利于国计民生的私营经济事业，人民政府应鼓励其经营的积极性，并扶助其发展。”同时，对私人资本主义不利于国计民生的一面也进行了限制，从而促进整个国民经济的恢复和发展。1953年，毛泽东指出：“党在过渡时期总路线的实质，就是使生产资料的社会主义所有制成为我国国家和社会的唯一的经济基础。”在社会主义改造过程中，毛泽东再次强调，“彻底地消灭一切资本主义的痕迹”，在这种思想指导下，到1957年，私人资本主义经济在我国大陆基本上被消灭。党的十一届三中全会后，以“雇工大户”形式出现的私营经济在中国的大地上雨后春笋般破土而出，针对这种情况，1987年党中央提出了“补充论”，“对于雇工人数超过限度的私人企业，也应当采取允许存在，加强管理，兴利除弊，逐步引导”。1997年，党的十五大报告指出：“非公有制是我国社会主义市场经济的重要组成部分”。2007年，党的十七大正式提出“平等论”，即法律上平等保护和经济上平等竞争。这就意味着在社会主义条件下，私营经济获得了和公有制经济平等的待遇。

——摘编自李海涛《新中国成立以来党的私营经济政策探析》

(1) 根据材料一并结合所学知识，概述美英崛起过程中实施的不同经济政策及其原因。(9分)

(2) 根据材料二并结合所学知识，指出新中国成立以来党对私营经济政策的阶段特点。(6分)

## 关于我们

自主选拔在线是致力于提供新高考生涯规划、强基计划、综合评价、三位一体、学科竞赛等政策资讯的升学服务平台。总部坐落于北京，旗下拥有网站（[网址: www.zizzs.com](http://www.zizzs.com)）和微信公众平台等媒体矩阵，用户群体涵盖全国 90% 以上的重点中学师生及家长，在全国新高考、自主选拔领域首屈一指。

如需第一时间获取相关资讯及备考指南，请关注**自主选拔在线**官方微信信号：**zizzsw**。

