

咸阳市 2023 年高考模拟检测(三)

文综试题

注意事项:

1. 本试卷共 14 页,全卷满分 300 分,答题时间为 150 分钟。
2. 答卷前,考生务必将自己的姓名和准考证号填写在答题卡上。
3. 回答选择题时,选出每小题答案后,用 2B 铅笔把答题卡上对应题目的答案标号涂黑。如需改动,用橡皮擦干净后,再选涂其它答案标号。回答非选择题时,将答案写在答题卡上。写在本试卷上无效。
4. 考试结束后,监考员将答题卡按顺序收回,装袋整理;试题不回收。

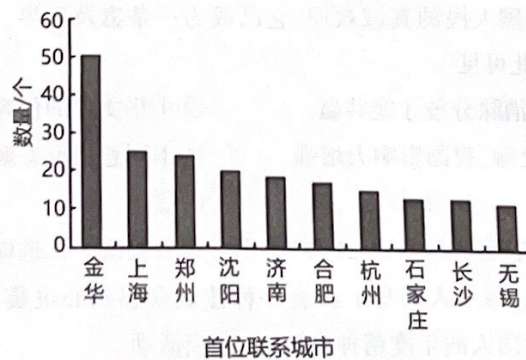
第 I 卷(选择题 共 140 分)

一、选择题:本大题共 35 小题,每小题 4 分,共 140 分。在每小题给出的四个选项中,只有一项是符合题目要求的。

“工业上楼”是在高层大厦中进行企业的生产、办公、研发、设计的新型工业楼宇模式,满足了制造企业的研发、生产一体化需求。深圳从 2023 年开始助推企业“工业上楼”,将连续 5 年,每年建设 2000 万平方米高质量、低成本、定制化的厂房空间,打造生产、生活、生态“三生融合”型制造业园区。据此完成 1~3 题。

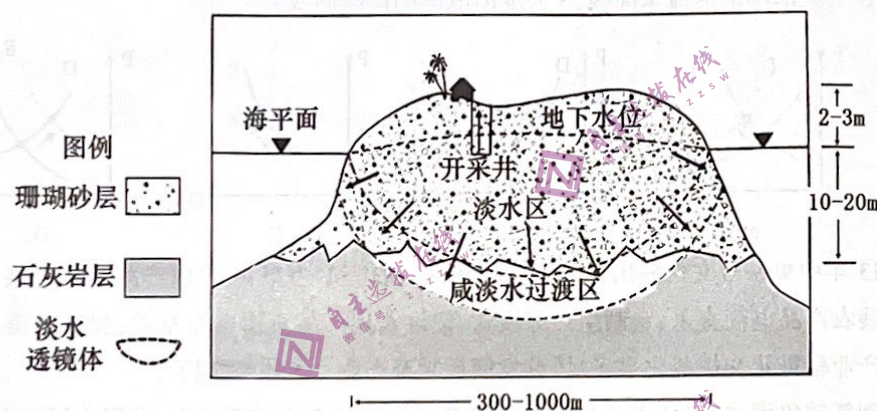
1. 适合“工业上楼”发展的产业是
A. 飞机制造 B. 石油化工 C. 煤炭开采 D. 生物医药
2. 企业实施“工业上楼”可以
A. 提高生产效率 B. 加快新产品开发 C. 降低用地成本 D. 降低运输费用
3. 深圳大力推动“工业上楼”主要是为了
A. 缓解城市用地压力 B. 加快产业的转型升级
C. 集中处理废弃物 D. 加强企业间的交流协作

零担专线是指客户需要运送的货物不足一车时,承运企业把运往同一个地方的多家客户的货物,通过配载达到一辆车的基本载运能力,然后运送到目的地,再在当地分发给各个客户的运输方式。在城市网络中,与某一城市公路零担专线数量联系最多的城市称为该城市的首位联系城市。下图示意在公路零担专线视角下 2018 年全国 TOP10 首位联系城市。据此完成 4~6 题。



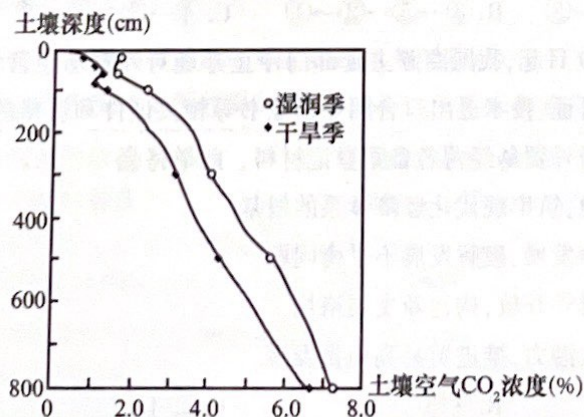
4. 浙江金华市位次最靠前是由于其
- A. 城市规模大 B. 民营经济活跃 C. 地理位置优越 D. 交通最便捷
5. 发展零担专线运输有利于
- A. 完善城市交通运输网络 B. 降低物流仓储成本
- C. 降低单件货物的运输费用 D. 加快物资周转速度
6. 公路零担专线物流企业应接近
- A. 物流中转站 B. 小型住宅区 C. 文化教育区 D. 制造工业园区

1996年中国科学院科考队对南海诸岛考察时发现,在某些珊瑚岛上几乎不存在地表水资源,但地表以下珊瑚砂层和石灰岩顶部(裂隙、溶洞发育)的地层中,发育一种浮在地层内渗海水之上,呈现透镜状的地下淡水体,即“淡水透镜体”。下图示意南海珊瑚岛“淡水透镜体”形成示意图。据此完成7~8题。



7. 南海珊瑚岛上地表水缺乏主要是因为
- A. 气候干旱,蒸发旺盛 B. 岛屿面积小,难以形成地表径流
- C. 地表物质松散,降水下渗快 D. 地表起伏大,地表水流失严重
8. 与淡水透镜体形成无关的是
- A. 珊瑚砂层的厚度与形状 B. 海水与淡水的密度差
- C. 地下水位与海平面的高度差 D. 降水下渗形成的稳定补给

土壤空气中的 CO_2 主要源于土壤微生物分解、根系呼吸等,其变化受到土壤的温度、湿度、孔隙度、有机质等因素的影响。下图示意亚马孙平原东部森林土壤空气中 CO_2 浓度的变化。据此完成9~11题。



9. 影响土壤表层空气中 CO_2 浓度较深层低的主导因素是

- A. 土壤有机质 B. 土壤温度 C. 土壤湿度 D. 土壤透气性

10. 干旱季土壤空气中 CO_2 浓度低于湿润季, 是因为干旱季

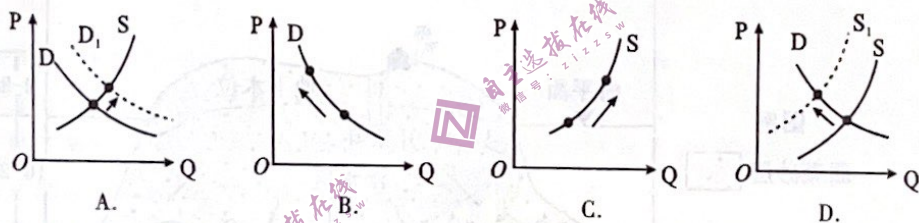
- ①土壤孔隙度增加 ②有机质减少 ③根系呼吸增强 ④微生物分解减慢

- A. ①② B. ①④ C. ②③ D. ③④

11. 在相同深度下, 与我国东北林区相比, 图示地区土壤空气中的 CO_2 浓度

- A. 更高 B. 更低 C. 相等 D. 无法判断

12. 随着新能源汽车生产的持续攀升, 其核心零部件动力电池原材料供不应求, 导致废旧动力电池回收价格飙升。在不考虑其他因素情况下, 下列正确反映这一经济现象的图示是(图中 D 为废旧电池的需求曲线, S 为废旧电池的供给曲线)



13. 2023 年中央一号文件提出, 深入实施“数商兴农”和“互联网+”农产品出村进城工程, 鼓励发展农产品电商直采、定制生产等模式, 建设农副产品直播电商基地; 提升净菜、中央厨房等产业标准化和规范化水平; 培育发展预制菜产业。上述措施旨在

- ①创新销售模式, 提高农产品的生产效率 ②培育乡村新业态, 发展农村混合经济
③延伸产业链, 增加农产品附加值 ④推动产销对接, 助力农产品价值的实现

- A. ①② B. ①③ C. ②④ D. ③④

14. 党的二十大报告提出实施就业优先战略, 强调要健全终身职业技能培训制度, 推动解决结构性就业矛盾, 促进我国经济高质量发展。下列符合这一战略的正确传导路径是

- ①缓解就业结构性矛盾 ②助力经济结构转型升级
③劳动者职业技能提升 ④职业技能培训不断完善
⑤提高技能人才收入水平

- A. ④→③→①→⑤ B. ③→⑤→②→① C. ④→③→①→② D. ③→②→①→⑤

15. 2022 年 12 月 30 日起, 我国商务主管部门停止办理对外贸易经营者备案登记。对于申请进出口环节许可证、技术进出口合同登记证书等相关证件和资格的市场主体, 有关部门不再要求其提供对外贸易经营者备案登记材料。此举将会

- ①优化营商环境, 筑牢现代化经济体系的根基
②推动区域协调发展, 破解发展不平衡问题
③推进高水平对外开放, 构建新发展格局
④释放外贸增长潜力, 推进贸易高质量发展

- A. ①② B. ①③ C. ②④ D. ③④

16. 从村民理事会到红白理事会,从夜谈会到“民情茶话会”……在村党组织带领下,各地探索创新基层群众自治实现途径,搭建便捷议事平台,不断丰富基层民主协商实现形式,让农民自己说事、议事、主事,让村里的事村民商量着办,使农村社会既充满活力又和谐有序。这对乡村治理的启示是

- ①健全共建共治共享的治理机制,激发基层治理活力
- ②创新村民自治组织新形式,完善基层行政管理体制
- ③发挥村党组织作为基层群众自治组织的领导核心作用
- ④保障村民直接行使民主权利,调动参与基层治理积极性

A. ①② B. ②③ C. ①④ D. ③④

17. 党章是立党、治党、管党的总章程,是中国共产党最基本、最重要、最全面的行为规范。在迈上全面建设社会主义现代化国家新征程之际,党的二十大根据党的理论创新和实践发展的需要,对党章进行修改,确保党章与时代同行。党章的修改

- ①彰显以伟大自我革命引领伟大社会革命的坚定决心
- ②坚持依法执政,为全面从严治党提供根本法律保障
- ③把握新时代的新要求,凝聚全党共同奋斗意志力量
- ④健全行政权力制约监督体系,进一步加强党的建设

A. ①② B. ②④ C. ①③ D. ③④

18. 十三届全国政协紧扣“国之大者”、民之关切提出提案,建真言、出实招、聚共识。五年来,共收到提案 29323 件,经审查立案 23818 件,99.8% 的提案已经办复。2023 年全国政协会议的热门提案主要集中在民生、医疗、教育、养老等领域。这表明

- ①民主党派是社会主义协商民主的重要渠道和专门协商机构
- ②人民政协在发展全过程人民民主中担负着重大的历史使命
- ③人民政协关注民生服务群众,坚持以人民为中心的工作导向
- ④我国的新型政党制度具有凝聚共识决定大事的独特制度优势

A. ①③ B. ①④ C. ②③ D. ②④

19. 2023 年是“一带一路”倡议提出十周年,“一带一路”各项合作捷报频传:中老铁路顺利通车,克罗地亚佩列沙茨大桥通车,巴基斯坦卡洛特水电站投入运营等。高质量共建“一带一路”受到共建各国人民的真诚欢迎,它已成为一条惠及世界、造福人类的“发展之路”、“幸福之路”。由此可见

- ①求同难以存异,消除分歧才能共赢
- ②中华文化的包容性能超越文明隔阂
- ③文化与经济相交融,我国影响力增强
- ④不同意识形态融合促进世界文化繁荣

A. ①③ B. ②④ C. ②③ D. ①④

20. 2023 年,《感动中国》已连续举办 21 届,它通过多种投票方式选取年度具有震撼人心、令人感动的人物和团队,每个人物身上都有一种让观众感到心灵震撼的精神力量。《感动中国》被媒体誉为“中国人的年度精神史诗”。此项活动

下

上

装

装

订

订

线

线

- ①能充实生活内容,牢牢掌握意识形态工作领导权
 ②引导人们向善向美,有利于提升国民的文明素养
 ③弘扬中华民族精神,培育了社会主义核心价值观
 ④继承中华传统美德,是当代中国精神的集中体现

A. ①② B. ②③ C. ③④ D. ①④

21. ChatGPT 是 2022 年由人工智能实验室 OpenAI 发布的对话式大型语言模型,其核心是一个能快速进化的数字大脑,它能根据人们的需求自主生成包括代码、视频、文本、图像等方面的内容。在促进 AI(人工智能)创新发展的同时,如何确保 AI 的可信赖并降低风险,已经成为一个全球性议题。对此看法正确的是

- ①ChatGPT 是人类思维和实践结合的产物,不能从事实践活动
 ②ChatGPT 已经具有思维的属性,可以代替人脑进行意识活动
 ③要坚持矛盾分析的方法,辩证分析 ChatGPT 带来的利弊得失
 ④要坚持两点论和重点论统一,着重把握事物发展的主要矛盾

A. ①② B. ②④ C. ①③ D. ③④

22. 姜粉与舒马曲坦(药物)都可缓解偏头痛。为了研究二者的治疗效果,科研工作者进行了对比实验(如下图)。下列对该实验的哲学分析正确的是



- ①矛盾普遍性和矛盾特殊性相互联结 ②实践是检验认识真理性的唯一标准
 ③系统优化有利于发挥整体最大功能 ④从实际出发是获得认识的唯一来源
- A. ①② B. ②④ C. ①③ D. ③④

23. 在中国政府的斡旋下,两个断交七年的中东大国沙特与伊朗同意恢复外交关系。世界少了两个宿敌,人类多了一对朋友,国际交往应坚定站在历史正确的一边、站在人类文明进步的一边,高举和平、发展、合作、共赢旗帜。这说明

- ①矛盾的斗争性和同一性在一定条件下相互转化
 ②人们可以基于事物固有的联系建立起新的联系
 ③沙伊化敌为友是基于正确价值判断作出的选择
 ④沙伊关系改善表明量的积累必然带来质的变化

A. ①② B. ②③ C. ①④ D. ③④

24. 王逸,东汉宜城(今属湖北襄阳)人,在为《楚辞》作注时将“稻”摆在“五谷”中的第一位;郑玄,东汉高密(今山东高密)人,在为《周礼·职方氏》作注时,将“稻”放在末位。可见,两位学者
- A. 都肯定先秦经济成就
B. 存在农业观念的冲突
C. 都关注粮食生产状况
D. 均注重结合生活经验
25. 魏晋南北朝和两宋之交出现了大规模的人口迁移,其迁移方向如下图。

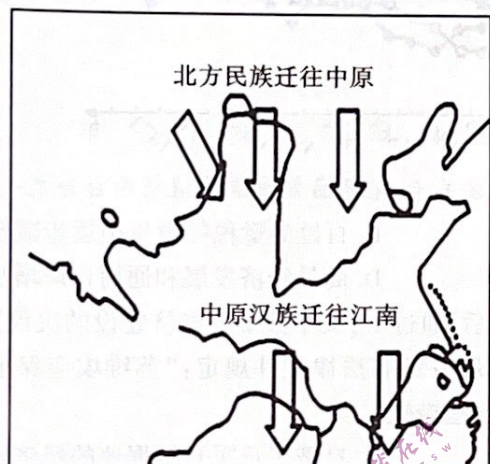


图1

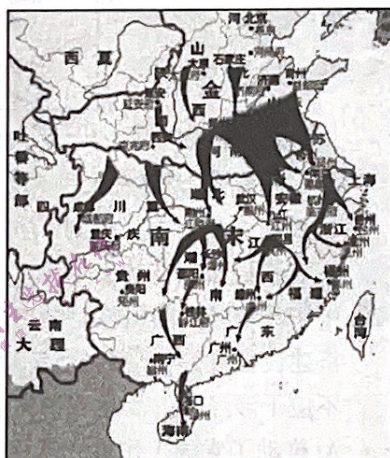


图2

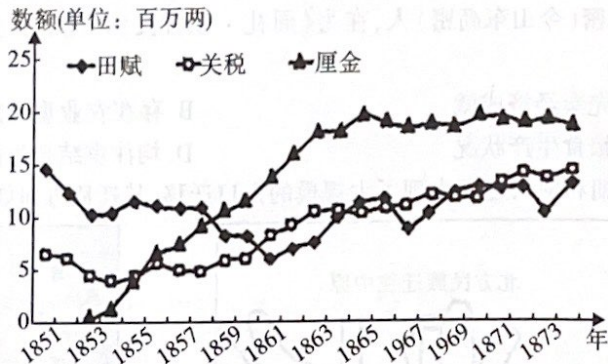
这两次人口迁移的共同影响是

- A. 改变中国经济文化格局
B. 促进南北经济文化平衡
C. 孕育了华夏文明新高峰
D. 激化矛盾加深文化隔阂
26. 下表是现代中国的一些学者对儒学的评论,这些评论最适合用于研究

学者	评论
刘振东	传统儒学存在固有的缺陷:它主要使用于在封建社会结构基本处于稳定状态下维护和协调的运转,它倡导的伦理规范和道德精神具有理想主义色彩。
葛兆光	儒学传统中有一个地方特别容易受到挑战:他们关于宇宙与人生的思路未能探幽寻微,为自己的思想找到终极的立足点,而过多地关注处理现世问题的伦理道德与政治。
马克垚	儒家们摒弃佛道所宣扬的彼岸世界,不相信轮回转世,而力求在现实世界中实现崇高的理想,所以它是一种理性主义的哲学。

- A. 汉初尊奉黄老思想的依据
B. 儒学独尊地位确立的影响
C. 宋代程朱理学兴起的背景
D. 魏晋时期社会动荡的原因
27. 阁臣叶向高在奏疏里说:“祖宗设立阁臣,不过文学侍从,而其重亦止于票拟。夫以无权之官,而欲强作有权之事,则势固必败;以有权之事,而必责于无权之官,其望更难酬。此从来阁臣之所以无功名也,抑亦所居之地使之然哉!”这反映出
- A. 清人不满阁臣是无权之官
B. 内阁制制度上存在缺陷
C. 阁臣辅政过程中经常越位
D. 票拟权削弱了君主专制

28. 下图是 19 世纪 50 ~ 70 年代清政府财政收入结构变化图, 对此解读最准确的是



(厘金: 为镇压太平天国, 在国内设关卡, 依商品数量或价值征约百分之一的税)

- A. 政府强化对关税控制
B. 百姓的赋税徭役负担逐步减轻
C. 农耕经济的持续衰退
D. 商品经济发展和通商口岸增加
29. 中华苏维埃共和国临时中央政府成立后, 通过了《关于苏维埃经济建设的决议》《苏维埃经济建设任务》等一系列经济建设的决议, 并颁布法律文件规定: “苏维埃应保证商业自由, 不应干涉经常的商品市场关系”等。这些措施
- A. 推动了党的工作重心转移
B. 打破了日军对根据地的经济封锁
C. 践行了工农武装割据思想
D. 解决了根据地的物资短缺问题
30. 20 世纪 60 年代初, 上海生产资料服务公司成立。它的功能是承办信托服务、组织推销积压物资, 以及代购、代销、代加工、代托运和调剂余缺等业务。在经营期间, 共处理积压物资 3 亿多元, 代办各类物资 1 亿元。该公司的成立
- A. 旨在促进国民经济的恢复
B. 突破了计划经济体制的束缚
C. 改变了工业物资匮乏局面
D. 得益于国民经济的调整政策
31. 进入 21 世纪以来, 中国先后推动上海合作组织的成立, 参加亚洲相互协作与信任措施会议、东盟地区论坛、10+3 (东盟+中日韩)、东盟—中国对话等机制, 积极推动构建中国—东盟自贸区、中日韩三边对话合作机制等。这反映出我国
- A. 积极促进了南南合作
B. 重视发展睦邻友好关系
C. 与第三世界联系密切
D. 外交领域实现重大突破
32. 约翰·赫斯特在其《你一定爱读的极简欧洲史》中这样说到: 罗马人比希腊人更骁勇善战, 他们用来治理帝国的法律比希腊人高明, 对打仗和治国方面都极为有用的工程建筑, 水准也在希腊人之上。可是, 在其他方面, 就连罗马人也承认希腊人比他们高明, 心甘情愿地卑躬屈膝、复制仿效。这体现出古代罗马文明的特点是
- A. 创造性与继承性
B. 多样性与开放性
C. 多元性与统一性
D. 凝聚性与世俗性
33. 卢梭在其小说《新爱洛绮丝》中写道: “在一个国家里, 贵族只不过是有害而无用的特权。你们如此夸耀的贵族特权有什么令人尊敬的? 你们贵族对祖国的光荣、人类的幸福有什么贡献? 你们是法律和自由的死敌。”据此可知, 卢梭认为
- A. 自由平等是人类的天赋权利
B. 贵族特权阻碍天赋人权实现
C. 社会契约是民主政治的基础
D. 国家权力应该由人民来掌控

34. 工业化前期,由于纺纱、织布等技能逐渐被机器弱化,催生了大量童工,工人的实际收入下降,生存境况每况愈下。1840年之后,童工数量逐渐减少,工人的实际收入也逐步增长,到1900年涨幅达到了123%,出现以上变化的主要原因是

- A. 社会进步使工人的实际收入提高
- B. 工人运动不断争取权益
- C. 生产力发展使工作技术含量提高
- D. 福利国家制度逐渐完善

35. 在二十一世纪前十年,金砖国家整体平均增长率超过8%,远远高于发达国家2.6%的平均增长率以及4.1%左右的全球平均增长率。高盛公司报告称“金砖四国对世界经济增长的贡献率都超过美、欧、日,高达50%以上”。这主要可以说明

- A. 金砖国家经济质量提高
- B. 政治多极化是必然趋势
- C. 区域经济合作成效显著
- D. 世界经济新秩序的形成

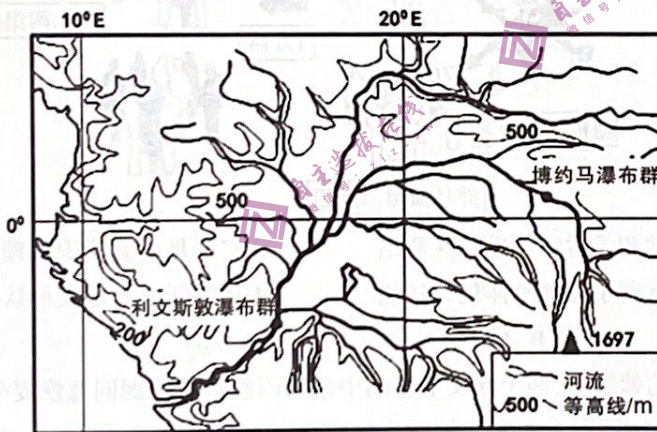
第Ⅱ卷(非选择题 共160分)

二、非选择题:共160分。第36~42题为必考题,每个试题考生都必须作答。第43~46题为选考题,考生根据要求作答。

(一)必考题:共135分。

36. (22分)阅读图文材料,完成下列要求。

刚果河位于非洲赤道地区的刚果盆地,全长4640千米,是世界流量第二大的河流。由于流经赤道两侧,下游一年有两次洪峰,第一次在6月;第二次在12月,且第二次洪水量大于第一次洪水量。入海口没有三角洲分布,入海口海底有河床遗迹。刚果盆地是世界最大的盆地,历史上曾是内陆构造湖泊。下图为刚果河水系图。



刚果河水系图

- (1)说明刚果河成为世界流量第二大河的原因。(4分)
- (2)说明刚果河一年有两次洪水,且第二次洪水量大于第一次的原因。(6分)
- (3)从地质作用的角度说明刚果盆地的形成过程。(4分)
- (4)分析刚果河入海口没有形成三角洲的原因。(8分)

下 上
装 装
订 订
线 线



上 下

县市区

学校

装 装

姓名


班级

订 订

试场

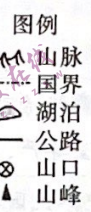
考号

线 线



37. (24分) 阅读图文材料, 完成下列要求。

西藏自治区的普兰县位于山间河谷地带, 平均海拔4000米左右, 常住人口9000多人。当地蔬菜奇缺且价格昂贵, 需要从千里之外的喀什或拉萨调入。为解决此问题, 结合精准扶贫, 国家拨付专项扶贫资金, 并派来农业科技人员, 在当地建设大棚蔬菜基地。获得成功后, 普兰县不仅蔬菜能自给, 还能部分外销。科技人员发现该地温室大棚内几乎无病虫害, 种在立体架子上的蔬菜比种在地面的蔬菜生长快、产量高。下图为普兰县位置示意图和大棚内立体种植(无土栽培)景观图。



- (1) 简要分析普兰县蔬菜奇缺且价格昂贵的自然原因和社会经济原因。(8分)
- (2) 结合该地的环境特征, 说明大棚内几乎无病虫害的原因。(6分)
- (3) 分析说明种在立体架子上的蔬菜比种在地面的蔬菜生长快、产量高的原因。(4分)
- (4) 有专家不建议该地区进一步扩大温室规模, 请说明其理由。(6分)

38. (14分) 阅读材料, 完成下列要求。

材料一:

2018-2022年我国国内生产总值和社会消费品零售总额

时间(年)	2018	2019	2020	2021	2022
项目(亿元)					
国内生产总值	919281	986515	1013567	1149237	1210207
社会消费品零售总额	380987	411649	391981	440823	439733

材料二: 2022年12月15日, 中央经济工作会议在北京召开, 会议着重指出, 把实施扩大内需战略同深化供给侧结构性改革有机结合起来, 围绕推动高质量发展, 支持以多种方式和渠道扩大内需。坚持问题导向, 瞄准有效供给能力不足、分配差距较大、流通体系现代化程度不高、消费体制机制不健全等堵点难点, 才能更好地把握扩大内需的重点任务和主攻方向, 畅通国内经济循环, 推动经济高质量发展。

(1) 概括材料一中蕴含的经济信息。(6分)

(2) 结合材料二,运用经济生活知识,分析我国应怎样在畅通国内经济循环中扩大内需。(8分)

39. (12分) 阅读材料,完成下列要求。

2022年6月,国务院发布《关于加强数字政府建设的指导意见》。2023年政府工作报告再次强调要“加快数字政府建设”。

为了全面贯彻党的二十大精神,陕西省全力推进数字法治政府建设。颁布《陕西省大数据条例》,组建数字政府建设专家咨询委员会,加快构建电子政务“一张网”、“一朵云”,依托大数据发现工作中的“堵点”“痛点”和“难点”,为社会治理提供着力点和突破口。加快推进“陕西一码通”“秦政通”等应用系统建设,推进政务服务便民热线归并优化,实现“12345”一个号码服务,“秦务员”APP上线“掌上好办”事项892个、“掌上缴费”事项453个。推行线上线下一体化监管,健全以“双随机、一公开”监管和信用监管为基础、以重点监管为补充的新型监管机制和联合惩戒机制。全面推行政务公开,建设统一公开查询平台,2023年年底前将实现全省现行有效地方性法规、规章、行政规范性文件统一公开查询。

政令一键到达、执行一贯到底、服务一网通办、监督一屏掌控,陕西省数字法治政府建设为推进治理体系和治理能力现代化提供了有力支撑。

结合材料,运用政治生活知识,分析说明数字化是如何为政府权力行使赋能的。(12分)

40. 阅读材料,完成下列要求。(26分)

大河奔涌,九曲连环;万里黄河,气象万千。党的二十大报告提出:“推动黄河流域生态保护和高质量发展。”2022年10月30日,全国人大常委会表决通过了黄河保护法,该法从2023年4月1日起施行,黄河流域生态保护高质量发展将有法可依。

《中华人民共和国黄河保护法》明确规定,要推动黄河文化体系建设,提高黄河文化影响力。组织指导黄河文化资源调查和认定,对文物古迹、古籍文献等重要文化遗产进行记录、建档,建立黄河文化资源基础数据库,推动黄河文化资源整合利用;加强黄河流域历史文化遗产的保护,加强具有革命纪念意义的文物和遗迹保护,建设革命传统教育、爱国主义教育基地,深入挖掘黄河红色文化;建设黄河国家文化公园,统筹利用博物馆、纪念馆、展览馆等资源,综合运用调节手段,系统展示黄河文化。

“黄河宁,天下平。”裹泥卷沙、河道摆动、地上悬河等诸多问题,让黄河成为全世界泥沙含量最高、治理难度最大、水害严重的河流之一。制定黄河保护法正当其时,意义重大。它大大推进国家的“江河战略”法治化,是以法律形式全面贯彻落实党中央决策部署的重要举措,是强化黄河流域生态保护和高质量发展国家战略法治保障的迫切需要,是解决黄河流域特殊问题的现实需求。

(1)黄河文化体系建设有助于提高黄河文化影响力。结合材料,运用文化传承与创新的知识对此加以说明。(10分)

(2)结合材料,运用社会存在和社会意识辩证关系原理,分析制定《中华人民共和国黄河保护法》的依据。(10分) 公众号:网课来了

(3)黄河保护法是贯彻落实习近平生态文明思想,在法治轨道上推进黄河保护的重要举措。某班开展“保护黄河,人人有责”普法宣传活动,请你以此为主题写一篇宣传稿。

▲要求:①围绕主题,观点明确;②论证充分,逻辑清晰;③学科术语使用规范;④总字数在200字以内。(6分)

41. (25分)阅读材料,完成下列要求。

材料一:工业上,苏俄实行国家资本主义。为了满足粮食税条件下农村对工业品的需求,苏俄政府采取租让、出租等方式,把外国资本和私人资本重新引入国有企业,以提高劳动生产率和经济效益。根据人民委员会的法令,国家除直接管理约4500家最重要的大型企业,其余企业都可以出租给合作社或私人经营。1921年12月,全俄中央执委会颁布的法令解除了对小企业实行的国有化,将这些曾收归国有的企业通过出租的方式交还原业主经营,实际上使大部分小企业和一部分中型企业非国有化了。

——摘编自王斯德主编《世界通史·第三编(现代文明的发展与选择)》

材料二:从党的七大到七届二中全会期间,毛泽东正确地汲取苏(俄)联社会主义建设的经验教训,曾多次论及利用和发展资本主义的问题。他主张:要在民主革命胜利后一个相当长的时期内,一定要使那些有利于国计民生的私人资本主义工业获得适当的发展,以利于国民经济的向前发展。1950年春夏之际,政府在没收官僚资本和接管外国企业的同时开始合理调整民族资本主义工业,到1952年底结束,主要包括调整公私关系、劳资关系和产销关系。

——摘编自靳德行主编《中华人民共和国史》

材料三:二战后,国有化被认定为发展经济的有效措施,面对满目疮痍的法国经济和社会状况,戴高乐政府选择了一条与西德自由经济政策不同的道路。1944年,成立法国电力公司、法国天然气公司、原子能最高委员会等组织。1945年,规定法国航空公司的股票所有权移交给国家,对金融行业也实施了国有化。1946年底,法国政府在企业股权已经超过了一半,国有企业在能源领域的比重高达90%,在金融领域的比重接近50%。“国有化”形成了规模优势,推动了技术进步和产业结构升级。当时,法国重点发展的汽车、航空、通讯、原子能等产业,都是国有企业唱主角,它们的规模和实力,在国际上都居领先地位。……为了减少原资本家的损失和安抚资本家的心理,法国政府规定给予国有化企业原资本家补偿金,并将企业管理权交给资本家。

——摘编自唐逸如《国际金融报》(2015年08月24日第22版)

(1)根据材料一、二并结合所学知识,指出苏俄和新中国在向社会主义过渡期间对待资本主义工业的政策有何异同。(14分)

(2)根据材料三并结合所学知识,指出法国调整经济政策的历史背景,并概括法国的调整与苏俄、中国有何不同。(11分)

42. (12分)阅读材料,完成下列要求。

材料: 公众号:网课来了

历史时期	宪法/宪法性文件	内容节选	确立/实践的政治制度
清末政府	《钦定宪法大纲》	一、大清皇帝统治大清帝国,万世一系,永永尊戴。 二、君上神圣尊严,不可侵犯。	预备立宪
南京临时政府	《中华民国临时约法》	第二条 中华民国之主权属于国民全体。 第五条 中华民国人民一律平等,无种族、阶级、宗教之区别。	议会共和制
北洋政府	《中华民国约法》	国家实行总统制,大总统为国家元首;大总统制定官制、宣战、媾和、缔结条约等方面无须征得国会同意。	政党内阁制
南京国民政府	《训政纲领》	一、中华民国于训政时期,由中国国民党全国代表大会代表国民大会,领导国民行使政权。 二、中国国民党全国代表大会闭会时,以政权付托中国国民党中央执行委员会执行之。	训政体制
	《陕甘宁边区宪法原则》	一、边区、县、乡人民代表会议(参议会)为人民管理政权机关。 五、人民对各级政权有检查、告发及随时建议之权,每届选举时则为大检查。	人民代表会议制度
中华人民共和国	“五四宪法”	第一条 中华人民共和国是工人阶级领导的、以工农联盟为基础的人民民主专政的社会主义国家。 社会主义制度是中华人民共和国的根本制度。中国共产党领导是中国特色社会主义最本质的特征。禁止任何组织或者个人破坏社会主义制度。 第二条 中华人民共和国的一切权力属于人民。 人民行使国家权力的机关是全国人民代表大会和地方各级人民代表大会。	人民代表大会制度、多党合作和政治协商制度、民族区域自治制度

下 上 装 装 订 订 线 线

根据上述材料提炼一个主题,并结合所学知识进行论述。(要求:主题明确,史论结合,表述清晰,逻辑清楚)

(二)选考题:共25分。请考生从2道地理题、2道历史题中每科任选一题作答。如果多做,则每科按所做的第一题计分。

43. (10分)【地理——选修3:旅游地理】

山东省临沂市沂蒙山旅游区,作为我国红色旅游胜地,近年来不断尝试探索将红色旅游与体育运动及其他活动融合发展,“红色旅游+体育运动+N”的旅游形式丰富多样,取得了显著的成绩,形成了一套特有的发展模式。山东当地有众多富有特色的体育项目和非物质文化遗产,如蹴鞠、螳螂拳、鲁派杂技等。




(1)推测当地在“红色旅游+体育运动”的基础上,融合开展哪些活动能够助推当地旅游业的发展?(写出两种)(4分)

(2)简述沂蒙山旅游区红色体育旅游发展的困境。(6分)

44. (10分)【地理——选修6:环境保护】

甘肃张掖高台县位于河西走廊中部,地处巴丹吉林沙漠南部边缘,是全国防沙治沙重点县之一。全县沙化土地334.8万亩,占全县国土面积的51.3%。近年来高台县在高校及科研机构的指导下,引进塑料尼龙网格固沙筑沙障,当地民众将高约20厘米的塑料尼龙网铺设成1.5米见方的格子,网格互相连接,形成了一大片人工沙障(如右图),将移动沙丘牢牢地固定下来。



(1)说出与草方格沙障相比塑料尼龙网格沙障的优点。(4分)

(2)简述塑料尼龙网格沙障在沙区治理中发挥的作用。(6分)

45. (15分)【历史——选修1:历史上重大改革回眸】

材料:唐代后期,一批理财型官员密集出现。安史之乱以后,内外战争不断,政府开支大增。鉴于“寇盗未戢,关东漕运,宜有倚办”,朝廷以户部侍郎刘晏为度支盐铁转运使,“盐铁兼漕运,自晏始也”。刘晏主持理财工作近20年,不额外征发丁男,不过分劳扰郡县,借助商人活动和市场作

用,革除国家财政工作的积弊,效果显著。盐铁使第五琦负责理财时,因“国用未足”而铸钱,并创立盐法,取得“人不加赋,所入仍旧”的成效。及杨炎当政,视财赋为国家的根本、民生的关键,遂推行两税法,在“赋不加敛”的前提下,保证了财政收入,稳定了政治局面,巩固了政权基础。这一系列举措为后世所借鉴,影响深远。此后直至晚清,唐代理财型官员仍常为后人所称道。

——摘编自王仲荦《隋唐五代史》等

- (1)根据材料,概括唐代理财型官员密集出现的背景。(6分)
- (2)根据材料并结合王安石变法的宗旨,分析唐代理财型官员为后人称道的原因。(9分)

46. (15分)【历史——选修4:中外历史人物评说】

材料:项南,从小受革命家庭的熏陶和中央苏区环境的影响,11岁任文坊少年先锋队队长。民国27年,加入中国共产党。1957年,任团中央书记处书记。1979年2月,任农机部副部长。

1980年,项南调福建省工作。在主持福建省委工作期间,坚决贯彻执行中共十一届三中全会的路线、方针、政策和中央重大决策部署,结合省里实际提出了一系列开拓性思路。针对福建的特点,果断地提出改变福建落后面貌的“山海经”战略;支持和鼓励为国有企业“松绑放权”;大力扶植乡镇企业,使乡镇企业成为带动全省经济建设的生力军和排头兵;大力加强与港澳台同胞、海外侨胞的关系与合作,形成了侨胞踊跃到闽投资办厂、办学的大好局面。1984年,邓小平到福建视察,项南建议把厦门特区从2.5平方公里扩大到全岛,建议将沿海城市全面开放。邓小平回京后,中央很快作出了决定。沿海14个城市对外开放,厦门特区扩大为全岛。他深入基层体察民情,足迹遍布八闽的山山水水,深受福建人民的爱戴。

1989年后,担任中国扶贫基金会会长。经常深入冀、鲁、闽、皖、苏、赣、陕、甘、宁等老、少、边、穷地区调查研究,同当地干部群众商量脱贫致富方案,为农村脱贫致富奔小康作出了贡献。

——摘编自《项南简历》

- (1)根据材料,概述项南同志的主要历史贡献。(8分)
- (2)从项南的人生经历中能看到共产党人的哪些优秀品质?(7分)