

2022 学年第一学期浙江省名校协作体联考试题

高三年级历史学科


考生须知:

1. 本卷满分 100 分, 考试时间 90 分钟;
2. 答题前, 在答题卷指定区域填写学校、班级、姓名、试场号、座位号及准考证号;
3. 所有答案必须写在答题卷上, 写在试卷上无效;
4. 考试结束后, 只需上交答题卷。

选择题部分

- 一、选择题 (本大题共 30 小题, 每小题 2 分, 共 60 分。每个小题列出的四个备选项中只有一个是符合题目要求的, 不选、多选、错选均不得分)
1. 据载, 大宛有蒲陶酒, 富人藏酒至万余石, 久者数十岁不败。俗嗜酒, 马嗜苜蓿。汉使取其来, 于是天子始种苜蓿、蒲陶肥饶地。及天马多, 外国使众来, 则离宫别苑观旁尽种蒲陶、苜蓿极望。从中可以得出的结论是
A. 汉朝从大宛获得葡萄、苜蓿和汗血马
B. 大宛是葡萄、苜蓿和汗血马的原产地
C. 西汉王朝与大宛国一直保持友好交往
D. 《本草纲目》记载葡萄和苜蓿的形状
 2. 《后汉书·郭陈列传》记载: “汉典旧事, 丞相所请, 靡有不听。今之三公, 虽当其名而无其实, 选举诛罚, 一由尚书, 尚书见任, 重于三公。” 对此解读正确的是
①尚书台成为当时行政中枢
②三省六部制已正式形成
③中央对地方的控制力加强
④统治者着眼于加强集权
A. ①②
B. ①④
C. ③④
D. ②③
 3. 《北史》记载: “(隋炀帝) 大业三年, 屯田主事常骏、虞部主事王君政等请使赤土(国)。月余, 至其都, 王遣其子那邪迦请与骏等礼见。……那邪迦随骏贡方物, 并献金芙蓉冠、龙脑香。以铸金为多罗叶, 隐起成文以为表, 金函封之, 令婆罗门以香花奏鼙鼓而送之。骏以六年春与那邪迦于弘农谒帝, 大悦, 赐骏等物二百段, 俱授秉义尉, 那邪迦等官赏各有差。” 材料反映了
①隋朝陆上丝绸之路交流的活跃
②隋朝与赤土建立了贡赐关系
③隋朝最早与赤土建立商贸联系
④赤土受印度文化的影响明显
A. ①②
B. ②③
C. ②④
D. ③④
 4. “唐决”是古代中日文化交流过程中的一种特殊方式。日本天台宗僧人将佛教教理上存在争议、悬而未决的问题称为“未决”, 由入唐日僧将“未决”之文书带至中国“请决”, 而中国僧人对相关问题回答被称为“唐决”。对“唐决”的理解最准确的是
A. 佛教起源于中国, 日本佛教尊中国为正宗
B. 日本佛教文化的发展深受中华文化的影响
C. 中华文化博大精深, 为世界发展提供滋养
D. 中日两国因交流互鉴而促进彼此文化繁荣
 5. 清代赵翼在其《檐曝杂记》记载: “自鸣钟、时辰表, 皆来自西洋。钟能按时自鸣, 表则有针随晷刻指十二时, 皆绝技也……西洋远在十万里外, 乃其法更胜, 可知天地之大, 到处有开创之圣人, 固不仅羲、轩、巢、燧已也。” 据此可知
A. 作者具有开放的文化观念
B. 意在强调西方技术的先进
C. 中西方贸易往来十分频繁
D. 当时人们时间观念的增强
 6. 据文献记载: “二十二年更定保甲之法: 一、顺天府五城所属村庄暨直省各州县乡村, 每户给门牌。十户为牌, 立牌长; 十牌为甲, 立甲长; 三年更代。十甲为保, 立保长, 一年更代。” 材料所述的是
A. 唐代邻保制
B. 宋代保甲制
C. 明代里甲制
D. 清代保甲制

7. 1865年,上海南京路开始使用煤气灯,这是上海使用煤气路灯的开端。时人记载初见煤气照明的情形道:“树竿置等所以照道,皆自来火,由地道出,火焰绝明,彻夜不灭。”“铁管遍埋,银花齐吐,当未设电灯时代,固足以做不夜城也。”材料表明
- A. 煤气灯因洋务运动出现在中国
B. 上海民众对新事物的充分认可
C. 煤气灯成为城市主要照明工具
D. 上海城市的基础设施有所改善
8. 中国进入近代以后,由于一系列因素的影响,建立了一大批新式学堂。右图所示为两江师范学堂,关于此学堂叙述正确的是



- ①由张之洞创建,前身为三江师范学堂
②是清末新政时期教育领域的重要成果
③毕业生可直接奖励出身并授予官职
④是清末将育人、取才合于一途的表现
- A. ①②④
B. ①②③
C. ②③④
D. ①③④
9. 蔡元培称:“大学者,研究高深学问者也……所以诸君须抱定宗旨,为求学而来,入法科者,非为做官;入商科者,非为致富。宗旨既定,自趋正轨。”这一主张
- ①是对“学而优则仕”观点的一种反动
②与近代德国大学的办学精神一致
③使北大网罗了一大批优秀学者
④有助于北京大学成为学术研究重镇
- A. ①②③
B. ②③④
C. ①②④
D. ①③④
10. 美国伊利诺伊大学校长詹姆斯给西奥多·罗斯福总统的信中说:“这个国家(中国)太过神奇和伟大,他的觉醒将是我们所有人的噩梦。我们唯一的方式,是用我们的思想完全替代他们原有的文明,让他们未来的精英和领袖,认为我们才是伟大和先进的。用我们的思想和精神,完全覆盖他们的思想和精神,远比用军旗去统治他们更可靠”。詹姆斯的言论
- A. 实质上是“欲灭其国”“必灭其文”
B. 推动了殖民侵略向文化侵略的转型
C. 造成了中国近现代人才的大量流失
D. 肯定了中华思想文化的神奇和伟大
11. 1928年10月3日由国民党中央常务委员会通过的《训政纲领》规定:在训政时期,由国民党全国代表大会代表国民大会领导国民行使政权,大会闭会期间,把政权托付给国民党中央执行委员会;行政、立法、司法、考试、监察五项治权,托付给国民政府总揽执行;国民党中央执行委员会政治会议负责指导监督国民政府的重大国务。这体现了国民党政权
- A. 主权在民
B. 一党专政
C. 分权制衡
D. 个人独裁
12. 在社会主义革命和建设时期,面对百废待兴、物质匮乏的困难局面,中国人民发扬英勇奋斗的革命传统和艰苦奋斗的精神,谱写了无数重整山河的壮丽诗篇,涌现出了大批英雄模范集体和个人。下列人物属于这一群体的是
- A. 孟泰
B. 何凤山
C. 杨善洲
D. 范旭东
13. 下表是根据《北京市2017年国民经济和社会发展统计公报》编制的公共交通数据表。
- | 交通工具 | 运营线路 | 运营车辆 | 运营线路长度 | 全年客运总量 |
|-------|------|--------|---------|---------|
| 公共电汽车 | 881条 | 24131辆 | 19299千米 | 33.3亿人次 |
| 轨道交通 | 22条 | 5210辆 | 609千米 | 37.8亿人次 |
- 据此表说法正确的是

- A. 北京市交通工具种类少，无法满足市民出行的需求
 B. 城市公共交通的发展为人们在市内通行提供了方便
 C. 公共电汽车是目前北京市民最主要的出行交通工具
 D. 轨道交通因为其价格低廉而吸引了更多的市民乘坐
14. 中医有一种认识和解决疾病的过程：把通过望、闻、问、切四诊法所收集的资料、症状和体征，通过分析、综合，辨清疾病的病因、性质、部位，以及邪正之间的关系，再根据其结果确定相应的治疗方法。该过程体现的原则是

A. 天人感应 B. 药食同源 C. 辨证施治 D. 望闻问切

15. 阅读下列表格内容，从中得出的观点正确的是

工具	生产组织方式	社会发展阶段
木、骨、石制工具	集体耕作	原始社会
铁器、牛耕	家庭、庄园、作坊	奴隶社会、封建社会
大机器	农场、工厂	资本主义社会

- ①生产力的不断进步促进生产关系的变化发展 ②生产组织方式对社会发展起决定性作用
 ③人类社会形态从低级向高级发展 ④阶级斗争是社会发展的直接动力

A. ①② B. ①③ C. ①④ D. ②③

16. 20世纪20年代到30年代，英国著名考古学家列奥纳德·伍利的考古队，对苏美尔文明时期的古城乌尔进行了考古发掘，取得了令世人瞩目的成绩，出土了大批精美绝伦的文物，展示了历史鼎盛时期的苏美尔文明曾经达到的辉煌。下列物件不属于乌尔王陵出土的是



A.



B.



C.

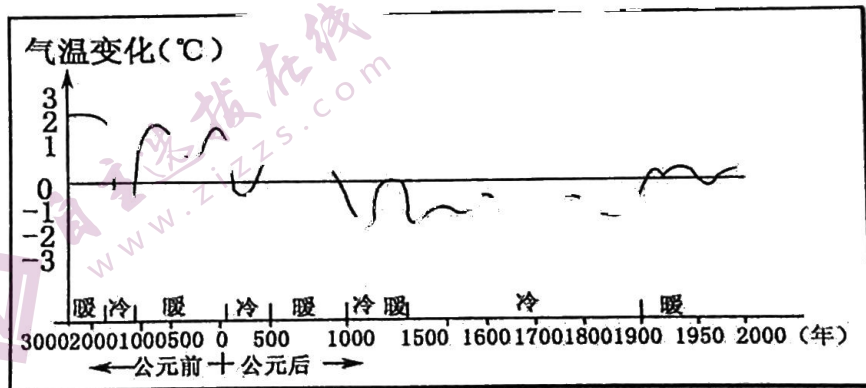


D.

17. 成文法的出现是文明进步的重要表现，下列关于古代成文法叙述正确的是

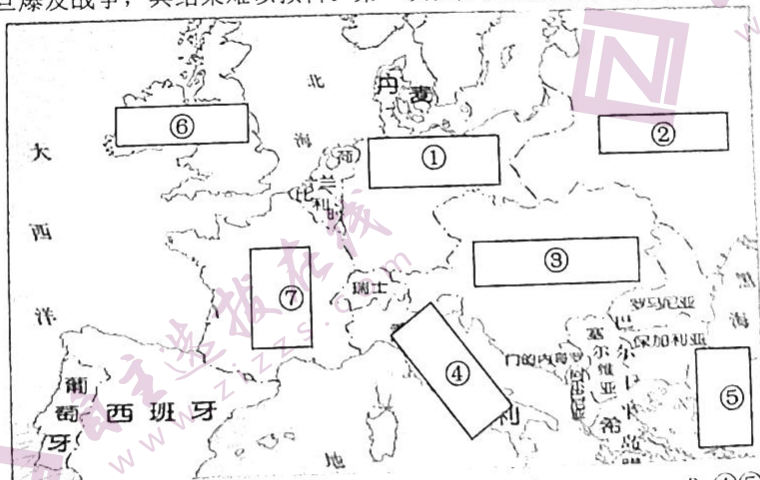
- A. 古罗马第一部成文法是共和国晚期的《十二铜表法》
 B. 中国古代最早的成文法始于战国时期的子产铸刑书
 C. 古希腊克里特岛早在公元前7世纪已经出现成文法
 D. 世界上最早的成文法典用象形文字刻画于黑色石柱

18. 有学者认为：在民族迁徙的诸多原因中，自然环境的变迁尤其是气候的变化是民族迁徙一个非常重要甚至在某些情况下起决定作用的因素。根据历史气温变化曲线示意图，下列项中不能作为该论点依据的是



- A. 印欧人的迁徙 B. 魏晋北方民族大交融 C. 阿拉伯人的扩张 D. 蒙元的南征

19. 《全球通史》指出：“在突厥人成为伊斯兰世界的统治者的同时，遥远的蒙古，有位不引人注目的首领正在开始他的征服生涯；这一征服最终导致了历史上最大的帝国的形成。”又说“1206年，在蒙古各部落酋长会议上，他被推举为全蒙古大汗”。这位“首领”
- A. 天花刺子模国 B. 征服今俄罗斯 C. 攻占巴格达 D. 建立了元朝
20. 食物物种的培植和交流，促进了人类文明的发展。下列关于人类重要食物物种起源的描述，正确的有
- ①小麦原产于西亚两河流域下游 ②马达加斯加岛上的原住民最早种植了甘蔗
③中美洲是玉米、甘薯的原产地 ④咖啡原产于美洲，新航路开辟后传到欧洲
- A. 1处 B. 2处 C. 3处 D. 4处
21. 英王亨利八世授意议会通过《至尊法案》：“我们的君主、国王及其后嗣兼本王国继位诸王，应被拥立、承认和称为英格兰国教会的尘世唯一至尊领袖，应获得并享有与本王国帝王至尊位及其头衔与尊称相关联、属于英格兰国教会至尊领袖上述尊位的一切荣誉、威严、优越权、司法权。”对此法案解读错误的是
- A. 强化了世俗国王的权力 B. 使英国摆脱了罗马教廷控制
C. 巩固资产阶级革命成果 D. 促进英国民族意识的觉醒
22. 恩格斯在《英国工人阶级状况》一书中指出：“做某些工作，几乎包括工业中的一切工作在内，都需要有相当的文化程度……都需要一定的技能和常规性，而要达到这一点就要求工人具有一定的文化水平”。这说明
- A. 工业革命要求工人提高文化素质 B. 从事工业必须有很高的文化水平
C. 工人阶级的生活得到了极大改善 D. 工业国家普及初等教育成效显著
23. 有学者认为1799年英国开征个人所得税的先决条件“首先是由于政府成功地（通过议会）说服公民，所得税对于资助一场深得人心的即使昂贵的战争是必要的；其次，政府能够提供保证把税金用于军队本身，最终目的就要拿下一场完胜的战役；第三，政府能够提供保证，每个公民都缴纳自己的那一份，政府机构会相对诚实，没有人会吞噬这些钱财。”上述材料不能说明
- A. 开征新税种的目的是解决财政问题 B. 英国政府清廉公正深受民众的信任
C. 战争是开征个人所得税的直接原因 D. 民主政体有助于个人所个税的开征
24. 在人们的传统印象中，中古西欧是“黑暗的中世纪”。但也有学者认为中古西欧为欧洲近代化奠定了必要的基础。下列能佐证后者观点的是
- A. 政治混乱使得封建势力弱小 B. 主要的经济形态是商品经济
C. 工商业城市拥有完全自治权 D. 继承了古代希腊罗马的文化
25. 大国之间一旦爆发战争，其结果难以预料。第一次世界大战摧毁了四大帝国，分别为下图所示的




- A. ①②③④ B. ②③④⑤ C. ①②③⑤ D. ④⑤⑥⑦

26. 这些国际运河均降低了东西方物资交流的成本，大大改变了世界航运格局，不仅分别成为两国经济生命线，更是东西方互联互通的要道，成为大国角力场、兵家必争地。文中“两国”指的是

- A. 西班牙、摩洛哥
B. 新加坡、马来西亚
C. 法国、英国
D. 埃及、巴拿马

27. 日内瓦在国际上享有极高的知名度，主要得益于许多国际组织的总部设立于此。其中包括



①世界卫生组织

②国际法院

③世界贸易组织

④亚太经合组织

A. ①②

B. ①③

C. ②③

D. ③④

28. 1997 年爆发的东南亚金融危机波及到韩国，韩国股市与外汇市场剧烈动荡，股指一路下跌，最低跌到了 300 点左右，韩元也大幅贬值，国内排名前 30 强的企业负债比率达到 500%，最后不得不向某国际组织申请了约 500 亿美元的救市贷款。该组织应是

- A. 国际复兴开发银行
B. 国际货币基金组织
C. 世界贸易组织
D. 亚洲基础设施投资银行

29. 经济全球化孕育了全球流动的劳动力市场，也改变着全球劳动力市场的结构。下列属于 20 世纪七八十年代劳动力流动主要方向的是

- A. 大量非洲劳动力流向中东产油国
B. 日本等新兴工业国吸引许多亚非移民
C. 东欧国家成为欧洲劳动力来源地
D. 企业对劳动力的专业素养有更高要求

30. 马克思、恩格斯在《德意志意识形态》中说：“历史不外是各个时代的依次交替，每一时代都利用以前各代遗留下来的材料、资金和生产力；由于这个缘故，每一代一方面在完全改变了的条件下继续从事先辈的活动，另一方面又通过完全改变了的活动来改变旧的条件。”上述经典作家的论述对历史研究的启示在于

- A. 必须把历史现象的个别性与历史认识的规律性有机地统一起来
B. 既要看到历史发展的连续性，更要重视各历史时期的独特作用
C. 认识到前一个历史时代会对后一个历史时代产生决定性的影响
D. 承认历史发展阶段的独特价值，每个时代的历史都与前代不同

非选择题部分

二、非选择题（本大题共 4 小题，其中第 31 小题 10 分，第 32 小题 10 分，第 33 题 10 分，第 34 小题 10 分，共 40 分）

31.（10 分）货币是商品经济发展到一定阶段的产物，与人类社会发 展息息相关。阅读材料，回答问题：

材料一

221 年，秦始皇统一中国后，采取统一的货币政策，废除六国曾经使用的不同形态、重量的货币，铸造并发行了方孔铜钱的“秦半两”，奠定了中国自秦至清延续两千一百多年方孔铜钱材质、形态的使用基础。对于始皇统一币制，并能够在历朝使用中长久不衰，有以下两种不同的观点：一种是工艺说，认为铸好的铜钱要用削好的木条穿成一长串打磨，中间方孔方便于穿铜钱，有利于铸造工艺的打磨环节；一种是天圆地方文化说，持这一观点的人认为中国传统造物具有观象制器的特点，铜币圆孔的由圆转方是观象制器思想的体现……也有人认为始皇改革并统一币制，以方代圆，形数相合，取其象天法地，君权神授的文化寓意，货币职能与政权、神权在一枚小小的天圆地方的方孔铜钱中完美融合。

——摘编自李雪艳《从秦半两到通宝》

材料二

第一条 为了加强对人民币的管理，维护人民币的信誉，稳定金融秩序，根据《中华人民共和国中国人民银行法》，制定本条例。

第二条 本条例所称人民币，是指中国人民银行依法发行的货币，包括纸币和硬币……

第三条 中华人民共和国的法定货币是人民币。以人民币支付中华人民共和国境内的一切公共的和私人的债务，任何单位和个人不得拒收。

……

第五条 中国人民银行是国家管理人民币的主管机关，负责本条例的组织实施。

——《中华人民共和国人民币管理条例》（1999 年 12 月 28 日通过）

（1）根据材料一概括圆形方孔钱“长久不衰”的原因，并结合所学说明秦始皇统一币制的影响。（5 分）

（2）中国是迅速崛起的新兴经济体。根据材料二结合所学知识指出人民币的地位及其发行原则，并简述 21 世纪以来人民币在国际金融中影响力逐步提升的表现。（5 分）

32.（10 分）工业革命极大地推动了社会进步，尤其是城市化进程。阅读材料，回答问题。

材料一

（18 世纪 50 年代）英国的城市很少，唯一超过 5 万人的城市是新航路发现以后逐渐发展起来的伦敦。但到了 1801 年，……一些新兴的工业化城市如伯明翰、曼彻斯特、利物浦、格拉斯哥、利兹等开始出现了。这些城市都发展到了 5 万人以上，伦敦暴涨为 96 万人，成为世界上仅次于北京的第二大城市。

19 世纪上半期……英国 5 万人以上的城市增加到了 20 个。其中上述提到的工业化市都达到 15~40 万人之间，伦敦更是暴涨为 230 万人，成为世界第一大城市。到 1851 年，英国的城市人口总和已经首次超过了乡村人口，占全国人口的 50.2%，初步完成了城市化。

19 世纪晚期，……英国又出现了城市化的第二次高潮。1860 年城市人口占全国人口的比重达到了 62.3%，1890 年上升为 72%，城市人口与乡村人口在全国人口中所占的比重与工业化前相比做了一个颠倒，成为当时世界上城市化率最高的国家。

——曹中屏、田仲文《近代世界与城市化》

材料二

判定是否存在工业革命大致有三种标准，第一个标准即是否引发生产方式变革，并且大幅度地提高劳动生产能力，进而出现一些新的产业形态。第二个标准即是否深刻地影响社会生活。……第三个标准即是否有标志性的技术和产业。

——冯飞《第三次工业革命是生产和生活方式的重大变革》

（1）根据材料一概括英国城市化的阶段和特点。（6 分）

（2）请根据材料二的三种标准，简释二战后的产业技术革命。（4 分）

高三历史学科试题 第6页 共 7 页

33. (10分) 文化的创造、传承与保护,是全人类的共同主题。阅读材料,回答问题。

材料一

古代中国人普遍相信,“天”不仅是人类生存于其中的空间与时间,还是人类理解和判断一切的基本依据,“天”和“人”之间有一种神秘的互相依赖、互相模仿、互相感应的关系,人应当仿效“天”的构造,模拟“天”的运行,遵循“天”的规则以获得思想和行为的合理性……因为这个“天”是“天经地义”的“天”,是“天理”的“天”,是“人法地,地法天,天法道,道法自然”,体现着“道”和“自然”的东西。

——摘编自葛兆光《古代中国文化讲义》

材料二

为了防备蒙古贵族的袭扰,明朝在不同时期于东起辽东山海关、西至肃州嘉峪关一线修缮长城,设置了辽东、蓟州、宣府、大同、山西、延绥、宁夏、固原、甘肃九个重镇,派驻重兵,进行防卫,称为“九边”。明代长城遗迹,至今还大量地保存着。

——摘编自朱绍侯、齐涛等《中国古代史》

- (1) 根据材料一概括中华文化的内涵,结合所学知识谈谈你对“人法地,地法天,天法道,道法自然”观念的认识。(4分)
- (2) 根据材料二并结合所学知识,指出明朝政府处理与蒙古族关系的政策措施。1987年,长城被列入《世界遗产名录》,请分析其入选的主要原因,并用一句话说明保护世界文化遗产的意义。(6分)

34. (10分) 战争与和平问题关乎人类命运和世界发展。阅读材料,回答问题。

材料一

“缔约各方以它们各国人们的名义郑重声明它们斥责用战争来解决国际纠纷,并在他们相互关系上,废弃战争作为实行国家政策的工具。”在审判过程中,四大国的起诉人无论如何旁征博引,他们都无一例外的求助于《非战公约》。从审判的整个过程看,正是由于《非战公约》的事先存在以及战胜国的引用,才保证了纽伦堡审判的有法可依、有理有据。

——摘编自王立桩《〈非战公约〉历史定位的转变》

材料二

如果说国际法从十七世纪产生的话,到现在已有近四百年的历史了。但在时间的长河中,国际法的发展从来没有象今天这样的惊人,它已渗透到人类活动的一切领域,是国际法迈进了一个新的阶段。

——摘编自李金荣《现代国际法的发展及其原因》

- (1) 材料一中“四大国”除英、美外,还有哪两个国家?根据材料一概括《非战公约》的意义。(4分)
- (2) 结合材料二和所学知识,指出二战以来“国际法迈进了一个新的阶段”的表现及其积极作用。(6分)

命题: 丽水中学 衢州二中 审核: 温州中学

2022 学年第一学期浙江省名校协作体联考参考答案

高三年级历史学科

一、选择题（共 30 小题，每小题 2 分，共 60 分）

题号	1	2	3	4	5	6	7	8	9	10
答案	A	B	C	B	A	D	D	A	D	A
题号	11	12	13	14	15	16	17	18	19	20
答案	B	A	B	C	B	B	C	C	A	A
题号	21	22	23	24	25	26	27	28	29	30
答案	C	A	B	D	C	D	B	B	A	B

二、非选择题（共 3 道题，第 31 小题 10 分，第 32 小题 10 分，第 33 题 10 分，第 34 题 10 分，共 40 分）

31. (1) 观点：从制作工艺上看便于穿孔和打磨；从文化上看是天圆地方的传统观念在观象制器上的体现；从政治上看体现了君权神授，政治统一的原则。（3 分）

影响：奠定了后世钱币材质、形态的基础；政治上有利于巩固统一，加强中央集权；便利了商品交换和流动，促进各地经济发展。（2 分，2 点即可）

(2) 地位：人民币是中华人民共和国的法定货币。（1 分）

原则：经济发行、计划发行、集中统一。（2 分，2 点即可）

表现：2009 年开始推进人民币的国际化；2010 年中国成为国际货币基金组织第三大成员，仅次于美国和日本；2015 年中国发起成立亚洲基础设施投资银行；2016 年人民币成为主要的国际储备货币之一。（2 分，2 点即可）

32. (1) (6 分) (必须写出后面三个阶段才能给 6 分，阶段和特点各 1 分)

阶段	特点
18 世纪 50 年代前	城市数量及其人口很少
1750-1801	城市数量及其人口增长快
1801-1851	城市数量及其人口大量增加；初步完成了城市化（任写一点即可）
1851-1890	城市人口占比大，成为当时世界上城市化率最高的国家

(2) 劳作方式由粗放型转化为集约型，现代企业管理制度逐步发展；（1 分，任答 1 点即可）人类文化生活出现新模式、人类的视野产生新变化；（2 分）在计算机与人工智能技术引领下，航天、海洋、原子能、生物、新材料等方面的技术迅速发展。（1 分）

33. (1) 内涵：崇尚天人合一、道法自然。（1 分，写出其一即可得分）

认识：认为万物都是由道而产生，自然而然；凸显了人的存在，追求天人合一；以朴素的唯物观解释自然，摒弃了天命的绝对权威；将天、地、人视为一个整体，认为人类利用自然应该尊重自然规律，顺应自然，建立人与自然和谐发展的关系。（3 分，3 点）

(2) 政策措施：设长城、布置“九边”防卫；开放马市开展贸易；设赤斤蒙古、沙州、哈密等卫管理；俺答汗与明朝订立和议，接受册封。（共 3 分，任写 3 点，要回答具体措施，如答“有战有和”“战和并用”给 1 分）

(3) 原因：具有突出的普遍价值；是人类共同财富；长城是中国古代修建历时最长，规模最大的综合性军事防御工程；是中华民族智慧的结晶；是世界建筑工程史的奇迹；蕴含了丰富的文化内涵；对中华民族多元一体格局的形成和发展起到重要作用。（2 分，任写 2 点）

意义：文化遗产保护对传承民族文化、维护文化多样性和创造性有着重要意义。（1 分）

34. (1) 法国、苏联（2 分）意义：在法律上使战争成为非法；为纽伦堡审判提供法理依据。（2 分）

(2) 表现：1945 签署《联合国宪章》；1946 年，国际法院成立；各类国际组织数量激增；国际法领域大大扩展（或者具体表述为在军事、人权、环境等领域颁布一系列公约或宣言）（4 分，每点 1 分）积极作用：对世界和平与发展做出积极的贡献。（2 分）

关于我们

自主选拔在线是致力于提供新高考生涯规划、强基计划、综合评价、三位一体、学科竞赛等政策资讯的升学服务平台。总部坐落于北京，旗下拥有网站（[网址: www.zizzs.com](http://www.zizzs.com)）和微信公众平台等媒体矩阵，用户群体涵盖全国90%以上的重点中学师生及家长，在全国新高考、自主选拔领域首屈一指。

如需第一时间获取相关资讯及备考指南，请关注**自主选拔在线**官方微信信号：**zizzsw**。



微信搜一搜

自主选拔在线