

文科综合试卷

注意事项:

1. 答题前,考生务必用黑色碳素笔将自己的姓名、准考证号、考场号、座位号在答题卡上填写清楚
2. 每小题选出答案后,用2B铅笔把答题卡上对应题目的答案标号涂黑,如需改动,用橡皮擦干净后,再涂其他答案标号,在试题卷上作答无效
3. 考试结束后,请将本试卷和答题卡一并交回,满分300分,考试用时150分钟。

一、选择题(本大题共35小题,每小题4分,共140分。在每小题给出的四个选项中,只有一项是符合题目要求的)

受多种原因影响,冬季我国连续多次爆发寒潮天气,受其影响,湖南等地出现降雪冻害等天气。图1为某年某时段全国最低气温预报图。据此完成1~3题



图1

1. 图中大兴安岭以西及北疆降温幅度大的主要原因是 **B**
 - A. 深居内陆温差大
 - B. 距冬季风源地近
 - C. 纬度高且海拔高
 - D. 降雪量大气温低
2. 川渝地区0℃等温线弯曲的原因是 **C**
 - A. 深受青藏冷高压影响
 - B. 盆地冷空气容易集中
 - C. 周围山地阻挡冷空气
 - D. 冬季大量烧秸秆增温
3. 使湖南省产生降雪的天气系统是 **B**

湾治理的特点。

维护权益 严禁提前考试 第一举报者重奖1000元 电话：(0) 18987573845

经过11年的建设，中老铁路于2021年12月3日正式通车。该铁路由中国昆明至老挝万象，全长1035千米，目前投入运营25个车站。桥隧比占全线的87.3%，其中元江特大桥（图2右图）全长832.2米，最高的桥墩高154米，主跨249米为世界第一。图2左图示意中老铁路沿线站点。据此完成4~6题。

后，再

合题目

1分某



图2

4. 中老铁路沿线 **D**

- A. 城市化水平高
- C. 热带雨林广布

- B. 穿过众多自然保护区
- D. 城市等级差异大

5. 中老铁路绝大部分路段设计时速只有160千米/时，主要原因是 **D**

- A. 途经地区生活节奏较慢
- C. 使用了较老旧的动车组

- B. 途中所停靠的车站较多
- D. 沿途地形地质条件复杂

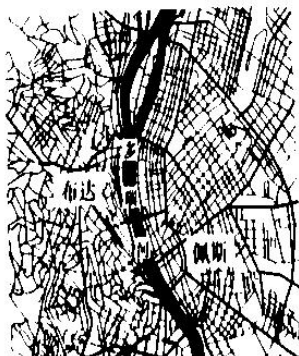
6. 元江特大桥的修建 **C**

- A. 方便两岸居民联系交流
- C. 保障了路线的平稳顺直

- B. 主要为彰显我国的国力
- D. 冲击了元江的内河航运

布达佩斯位于匈牙利中北部，1863年由多瑙河两岸的布达和佩斯两座城市合并而成。图3示意布达佩斯

城市道路网。据此完成7~9题。



7. 早期布达和佩斯两地分城而建的主要原因是 **D**
- A. 扩大规模吸引人口
 - B. 两侧属于不同国家
 - C. 两地气候差异显著
 - D. 两地之间交通不便
8. 由图中信息推测布达和佩斯两地的自然条件差异是 **B**
- A. 布达降水量小, 佩斯降水量大
 - B. 布达多山丘, 佩斯多平原
 - C. 布达多平原, 佩斯多山丘
 - D. 布达气温高, 佩斯气温低
9. 匈牙利民间有“右布达, 左佩斯”的说法, 对图中多瑙河段特征分析正确的是 **A**
- A. 自北向南流
 - B. 落差大流速较快
 - C. 深秋有凌汛现象
 - D. 自南向北流

一般情况下, 湖泊水温与太阳辐射、风力、湖泊深度等因素有关 图4为某湖泊某时段的垂直水温变化情况

况 据此完成10-11题

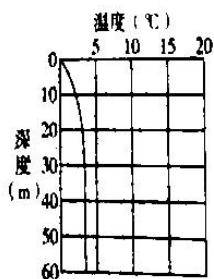


图4

10. 该现象最可能出现在 **A**
- A. 冬季
 - B. 春季
 - C. 夏季
 - D. 秋季
11. 此时该湖上层 (<20m) 最可能出现 **C**
- A. 湖面藻类大量爆发
 - B. 湖水稳定性差
 - C. 湖水稳定性强
 - D. 鱼群大量集中于湖面

根据上述材料并结合所学知识，谈谈解决之。

维护权益 严禁提前考试 第一举报者重奖1000元 电话：(0) 18987573845

12. 2021年，随着国资委重中央企“退房令”，全国多地出现土地流拍现象，引导土地拍卖回归理性。后续还将进一步挤压房价泡沫，购房者将迎来“楼市春天”。图5中，用 D_1 和 D_2 表示土地或住房的需求变动前后状况，用 S_1 和 S_2 表示相应的供给变动前后状况，不考虑其他因素，下列能正确反映二者变动传导效应的是



- A. ④→① B. ①→④ C. ③→① D. ④→②
13. 《吕氏春秋》中有“物勒工名，以考其诚，工有不当，必行其罪，以究其情”的记载。同时，在出土的青铜器、兵器、陶器、纺织品上均刻有制造者的名字。从材料可以看出
- ①商品质量合格是其价值顺利实现的前提 ②我国古代重视产品质量和完善监管机制
③生产质量合格的产品是生产者的社会责任 ④国家运用法律制度打击生产者的逐利行为
- A. ①② B. ①③ C. ②④ D. ②③

14. 为支持国民经济和社会事业发展，2021年，财政部决定发行第十七期年记账式附息国债。本期国债为10年期固定利率附息债，利息每半年支付一次，2031年11月18日偿还本金并支付最后一次利息。下列对国债认识正确的是
- ①按照银行利率付息，收益会随银行利率变化而不同
②以国家信誉为担保，被认为是比较安全的投资工具
③作为所有权凭证，以国家税收作为还本付息的保证
④作为财政调节工具，可支持国民经济和社会事业发展
- A. ②④ B. ①④ C. ②③ D. ①③

15. 在“2021劳动就业与职业发展促进行动”启动仪式上，中国劳动学会会长表示中国将进入高技能人才引领的“技能劳动时代”，一大批产业工人将由“人口红利”向“技能红利”转变，要促进优秀“蓝领”通过勤劳、创新、致富，率先进入中等收入群体。由此可以推断
- ①社会对“蓝领”劳动的认可和“蓝领”劳动价值的尊重
②“蓝领”行业将创造更多的财富，缩小“蓝领”收入差距
③“蓝领”行业将加剧人才竞争，带来行业规模的逐步缩小
④“蓝领”的从业环境将得到改善，激励“蓝领”技术创新
- A. ①② B. ②③ C. ①④ D. ②④

16. 2021年,北京市第十五届人大常委会按照《选举法》组织全市新一届区人大代表换届选举。全市新一届区人大代表总名额为4898名,各区代表名额均有所增加,其中朝阳区、海淀区代表名额达到选举法规定的450名。上述材料反映 **B**

- ①保障落实人大代表联系群众制度,夯实了群众基础
- ②我国人大代表选举实行直接选举和间接选举相结合
- ③各区选举人大代表坚持全过程民主,密切联系人民
- ④新一届区人大代表换届选举工作严格坚持依法办事

A. ①② B. ①④ C. ③④ D. ②③

17. 2021年5月,国家医疗保障局启动国家医保药品目录调整,在广泛征求各界意见、完善规范和机制、组织专家团队科学测算药品谈判底价的基础上,与企业现场磋商并当场确认结果,成功纳入74种新药品,精准补齐21个临床组别需求。国家医保目录调整体现 **B**

- ①政府尊重和保障人民的基本生存权 ~~②人民民主是最广泛、最管用的民主~~
- ③政府强化底线思维,坚持审慎决策 ④政府坚持依法行政,树立政府权威

A. ①④ B. ①③ ~~C. ②③~~ ~~D. ②④~~

18. 一百年来,中国从四分五裂、一盘散沙到高度统一、民族团结,从积贫积弱、一穷二白到全面小康、繁荣富强,中国人民从被动挨打、饱受欺凌到独立自主、坚定自信,我们仅用几十年时间就走完发达国家几百年走过的工业化历程,拓展了发展中国家走向现代化的途径。材料反映中国共产党的百年奋斗 **B**

- ①锻造了始终走在时代前列的中国共产党
- ~~②影响了世界历史进程和世界发展的格局~~
- ③开辟了实现中华民族伟大复兴的正确道路
- ④从根本上改变了中国人民的前途和命运

A. ③④ B. ①④ ~~C. ②③~~ ~~D. ①②~~

19. 2021年12月13日,香港特区政府举行南京大屠杀死难者国家公祭日仪式,香港市民及团体自发来到乌蛟腾抗日英烈纪念碑前,敬献花圈参与悼念活动,深切悼念在中国人民抗日战争中献出生命的烈士们及失去生命的普通民众。上述材料表明香港举办国家公祭日活动 **C**

- ~~①有利于丰富民众精神世界,传播多元文化~~
- ②有利于弘扬中华民族精神,维护祖国统一
- ③可以在特定的文化活动中厚植民众的爱国主义情怀
- ④可以让民众勿忘历史,深远持久的影响人生的选择

~~A. ①②~~ ~~B. ①④~~ C. ③④ D. ②③

维护权益 严禁提前考试 第一举报者重奖 1000 元 电话: (0) 18987573845

20. 中央宣传部、教育部联合组织评选了 2021 年“最美高校辅导员”。这些辅导员在自己的岗位上播种信仰，引导学生在学习党史中坚定理想信念，用“大思政课”引导学生在理论与实践的结合中增强“四个自信”。加强大学生理想信念教育旨在 **D**

- ①促进国家和民族同心同德地迈向前进 ②落实立德树人，高扬主旋律，唱响正气歌
③在全社会落实学而信、学而思、学而行 ④深化中国特色社会主义和中国梦宣传教育
- A. ①④ B. ①② C. ②③ D. ③④

21. 在世纪疫情冲击下，百年变局加速演进，我国经济发展面临需求收缩、供给冲击、预期转弱三重压力。2022 年要坚持稳中求进工作总基调，完整、准确、全面贯彻新发展理念，加快构建新发展格局，坚持创新驱动发展，着力稳定宏观经济大盘，推动经济高质量发展。上述材料体现的哲学原理是 **A**

- ①坚持发展的观点看待 2022 年中国经济的趋势 **A**
②运用主次矛盾原理分析中国经济发展形势
③意识具有主动创造性直接推动中国经济发展
④以绝对运动和相对静止的统一规划经济工作

- A. ①② B. ②③ C. ①④ D. ③④

22. 九宫棋游戏：在九宫格里，甲、乙两人轮流下棋，甲用黑子，乙用白子，三子成一直线为胜，黑子先行占中。假设双方均能理性思考，白子占角则有利，如图 6 左图；白子占边则必败，如图 6 右图。据此可以推断 **C**

- ①白子应尊重联系的多样性，重视发挥偶然联系的作用
②白子应从关键部分出发，选择有利位置推动棋局发展
③双方都应注重系统内部结构优化，力求获得棋局胜利
④双方都应重视落子位置和顺序，选取各自的最优策略

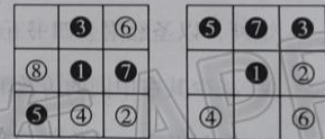


图 6

- A. ③④ B. ②③ C. ②④ D. ①②

23. 《关于若干历史问题的决议》在争取抗日战争最后胜利的关头诞生，《关于建国以来党的若干历史问题的决议》诞生于进入改革开放新时期，《中共中央关于党的百年奋斗重大成就和历史经验的决议》孕育于百年未有之大变局，站在新的历史起点上，回顾过去，展望未来。毛泽东同志、邓小平同志和习近平同志分别对三个《决议》的起草和定稿起了决定性作用。这说明 **D**

- ①社会意识的变化归根结底是社会存在变化的反映
②基于中国国情的历史判断能推动中国社会的发展
③中国共产党遵循社会发展规律深化全党的理论认识
④中国领导人在关键节点肩负历史责任决定中国发展

- A. ①④ B. ①③ C. ②③ D. ③④

24. 荀子曰：“人生而有欲，欲而不得，则不能无求。求而无度量分界，则不能不争；争则乱，乱则穷。先王恶其乱也，故制礼义以分之，以养人之欲，给人之求。”据此可知，荀子认为西周“制礼作乐”旨在 **B**

- A. 维护国家的统治秩序
B. 节制人们的无限欲望
C. 满足人们的基本需求
D. 提高人们的道德修养

25. 西汉文帝、景帝统治时期，规定宫中帷帐不许用丝织品，嫔妃衣裙不得曳地；营建宫室不得用金银铜装饰；匈奴犯边，守将固守城池、不得主动出击等。实施这些治国举措，主要是因为 **C**

- A. 统治者的率先垂范
B. 儒家仁政思想的影响
C. 西汉综合国力尚弱
D. 推崇勤俭节约的国策

26. 宋朝把全国居民划分为主户和客户，占全国户数比大约如下表所示：

项目	户数占比	土地占有比	赋税负担
主户	约 70%	100%	主要承担者
客户	约 30%	无	不承担

由表可知，要巩固统治和确保社会稳定，北宋政府可能采取的治理措施是 **A**

- A. 允许主户和客户订立契约
B. 把土地平均分配给农民
C. 取消农民赋税徭役的负担
D. 保护和扩大主户的基数

27. 明清时期，大批西方传教士来华。他们学中文，换上儒生服装，甚至不惜修改教规，默认中国人对祖先的崇拜，以圣经附会四书五经，影响中国的士大夫对传教的态度等。西方传教士的这些举动意在 **D**

- A. 减少其在中国的传教阻力
B. 便于向西方传播中国文化
C. 有利于官方对传教的支持
D. 掩盖其对中国的文化侵略

28. 1872 年，李鸿章在上海创办轮船招商局，由官商合办，参股船主为轮船招商局经理人员，又接受朝廷的职封和俸禄；一度处于行业领先地位。但由于任人唯亲、中饱私囊、不思经营，后被英国在华经营的轮船公司超越。上海轮船招商局由盛而衰的命运说明 **C**

- A. 经营国内航运业务市场容量有限
B. 洋务派“中体西用”主张的失败
C. 现代企业经营管理意识的重要性
D. 官商合办这种经营方式难以成功

29. 梁启超在《清议报》和《新民丛报》等刊物上发表了多篇文章，向国民广泛宣传西方资产阶级的各种理论和学说，竭力鼓吹民族主义、自由平等、博爱、民主民权等思想与精神。这反映出维新派 **D**

- A. 推崇西学与中国传统的结合
B. 认定西学是救亡图存的根本
C. 主张引入英国君主立宪政体
D. 希冀从西学中找到救国良方

30. 1931 年

维埃第

的意思

A. 国

B. 具

C. 共

D. 在

31. 1979 年

镇集

A. 打

C. 促

32. 孟德

这些

A. 男

B. 言

C. 林

D. 道

33. 美国

州政

A.

C.

34. 苏

苏

0.

A.

D.

35. 19

官

要

要

要

要

要

要

要

要

要

要

要

要

要

要

- 维护权益 严禁提前考试 第一举报者重奖1000元 电话:(0)18987573845
30. 1931年11月,江西瑞金叶坪谢家祠堂被布置成庄严的会堂,劳苦大众和红军代表步入其中,参加中华苏维埃第一次全国代表大会,宣告中华苏维埃共和国临时中央政府成立。在当地方言中,“埃”就是“我”的意思,“埃政府”意为“我们的政府”。这充分表明“中华苏维埃共和国”是 **B**
- A. 国民党政府统治下的共产党自治政权
 B. 具有中国特色的人民当家作主的政府
 C. 共产党根据地建立的第一个人民政权
 D. 在苏联指导下建立的中国苏维埃政府
31. 1979年,全国出现了大批知识青年返城潮。为缓解与日俱增的就业压力,党中央、国务院果断采取支持城镇集体经济和个体经济发展的方针。这一方针的实施 **C**
- A. 打破了单一生产资料所有制
 B. 开启了拨乱反正的新时期
 C. 促进了现代企业制度的建立
 D. 推动了乡镇企业快速发展
32. 孟德斯鸠在其著作《罗马盛衰原因论》中指出:“罗马的法律贤明地把国家的权力分配给许多高级官吏,这些官吏之间起支持、制止和限制的作用……它永远能够制裁任何滥用权力的事件。”材料说明 **A**
- A. 罗马法是西方近代法律体系形成的主要依据
 B. 孟德斯鸠的分权制约思想受罗马法影响
 C. 权力的制约与平衡巩固了罗马长治久安
 D. 法律对权力的约束和监督是罗马衰亡的原因
33. 美国1787年宪法规定:未经州的同意,不能剥夺任何一州在参议院的平等代表权,以及变更州的边界;州政府未经国会同意不能与外国签订条约或协议。这反映了美国 **A**
- A. 州与州之间的权力地位平等
 B. 中央政府和州政府相互尊重合作
 C. 中央政府和州政府权限明确
 D. 中央与地方权力由国会立法决定
34. 苏联政府在实施“一五计划”期间,从西方国家引进了一批先进的机器设备和技术;“二五计划”期间,苏联政府大力发展本国机器制造业。到1937年,从西方国家机器进口的比重仅占苏联国内需求量的0.9%。这一变化可以用来说明,当时苏联 **D**
- A. 逐步克服了计划经济体制弊端
 B. 西方的经济技术封锁趋势加强
 C. 优先发展重工业的政策已调整
 D. 工业生产的自主能力快速提升
35. 1964年,联合国在日内瓦举行了第一届“贸易与发展”会议。会上第三世界国家发表了《七十七国联合宣言》,谴责发达国家在国际贸易中对发展中国家自然资源的掠夺和控制。“七十七国集团”的组建,主要反映了第三世界国家 **D**
- A. 建立公平国际经济秩序的诉求
 B. 反对超级大国的霸权政策
 C. 支持组建第三世界国家的联盟
 D. 声援亚非拉民族解放斗争

二、非选择题（共 160 分，第 36~42 题为必考题，每个试题考生都必须作答。第 43~47 题为选考题，考生根据要求作答。把答案填写在答题卡上相应的位置，在试题卷上作答无效）

（一）必考题（共 7 小题，共 135 分）

36. (22 分) 阅读图文材料，完成下列要求。

厄尔布尔士山脉位于伊朗的北部，北为里海沿岸平原，南为伊朗高原（其位置如图 7 左图所示）。山脉南北两侧降水量差异十分显著，北侧降水量在 1000mm 以上，南侧降水量在 200~500mm 之间。图 7 右图为伊朗人口分布图。

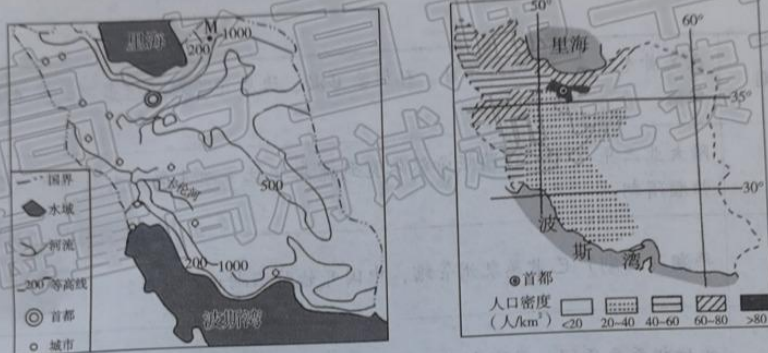


图 7

(1) 据图概括伊朗人口分布的特征。(6 分)

(2) 说出 M 地降水量最多的季节并分析原因。(8 分)

(3) 北部里海沿岸平原地区是伊朗的水稻主产区，阐述其区位优势。(8 分)

37. (24 分) 阅读图文材料，完成下列要求。

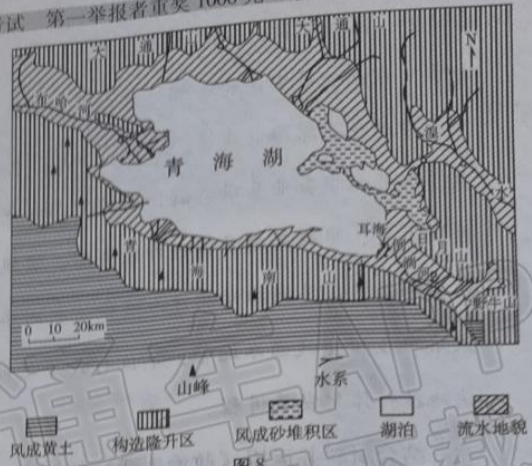
青海湖是我国最大的内陆高原湖泊，形成初期是一个淡水湖泊，通过古倒淌河与黄河水系相通。中更新世末期或晚更新世早期，随着青海南山、日月山和野牛山等的隆升，堵塞古青海湖的东部出口，古倒淌河被迫倒流，青海湖逐渐演变为咸水湖（如图 8 所示）。现今的倒淌河源于日月山，注入耳海。耳海是青海湖东南缘的一个子湖，面积小且水体浅，湖床高于青海湖水面。全新世末期，气候暖干化，青海湖湖面萎缩，形成了分割青海湖和耳海的湖堤，该湖堤由透水性较强的砂岩和砾岩组成。观测发现，倒淌河古河谷地层剖面从上往下依次有风成黄土、风成沙土、河相砾石。

文科综合·第 9 页（共 16 页）

维护权益 严禁提前考试 第一举报者重奖 1000 元 电话：(0) 18987573845

(1) 分析青海湖逐渐演变为咸水湖的原因。(6分)

(2) 指出自古青海湖转化为内陆湖以来青海湖区自然地理环境发生的变化。(8分)



(3) 耳海比青海湖盐度低。请对此作出合理解释。(6分)

(4) 列举四点日月山的地理分界意义。(4分)

38. (14分) 阅读材料，完成下列要求。

材料 “老字号”是指历史悠久，拥有世代传承的产品、技艺或服务的品牌或企业。近年来，他们在“古老”与“时尚”间不断尝试，经过岁月的洗礼，历久弥新，韵味绵长。首先，“老字号”立足品牌价值回归，深挖“老”的价值，试图在消费者心中建立同类品牌专属的“心智产权”，他们用传统撞击记忆，敢于现场展示产品用料的考究、传统技艺的精湛，传承文化的同时扩大品牌影响力和公信力；其次，“老字号”赋予“新”的内涵，运用国际生产标准改良传统工艺技术，不断翻新工艺、造型和材料，努力打造经典的“明星产品”，+便捷、新颖“国朝新品”的产品链，受到中老年人喜爱的同时也斩获“小镇青年”们青睐。再次，“老字号”实现数字化赋能，纷纷与各大电商平台合作，在直播带货、促销专场中销售破亿，甚至还“借船出海”登上欧美华人集聚地区的热销榜。最后，部分老字号借着“网红”热度在海外设立原料基地、体验中心，坚持本土化运营，注册当地专利和商标，雇佣当地员工，努力把“网红”转变为“长红”，在异国他乡继续讲好中国品牌故事。

结合材料，运用《经济生活》的知识，解读“老字号”经营历久弥新、韵味绵长的密码。(14分)

39. (12分) 阅读材料, 完成下列要求。

材料 东南亚是中国的南邻, 自古以来就是中国连接世界的主要通道。中国人民和东南亚各国人民在历史交往中结下了深厚的友情。在经济全球化的浪潮下, 东南亚国家经济发展却普遍比较落后, 大多以农业为主, 工业、服务业基础薄弱, 建设中国和中南半岛各国相联通的铁路网络将促进中国和整个东南亚国家的经济发展, 串联起更多国内外经济圈, 实现最大化的合作共赢, 达到不同种族、不同文化背景的国家共同发展的目的, 共同推动构建人类命运共同体。2021年12月3日, 由中方为主投资建设的中老铁路(泛亚铁路中线) 全线通车运营, 不仅打开了老挝“陆锁国”困境, 还将有力强化东盟区域间的互联互通, 加快地区一体化发展进程。

结合材料并运用《政治生活》的知识, 分析中国为什么积极支持并推动泛亚铁路建设。(12分)

40. (26分) 阅读材料, 完成下列要求。

材料 100年来, 几代考古人筚路蓝缕、不懈努力, 取得了一系列重大考古发现, 建设了有中国特色、中国风格、中国气派的考古学。

从100年前的仰韶文化遗址, 到近年来的浙江余杭良渚遗址、三星堆遗址、河北张家口邓州沟梁遗址, 中国考古人运用洛阳铲、碳十四和遥感技术等对黄河、长江、辽河等流域的中心性遗址及周边聚落群开展大规模考古调查和重点发掘, 实证了以中原地区为中心的中华文明多元一体格局的形成: 距今5000年前后, 一些文化和社会发展较快的地区已经出现了早期国家, 跨入了古国文明的阶段; 从距今5500年开始, 在黄河中下游、长江中下游和辽河流域等地的社会上层之间, 形成一个交流互动圈, 形成对龙的崇拜, 出现以具有各地特色的某几类珍贵物品(多为精美玉器) 彰显持有者尊贵身份的礼制; 早在1万年前, 黄河、长江流域就开始种植粟、黍和水稻, 并在距今4500年前后, 开始向西亚地区传播栽种技术。同时期, 西亚地区发明的小麦、黄牛、绵羊和冶金术相继传入黄河中游地区。

(1) 结合材料, 运用“人的认识从何而来”的知识, 说明中国考古人对中华文明发展探究所做的努力。(12分)

维护权益 严禁提前考试 第一举报者重奖 1000 元 电话：(0) 18987171111

(2) 结合材料，运用《文化生活》的知识，分析我国重视对考古成就进行社会利用的原因。(10分)

(3) 请以“考古进校园”为主题，为学校开展中华考古文化教育提两条建议。(4分)

41. (25分) 阅读材料，完成下列要求。

材料一

三国时期	东吴黄龙二年(230)正月，孙权派卫温、诸葛直等人到达夷洲，吴军征服了许多山夷部落。
隋代	隋大业三年(607)，隋炀帝派朱宽到流求招抚当地土著；大业六年(610)，流求正式归顺隋朝。
南宋	平湖(澎湖)已隶属泉州管辖，中国开始对澎湖正式驻军。
元代	元世祖至元年间，设澎湖巡检司，隶属泉州晋江县。
明代	明太祖洪武初，琉球岛中山王受明册封，成为明的藩属，台湾改称为“小琉球”；17世纪初期，荷兰人侵占台湾，明军多次抗击获胜，但未能迫其退出台湾。
清代	1662年郑成功收复台湾；1684，清政府置台湾府，隶属福建省。

——摘编自宋光宇《台湾史》

材料二 台湾作为我国东部海防的屏障，具有重要的战略地位。清代以来政府实行闭关锁国政策，对海防未予足够重视。1840年，鸦片战争爆发，英军闯入基隆港，重炮轰击沙湾炮台；1884年，中法战争爆发，翌年，法军进攻台湾；甲午中日战争中国战败，清政府将台湾和澎湖列岛割让给日本。面对列强的侵略，台湾军民奋起反抗。在鸦片战争中，台湾军民的抗争，有力地配合了祖国大陆的反侵略战争。《马关条约》签订后，台湾军民掀起反割台斗争。此后，在日本统治台湾的50年里，台湾人民争取回归祖国的斗争从未停止过。1945年8月15日，日本宣布无条件投降，10月25日，台湾光复。

——摘编自周文顺《近代反侵略斗争中的台湾与祖国》

材料三 台湾问题事关中国核心利益和中国人民民族感情，不容任何外来干涉。新时代是中华民族大发展大作为的时代，也是两岸同胞大发展大作为的时代。只要我们和衷共济、共同奋斗，就一定能够共创中华民族伟大复兴美好未来，就一定能够完成祖国统一大业！

——习近平在《告台湾同胞书》发表40周年纪念会上的讲话
文科综合·第12页(共16页)




(1) 根据材料一并结合所学知识, 概括中国古代对台湾治理的特点。(8分)

(2) 根据材料二并结合所学知识, 分析近代台湾受到侵略的背景及台湾人民反侵略斗争的意义。(12分)

(3) 根据上述材料并结合所学知识, 谈谈解决台湾问题对实现中华民族伟大复兴的认识。(5分)

42. (12分) 阅读材料, 完成下列要求。

材料

<p>18 世纪, 蒸汽机和机械革命</p> 	<p>18 世纪中期, 英国率先开展工业革命, 生产力迅速发展, 英国成为世界强国, 随后英国加紧拓展海外市场; 1815 年英国打败法兰西第一帝国, 由此掌握世界霸权。</p>
<p>19 世纪, 电力和运输革命</p> 	<p>1866 年, 德国人西门子发明了世界上第一台大功率发电机, 标志着第二次工业革命的开始。1871 年德国实现统一后, 资本主义工厂在德国全境得到普遍发展。19 世纪末, 德国加入了帝国主义争夺世界霸权的斗争。</p>
<p>20 世纪, 电子和信息革命</p> 	<p>20 世纪四五十年代, 新科学技术革命开始了。美国在原子能技术、航天技术、电子计算机技术的应用等方面取得了突破性成就。美国通过第三次科技革命成为资本主义超级大国。</p>

根据上表提取准确历史信息, 自拟论题, 并结合所学世界近现代史知识加以论证。(要求: 观点明确, 史论结合, 论证充分) (12分)

维护权益 严禁提前考试 第一举报者重奖 1000 元 电话：(0) 18987573845

45
苏
2”

(二) 选考题 (共 5 小题, 共 25 分)

请考生在第 43、44 两道地理题中任选一题作答; 在第 45、46、47 三道历史题中任选一题作答。如果多做, 则按所做的第一题计分。作答时用 2B 铅笔在答题卡上把所选题目的题号涂黑。

43. (10 分) 【地理——选修 3: 旅游地理】

广东省潮州市潮安区地处深圳、汕头、厦门三大经济特区的交汇点, 历史悠久、人文鼎盛, 是“潮汕文化”的发祥地和广东省著名侨乡, 是广东省旅游特色县, 但前来旅游的旅客以一日游为主, 旅游人均消费偏低, 影响了旅游业的发展。图 9 为潮州周边地区交通线路图。



图 9

推测该地游客以一日游为主的主要原因。(10 分)

44. (10 分) 【地理——选修 6: 环境保护】

海洋垃圾是指海洋和海岸环境中具有持久性的、人造的或经加工的固体废弃物, 这些废弃物一部分停留在海滩上, 一部分可漂浮在海面或沉入海底。监测表明, 海面漂浮垃圾主要为塑料袋、漂浮木块、浮标和塑料瓶等, 太平洋上的海洋垃圾已达 300 多万平方公里, 超过了印度的国土面积, 形成了一个塑料为主的“海洋垃圾带”(图 10)。

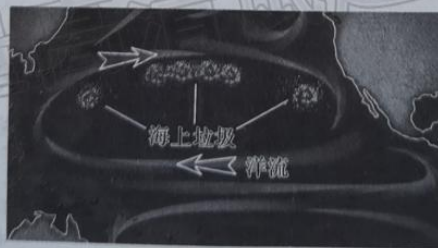


图 10

说出海洋垃圾可能产生的危害及一般性应对措施。(10 分)

45. (15分)【历史——选修1：历史上重大改革回眸】

材料 19世纪上半叶，美国领土不断向西扩张，北部的资本家同南部的奴隶主之间展开了一场争夺西部土地和人口的斗争。到19世纪50年代，两种不同经济制度的斗争越来越激化，黑奴制成为斗争焦点。1860年代表工业资产阶级利益的林肯当选总统。1861年，美国内战爆发，林肯签署了《没收法案》，决定将叛乱分子的奴隶作为财产没收并予以解放。为了扭转内战初期北方的失利，1863年1月1日，林肯签署了《解放黑人奴隶宣言》，最终通过了禁止奴隶在美国存在的宪法第十三条修正案。修正案的通过表明，美国从法律上彻底埋葬奴隶制度。这一胜利和林肯的努力是分不开的，同时这也是美国人民长期斗争的胜利。

——摘编自陈书明《林肯和黑奴制度》

(1) 根据材料并结合所学知识，概括林肯废除黑奴制度的背景。(6分)

(2) 根据材料并结合所学知识，简评林肯废除黑奴制度。(9分)

46. (15分)【历史——选修3：20世纪的战争与和平】

材料 1950年10月25日，中国志愿军入朝参战。长津湖地处朝鲜东北部的盖马高原，平均海拔1200米，当地月平均气温最低零下15℃，冬天夜降至零下20~30℃，被称为“朝鲜的屋脊”。为挫败麦克阿瑟从东线包围志愿军和朝鲜人民军的企图，1950年11月27日，中国志愿军第9兵团发动长津湖战役，包围进入长津湖地区的美陆战一师和第七师一部，全歼“北极熊团”，美军惨败，开始突围南撤。第9兵团因为美国空军的严密封锁，志愿军后勤补给严重不足，弹药匮乏，缺衣少食，导致战斗力下降和大量人员损失，守卫黄草岭的60师2连全部冻死在阵地上。美军最终凭借现代化的机动能力在空中掩护下突围。美陆战一师师长史密斯战后回忆“长津湖地区根本就不适合军事行动，就算是成吉思汗也不会想去征服它”。第9兵团司令员宋时轮后提及“这是一场不愿但必须进行的战争”。

(1) 根据材料并结合所学知识，指出中国志愿军发动长津湖战役的必要性。(6分)

——摘编自于张枫《长津湖战役再审视》

维护权益 严禁提前考试 第一举报者重奖1000元 电话: (010) 51657567

(2) 根据材料并结合所学知识, 说明长津湖战役的得与失。(9分)

47. (15分) 【历史——选修4: 中外历史人物评说】

材料 桑弘羊, 西汉时期著名的政治家和经济学家。出生于商业家族, 精通管仲之学, 得到汉武帝重用, 历任大农丞、治粟都尉、大司农等职。在汉武帝认同下, 桑弘羊先后提出并实施了盐铁官营与酒酤、均输与平准等国家垄断政策。推行国家统一铸币, 设置专门的国家铸币机构, 并禁止各郡私铸钱币, 将货币铸造权收归政府, 发行统一重量与形状的“五铢钱”作为全国唯一通行的货币。并建议汉武帝通过在西北边远地区实行屯田制, 来确保国家粮食充足的供给, 同时强调农业与工商业之间要建立流通渠道, 互通有无。还提出以本国不用的手工业品和其他外国喜好的财物, 通过与别国的贸易, 换取外国大量财富, 实现“异物内流则国用饶, 剩不外泄则民用给矣”。

——摘编自贾兵强、普戡倪《桑弘羊财政思想及其当代价值》

(1) 根据材料并结合所学知识, 概括桑弘羊的经济思想。(8分)

(2) 根据材料并结合所学知识, 分析影响桑弘羊经济思想形成的原因。(7分)

@高考直通车APP
海量高清试题免费下载

被被

被
被



云南师大附中 2022 届高考适应性月考卷（七） 文科综合参考答案

一、选择题（本大题共 35 小题，每小题 4 分，共 140 分）

题号	1	2	3	4	5	6	7	8	9	10	11	12
答案	A	B	C	C	C	B	C	A	D	D	A	B
题号	13	14	15	16	17	18	19	20	21	22	23	24
答案	C	D	B	D	A	D	C	A	B	D	A	D
题号	25	26	27	28	29	30	31	32	33	34	35	
答案	B	C	D	B	C	A	D	A	B	C	D	

【解析】

1. 大兴安岭以西及北疆地区靠近蒙古国，距离冬季风的源地较近。纬度高且海拔高，降雪量大，大地温低，温差大都不是降温幅度大的主要原因。A 正确。故选 A。
2. 由图知川渝地区冬季较我国同纬度其他地区更温暖，原因是周围山地阻挡冷空气。B 正确。故选 B。
3. 冬季寒潮南下，在南岭形成准静止锋，导致南岭以北的湖南省部分地区产生降雪。C 正确。故选 C。
4. 中老铁路沿线以热带季雨林和亚热带常绿阔叶林为主，城市等级差异较大，城市化水平总体较低，选线时避开了众多的自然保护区。C 正确。故选 C。
5. 中老铁路途经地区地形地质条件复杂，因此设计时速不高。途经站点多对区间时速的影响不明显；新建的跨国线路不宜使用老旧动车组；途经地区生活节奏快慢不能决定新时代铁路的设计时速。C 正确。故选 C。
6. 元江特大桥桥墩高、跨度大，主要是为了保障铁路的坡缓弯小。铁路跨江而过，与元江的航运、两岸居民通行无关。B 正确。故选 B。
7. 布达和佩斯位于匈牙利中北部，两地分居河流东西两侧，气候差异不大。早期的城市不会盲目大规模吸引人口迁入。由于两地被多瑙河所分隔，交通不便故而独自发展。C 正确。故选 C。

文科综合参考答案·第 1 页（共 10 页）

■ □ ■ ■ ■ ■ □

8. 图中布达的城市道路较复杂, 而佩斯的城市道路网较规整, 可推测布达多山丘, 佩斯多平原。布达和佩斯位于河流两侧, 气温和降水差异不大, 即使存在, 参考两地的地形差异也可排除 C、D。A 正确。故选 A。
9. 由“右布达, 左佩斯”可推测图中多瑙河段应自北向南流。该河段无凌汛现象; 由图中的江心岛和城市形态可知该段河流应为流速较缓的中游段。D 正确。故选 D。
10. 由图可知湖面水温低于底部水温, 应为气温较低影响所致, 最可能是冬季。D 正确。故选 D。
11. 由于形成了下高温上低温的情况, 最可能引起湖水的翻动。此时为冬季, 湖面水温较低, 不可能聚集大量鱼群, 也不会爆发藻类。A 正确。故选 A。
12. “退房令”政策带来土地流拍, 说明土地市场需求减少, ③正确; 后续房价下降带来需求上升, ①正确; ②是价格上涨带来供给增加, 不符合题意, ②错误; ④是其他因素带来的供给减少, 不符合题意。故选 B。
13. “物勒工名, 以考其诚, 工有不当, 必行其罪, 以究其情”, 是对古代责任制的描述, 即生产者在产品上打上自己的姓名, 以防止以次充好和仿冒行为。如一经发现产品质量比较低劣, 坑害了使用者, 由负责检测质量的机构追究其原因并给出惩罚建议, 表明我国古代重视产品质量和完善监管机制, 生产者要承担社会责任以维护消费者权益, ②③正确; 材料不体现使用价值和价值的关系, ①排除; 国家打击不当逐利行为, ④错误。故选 C。
14. 国债是由政府发行, 以国家信誉为担保, 被公认为比较安全的投资工具, 同时它作为财政调节工具, 可以支持国民经济和社会事业发展, ②④正确; 材料中所述国债是固定利息, 与银行利率无关, ①错误; 国债是债权债务证书, ③错误。故选 D。
15. 中国将进入高技能人才引领的“技能劳动时代”, 要促进优秀“蓝领”通过勤劳、创新、致富, 率先进入中等收入群体, 表明“蓝领”的从业环境将得到改善, 社会对“蓝领”劳动的认可和对“蓝领”劳动价值的尊重, 激励“蓝领”技术创新, ①④正确; 材料未涉及缩小收入差距的内容, ②排除; 高技术人才虽然竞争激烈, 但队伍会不断壮大, ③错误。故选 B。
16. 2021 年, 北京市第十五届人大常委会按照《选举法》组织全市新一届区人大代表换届选举表明新一届区人大代表换届选举工作严格坚持依法办事, 坚持全过程民主, 密切联系人

■ □ ■ ■ ■ ■ □

- 民，③④正确；材料不涉及人大代表密切联系群众制度，①排除；材料中是北京市区级人大代表选举，按《北京市区、乡、民族乡、镇人民代表大会代表选举实施细则》实施的是直接选举，②错误。故选D。
17. 2021年国家医保药品目录调整，成功纳入74种新药品，保障民生，维护人民利益体现了政府尊重和保障人民的基本生存权，①正确；国家医疗保障局广泛征求各界意见，组织专家团队参与谈判，科学测算“底价”，体现政府强化底线思维，坚持审慎决策，③正确；材料不涉及人民民主是最广泛、最管用的民主，②排除；2021年国家医保药品目录调整不是为了树立政府权威，④错误。故选A。
18. 一百年来，中国从四分五裂、一盘散沙到高度统一、民族团结，从积贫积弱、一穷二白到全面小康、繁荣富强，中国人民从被动挨打、饱受欺凌到独立自主、坚定自信，反映出党的百年历程开辟了实现中华民族伟大复兴的正确道路，从根本上改变了中国人民的前途和命运，③④正确；材料不涉及锻造了始终走在时代前列的中国共产党和影响了世界历史进程和世界发展的格局，①②排除。故选D。
19. 香港各界人士举办活动深切悼念在中国人民抗日战争中献出生命的烈士们及失去生命的普通民众，可以通过活动根植民众的爱国主义情怀，有利于弘扬中华民族精神，维护祖国统一，②③正确；材料中不涉及传播多元文化和深远持久的影响人生的选择，①④排除。故选C。
20. 加强大学生理想信念教育旨在高举理想信念的旗帜，引领国家民族同心同德前进，促进国家和民族同心同德地迈向前进，落实立德树人，高扬主旋律，唱响正气歌，①②正确；让全社会坚持学而信、学而思、学而行和深化中国特色社会主义和中国梦宣传教育不是理想信念教育的主旨，③④错误。故选A。
21. 面对国内外不断变化的形势和中国经济发展的压力，中央经济工作会议准确清晰的判定2022年中国经济发展基调并制定各种措施促进经济高质量发展，体现坚持发展的观点看待明年中国经济的趋势和运用绝对运动和相对静止的统一规划经济工作要领，①④正确；依据材料判定中国经济基调属于运用矛盾主次方面原理，②错误；意识不能直接推动中国经济发展，③错误。故选B。
22. 题目设定为理性思考，即下棋人会采用最优策略，双方都应重视落子位置和顺序，选取各自的最优策略，都应注重系统内部结构优化，力求获得棋局胜利，③④正确；双方对弈的不同结果和偶然联系没有关系，①错误；白子应该从整体出发，②错误。故选D。



23. 党的三个《决议》都是对特定的历史时期的经验总结，反映出社会意识的变化归根结底是社会存在变化的反映，①正确；党随着中国社会不断地变化发展，不断总结历史经验，体现党遵循社会发展规律，不断深化全党的理论认识，③正确；历史判断有正确和错误之分，并且材料中强调《决议》的产生，并未涉及对中国社会产生的影响，②错误；④的表述属于唯心主义历史观，④错误。故选 A。
24. 本题旨在考查学生阅读理解阐释材料的学科核心素养和运用所学知识及历史唯物主义观点分析问题、解决问题的能力。据材料的关键词“争则乱，乱则穷。故制礼义以分之，以养人之欲，给人之求”可知，制礼作乐的目的是平息纷争，稳定秩序，故 D 项正确；A 项不是“制礼作乐”的目的，材料中也无此意，排除；B、C 两项是对材料的错误解读，均排除。
25. 据材料可知，由于长期战乱，西汉建立之初，国家贫弱是其基本国情，故 B 项正确；汉初推崇的是道家的思想，排除 A 项；C、D 两项不是治国举措的原因，而是表现，均排除。
26. 本题旨在考查学生阅读理解阐释材料和运用所学知识及历史唯物主义观点分析问题、解决问题的能力。据表中信息可知，主户（拥有土地的人家）占宋朝人口大多数，他们还是国家税收和徭役的主要承担者，故北宋政府必须保护和扩大这一群体，C 项正确；其他三项是对材料的错误解读或片面解读，均排除。
27. 据材料，西方传教士的这些变通，其目的是让中国人更愿意接受西方的宗教主张，故 D 项正确；A 项不是传教士的目的，排除；材料中没有涉及官方的态度，少数士大夫不代表官方，排除 B 项；对中国的文化侵略是对其传教的评价，并非目的，排除 C 项。
28. 据材料中的关键信息“但出于任人唯亲、中饱私囊、不思经营，后被英国在华经营的轮船公司超越”可知，上海轮船招商局经营管理中封建落后意识明显，导致其最终无法和外商企业竞争，故 B 项正确；A 项不是题干讨论的核心主题，排除；上海轮船招商局被英国在华经营的轮船公司超越不等于难以成功，C 项所述不符合常识和逻辑；当时的国内市场广阔，D 项所述不符合史实。
29. 材料中维新派人士梁启超先生宣传西方的各种思想与主张，实质就是试图找到一种解决中国问题的方案，故 C 项正确；据材料“宣传西方资产阶级的各种理论和学说，竭力鼓吹民族主义、自由平等、博爱、民主民权等思想与精神”不等于认定西学是救亡图存的根本，A 项错误；题干没有讨论引入西方政体的问题，排除 B 项；题干没有提到中国的传统问题，排除 D 项。



30. 本题旨在考查学生阅读理解阐释材料的学科核心素养和运用所学知识及历史唯物主义观点分析问题、解决问题的能力。据材料“埃政府”意为“我们的政府”等关键词，可得出 A 项符合题意；共产党建立的第一个人民政权是井冈山革命根据地，排除 B 项；C 项说法不符合史实，中华苏维埃政府的建立与苏联无关；国民党政府不可能允许共产党自治，D 项说法不符合史实。
31. 据材料背景 1979 年及材料关键词“支持城镇集体经济和个体经济发展”可得出 D 项正确；A 项是 1978 年十一届三中全会，排除；B 项是 1992 年以后才开始，排除；C 项与知青返城没有因果关系，排除。
32. 本题旨在考查学生阅读理解阐释材料和运用所学知识及历史唯物主义观点分析问题、解决问题的能力。据材料可知，罗马法律重视权力的分散和互相制约，故 A 项正确；B、C 两项属史实性错误，排除；本题未讨论近代西方法律体系如何形成，排除 D 项。
33. 据材料核心信息“未经州的同意……州政府未经国会同意不能与外国签订条约或协议”可知，本题主要探讨美国 1787 年宪法是如何明确划分中央政府与州政府的权力，故 B 项正确；A 项不是材料探讨的主题，C、D 两项不符合史实，均排除。
34. 据材料和所学知识可知，材料主要强调苏联由大量进口机器设备到大幅减少进口，说明了苏联机器设备自主生产能力的快速发展，故 C 项正确；据材料“一五计划”期间、“二五计划”期间和 1937 年可知，A、B、D 三项属史实性错误，均排除。
35. 据材料提供的时间限制“1964 年”及材料的信息可知，七十七国集团成立主要是在国际经济与国际贸易中争取自身的权益，反对不平等的经济与贸易秩序，故 D 项正确；结合材料分析可知，A、C 两项不是七十七国集团的主要诉求，B 项属史实性错误，均排除。

二、非选择题（共 160 分）

（一）必考题（共 7 小题，共 135 分）

36. (22 分)

(1) (6 分) 人口分布不均；(2 分) 西北稠密，东南（或东部）稀疏；(2 分) 首都附近人口最稠密。(2 分)

(2) (8 分) M 地降水主要集中于冬季。(2 分)

原因：冬季，受南移的西风带控制，(2 分) 西风经过里海，增温增湿，(2 分) 水汽含量增大，受 M 地东部山脉的抬升，形成地形雨。(2 分)

■ □ ■ ■ ■ ■ □

(3) (8分) 该地区地势平坦, 便于耕种; (2分) 地处中纬度大陆内部, 夏季热量充足; (2分) 地中海气候, 降水丰富, 灌溉水源充足; (2分) 人口密度大, 劳动力资源丰富。 (2分)

37. (24分)

(1) (6分) 山脉隆起, 倒淌河河水倒流进入青海湖, 使青海湖失去外泄通道, 变成内陆湖; (2分) 盐分随径流汇入青海湖, 不断积累; (2分) 青海湖位于青藏高原, 海拔高, 光照强, 湖水蒸发量大。 (2分)

(2) (8分) 地壳运动剧烈: 东南部抬升形成山地, 西北部断裂下陷形成湖盆; 东南部倒淌河流向改变, 自西北向东南改变为自东南向西北; 气候变得干旱, 河流水量减小; 风成地貌增强, 古倒淌河河谷由流水沉积地貌向风力沉积地貌演化; 湖泊失去出水口, 青海湖盐度升高, 成为咸水湖。(每点2分, 任答四点即可)

(3) (6分) 耳海面积小且水体浅, 倒淌河注入对其起到了明显的稀释作用; (2分) 耳海湖床高于青海湖水面, 湖堤由透水性较强的砂岩和砾岩组成, 耳海的地下水补给给青海湖, 带走盐分; (2分) 青海湖为内陆湖, 无出口, 盐分积累, 盐度高。 (2分)

(4) (4分) 黄土高原和青藏高原的分界线; 牧业区和农业区的分界线; 季风区和非季风区的分界线; 游牧文明和农耕文明的分界线; 青海湖水系和黄河水系的分水岭; 外流区与内流区的分界线。(每点1分, 任答四点即可)

38. (14分) ①制定正确的经营战略。老字号制定的立足品牌价值回归、数字化营销理念和海外本土化运营理念都是对自身品牌充分认识后制定的适合自身发展的经营战略, 而且在实际运用中取得不错的效果。(3分)

②提高自主创新能力, 依靠科技进步、科学管理等手段, 增强企业竞争优势。“老字号”运用国际生产标准改良传统工艺技术, 不断翻新工艺、造型和材料, 努力打造经典的“明星产品”+便捷、新颖“国朝新品”的产品链。(3分)

③诚信经营, 树立良好信誉和企业形象。“老字号”立足品牌价值回归, 深挖“老”的价值, 试图在消费者心中建立同类品牌专属的“心智产权”。(3分)

④坚持国际化的发展理念, 积极走出去, 充分利用国际国内两个市场、两种资源。部分老字号借着“网红”热度在海外设立原料基地、体验中心, 在异国他乡继续讲好中国品牌故事。(3分)

文科综合参考答案·第6页(共10页)

■ □ ■ ■ ■ ■ □

⑤重视知识产权保护，维护自身品牌价值。“老字号”在“走出去”的过程中注册当地专利和商标，运用法律保护自身品牌利益。（2分）（若从“新发展理念”答题，也可酌情给分）

39.（12分）①中国和东南亚各国在历史上是友好邻邦，睦邻关系是中国与各国的共同国家利益。东南亚是中国的南邻，自古以来就是中国通向世界的必经之地，中国人民和东南亚各国长期友好交往有利于我国及各国利益。（3分）

②在经济全球化背景下，国家关系表现为竞争、合作和冲突的交织，通过经济交往，既可以增强我国综合国力，也有利于通过合作增强地区稳定。（3分）

③中国奉行独立自主的外交政策，坚持在和平共处五项原则的基础上，与周边国家发展睦邻友好、务实合作的外交关系。（3分）

④中国积极承担国际责任，在国际社会发挥负责任的大国作用。中方为主投资建设的中老铁路（泛亚铁路中线）全线通车运营，不仅打开了老挝“陆锁国”困境，还将有力强化东盟区域间的互联互通，加快地区一体化发展进程。（3分）（若回答“中国坚持人类命运共同体理念”“顺应时代主题”“国家利益”和“中国外交宗旨、基本目标”也可酌情给分）

40.（26分）

（1）（12分）①实践具有客观物质性、能动性和社会历史性。中国考古学界对历史遗址的调查和发掘活动，体现了中国考古人踏实严谨的工作态度，借助一定的科技设备，努力探寻中华文明的起源。（4分）

②实践是认识的来源，是认识发展的动力，是认识的目的。中国考古学界取得的一系列重大考古发现，探寻了中华文明的源头并不断推动我们对中华文明史的认识前进。（4分）

③实践是检验认识真理性的唯一标准。中国考古学界取得的一系列重大考古发现，不断实证了以中原地区为中心的中华文明多元一体格局，不断实证中国古代文明古国的历史。（4分）

（2）（10分）①文化遗产是一个国家和民族历史文化成就的重要标志，对研究人类文明的演进具有重要意义，对展现世界文化的多样性具有独特作用，是人类共同的文化财富。中国考古学界对各种文明遗址的调查和发掘是对中华文化遗产的保护和开发，是对中华文明起源的探究，也是对世界文明发展的贡献。（4分）

■ □ ■ ■ ■ ■ □

②有利于继承中华优秀传统文化，增强文化自信，增强民族凝聚力、民族自豪感。加强考古成果和历史研究成果的传播，教育引导广大干部群众特别是青少年认识中华文明起源和发展的历史脉络，认识中华文明取得的灿烂成就，认识中华文明对人类文明的重大贡献，不断增强民族凝聚力、民族自豪感。（3分）

③有利于向世界传播优秀的中华文化，加深中国和世界各国的相互认知和理解。运用我国考古成果和历史研究成果，向国际社会展示博大精深的中华文明，讲清楚中华文明的灿烂成就和对人类文明的重大贡献，让世界了解中国历史、了解中华民族精神，从而不断加深对当今中国的认知和理解，推动文化共同发展。（3分）

(3) (4分) ①开设考古选修课。

②举办考古文物展览、讲座。（每条2分）

41. (25分)

(1) (8分) 特点：设置地方行政机构；派驻军队，政府加强管理；因地制宜，利用当地民族首领管理本地事务；与抵御外来侵略相结合。（每点2分）

(2) (12分) 背景：西方资本主义发展，列强加紧侵略和瓜分世界；清政府局混乱，国力衰微；清政府缺乏近代海防观念；中国东南海疆危机严重等。（每点2分，任答三点即可，6分）

意义：有力地配合了大陆的反侵略斗争，是近代中国人民反抗外来侵略的重要组成部分；激发了国人团结抗争的民族意识，展现了台湾军民的爱国主义精神；沉重打击了侵略者；为维护国家主权和统一作出了巨大贡献。（每点2分，任答三点即可，6分）

(3) (5分) 认识：解决台湾问题是实现中华民族伟大复兴的必然要求；有利于维护中国核心利益和人民的民族感情；有利于推动两岸共同发展，为世界和平作出贡献；有利于粉碎反华势力利用台湾问题阻挠中国统一大业。（一点2分，两点4分，三点5分）

42. (12分)

示例一：观点：工业革命将英国推上世界霸主地位。（2分）

论述：18世纪中期，工业革命首先在英国发生。蒸汽机的运用促进了英国纺织、煤炭、冶金等近代机器工业的兴起和发展，推动了社会生产力的极大发展。工业革命使英国率先完成了从农业社会向工业社会的转变，改变了英国的经济状况和国际地位，成为世界工厂。在强大的经济实力、科技实力和军事实力的支撑下，英国先后打败法国等欧洲国家，征服了加拿大、印度等国家，成为19世纪世界最强大的资本主义帝国，掌握世界霸权。（8分）

■ □ ■ ■ ■ ■ □

结论：工业革命使英国的实力大大增强，是英国成为世界霸主的主要推动力。（2分）

示例二：观点：科技进步是近现代西方国家发展的主要动力。（2分）

论述：科技进步是近现代西方国家崛起的基础。近代以来，英国、德国、美国等国都依靠强大的科技先后崛起。18世纪中期，工业革命首先在英国发生，英国率先完成了从农业社会向工业社会的转变；工业革命是英国成为世界霸主的主要推动力。19世纪中后期，第二次工业革命开始，德国抓住了第二次工业革命的机遇，很快站在了世界科技的前沿；第二次工业革命使德国用30多年时间超过英国，成为欧洲第一强国。20世纪中期，美国成为全球科研和技术创新潮流的引领者；美国持续不断的重大发明大大增强了美国的经济实力和综合国力；美国通过第三次科技革命成为资本主义超级大国。（8分）

结论：科技进步是近现代西方国家发展的不懈动力，是决定大国崛起的基石。（2分）

【评分标准】评分也可按答题要求“观点明确，史论结合，逻辑清晰”的不同层次实行三级给分（一级9~12分；二级5~8分；三级1~4分）。

（二）选考题（共5小题，共25分）

43.（10分）

该地周边有深圳、汕头、厦门等大城市，潮安城市发展的经济水平较低，知名度低，对外地游客的吸引力小；与汕头等地文化趋同，旅游项目相对单一，减少了游客观光的时间；缺少具有独特性的自然景观；文化旅游资源以潮汕文化为主，对周边短途游客吸引力大；该地的接待能力不足，管理服务水平有限，宾馆、酒店和大型购物商场不足，减少了游客停留的时间；距离周边大城市近，游客观光旅游结束后方便返回；没有直达该区的铁路和公路干线，通达度较差。（每点2分，任答五点即可）

44.（10分）

危害：影响海洋景观；威胁航行安全；危害海洋生物；破坏海洋生态系统；对海洋经济产生负面影响。（每点2分，任答三点得6分）

措施：源头控制；焚烧和打捞回收；加强监测，掌握海洋垃圾的种类、数量和来源，并评估其演变趋势；在监测的同时清除海洋垃圾，加强公众教育。（每点2分，任答两点得4分）



45. (15分)

(1) (6分) 背景：西进运动的需要；工业革命的影响；两种不同经济制度斗争的激化；美国内战的爆发；林肯对黑奴制度罪恶的认识。(每点2分，任答三点即可)

(2) (9分) 简评：废除黑奴制度是近代民权发展和社会进步的必然要求，更是人民的胜利；重新维护了联邦统一和迅速发展资本主义经济，为美国成为世界工业强国奠定基础；林肯废除黑奴制度是以资产阶级的利益为前提，体现了时代和阶级局限；黑人的基本人权并没有得到落实和保障，种族歧视依然存在。(每点3分，任答三点即可)

46. (15分)

(1) (6分) 必要性：险恶的地形和地貌利于志愿军扬长避短；挫败美军的战略意图，赢得战略主动权；震慑敌军，重创敌军，鼓舞士气。(每点2分)

(2) (9分) 得：一定程度奠定了抗美援朝初步胜利的基础；为战胜美军积累宝贵战斗经验；打击“联合国军”的嚣张气焰，鼓舞中朝军民斗志；体现了不怕牺牲、不怕困难的战斗意志的重要性；是抗美援朝期间我军唯一一次成建制歼灭美军团级以上作战单位的战例。(每点2分，任答三点即可，6分)

失：因后勤保障和军事装备等原因美军突围成功，未获得全胜。(3分)

47. (15分)

(1) (8分) 经济思想：国家专营；财政统一；本末并重；发展对外贸易。(每点2分)

(2) (7分) 原因：严重的财政危机；尖锐的社会矛盾；个人的成长环境和良好的素养；前代优秀的商业文化。(一点3分，两点5分，三点7分)

关于我们

自主选拔在线是致力于提供新高考生涯规划、强基计划、综合评价、三位一体、学科竞赛等政策资讯的升学服务平台。总部坐落于北京，旗下拥有网站（[网址: www.zizzs.com](http://www.zizzs.com)）和微信公众平台等媒体矩阵，用户群体涵盖全国90%以上的重点中学师生及家长，在全国新高考、自主选拔领域首屈一指。

如需第一时间获取相关资讯及备考指南，请关注**自主选拔在线**官方微信号：**zizzsw**。

