

名校联盟 2020 届普通高中教育教学质量监测考试  
全国 I 卷 文科综合

注意事项:

1. 本试卷分第 I 卷(选择题)和第 II 卷(非选择题)两部分。
2. 答题前,考生务必将自己的姓名、准考证号填写在本试卷相应的位置。
3. 全部答案写在答题卡上,写在本试卷上无效。
4. 本试卷满分 300 分,测试时间 150 分钟。
5. 考试范围:高考全部内容。

第 I 卷

本卷共 35 个小题,每小题 4 分,共 140 分。在每小题给出的四个选项中,只有一项是符合题目要求的。

突尼斯位于非洲北部、地中海沿岸。全国划分为 24 个省,下设 262 个县,300 个市镇。图 1 示意突尼斯主要城市分布。据此完成 1-3 题。

1. 突尼斯城市的空间分布特点是
  - A. 北少南多、东少西多
  - B. 东部多大城市、西部多中小城市
  - C. 北多南少、东多西少
  - D. 南部多大城市、北部多中小城市
2. 突尼斯城市分布的直接影响因素是
  - A. 人口与经济
  - B. 地形与气候
  - C. 河流与海洋
  - D. 历史与文化
3. 突尼斯同等级城市的服务范围最可能是
  - A. 北部大、南部小
  - B. 东北部大、西南部小
  - C. 东部大、西部小
  - D. 东北部小、西南部大



图 1

内蒙古根河市位于寒温带,年平均气温  $-5.3^{\circ}\text{C}$ ,历史记载最低温度  $-58^{\circ}\text{C}$ ,每年无霜期仅 70 天左右,被称为“中国冷极”。寒温带大部分地区可以种植一年一熟的农作物。图 2 示意根河市地理位置。据此完成 4-6 题。

4. 与漠河市相比,根河市冬季气温更低,其主要原因是
  - A. 河流调节作用显著
  - B. 位于冬季风迎风坡
  - C. 大气的保温作用弱
  - D. 距离冬季风源地近
5. 根河市的气候特点是
  - A. 冬温夏凉
  - B. 四季分明
  - C. 全年皆冬
  - D. 冬长夏短
6. 根据根河市的气温条件,该市最适宜种植的农作物是
  - A. 玉米
  - B. 冬小麦
  - C. 水稻
  - D. 马铃薯



图 2

费尔干纳盆地位于中亚地区,海拔 300-1000 米,呈三角形由东向西徐缓倾斜,面积 22000 平方千米。费尔干纳盆地的降水集中在春季,年降水量很少,尤以盆地西部最干燥。费尔干纳盆地是世界上最古老的人类聚居地之一,数千年来都是整个中亚的粮仓。据此完成 7-9 题。

7. 费尔干纳盆地形成的主要原因是
  - A. 板块张裂—地壳水平错断
  - B. 板块张裂—地壳褶皱凹陷
  - C. 板块挤压—地壳断裂下陷
  - D. 板块俯冲—地壳水平张裂
8. 费尔干纳盆地西部最干燥的主要原因是
  - A. 沙漠面积广大,水汽少
  - B. 植被稀疏,涵养水源少
  - C. 位于河流下游,流量小
  - D. 处西风背风坡,降水少

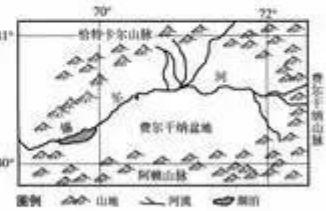
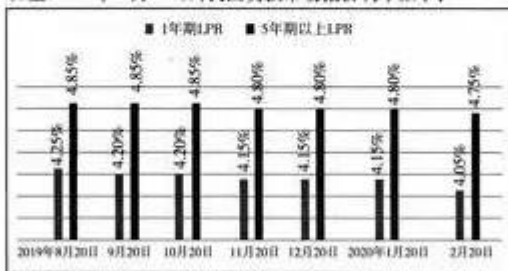


图 3

9. 费尔干纳盆地成为世界上最古老的人类聚居地之一的自然条件是  
A. 夏季凉爽, 土壤肥沃 B. 冬季温暖, 水源充足  
C. 地势平坦, 河网密布 D. 雨热同期, 光照充足
- 图4示意印度半岛一学校某日旗杆影长的部分变化。据此完成10-11题。



10. 该地当日的昼长可能为  
A. 14 小时 B. 12 小时  
C. 10 小时 D. 6 小时
11. 该日北京时间 12 点时, 该校旗杆杆影的朝向是  
A. 东南 B. 东北 C. 西南 D. 西北
12. 2019 年 8 月 16 日, 中国人民银行决定改革完善贷款市场报价利率(LPR)形成机制, 进一步推进利率市场化改革。2019 年 8 月 20 日至 2020 年 2 月 20 日, 我国贷款市场报价利率如下:



- 由图文信息可以推断出此举有利于  
①推动实体经济融资成本降低 ②放宽我国金融服务业市场准入  
③提高商业银行盈利水平及竞争力 ④提高贷款利率传导效率与资金利用率  
A. ①② B. ①④ C. ②③ D. ③④
13. 近年来, 国家对节能潜力大、使用面广的用能产品实行能效标识管理。能效标识是附在耗能产品或其小包包装物上, 表示产品能源效率等级的信息标签。由国家质检总局规定统一适用的产品能效标准, 实施规则、标识样式并组织实施。这一做法  
①旨在促进电器行业公平竞争, 规范市场秩序 ②属于政府运用行政手段进行市场监管的方式  
③尊重了消费者的知情权, 有利于促进节能减排 ④可以弥补市场调节的盲目性, 减少虚标能效行为  
A. ①② B. ①④ C. ②③ D. ③④
14. 2019 年, 我国人均国内生产总值 70892 元, 按年平均汇率折算, 达到了 10276 美元, 突破 1 万美元大关, 实现了新的跨越。一个拥有 14 亿人口的大国, 实现人均 GDP 过万美元, 是人类经济社会发展的重大进步。这一指标意味着  
①我国投资增速总体平稳, 投资结构得到优化 ②我国居民收入与经济发展同步增长  
③我国经济持续健康发展, 综合国力增强 ④我国消费规模会扩大, 消费水平会提高  
A. ①② B. ①④ C. ②③ D. ③④
15. 民为国基, 谷为民命。2019 年 10 月 14 日, 国新办发表的《中国的粮食安全》白皮书全面介绍了中国粮食安全现状。70 年来, 中国依靠自己的力量实现了粮食基本自给, 居民生活质量和营养水平显著提升, 粮食安全取得了举世瞩目的巨大成就。下列对取得这一成就的原因推导正确的是  
①进行高标准农田建设→提高耕地质量→提升粮食生产能力  
②全面取消农业税→减轻了农民负担→调动农民种粮积极性  
③深化粮食收储制度改革→逐步取消种粮补贴→实行市场化收购  
④深化农村土地制度改革→保持土地经营权不变→推动承包权有序流转  
A. ①② B. ①④ C. ②③ D. ③④
16. 浙江桐乡乡村振兴有妙招, 形成了独具特色的“一约两会三团”治理模式: “一约”——村规民约; “两会”——百姓议事会和乡贤参事会; “三团”——百事服务团、法律服务团、道德评判团。据此推断这一模式的特点和优势有  
①创新了当地基层“自治、法治、德治”三治融合新机制  
②加快推进我国乡村基层治理体系和治理能力现代化  
③在当地形成了“民事民议、民事民管、民事民办、民事民决”机制  
④体现了“以党建为引领, 以人民为中心, 以善治为目标”的要求  
A. ①② B. ②④ C. ①③ D. ③④

17. 2020年2月24日,十三届全国人大常委会第十六次会议表决通过了《关于全面禁止非法野生动物交易、革除滥食野生动物陋习、切实保障人民群众生命健康安全的决定》,决定在野生动物保护法的基础上,以全面禁止食用野生动物为导向,扩大法律调整范围,确立了全面禁止食用野生动物的制度。会议要求其他国家机关严格落实,对违反现行法律规定的,要在现行法律基础上加重处罚,以体现更加严格的管理。这表明全国人大常委会
- ①代表人民具体行使管理国家和社会的权力  
②坚持民主集中制的组织和活动原则  
③作为法律监督机关促进公权力规范行使  
④不断推进我国公共卫生安全事业建设
- A. ①② B. ①③ C. ②④ D. ③④
18. 2019年12月30日,四川省教育厅召开民族地区“9+3”免费教育计划实施10周年总结大会。十年来,省委、省政府在九年义务教育的基础上,组织民族地区初中毕业生和未升学的高中毕业生,到内地优质职业学校免费接受三年中等职业教育,并尽力帮助其实现就业,该计划已惠及8万余个家庭。这一计划
- ①是我国民族地区行使教育文化自治权的表现  
②是政府通过购买公共服务履行文化职能的表现  
③有利于夯实四川民族地区发展的人才根基  
④有利于增进民族团结,促进民族共同繁荣发展
- A. ①② B. ①④ C. ②③ D. ③④
19. 2020年1月,国家卫健委与国家中医药管理局联合发布新型冠状病毒肺炎诊疗方案,该方案推荐将连花清瘟胶囊、颗粒用于医学观察期临床表现为乏力伴发热的治疗。该药物的研发源于当年抗击“非典”的需要。此药汇聚了古代《伤寒论》、《温疫论》、《温病条辨》中的三个名方,并运用现代科技手段精制而成。该药的新制过程表明
- ①社会实践是推动中医药文化创新的动力  
②现代科技对中医药文化发展起促进作用  
③药品经过社会实践的检验才具有治病的属性  
④中医药文化创新要反对“守旧主义”和“封闭主义”
- A. ①② B. ①③ C. ②④ D. ③④
20. 2019年8月21日,习近平前往读者出版集团有限公司考察调研。《读者》创刊于1981年,被誉为“中国人的心灵读本”,其办刊宗旨为:博采中外、荟萃精华、启迪思想、开阔眼界,具有高雅、清新、隽永的风格,拥有极高品牌美誉度和影响力,累计发行量已突破20亿册。总书记对其运营和发展表示肯定和赞赏。《读者》杂志
- ①以其先进性引领意识形态前进方向  
②以优秀的作品丰富人们的精神世界  
③实现了社会效益和经济效益的双丰收  
④坚持文化多元化方针,兼容并包
- A. ①② B. ①④ C. ②③ D. ③④
21. 2020年3月20日,中共中央、国务院印发的《关于全面加强新时代大中小学劳动教育的意见》指出,劳动教育是国民教育体系的重要内容,是学生成长的必要途径,具有树德、增智、强体、育美的综合育人价值,要有目的、有计划地组织学生参加日常生活劳动、生产劳动和服务性劳动。此举
- ①有利于促使学生参与实践,促进“知行合一”  
②目的是验证所学知识的真理性,不断追求真理  
③有利于使学生理解劳动精神创造了人类社会的观点  
④有利于抵制不劳而获、贪图享乐、崇尚暴富等错误观念
- A. ①② B. ①④ C. ②③ D. ③④
22. 截至2020年2月14日,中央全面深化改革委员会共举行过十二次会议。历次会议都强调,试点是全面深化改革的重要任务,更是改革的重要方法。要发挥好试点对全局性改革的示范、突破、带动作用。这一要求的依据是
- ①改革是解决社会基本矛盾的主要途径  
②矛盾的普遍性和特殊性相互联结  
③关键部分在一定条件下对整体起决定作用  
④改革是发展中国特色社会主义的强大动力
- A. ①② B. ①③ C. ②④ D. ③④
23. 2019年10月,习近平总书记在《求是》杂志上发表的文章指出,泰山半腰有一段平路叫“快活三里”,一些人爬累了,喜欢在此歇脚。然而,挑山工一般不在此久留,因为休息时间长了,腿就会“发懒”,再上“十八盘”就更困难了。这启示我们在加强党的建设过程中,广大党员要
- ①持之以恒,充分发挥主观能动性  
②不忘初心,牢记使命,不断砥砺前行  
③自觉遵循社会发展的基本规律  
④在劳动和奉献中实现其人生价值
- A. ①② B. ①③ C. ②④ D. ③④
24. 周初,周公认为:天神是无私的,他以“道德”作为标准赏善罚恶,君王必须“敬德”方能“保民”,从而得到上天的保佑。他多次告诫群臣子弟要“知稼穡之艰难”“知小民之依”。周公旨在
- A. 宣扬重民的执政理念  
B. 增强儒家思想的权威性  
C. 创建选贤任能的制度  
D. 摆脱神权对政治的影响
25. 有学者考释,汉代赋役征发项目共有田租、刍稿、算赋、口赋、献、贡、力役七种,前两项出自田土,后五项出自人户;另有学者,计算出西汉小农全部赋役负担与劳动总收入的比率在50%上下。据此可知,汉代
- A. 赋役负担沉重导致自耕农经济衰退  
B. 赋役制度有利于人口增长  
C. 小农经济为社会运行提供物质基础  
D. 土地兼并加剧了财政困难
26. 宋初学者石介作家训诗:“尔等勤初学,无耻衣食恶。仁义足饱饫,道德堪咀嚼。二者尔尔亟,不同乳与酪。尔勿嫌粗粝,尔勿厌藜藿(粗劣的饭菜)。富贵自努力,青云路非恶。”其意在告诫子弟
- A. “存天理”必当“去人欲”  
B. 安身经世以儒学为指导  
C. 遵循“重利轻义”的道德准则  
D. 恪守“知行合一”的治学方法

27. 清朝前期,广东各地“煤船所出日广,商人获利日多,纷纷争,自愿增税承采”,甚至安徽商人也来广东办煤窑。在此过程中,出现了一批以煤为业的煤窑世家和煤窑主。这反映出,此时广东
- A. 徽商集团垄断了采煤业  
B. 政府丧失对矿权的控制  
C. 新的生产方式获得成长  
D. 工矿业近代化趋势凸显
28. 张之洞认为,《马关条约》在于“夺我丝绸,纱布,小轮之利”,所以“我急宜筹护华商、华工之法,以抵倭人”。由此,光绪皇帝发布谕令,着地方官员在条约规定开埠的苏州等地,“筹议招商,多设织布、织绸等局”,以占先机。这表明,此时中国
- A. 洋务企业得到快速发展  
B. 统治集团利权观念增强  
C. 民族资本主义经济兴起  
D. 商战成为社会各界共识
29. 下表为各省都督府代表联合会在湖北的主要活动情况表。据此可知当时

时间	主要活动
1911年11月30日	召开第一次会议,公推谭人凤为临时议长
1911年12月3日	表决通过《中华民国临时政府组织大纲》,由独立各省代表22人签名
1911年12月4日	议决临时政府设于南京,各省代表选举临时大总统也在南京
1911年12月5日	议决与袁世凯所派代表的和谈条件:一、推倒满清政府;二、主张共和政体;……

- A. 南北和谈成效显著  
B. 共和政体得到确立  
C. 民主法治原则得以践行  
D. 辛亥革命存在失败隐患
30. 1939年1月,国民党五届五中全会提出:“过去本党组织仅偏重城市而忽略农村,致广大之农民群众易为异说所乘。今后乃应以乡村为发展组织与宣传之主要对象,于乡村社会中深植本党之势力,并于工作进程中吸收其忠实勇敢者为党员,以建立本党的农村干部。”对此理解正确的是,国民党
- A. 放弃了对共产党合法性的认可  
B. 将战略重心转向农村  
C. 力图抵制敌后抗日根据地发展  
D. 改变了片面抗战路线
31. 下表为新时期中国外交成就表。据此可知,这一时期中国外交

时间	成就
1978年	中日缔结《中日和平友好条约》;邓小平访日
1978年	中美发表《中美建交公报》
1988年	钱其琛外长访问苏联
20世纪80年代	中国同一系列拉美、非洲、西亚及南太平洋国家建交

- A. 适应了国内现代化建设要求  
B. 摒弃了意识形态的影响  
C. 促进了新型区域合作的发展  
D. 开启了多边外交的尝试
32. 罗马共和国时期,元老院宣布某些人可以不受特定法令约束的权力,后被图密善(81—96年在位)以及他之后的皇帝篡改,进而罗马法学家提出了所谓皇帝“在法之外”的理论。由此可知,古代罗马
- A. 社会法治观念日趋淡薄  
B. 皇帝垄断立法权推动了法学完善  
C. 民主政治危机潜滋暗长  
D. 政治制度的变迁影响了法制演进
33. 1819年,普鲁士联合部分小邦建立“北德意志关税同盟”。后来,又相继成立中德和南德关税同盟。1834年,这几个关税同盟联合组成“德意志关税同盟”内部实行免税贸易,采用统一的货币和度量衡制度。关税同盟的演进
- A. 与政治统一的进程同步展开  
B. 推动了德意志统一步伐  
C. 适应了垄断组织发展的需要  
D. 得益于重商主义的指导
34. 1933年,苏联62%以上的农户参加了集体农庄,其耕地面积约占全国耕地面积的80%;到1938年,几乎所有的私人农场都消失了,农业生产被集中到了约24万个集体农庄和4000个国营农场中。这
- A. 展现了农业现代化的成果  
B. 激发了广大农民的建设热情  
C. 奠定了工业化建设的基础  
D. 超越了社会生产力实际水平
35. 图6为1949年英国人创作的漫画——《自立》。画面中,象征英国的约翰正小心翼翼推着手推车,行走在高悬空中、写有“马歇尔援助”的绳索上;对面山坡上,象征美国的山姆大叔正在询问:“我想知道如果没有这条绳索你能否运送货物?”这一作品旨在说明
- A. 英国经济发展具有巨大潜力  
B. 英国利用美援摆脱了经济困境  
C. 美国利用经济援助控制英国  
D. 马歇尔计划促使英美关系改善



图6

### 第 II 卷

本卷包括必考题和选考题两部分。第 36 题~第 42 题为必考题,每个试题考生都必须作答。第 43 题~第 47 题为选考题,考生根据要求作答。

36. 阅读图文材料,完成下列要求。(24 分)

爪哇岛虽然地震和火山喷发频繁,但却是印尼经济、政治和文化最发达的地区。首都雅加达位于爪哇岛西北海岸,由于长期缺乏城市规划,城市化问题严重,迁都成为历届政府关注的问题。加里曼丹岛是亚洲第一大岛,地质相对稳定,虽然石油、天然气等矿产资源丰富,但大部分地区经济落后,许多热带雨林地带尚未开发。2019 年 8 月 26 日,印尼总统宣布新首都地点为加里曼丹岛东部三马林达市(东加里曼丹省首府)以南约 63.4 千米处。图 7 为印度尼西亚简图。

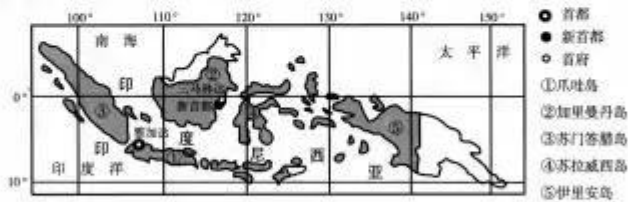


图 7

- (1) 由于长期缺乏城市规划,推测雅加达在城市化过程中可能产生的问题。(6 分)
- (2) 分析加里曼丹岛作为迁都地的有利区位条件。(8 分)
- (3) 分析新首都选址在加里曼丹岛三马林达市附近沿海地区的原因。(6 分)
- (4) 说明印尼迁都对加里曼丹岛社会经济发展的意义。(4 分)

40-116-8227 盖印必究 为保护学生使用正版的权利,试卷多处做防伪处理。

37. 阅读图文材料,完成下列要求。(22分)

黄河上游内蒙古河段南岸的十大孔兑(蒙语,山洪沟)是季节性高含沙支流。各孔兑长度在65~110千米之间,总流域面积1.1万平方千米。水文站监测数据显示,暴雨期十大孔兑主要洪水过程从起涨至洪水峰值出现的时差平均为1.4小时,洪水持续时间平均为18小时,具有峰高量大、含沙量极高、持续时间短的显著特征。图8示意内蒙古段黄河干流与十大孔兑水系分布。

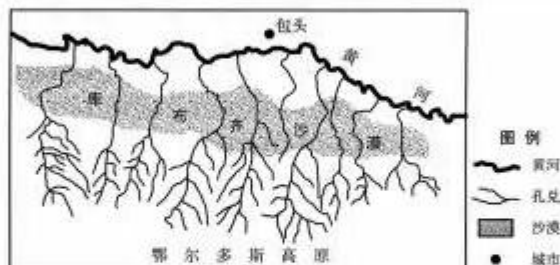


图8

- (1) 描述十大孔兑共同的水系特征。(6分)
- (2) 说明十大孔兑洪水持续时间短的原因。(6分)
- (3) 推测洪水期孔兑河床深度的变化,并说明理由。(6分)
- (4) 分析十大孔兑洪水含沙量极高对内蒙古段黄河干流的不利影响。(4分)

## 38. 阅读材料,完成下列要求。(14分)

近年来,以区块链、大数据为代表的系列金融科技快速发展,各种新兴的金融商业模式陆续产生,然而其业务模型和应用模式十分复杂,监管机制难以同步发展,在这样的需求下,监管沙箱应运而生,用于平衡风险防控和促进创新之间的关系。

这一概念首先由英国政府提出,在这一安全空间中,监管规定有所放宽,在保护消费者和投资者权益、严防风险外溢的前提下,尽可能营造一个鼓励创新的规则环境。金融科技企业可以在其中测试新的金融产品和商业模式,不需要担心在碰到问题时立刻受到监管规则约束。2020年1月14日,我国央行发布消息称,为营造中正、安全、普惠、开放的金融科技创新发展环境,对六个拟纳入金融科技监管试点的应用公开征求意见,这意味着中国版监管沙箱启动在即,但细节尚需完善。

落实中国版监管沙箱制度,推动规范监管与金融创新,政府部门和金融企业应该如何做?结合材料,运用所学的经济生活知识加以说明。(14分)

## 39. 阅读材料,完成下列要求。(12分)

近年来,面对国内外发展形势,我国全面推进中国特色大国外交,形成了全方位、多层次、立体化的外交布局,主场外交取得重大成就,进一步提升了中国的话语权,改善了中国的国际形象。

主场外交是指在一国境内开展的,由东道国政府扮演重要角色,并能对维护和拓展该国国家利益发挥积极影响的各类重要外交活动。2018年,中国有四场重大主场外交:博鳌亚洲论坛年会、上海合作组织青岛峰会、中非合作论坛峰会、首届中国国际进口博览会。2019年,中国主办了第二届“一带一路”国际合作高峰论坛、北京世界园艺博览会、亚洲文明对话大会、第二届中国国际进口博览会,向世界展示了一个文明、开放、包容的中国。习近平主席同多国国家元首和政府首脑会晤,分享中国故事和中国主张,深化了共识。2020年,中国会继续张开双臂拥抱世界。

结合材料并运用所学国际社会的知识,分析近年来我国主场外交蓬勃发展的原因。(12分)

## 40. 阅读材料,完成下列要求。(26分)

敦煌是中国通向西域的重要门户,古代中国文明同来自古印度、古希腊、古波斯等不同国家和地区的思想、宗教、艺术、文化在这里汇聚交融。中华文明以海纳百川、开放包容的广阔胸襟,不断吸收借鉴域外优秀文明成果,造就了独具特色的敦煌文化和丝路精神,显示了中华民族独特的价值体系、文化内涵和精神品质。李美林先生曾说过:“敦煌文化的灿烂,正是世界各民族文化精粹的融合,也是中华文明几千年源远流长不断融会贯通的典范。”

敦煌学是当今一门国际性显学,世界上许多国家的学者都在从事敦煌学研究。敦煌学原本主要是研究藏经洞出土的写本文献,之后逐渐扩大到石窟、壁画、汉简乃至周边地域出土的古代文献和遗存的古代文物。

2019年8月19日,习近平总书记在敦煌研究院座谈时指出,敦煌文化属于中国,但敦煌学属于世界,把莫高窟保护好,把敦煌文化传承好,是中华民族为世界文明进步应负的责任。研究和弘扬敦煌文化,既要深入挖掘敦煌文化和历史遗存背后蕴含的哲学思想、人文精神、价值理念、道德规范,推动中华优秀传统文化创造性转化、创新性发展,更要揭示蕴含其中的中华民族的文化精神、文化胸怀和文化自信,为新时代坚持和发展中国特色社会主义提供精神支撑。希望研究人员再接再厉,努力把研究院建设成为世界文化遗产保护的典范和敦煌学研究的高地。要坚持“引进来”和“走出去”相结合,开展多种形式的国际性展陈活动和文化交流对话,展示我国敦煌文物保护和敦煌学研究的成果,努力掌握敦煌学研究的话语权。

- (1) 习近平总书记指出,敦煌文化属于中国,但敦煌学属于世界。结合材料,运用所学文化生活的知识对此加以论证。(10分)
- (2) 敦煌与古今中外有着丰富多样的联系。结合材料,运用所学哲学知识,分析研究人员应该如何联系多样性中把握各种条件,掌握敦煌学研究的话语权。(10分)
- (3) 丝绸之路国际文化博览会(敦煌文博会)是“一带一路”建设的重要载体,是丝绸之路沿线国家人文交流合作的战略平台。请为文博会的举办写三条宣传语,每条不超过20个字。(6分)



## 41. 阅读材料,完成下列要求。(25分)

材料一 18世纪后期开始,英国古典经济学家赞扬资本主义商品经济,认为市场经济是一种“自然秩序”,它基于人的利己主义本性。因为人都是为了追求自身利益而从事商品生产与交换的,被一只“看不见的手”将生产的分工与商品的交换调节起来,使人们彼此满足了需求,从而促进社会的利益。正是基于这种理论,他们主张实行经济上的自由放任主义,反对政府干预经济活动。政府只需发挥保卫国家的职能,并维持某些公共工程,其余的就该让“看不见的手”去发挥作用。

——摘编自吴于廑、齐世荣主编《世界史》

材料二 1984年10月,国务院批转国家计委《关于改进计划体制的若干暂行规定》,并在批转的通知中强调:要根据“大的方面管住管好,小的方面放开放活”的精神,缩小指令性计划的范围,扩大指导性计划和市场调节的范围;“对关系国计民生的重要经济活动,实行指令性计划。对大量的一般经济活动,实行指导性计划。对饮食业、服务业和小商品生产等方面,实行市场调节。”以后,随着物资的越来越丰富,除粮、油外的其他消费品价格陆续放开,基本取消票证,做到敞开供应。

——摘编自金冲及《二十世纪中国史纲》

- (1) 根据材料一并结合所学知识,概括英国古典经济学家的基本主张,并说明其背景。(12分)
- (2) 根据材料一、二并结合所学知识,指出中国经济改革思想与英国古典经济学家基本主张的不同之处,并简析其历史意义。(13分)

## 42. 阅读材料,完成下列要求。(12分)

材料 《隋志》是第一个采用四部分类法的史志目录,并附有佛道两类,实际上是一种六分法,由于它官修正史的特殊地位,代表着正统而权威的官方学术思想。经、史、子、集四大学科门类从此开始按照其不同地位,以不同的方式影响中国社会与文化思潮。其具体分类情况如下:

(一) 经部:易、书、诗、礼、乐、春秋、孝经、论语、讖纬、小学。

(二) 史部:正史、古史、杂史、霸史、起居注、旧事、职官、仪注、刑法、杂传、地理、谱系、簿录。

(三) 子部:儒、道、法、名、墨、纵横、杂、农、小说、兵、天文、历数、五行、医方。

(四) 集部:楚辞、别集、总集。

附:道经:经戒、仪服、房中、符录。佛经:大乘经、小乘经、杂经、杂译经、大乘律、小乘律、杂律、大乘论、小乘论、杂论。

——摘编自魏徵《隋书》

根据所学中国古代史的相关知识,从材料中提取一则信息,指出它所反映的历史现象,并简要概述和评价该历史现象。(要求:简要写出所提取的信息及历史现象,对历史现象的概述和评价准确全面。)

请考生在第 43、44 两道地理题中任选一题作答,并用 2B 铅笔将答题卡上所选题目对应的题号右侧方框涂黑,按所涂题号进行评分;多涂、多答,按所涂的首题进行评分;不涂,按本选考题的首题进行评分。

43.【旅游地理】(10 分)

云海,是指在一定的条件下形成的云层,并且云顶高度低于山顶高度。崂山位于山东省青岛市东部沿海,海拔 1132 米,崂山之巅经常出现波澜壮阔的云海景观,云雾飘逸在连绵峰峦间,呈现出一幅人间仙境的如画美景。图 9 示意崂山云海景观。



图 9

崂山冬季云海最为常见,说明其形成原因。

44.【环境保护】(10 分)

最新研究显示,自 1970 年至今,美国和加拿大鸟类数量已减少 29%,约 29 亿只鸟类从北美大陆消失。从栖息地来看,草原鸟类数量下降 53%,减少数量超过 7.2 亿只;生活在海岸栖息地的鸟类数量下降超过 30%,春季迁徙的鸟类数量下降约 14%。这项研究表明,美国和加拿大的生态系统正受到人类活动的严重影响,以至于无法支持像原来那样强健的野生动物种群。说明近 50 年来 29 亿只鸟类从北美大陆消失的人为原因。

请考生在第45、46、47三道历史题中任选一题作答,并用2B铅笔将答题卡上所选题目对应的题号右侧方格涂黑,按所涂题号进行评分;多涂、多答,按所涂的首题进行评分;不涂,按本选考题的首题进行评分。

## 45.【历史上重大改革回眸】(15分)

材料 20世纪二三十年代,乡村建设发展为一种社会运动。各试验区(县)“为了增加农民的收入,间接提高其生活程度”,采取一系列改良农业的举措:改良和推广优良品种,提防病虫害,提倡副业等。定县、邹平、无锡等试验区(县)推广的各类优良品种,都比土种有程度不等的增产和增收。但也有学者指出运动中:“乡村工作者很少是农业专门人才,没有改良农业的经验和知识,他们只知道改良农业的重要,而对于农业如何改良知之甚少”;“一些乡建团体以为优良种子推广以后,农业即可改良,而对于耕种方法是否合理,经营方法是否有利,则漠不关心”;“不少试验区未能根据实际需要,只知道抄袭他人”;“未使农民自动改良农业”。尽管不少试验区把改良农业作为乡村建设的一项重要内容,但取得的实效很不理想。

——摘编自王建朗、莫克武《两岸新编中国近代史》

- (1)根据材料并结合所学知识,概括20世纪二三十年代农业改良运动兴起的背景。(6分)
- (2)根据材料并结合所学知识,简析20世纪二三十年代农业改良运动“实效很不理想”的原因。(9分)

## 46.【20世纪的战争与和平】(15分)

材料 艾森豪威尔不打算拖延谈判,以便给已经十分厌战的美国民众一个交代。美国人也没有忘记中苏依然是盟国。艾森豪威尔唯一真正担心的是,苏联可能会干涉。1952年12月,国际红十字会提出一项交换伤病战俘的建议,为其恢复停战谈判提供了契机。1953年2月22日,“联合国军”总司令克拉克致函中朝方面,建议在战争期间先行交换伤病战俘。斯大林去世后,苏联新领导人决定在战俘问题上对美作出让步。毛泽东也已为停战谈判前景做好两手准备:争取和,准备拖,而军队方面则应作拖的打算,只管打,不管谈。5月18日,美国修正后的战俘解决方案和中朝方案几乎没有了实质性差别。6月8日,双方代表签订了《中立国遣返委员会的职权范围》。至此,唯一阻碍停战达成协议的战俘遣返问题获得解决。7月27日,《朝鲜停战协定》签订。

——摘编自邓峰《艾森豪威尔政府结束朝鲜停战谈判的政策论析》

- (1)根据材料并结合所学知识,分析《朝鲜停战协定》得以签订的原因。(8分)
- (2)根据材料并结合所学知识,概括中国促成《朝鲜停战协定》签订的历史经验。(7分)

## 47.【中外历史人物评说】(15分)

材料 东汉张仲景著《伤寒杂病论》，虽经晋代王叔和编纂整理，但之后出现了数百年的沉寂。宋太祖时，荆南节度使进献《伤寒论》，为校正医书局校定《伤寒论》提供了可靠底本。“杂病”部分，被翰林学士王洙发现于翰林院书库，经重子编校，定名为《金匱要略》。《伤寒论》和《金匱要略》一经刻印推出，成为宋代医学核心学说，医家对此都有很深的研学，中医学的“伤寒学派”自此得到确立。宋代医家成无己在《伤寒明理论》中说：“唯张仲景方一部，最为众方之祖……实乃大圣之所作也。”张仲景以身体健康、生命和谐为根本的中医思想，和孔子以人性为根本，以社会和谐、天下大同为目的儒家思想，共同成为中国传统文化的母体。

——摘编自张兼伟《仲景学说核心地位在宋代的确立》

- (1)根据材料并结合所学知识，概括张仲景医学理论“成为宋代医学核心学说”的原因。(9分)  
(2)根据材料并结合所学知识，说明张仲景医学理论“成为宋代医学核心学说”的影响。(6分)

## 关于我们

自主招生在线是致力于提供新高考生涯规划、强基计划、综合评价、三位一体、学科竞赛等政策资讯的升学服务平台。总部坐落于北京，旗下拥有网站(<http://www.zizzs.com/>)和微信公众平台等媒体矩阵，用户群体涵盖全国90%以上的重点中学师生及家长，在全国新高考、自主选拔领域首屈一指。

如需第一时间获取相关资讯及备考指南，请关注**自主招生在线**官方微信号：**zizzsw**。



微信搜一搜

 自主选拔在线