

江苏省新高考基地学校2023届高三重点热点诊断测试

历史

注意事项

考生在答题前请认真阅读本注意事项及各题答题要求

1. 本试卷共6页，包含单项选择题（第1题~第16题，共16题）、非选择题（第17题~第20题，共4题）两部分。本次考试满分为100分，考试时间为75分钟。

2. 答题前，请务必将自己的姓名、考试号等用黑色字迹的0.5毫米签字笔填写在答题卡上。

3. 请认真核对答题卡表头规定填写或填涂的项目是否准确。

4. 作答非选择题必须用书写黑色字迹的0.5毫米签字笔写在答题卡上的指定位置，在其它位置作答一律无效。作答选择题必须用2B铅笔把答题卡上对应题目的答案标号涂黑。如需改动，请用橡皮擦干净后，再选涂其它答案。

一、选择题：本大题共16题，每题3分，共计48分。在每题列出的四个选项中，只有一项最符合题目要求。

1. 1995年，新疆尼雅遗址发现一处东汉夫妻合葬墓，男性墓主右臂绑有“五星出东方利中国”锦护臂，和弓箭、箭箠、短剑鞘等物品放置一起。这可以佐证

- A. 中原与西域的交通往来
- B. 阴阳五行学说开始流传
- C. 丝绸之路始终动荡不安
- D. 西域织锦技术赶超内地

2. 两税法规定：“不居处而行商者，在所州县税三十之一，度所取与居者均，使无饶利。”这表明，唐后期的税收政策

- A. 简化税收名目
- B. 固守重农抑商传统
- C. 重视货币税收
- D. 正视工商业的存在

3. 苻坚即位后，采纳王猛重礼尊法的主张，重用汉人儒生，兴办学校，各级官员子弟也要学习儒术。苻坚不遗余力地推广儒家文化

- A. 昭示其承续中原王朝正统
- B. 促进了南北统一
- C. 刺激了北方少数民族内迁
- D. 巩固了统治基础

4. 表1为北宋若干时期江南与全国农村劳动力的变动情况（单位：户、人）。对此解读正确的是

表1

时间	江南地区		全国		江南地区农村劳动力占全国农村劳动力比重（%）
	户数	农村劳动力人数	户数	农村劳动力人数	
980年	349283	890672	6418500	16367175	5.4%
1078年	1120331	2856844	16603954	42340082	6.7%
1102年	1265762	3227693	18113945	46190560	6.9%

A. 个体农耕规模扩大

B. 宋代经济重心南移进程已完成

C. 土地兼并日益严重

D. 劳动力增长支撑江南经济发展

5. 正式绘制于康熙年间的《皇舆全览图》是我国全国性实测地图的开端，这份地图不仅是当时亚洲最好的地图，也是全世界最好的一份地图。这反映了

A. 边疆危机日趋严重

B. 近代地理学处于世界领先地位

C. 国家组织力量强大

D. 西学东渐推动欧洲测绘技术普及

6. 有学者认为，没有太平天国对清朝腐朽权贵势力的打击以及与洋人共同镇压太平军的合作，清政府不会有学习西方物质文化的迫切愿望和行动。最能佐证该观点的是

A. 向西方学习思潮的萌发

B. 中外反动势力的勾结

C. 清廷权力结构发生变化

D. 洋务新政的逐步兴起

7. 清末的维新派人士提出“中国积弱使然，亦以未列公法之故；又无深谙公法之人，据理与争。故遇有交涉事件，往往受屈于西人而未如何。”这表明，维新派部分人士主张

A. 废除不平等条约体系

B. 运用国际法维护主权

C. 建立近代化外交机构

D. 维护传统的宗藩关系

8. 图1为1939年7月7日《新华日报》发表的宣传画。其创作主旨在于

A. 承继国民革命传统

B. 弘扬民族抗战精神

C. 奏响战略反攻的号角

D. 反击国民党反共高潮

9. 1974年2月22日，毛泽东指出：“我看美国、苏联是第一世界。

中间派，日本、欧洲、澳大利亚、加拿大，是第二世界。咱们是

第三世界。”“一带一路”倡议和毛泽东三个世界理论的基本共同点在于

A. 求同存异的指导思想

B. 强调国际统一战线

C. 立足人类命运共同体

D. 凸显意识形态斗争



图 1

10. 图2为《1992~2012年某县GDP增长示意图》，该县促进地区经济在本世纪实现快速增长的主要举措中，最有可能的是

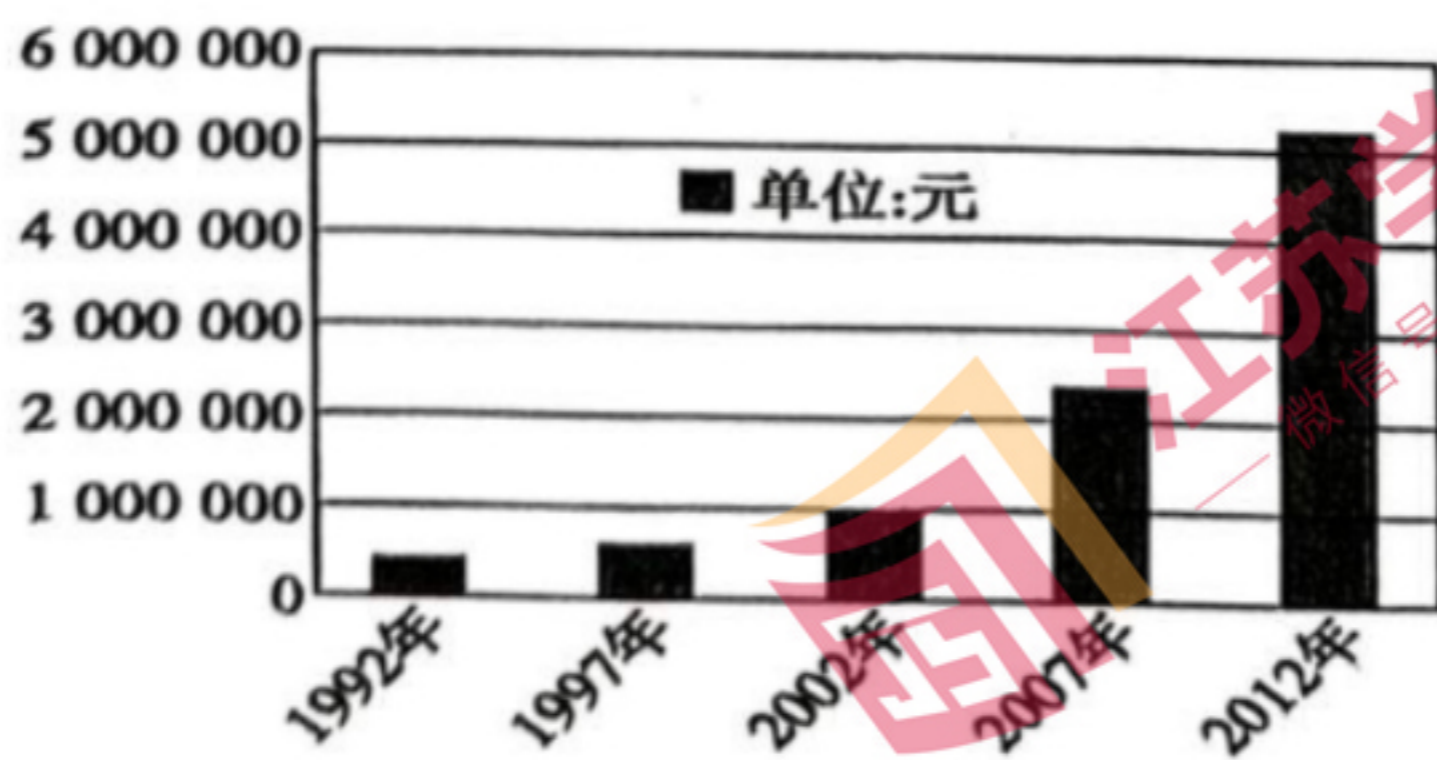


图2

- A. 深层次参与经济全球化
- B. 推进重点领域的改革开放
- C. 率先建立市场经济体制
- D. 大力发展农村的乡镇企业

11. 罗马共和国时期，执政官每逢要事必与元老院协商，听取意见。执政官根据咨询结果对法律草案进行修改，然后提交公民大会投票通过。元老院还对执政官职权的分配实行有效的控制。多数情况下，元老院的建议左右了执政官实施权力的领域。这主要反映出当时罗马

- A. 公民大会难以有效发挥作用
- B. 共和政体不适应社会发展需要
- C. 元老院的政治影响力比较大
- D. 权力机构的职责分工尚需明确

12. 理查德·普莱斯是一名不信奉国教的牧师。他认为他所处的时代是“日趋光明”的时代，“改良的步伐永不停歇，直到它铲除地球上多数最严重的灾祸”。据此可知，英国启蒙运动

- A. 推崇独立思考
- B. 受制于宗教纠纷
- C. 强调社会进步
- D. 根源于议会改革

13. 钟表、车间和机器创造了新的劳动节奏，从前习惯于做农活的工人很快明白季节、日出日落和气候波动不再决定劳动日程了，每天要工作13至14小时，步伐须紧跟上机器的单调运转，打个盹或是和同伴说句话都不行。这一变化

- A. 有利于优化手工工场的管理
- B. 反映人类劳作方式的重大变革
- C. 表明传统的农业已不复存在
- D. 导致人们逐渐摆脱了体力劳动

14. “一是它首次为印度各地的人们提供了一种共同的语言和一种共同的文化背景；二是不可避免地使印度产生政治上的自觉性和自治要求，一批受过西方教育的人，利用欧洲的思想意识攻击英国的统治，并组织了一个民族主义运动。”该论述的主题是，英国殖民侵略

- A. 客观上促进文化重构
- B. 建设性远大于破坏性
- C. 有利于民族独立运动
- D. 推动东西方文化交流

15. 有学者提出，2月的彼得格勒出现了少有的严寒，交通瘫痪加剧粮食短缺。起初因为严寒，居民鲜少出门。

22日，气温骤升到8℃，民众走上大街享受阳光，人群的聚集使面包供应短缺成为群情激愤的导火索，由此引发二月革命。该学者的研究

- A. 过度强调了自然因素
- C. 注重具体分析与阐释

- B. 忽视了历史偶然性
- D. 滑向了历史唯心论

16. 20世纪六七十年代，美国学生成为国内反战运动的先锋，甚至一些参加过越战的老兵也加入到反战行列中。美国在20世纪60年代初那种全国团结一致、信心爆棚的局面一去不复返了。这表明

- A. 国家干预无助于社会矛盾的缓解
- C. 古巴导弹危机重挫美国民众信心

- B. 越南战争改变了冷战格局
- D. 过度扩张加剧了社会分裂

二、非选择题：共4题，计52分。其中第17题12分，第18题12分，第19题16分，第20题12分。

17. (12分) 阅读材料，完成下列要求。

材料一 明英宗在御史的选用上过于重视“进士出身”，御史缺乏必要的政治历练而且缺额现象严重，统治者为此频频发出御史“未尽得人”的感叹。监察御史张鹏等合章纠劾权臣石亨、宦官曹吉祥的不法行为，“上怒，命收鹏及瑄及十三道御史悉下锦衣卫狱，究主使之者……并执鞫（审问）之。”时人常感叹：“今此职不举，故大臣无忌惮，朝多贪墨，如之何民不穷且盗也？”。

——摘编自刘祥学《耳目之坏：从御史选用制度的演化看明代政治走向》

材料二 苏维埃区域内形成了一个完全有别于中国古代封建帝王御用监察机构的独特监察系统，其监察机构虽也拥有一定的科层组织架构，但更加注重从工农群众中吸纳积极分子参与监察活动，工农群众的监察权利受到法律法规的保障。

——摘编自谢建平《中华苏维埃共和国监察制度研究》

- (1) 据材料一并结合所学知识，分析明代监察制度的缺陷，指出其对明代政治的影响。(6分)
- (2) 据材料二并结合所学知识，概括苏区监察制度的特点，并分析苏区监察制度的实践意义。(6分)

18. (12分) 阅读材料，完成下列要求。

材料一

部分中小型出版社出版的马恩经典著作信息

书名	编译	出版机构	出版时间、价格
----	----	------	---------

哲学之贫困	杜竹君	水沫书店	1929年10月初版
宗教·哲学·社会主义	林超真	沪滨书局	1929年10月初版，实价大洋6角半
费尔巴哈论	彭嘉生	南强书局	1929年12月初版
资本论第一卷 第一分册	陈启修	昆仑书店	1930年3月初版，精装道林纸银2元，平装瑞典纸银1.5元。
自由贸易问题	邹钟隐	上海联合书店	1930年8月初版，实价4角
反杜林论	吴亮平	江南书店	1930年11月初版
政治经济学批判	郭沫若	神州国光社	1931年12月初版，实价大洋1元
机械的唯物论 批判	杨东莼、宁敦伍	昆仑书店	1932年5月初版，实价1元
自然辩证法	杜畏之	神州国光社	1932年初版

材料二 中国大革命之后，思想界、学术界对中国革命的反思与展望，以及中国社会性质大讨论的兴起，在社会上营造了一种理解马克思主义、运用马克思主义的氛围。中小型出版社致力于马克思主义著作的出版，与彼时的出版产业生态关系密切。社会需要反映到出版行业，意味着马克思主义著作具有一定的市场前景。大出版社放弃的出版选题，成为了中小出版社可能有作为的场所。

-摘编自张国伟《思想、文化与市场》

- (1) 据材料一，概括指出当时马克思主义著作出版的特点。(5分)
- (2) 据材料二并结合所学知识，说明中小型出版社致力于马克思主义著作出版的背景和意义。(7分)

19. (16分) 阅读材料，完成下列要求。

材料一 北京市从和平解放之日起就开始着手农业生产的恢复工作，建立了生产救灾办公室。1950年11月，北京市委提出畜力、农具互助合作之外，应“试办土地入股合作社”的设想，年底发动爱国增产运动。1952年，北京市召开第一届农业劳动模范大会。在推广农业信贷措施的同时，北京市还结合农贷大力开展农业保

险业务，率先确定了先普遍推行牲口保险，重点试办棉花保险的方针。

——摘编自范明《新中国初期北京市农业政策述评》

材料二

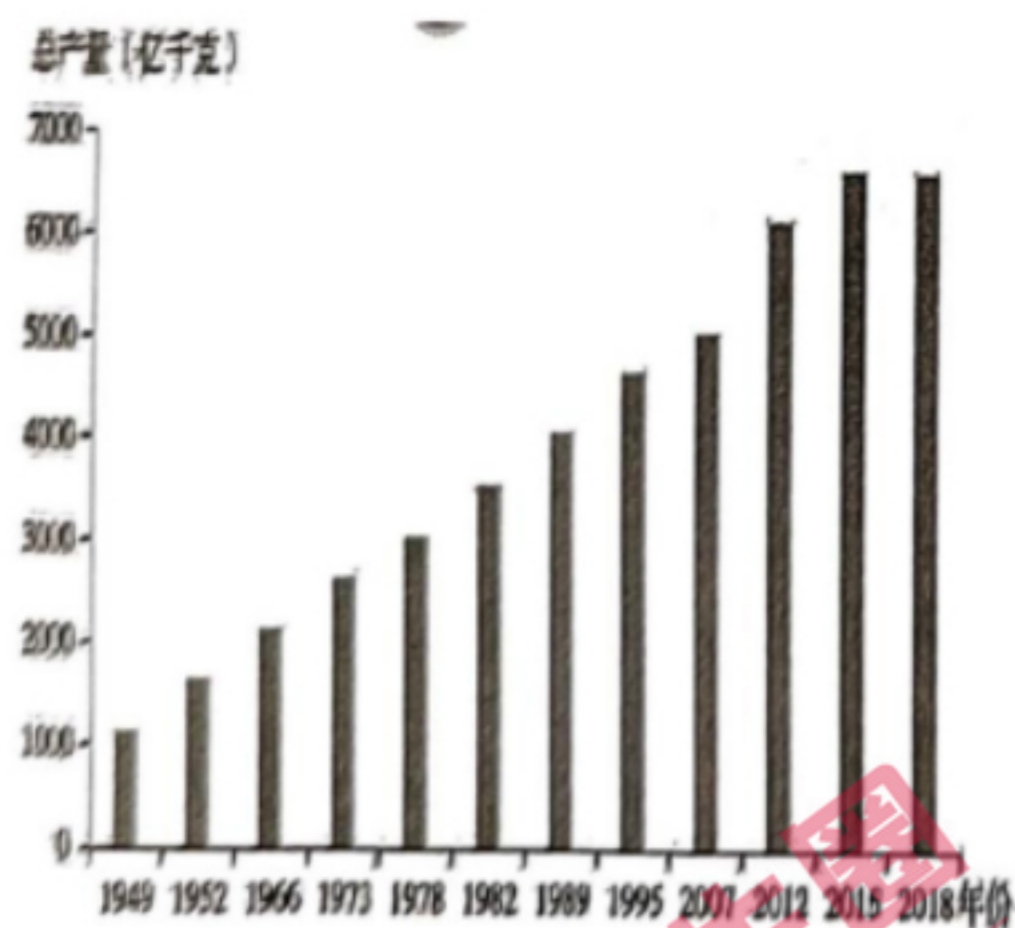


图3 1949—2018年全国粮食总产变化

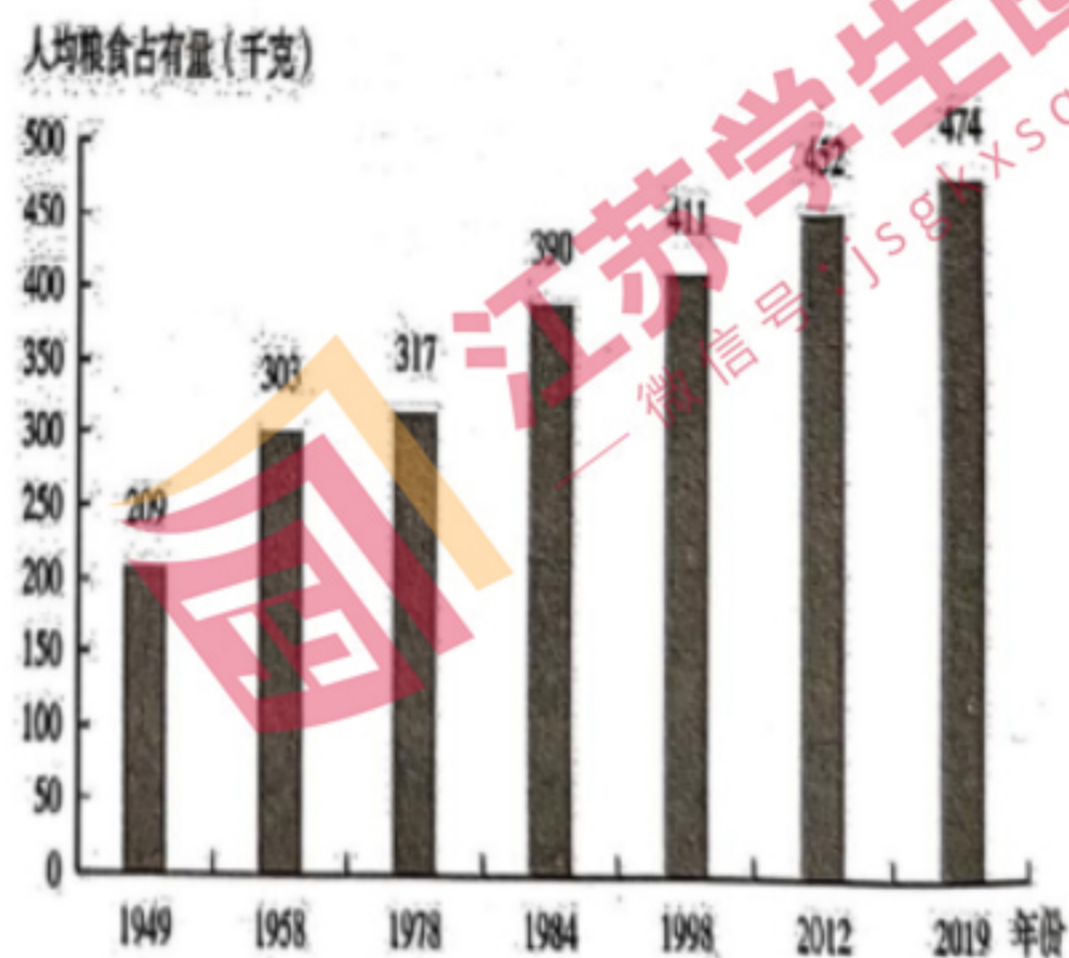


图4 1949—2019 中国人均粮食占有量

——据王宏广等《中国粮食安全：战略与对策》

(1) 据材料一，概括指出过渡时期北京市农业政策的内容。(8分)

(2) 据材料并结合所学知识，说明改革开放时期我国粮食安全方面所取得的主要成就及其原因。(8分)

20. (12分) 阅读材料，完成下列要求。



图5 环大西洋革命

——据（日）宫崎正胜《世界史就是一部货币史》

图5反映了18世纪末19世纪初，大西洋两岸革命浪潮此起彼伏，构成了一个“大西洋革命”时代。综合材料信息，依据相互关联的重大事件，拟定一个论题，并结合世界史知识加以论述。（要求：明确写出论题，持论有据，表述清晰。）

