

机密★启用前 【考试时间：4月26日 9:00—11:30】
 昆明市第一中学郑重声明：严禁提前考试、发放及网络传播试卷，违反此规定者取消其联考资格，并追究经济 and 法律责任；对于首位举报者，经核实奖励2000元。举报电话：0871-65325731

昆明市第一中学2023届高中新课标高三第九次考前适应性训练 文科综合试卷

命题人：沈洪健 王国利 张福松 谭毅 金雯莉 张旭 何钰婷 唐英铭 夏仁贵 税光华
 胡新荣 罗凯

审题人：昆一中高三年级文科综合命题组

本试卷分选择题和非选择题两部分。满分300分，考试时间150分钟。

注意事项：

- 答题前，考生务必用黑色碳素笔将自己的姓名、准考证号、考场号、座位号在答题卡上填写清楚，并请认真填涂准考证号。
- 每小题选出答案后，用2B铅笔把答题卡上对应题目的答案标号涂黑。如需改动，用橡皮擦擦干净后，再选涂其他答案标号。答在试卷上的答案无效。

一、选择题：本题共35个小题，每小题4分，共140分，在每小题给出的四个选项中，只有一项是符合题目要求的。

珠三角产业演化呈现从低附加值的劳动密集型、污染型产业向高附加值的技术或知识密集型、资本密集型产业升级的规律。广州、深圳等经济发达城市的核心地带吸引更多高附加值的企业进入，而东莞、佛山、江门等专业镇转型地带和后方地区的低附加值企业发生退出，珠三角企业演替热点区分布在广州、佛山、肇庆等城市发展成熟的旧城区。据此完成1~3题。

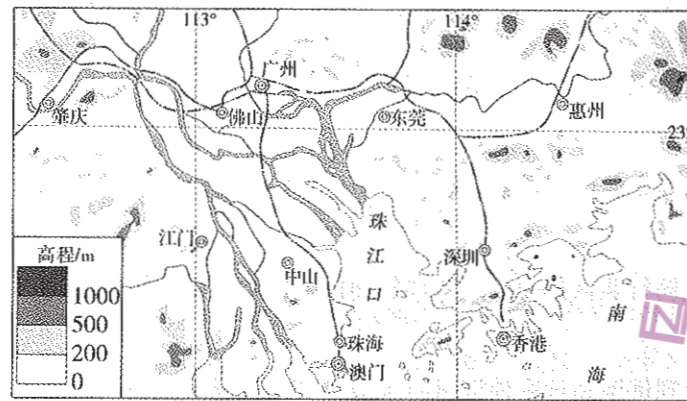


图1

- 珠三角地区形成初步产业结构基础的首要原因是
 A. 位置优越 B. 农业发达 C. 交通便捷 D. 政策制度
- 广州、佛山等城市发展成熟的旧城区，其传统产业更新后的企业门类可能有
 ①金融保险 ②服装印染 ③食品饮料 ④网络科技
 A. ①③ B. ①④ C. ②③ D. ②④
- 广州、佛山的中心城区成为企业演替热点区，是因为其
 A. 发展历史较早 B. 市场潜力巨大 C. 基础设施完善 D. 环境风光优美

某地理研究小组从某网站上下载相关数据，制作了2019年我国某区域四种土地利用类型分布图(图2)。据此完成4~5题。

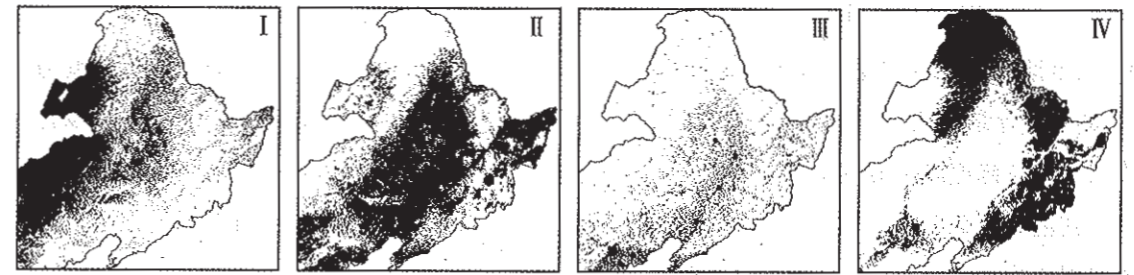


图2

- 产生I与IV、II与IV土地利用类型差异的影响因素分别是
 A. 热量、地形 B. 地形、降水 C. 热量、降水 D. 降水、地形
- 针对不同土地利用类型，利于生态保护的人类活动是
 A. I——土地深耕 B. II——饲舍养殖 C. III——节约用水 D. IV——采育结合

读某大洋局部区域海平面风向、风力状况图(图3)，完成6~8题。

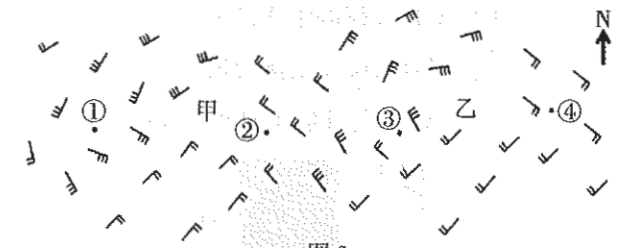


图3

- 据图可知，该海域
 A. 位于北半球 B. 位于南半球 C. 跨越赤道 D. 可能位于北半球，也可能位于南半球
- 一般而言，甲地比乙地
 A. 海平面高 B. 气压高 C. 昼夜温差小 D. 风力小
- 图中最易有阴雨天气的是
 A. ①② B. ①④ C. ②③ D. ③④

金沙江谷地b处曾多次发生较大规模的山体滑坡，形成堰塞坝体，并在其上游龙川江谷地形成湖泊。后因湖水外泄，湖泊逐渐消失。图4为龙川江谷地及其附近地形水系图，图5为图4中a处河流阶地示意图， T_1 、 T_2 为不同的河流阶地，这两个阶地深度(某阶地底部到上一阶地底部的垂直距离)差异较大。读图完成9~11题。

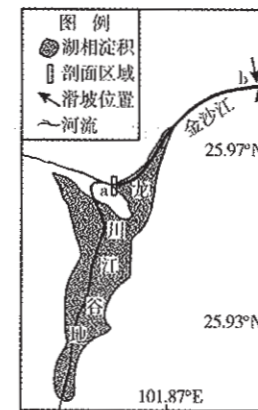


图4

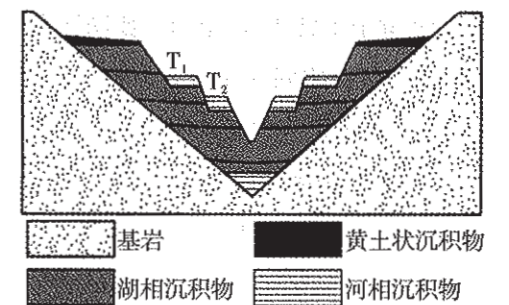
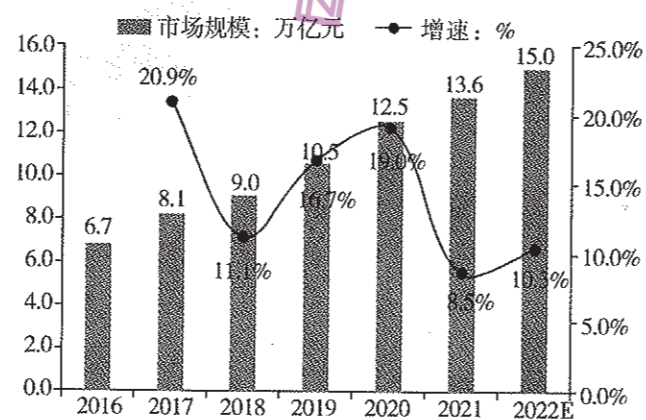


图5

- 出现黄土状沉积物后，形成 T_1 阶地的地质作用过程是
 A. 河水下切、河水侧侵、流水沉积 B. 河水侧侵、河水下切、流水沉积
 C. 河水下切、河水侧侵、风力沉积 D. 流水沉积、风力沉积、河水下切

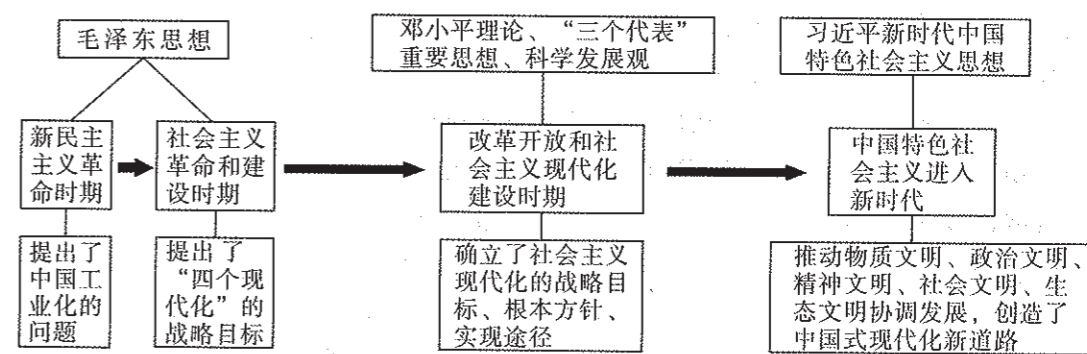
10. 造成 T_1 、 T_2 阶地深度差异较大的主要影响因素是
- A. 龙川江河水流量
B. 堰塞坝体垮塌幅度
C. 湖相沉积物厚度
D. 下游山体滑坡规模
11. 龙川江谷地形成多个河流阶地是因为
- A. 地壳多次发生沉降
B. 湖相沉积物不断增多
C. 堰塞坝体多次垮塌
D. 龙川江地壳不断下沉
12. 2023 年是马克思诞辰 205 周年。恩格斯在《马克思墓前的讲话》中，对马克思对人类的贡献概括之一“科学是一种在历史上起推动作用的、革命的力量。”习近平强调“马克思主义是我们立党立国的根本指导思想，是我们党的灵魂和旗帜。”马克思对人类的贡献有
- ①为我国未来发展规划蓝图和道路
②发现了人类历史发展的一般规律
③是人类社会发展进步的根本动力
④揭示了资本主义运动的特殊规律
- A. ①②
B. ②④
C. ①③
D. ③④
13. 我国加入《全面与进步跨太平洋伙伴关系协定》(CPTPP) 和《数字经济伙伴关系协定》(DEPA) 两年来，以高标准的数字贸易规则为抓手，加快推进制度型开放，积极争取数字贸易治理的国际话语权，经贸合作规则标准不断升级。我国将继续推动各国各方共享制度型开放机遇，稳步扩大规则、规制、管理、标准等制度型开放。材料说明
- A. 改革是当代中国发展进步的鲜明标识
B. 改革开放是提高我国综合国力的关键一招
C. 开放促进改革，制度型开放促进深层次改革
D. 共享制度型开放机遇，建成了高水平开放型经济
14. 2023 年 3 月 6 日的全国“两会”期间，习近平总书记看望参加全国政协会议的民建工商联界委员时强调，始终把民营企业和民营企业家当作自己人，要引导民营企业和民营企业家正确理解党中央方针政策，增强信心、轻装上阵、大胆发展，实现民营经济健康发展、高质量发展。我国关心和支持民营经济发展是基于
- ①民营经济是社会主义经济的重要组成部分
②民营经济与中国式现代化建设的重要力量
③民营经济是社会主义市场经济的重要组成部分
④民营经济对科技创新和就业具有积极作用
- A. ①②
B. ②④
C. ①③
D. ③④

15. 右图是 2017—2022 年中国跨境电商市场规模趋势图。由图可知，近五年
- ①我国跨境电商市场规模和增速同比逐年增长
②境外民众对我国线上消费不断增加
③我国对外经济结构逐年优化
④受疫情影响，我国跨境电商市场增速环比先降后增
- A. ①②
B. ①③
C. ②④
D. ③④




16. 中国共产党成功探索出中国式现代化新道路:

“中国式现代化”的历史演进




由此可知，中国共产党

- ①坚持用马克思主义中国化的成果指导中国式现代化建设
②始终牢记坚持人民至上的初心使命，带领人民赓续奋斗
③不断加强党的先进性建设，增强执政本领、提高执政能力
④确立不同阶段现代化的目标和任务，笃行不怠，奋楫争先
- A. ①④
B. ①②
C. ②③
D. ③④
17. 习近平总书记在党的二十大报告中，深刻阐述了新时代党的民族工作的历史方位，强调以铸牢中华民族共同体意识为主线，坚定不移走中国特色解决民族问题的正确道路。铸牢中华民族共同体意识应该
- ①发挥一府两院基层政权组织的作用，增强中华民族的凝聚力
②顺应中华民族发展历史大势，坚持和完善民族区域自治制度
③逐步消除各民族间的发展差距，实现各民族共同繁荣
④坚持我国多元一体的民族格局，铸牢民族共同体意识
- A. ①②
B. ③④
C. ②④
D. ①③
18. “踔厉奋发新征程，勇毅前行向复兴”成为 2023 年 3 月全国“两会”代表委员热议话题。踔厉奋发激励全党和全国人民，为全面建设社会主义现代化国家、全面推进中华民族伟大复兴而团结奋斗。与“踔厉奋发”蕴含最相近哲理的古代名句是
- A. 信步林中听细雨，立身桥上望轻纱
B. 纸上得来终觉浅，绝知此事要躬行
C. 今日听君歌一曲，暂凭杯酒长精神
D. 长风破浪会有时，直挂云帆济沧海
19. 生活处处有哲学。漫画《攀登》蕴含的哲理有
- A. 正确发挥主观能动性是转变思路的前提
B. 把握人为联系的普遍性，有利于攀登高峰
C. 发展的状态是前进性和曲折性的统一
D. 矛盾双方在一定条件下可以相互转化



20. 2023年3月13日，十四届全国人大一次会议表决通过的《政府工作报告》中强调，中国特色大国外交全面推进，积极拓展全球伙伴关系，致力于建设开放型世界经济，维护多边主义，推动构建人类命运共同体。我国致力于建设开放型世界经济
- ①顺应并促进经济全球化发展，符合世界各国的发展利益
 ②敢于斗争、善于斗争，维护我国主权、安全和发展利益
 ③积极拓展全球伙伴关系，发挥我国在全球中的主导作用
 ④发挥联合国多边主义场所和应对威胁挑战有效平台作用
- A. ①② B. ③④ C. ①③ D. ②④

21. 今年以来，中国连续抛售美债累计高达4467亿，美国拉响债务违约警报。2023年2月12日，美国财长耶伦，再次发出如果美国国会不尽快通过提高债务上限的法案，美国可能面临信誉破产和金融灾难的警告。但由于目前美国众议院由共和党掌控，而政府是民主党的拜登政府，双方党派斗争(右图)，影响到了国会提高债务上限法案的表决。材料说明
- A. 债务违约问题是当前中美关系中最重要最敏感的核心问题
 B. 资本主义国家的政党都以参加选举、掌握政权为主要目标
 C. “驴象斗争”不会改变维护资产阶级根本利益和政治统治
 D. 美国财政部长由议会选举产生，对议会负责受议会监督



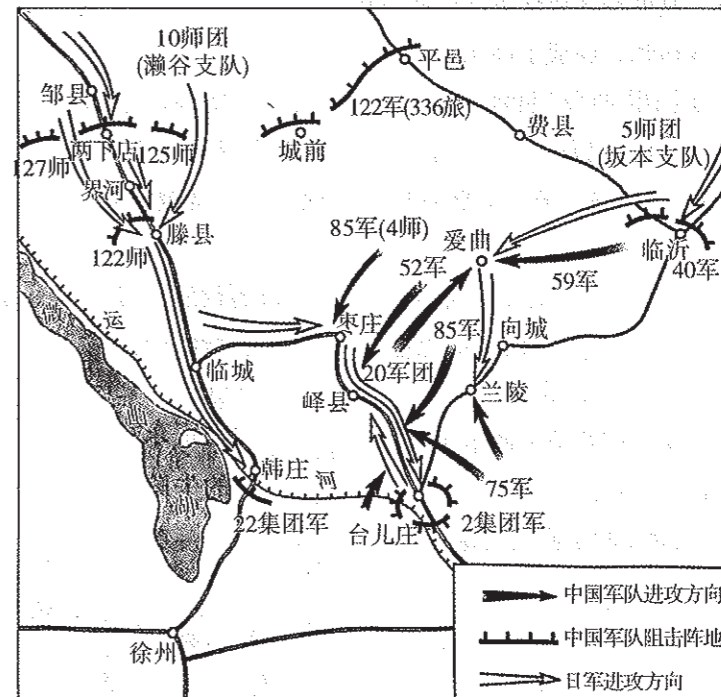
22. 吉祥物“拉伊卜”在2022年卡塔尔世界杯开幕式上亮相，备受球迷和网友的欢迎。W服装公司在未获注册商标公司授权的前提下，大量产销印有“拉伊卜”图案的产品。2023年3月15日，吉祥物拉伊卜中国授权方将该公司诉至法院，要求其承担相应的法律责任。假设你是该案的法官，你的判决结果是
- ①要求W公司停止产销仿冒产品，给予授权公司一定的经济赔偿
 ②在“拉伊卜”图案20年的有效期内，未经许可不得冒用营利
 ③要求W公司必须承担侵犯“拉伊卜”权利人专利权的法律责任
 ④要求W公司召回流入市场的仿冒产品，承担消费者一定经济损失
- A. ①② B. ③④ C. ②③ D. ①④



23. 习近平总书记在二十大报告中指出：“中国式现代化是人口规模巨大的现代化，是全体人民共同富裕的现代化，是物质文明和精神文明相协调的现代化，是人与自然和谐共生的现代化，是走和平发展道路的现代化。”这一表述
- ①属于全称肯定判断 ②每一个联言支的谓项都是不周延的
 ③蕴含思维运行方式的推导性和思维表达的严谨性 ④正确认识了事物发展过程中的整体性与飞跃性
- A. ②③ B. ①③ C. ①④ D. ②④

24. 《庄子·天下》说：“《诗》以道志，《书》以道事，《礼》以道行，《乐》以道和，《易》以道阴阳，《春秋》以道名分。其数散于天下而设于中国者，百家之学时或称而道之。”这
- A. 促进了政治统一 B. 维系了“学在官府”的局面
 C. 冲击了贵族政治 D. 导致了各诸侯国之间的矛盾

25. 周亚夫为丞相时，窦太后催促汉景帝封王皇后兄王信为列侯，景帝曰：“请与丞相计之。”亚夫曰：“高帝约，非刘氏不得王，非有功不得侯，不如约，天下共击之。”皇帝默然而止。这体现了当时
- A. 王国问题严重 B. 皇帝权力的有限性
 C. 外朝权力扩大 D. 中央集权逐步强化
26. 唐代炼丹术步入黄金时代，凡帝王将相、文人骚客、宦官布衣等与丹灶之事有关者比比皆是，所用药物仅金石类即多达一百余种，甚至还向全世界求购。这可以用来说明唐代
- A. 社会思想的多元化 B. 火药发明的必然性
 C. 社会生活的平等化 D. 对外贸易的重要性
27. 清朝前期，借贷利息官方规定是“月息三分”，年息则为36%，实际借贷过程中经常高于此数。欧洲大体同一时期的借贷利息在15%以下，有的甚至为百分之六七。这一差别
- A. 推动了经济结构的变动 B. 限制了中国工业化转型
 C. 提高农业的商品化程度 D. 决定了鸦片战争的结局
28. 19世纪70年代后，李鸿章认为“必先富而后能强，尤必富在民生而国本乃可益固”。自通商以来，洋货充斥，利权大量外溢，中国既不能禁洋货不来，又不能禁民间不用，不若“亦设机器自为制造，轮船铁路自为转运”。这一认识
- A. 促进了民族意识的觉醒 B. 修改了“中体西用”思想
 C. 推动洋务运动深入开展 D. 诱导了民族工业迅速发展
29. 下图是中国某一时期的战役示意图。



- 上图所示的战役
- A. 是中国抗战以来取得的首次大捷 B. 打破了日军三个月灭亡中国计划
 C. 有力打击了日军侵略的嚣张气焰 D. 标志着国民党主力基本上被消灭

30. 有学者指出,事实上,随着统一、同一的古代地中海世界崩塌裂变,位于西北部的西方经历了日耳曼—拉丁化,东北部地区经历了东方希腊化,而西部、南部和东南部地区则完成了伊斯兰化,分别形成了西方文明、东正教文明和伊斯兰文明。这可用于说明

- A. 战争推动了地域文化的形成
B. 人口的大规模迁徙影响了文化的重构
C. 文明差异是政治分裂的原因
D. 西方文明并非古典文明的唯一继承者

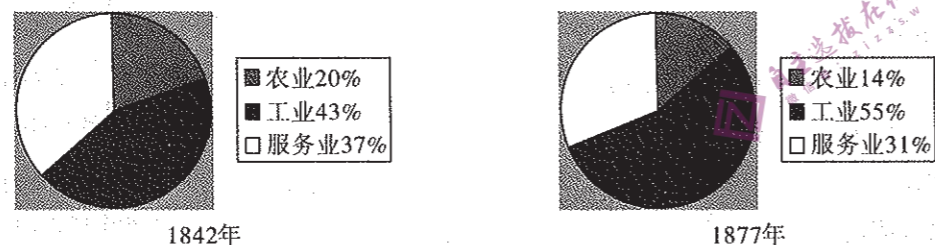
31. 欧洲尼德兰修道院的施主们曾将位于法兰西或者莱茵河和摩泽河沿岸的葡萄园,捐赠给修道院生产供其消费的葡萄酒,从13世纪起,修道院出卖这些产业,因为已经没有用途,以后经营及维修的费用比收益还要高。这种状况出现的主要原因在于

- A. 庄园农奴制度的破产
B. 商业及城市经济恢复
C. 教会与王权斗争激烈
D. 农奴已获得人身自由

32. 我们的权利是谁给的?法国思想家卢梭的答案是天赋的;英国思想家柏克的答案是人赋的,不是天生的,是人类历代智慧的结晶所赋予的。人权的观念就是这样滋育的和成长的。在柏克的眼中这是神圣的,所以我们应向它那里去寻求指导。柏克意在强调

- A. 历史传统是人权的组成部分
B. 法国政治启蒙具有历史局限
C. 个体权利应从属于集体价值
D. 主权在民不符合英国的国情

33. 下面为英国就业人口结构的变化统计图。



上图中服务业比例的变化说明

- A. 社会阶级结构发生重大变化
B. 工业化推动城市化进程加快
C. 重工业的一体化特征更明显
D. 经济地理格局正在发生转移

34. 19世纪末到20世纪初,德国社会所有阶级之间存在着一种日益增长的相互依赖性,而工人阶级与资产阶级之间存在着一种持久的紧张性,这两者本身又具有一种同时性。在这种局势中,通过对“民族感情”和“忠诚”的呼唤,德意志民族主义得到强化。这主要是因为

- A. 德国积极进行对外扩张
B. 战争同盟集团已然形成
C. 德国工业经济发展迅速
D. 马克思主义的广泛传播

35. 《尼克松回忆录》中写到:“12月22日晚,肯尼迪总统(1961—1963)在一次十分引人注目的电视演讲中宣称,苏联已把中程核导弹运进了古巴。他宣称美国海军封锁古巴,并要求苏联立即拆除并撤走导弹。全世界都紧张地注视着赫鲁晓夫对这一直接挑战所作出的反应。”由材料可知

- A. 世界时刻面临热核战争威胁
B. 美国在美苏争霸中处于攻势
C. 美苏冷战出现严重正面对峙
D. 地缘政治的核心已转至美洲

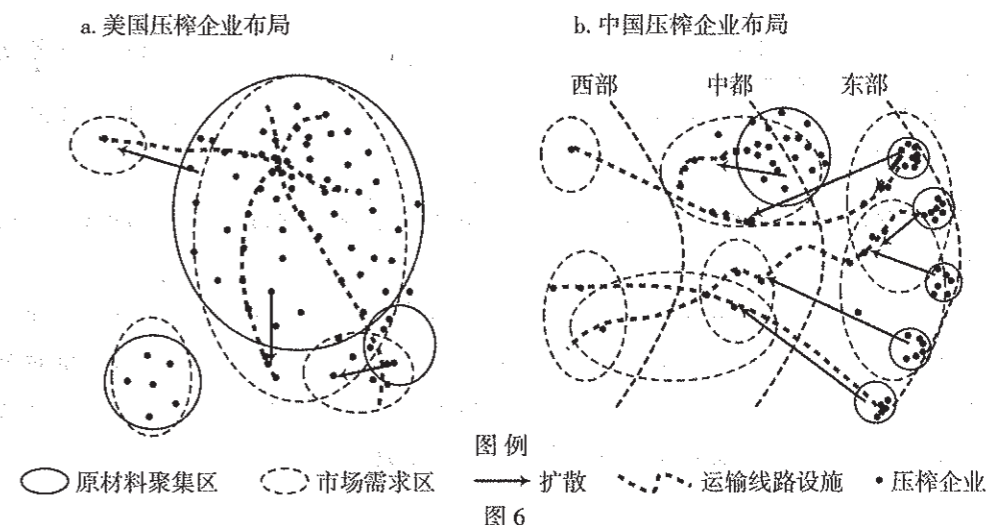
二、非选择题:本题共9小题,共160分。

36. 阅读图文材料,完成下列要求。(28分)

大豆压榨行业是大豆产业链上的重要环节,美国大豆压榨企业布局与其国内畜牧业和饲料业布局的重合度非常高。美国玉米带地区既是美国大豆主要的种植区域也是重要的生猪养殖区,大豆压榨企业产销同区现象突出。

我国大豆压榨企业主要集中在东部沿海,而四川、河南、湖南等内陆养殖大省豆粕市场需求大。近些年,随着国家环境保护而限制沿海省份畜禽养殖发展,加之集聚不经济的影响,大豆压榨企业逐渐从沿海地区向内陆豆粕需求区扩散。目前,黑龙江省有企业到俄罗斯远东地区进行大豆生产投资,但收获的大豆大多直接回运为主,很少在俄罗斯本地销售。

图6中a、b示意美国、中国大豆压榨企业布局情况。



(1) 分别指出美国和中国大豆压榨企业的空间布局特点。(8分)

(2) 指出美国大豆压榨企业产销同区带来的竞争优势。(4分)

(3) 分析我国大豆压榨行业从集中沿海布局转向内陆区域扩散的原因。(8分)

(4) 说出黑龙江企业到俄罗斯远东地区进行大豆生产投资及大豆以回运为主的原因。(8分)

37. 阅读图文材料,完成下列要求。(28分)

近年来科研工作者对美国科罗拉多河开展研究,结果表明,该流域每年价值超过1万亿美元的经济活动依赖于水资源,然而受气候变暖的影响,科罗拉多河水资源量急剧减少。利用辐射感知水文模型得知,科罗拉多河流域内积雪减少,降水有所增加。但流域内发生严重水资源短缺的风险显著增大。

图7为科罗拉多河流域水系,图8为支流圣胡安河Q处河床在一次暴雨洪水泛滥过程中河床

变化示意图，该地气候干旱，上游植被覆盖率较低，流量季节变化较大，河床有深厚的沉积物层。P为此次暴雨洪水泛滥过程中河床最大深度。

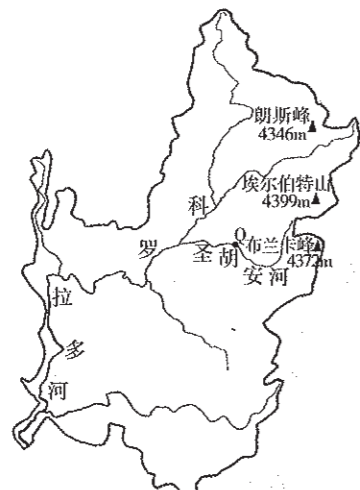


图7

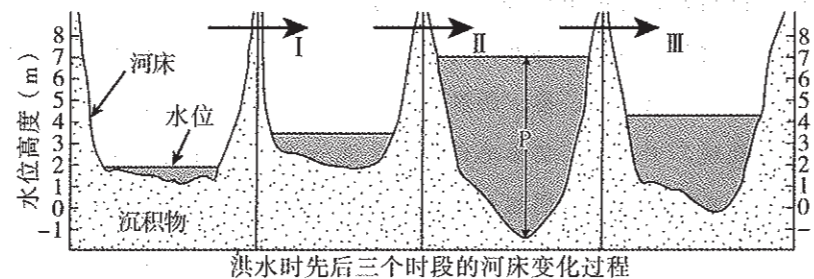


图8

(1) 从水循环角度，分析科罗拉多河水资源量急剧减少的原因。(6分)

(2) 请为当地农民应对干旱气候提出几点建议。(8分)

(3) 从流水作用角度，分析图8中I、II、III时段河床的变化过程。(6分)

(4) 从降水强度和植被覆盖两方面分析本次洪水对P值大小的影响。(8分)

38. 阅读材料，完成下列要求。(10分)

材料一 制造业是立国之本、强国之基，高端制造是经济高质量发展的重要支撑。

这十年，我国制造业增加值从2012年的16.98万亿元增加到2021年的31.4万亿元，占全球比重从22.5%提高到近30%，持续保持世界第一制造大国地位。我国制造业有31个大类、179个中类和609个小类，是全球产业门类最齐全、产业体系最完整的制造业，具有强大的韧性和发展潜力，在应对新冠疫情和外部冲击中得到充分彰显。



材料二 2023年3月13日，全国人大通过的政府工作报告中强调，加快发展高端制造业，推

动我国制造业转型升级，建设制造强国，加强技术研发，提高国产化替代率，把科技的命脉掌握在自己手中，国家才能真正强大起来。当前，解决我国制造业部分关键核心技术受制于人、技术供给能力与推动高质量发展之间的供需结构性矛盾、供应链安全等问题，关键在于坚持科技自立自强，着力突破“卡脖子”技术，提升整个产业自主创新能力，建设制造业协同创新体系，强化基础共性技术供给。

解读材料一的信息，并运用法治政府的相关知识，阐述政府在加快发展高端制造业，建设制造强国中该如何作为。(10分)

39. 阅读材料，完成下列要求。(20分)

习近平总书记强调：“在非物质文化遗产的保护方面，我们要特别注意少数民族文化遗产的保护和传承”。

《格萨(斯)尔》《玛纳斯》和《江格尔》是中国三部伟大的英雄史诗，分别源自藏族、柯尔克孜族、蒙古族的悠久传说。这三部伟大史诗不仅为中华民族提供了丰厚滋养，也为世界文明贡献了艺术瑰宝。

在内蒙古聆听民族史诗《格萨(斯)尔》时，习近平总书记说：“党中央是支持、扶持非物质文化遗产的。”中华民族是历史悠久的民族，是文明没有断流的民族。56个民族不断交流、交融，形成了多民族和多元文化的中华民族。

中华文化是各民族文化的集大成。“中华文化之所以如此精彩纷呈、博大精深，就在于它兼收并蓄的包容特性。”展开历史长卷，从赵武灵王胡服骑射，到北魏孝文帝汉化改革；从“洛阳家家学胡乐”到“万里羌人尽汉歌”；从边疆民族习用“上衣下裳”“雅歌儒服”，到中原盛行“上衣下裤”、胡衣胡帽，以及今天随处可见的舞狮、胡琴、旗袍等，展现了各民族文化的互鉴融通。各民族文化交相辉映，中华文化历久弥新，这是今天我们强大文化自信的根源。

(1) 结合材料，运用文化交流与文化交融的知识，请你谈谈对“各民族文化交相辉映，中华文化历久弥新，这是今天我们强大文化自信的根源”的理解。(10分)

(2) 结合材料，运用辩证思维的特征，阐述“在非物质文化遗产的保护方面，我们要特别注意少数民族文化遗产的保护和传承”的重要性。(10分)

40. 阅读材料，完成下列要求。(10分)

构建人类命运共同体是习近平外交思想核心理念，是中国外交的总目标。

2022年11月15日，国家主席习近平出席在印度尼西亚巴厘岛举行的二十国集团领导人第十七次峰会，并发表题为《共迎时代挑战 共建美好未来》的重要讲话：当今世界正在经历百年未有之大变局，多重危机叠加，面对挑战，各国要同舟共济，践行真正的多边主义。多边主义的要义是

国际上的事由大家共同商量着办，世界前途命运由各国共同掌握；我们要与时俱进，不断完善全球治理体系。要立足世界格局变化，在广泛协商、凝聚共识基础上改革和完善全球治理体系；我们要聚焦行动，落实好全球合作议程。我提出全球发展倡议，构建全球发展命运共同体，希望各方积极参与。

结合材料，运用世界多极化的相关知识，阐述习近平主席提出的“全球发展倡议，构建全球发展命运共同体”的科学性。(10分)

41. 阅读材料，完成下列要求。(12分)

2023年3月5日，昆明的李女士在小区公共区域遛狗时不清扫狗拉大便，被小区保洁员王女士批评，二人因此发生言语争执。李女士在回家路上心肌梗塞猝死，其丈夫汪某遂向人民法院起诉，要求王女士赔偿85万元。

(1) 李女士的行为是否得当？为什么？(6分)

(2) 你认为法院是否支持汪某的诉讼请求？为什么？(6分)

42. 阅读材料，完成下列要求。(25分)

材料一 国家自信与国家形象是一个国家崛起的重要标志。英国作为老牌帝国主义国家，对国家政治形象国际传播的要义有着极为深刻的认识，它积累了丰富的经验。英国政治理念的人格化标志性形象，是18世纪英国著名作家约翰·阿布斯诺特的代表作《约翰牛的生平》的主人公约翰牛。阿布斯诺特笔下的约翰牛干劲十足。一方面表现为他勤恳创业，另一方面体现为他傲视群雄，极为自信。

材料二 提到美国，人们会自然地联想到“美国梦”。美国精神的代表人物几乎是全世界都熟悉的著名的山姆大叔。这个诞生于1812年美英战争期间的美国代表形象，充斥着美国化的符号，星条旗礼帽、高高的鹰钩鼻子、坚毅的眼神以及昂扬的斗志。整个形象洋溢着美国式的自信与骄傲。1961年，美国国会通过一项决议，正式确认“山姆大叔”为美国的象征。

材料三 中国改革开放以来的国际形象发生了巨大变化，从以前的浪漫的“世界革命”者变成了务实的“以经济建设为中心”的代表。从1978年到1992年，中国形象的传播主要是向世界介绍中国改革开放的路线、方针、政策，为引进外资服务。从1992年到2001年，中国形象的传播重点从改革转向开放，强调“把中国介绍给世界”，宣传色彩淡化，传播意识显著增强。从2001年到现在，中国形象国际传播最突出的变化就是强化了互惠共赢的理念。中国的发展不仅是中国人民的福祉，而且能惠及世界。

——摘编自钱乘旦主编《世界现代化历程》

(1) 根据材料一并结合所学知识，用史实证明18世纪英国“约翰牛”形象的形成。(8分)

(2) 根据上述材料并结合所学知识，分析英、美、中国国家形象建立的共同点。(10分)

(3) 根据上述材料并结合所学知识，分析中国国家形象不同于英美国家形象的原因。(7分)

43. 阅读材料，完成下列要求。(12分)

材料 地气之盛衰，久则必变。唐于开元、天宝间，地气自西北转东北之大变局也。秦中自古为帝王州，周、秦、西汉递都之，符秦、姚秦、西魏、后周相间割据。隋文帝迁都于龙首山下，距故城二十余里，仍秦地也，自是混一天下，成大一统。唐因之，至开元、天宝，而长安之盛极矣。盛极必衰，理固然也。是时地气将自西趋东北，故突生安、史以兆其端。自后河朔三镇名虽属唐，仅同化外羈縻，不复能指相使，盖东北之气将兴，西方之气已不能包举而收摄之也。

——(清)赵翼《廿二史札记》

结合所学知识，谈谈你对赵翼认识的理解。(要求：表述成文，持论有据，论述充分，逻辑清晰)

44. 阅读材料，完成下列要求。(15分)

材料 随着新中国的成立，中国共产党通过实现对文化建设的全面领导，使社会主义文化服务于国家发展大局需要，取得了“文化立国”的历史成就。至1965年，全国已有县级文化馆2598个，城乡影剧院2943个，县级以上图书馆562个，群众艺术馆62个，乡镇文化站2125个，广播电台、电视台、报社、出版社等机构遍布全国。在新中国成立不到三十年的时间里，先后推出了一系列文艺作品，当中许多作品脍炙人口、走向世界，成为世所公认的“红色经典”。党的十一届三中全会以后，党领导文化建设之路的探索以“文化富国”所体现，文化产业获得了快速发展，文化成为繁荣国民经济发展的直接动力。“文化富国”还表现在文化在提升综合国力、国家软实力与国际竞争力上的作用。党的十八大以来，国内外形势发生了深刻变化。以习近平同志为核心的党中央为核心的新一届党中央领导集体，明确将“文化强国”上升为党领导文化建设的总纲与国家意志。“文化强国”的全面实践，意味着党领导文化建设步入了历史新阶段，与近代仁人志士所植立的“强国梦”形成了历史呼应。

——摘编自韩晗《中国共产党领导文化建设的历史演进与实践路径》

(1) 根据材料并结合所学知识，简析新中国取得“文化立国”历史成就的原因。(8分)

(2) 根据材料并结合所学知识，说明十一届三中全会以后，党领导文化建设从“文化富国”到“文化强国”的必然性。(7分)