

秘密★启用前 【考试时间：5月9日 9:00—11:30】

昆明市 2023 届“三诊一模”高考模拟考试

文科综合能力测试

注意事项：

- 答卷前，考生务必用黑色碳素笔将自己的姓名、准考证号、考场号、座位号填写在答题卡上，并认真核准条形码上的准考证号、姓名、考场号、座位号及科目，在规定的位置贴好条形码。
- 回答选择题时，选出每小题答案后，用 2B 铅笔把答题卡上对应题目的答案标号涂黑。如需改动，用橡皮擦干净后，再选涂其他答案标号。回答非选择题时，将答案写在答题卡上。写在本试卷上无效。
- 考试结束后，将本试卷和答题卡交回。

一、选择题：本卷共 35 小题。每小题 4 分，共 140 分。在每个小题给出的四个选项中，只有一项是符合题目要求的。

位于北欧的瑞典，是较早开发利用地下空间的国家。该国把地下空间开发利用与民房工程建设相结合；广泛修建地下商城、地下街道等各类工程；并率先建成城市地下“垃圾专列”运输系统，将分类后的垃圾通过强力抽吸式管道直运地表焚烧发电。据此完成 1~2 题。

- 瑞典重视地下空间开发利用的主要原因是
 - 气候寒冷
 - 岩体坚固
 - 技术先进
 - 人多地少
- 瑞典对城市垃圾采用地下“专列”直运并焚烧发电的主要意义是
 - 提高城市环境质量
 - 降低垃圾处理成本
 - 减少化石燃料消耗
 - 变垃圾为有机肥料

对耕地非农化问题的研究是保护耕地和保障粮食安全的基础性工作，表 1 为广西近 40 年来不同时段耕地非农化转化类型及占比情况。据此完成 3~5 题。

表 1

年份	林地	草地	水域	建设用地	难利用地
1980~1990 年	62.84	3.64	30.82	2.68	0.02
1990~2000 年	86.16	11.36	2.39	0.09	0.00
2000~2010 年	61.07	11.62	8.64	18.62	0.05
2010~2020 年	70.04	11.51	5.30	13.11	0.04

- 关于广西耕地非农化情况的描述，正确的是
 - 以耕地转林地为主
 - 耕改塘占比明显增加
 - 耕地撂荒持续减少
 - 耕地大量转难利用地
- 广西城镇化发展速度最快的时段是
 - 1980~1990 年
 - 1990~2000 年
 - 2000~2010 年
 - 2010~2020 年

文科综合能力测试卷·第 1 页（共 16 页）

- 抑制广西耕地非农化的主要对策是
 - 提高耕地复种指数
 - 强化耕地统筹利用
 - 推广使用大型农机
 - 推行耕地休耕制度

研究发现，强大的极地涡旋（位于对流层中上部至平流层，绕极地高空旋转的冷性低压系统）阻碍了臭氧的输入，是形成极地臭氧空洞的主要原因。臭氧空洞多出现在南极，而北极较少出现。2023 年 1 月，世界气象组织和联合国环境署发布报告称，如果保持现行举措，南极臭氧空洞将在 2066 年恢复到 1980 年的较低水平。据此完成 6~8 题。

- 关于南极臭氧空洞的说法，正确的是
 - 与北极同时出现
 - 出现处臭氧浓度为零
 - 夏秋季面积最大
 - 主要出现在平流层
- 造成北极地区较少出现“臭氧空洞”的主要因素是
 - 太阳高度角
 - 海水运动
 - 下垫面状况
 - 人类活动
- 若南极臭氧空洞恢复到 1980 年的水平，将会导致
 - 全球气候变暖趋势增强
 - 全球年总降水量增多
 - 南极海洋浮游植物减少
 - 南极平流层气温升高

在自然状态下，森林树种往往会出现演替。森林群落中幼树占比低、中龄及成年树占比高的树种为先锋树种；成年树占比低、中龄及幼树占比高的树种为优势树种。湖北九宫山自然保护区以针阔混交林为主，树种丰富。图 1 示意九宫山某样地（29.4°N 附近）典型树种鹅掌楸（落叶阔叶树种）和黄山松的空间分布及其树龄占比统计。据此完成 9~11 题。

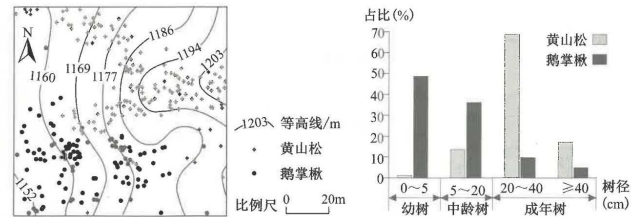
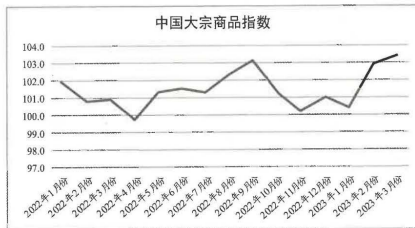


图 1

- 对该样地两种树种的描述，正确的是
 - 黄山松为先锋树种，主要分布于山脊
 - 黄山松为优势树种，主要分布于山谷
 - 鹅掌楸为先锋树种，主要分布于山谷
 - 鹅掌楸为优势树种，主要分布于山脊
- 图示样地，鹅掌楸集中分布区土壤
 - 透气性较好
 - 盐碱化较重
 - 腐殖质较厚
 - 保水性较差
- 在自然状态下，推测九宫山森林群落将会演替成
 - 以季雨林为主
 - 以阔叶林为主
 - 以灌木林为主
 - 以针叶林为主

文科综合能力测试卷·第 2 页（共 16 页）

12. 《共产党宣言》指出：“法国的社会主义和共产主义的文献是在居于统治地位的资产阶级的压迫下产生的，并且是同这种统治作斗争的文字表现，这种文献被搬到德国的时候，那里的资产阶级才刚刚开始进行反对封建专制制度的斗争……在这种著作从法国搬到德国的时候，法国的生活条件却没有同时搬过去。在德国的条件下，法国的文献完全失去了直接实践的意义，而只具有纯粹文献的形式。”这启示我们
- A. 空想社会主义是科学社会主义的思想来源
B. 法国的文献证明了社会发展的客观规律
C. 德国无产阶级的斗争缺乏科学理论的指导
D. 先进理论必须和实际结合才有强大生命力
13. 毛泽东提出要继承“从孔夫子到孙中山”的数千年珍贵遗产，延安时期党的文献多次把一切优秀传统看成和党“血肉相连”的东西。习近平总书记指出：只有把马克思主义基本原理同中国具体实际相结合、同中华优秀传统文化相结合，马克思主义真理之树才能根深叶茂。材料表明
- ①中国共产党要不断谱写马克思主义中国化时代化新篇章
②马克思主义是为全人类寻求自身解放道路的人民的理论
③传承中华优秀传统文化是实现中华民族伟大复兴的根本动力
④要推进马克思主义基本原理同中华优秀传统文化相结合
- A. ①② B. ①④ C. ②③ D. ③④
14. 下图是 2022 年 1 月至 2023 年 3 月中国大宗商品指数的变化趋势。大宗商品指数反映大宗商品现货市场价格走势，为观察和研究经济活动提供依据，在一定程度上反映经济形势的晴雨变化。全科试题免费下载公众号《高中僧课堂》



由此可推测

- ①中国大宗商品生产活动起伏不定，市场前景不明
②全球经济复苏趋势明显，相关行业生产规模扩大
③中国大宗商品市场稳中向好特点进一步显现
④当前国内经济形势预期持续向好
- A. ①② B. ①④ C. ②③ D. ③④

文科综合能力测试试卷·第3页(共16页)

15. 2023 年中央一号文件提出要培育发展预制菜产业。目前预制菜产业存在规模小、产品质量不高、产品研发创新不足、经营者为抢占市场恶性竞争等问题。为此，预制菜产业的发展要
- ①遵循经济规律，促进预制菜产业资源的合理配置
②发挥宏观调控对预制菜产业资源配置的基础性作用
③发挥国有经济主导作用，促进预制菜产业做大做强
④积极推进预制菜产业技术创新和产品品质提升
- A. ①② B. ①④ C. ②③ D. ③④
16. 自 2018 年起，全国人大常委会已连续五年对生态环保法律启动执法检查，环保被纳入了常态化、制度化的监督视线。全国人大常委会不断激发监督活力，挖掘“问题清单”，从督查执法部门法律知识素养的“考试”，到直奔现场的暗查暗访，再到打破“事后整改”常规的“边查边改”，诸多创新之举纷纷引入执法检查。上述材料说明全国人大常委会
- ①对环境保护执法的监督机制不断完善
②作为执法的重要主体，捍卫法律的权威
③履行质询监察职责，行使环保执法监督权
④切实履行职责，有力推进生态治理和环境保护执法工作
- A. ①③ B. ①④ C. ②③ D. ②④
17. 2023 年 3 月，习近平在中国共产党与世界政党高层对话会上指出，中国共产党将始终致力于维护国际公平正义，促进世界和平稳定。中国式现代化不走殖民掠夺的老路，不走国强必霸的歪路，走的是和平发展的人间正道。材料主要反映了中国共产党
- ①弘扬己达人精神，倡导共赢思维应对复杂挑战
②坚持以人民为中心，在理论和制度创新中开创未来
③反对霸权主义和强权政治，致力于维护世界和平与发展
④提升与时俱进的执政能力，维护世界各政党的政治利益
- A. ①③ B. ①④ C. ②③ D. ②④
18. 经过研制团队多年的付出和奋斗，2023 年 4 月 15 日，我国成功发射风云三号 G 星。该卫星配置多套先进仪器，填补了国内降水三维立体层析探测数据空白，对于我国强降水监测预报预警、降水机理研究和支撑人工影响天气业务开展具有非常重要的意义。这表明
- ①揭示降水机理和降水规律是发射卫星的根本目的
②研制团队充分发挥主观能动性是尊重客观规律的前提条件
③发射卫星是人们改造客观世界的物质性活动，具有社会历史性
④人类开展的气象监测活动具有目的性、自觉选择性和主动创造性
- A. ①② B. ②③ C. ①④ D. ③④

文科综合能力测试试卷·第4页(共16页)

19. 考古成果与公众距离越近，文化自信的根基就越深厚。这些年，考古成果日益“飞入寻常百姓家”。从海昏侯墓考古引发观展热潮，到《国家宝藏》等文博节目热播，再到云端博物馆蓬勃发展，充分体现了对古文物的保护和利用。让考古更好走近大众
- ①能丰富大众文化生活，挖掘文物的经济价值
②要在对立统一中促进考古成果的保护和利用
③能增强文化自信，激发民族自信心和自豪感
④要从实际出发，摆脱客观条件对文物保护和利用的制约
- A. ①② B. ①④ C. ②③ D. ③④
20. 联合国发布的 2023 年度《可持续发展筹资报告》指出，中国是能源转型领导者之一，通过南南合作，中国能够帮助其他一些国家实现能源转型，提供他们所需的技术和经验。这说明
- ①联合国是维护国际和平与发展的权威机构
②我国在促进世界能源转型方面发挥着重要作用
③我国坚持绿色低碳，推动建设一个清洁美丽的世界
④各国一致认可我国作为推动世界能源转型领导者的地位
- A. ①② B. ①④ C. ②③ D. ③④
21. 2023 年 2 月，第 20 届中国—东盟博览会成功举办。中国—东盟博览会以服务中国—东盟自贸区建设为宗旨，积极推动中国—东盟经贸合作走深走实，成为广受欢迎的区域公共产品和国际合作平台。中国—东盟博览会
- ①推进了东盟各成员国在国际重大热点、焦点问题上的交流合作
②促进了中国与东盟各成员国贸易自由化便利化，推动区域贸易发展
③旨在增强经济互补性，提高中国及东盟国家对区域经济的控制能力
④加强了东盟与中国经济合作，成为中国—东盟自贸区建设的推进器
- A. ①② B. ①③ C. ②④ D. ③④
22. 某工程公司在进行路面施工时，未设置警示标志及围栏，致使骑车经过的李某摔倒受伤。李某送医救治后，被诊断为十级伤残。出院后，李某向人民法院起诉，要求该工程公司承担其医疗费及其他相关费用 5 万元。对于本案，下列说法正确的是
- ①李某负有提供医疗费及其他相关费用证明等证据的责任
②如果李某对法院判决不服，可以通过申请仲裁维护权益
③该工程公司因未设置警示标志及围栏，理应承担侵权责任
④侵权行为和损害结果的因果关系，不影响民事责任的认定
- A. ①② B. ①③ C. ②④ D. ③④
23. 有同学认为，金刚石和石墨化学性质基本相同，都是由碳原子构成的，而金刚石价值较高，所以得出石墨的价值也应该比较高的结论。该推理是
- ①或然推理
②类比推理
③从一般到个别的推理
④从个别到一般的推理
- A. ①② B. ①③ C. ②④ D. ③④

文科综合能力测试试卷·第 5 页 (共 16 页)

24. 成书于战国时期的《尚书·禹贡》生动记述和歌颂了大禹“披九山，通九泽，决九河，定九州”的丰功伟绩。在此基础上，历代为政者和学者不断绘制、修正并完善所处时代的“禹贡图”和《禹贡》经文。此现象是因为《尚书·禹贡》
- A. 保留了夏代历史文献资料 B. 客观反映了九州的地理划分
C. 奠定后世中国版图的基础 D. 承载着统治阶层的政治理想
25. 前秦宰相王猛曾对苻坚留有遗言：“晋虽僻陋吴越，乃正朔相承。亲仁善邻，国之宝也。臣没之后，愿不以晋为图。”王猛去世后，苻坚对群臣说：“今奉命于天，吾统承大业垂二十载，芟夷逆秽，四方略定，为（唯）东南一隅未宾王化。”据此可知，该时期
- A. 统治集团内部矛盾尖锐 B. 民族交融促成华夏认同
C. 正统观念影响政治走向 D. 南北民族矛盾逐步缓和
26. 朱熹认为“且如此灯，乃本性也，未有不光明也。气质不同，便如灯笼用厚纸糊，灯便不甚明；用薄纸糊，灯便明似纸厚者；用纱糊，其灯又明矣；撤去灯笼之全体著见。”朱熹意在强调
- A. 人性本善 B. 格物致知 C. 克制私欲 D. 发明本心
27. 在《明实录》所收录的皇帝谕旨及大臣奏疏中，“抑末”一词出现有 6 次，皆在嘉靖九年以前。而“通商”一词，在《明实录》出现的次数较多，达 15 次，贯穿明代前、中、后期，且嘉靖九年以后占绝对多数，达 11 次。这反映出
- A. 政府逐步放弃抑商政策 B. 朝贡贸易发展较快
C. 明中后期商业快速发展 D. 官商合流现象普遍

表 2 江南制造总局翻译馆译员地域构成

地域	江苏	浙江	湖南	安徽	山东	广东
人数	24	7	2	1	1	1

对表 2 信息解读合理的是

- A. 新式人才地域分布存在差异 B. 南北方存在较大文化差距
C. 江浙地区最早开始了近代化 D. 国人成为洋务译书的主力
29. 1890 年，德国公使巴兰德向总理衙门提出：“紫光阁为筵宴藩属之地，见诸记载，各国使臣于此处觐见，于体面有碍”，要求必须改变觐见地点。后外国公使觐见清帝的地点，改为北海的承光殿，再改为皇宫内的文华殿，旋又改为皇宫内的乾清宫。这反映出
- A. 外交礼仪成为中外交涉的核心 B. 西方国家力图与清朝实现平等外交
C. 清廷外交机构开始半殖民地化 D. 列强意在借外交礼仪攫取侵略特权

文科综合能力测试试卷·第 6 页 (共 16 页)

30. 中华苏维埃共和国临时中央政府成立后，县、区苏维埃政府只设土地、财政、劳动、军事等工作部门，工作人员没有工资报酬，只领取少量生活费。政府工作人员均须在不妨碍政府日常工作的条件下，亲自下田，去帮助政府近旁的红军家属及缺乏劳动力的贫苦农民群众耕田。这些举措
- A. 有利于缓解边区的财政压力
B. 密切了党同人民的血肉联系
C. 体现了人民民主的建政原则
D. 开辟了中国特色的革命道路
31. 1961年，在周恩来总理的推动下，中国粮油食品进出口公司和加拿大小麦局签订了中加第一个长期小麦贸易协定，中国每年从加拿大进口小麦500万吨。1963年，双方又签订第二个长期协定。到1970年，中国共购买加拿大1800万吨小麦和130万吨大麦。此举
- A. 有效解决中国严重的经济困难
B. 开启了中西方经济贸易的全新渠道
C. 利于缓解中国面临的外交困境
D. 实现了中国同西方大国关系的突破
32. 古埃及法律规定，妇女有离婚的自由，离婚后的妇女可以获得丈夫三分之一的财产。如果丈夫去世了，妻子可以拥有丈夫生前的所有财产。埃及学者费舍尔对古王国时代有关头衔研究后发现，有相当一部分妇女有“织工之屋的管理者”“假发之屋的监工”“节日的女主持人”等头衔。这表明古埃及
- A. 妇女拥有较高的社会地位
B. 男女在经济上享有平等权利
C. 法律有效保障妇女的权利
D. 女性广泛参与社会政治活动
33. 拜占庭帝国早期，官方语言是拉丁语，后来在宗教和世俗文化领域，希腊语逐渐占主导地位。与此同时，罗马法律也在发生变化，《法律选编》在序言中指出“我们意识到前朝皇帝颁布的法律难以理解；它们之于民众，就像天书一般完全无法理解。”此现象源于
- A. 希腊文化的复兴
B. 帝国稳定统治的诉求
C. 日耳曼人的入侵
D. 罗马法地位逐步下降
34. 南北战争后，来自东部的铁路公司和土地投资公司仗仗政府的赠予和雄厚资本，获得大量无偿和廉价土地，然后转手高价零售，由此赚取的巨额资金又转化为铁路投资，或向西部矿业和东部制造业转移。据此可知
- A. 南北战争促成美国产业升级
B. 南北战争推动了政府职能扩大
C. 垄断资本影响国家经济政策
D. 土地政策调整促进工业化发展
35. 20世纪60年代，教皇保罗二世认为欧洲应该首先是一个基督教的欧洲；1983年的“所罗门宣言”建议把一个共同的文化遗产有意识地确定为欧洲认同的一个因素；1997年的《阿姆斯特丹条约》强调了欧盟的统一公民资格和防务认同。“欧洲认同”理念
- A. 推动欧洲一体化深入发展
B. 弥合了欧洲的文化差异
C. 旨在复兴欧洲的古典文化
D. 实现对民族界限的超越

二、非选择题：本题共9小题，共160分。每个试题考生都必须作答。

(说明：地理部分36~37题，共2题，共56分；思想政治部分38~41题，共4题，共52分；历史部分42~44题，共3题，共52分)

36. 阅读图文材料，完成下列要求。(28分)

汉班托塔港是位于斯里兰卡南部汉班托塔市远郊的深水港，靠近国际主航线，被誉为“印度洋的心脏”。目前由中国企业建设和运营的汉班托塔港采用“港口→产业园区→城市新区”的建设顺序。为把该港打造成国际中转枢纽港，港口采用封闭潟湖(被沙坝、珊瑚礁等分割而与外海相分离的局部浅海水域)的方式施工，抽干湖水后，开挖建成深水港，并把挖出的土石用于建设人工岛和港区陆域。人工岛上配建高速公路，布局滨海旅游、金融服务、会展贸易等。图2示意汉班托塔港建成后的空间分布。

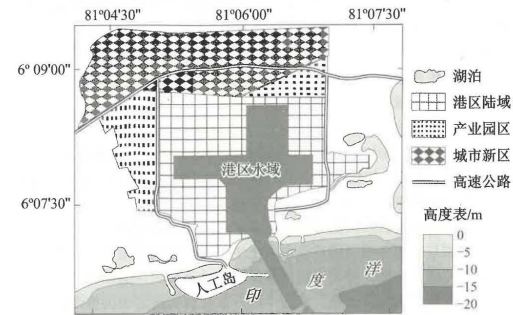
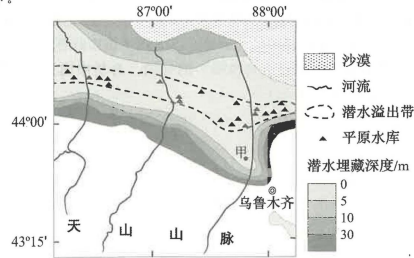


图2

- (1) 与外海围填筑港方式相比，指出汉班托塔港采用潟湖内挖式筑港的优势。(8分)
- (2) 分析汉班托塔港按“港口→产业园区→城市新区”顺序建设的原因。(8分)
- (3) 简述产业园区在汉班托塔港发展中所起的作用。(6分)
- (4) 说出人工岛上布局滨海旅游、金融服务和会展贸易的有利区位条件。(6分)

37. 阅读图文材料，完成下列要求。(28分)

天山北麓地区洪积扇广布，洪积扇沉积物粒径变化、河流和季节性洪水是影响山麓地区潜水平埋藏深度的主要因素。二十世纪五、六十年代，当地在潜水溢出带建设了大量平原水库。近年来，有专家提议拆除平原水库。图3示意天山北麓潜水平埋藏深度、潜水溢出带、平原水库及河流的分布。



(1) 描述图中天山北麓潜水平埋藏深度的空间分布特征。(8分)

(2) 说出甲地附近的地形部位及判断依据。(6分)

(3) 分析图中潜水溢出带的形成条件。(8分)

(4) 你是否赞同拆除平原水库，请说明理由。(6分)

38. 阅读材料，完成下列要求。(10分)

习近平总书记指出：“民主不是装饰品，不是用来做摆设的，而是要用来解决人民需要解决的问题的。”

在中国共产党的领导下，中国式民主以生动的实践展现出强大的生命力。改革开放以来，历次直接选举县乡两级人大代表，选民参选率均保持在90%左右，保证了选举结果充分体现最广大人民意愿。人大代表坚持问需于民、问计于民，越来越多的群众意见转化为国家的重大决策。基层民主生活如火如荼地开展，从“小院议事厅”到“板凳民主”，线下“圆桌会”到线上“议事群”，人民群众就改革发展稳定的重大问题以及事关自身利益的问题，通过座谈、网络、民意调查等多种途径和方式，在决策之前和决策实施之中开展广泛协商。政协委员发挥协商民主的独特作用，积极参与基层协商解决急难愁盼问题。中国式民主展现出巨大优势和潜力，能够真正解决中国问题。

结合材料，运用《政治与法治》的知识，阐述“中国式民主能够真正解决中国问题”的依据。

39. 阅读材料，完成下列要求。（20分）

近年来，传统安全和非传统安全威胁相互交织，我国国家安全面临诸多风险挑战。

党的十八大以来，以习近平同志为核心的党中央加强国家安全战略谋划和顶层设计，统筹政权安全、制度安全、意识形态安全、粮食安全、能源安全、金融安全，建立集中统一、高效权威的国家安全领导体制。党的十九大将坚持总体国家安全观纳入新时代坚持和发展中国特色社会主义的基本方略，并写入党章。党的二十大报告对推进国家安全体系和能力现代化作出了部署。随着总体国家安全观的落实，我国国家安全体系和能力建设取得突破性进展，有力地维护了国家安全和社会稳定。

（1）结合材料，运用“寻觅社会的真谛”的知识，分析我国创造性提出并不断完善总体国家安全观的积极意义。（10分）

（2）结合材料，分析总体国家安全观是如何体现科学思维特征的。（10分）

40. 阅读材料，完成下列要求。（10分）

当前，世界进入新的变革动荡期，全球发展严重失衡，世界经济复苏步履维艰。同时，气候变化、粮食安全、公共卫生等全球性危机不断加剧，一些地方战乱和冲突仍在持续，饥荒和疾病仍在流行，隔阂和对立仍在加深。在人类何去何从的历史当口，中国恰逢其时地提出要积极践行全人类共同价值。习近平强调：“我们要顺应历史大势，致力于稳定国际秩序，弘扬以和平、发展、公平、正义、民主、自由为主要内容的全人类共同价值，推动构建人类命运共同体。”

结合材料并运用《当代国际政治与经济》的知识，分析中国为什么要倡导全人类共同价值。

41. 阅读材料，完成下列要求。（12分）

某公司经常要求员工休息日加班，并且未安排补休，未支付加班工资。该公司以保证公司数据安全为由，要求员工统一安装公司自主开发的监控软件，并用该软件获取员工手机内各项信息，包括私人相册、微信私人聊天记录等。小张因拒绝安装该软件，被公司以不遵守管理规定为由解除劳动合同。小张认为公司解除劳动合同违法，依照法定程序向人民法院提起诉讼，要求公司补发加班工资，并支付违法解除劳动合同赔偿金。

（1）该公司利用监控软件获取员工微信私人聊天记录的行为是否合法？为什么？

（2）法院是否应该支持小张的诉讼请求？为什么？

42. 阅读材料，完成下列要求。（25分）

材料一

表3 法国路易十四统治时期的《民营工商业主保护法》

年代	法案内容
1667年	提高外国葡萄酒进口税
1669年	法国境内民营工商业主贩运货物，免除城墙修筑税、养护桥梁税、铺路税
1678年	对雇佣25人以上的手工工场、商店、商船减免契约税
1682年	各省治安官可为500法郎以内的贷款合同作担保
1685年	采用新型纺织机织造毛呢的工商业主可获皇家特许状，所获利润25%上交国王

——据（法）贝克《十七世纪法国的专制主义与社会》

材料二

抗战初期，为了保证国防耗资以及民生基本要求，南京国民政府通过颁布战时经济法令，对后方经济实行越来越严厉的统制政策，民营企业纷纷破产。抗战胜利后，不少民营企业迫切希望政府能够帮助他们尽快恢复生产。然而，国民政府出台各种政策，征收各种捐税，滥发纸币，国家垄断资本主义急剧膨胀，给了民族企业致命一击。解放战争时期，南京国民政府与美方签订《中美友好通商航海条约》，民营工商业遭到了毁灭性打击。

——据张伟《我国近代民族企业社会责任及其价值研究》

材料三

改革开放以来，我国民营企业蓬勃发展，民营经济从小到大、由弱变强、不断发展壮大。党的十八大报告指出，要“毫不动摇鼓励、支持、引导非公有制经济发展”。我国民营企业的数量从2012年底的1085.7万户增长到2022年8月的4701.1万户，民营上市公司数量3000多家；在世界500强中，我国民营企业由2012年的5家增加到2022年的28家。民营经济对外直接投资占比超过60%，企业技术创新和新产品占比超过70%，城镇就业占比超过80%。2023年3月，习近平总书记再次充分肯定民营经济在我国经济社会发展中的重要作用，明确要求“引导民营企业和民营企业家正确理解党中央方针政策，增强信心、轻装上阵、大胆发展，实现民营经济健康发展、高质量发展”。

——据王胜桥《提振民营经济发展信心》等

（1）根据材料一，概括路易十四统治时期《民营工商业主保护法》的特点，并结合所学知识简析其对法国经济发展的影响。（12分）

（2）根据材料二，指出20世纪三四十年代影响中国民营企业发展的不利因素。（6分）

（3）根据材料三并结合所学知识，简析改革开放以来中国民营企业发展的历史经验。（7分）

43. 阅读材料，完成下列要求。（12分）

材料

有学者认为国家形成的路径概括起来有四条：分别是管理型国家、压迫型国家、征服型国家和军事型国家。

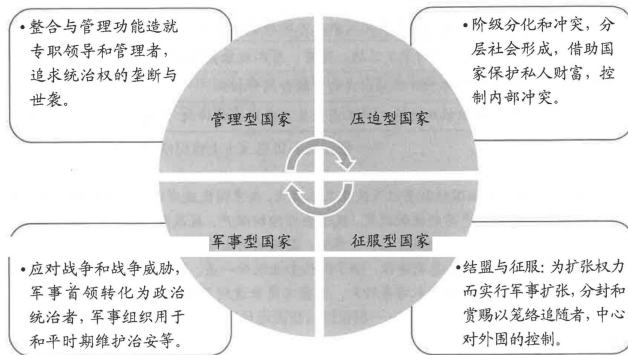


图4 国家形成的四条路径

——据何增科《早期国家与政治文明的多样性》

结合早期国家形成的相关知识，紧扣图中所示国家形成的一个或多个路径，自拟一个论题，并予以阐释。（要求：论题明确，史论结合，逻辑严谨，表述清晰。）

44. 阅读材料，完成下列要求。（15分）

材料

从1921年开始，马克思主义中国化历史实践围绕反对帝国主义、封建主义、官僚资本主义，争取民族独立、人民解放的斗争而展开。针对党内对马克思主义还知之不多、理解不透、把握不深的情况，毛泽东指出：“公式的马克思主义者，只是对于马克思主义和中国革命开玩笑”。此种表述并非戏谑之言，而是从深刻的历史教训中总结提炼出来的。到1945年，马克思主义中国化实现了第一次历史性飞跃。

1982年党的十二大召开，邓小平在开幕词中提出：“走自己的路，建设有中国特色的社会主义，这就是我们总结长期历史经验得出的基本结论。”党的十八大以来，中国特色社会主义进入新时代，习近平新时代中国特色社会主义思想是当代中国马克思主义、二十一世纪马克思主义，是中华文化和中国精神的时代精华，实现了马克思主义中国化时代化新的飞跃。

——摘编自齐卫平、樊士博《前提、过程和动力：马克思主义中国化百年回眸》

(1) 根据材料并结合所学知识，用具体史实说明1921~1945年马克思主义中国化实现了第一次历史性飞跃。（9分）

(2) 根据材料并结合所学知识，简析党的十八大以来马克思主义中国化时代化新的飞跃的重大意义。（6分）

关于我们

自主选拔在线是致力于提供新高考生涯规划、强基计划、综合评价、三位一体、学科竞赛等政策资讯的升学服务平台。总部坐落于北京，旗下拥有网站（[网址：
www.zizzs.com](http://www.zizzs.com)）和微信公众平台等媒体矩阵，用户群体涵盖全国 90% 以上的重点中学师生及家长，在全国新高考、自主选拔领域首屈一指。

如需第一时间获取相关资讯及备考指南，请关注**自主选拔在线**官方微信号：[zizzsw](https://www.zizzs.com)。



微信搜一搜

自主选拔在线