

2023 年哈三中高三学年

第五次高考模拟考试 文科综合 试卷

注意事项:

1. 答卷前, 考生务必将自己的姓名、准考证号填写在答题卡上。
2. 作答时, 务必将答案写在答题卡上。写在本试卷及草稿纸上无效。
3. 考试结束后, 将本试卷和答题卡一并交回。

一、选择题: 本题共 35 小题, 每小题 4 分, 共 140 分。在每小题给出的四个选项中, 只有一项是符合题目要求的。

国际权威学术期刊《科学》杂志公布“2022 年度十大科学突破”, 我国云南大学团队创制的多年生稻研究成果入选该榜单, 该成果把一年生栽培种改良成多年生栽培种, 通过越冬和免耕实现“一种多收”, 即种植一次连续收获 4 年 8 季, 平均产量与一年生稻产量相当。但实际种植时, 由于环境差异, 有些地区多年生稻的生产方式为“一种两收”(每年种一次收两季), 即早稻收获后, 利用稻桩地下茎上的腋芽快速发新苗, 再收获晚稻。据此完成 1~3 题。

1. 与传统一年生稻相比, 多年生稻的主要优势有

- | | | | |
|----------|-----------|-------|-------|
| ①节省大量劳动力 | ②减少农机具的投入 | | |
| ③作物生长周期长 | ④单产高, 品质好 | | |
| A. ①② | B. ②③ | C. ①③ | D. ③④ |

2. 多年生稻的环境效益主要表现在

- | | |
|---------------|------------|
| A. 调蓄洪水, 缓解干旱 | B. 保持土壤肥力 |
| C. 净化空气, 美化环境 | D. 减轻土地盐碱化 |

3. 判断各地多年生稻采用“一种两收”或“一种多收”的生产方式主要考虑

- | | |
|-----------|-----------|
| A. 土壤肥力状况 | B. 年降水量多少 |
| C. 耕地面积大小 | D. 冬季最低气温 |

据统计, 上海市拥有大型公共体育场馆约 60 处, 多分布在中心城区及附近。2023 年 3 月 31 日起, 上海市的 1100 多所中小学校的体育场地逐步对市民开放, 所有符合开放条件的公办学校体育场地在确保校园安全、师生健康的基础上做到应开尽开, 如长宁区的学校体育场地, 开放时间多为节假日 6:30~11:30、13:00~18:00。据此完成 4~6 题。

4. 与大型公共体育场馆相比, 中小学校的体育场地

- | | |
|-----------|-------------|
| A. 服务范围大 | B. 平均共享人数少 |
| C. 交通通达度高 | D. 功能性、专业性强 |

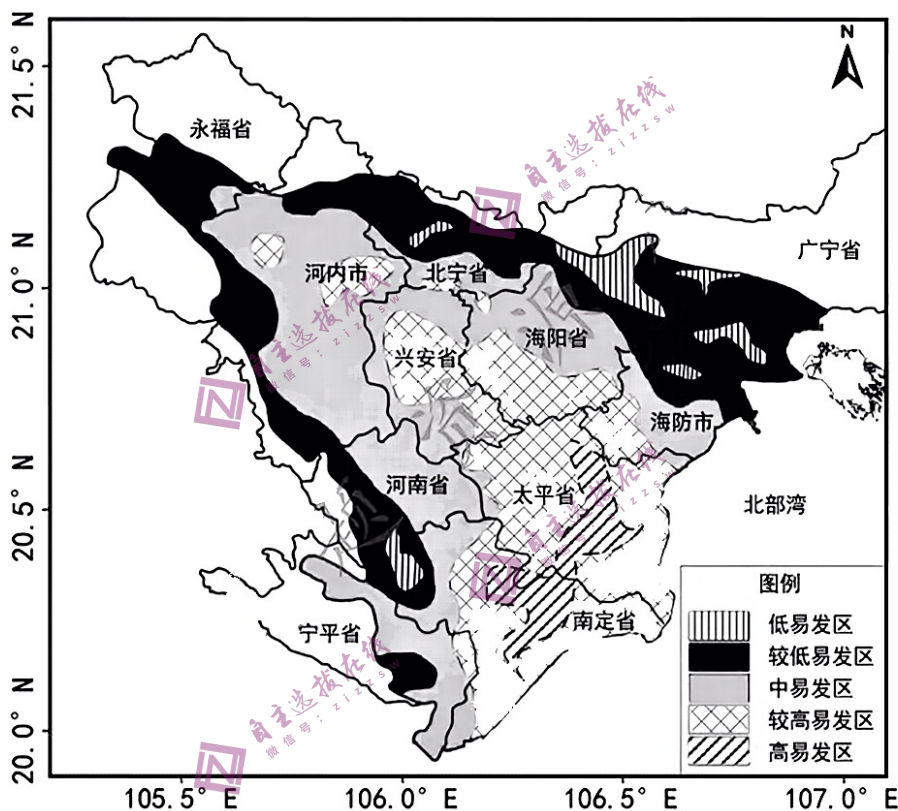
5. 上海市开放学校体育场地的主要意义有

- ①满足市民多样化的健身需求
 - ②提高学校体育场地利用率
 - ③提高学校体育场地的经济效益
 - ④实现学校和社区资源共享
- A. ①② B. ①③ C. ②④ D. ③④

6. 为进一步推进学校体育场地对市民开放, 上海市可采取的措施有

- ①扩建学校体育场地
 - ②延长双休日开放时长
 - ③优化入校锻炼流程
 - ④开放各类学校的体育场地
- A. ①② B. ①③ C. ②③ D. ③④

红河三角洲是越南北部的主要经济区域, 拥有河内市、海防市等重要城市和港口。该地区大规模开采地下水, 诱发了地面沉降。图 1 示意红河三角洲部分地区地面沉降易



发程度分区。据此完成 7~9 题。

图 1

7. 该地区大规模开采地下水的主要原因是

- ①人口密集, 经济发达
 - ②地表水盐度较高
 - ③地表水资源时间分布不均
 - ④土地荒漠化严重
- A. ①② B. ①③ C. ②④ D. ③④

8. 与兴安省相比, 南定省、太平省地面沉降危害更大的主要原因是

- A. 易受海平面上升影响
- B. 防治力度较小
- C. 均为地面沉降高易发区
- D. 流水侵蚀加剧

9. 该地区为防治地面沉降, 短期内可采取的有效措施有

- A. 增加上游植被覆盖率
- B. 修建调水工程

C. 加强基础设施的建设

D. 人工回灌地下水

丹霞地貌是发育于红色砂砾岩层的、以陡崖坡为特征的地貌，其演化可分为幼年期、青年期、壮年期、老年期四个阶段（图 2），在广东仁化县丹霞山，厚达 300~500 米的岩层在地质作用下形成了堡垒状的山峰、峰丛和奇石。据此完成 10~11 题。

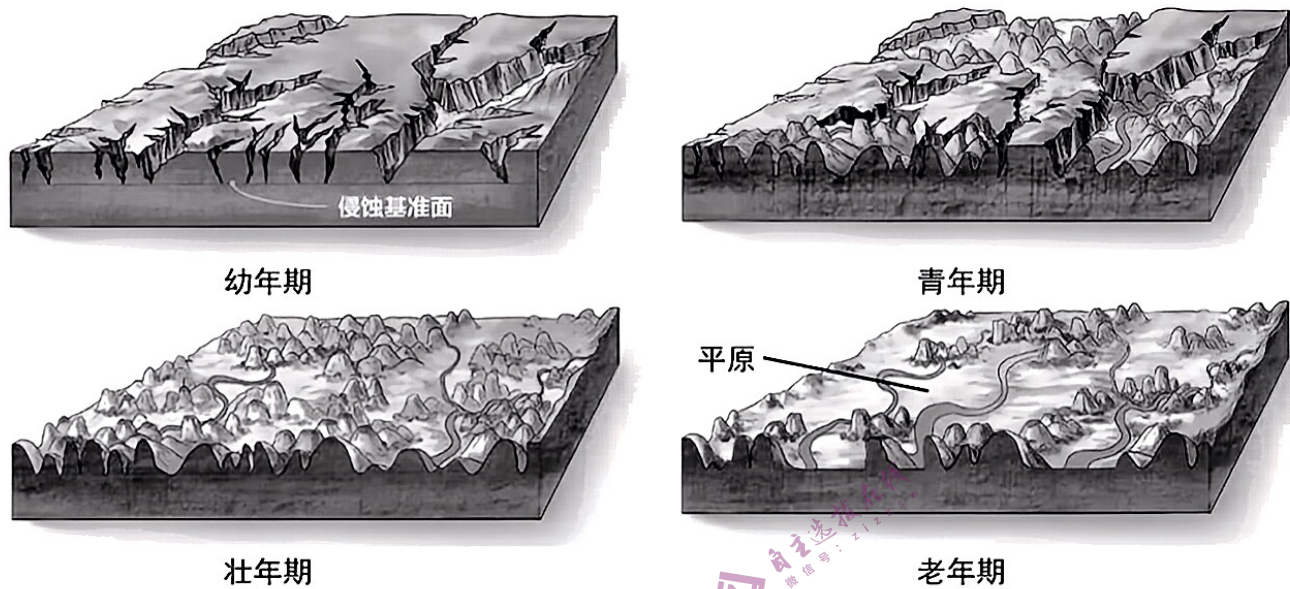


图 2

10. 与老年期的河流相比，青年期的河流
- A. 流速更快 B. 水量更大 C. 河曲发育 D. 河道更宽
11. 促使老年期的平原面积不断发展变化的主要地质作用是
- A. 风力侵蚀作用 B. 风力沉积作用 C. 流水侵蚀作用 D. 流水沉积作用
12. 殷墟商王陵区及周边遗存入选了考古界的“奥斯卡”——2022 年度十大考古新发现。2022 年，考古专家对商王陵及周边考古勘探，探明并确认了两个属于商代晚期的围沟和 31 个祭祀坑，并从中发现了一些陶片、青铜器残片和骨骼残片。根据上述发现可以推论
- ①阶级分化导致部分社会成员积累了大量财富，贫富分化加剧
 ②统治阶级占有全部生产资料，并能够占有全部劳动成果
 ③这一时期的国家的显著特点是君主专制、等级森严
 ④人们逐渐摆脱蒙昧野蛮的状态，社会逐渐迈入了文明时代的门槛
- A. ①② B. ①④ C. ②③ D. ②④
13. 实现现代化是近代以来中国人民矢志奋斗的梦想，中国共产党百年来团结带领中国人民追求民族复兴的历史，也是一部不断探索现代化道路的历史。可以说，党百年奋斗的实践成就是实现中国式现代化的最大底气。对此，下列认识正确的是
- ①新民主主义革命胜利和新中国的成立，为实现现代化创造了根本政治保证
 ②社会主义改造完成、社会主义制度的建立，为实现现代化奠定了制度基础
 ③改革开放取得的伟大成就，为实现现代化提供了充满新的活力的体制保障
 ④脱贫攻坚彻底消除了贫困问题，为实现现代化奠定了更为坚实的物质基础

- A. ①② B. ①④ C. ②③ D. ②④
14. 中国人民银行公布的金融统计数据显示：2023 年一季度我国人民币贷款增加 10.6 万亿元，同比多增 2.27 万亿元；一季度社会融资规模增量累计为 14.53 万亿元，比上年同期多 2.47 万亿元。这一变化的成因是
- ①稳健的货币政策精准有力，降准政策落地促进贷款规模扩大
②减税政策导致财政收入大幅减少，要依靠信贷填补资金缺口
③小微企业遭遇经营困境，急需扩大生产规模以降低市场风险
④我国经济运行回稳向好，投资需求、消费需求呈现回升态势
- A. ①② B. ①④ C. ②③ D. ②④
15. 2023 年 1 月，国家医保局发布了《新冠治疗药品价格形成指引（试行）》（以下简称《指引》）。在形成新冠治疗药品医保定价规则方面，《指引》遵循了企业自主定价、政府社会共管共治和全周期多层次引导相结合的原则。《指引》遵循上述原则的原因是
- ①完善社会主义市场经济体制要求推动有效市场和有为政府相结合
②由市场决定价格有利于合理配置医疗资源，提高企业生产积极性
③市场调节有缺陷，公共物品的供给和价格不能完全由市场来调节
④政府加强宏观调控，是使市场在资源配置中起决定性作用的基础
- A. ①② B. ①④ C. ②③ D. ②④
16. 借助淄博烧烤“火出圈”带来的巨大流量，山东淄博市抢抓机遇、借助东风，以铸牢中华民族共同体意识为主线，积极开展“道中华·齐鲁行·博览齐迹”中华民族共同体体验行活动，扎实推进旅游促进各民族交往交流交融工作，成功谱写“民族+文旅”融合新篇章。淄博市的做法
- ①促进我国形成多元一体的民族格局
②体现各民族都是中华民族大家庭的成员
③形成了平等、团结、互助、和谐的民族关系
④坚持民族团结，促进各民族共同繁荣
- A. ①② B. ①③ C. ②③ D. ②④
17. 在习近平法治思想指引下，中国特色社会主义法治事业蓬勃发展。党的十八大以来，我国社会主义法治国家建设深入推进，全面依法治国总体格局基本形成，中国特色社会主义法治体系加快建设，司法体制改革取得重大进展，法治中国建设开创新局面。司法体制改革的进步有利于
- ①转变政府职能，提高行政治理能力现代化
②依法保障人民合法权益、维护社会公平正义
③司法工作公正高效，服务经济社会发展大局
④提高司法效能，成为维护公平正义的第一道防线

- A. ①② B. ①③ C. ②③ D. ②④

18. 自 2022 年 11 月 20 日起，由工商银行、农业银行、中国银行和建设银行在合肥、广州、成都、西安和青岛五个城市开展特定养老储蓄试点。银保监会表示，将及时总结评估试点情况，适时研究推广试点经验，推动商业银行更好地服务多层次、多支柱养老保险体系建设。开展特定养老储蓄试点行动表明

- ①特殊性寓于普遍性之中，并通过普遍性表现出来
②特殊性离不开普遍性，特殊性之中包含着普遍性
③任何事物都是普遍性与特殊性的对立统一
④任何事物都包含既对立又统一的两个方面

- A. ①② B. ①③ C. ②③ D. ③④

19. 大型原创舞剧《红楼梦》用当下年轻人的视角观察红楼梦中人的悲欢离合，结合舞台美术、人物造型、服装设计、场面调度等多维方式向观众呈现了一场关于女性情感、命运和生命力的视听盛宴。这种打破时空局限的古今对话，在演员、角色、观众之间产生了一种奇妙的碰撞，让《红楼梦》拥有了更丰富的外延、更饱和的色调和全新的打开方式。这一原创舞剧的成功得益于

- ①创新表现方式，以丰富优秀传统文化的内涵
②保持开放心态，坚持吸收外来优秀文化成果
③满足人民期待，坚持以人民为中心的创作导向
④体现时代特征，推动优秀传统文化的传承发展

- A. ①② B. ①③ C. ②③ D. ③④

20 中国外交部发布《2022 年美国民主情况》报告指出，2022 年美国持续陷人民主失真、政治失能、社会失和的恶性循环。金钱政治、身份政治、社会撕裂、贫富分化等问题愈加严重。美国民主弊病已深入政治和社会肌理的方方面面，并进一步折射出其背后的治理失灵和制度缺陷。下列关于美国民主的表述正确的是

- ①美国实行代议制是其政体独有的标志性特征
②所采用的民主形式掩盖了其国家的阶级性质
③总统独立于议会直接行使国家最高行政权力
④其实质是实行资产阶级专制的一种国家制度

- A. ①④ B. ②③ C. ②④ D. ①③

21. 国家主席习近平向中国发展高层论坛 2023 年年会致贺信指出，促进复苏需要共识与合作，中国将坚持对外开放的基本国策，坚定奉行互利共赢的开放战略，不断以中国新发展为世界提供新机遇，中国将稳步扩大规则、规制、管理、标准等制度型开放，推动各国各方共享制度型开放机遇。材料说明

- ①中国提出全球发展倡议，得到国际社会的广泛支持和积极响应
②当今世界经济的显著特征是各国经济高度对外开放和完全融合
③要建设联动型世界经济，凝聚互动合力，让全球化更加有活力
④中国努力构建安全、高效的开放型经济体系，加快培育新优势

A. ①②

B. ③④

C. ①③

D. ②④

22. 下列民事关系中，应按照相邻关系处理的是

①王某和刘某是邻居，王某的狗闯入刘某家，打碎了刘某的花瓶，引起纠纷

②王某经常在阳台晒被子遮挡了楼下刘某家的大部分阳光，协商未果，引起纠纷

③王某在河流上游，为保证稻田的用水量修建拦河坝，使下游刘某可用水量剧减，引起纠纷

④王某想开一家咖啡店，与邻居刘某协商，每年补贴刘某 3 万元，刘某不得开同类型的店

A. ①②

B. ①③

C. ②③

D. ③④

23. 定义是从内涵方面明确概念的逻辑方法，下一个正确的定义不仅要具备相应的科学知识，还要遵循必要的逻辑规则。下列定义不正确的是

①生产关系是指人与人之间的关系

②联言推理是依据联言判断的逻辑性质进行的推理

③质是一事物成为自身并区别于他事物的内部固有的规定性

④科学思维不是主观臆想的、不合逻辑的、片面僵化的思维

A. ①③

B. ①④

C. ②③

D. ②④

24. 《论语》中记载：“质胜文则野，文胜质则史；文质彬彬，然后君子”，有学者认为这蕴含了古代文章之道，有学者则将其引申为中国的服饰美学观。这两种观点都

A. 关注孔子学说的时代性

B. 强调为政以德的重要性

C. 立足于儒家的中庸思想

D. 揭示出了人性善的本质

25. 前秦宰相王猛曾对苻坚留下遗言：“晋虽僻陋吴越，乃正朔相承。亲仁善邻，国之宝也。臣没之后，愿不以晋为图。”王猛去世多年后，苻坚对群臣说：“今奉命于天，吾统承大业垂二十载，四方略定，为（唯）东南一隅未宾王化。”对此解读正确的

A. 中央集权加强有利于统一

B. 民族交融促进边疆开发

C. 南北方民族矛盾日益尖锐

D. 正统观念影响政治决策

26. 唐朝规定三品以上官致仕（退休）后，仍恩准参与国事决策。五品官以上致仕者给半俸，功臣元勋经皇帝特恩，可给全俸；六品以下，则有口分田养老。另外，高官致仕，允留一子领薪侍养。由此可见，唐朝的致仕制度

A. 宣扬了尊老爱幼美德

B. 具有鲜明的差异性

C. 完善了中央行政制度

D. 注重优抚弱势群体

27. 表 1 为明清江南部分府县市镇数情况表, 这一时期市镇的变化主要得益于

表 1

朝代 府别	明代			清代		
	镇数	市数	合计	镇数	市数	合计
苏州府	45	45	90	58	59	117
松江府	42	20	62	97	39	136
镇江府	9	6	15	13	17	30
嘉兴府	30	13	43	29	21	50
湖州府	18	4	22	29	35	64

- A. 经济重心南移的完成
B. 国家统一与社会安定
C. 资本主义萌芽的产生
D. 商品经济的持续发展

28. 表 2 为 1840~1847 年中国农民购买力指数估算表 (1840 年的指数皆为 100)。据此可知, 鸦片战争后

表 2

年份	农民所得物价指数	银钱比价指数	农民购买力指数
1840	100.00	100.00	100.00
1842	104.65	109.09	95.93
1843	93.02	110.61	84.10
1845	77.52	121.21	63.96
1846	77.52	128.79	60.19

(注: ①所得物价指数指出售农产品所得价格; ②银钱比价指数指用银购买的商品数量与用钱购买同样数量商品的指数比率。)

- A. 经济和社会危机日益严重
B. 银贱钱贵现象开始出现
C. 半殖民地化程度逐渐加深
D. 自耕小农经济趋向解体

29. 1913 年二次革命爆发, 国民党部分激烈派议员南下武力倒袁, 部分滞留北京。其中有恋栈的, 亦有想利用国会开展合法斗争的。二次革命失败后, 国民党的武装力量丧失殆尽, 在国会内亦遭到重大打击, 部分国民党议员的立场随之发生改变。这反映了国民党

- A. 已无力承担民主革命重任
B. 放弃了反对专制独裁斗争
C. 具有革命与妥协双重特性
D. 推动中国实现了民主政治

30. 《义勇军进行曲》自 1935 年诞生以来, 因中共的宣传曾一度被禁止。1939 年国民政府将该歌曲编入《中国抗战歌曲集》, 频繁向国际推广。1948 年, 国民政府出台“禁止广播不良歌曲”的清单, 《义勇军进行曲》名列其中。这一变化主要缘于

- A. 中国抗战取得胜利
B. 国民政府统治力的下降

C. 社会主要矛盾改变

D. 美国实行扶蒋反共政策

31. 有学者指出：狩猎经济是以杀害其他生命来满足人类生存的、把其他生命看作敌人的一种原始经济。但是通过农耕，其他生命不再是人类的敌人，而是人类的朋友，从而形成了共生共存的一种文明形态。该学者意在

A. 说明农业革命的意义

B. 宣扬多元一体发展理念

C. 强调文明产生的条件

D. 揭示人类社会发展规律

32. 1077年，德皇亨利四世冒着风雪严寒，前往直意大利的卡诺莎城堡向教皇格列高利七世“忏悔罪过”，史称“卡诺莎之辱”。1309年起，共有7位教皇被迫居住在靠近法国边境的城市阿维尼翁，长达70年之久，被称作“阿维尼翁之囚”。上述事件反映了

A. 西欧正在经历社会转型

B. 教权与皇权的此消彼长

C. 法国君主专制达到顶峰

D. 天主教会统治中心转移

33. 17世纪的英国，印度棉纺织品和印花织物大量流入，引起了毛纺织业者的不满和骚乱。英国议会在1700~1721年间颁布了多项法令，禁止进口和使用印花棉布。1735年，英国议会颁布法令将棉麻混合织物排除在禁令外。英国外贸政策的调整

A. 导致印度沦为英国殖民地

B. 推动英国殖民霸主地位确立

C. 体现了重商主义经济思想

D. 源自工场手工业技术的提升

34. 19世纪末，欧美国家的企业在科研中的地位日益提升。据统计，1901年美国82%的专利颁发给个人，18%颁发给公司；1932年公司所获专利数超过国家颁发专利总数的一半。这反映了


A. 美国已成为世界的科技中心

B. 欧美民众科学素养提升

C. 科研转化为生产力速度加快

D. 国家干预渗透科技领域

35. 图3是苏联的政治漫画。漫画中描绘的是一位美国牛仔。左下角的标题为“搞到了



自己头上”，围绕绳子的文字为“对苏联的制裁”。该漫画意在

图3

A. 揭露美国经济扩张野心

B. 讽刺美国遏制政策的失败

二、非选择题：本题共 10 小题，共 160 分。

36. 阅读图文材料，完成下列要求。（28 分）

连云港市地处江苏省北部沿海，是长三角区域经济一体化成员、新亚欧大陆桥和丝绸之路经济带东方桥头堡、国际性港口城市。连云港港区面向连岛，背倚云台山，有基岩港湾海岸。2015 年，连云港市积极承担“一带一路”战略任务，全面启动上合组织（连云港）国际物流园建设，其位于连云港市东部，距主城区约 30 公里，是承担上合组织以及“一带一路”沿线地区和国家的过境物流中转的核心区域。2021 年，连云港港口型国家物流枢纽入选“十四五”首批国家物流枢纽建设名单，国家物流枢纽是在全国物流网络中集中实现货物集散、存储、分拨、转运多种功能的物流设施群和物流活动组织中心。图 4 示意“一带一路”路线，图 5 示意连云港港区和上合组织（连云港）国际物流园的位置。

（注：上海合作组织，简称上合组织，成员国有中国、俄罗斯、哈萨克斯坦、吉尔吉斯斯坦、塔吉克斯坦、乌兹别克斯坦、印度、巴基斯坦、伊朗。）



图 4

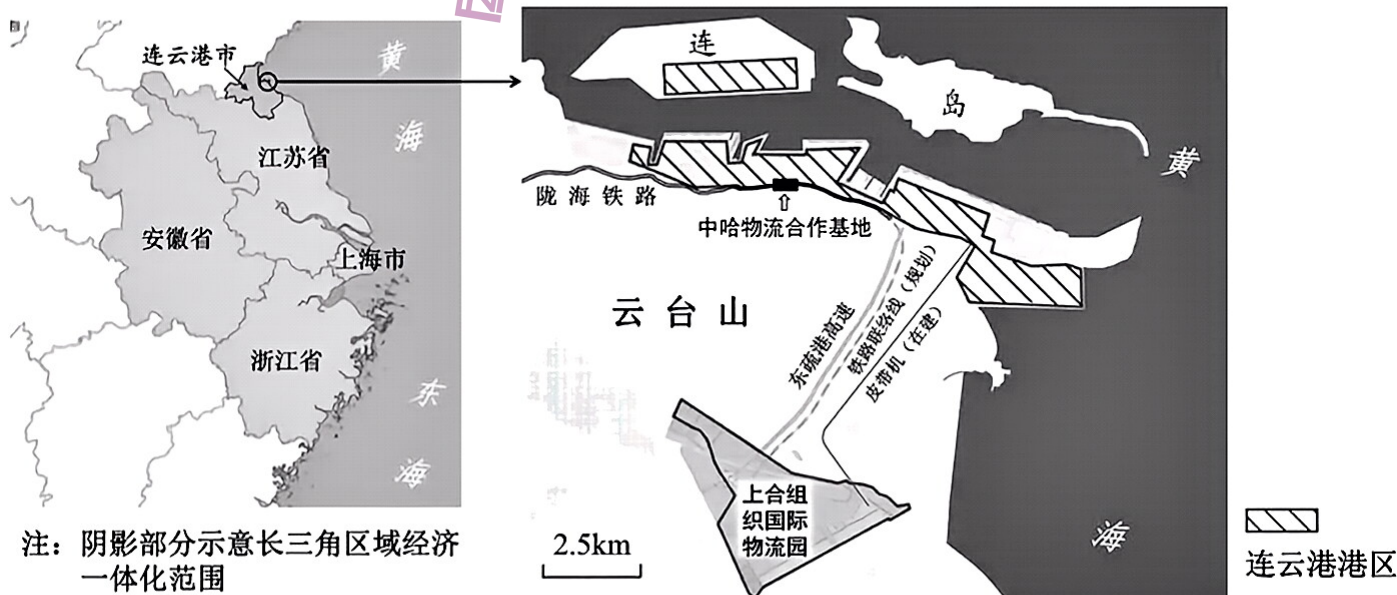


图 5

注：阴影部分示意长三角区域经济一体化范围

(1) 分析连云港港区的优势自然条件。（8 分）

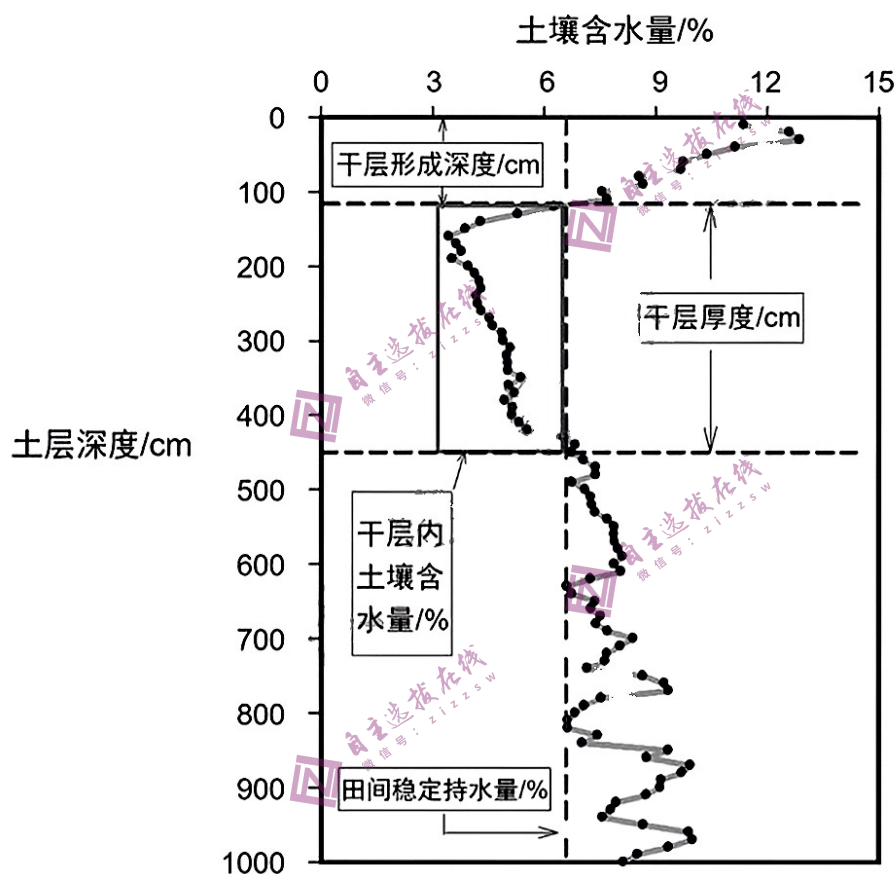
(2) 指出上合组织国际物流园在连云港市东部选址的合理性。(6分)

(3) 分析连云港市成为港口型国家物流枢纽有利的社会经济条件。(8分)

(4) 简述连云港市作为港口型国家物流枢纽在长三角区域一体化发展中的作用。(6分)

37. 阅读图文材料, 完成下列要求。(28分)

土壤干层是指位于多年平均降雨入渗深度以下, 在土壤剖面上形成的干燥化土层(土壤含水量低于田间稳定持水量)。土壤干层在黄土高原地区分布广泛, 图6为黄土高原某地2008年10月土壤干层量化指标在剖面上的示意图。研究表明, 在自然因素和人为因素的长期共同作用下, 黄土高原土壤干层的空间分布范围持续发生变化。黄土高原1961~2010年的平均气温增长了 1.91°C , 年降水量减少了 29.11mm , 自20世纪50年代以来, 人们在黄土高原的半干旱区种植大量的乔木林, 在半湿润区种植高密度、高生物



量的林草树种, 这些人工植被生长到6~10年后开始退化, 大都成为“小老头树”。

图6

(1) 推测黄土高原地区在1961~2010年土壤干层的变化特征, 并分析原因。(12分)

(2) 黄土高原地区土壤干化程度在小范围山地的局地空间上呈现明显的地方性分异规律, 分析不同坡度和坡向对土壤干化程度的影响。(8分)

(3) 运用自然环境整体性的原理, 分析土壤干层对黄土高原地区生态环境的影响。(8分)

38. 阅读材料，完成下列要求。（10分）

调查研究是谋事之基、成事之道。习近平总书记说，“调查研究是我们党的传家宝，是做好各项工作的基本功。”

2023年3月19日，中共中央办公厅印发了《关于在全党大兴调查研究的工作方案》。要求紧紧围绕高质量发展这个全面建设社会主义现代化国家的首要任务，使调查研究的“准星”时刻对准高质量发展这个“靶心”。《方案》号召广大党员干部要多采取“不发通知、不打招呼、不听汇报、不用陪同接待，直奔基层、直插现场”的“四不两直”方式深入调研。要深入基层、找准问题、落实对策，做到抓铁有痕、踏石留印。要建立调研成果转化运用清单，从问题有没有解决、工作有没有提升，评估调查研究的成效。要运用党的创新理论研究新情况、解决新问题，提高调查研究的针对性、科学性和实效性。要使调查研究成为转变作风、增进同群众感情的过程，成为提高履职本领、增强责任担当的过程，真正以推动高质量发展的新成效检验主题教育成果，实现教育实践两手抓、两促进。

结合材料，运用中国共产党的相关知识，说明为什么要在全党大兴调查研究之风？

39. 阅读材料，完成下列要求。（10分）

党的二十大报告指出，必须完整、准确、全面贯彻创新、协调、绿色、开放、共享的新发展理念。

新发展理念是一个系统，从思想指南和实施方略上回答了发展的目的、动力、方式、路径等一系列理论和实践问题，适合于我国社会主要矛盾的变化、面向新发展格局的实际同时适应统筹发展和安全的新要求，集中反映了党对经济社会发展规律认识的深化。贯彻新发展理念是新时代我国发展壮大的必由之路，必须把新发展理念贯穿发展全过程和各领域，实现更高质量、更有效率、更加公平、更可持续、更为安全的发展。

结合材料，运用社会存在与社会意识的相关知识，阐明贯彻新发展理念是新时代我国发展壮大的必由之路。

40. 阅读材料，完成下列要求。（12分）

应俄罗斯联邦总统普京邀请，国家主席习近平于2023年3月20日对俄罗斯进行了国事访问。

习近平主席在同普京总统举行会谈时指出：“中方愿同俄方一道，继往开来，丰富中俄新时代全面战略协作伙伴关系内涵，为两国人民创造更多福祉，为促进人类进步事业作出更大贡献。”双方明确将在8个重点方向开展双边经济合作，并于会谈后签署了农业、林业、基础科研、市场监管、媒体等领域多项双边合作文件。

在乌克兰危机问题上，习近平指出：“中方一贯遵循联合国宪章宗旨和原则，秉持客观公正立场，积极劝和促谈，按照事情本身的是非曲直决定自身立场，始终坚定站在和平一边，站在对话一边，站在历史正确一边。”会谈中，双方达成共识，解决乌克兰危机必须尊重各国合理安全关切并防止形成阵营对抗，拱火浇油，负责任的对话是稳步解决问题的最佳途径。

在对外交往中，我国坚定奉行独立自主的和平外交政策。请结合材料，运用《当代国际政治与经济》的知识对此加以说明。

41. 阅读材料，完成下列要求。（10分）

李某是一名房地产销售员，因业务能力突出，于2022年3月购买一套价值100万的房子。2022年8月，李某与张某结婚，住在李某3月购买的房屋内。婚后李某想辞职炒股，遭到妻子张某拒绝。一番讨论之下，二人书面约定炒股的盈亏均由李某个人负责，与妻子张某无关。不久，李某遭遇车祸不幸身亡，获赔30万，炒股盈利剩余2万。

(1) 双方的财产约定是否有效？为什么？（5分）

(2) 依据材料信息说明张某可以继承李某的哪些遗产及其理由。（5分）

42. 阅读材料，完成下列要求。（10分）

2022年12月1日，《中华人民共和国反电信网络诈骗法》正式施行，这是我国专门为打击治理电信网络诈骗活动制定的“小切口”法律。

电信网络诈骗犯罪近年来持续上升，诈骗手段和技术不断翻新变化，人民群众对此

深恶痛绝。对此，全国人大常委会深入公安执法一线、银行网点以及电信、互联网企业，在对大量案例进行调查和分析、反复论证的基础上，两次公开征求各方意见，总结了打击治理电信网络诈骗的规律，使法律内容有针对性和可操作性，最终出台了该法律。

结合材料，运用分析与综合的辩证关系，分析《中华人民共和国反电信网络诈骗法》出台的过程。

43. 阅读图文材料，完成下列要求。(25分)

材料一

1953年，国家实行“一五”计划，在国家安排的156个重点建设项目中，东北地区占56项。在工业布局上形成特色鲜明的工业基地，例如以长春第一汽车制造厂为核心的长春汽车城、以富拉尔基重型机械厂为中心的机械加工城，还有鞍山钢都、沈阳飞机城等。通过“一五”计划的成功实施，东北在全国范围内最早实行计划经济，形成了比较完整的工业体系，为我国的工业化建设提供了大量先进的机器和设备。

——摘编自赵传军《东北经济振兴与东北亚经贸合作》

材料二

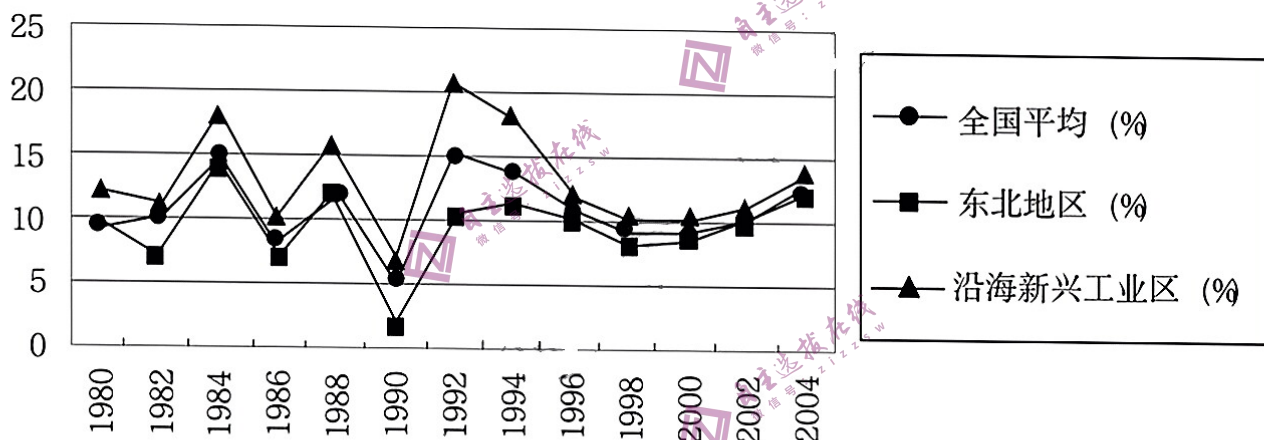


图7 1980~2004年东北与全国及沿海新兴工业区地区生产总值增长速度示意图

——摘编自王胜今、吴昊《中国东北振兴与东北亚区域合作研究》

东北地区企业规模大，大型企业数量多，中小企业数量少。东北的大型企业中，国有经济占82.5%，比全国平均水平高出21.6个百分点。从上个世纪的90年代初，东北老工业基地产业竞争力持续下降。产品类型单一，主要工业品在全国的市场占有率多数在下降。1991~2001年14种主要工业品只有3种市场占有率上升。

——陈才、佟宝全《东北老工业基地的基本建成及其历史经验》

材料三

2018年，习近平总书记在东北考察时强调：在国内发展格局中，“深入推进东北振兴与京津冀协同发展、长江经济带发展、粤港澳大湾区建设等国家重大战略的对接和交流合作”，对外要深度融入共建“一带一路”，建设开放合作高地。……2022年，习近平总书记在中共二十大报告中提出：加快构建以国内大循环为主体、国内国际双循环相互促进的新发展格局。……推动西部大开发形成新格局，推动东北全面振兴取得新突破，促进中部地区加快崛起。

分)

- (2) 根据材料二并结合所学知识, 说明改革开放以来东北地区经济发展速度变化的趋势及其基本原因。(12分)
- (3) 根据材料并结合所学知识, 指出新时代国家提出“推动东北全面振兴取得新突破”的战略意义。(5分)

44. 阅读材料, 完成下列要求。(12分)

材料

1912年, 蔡元培发表了《对于新教育之意见》, 首次明确提出并系统阐述了军国民教育、实利主义教育、公民道德教育、世界观教育、美感教育等教育思想。表3为民国时期多所大学入学考试中的作文题目统计表。

表3

类型	数量	百分比	举例
军国民教育	31	27.4	现时培养建设需要人才当以何为最急, 试详陈所见 试述增加行政效率之方法 关于抗日运动之意见
实利主义教育	26	23.0	我从投考大学到毕业以后的全部计划 安定战后民生以何为急务 求学所以致用
公民道德教育	34	30.1	己欲立而立人己欲达而达人说 大学生读书应持的态度 孔子与墨子
世界观教育	17	15.1	科学的价值 医学与人生 我之人生观
美育	5	4.4	晚霞 西湖的夏 记述童年中最深刻的一段印象

根据材料并结合所学知识, 就材料整体或其中任意两点拟定一个论题, 并予以阐述。(要求: 论题明确, 持论有据, 论证充分, 表达清晰。)

45. 阅读材料，完成下列要求。（15分）

材料

人们很早就形成了收藏并欣赏前人遗物的思想。或出于对先人成就的崇拜，或出于强烈的宗教热情。

18世纪下半叶，欧洲人考古的兴趣逐渐由挖宝转到了对历史和文化的研究，包括对建筑遗址的研究。人们逐渐认识到文物所具有的科学价值。

法国大革命之后，人们开始把祖先留下的具有重要历史文化价值的公共财物尤其是那些具有历史意义的建筑物视作文化遗产。雨果在《向文物的破坏者宣战》中强烈呼吁国家将历史建筑等视为公共利益的一部分，并立法保护。1830年，法国任命了第一位历史建筑监察官，1837年成立全国性历史文物委员会，1840年开始对历史建筑进行登录与保护。此后，英、德、意等国都通过了相关法律并公布了国家古迹。

1972年通过的《世界遗产公约》第一次明确提出了“文化遗产”的概念。对缔约国在文化遗产保护和利用方面的责任和义务作了清晰地界定，要求每个缔约国都应该竭尽全力、最大限度地保护好本国的文化遗产，必要时可以利用所能获得的国际援助和合作，特别是财政、艺术、科学及技术方面的援助和合作。

——摘编自王新文等《回到原点的追问：试论人类文化遗产保护思想的发展演变》

- (1) 根据材料，概括世界近现代文化遗产保护的主要变化。（8分）
- (2) 根据材料并结合所学知识，分析文化遗产保护变化的原因。（7分）