

2023 年河南省五市高三第二次联考

文科综合能力测试

本试题卷分为第 I 卷(选择题)和第 II 卷(非选择题)两部分。考生作答时,将答案答在答题卡上,在本试题卷上答题无效。考试结束后,监考老师只收答题卡。

注意事项:

1.答题前,考生务必将自己的姓名、准考证号填写(涂)在答题卡上。考生要认真核对答题卡上粘贴的条形码的“准考证号、姓名”与考生本人准考证号、姓名是否一致。

2.第 I 卷每小题选出答案后,用 2B 铅笔把答题卡上对应题目的正确答案标号涂黑,如需改动,用橡皮擦干净后,再选涂其他答案标号。第 II 卷用黑色墨水签字笔在答题卡上书写作答,在试题上作答,答案无效。

3.本试卷共 47 题,共 300 分,考试时间 150 分钟。

4.考试结束,监考教师将答题卡收回。

第 I 卷(共 140 分)

本卷共 35 个小题,每小题 4 分,满分 140 分。在每小题给出的四个选项中,只有一项是符合题目要求的。

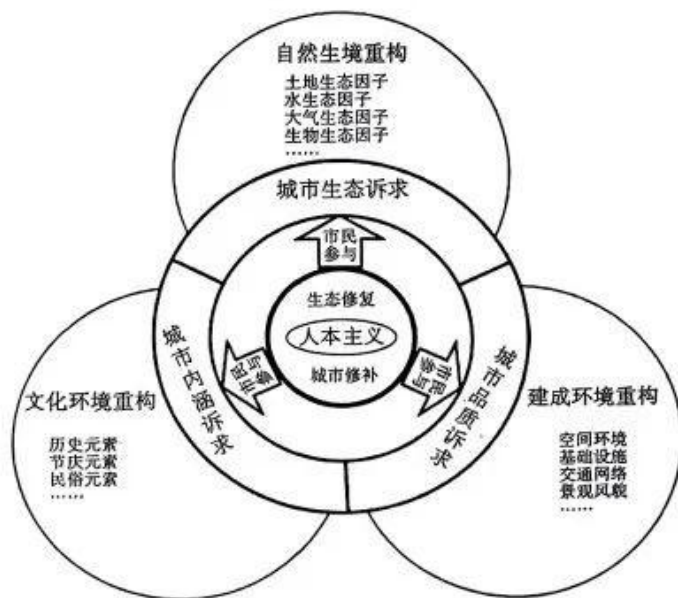
“城市双修”是以生态修复和城市修补为内容,集市民对美好生活中生态品质和内涵诉求于一体的复杂系统工程。下图为“城市双修”工程实施价值导向。据此回答 1~3 题。

1.“城市双修”理念的核心是

- A.经济发展 B.生态修复
C.为人服务 D.城市修复

2.根据“城市双修”理念,提升城市品质应采取

- ①开展水系治理、山体修复、绿化空间建设与管理工
②完善城市空间布局、基础设施建设、公共服务、景观风貌等
③主动保护、传承和提升彰显城市特色的历史遗迹、文化遗址
④重构与城市活力不协调的城市单元



- A.①② B.②③ C.③④ D.②④

3.“城市双修”理念产生有利于城市的

- ①空间增长模式由质的优化转变为量的增长 ②发展方式由投资驱动转向创新驱动
③空间利用方式由粗放建设转向精细化管理 ④建设模式由城市治理转向城市管理

- A.①② B.②③ C.③④ D.②④

江苏省泰兴现代农业产业园位于泰兴市新街镇金干村,包含科技创新服务中心、农业科技园、智能温室、高效农业种植园、畜禽养殖园、农产品加工园等。超悦农业位于该农业产业园内,是一家专业从事酱卤肉制品研发、生产和销售的企业,其年产1.5万吨酱卤肉制品和5000吨方便菜肴,为1200多家门店供货。通过链动上下游,江苏超悦农业让鲜食卤制品香飘四方,销售网络已覆盖长三角地区。据此回答4~6题:

4.该农业产业园的最大优势表现在

- A.配套设施完善 B.形成上下游产业链 C.地理位置优越 D.政策支持

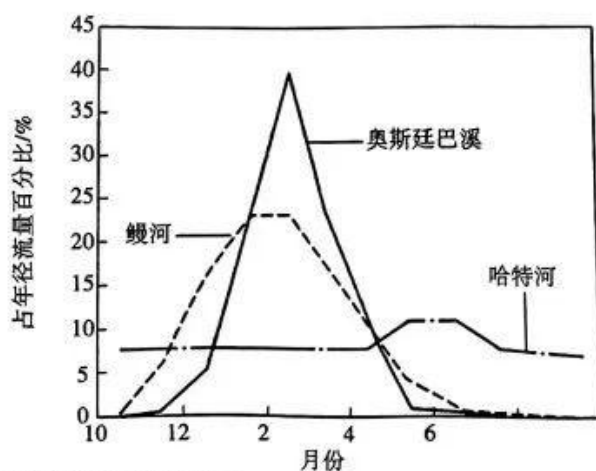
5.超悦农业选址泰兴现代农业园考虑的最主要因素是

- A.劳动力丰富 B.地价低廉 C.原料丰富 D.交通便利

6.通过链动上下游,超悦农业

- A.产品质量提高 B.产品产量稳定 C.产品市场扩大 D.产品种类增多

鳊河流域(40°N)位于美国西部海岸山脉西坡,奥斯廷巴溪流域(37°N)位于西部海岸山脉的东坡,哈特河流域(41°N)位于美国西部的莫多克高原地区,三条河流所在的流域内降水均发生在11月至次年3月,河流月均径流量的百分比受流域内岩石性质影响很大。下图为该三条河流月均径流量百分比图。据此回答7~8题。




7.根据图文信息表述,下列描述正确的是

- A.鳊河流域降水最为丰沛 B.三个流域的降水主要来自大西洋
C.奥斯廷巴溪流域降水最为丰沛 D.三个流域降水的成因主要是季风环流

8.三个流域中,有一条河流附近有火山活动,根据图中信息推测该流域为

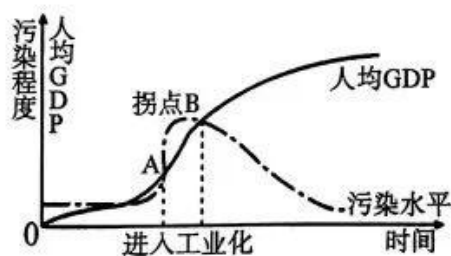
- A. 夔河流域 B. 奥斯廷巴河流域 C. 哈特河流域 D. 无法判断

2021年夏天,某中学学生在教师的带领下前往秦岭主峰太白山开展地理研学实践活动,观察到了山脊线南北的林线(森林的上界)差异及壮丽的云海(云顶高度低于山顶高度的云层)景观,拍摄了照片并进行了简单的数据记录(见下图)。①处为冰川侵蚀地貌“石河”。方位角是从某点的正北方向线起,依顺时针方向到目标方向线之间的水平夹角。据此回答9~11题。



9. 判断有云海出现的 A 侧坡向
- A. 西北坡, 迎风坡 B. 西北坡, 背风坡 C. 东南坡, 迎风坡 D. 东南坡, 背风坡
10. 下列关于 A 侧云海景观的叙述正确的是
- A. 夏季暖湿气流北上形成此次云海景观
- B. 此次云海景观可能是北方冷空气携水汽受秦岭阻挡形成的
- C. 秦岭云海一定出现在水汽丰富的南坡
- D. 秦岭云海多数是秦岭阻挡北方冷空气形成的
11. 下列关于南北坡林线差异形成原因的叙述正确的是
- ①南坡水热条件好, 林线高于北坡 ②南坡蒸发旺盛, 水分含量不足
- ③南坡多冰川侵蚀地貌, 土壤水分含量高 ④南坡多冰川侵蚀地貌, 土壤贫瘠
- A. ①② B. ③④ C. ②③ D. ②④
12. 东航物流集团将“混”与“改”紧密结合, 引入非国有投资者合计持股 45%, 管理层和核心业务骨干持股 10%, 东航国有资本持股 45%, 形成了各治理主体之间“各司其职、各负其责、运转协调、有效制衡”的良好局面, 2021 年东航物流上市公司股东的净资产为 109.80 亿元, 2022 年 1—9 月盈利约 29.43 亿元, 同比上年增长 21.39%。由此可见, 东航混改
- ①引入非公有资本, 实现多种所有制资本优势互补
- ②不断增强国有资本控制力, 保持国有资本绝对控股地位
- ③全体股东对公司债务承担无限责任, 减轻债务负担
- ④放大国有资本的功能, 推动国有资本保值增值
- A. ①② B. ①④ C. ②③ D. ③④

13. 2023年3月17日,中国人民银行宣布,决定于3月27日降低金融机构存款准备金率0.25个百分点,预计本次降准向银行体系释放中长期流动性约5500亿元,降低银行资本成本约70亿元,提升金融服务实体经济的能力和质效,更好地支持重点领域和薄弱环节。这一政策预期影响的传导路径是
- A.降低银行机构资金成本→利好资产负债管理→有效缓解银行负债→降低银行金融风险
B.拓宽中小企业融资渠道→降低实体经济融资成本→缓解企业融资发展困境→提升企业经济效益
C.增强银行体系放贷能力→保持市场流动性充裕→稳定市场预期→促进宏观经济平稳运行
D.增加货币投放→满足客户资金结算需求→国内经济回暖预期升温→需求恢复节奏加快
14. 以工代赈是指政府投资建设基础设施工程,赈济者参加工程建设获得劳务报酬,以此取代直接赈济的一项扶持政策。2022年7月,国家发展改革委下发《关于在重点工程项目中大力实施以工代赈促进当地群众就业增收工作方案》提出,通过在交通、水利、能源等重点工程项目建设中引入“以工代赈”方式,鼓励各地组织困难群体参与工程建设,从而促进返乡农民工、脱贫人口、防止返贫监测对象等实现就业增收。实施以工代赈
- ①增加农民经营性收入,增强消费信心 ②稳就业促就业,增强经济发展韧性
③丰富社会救助形式,兜住民生底线 ④有利于促进社会公平,改善民生
- A.①② B.①③ C.②④ D.③④
15. “环境库兹涅茨曲线”是通过人均GDP与环境污染指标之间的演变模拟,说明经济发展对环境污染程度的影响。我国经过全面治理期,目前已经临近库兹涅茨曲线拐点,并有望2050年前后度过拐点。对此,下列分析合理的是



- ①我国的经济水平与环境质量始终成正比关系
②工业化发展水平是环境改善的根本原因
③支持绿色技术发展有助于推动企业改善环境质量
④我国实施的碳达峰、碳中和政策有助于拐点的出现
- A.①② B.①③ C.②④ D.③④
16. 2023年3月7日,根据国务院关于提请审议国务院机构改革方案的议案,组建国家金融监督管理总局。统一负责除证券业之外的金融业监管,强化机构监管、行为监管、功能

监管、穿透式监管、持续监管,统筹负责金融消费者权益保护,加强风险管理和防范处置,依法查处违法违规行为。这有利于

- ①坚持对人民负责,避免系统性风险
- ②强化金融监管职责,稳定金融秩序
- ③权责明确,推进政府依法行政
- ④深化机构改革,拓展政府职能

A.①② B.①④ C.②③ D.③④

17.2023年全国政协增设的环境资源界别也将正式亮相。这是继1993年第八届全国政协增设经济界别后,时隔30年,全国政协再增新界别。新一届全国政协委员共计2172人,新设的环境资源界别有85人,是人数较多的界别,其成员包括环境资源领域的党政领导干部、专家学者等。政协设立新界别

- ①有利于发挥社会主义协商民主的独特优势
- ②对环境资源建设重大事项行使国家权力
- ③是完善我国国家治理体系的重要举措
- ④作为亲密友党为国家建设建言献策

A.①② B.①③ C.②④ D.③④

18.国家主席习近平于3月20日至22日对俄罗斯进行国事访问。自2013年以来,这是习近平主席第九次踏上俄罗斯的国土进行国事访问,是习近平主席再次就任国家主席后的首次国事访问,是一次友谊之旅、合作之旅,也是一次重要的和平之旅。国际舆论高度关注,普遍认为习近平主席此次俄罗斯之行是全球地缘政治中影响深远的大事,展现了中国作为“和平建设者”的国际形象。此次国事访问

- ①有利于维护国际公平正义,树立了新型大国关系典范
- ②从中俄两国的根本利益出发,扩大共同利益交叉点
- ③彰显大国担当,有助于推进世界多极化和国际关系民主化
- ④把维护世界和平,促进共同发展作为外交政策的首要目标

A.①② B.①③ C.②④ D.③④

19.2023年3月11日,人民日报新媒体刊发最新双语宣传片《最炫中国风》,短短的两分三十六秒,青花瓷、茶叶、书法、十二生肖、十二时辰、二十四节气、诗词歌赋、戏剧、汉字、山水画等中华优秀传统文化因素如一幅画卷徐徐铺开,一个充满吸引力、表现力、想象力、自信力、创造力的美丽中国正在大步迈向民族复兴的美好未来。这表明

- ①要把继承优秀传统文化作为文化创新的根基
- ②传统文化的传承以现代传播手段的运用为前提
- ③要推动中华优秀传统文化创造性转化、创新性发展

高三文科综合能力测试 第5页 (共16页)

④优秀传统文化是中华民族伟大复兴的精神支柱和动力

A.①②

B.①③

C.②④

D.③④

20.连日来,由中央网信办主办的2022中国正能量“五个一百”网络精品征集评选展播活动正在火热进行。“五个一百”立足新时代新征程新伟业,征集评选一批弘扬主流价值、传播主流声音的好作品,让正能量在网络空间洋溢,浸润人们的心灵,引导更多的人践行社会主义核心价值观,激荡起更多逐梦者的壮志豪情,为实现中华民族伟大复兴的中国梦不懈奋斗。关于这一活动,说法正确的是来源:高三答案公众号

①人民群众是主体,做好中国先进文化的积极引领者和践行者

②伟大实践是根本,确立社会主义先进文化的前进方向

③文化激荡看主导,发挥中国特色社会主义文化的导向和示范作用

④文化强国是目标,坚持走中国特色社会主义文化发展道路

A.①②

B.①④

C.②③

D.③④

21.漫画《三个和尚挑水喝》(下图)启示我们



①要充分发挥主观能动性,调动各方面的积极性

②要坚持实事求是,把革命热情同科学态度结合起来

③要通过关键要素的变化,引起整体功能的改变

④要调整优化系统的内部结构,促进系统发展

A.①③

B.①④

C.②③

D.②④

22.中国载人航天30年逐梦苍穹,循序渐进完成“三步走”。面对航空航天和机械制造等高端领域依赖进口的“卡脖子”的难题,30年来,我国先后研制、发射了载人飞船、突破和掌握了空间出舱活动、航天员中长期在轨驻留等许多关键技术,2022年底完成中国载人航天工程立项时制定的“三步走”发展战略的最后一步,把中国载人航天工程推向高潮。对此进行的哲学解读合理的是

①实践活动具有社会历史性与主观能动性

②事物的发展是前进性与曲折性的统一

③实践产生的新问题推动人们不断进行新的探索和研究

④事物的发展是由量变到质变循环往复的过程

高三文科综合能力测试 第6页 (共16页)



- A.①② B.①③ C.②④ D.③④
- 23.60年前,“雷锋出差一千里,好事做了一火车”的故事广为流传,毛泽东同志题词“向雷锋同志学习”,一个甲子以来,以一心一意跟党走、全心全意为人民服务为核心的雷锋精神广为弘扬、赓续传承;新时代,在实现中国梦的伟大征程中,一批又一批雷锋式先进集体和模范人物,自觉把个人追求融入为党和人民事业奋斗中,为新时代伟大变革注入了不竭精神动力。这启示我们
- ①奉献精神是拥有幸福人生的根本途径
②社会提供的客观条件是创造和实现人生价值的前提
③要把正确的道德认知和积极的道德实践紧密结合起来
④要把维护人民利益作为自己最高的价值追求
- A.①② B.①③ C.②④ D.③④
- 24.青铜时代是中国历史的重要时期。商朝的甲骨文、周朝系统的文化体系与政治秩序、官僚政府的体制、诗书礼乐的文化、忠孝仁义的道德观都形成于这一时期。由此得出青铜时代
- A.深刻表明中华文化领先于世界 B.明确指出中华文明的发展方向
C.突出彰显商周王权的正统地位 D.基本奠定中国文化的发展基础
- 25.东汉初年,光武帝遵循道家的“无为”原则为政,“务用安静”,对自己的儿子都不愿提起战争之事。他曾说“吾理天下,亦欲以柔道行之”,这里的“柔道”就是黄老道家所说的“守柔曰强”的“柔”。这反映了
- A.儒家思想已不能适应时代发展潮流 B.统治者为了恢复经济及时进行政策调整
C.道教的发展冲击了儒学的正统地位 D.黄老道家再次被统治者作为主流思想
- 26.唐宪宗时,商业领域出现了“飞钱”。“飞钱”亦称“变换”,由商人在京城把钱交给地方某道设在长安的进奏院,或者交给某军府、某使节、某富家,凭文券再到指定地方取现钱。“飞钱”的出现
- A.适应了商品经济发展的需要 B.直接催生了商帮出现
C.增加了中央政府的财政收入 D.有利于完善货币体系
- 27.清初统治者十分重视地理测绘工作。康熙曾组织人力对全国进行测量,经过三十余年的筹划、测绘,绘制成了《皇舆全览图》;乾隆时期也两次派人到新疆等地测绘,根据新测绘资料,绘制成了《内府皇舆全图》。这些做法表明
- A.统治者已具备近代国家疆域观念 B.边疆危机危及到清朝的统治
C.政府十分重视对边疆地区的管辖 D.中央对地方的控制大大增强
- 28.清末,一些维新派人士在文学艺术领域进行了新的探索 and 创造。黄遵宪首先提出“我手写我口”的诗歌创作原则,以冲破旧体诗词形式的束缚,并以自己诗歌创作的实践,成为
- 高三文科综合能力测试 第7页 (共16页)

- 近代“诗界革命”的先驱。由此可知,黄遵宪
- A.掀起了文学革命的序幕
B.最早主张用白话文取代言文
C.意在维新变法救亡图存
D.对旧体诗词持全面否定的态度
- 29.传统观点认为“罢黜百家,独尊儒术”源自于汉代儒生董仲舒,但有学者提出:目前所见最早且确切的“罢黜百家,独尊儒术”出自蔡元培 1910 年所著《中国伦理学史》。1916 年易白沙在《青年杂志》上发表文章,对该观点进行了论证。随后,这一观点逐渐被清末民初的学者所接受。这种变化表明
- A.现实需要影响历史解释
B.历史记录的解读具有偶然性
C.思想解放始于历史争鸣
D.知识分子是救亡图存的核心
- 30.1944 年,中共中央发出《关于城市工作的指示》,要求各中央局、各区党委必须把城市工作与根据地工作作为自己同等重要的两大任务,而负起准备夺取所属一切大、中、小城市与交通要道的责任来。这表明
- A.党中央着手准备工作重心的转移
B.各地方干部完全忽视了城市工作
C.中国革命即将迎来决定性的胜利
D.党中央意识到城市工作的重要性
- 31.20 世纪 80 年代以来,我国钢产量迅速增长,至 2002 年达到 18224.89 万吨;同时,钢材品种结构也不断得到改善,国民经济发展需要的特殊品种和高附加值品种大幅增加。造成这些变化的主要原因是
- A.社会主义市场经济体制的不断完善
B.改革开放的不断深入与发展
C.我国实现与世界经济的全方位接轨
D.国家重视和优先发展重工业
- 32.公元前 242 年,罗马统治者开始任命专门审理涉及外邦人案件的裁判官。这些裁判官的判例和颁发的告示成为罗马法的新因素,被称为裁判官法和大法官法。由于这些法律适用于罗马公民和非公民,因此也被称为万民法。这表明万民法
- A.体现了罗马各阶层人民的利益
B.有效维护了罗马社会稳定
C.讲求贴近生活实际和灵活变通
D.都是由裁判官主持修订的
- 33.恩格斯说:“这一观念(对人类不平等的批判)特别是通过卢梭起了一种理论的作用,在大革命中和大革命后起了一种实际的政治的作用,而今天在差不多所有国家的社会主义运动中仍然起着巨大的鼓动作用。”这一观念
- A.体现了鲜明的浪漫主义特征
B.具有自然法的永恒普适精神
C.强调了理性对社会的反作用
D.是西方古典文化复兴的产物
- 34.1962—1963 年底,苏联经济学界就“价值规律在社会主义社会里的意义和作用”展开了热烈的讨论,并把东欧的民主德国、波兰、捷克斯洛伐克、匈牙利、保加利亚、罗马尼亚等国的经济学界也卷了进来。由此可知
- A.市场因素在社会主义阵营得到充分重视
B.新经济政策在苏联得以延续

C.这场讨论为苏联的改革提供了理论基础 D.斯大林模式受到一定的冲击

35.1985年9月22日,美、日、英、法、德五国在纽约的广场酒店签署“广场协议”,规定:针对国际收支不平衡,各国共同介入市场,诱导美元对日元、马克等货币贬值。此后,各国央行纷纷加强对外汇市场的介入。这一经济现象说明

- A.布雷顿森林体系彻底崩溃 B.国家干预经济模式得到各国认可
C.美国的经济实力相对衰落 D.国际经济政治新秩序已确立起来

第Ⅱ卷(非选择题 共160分)

本卷包括必考题和选考题两部分。第36题~42题为必考题,每个试题考生都必须作答。第43题~47题为选考题,考生根据要求作答。

(一)必考题:共135分。

36.阅读图文资料,完成下列要求。(24分)

材料一 世界最大电子产品代工企业——富士康科技集团是专业从事计算机、通讯、消费性电子等3C产品研发制造的高科技企业,于1974年在台北创立,之后其主要生产基地一直在中国大陆不断转移(见下图)。2010年,富士康在河南郑州建厂,其中航空港厂是郑州富士康总部,是全球最大的iPhone生产基地,雇用了35万名工人,全球大约一半的苹果手机都来自郑州的富士康工厂。

材料二 2016年,富士康投资50亿美元在印度开设工厂,但其在生产过程中遇到各种问题,最后关闭了在印度的工厂。2018年,富士康在美国威斯康星州建厂,该州为吸引富士康建厂,承诺为其提供巨额补贴。



数字为各城市当年7月份最低月工资(单位:元)

(1)说明富士康企业在中国大陆不断转移的原因。(4分)

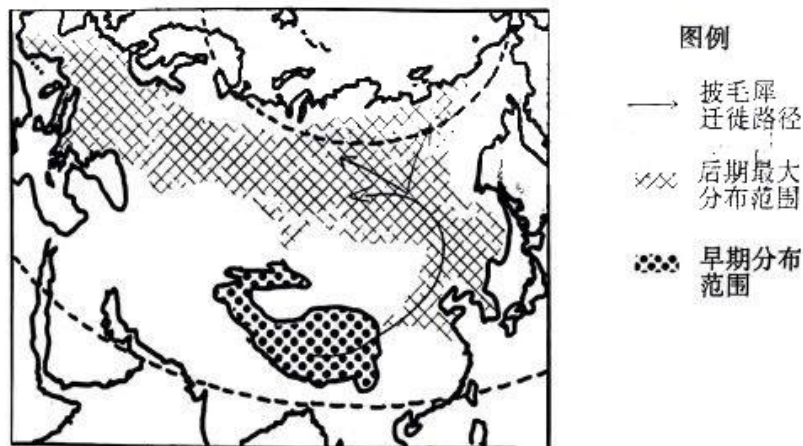
高三文科综合能力测试 第9页 (共16页)

- (2)说出富士康落户河南郑州对郑州市产生的有利影响。(8分)
- (3)推测富士康在印度建厂时遇到了哪些困难。(4分)
- (4)虽然劳动力成本很高,但是富士康却在美国建厂,分析其原因。(8分)

37.阅读图文资料,完成下列要求。(22分)

材料一 2011年,中科院学者在青藏高原发现了目前已发现最原始的披毛犀化石(距今约370万年)。披毛犀为大型食草动物,全身披毛,适应寒冷环境。其长达1米的鼻角可以刮开冰雪,找到干草。

材料二 伴随着青藏高原不断隆起以及第四纪(260万年前至今)气候变化,披毛犀的活动位置发生过两次大迁徙,第一次是由青藏高原逐渐向我国华北、东北迁徙,第二次是由我国华北、东北北迁至西伯利亚,并最终在距今约1万年前的新石器时期灭绝。近年来,科学家在西伯利亚地区永久冻土层发掘出多具完整披毛犀遗体。



- (1)推测披毛犀两次迁徙时分别对应的气候变化情况。(4分)
- (2)面对气候变化,生活在我国东北的披毛犀族群选择北迁而不是退回至青藏高原,试分析其原因。(4分)
- (3)关于披毛犀灭绝的主要原因,观点一认为是自然环境快速变化,观点二认为是人类的大规模捕杀。你支持哪种观点?请说明原因。(6分)
- (4)分析西伯利亚地区披毛犀遗体能保存完好的地理条件。(8分)

38. 阅读材料,完成下列要求。(14分)

推动高质量发展必须推进高水平对外开放。党的二十大报告提出,稳步扩大规则、规制、管理、标准等制度型开放。制度型开放成为推进高水平对外开放的出发点和落脚点。

顺应全球化发展新趋势,中国深度参与世界合作,我国在全球治理中的国际地位与话语权逐步凸显。通过高质量制度型开放进一步实现规则等制度的“引进来+走出去”,创新跨境资本流动及投资合作的制度标准,打造国际投资与贸易活动的“新契约”,2022年中国高技术产业实际使用外资同比增长31.1%;实施的全国与自贸试验区“外资准入负面清单”分别缩减进一步压缩了6.1%和10%,坚持制造领域开放与服务领域开放更好结合,落实RCEP、《数字经济伙伴关系协定》等高标准国际经贸规则协定,带动服务业新模式新业态。据统计,2022年全年我国服务进出口总额59801.9亿元,同比增长12.9%,知识产权使用费、金融服务等新兴服务贸易份额稳步提升;从制度上打通关节,破除有形和无形贸易壁垒,为商品和要素流动带来新的更公平、更广阔的空间,推动全球制度型开放,做开放型世界经济的建设者和贡献者。

结合材料并运用经济生活知识,分析制度型开放一系列举措对我国经济的积极影响。(14分)

39. 阅读材料,完成下列要求。(12分)

坚持人民立场,是全过程人民民主的核心要义。

2023年3月13日,十四届全国人大一次会议高票表决通过关于修改《中华人民共和国立法法》的决定。修改立法法是贯彻落实党的二十大精神、中央人大工作会议精神和党中央决策部署的重要举措。本次立法法的修订,在以下几个方面完善和发展了全过程人民民主。

增加全国人大代表对法律案的讨论和发表意见的机会,多组织全国人大代表进行研读讨论、多征求全国人大代表的意见,扩大了全国人大内部立法活动的民主化水平;大力推进“开门立法”,新修改的立法法专门增加了有关加强立法宣传工作的内容,规定全国人民代表大会常务委员会工作机构加强立法宣传工作,通过多种形式发布立法信息、介绍情况、回应关切;“以点带面”完善基层群众和组织参与立法制度,健全全过程人民民主的基层触角。本次修订,明确要求将基层立法联系点制度上升为法律制度,实现“家门口的法”……立法法的修改,贯彻体现了全过程人民民主,必将彰显“中国之治”的巨大优势,不断开辟“中国之治”新境界。

高三文科综合能力测试 第11页 (共16页)

结合材料,运用政治生活知识,说明全国人大对立法法的修改是如何坚持以人民为中心的。(12分)

40.阅读材料,完成下列要求。(26分)

从党的二十大概括提出并深入阐述中国式现代化理论以来,“中国式现代化”成了国内外备受关注的热门话题之一。在交流互鉴中共同发展进步,在理论和实践上不断实现新的超越,中国式现代化正为人类文明发展进程贡献出更多智慧。

在党的二十大精神研讨班开班式上,习近平总书记强调:“中国式现代化,深深植根于中华优秀传统文化,体现科学社会主义的先进本质,借鉴吸收一切人类优秀文明成果,代表人类文明进步的发展方向,展现了不同于西方现代化模式的新图景,是一种全新的人类文明形态”。

2023年3月15日习近平总书记出席中国共产党与世界政党高层对话会,发表题为《携手同行现代化之路》的主旨讲话,指出我们将始终把自身命运同各国人民的命运紧紧联系在一起,努力以中国式现代化新成就为世界发展提供新机遇,为人类对现代化道路的探索提供新助力,为人类社会现代化理论和实践创新作出新贡献。这一主旨讲话面向世界首次提出全球文明倡议,即共同倡导尊重世界文明多样性,共同倡导弘扬全人类共同价值,共同倡导重视文明传承和创新,共同倡导加强国际人文交流合作。全球文明倡议是人类文明多样性的现实需求,为推动人类社会现代化进程、繁荣世界文明百花园提供了极具时代意义的中国方案。

(1)中国式现代化创造了人类文明的新形态。结合材料,运用“事物矛盾问题的精髓”的知识对此加以说明。(12分)来源:高三答案公众号

(2)结合材料,运用文化生活相关知识,分析全球文明倡议的合理性。(10分)

(3)文明因交流而精彩,文化因多样而丰富。2023年恰逢习近平总书记提出共建“一带一路”倡议十周年。请你为中国与沿线国家进行文明交流互鉴撰写一个活动方案(包括活动主题、目的、内容等),字数在150字以内。(4分)

41. 阅读材料, 完成下列要求。(25分)

材料一: 法国是一个从传统小农经济向现代化大农业转变的比较晚的国家。由自下而上的政治现代化先行而启动了法国的现代化, 促使法国经济从传统走向现代的突破口是交通运输的变革。交通的巨大变革打破了农村内部的孤立和城乡之间的隔离, 统一的国内市场, 带动了重工业的发展, 为农业现代化创造了条件。真正意义上的现代化在二战以后才得以最终实现, 政府推动土地适度集中, 大力推行农业机械化、电气化、化学化和良种化, 重视农业科学研究、推广, 对农村社会进行现代化改造, 使农村与城市交融, 传统农民转化为现代人, 法国才最终实现了现代化。

——摘编自许平《法国农村社会转型研究》

材料二: 新中国成立后以高度集中的计划经济体制实现现代化, 在短时期内建立了比较完整的现代工业体系。但最大的弊病是城市里的现代工业与农村里的传统农业同时共存, 形成了二元社会结构, 阻滞了农村现代化的进程。中共十一届三中全会开启了真正意义上的全面开展现代化建设的新阶段, 使农民发挥主动性和创造性, 积极探索农村现代化发展的新道路, 先后搞起了家庭联产承包责任制、乡镇企业和小城镇建设, 形成了以土地资源带动农村工业化的新模式, 成为目前中国农村社会转型的主导模式。

——摘编自陆学艺《中国农村现代化道路研究》

- (1) 根据材料一、二, 概括中法两国农村社会现代化的基本特征。(8分)
- (2) 根据材料二并结合所学知识, 指出十一届三中全会前后中国农村现代化道路的变化, 并分析其原因。(12分)
- (3) 综合上述材料, 指出中法两国农业现代化道路对我国当代农村建设的启示。(5分)

42. 阅读材料, 完成下列要求。(12分)

材料: 中国文化丰富多彩, 中国思想博大精深, 因而中国文化的基本思想也不是单纯的, 而是一个包括诸多要素的统一体系。这个体系的要素主要有四点: 刚健有为、和与中、崇德利用、天人协调。其中天人协调思想主要解决人与自然的关系; 崇德利用思想主要解决人自身的关系, 即精神生活与物质生活的关系; 和与中思想主要解决人与人的关系, 包括民族关系, 以及君臣、父子、夫妇、兄弟、朋友等人伦关系; 刚健有为思想是处理各种关系的人生总原则。四者以刚健有为思想为纲, 形成中国文化的基本思想体系, 可以说是中华文化的基本精神。

——摘编自张岱年、程宜山《中国文化精神》

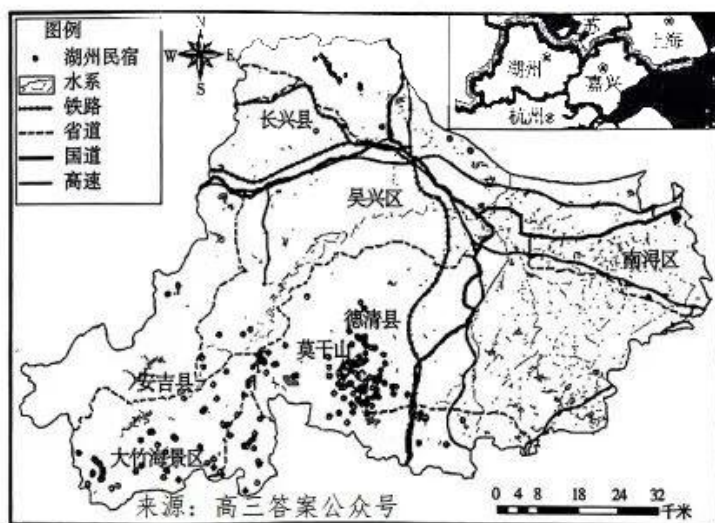
高三文科综合能力测试 第13页 (共16页)

结合所学知识,就中国文化的的一个或多个要素,自拟一个论题并进行阐述。(要求:观点明确,论证充分,史实准确,表述清晰)

(二)选考题:共 25 分。请考生从 2 道地理题、3 道历史题中每科任选一题作答。并用 2B 铅笔在答题卡上将所选题目对应的题号方框涂黑。按所涂题号进行评分,不涂、多涂均按每科所答第一题评分;多答按每科所答第一题评分。

43.【地理——选修 3:旅游地理】阅读材料,完成下列要求。(10 分)

民宿指利用当地民居等相关闲置资源,为游客提供体验当地自然、文化与生产生活方式的小型住宿设施。其经营用客房不超过 4 层、建筑面积不超过 800m²,主人参与接待。浙江省乡村民宿发展要数湖州市民宿尤其是位于西南山地丘陵区莫干山景区、大竹海景区民宿最具有代表性,其拥有优良的发展环境,已然走在了全国民宿发展的前列,吸引了大量游客前往体验的同时也吸引着更多社会资本的投入、创业人员的青睐。下图为湖州市民宿与交通分布图。



(1)分析湖州市西南地区发展民宿旅游的条件。(6 分)

(2)指出湖州市民宿分布与不同等级交通线的相关性。(4 分)



44.【地理——选修6:环境保护】阅读材料,完成下列要求。(10分)

位于河南省S县县城西关的护城河由于河道堵塞,水体污染,夏季臭气熏天,周边居民苦不堪言,严重影响了周边居民生活,也影响了S县县城的整体形象。为治理河道污染并改善周边环境,地方政府出资对部分河道进行升级改造。河道用混凝土硬化,河面宽度缩小以后用混凝土板全部封闭,两边堆土种植花草树木,完工之后这里形成了一条长836米、宽6米的居民休闲长廊。

评价该河段升级改造以后对环境的影响。

45.【历史——选修1:历史上重大改革回眸】阅读材料,完成下列要求。(15分)

材料:为了克服“养兵”带来的弊端,以及裁减冗兵,节省军费,提高军队的战斗力,王安石在宋神宗的支持下采取了“省兵之策”。首先,政府下令在禁军、厢军中进行考核,不能胜任禁军的降为厢军,厢军中不能担负职责的免为平民,尔后又“诏拣诸路半分年四十五以下胜甲者,升为大分”。又因宋军队数量庞大,与军队服役时间长不无关系,故王安石采取“五十以上愿为民者听之”的对策。熙宁二年(1069年),宋神宗“诏废并诸军营”,将“陕西马步军营三百二十七,并为二百二十七”,并且规定“马军额以三百人,步军以四百人”,其后“凡拔并者,马步军营五百四十五并为三百五十五”。自熙宁至元丰,“岁有废并甚众”。

——摘编自徐正华、何建华《试论王安石变法中的军政改革措施》

(1)根据材料,概括指出王安石“省兵之策”的特点。(6分)

(2)根据材料并结合所学知识,简要评价王安石“省兵之策”改革。(9分)

46.【历史——选修3:20世纪的战争与和平】阅读材料,完成下列要求。(15分)

材料:1961—1975年的越南战争对于美国来说是一场痛苦发作、希望受挫和幻想的噩梦。美国要求英国出兵越南,不仅是为了加强其在越南的军事力量,更重要的目的是希望通过与英国联合作战,以平息国内外日益高涨的反战浪潮,树立其“帮助南越反对共产主

高三文科综合能力测试 第15页 (共16页)

义侵略”的形象。同时,美国也希望通过英国的出兵,进而获得其他欧洲盟友的广泛响应,从而使越南战争国际化。但是,英国在越南战争上的判断与美国大相径庭。由于美国发动越南战争在世界上遭到了广泛的谴责,同时英国也认识到美国在越南必然失败,不愿陷入这场“永远看不到希望”的战争,也不愿因为越南战争与其他反战的欧洲国家交恶。因此,尽管菲律宾、澳大利亚等非美国传统盟国参加了越南战争,但是作为美国传统盟友的英国却拒绝派兵。鉴于英美之间的“特殊关系”,出于冷战的需要,英国希望能够帮助美国“体面地撤出越南”。正是出于以上动机,英国的做法是极力充当调停者的角色。

来源:高三答案公众号——摘编自张颖《越南战争中的英美关系》

- (1)根据材料并结合所学知识,说明英国在对待越南战争上的态度,并简析美英在越南战争出兵问题上出现分歧的原因。(9分)
- (2)根据材料并结合所学知识,说明越南战争对以美国为首的西方阵营的影响。(6分)

47.【历史——选修4:中外历史人物评说】阅读材料,完成下列要求。(15分)

材料:袁庚(1917—2016),中共党员,历任东江纵队联络处处长、两广纵队炮兵团团长、中共驻香港办事处主任等职务。1978年,时任香港招商局常务副董事长的袁庚向中央递交了《关于充分利用香港招商局问题的请示》报告,其思路高度契合当时中国正在萌动的打破封闭求发展的愿望,很快获得了中央高层批准。1979年7月,蛇口(隶属于今天深圳市)工业区正式启动。为加快建设速度,袁庚用定额超产奖励制度代替之前的平均主义奖励办法,使工程得以提前竣工并交付使用。为解决人才紧缺问题,袁庚发明了人才公开招聘制度,采取多种渠道发现人才、培养人才、重用人才。此外,袁庚还积极探索企业经营者聘任制等。2018年,袁庚被党中央、国务院授予“改革先锋”称号。

——摘编自孙运德等《新时代中国青年的榜样》

- (1)根据材料并结合所学知识,概括蛇口工业区建立的时代背景。(6分)
- (2)根据材料并结合所学知识,简析袁庚被授予“改革先锋”称号的原因。(9分)

关于我们

自主选拔在线是致力于提供新高考生涯规划、强基计划、综合评价、三位一体、学科竞赛等政策资讯的升学服务平台。总部坐落于北京，旗下拥有网站（[网址: www.zizzs.com](http://www.zizzs.com)）和微信公众平台等媒体矩阵，用户群体涵盖全国90%以上的重点中学师生及家长，在全国新高考、自主选拔领域首屈一指。

如需第一时间获取相关资讯及备考指南，请关注**自主选拔在线**官方微信号：**zizzsw**。



 微信搜一搜

 自主选拔在线



自主选拔在线
微信号: zizzsw



自主选拔在线
微信号: zizzsw



自主选拔在线
微信号: zizzsw