

文科综合

考生注意：

1. 答题前，考生务必将自己的姓名、考生号填写在试卷和答题卡上，并将考生号条形码粘贴在答题卡上的指定位置。
2. 回答选择题时，选出每小题答案后，用铅笔把答题卡对应题目的答案标号涂黑。如需改动，用橡皮擦干净后，再选涂其他答案标号。回答非选择题时，将答案写在答题卡上。写在本试卷上无效。
3. 考试结束后，将本试卷和答题卡一并交回。

一、选择题：本题共 35 小题，每小题 4 分，共 140 分。在每小题给出的四个选项中，只有一项是符合题目要求的。

国际上通常用出口寡占指数、贸易中介控制能力指数、出口结构分布指数等指标分析贸易竞争力。当某一国家的出口寡占指数数值大于 1 时，表明该国处于绝对寡占和竞争优势地位。贸易中介控制能力指数代表一国位于各国贸易中转国地位的竞争优势，数值越大，中介控制力越强，其在各国贸易往来中的作用越重要。某一国家的出口结构分布指数数值越小，表明该国越具有多元化的出口结构且出口分布越均匀。图 1 为 2019 年钴产业链不同环节贸易额居前列的国家和地区出口贸易竞争力比较图。据此完成 1~3 题。

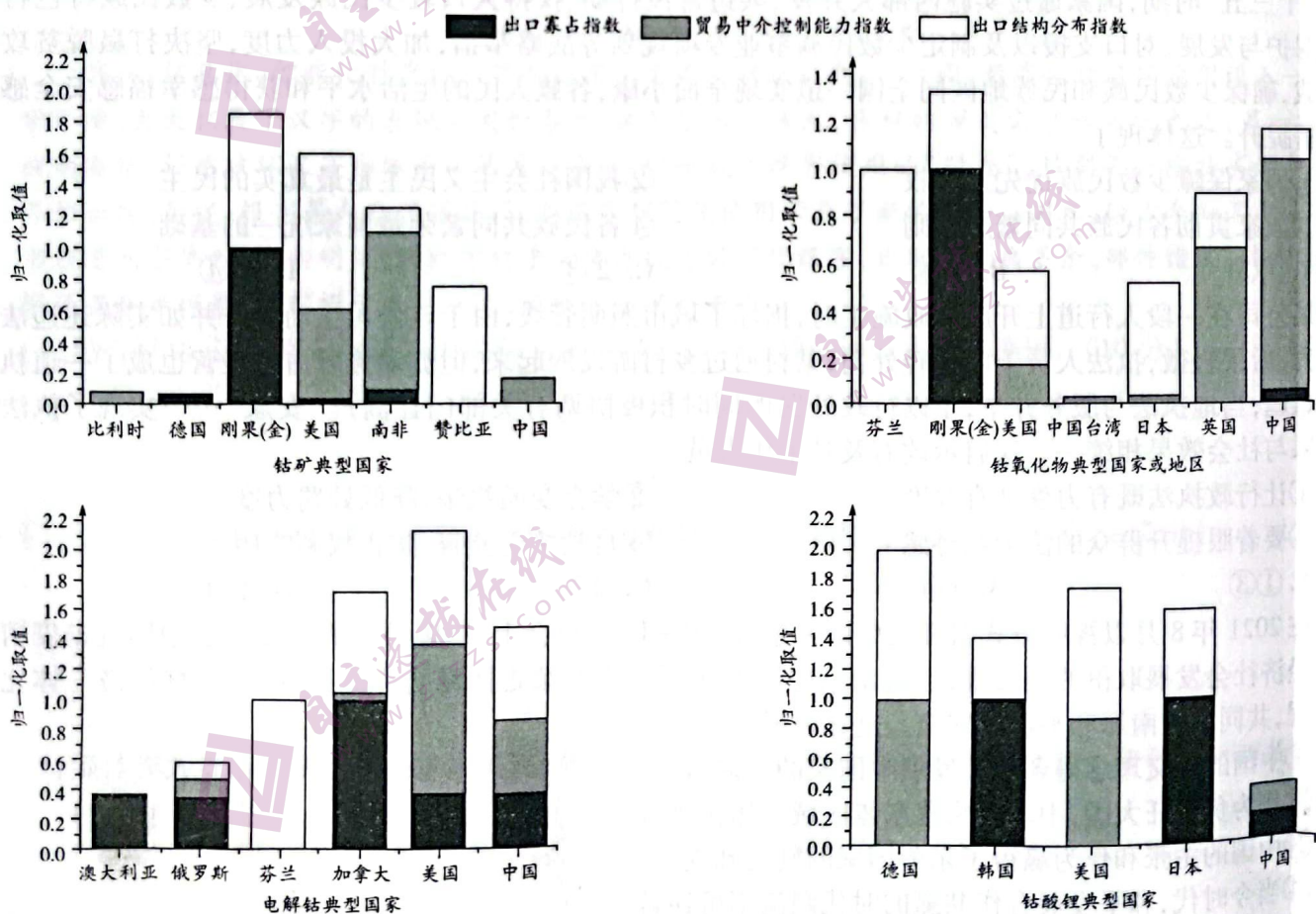


图 1

1. 据图可知,美国
- A. 钴矿资源储量最大
 - B. 中介控制能力较低
 - C. 具有全产业链优势
 - D. 下游市场最为广阔
2. 影响钴矿出口寡占指数的主导因素是
- A. 市场规模
 - B. 资源储量
 - C. 交通通达度
 - D. 资金投入
3. 中国在钴产业链国际贸易竞争中,面临的主要问题是
- A. 资源储备不足
 - B. 市场容量小
 - C. 动力成本高
 - D. 中介控制能力低

人口偏移增长是指区域内部子区域人口增长速度偏离区域平均增长速度的增长,是人口分布发生变化的根源。其值为正,说明子区域人口增长速度较快;其值为负,说明子区域人口增长速度较慢。我国的穆斯林人口主要分布在北方,尤其是西北地区。表1示意我国穆斯林人口增长总量及不同地区穆斯林人口偏移增长情况(单位:万人)。据此完成4~6题。

表1

年份 地区	1953—1964年	1964—1982年	1982—1990年	1990—2000年	2000—2010年
全国穆斯林人口增长总量	123.76	555.42	299.47	271.6	282.15
东北地区	8.58	-6.52	-4.76	-8.8	-12.03
华北地区	22.3	-37.35	-5.06	-5.62	-10.79
华东地区	-20.27	32.75	4.31	-4.26	-6.34
华中地区	5.09	2.16	0.14	-6.81	-16.07
华南地区	0.59	-0.28	0.08	2.35	2.5
西南地区	3.45	2.08	-0.21	6.33	-5.37
西北地区	-19.73	7.15	5.49	16.81	48.1
上海市	3.95	-1.97	-0.24	0.05	1.79
广东省	0.39	-0.11	-0.39	1.81	2.55
海南省	0.01	0.07	0.07	0.23	0.25
宁夏回族自治区	6.4	19.09	3.95	10.13	5.19
新疆维吾尔自治区	-19.34	-20.18	4.84	4.65	51.76

4. 根据材料可知,
- A. 1953—1964年华北地区穆斯林人口向外扩散
 - B. 1953年以后华东地区穆斯林人口一直集聚明显
 - C. 1964年以后西北地区穆斯林人口集聚明显
 - D. 广东省吸引穆斯林人口迁入的主要因素是环境
5. 导致2000—2010年新疆穆斯林人口偏移增长量明显高于其他时段的主要因素是
- A. 交通通达度
 - B. 人口基数
 - C. 生育观念
 - D. 国家政策
6. 海南省穆斯林人口偏移增长量远小于宁夏的主要原因是
- A. 地理位置偏南
 - B. 生育观念改变
 - C. 人口密度过大
 - D. 人口政策限制

黄土陷穴是黄土地区特有的不良地质现象,一般出现在新黄土层中,老黄土层中很少出现。图2示意黄土陷穴和暗穴的关系。据此完成7~9题。

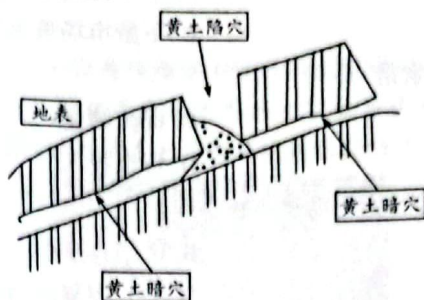


图2

7. 导致黄土暗穴形成陷穴的主要地质作用是
 A. 重力塌陷 B. 风力堆积 C. 流水侵蚀 D. 流水堆积
8. 新黄土层比老黄土层中更易形成陷穴的原因是新黄土层
 A. 降水较多 B. 植被较茂密 C. 土质较疏松 D. 坡度较陡
9. 黄土陷穴的危害主要体现在
 A. 降低土壤肥力 B. 危害工程建设 C. 导致洪涝灾害 D. 污染地表径流

板根(图3)具有支撑、吸收营养、呼吸、改变微环境等功能,对土壤水分和养分都有拦截作用,是大多数热带森林普遍存在的一种现象。但热带森林中即使是同一树种也存在有的树木具有板根、有的树木不具有板根的状况,不同树木板根的数量和大小也不相同。据此完成10~11题。



图3

10. 影响树木有无板根、板根数量的主要因素是
 ①胸径大小 ②是否落叶 ③树冠大小 ④降水量
 A. ①② B. ③④ C. ②④ D. ①③
11. 土壤湿度受板根影响最显著的季节和区域是
 A. 雨季,板根上坡位 B. 旱季,板根上坡位
 C. 旱季,板根下坡位 D. 雨季,板根下坡位
12. 我国财政部发布的一份公报宣布,2022年新能源汽车购车补贴标准在2021年的基础上削减30%,然后到年底彻底取消,2022年12月31日以后上牌的车辆将不再享受补贴。下列对削减补贴原因分析合理的是
 ①近年我国清洁能源汽车销量大幅增加 ②我国对未来实现“碳中和”目标充满信心
 ③财政补贴导致价格失真影响市场调节 ④新能源汽车产业高质量发展目标已实现
 A. ①② B. ②③ C. ①④ D. ③④
13. 停复牌本是上市公司的一项正常行为,其初衷是防止正在筹划或进行的重大事项引发股价大幅波动。然而,长期以来停复牌却被某些上市公司“钻空子”滥用,有的上市公司一遇到股价异动,特别是股价连续下跌,就公告“重要事项未公告停牌”“筹划重大事项停牌”……近期,中国证监会公布《上市公司股票停复牌规则》,明确加大惩戒力度,提高违法成本,让滥用停复牌的公司得不偿失。证监会此举的意义在于
 ①有效保护资本市场投资者的合法权益 ②参与企业经营管理,提高资源配置效率
 ③进一步降低股票价格波动的不确定性 ④完善市场交易规则,维护资本市场秩序
 A. ①② B. ②③ C. ①④ D. ③④

14. 共同富裕是全体人民的富裕,不是少数人的富裕。改革开放以来,一部分人抓住市场经济发展的有利机遇成为高收入人群。但客观地看,当前,低收入群体体量还比较大,占全部人口的60%以上。解决上述问题要
- ①不断拓展低收入人群收入增长路径
②健全生产要素按贡献决定报酬的机制
③加大对高收入群体的税收调节力度
④鼓励和引导高收入群体参与公益事业
- A. ①③
B. ②③
C. ①④
D. ②④

15. 图4反映了2013—2021年中国实际使用外资额(单位:亿美元)。根据商务部国际贸易经济合作研究院数据,中国已连续四年成为全球第二大引资国,引资魅力稳中有升。对此,下列认识正确的是

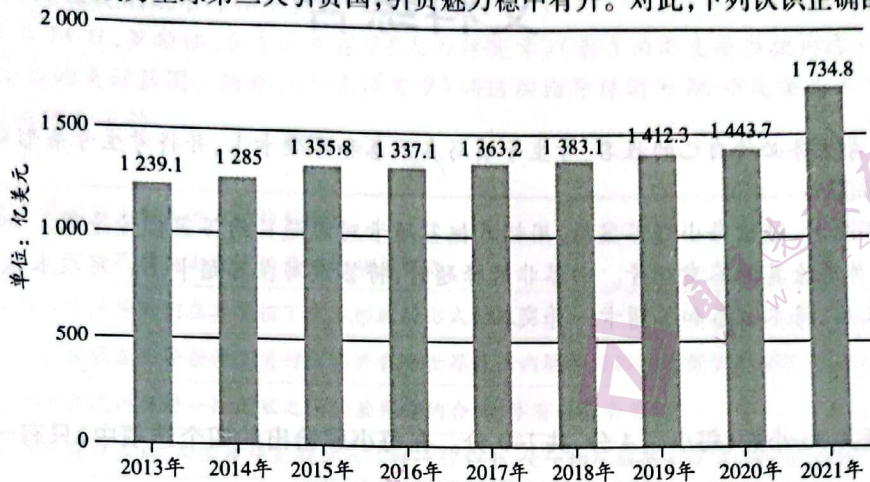


图4

- ①彰显了中国始终把实行对外开放作为自己的出发点
②反映出我国创新利用外资方式加快促进国际产能合作
③得益于中国不断改善和优化营商环境提高开放水平
④体现了世界对未来中国经济持续稳定发展的良好预期
- A. ①②
B. ②③
C. ①④
D. ③④
16. “十三五”时期,国家通过实施西部大开发、兴边富民行动、扶持人口较少民族发展、少数民族特色村寨保护与发展、对口支援以及制定少数民族事业专项规划等战略举措,加大投入力度,坚决打赢脱贫攻坚战,确保少数民族和民族地区同全国一道实现全面小康,各族人民生活水平和获得感幸福感安全感显著提升。这体现了
- ①国家保障少数民族优先发展权
②我国社会主义民主是最真实的民主
③国家贯彻各民族共同繁荣原则
④各民族共同繁荣是国家统一的基础
- A. ①③
B. ①④
C. ②③
D. ②④
17. 某公司在一段人行道上开展市政施工时,损坏了城市照明管线,由于该公司主动报告并如实陈述违法行为,后果轻微,执法人员予以从轻处罚;某村通过乡村旅游发展起来,但流动摊贩占道经营也成了执法难题,当地执法与服务并举,予以行政处罚的同时积极协调有关部门让商户“安家”……实现了执法效果与社会效果相统一。这启示政府及其工作人员
- ①让行政执法既有力度又有温度
②学会变通执法,降低处罚力度
③要着眼提升群众的法治获得感
④自觉接受监督,防止权利滥用
- A. ①③
B. ①④
C. ②③
D. ②④
18. 在2021年8月以视频方式召开的中国-东盟(10+1)外长会上,东盟外长们高度评价中国抗击疫情和经济社会发展取得的巨大成就,表示东盟国家愿同中方继续走团结合作之路,推进区域经济一体化进程,共同维护南海和平稳定安全。这充分说明
- ①中国的外交理念得到广大发展中国家的普遍认同
②作为负责任大国,中国引领着东盟区域一体化进程
③中国的主张和作为赢得了东盟国家的赞赏和支持
④当今时代,和平发展合作共赢的时代潮流不可逆转
- A. ①②
B. ①③
C. ②④
D. ③④

19. 2022年1月10日,迪拜世博会中国国家馆日活动在这里举行,“中国红”成为当天园区内最闪亮的元素。来自中国的艺术家们献上了精彩的文艺演出,京剧与民乐演奏融合的创新节目《欢庆吉祥》、小提琴独奏《丰收渔歌》和男高音独唱《我和我的祖国》等节目,赢得了现场观众热烈的掌声。“中国红”闪亮迪拜世博会

- ①丰富了文化的传播途径和方式
②加深了世界对中华文化的认同感
③增强了中华文化的国际影响力
④体现了文化是民族的也是世界的
- A. ①②
B. ①④
C. ②③
D. ③④

20. 虽然短视频为青少年打开了一扇通往兴趣和知识的大门,但也应看到,一些色情、暴力等低俗有害信息,会对青少年身心造成影响,而危险动作、整蛊恶搞、吸烟喝酒等不良内容,更是会让青少年受到误导甚至伤害。“短小精悍”符合注意力法则,但也存在沉迷上瘾的隐患。这要求

- ①国家加强对短视频市场的管理与引导
②短视频创作者积极规避传媒的商业性
③提高青少年辨别不同性质文化的眼力
④网络平台牢牢掌握意识形态工作领导权
- A. ①③
B. ①④
C. ②③
D. ②④

21. 从1G到5G,移动通信技术发展迅速。手机之所以能收到信号,是因为自然界中存在着很多我们看不到也听不到的电磁波信号。从声音到光之间,真实地存在着一大段我们平常感觉不到的频谱。这进一步佐证了

- ①事物间的联系离不开意识的主动创造性
②事物间相互联系构成了事物的发展
③世界的真正统一性在于它的物质性
④量的渐进是一切事物发展的总趋势
- A. ①②
B. ②③
C. ①④
D. ③④

22. 2021年5月,中国科学技术大学独立研制的“天问一号”探测器环绕器有效载荷——火星磁强计,正式开启科学探测任务,包括全面准确地测量火星空间边界层、探测火星南部局地岩层的有效剩磁及火星感应磁层、研究近火空间处的行星际磁场等。从中我们能够体会到

- ①实践水平受社会历史条件的制约
②人类对世界的探索不断深化拓展
③实践的发展推动认识能力的提高
④真理需要不断超越自己向前发展
- A. ①②
B. ①④
C. ②③
D. ③④

23. 习近平指出,一个民族要走在时代前列,就一刻不能没有理论思维,一刻不能没有正确思想指引。中国共产党为什么能,中国特色社会主义为什么好,归根到底是因为马克思主义行。马克思主义之所以行,就在于党不断推进马克思主义中国化时代化并用以指导实践。这给我们的启迪是

- ①任何哲学都可以预见和指明社会的前进方向
②实践基础上的理论创新是社会变革的先导
③先进的社会意识可以正确预见社会发展趋势
④上层建筑为经济基础服务就能促进生产力发展
- A. ①②
B. ②③
C. ①④
D. ③④

24.

表2 西周至东周之初时的文献的表述主题

时间	文献的表述主题
西周前中期	周人的天命、族群及周王朝的发展史
西周晚期至东周之初	王臣、诸侯的家族史、贵族个人的功业事迹

据表2可知,西周至东周之初

- A. 君权神授观念趋向瓦解
B. 世家贵族势力不断壮大
C. 个人英雄意识逐渐增强
D. 家族宗法制度持续强化

25. 东汉思想家王符说:“是故礼义生于富足,盗窃起于贫穷,富足生于宽暇,贫穷起于无日。圣人深知,力者乃民之本也,而国之基,故务省役而为民爱日。”这说明,王符

- A. 强调加强礼仪道德教化
B. 固守传统重农抑商思想
C. 要求保证人民劳动时间
D. 认识到贫富分化的严重

26. 唐高宗时,商贾入仕为官的实例已见史乘,当时官阶较高者不多,参加科举考试者尚无一例。安史之乱后,商人入仕人数猛增,入仕途径越来越广,且高官显要不乏其人。这反映出该时期

- A. 商人政治地位得到提升
B. 政府对商人依赖加强
C. 官员队伍整体素养下降
D. 贱商轻商观念的淡化

27. 1385年,明政府重定乡饮酒礼,明确要“叙长幼、论贤良、别奸顽、异罪人”,规定“其座席间,年高有德者居于上,高年淳笃者并之”。那些“有过犯之年长者”,“须坐于众宾席末,听讲律受戒论”。明政府的做法
- A. 加强了对基层民众的教化
B. 激化了宗族内部的矛盾
C. 促进了理学正统地位确立
D. 背离了儒家的纲常伦理
28. 晚清思想家郑观应指出:“约之专为通商者,本可随时更改,以求两益,非一成不变者也。税项通例,皆由本国自定,客虽强悍,不得侵主权而增减之者也。宜明告各国云:某年之约不便于吾民,约期满时应即停止。某货之税不合于吾例,约期满时应即重议。”这表明,郑观应
- A. 主张中国与国际法接轨
B. 抨击列强侵略的加剧
C. 呼吁政府保障商民利益
D. 要求废除不平等条约
29. 表3 1913—1936年外国在华直接投资第二产业内部部门构成(单位:%)

	制造业	采矿业	公用事业
1913年	43.88	45.61	10.51
1920年	56.00	30.00	14.00
1936年	58.21	14.43	27.35

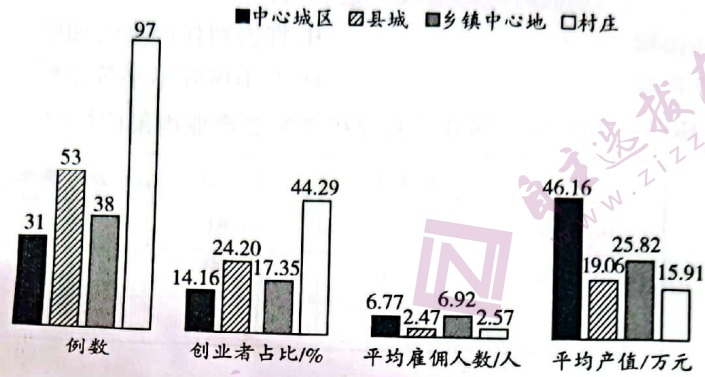
- 据表3可知,这一时期
- A. 中国第三产业未受到列强重视
B. 列强加大了对中国的资本输出
C. 制造业成为了列强投资的重点
D. 民族企业加强了与列强的争夺
30. 一位老农民在陕甘宁边区参议会会议上说:“过去我常听人们说,农民作出了很大牺牲(纳税和其他形式)。这次我才知道政府和其他机关工作人员作出的牺牲更大,受苦更多,生活更艰苦。”这说明,当时
- A. 国民党注重改善与农民关系
B. 边区政府推行廉政
C. 中共建立抗日民族统一战线
D. 农民自主意识高涨
31. 据统计,1992年我国国民生产总值比上年增长12.8%,1993年第一季度国民生产总值比上年同期增长15.1%。这一局面出现的原因是
- A. 城市经济体制改革全面开展
B. 中国加入世贸组织推动
C. 社会主义市场经济体制建立
D. 邓小平南方谈话的鼓舞
32. 雅典法律规定,禁止虐待父母、逃避兵役或在战斗中丢弃盾牌逃跑的公民以及浪费家产的公民在公民大会上发言。任何公民都可要求法庭对其进行审查,发现有上述行为者即剥夺其公民权。这说明,雅典
- A. 公民缺乏个人权利
B. 实现了法律面前人人平等
C. 重视公民责任意识
D. 健全的民主监督机制建立
33. 18世纪的欧洲,价值的光辉渐趋暗淡,人们热衷条分缕析的理性思考模式,很少有人再去关注情感、目的和意义问题。推动这一变化的主要因素是
- A. 自然科学的进步
B. 资本主义的发展
C. 工业革命的进行
D. 启蒙运动的开展
34. 20世纪20年代初,列宁指出,“我们的(国家)机关实质上是从沙皇和资产阶级那里拿过来的旧机关”,是“毫不中用的机关”。这说明,当时苏俄
- A. 政府行政效率的低下
B. 打碎旧国家机器任务尚未完成
C. 领导力量发生了改变
D. 革命胜利果实为资产阶级攫取
35. 20世纪50年代,美国总统艾森豪威尔向国会提出了使残废者恢复就业能力的法案;促使国会修改公平劳动标准法,增加最低工资标准;支持修建公共住宅和援助萧条地区。这说明,当时美国
- A. 缓解经济危机引发的社会危机
B. 在发展经济中渗透了冷战思维
C. 借助立法推动“福利国家”建立
D. 采用了国家干预经济发展政策

二、非选择题:本题包括必考题和选考题两部分,共 160 分。第 36~42 题为必考题,每个试题考生都必须作答。第 43~47 题为选考题,考生根据要求作答。

(一)必考题:共 135 分。

36. 阅读图文材料,完成下列要求。(22 分)

2018 年,全国到省外就业的农民工比 2017 年下降 1.1%,而在省内就业的农民工比 2017 年增长 1.7%。中国回流农民工规模大约占农民工的 30%。全国最大的农民工输出地之一的河南省,从 2011 年开始,省内转移就业人数高于省外输出人数,农村劳动力向省内回流已成常态。回流农民工中大部分仍以务工为主,只有少部分从事创业活动。某研究小组对河南省 14 个样本村农民工返乡创业情况进行调查,结果如图 5 所示。



(1) 简析农村劳动力向省内回流的原因。(6 分)

(2) 描述河南省农民工返乡创立的企业具有的特征。(6 分)

(3) 指出多数农民工选择在村庄创业所具有的成本优势。(4 分)

(4) 简述为促进农民工返乡创业的良性发展,当地政府可采取的措施。(6 分)

37. 阅读图文材料,完成下列要求。(24 分)

青藏铁路沿线山地众多,气候类型多样,天气多变,广泛分布有永久性积雪、稳定积雪和不稳定积雪。青藏铁路穿越 30 余个县级行政单元,均为青藏高原雪灾高发县,近 40 年铁路沿线雪灾发生频率呈明显增长趋势。表 4 示意青藏铁路沿线雪灾风险评估指标体系及权重系数。

表 4

因子层	副因子层(权重)	指标层(权重)
致险性	积雪雪灾致险性(0.3)	雪灾频率(0.5),雪灾强度(0.5),最大年积雪日数(0.5),最大年积雪深度(0.5)
	雪崩雪灾致险性(0.2)	雪崩频率(0.5),雪崩强度(0.5),地形坡度(0.5),最大年积雪深度(0.5)
	风吹雪雪灾致险性(0.5)	最大年积雪深度(0.3),地表粗糙度(0.4),年平均风速(0.3)

因子层	副因子层(权重)	指标层(权重)	
脆弱性	物理暴露(0.7)	路基和轨道(0.2),桥梁和涵洞(0.15),铁路隧道(0.15),沿线车站(0.2),列车密度(0.3)	
	应灾能力(0.3)	基础应灾能力(0.4)	沿线安置能力(0.15),通讯能力(0.2),车站及等级(0.15),人口密度(0.15),每千人医生人数(0.2),每千人病床数(0.15)
		专项应灾能力(0.3)	抗灾减灾工程措施(0.5),自然灾害监测和预报功能(0.5)
		救灾环境条件(0.3)	铁路与公路的距离(0.2),沿线海拔高度(0.5),与主要城镇的距离(0.3)

(1)从地形角度分析青藏铁路沿线多雪灾的原因。(6分)

(2)简述雪灾对青藏铁路的危害。(6分)

(3)从脆弱性角度说明青藏铁路沿线雪灾应对能力差的原因。(6分)

(4)请为减轻青藏铁路沿线雪灾危害提出合理化建议。(6分)

38. 阅读材料,完成下列要求。(14分)

2021年12月召开的中央经济工作会议指出,要继续面向市场主体实施新的减税降费。近日举行的减税降费座谈会指出,要针对市场主体需求,抓紧实施新的更大力度组合式减税降费,确保一季度经济平稳开局、稳住宏观经济大盘。

——要延续实施2021年底到期的支持小微企业和个体工商户的减税降费措施。比如,可继续执行小规模纳税人增值税优惠政策。

——加大增值税留抵退税的政策力度(增值税的留抵部分,本质上是企业的资金占用),做到应退尽退,同时适当降低政策门槛,让更多市场主体能够享受政策。

——完善研发费用加计扣除政策,将制造业企业研发费用加计扣除比例从75%提高到100%的政策延续,并扩大范围,使各类科技型企业都能享受。

——适当减轻中低收入群体的个人所得税负担。比如,将全年一次性奖金不并入当月工资薪金所得、实施按月单独计税的政策延至2023年底。

结合材料,运用经济生活知识分析实施新的更大力度组合式减税降费对经济社会发展的作用。

39. 阅读材料,完成下列要求。(12分)

民主生活会制度作为群众路线教育实践活动的重要环节,是在加强和改进党的建设的长期实践中形成发展起来的,是党内政治生活的重要内容,是发扬党内民主、加强党内监督、依靠领导班子自身力量解决矛盾和问题的重要方式。民主生活会遵循“团结—批评—团结”的方针,贯彻整风精神,发扬民主,开展积极健康的思想斗争,增强党内政治生活的政治性、时代性、原则性、战斗性。

岁末年初,2021年度党员领导干部民主生活会正在有序开展。参加民主生活会的党员领导干部严肃认真开展批评和自我批评,坚持实事求是,讲党性不讲私情、讲真理不讲面子,按照“照镜子、正衣冠、洗洗澡、治治病”的要求,严肃认真提意见,满腔热情帮同志。

结合材料,运用政治生活知识说明党为什么重视召开民主生活会。

40. 阅读材料,完成下列要求。(26分)

北京冬奥会会徽“冬梦”、冬残奥会会徽“飞跃”(图6)分别以汉字“冬”和“飞”为主体,利用汉字丰富的表意功能与多变的重塑优势,巧妙地将书法艺术、冰雪运动和人文精神融为一体,构成具有视觉冲击力的标识符号,呈现出新时代的中国新形象、新梦想。冬残奥会会徽图形上半部分线条刚劲曲折、下半部分柔美元润,寓意运动员经过顽强拼搏、历经坎坷最终达到目标,获得圆满成功。汉字不仅具有强大而丰富的表意功能,而且其字形结构具有独特的艺术和审美价值,丰子恺先生称其“天生就是美术的”。



图6 北京2022年冬奥会和冬残奥会会徽

然而,信息化、智能化时代对汉字的使用而言是一柄双刃剑:一方面,数字化让汉字使用进入一个全新环境,大大拓展了汉字的表现空间和形态,满足了人们多元、多样的审美需求和文化表达;另一方面,粗制滥造、任意破坏汉字形体而成的另类字体,似乎成了汉字使用的“时尚”,特别是一些拙劣的字体产品被出版、影视、报刊等大众传媒使用,给汉字规范化使用带来了新的冲击。例如,除古今知名书法家的书迹进入字库外,一些明星、网红等的手写体也成为数字化汉字,出现了笔画多余、部件错误、偏旁混淆、繁简混杂等现象,既有损于汉字规范,又戕害了汉字美感。

(1)结合材料,运用文化生活知识说明北京冬(残)奥会会徽设计给我们的感悟。(10分)

(2)结合材料,运用对立统一的观点分析如何正确认识智能化时代对汉字的使用。(12分)

(3)媒体作为规范汉字使用的排头兵,应如何以身作则,维护汉字的尊严和纯洁?请你提出两条建议。(4分)

41. 阅读材料,完成下列要求。(25分)

材料一 两宋时期的医药学,在唐代基础上进一步发展。宋政府设有翰林医官院、太医局和“医学”,开设国家药局,建立校正医书局。外国药物大量传入中国,在宋代官私编纂的医药书籍中,新药品种不断增加。宋代医药的分类比过去更加完备,计有大方脉、小方脉、风科、眼科、产科、针灸等科。南宋宋慈的《洗冤集录》,是世界上第一部法医学专著。

——摘编自朱绍侯、齐涛、王育济主编《中国古代史》

材料二 维新派的主要人物,诸如康有为、梁启超等都提倡过西医。梁启超更是在1897年在上海《时务报》上发表文章大力倡言“西医强种”之说。于是,以西方医学作为手段以求保种强国来挽救危亡的观念,构成了维新派的医学维新的思想基础。在维新派的影响下,“医学救国论”成为最时髦的名词。医学救国思潮开始在中国兴起。

——摘编自聂春燕《简述近代中国的医学救国思潮》

材料三 建国初期,全国面临着缺医少药的严重局面,为贯彻“预防为主”和“团结中西医”的卫生工作方针,最终达到“中医科学化”的目的,在政府的号召下,全国各地先后开办了一批中医进修学校、中医进修班和函授班。中医进修工作在全国范围内展开。迨至1953年底,全国进修毕业的中医学员共2万余人。

——摘编自毕小丽《建国初期的中医进修(1949—1955)》

(1) 根据材料一并结合所学知识,概括两宋时期医药学的变化。(6分)

(2) 根据材料二并结合所学知识,说明19世纪末医学救国思潮兴起的背景。(8分)

(3) 根据材料三并结合所学知识,简析新中国成立初期中医进修开展的原因及意义。(11分)

42. 阅读材料,完成下列要求。(12分)

材料

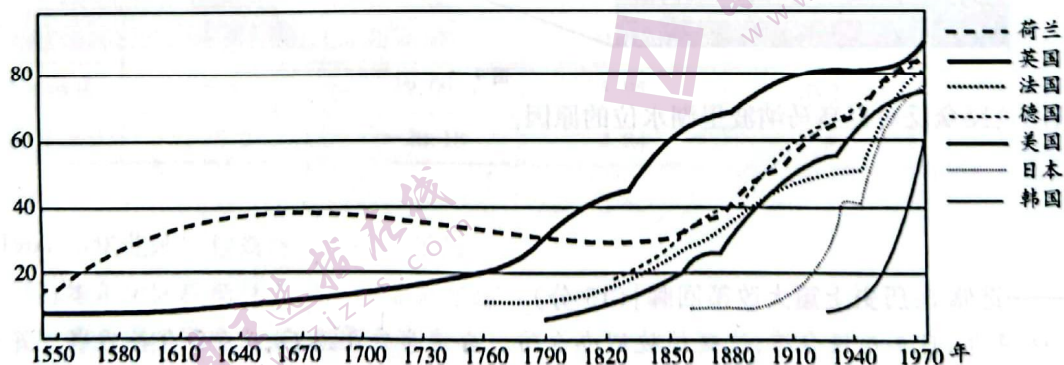


图7 西方主要国家的城市化发展(1550—1970年)

——源自 Brian J. L. Berry, Urbanization

图7能够反映西方城市化发展的多种趋势。指出其中一种趋势并说明形成的原因。

(二) 选考题:共 25 分。请考生从 2 道地理选考题、3 道历史选考题中每科任选一题作答。如果多做,则每科按所做的第一题计分。

43. [地理——选修 3:旅游地理](10 分)

天坑是四周岩壁陡峭、平均宽度和深度均超过 100 米的大型塌陷漏斗区,是在特定地质、地貌、气候和水文环境下形成的。落溪天坑(图 8)位于湖北省恩施土家族苗族自治州,堪称是天坑博物馆。在这里,隐匿着峰林峰丛、峡谷绝壁、溶洞暗河等无数精彩绝伦的喀斯特奇观。



图 8

简述天坑旅游对恩施州的社会意义,并说出发展天坑旅游需要注意的安全问题。

44. [地理——选修 6:环境保护](10 分)

新西兰南岛西南部的峡湾国家公园是新西兰最大的国家公园,公园内几乎全部覆盖着原始森林,除了有鬼斧神工的自然奇景外,还有丰富的生物资源,并有多种珍稀、濒危或特有的动植物。

峡湾国家公园内的马纳波里湖(位置见图 9)是南岛最深的湖泊。在湖泊的西南面,当地利用湖泊与太平洋的落差修建了一座水电站。20 世纪 60 年代初,政府计划提高湖泊的水位以增加发电量,由此引发了一场席卷全国的“拯救马纳波里湖”民众抵制运动。




图 9

简析新西兰民众反对提高马纳波里湖水位的理由。

45. [历史——选修 1:历史上重大改革回眸](15 分)

材料 1874 年,日军入侵台湾,沈葆楨被诏办台防。台湾事件平息后,上《全台善后事宜并请旨移驻巡抚》折,提出种种善后措施。为加强台防,继续“开山抚番”,打通山前至山后路线,安抚“良番”。同时募民随往耕垦。1875 年 1 月奏请开“严禁内地民人渡台之旧例”,恳弛“对铁、竹两项”的“旧禁”,后获得批准。他认为“台北口岸四通”,“拟建府治,治辖一厅三县”。1876 年增设台北府,新设四县。仿西洋新法兴建安平炮台,仿准楚军营制归并台地营伍。沈葆楨以煤矿为始基,奏请广开台煤,鼓励民间煤窑开采。聘英籍矿师勘察,准备开办西式煤矿,复拟炼铁,并建议开采煤油,并委丹麦人架设闽台电线。沈葆楨迁任两江总督后,架设电线、开采煤矿等工作由丁日昌付之实施。

——摘编自陈在正《论沈葆楨加强台湾海防倡导台湾近代化的功绩》

(2) 根据材料并结合所学知识,说明沈葆楨在台湾改革的意义。(8分)

46. [历史——选修3:20世纪的战争与和平](15分)

材料 1941年8月14日,罗斯福、丘吉尔发表了《大西洋宪章》(表5为其主要条款内容)。《大西洋宪章》描绘了未来世界的美好蓝图。随后,《大西洋宪章》的这些指导原则为26个反法西斯同盟国签订的《联合国宣言》认可和采纳。

表5

第一	他们的国家不寻求领土和其他方面的扩张;
第二	两国反对不符合有关民族自由表达的愿望的领土变更;
第三	两国尊重各国人民选择他们在其管辖下生活的政府形式的权利;
第四	两国力图使一切国家在平等条件下进行贸易并在全世界范围内取得为其经济繁荣所必需的原料;
第五	两国愿意在经济领域内促进一切国家之间的最充分的合作,享有社会安全;
第六	在最终摧毁纳粹暴政以后,两国希望见到建立这样一种和平,使一切民族得以在自己的疆界内安居乐业;
第八	两国相信,世界上一切国家,基于实际的和精神上的原因,必须放弃使用武力。两国相信,必须在建立更广泛和更持久的普遍安全体系以前解除这类国家武装。

——摘编自朱大伟《〈大西洋宪章〉构建和平思想的价值探析》

(1) 根据材料并结合所学知识,概括《大西洋宪章》构建的和平思想。(8分)

(2) 根据材料并结合所学知识,简评《大西洋宪章》。(7分)

47. [历史——选修4:中外历史人物评说](15分)

材料 李大钊在自己领导农运的实践基础上,并“花了很大的工夫,调查、统计研究土地问题”,依据马克思主义观点,考察了中国农民破产日益严重的趋势,于1925年12月至1926年2月写出《土地与农民》,它是李大钊关于农民问题思想最为集中、最为深刻的反映。李大钊认为,农民是中国革命的主要动力,在革命中占据极为重要的地位;中国农业和农民的出路是切实解决土地问题,提出了“耕地农有”的口号;领导农民革命,必须依靠贫雇农组织农民协会;农民土地问题的真正解决,必须通过革命的手段才能完成。本文是关于中国农民问题最全面、最富前瞻性的论述,深受中共党人的推崇,被毛泽东选为农民运动讲习所的学习材料。

——据张存梅、孙庆新《试析李大钊对农民问题的认识》整理

(1) 根据材料并结合所学知识,简析李大钊能够写出《土地与农民》的原因。(7分)

(2) 根据材料并结合所学知识,说明李大钊《土地与农民》的意义。(8分)